

제 4 교시

사회탐구 영역(생활과 윤리)

성명		수험 번호										제 [] 선택
----	--	-------	--	--	--	--	--	--	--	--	--	-------------

1. (가), (나) 윤리학의 핵심 과제로 가장 적절한 것은?

- (가) 윤리학은 학제적 연구 방법을 통해 우리 삶의 다양한 영역에서 발생하는 구체적 도덕 문제들에 대한 해법을 제공하는 데 주력해야 한다.
- (나) 윤리학은 다양한 문화권에서 개인의 삶과 사회의 구조 속에 존재하는 도덕적 관행들을 경험과학적으로 탐구하는 데 주력해야 한다.

- ① (가): 윤리학의 학문적 성립 가능성 여부를 검토하는 것이다.
- ② (가): 현실의 윤리 문제에 대한 해결 방안을 제시하는 것이다.
- ③ (나): ‘옳음’, ‘그림’과 같은 도덕 언어의 의미를 분석하는 것이다.
- ④ (나): 올바른 삶을 위한 보편적 도덕 원리를 정립하는 것이다.
- ⑤ (가)와 (나): 도덕 현상의 인과 관계를 가치중립적으로 설명하는 것이다.


2. 다음 토론의 핵심 쟁점으로 가장 적절한 것은? [3점]

- 갑: 우대 정책은 특정 약자들에게만 유리한 기회를 제공하므로 그 명분이 무엇이든 개인의 성취가 아닌 다른 요소가 지위 결정에 작용한다는 점에서 공정하지 않습니다.
- 을: 물론 사회적 지위는 원칙적으로 성취의 결과여야 합니다. 하지만 우대 정책은 과거 차별을 받은 사회적 약자에게 그 보상으로 유리한 기회를 제공하는 정당한 조치입니다.
- 갑: 아닙니다. 우대 정책은 과거 차별과 무관한 현 세대에 보상의 책임을 지우고, 우대 정책의 대상이 아닌 사람들의 기회가 축소되는 또 다른 차별을 유발하게 됩니다.
- 을: 또 다른 차별은 사회적 합의와 세심한 정책으로 최소화할 수 있습니다. 우대 정책은 과거의 부당한 차별을 시정함으로써 오히려 공정한 기회를 실현합니다.

- ① 우대 정책은 또 다른 차별을 유발할 수 있는가?
- ② 우대 정책으로써 기회의 공정을 실현할 수 있는가?
- ③ 사회적 지위 분배에서 기회의 공정을 실현해야 하는가?
- ④ 우대 정책은 약자에게 유리한 기회를 제공할 수 있는가?
- ⑤ 업적주의는 사회적 지위 분배의 정당한 원칙일 수 있는가?

3. 그림의 강연자가 지지할 입장으로 가장 적절한 것은?

예술의 사명은 사람들을 결속하여, 전 인류를 행복으로 이끄는 것입니다. 사람들의 결속은 개인이 의식적으로 타인에게 감정을 전하고 함께 동일한 감정을 느끼는 과정으로 실현 가능합니다. 애석하게도 오늘날 상류 계급이 독점한 예술은 극대화된 쾌락과 타락한 감정을 전달하는 수단으로 전락했습니다. 상류 계급은 민중이 이런 예술에 공감하지 못하는 것은 예술을 이해할 지적 능력이 없는 탓이라고 말합니다. 이는 오만한 궤변입니다. 예술은 교육 유무와 무관하게 마음에 작용하는 활동이며, 훌륭한 예술은 누구에게나 이해되고 전달됩니다. 예술은 모든 사람의 것이어야 합니다.



- ① 훌륭한 예술을 이해하기 위해서는 지성의 교육이 필수적이다.
- ② 예술은 모든 인간의 행복을 위해 교감을 매개할 수 있어야 한다.
- ③ 훌륭한 예술은 감정을 의도적으로 전달하는 수단일 수는 없다.
- ④ 민중은 어떤 예술도 이해할 수 없으므로 예술에 감동하지 못한다.
- ⑤ 상류 계급의 전유물로 전락한 예술은 어떤 감정도 전달할 수 없다.

4. 갑, 을 사상가들의 입장으로 가장 적절한 것은? [3점]

- 갑: 이 세상은 고통으로 가득 차 있으니 태어남과 늙음과 병듦과 죽음이 다 고통이다. 고통 가득한 세상에서 빠져 나오려면 여덟 가지 바른 길[八正道]을 닦아야 한다.
- 을: 기(氣)는 모여 형체를 이루고 형체는 다시 생명을 이루지만 결국 흩어져 죽음으로 돌아간다. 이처럼 삶과 죽음은 마치 낮과 밤이 주기적으로 순환하듯 끝없이 반복된다.

- ① 갑: 현세에 악업(惡業)을 쌓으면 내세에 다시 태어날 수 없다.
- ② 갑: 모든 번뇌가 소멸된 사람도 죽음의 고통을 벗어날 수 없다.
- ③ 을: 태어나 죽음에 이르기까지 인의(仁義)에 따라 살아야 한다.
- ④ 을: 죽음 이후 흩어진 기는 순환에서 벗어나 필연적으로 사라진다.
- ⑤ 갑과 을: 삶과 죽음의 참된 의미를 깨달으려면 꾸준히 수행해야 한다.

5. 다음을 주장한 사상가의 입장으로 가장 적절한 것은?

성적 욕망은 고독의 불안, 허전함, 정복하려는 욕망에 의해서도 자극될 수 있다. 대부분의 사람들 마음속에 성적 욕망은 사랑의 관념과 결부되어 있다. 그래서 사람들은 서로 육체적으로 원하는 것이 곧 사랑이라고 여기는 그릇된 결론에 빠지기 쉽다. 성적 욕망이 사랑에 의해 자극되지 않으면 육체적 결합은 일시적 의미 이상의 결합이 결코 아니다. 사랑 없는 육체적 결합은 서로를 이전과 같이 남남으로 멀어지게 하며, 서로 부끄럽게 만들거나, 심지어 서로 혐오하게 만들기까지 한다.

- ① 사랑하는 사이에서는 서로 어떠한 욕망도 추구할 수 없다.
- ② 성적 욕망을 동반한 육체적 관계는 사랑에서 비롯될 수 없다.
- ③ 사랑이 전제되지 않으면 성적 관계는 지속적 의미를 가질 수 없다.
- ④ 성적 욕망과 사랑의 관념이 결부된 상태로는 타인과 결합할 수 없다.
- ⑤ 불안에서 비롯된 육체적 결합이 서로를 미워하게 만들 수는 없다.

2 (생활과 윤리)

사회탐구 영역

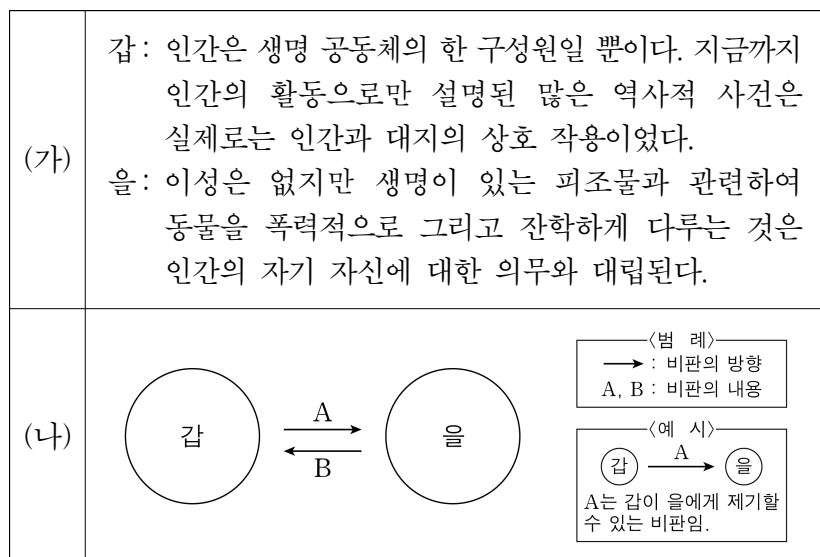
6. 다음 가상 편지를 쓴 사상가의 입장으로 가장 적절한 것은? [3점]

우리 학생들에게

만약 삶이 너무 힘들고 지친 나머지 스스로 삶을 마감하려는 누군가가 있다면 어떤 말을 해줄 수 있을까요? 사람은 그 행위가 자신에 대한 의무에 어긋나지는 않을까 물을 수 있는 이성을 지닌 존재입니다. 남은 인생이 쾌적함보다 해악의 위험이 크다는 이유로, 자기 사랑의 관점에서 이쯤에서 삶을 단축하겠다는 원리를 준칙으로 삼을 수 있을지 생각해 봅시다. 여기서 그 사람은 스스로에게 물어야 합니다. 과연 이 준칙이 보편적 법칙이 될 수 있을까? 힘겨운 상태를 벗어나려는 목적으로 나 자신을 저버려도 될까? 견딜 수 있으면 인생을 살고, 견딜 수 없으면 인생을 버린다면, 견딜 만한 상태로만 자신을 보존하기 위한 한낱 수단으로 자신의 인격을 이용하는 것이라 할 수 있습니다. 그에게 말해 주세요. 세상 무엇과도 바꿀 수 없는 하나뿐인 사람. 포기하고 싶어도 포기할 수 없고, 포기해서도 안 되는 사람. 그가 바로 당신이라고 말해 주세요.

- ① 쾌적함과 해악의 크기를 비교하여 보편적 법칙을 수립해야 한다.
- ② 자기 보존을 위한 노력은 자신의 인격을 수단으로만 대하는 것이다.
- ③ 자기 사랑의 원리에 근거한 준칙이 의무에 부합하는 경우는 없다.
- ④ 인간은 자신의 인격성을 포기해서는 안 되는 존엄한 존재이다.
- ⑤ 인간은 자기 사랑을 목적으로 도덕 법칙을 수립하는 이성적 존재이다.

7. (가)의 갑, 을 사상가들의 입장에서 서로에게 제기할 수 있는 비판을 (나) 그림으로 표현할 때, A, B에 해당하는 내용으로 가장 적절한 것은? [3점]



- ① A: 자연물의 활용은 도덕적 행위자의 생존에 필수적임을 간과한다.
- ② A: 자연의 아름다움을 훼손하는 것은 의무에 위배될 수 있음을 간과한다.
- ③ A: 동등한 가치를 지닌 존재자들 사이에도 의무가 존재할 수 있음을 간과한다.
- ④ B: 동물에 대한 학대 금지를 의무로 규정할 수 없음을 간과한다.
- ⑤ B: 무생물에 관련한 의무는 모두 인간 자신에 대한 의무로 환원됨을 간과한다.

8. 갑, 을 사상가들의 입장으로 가장 적절한 것은?

갑: 신은 사람마다 주어진 적절한 한계를 벗어나지 않도록 하기 위해 각기 다른 삶의 양태를 소명이라 이름하셨다. 그래서 다스리는 사람은 자기 직분을 더 의욕적으로 수행할 것이며, 가정의 가장도 자기 의무를 다할 것이다.

을: 군주가 예의를 숭상하고 법도를 이루면 나라의 표준이 있게 된다. 그런 후 사람들의 직분을 분명히 나누고, 하는 일에 질서를 마련하며, 재능과 기술을 따져 능력 있는 이에게 관직을 주면 잘 다스려지지 않을 수가 없다.

- ① 갑: 직업적 성공은 선행에 대한 공로를 신에게 인정받은 은총이다.
- ② 갑: 소명으로 주어진 직업 중 고귀하지 않은 직업은 있을 수 없다.
- ③ 을: 군자와 소인은 그 본성이 다르기에 직업에 차별이 있어야 한다.
- ④ 을: 직업은 재능에 따라 정해지므로 공적을 따져 보상해서는 안 된다.
- ⑤ 갑과 을: 각자의 직업은 천직(天職)이기에 개인의 의지로 바꿀 수 없다.

9. 다음을 주장한 사상가의 입장으로 가장 적절한 것은? [3점]

시민 불복종은 거의 정의로운 사회의 자유롭고 평등한 사람들 사이에서 사회 협동체의 원칙이 존중되지 않고 있음을 선언하는 행위이다. 이는 신중하고 양심적인 신념의 표현이기 때문에 공개 석상에서 이루어지는 비폭력적 행위이다. 시민 불복종은 경고나 훈계일 수는 있어도 위협일 수는 없다.

- ① 시민 불복종이 빈번한 국가의 체제가 부정의할 수는 없다.
- ② 시민 불복종은 정치적 원칙에 근거해 정당화되어서는 안 된다.
- ③ 시민 불복종은 법에 대한 충실성을 불가피하게 거부하는 위법 행위이다.
- ④ 거의 정의로운 사회에는 헌법 원칙에 대한 의도적인 위반은 존재하지 않는다.
- ⑤ 시민 불복종의 대상이 되는 법은 불복종이 가져올 무질서의 가능성에 근거해 정해진다.

10. 다음을 주장한 사상가의 입장으로 가장 적절한 것은?

도구적 행위는 개인적 목적에 맞추어 정밀하게 상정된 목표를 얻기 위해 적절해 보이는 수단을 선택해 일련의 상황과 사건에 효과적으로 대처하려는 성공 지향적 행위이다. 이에 비해 의사소통적 행위는 행위자들이 자기중심적 성공 계산이 아니라 상호 이해를 통해 행위 계획들을 조정하는 이해 지향적 행위이다. 의사소통적 행위자들은 개인의 성공을 우선적으로 지향하지는 않는다. 그들은 각자 행위 계획을 공동의 상황 정의를 토대로 조화시킬 수 있으며 그 조건에서 개인적 목표를 추구한다.

- ① 의사소통적 행위는 상호 이해가 반드시 요청되는 사회적 행위이다.
- ② 의사소통적 행위에 참여해야만 이성적 능력을 발휘할 수 있다.
- ③ 의사소통적 행위자들은 합리적 대화보다 효율적 선택을 우선한다.
- ④ 개인적 목표는 공동의 상황 정의에 근거할 때만 달성할 수 있다.
- ⑤ 도구적 행위는 이해타산을 벗어남으로써 목표에 도달할 수 있다.

11. 갑, 을 사상가들의 입장으로 적절한 것만을 <보기>에서 있는 대로 고른 것은? [3점]

갑: 살인을 저지르면 그는 죽어야만 한다. 이 경우 정의의 충족을 위한 대체물은 없다. 제아무리 고통 가득한 생이라 해도 생과 사 사이에 동종성은 없다.
을: 형벌은 지속적 효과를 지닐 때 범죄를 더 잘 예방할 수 있으며 일반인의 범죄 억제에 충분한 강도만 가져야 한다. 사형은 한순간 강렬한 인상만 줄 뿐이다.

<보 기>

ㄱ. 갑: 응보 원리에 위배된 형벌이 법적 정의를 실현하는 경우가 있다.
ㄴ. 갑: 타인에 대한 범죄는 자기 자신에게 가하는 범죄로 간주된다.
ㄷ. 을: 사형은 범죄자뿐만 아니라 시민들에게도 해악을 유발한다.
ㄹ. 갑과 을: 형벌은 범죄자의 선을 목적으로 집행되어서는 안 된다.

- ① ㄱ, ㄷ ② ㄱ, ㄹ ③ ㄴ, ㄷ
④ ㄱ, ㄴ, ㄹ ⑤ ㄴ, ㄷ, ㄹ

12. 다음을 주장한 사상가의 입장으로 적절한 것만을 <보기>에서 고른 것은?

기술 시대 윤리학은 인과적 범위가 미래까지 확장되는 행위와 관련된다. 이 행위에는 항상 불완전한 예견적 지식이 동반되며, 장기적 결과의 엄청난 규모와 회복 불가능성이 첨가된다. 현실적으로 인간의 지식 크기는 행위의 인과적 규모와 같을 수 없다. 즉 미래에 대한 예견적 지식이 우리 행위에 권력을 제공하는 기술적 지식보다 뒤쳐질 수밖에 없다는 사실에서 윤리적 의미가 발생한다. 이 모든 것이 책임을 윤리학의 중심에 세워 놓는다.

<보 기>

ㄱ. 책임의 범위는 기술이 내포한 잠재적 위험까지 포함할 수 없다.
ㄴ. 결과의 불확실성은 책임의 불가피성을 거부하는 명분이 될 수 없다.
ㄷ. 책임질 능력은 행위 결과에 대한 완전한 지식을 동반해야만 생긴다.
ㄹ. 예견적 지식과 기술적 지식의 격차에서 새로운 윤리의 필요성이 제기된다.

- ① ㄱ, ㄴ ② ㄱ, ㄷ ③ ㄴ, ㄷ ④ ㄴ, ㄹ ⑤ ㄷ, ㄹ

13. 다음은 갑, 을 사상가들의 가상 대화이다. 갑, 을의 입장으로 적절한 것만을 <보기>에서 고른 것은? [3점]

인간은 자신의 모든 권리를 공동체에 완전히 양도합니다. 이것은 아무것도 남겨 두지 않는 양도여서, 각자는 모두에게 자신을 주기에 아무에게도 주지 않는 것입니다.

인간은 자신의 생명, 자유, 재산에 대한 소유를 보존하기 위해서가 아니라면 자연 상태의 자유를 단념하지도 사회 및 정부에 자신을 구속시키지도 않을 것입니다.



갑



을

<보 기>

ㄱ. 갑: 개인은 다수의 전체 의지에 복종함으로써 자유를 보장받는다.
ㄴ. 을: 입법권은 어떤 정부 형태든 모든 국가에서 최고 권력이다.
ㄷ. 을: 사회 계약과 소유권 행사에는 인민의 동의가 필수적이다.
ㄹ. 갑과 을: 시민들은 정부를 교체할 수 있는 권력을 갖는다.

- ① ㄱ, ㄴ ② ㄱ, ㄷ ③ ㄴ, ㄷ ④ ㄴ, ㄹ ⑤ ㄷ, ㄹ

14. 다음을 주장한 사상가의 입장으로 가장 적절한 것은? [3점]

○ 부귀는 사람들이 바라는 것이지만 정당한 방법으로 얻은 것이 아니면 누려서는 안 된다. 빈천은 사람들이 싫어하는 것이지만 부당한 방법으로 벗어나려 해서는 안 된다. 인(仁)을 버리고 어찌 군자라 이름할 수 있겠는가?
○ 백성을 법과 제도로 이끌고 형벌로 다스리면, 백성은 형벌을 피하려고만 하고 부끄러워할 줄 모르게 된다. 덕으로 이끌고 예(禮)로 다스리면 백성은 부끄러워할 줄 알고 또한 자신의 잘못을 바로잡으려 한다.

- ① 군자는 의로움[義]보다 이로움[利]을 우선해서는 안 된다.
② 빈천을 벗어나 부귀를 누리는 사람은 군자가 될 수 없다.
③ 인은 군자의 내면적인 덕목이므로 다스림의 근본이 될 수 없다.
④ 욕망을 극복하고[克己] 이름을 높이는 것은 인과 예에 어긋난다.
⑤ 백성 스스로 잘못을 깨닫게 하려면 형벌로 다스릴 수밖에 없다.

15. 갑, 을 사상가들의 입장으로 가장 적절한 것은?

갑: 정의로운 분배의 충분조건은 자신이 소유하는 것을 가질 권리를 소유함이다. 정의로운 상황으로부터 정의로운 단계를 거쳐 발생한 것은 무엇이든 정의롭다.
을: 공정으로서의 정의에서 원초적 입장은 순수한 가상 상황으로 규정된다. 이 가상 상황에서 자유롭게 평등한 합리적 인간들은 정의의 원칙들을 선택하게 될 것이다.

- ① 갑: 국가의 재분배 행위는 경제적 불평등을 교정할 때만 정의롭다.
② 갑: 최소 국가보다 더 포괄적인 국가에서는 정의로운 소유가 발생할 수 없다.
③ 을: 사회 기본 구조는 시민의 기본적 자유와 권리도 분배한다.
④ 을: 원초적 입장의 개인은 타인이 삶의 목적을 가지고 있음을 모른다.
⑤ 갑과 을: 분배 절차가 부정확하더라도 분배 결과가 정의로운 경우가 있다.

16. 다음 신문 칼럼에서 강조하는 내용으로 가장 적절한 것은? [3점]

○○ 신문 ○○○○년 ○○월 ○○일

칼럼

온라인에 의견을 자유롭게 표현할 수 있게 되면서 쉽고 빠르게 여론이 형성된다. 그러나 이렇게 형성된 여론이 개인의 색다름을 비난하기도 한다. 물론 색다름을 자유롭게 추구하는 행위가 타인에게 해를 입히는 경우라면 그 행위에 개입할 수 있지만 단지 보기 싫다는 이유로 색다름을 억압하는 것은 정당하지 않다. '아무도 하지 않은 일'을 한다고 비난하거나 '모두가 하는 일'을 하지 않는다고 비난하는 것은 여론의 횡포이다. 이런 횡포를 무너뜨리기 위해서는 색다르게 행동할 필요가 있다. 여론이라는 이름으로 삶의 획일성을 강요하고 개별성을 억압한다면 개인과 사회의 진보는 불가능하다. 타인에게 해를 끼치지 않는 한도에서, 개인의 절대적 자유를 보장해야 한다. 개별성의 추구를 독려하는 제도와 공공 의식은 바람직한 삶에 불가결한 것이다.

- ① 여론이 개인의 의견 표현에 개입할 수 있는 경우는 없다.
- ② 여론의 횡포가 사라지지 않으면 색다르게 행동할 수 없다.
- ③ 색다름을 추구하는 행위에 최대한의 자유를 허용해야 한다.
- ④ 색다름을 추구하는 개인이 늘어날수록 사회의 발전이 지체된다.
- ⑤ 획일성을 거부하는 것은 비난할 일도 권장해야 할 일도 아니다.

17. 갑, 을 사상가들의 입장으로 가장 적절한 것은?

갑: 덕은 실천 관행을 지지하는, 그리고 실천 관행에 내재하는 선의 성취를 가능하게 하는 성향으로 이해될 수 있다. 덕은 선에 대한 탐색을 지속하게 함으로써 자기 지식과 선에 관한 지식을 증진하게 하는 성향이다.

을: 자연은 인류를 쾌락과 고통이라는 최고의 두 군주가 지배하도록 하였다. 오직 쾌락과 고통만이 우리가 무엇을 해야 하는가를 지시해 준다. 옳음과 그름의 기준은 이 둘의 왕좌에 매여 있다.

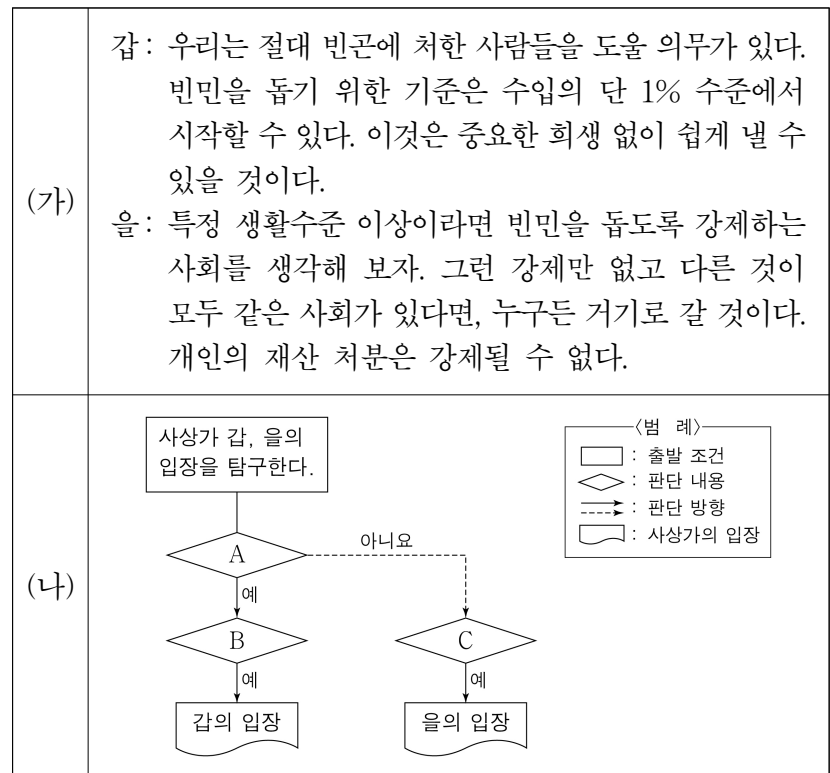
- ① 갑: 친밀도에 따른 차등적 대우는 유덕한 행위가 될 수 없다.
- ② 갑: 행위 자체에 내재된 도덕적 속성으로 보편적 도덕 법칙을 세워야 한다.
- ③ 을: 국가의 입법 원리와 개인의 도덕 원리는 궁극적으로 같을 수 없다.
- ④ 을: 쾌락과 고통으로써 행위 결과를 평가할 수 있지만 행위 동기를 설명할 수는 없다.
- ⑤ 갑과 을: 도덕 행위의 실천적 고려 범위에서 공동체를 배제해서는 안 된다.

18. 다음을 주장한 사상가의 입장으로 가장 적절한 것은?

이성적으로만 보면 국가들이 전쟁을 중지하는 방식은 오직 무법칙적 자유를 포기하고 공법의 규제에 순응하여, 중국에는 모든 민족을 포함하는 단일 국가를 형성하는 것뿐이다. 그러나 국가들이 결코 이를 의욕하지 않을 것이다. 대신 국가들은 이러한 적극적 이념이 아니라, 전쟁을 회피하면서 지속적으로 확장되는 연맹이라는 소극적 대응물을 택함으로써 전쟁에 대한 성향이나 법의 통제를 꺼리는 성향을 중지할 수 있을 것이다.

- ① 영구 평화의 실현 이후 세계 공화국을 수립할 수 있다.
- ② 영구 평화가 모든 전쟁의 영구적 종식을 요청하지는 않는다.
- ③ 대내 권력이 전제적일수록 전쟁을 일으킬 가능성은 증가한다.
- ④ 방문한 외국인이 내국인과 동일하게 행사할 수 있는 권리는 없다.
- ⑤ 연맹에 가입한 주권 국가들을 공통으로 규제하는 법은 불가능하다.

19. (가)의 갑, 을 사상가들의 입장을 (나) 그림으로 탐구하고자 할 때, A~C에 들어갈 적절한 질문만을 <보기>에서 고른 것은? [3점]



<보 기>

- ㄱ. A: 빈민을 위한 자선은 도덕적으로 정당한 행위인가?
- ㄴ. B: 원조 효과가 불확실하다면 원조 결정을 유보할 수 있는가?
- ㄷ. B: 원조 대상이 받는 혜택이 원조 주체가 부담하는 비용을 초과해야 하는가?
- ㄹ. C: 원조 행위는 원조 주체의 소유권을 필연적으로 침해하는가?

- ① ㄱ, ㄴ ② ㄱ, ㄷ ③ ㄴ, ㄷ ④ ㄴ, ㄹ ⑤ ㄷ, ㄹ

20. 다음 사상가의 입장에서 <문제 상황> 속 A에게 제시할 조언으로 가장 적절한 것은?

고통이나 쾌락을 느낄 수 있는 존재는 이익 관심을 갖는다. 호모 사피엔스인지 아닌지 여부로 아기의 생명권은 승인하고, 다른 동물의 경우는 승인하지 않는 것은 중 차별주의이다.

<문제 상황>

화장품 회사 연구원인 A는 개발 중인 화장품에서 혹시 모를 부작용이 나타나는지 여부를 파악하기 위해 동물 실험을 해야 할지에 대해 고민하고 있다.

- ① 동물은 인간을 위한 수단으로 활용될 수 없음을 명심하세요.
- ② 인간 이외의 모든 동물도 도덕적 지위를 지님을 고려하세요.
- ③ 동물 실험을 통해 인간의 이익이 산출될 수 없음을 명심하세요.
- ④ 인간의 이익과 실험 대상인 동물의 이익을 동등하게 고려하세요.
- ⑤ 감각 능력을 지닌 동물은 어떤 실험의 대상도 될 수 없음을 명심하세요.

* 확인 사항

- 답안지의 해당란에 필요한 내용을 정확히 기입(표기)했는지 확인 하시오.

2026학년도 대학수학능력시험

사회탐구 영역 정답표
(생활과 윤리) 과목

문항 번호	정 답	배 점	문항 번호	정 답	배 점	문항 번호	정 답	배 점	문항 번호	정 답	배 점
1	②	2	6	④	3	11	⑤	3	16	③	3
2	②	3	7	⑤	3	12	④	2	17	⑤	2
3	②	2	8	②	2	13	④	3	18	③	2
4	⑤	3	9	①	3	14	①	3	19	③	3
5	③	2	10	①	2	15	③	2	20	④	2

제 4 교시

사회탐구 영역(윤리와 사상)


성명

수험 번호

제 [] 선택

윤리와 사상

1. 다음 가상 대화의 스승이 강조하는 삶의 태도로 가장 적절한 것은?



- ① 도덕적 시비를 명확히 분별하여 군자의 도리를 실행해야 한다.
- ② 만물 간의 위계질서를 확립함으로써 차등적 사랑을 실현해야 한다.
- ③ 보살로서의 삶을 살기 위해 보시(布施) 바라밀을 실천해야 한다.
- ④ 사회적 규범(禮)에 맞게 이기적 본성이 변화되도록 노력해야 한다.
- ⑤ 마음을 깨끗이 비우는 심재(心齋)를 통해 차별 의식에서 벗어나야 한다.

2. 고대 서양 사상이자, 근대 서양 사상이자 을의 입장으로 옳은 것은?

갑: 우리는 쾌락을 제일의 선이자 본성에 주어진 선으로 인식하고 이것을 모든 선택과 회피의 출발점으로 삼는다. 여기서 우리가 추구하는 쾌락은 몸에 고통이 없고 마음에 불안이 없는 것을 의미한다.

을: 우리는 쾌락을 추구하고 고통을 피하게 되어 있으며, 이것이 인간의 모든 행위를 지배한다. 쾌락이나 고통의 가치를 평가할 때는 강도, 지속성, 확실성, 근접성, 다산성, 순수성, 범위에 따라서 계산해야 한다.

- ① 갑: 쾌락을 추구하는 사람은 가능한 한 정의를 회피해야 한다.
- ② 갑: 행복은 완전한 평정심의 상태에 도달했어도 얻을 수 없다.
- ③ 을: 유용성 원리 외의 다른 근거로 행위의 시비를 판단해선 안 된다.
- ④ 을: 한 쾌락은 동일한 양을 가진 다른 종류의 쾌락과 교환할 수 없다.
- ⑤ 갑과 을: 쾌락과 고통의 계산은 경험에 의해서만 수행할 수 있다.

3. 고대 서양 사상이자 갑, 을의 입장으로 옳은 것은?

갑: 인간은 만물의 척도이다. 크기의 크고 작음, 무게의 무거움과 가벼움, 색깔의 검음과 흰 등에 대해서 어떤 객관적 인식도 불가능하다. 모든 인식은 지각이며, 모든 지각은 각자마다 다르다.

을: 인간은 자신의 영혼을 돌보아야 한다. 앎은 훌륭한 것이고 사람을 지배하는 것이어서, 누군가가 좋은 것들과 나쁜 것들을 알기만 하면 그는 앎이 지시하는 것 외에 다른 어떤 것을 행하지 않는다.

- ① 갑: 무지에 대한 지각을 보편적 진리 탐구의 출발점으로 삼아야 한다.
- ② 갑: 인식의 상대성 때문에 한 국가 안에서 통용되는 도덕규범은 없다.
- ③ 을: 어떤 자가 악행을 범했다면 그것은 의도하지 않았던 것이다.
- ④ 을: 언제나 유덕한 사람이라 할지라도 항상 행복한 사람은 아니다.
- ⑤ 갑과 을: 절대적 진리를 얻는 것은 행복을 위해 필수 불가결하다.

4. 고대 사회사상이자 갑, 현대 사회사상이자 을의 입장으로 옳은 것은?

갑: 국가는 인민의 것이다. 인민은 아무런 목적 없이 모인 사람들의 집합이 아니라, 정의와 공동선을 위해 협력한다고 동의한 다수의 결사체이다.

을: 국가에서 인민은 단지 정부를 탄생시키는 역할을 한다. 이때 엘리트들은 민주주의적 방법 안에서 인민의 표를 얻기 위해 경쟁적으로 투쟁한다.

- ① 갑: 국가는 법이 없어도 존재할 수 있는 인민의 결사체이다.
- ② 갑: 국가는 개인이 지향해야 할 공동선이자 목적 그 자체이다.
- ③ 을: 인민의 투표는 정치적 지도자를 선출하는 수단일 뿐이다.
- ④ 을: 인민이 정부를 지배하기 위해 개인의 정치 참여는 필수적이다.
- ⑤ 갑과 을: 국가 운영은 소수 전문가보다 인민 다수의 지혜가 필요하다.

5. 중국 유교 사상이자 갑, 을의 입장으로 옳은 것은? [3점]

갑: 마음은 허령(虛靈)하여 모든 사물을 지각할 수 있다. 그러니 이미 알고 있는 이치를 가지고 사물에 나아가 더욱 꾸준히 궁구하면 어느 순간 모든 이치를 환하게 깨달을 수 있다.

을: 마음은 곧 이치이다. 사욕에 가리지 않은 마음이 곧 천리(天理)이므로 이것을 부모를 섬기는 데 실천하면 효이고 벗을 사귀고 백성을 다스리는 데 실천하면 신의와 어짊이다.

- ① 갑: 앎은 논리상 실천에 앞서므로 앎이 항상 실천보다 중요하다.
- ② 갑: 구체적 사물에서 천명지성은 기질지성과 별도로 존재한다.
- ③ 을: 격물의 물(物)은 탐구 대상일 뿐 도덕적 실천 대상이 아니다.
- ④ 을: 치지는 천리를 실현하는 것이므로 지행합일과 일치한다.
- ⑤ 갑과 을: 마음의 본체인 양지를 보존하고 인욕을 제거해야 한다.

2 (윤리와 사상)

사회탐구 영역

6. (가)의 고대 서양 사상가 갑, 중세 서양 사상가 을의 입장을 (나) 그림으로 표현할 때, A~C에 해당하는 진술로 적절한 것만을 <보기>에서 고른 것은? [3점]

(가)	<p>갑: 인간의 목적은 만물을 위한 공통의 법에 따라 사는 삶이다. 공통의 법은 다름이 아니라 만물을 관통하는 옳은 이성이다. 옳은 이성은 우주 전체를 다스리는 신과 동일하다.</p> <p>을: 만물을 다스리는 이성 자체는 신 안에 존재하며 법의 성격을 지닌다. 이런 법은 영원한 법으로 불린다. 이성적 피조물에 의해 탁월한 방식으로 수행되는 영원법 참여가 자연법이다.</p>
(나)	

<보 기>

- ㄱ. A: 신의 섭리 전체는 자연법 안에 포함된다.
 ㄴ. B: 완전한 행복은 인간이 바라는 목적이자 당위이다.
 ㄷ. C: 인간 본성의 완성은 신의 계획에 참여하는 것이다.
 ㄹ. C: 도덕적 실천을 행한 자라면 자연법 역시 준수한 자이다.

- ① ㄱ, ㄴ ② ㄱ, ㄷ ③ ㄴ, ㄷ ④ ㄴ, ㄹ ⑤ ㄷ, ㄹ

7. 다음은 한국 유교 사상가 갑, 을의 가상 대화이다. 갑, 을의 입장으로 옳은 것만을 <보기>에서 있는 대로 고른 것은? [3점]

사단은 이(理)가 발(發)하여 기(氣)가 그것을 따를 때에 나타나는 감정[情]이고, 칠정은 기가 발하고 이가 그것을 따를 때에 나타나는 감정입니다.

그렇지 않습니다. 사단과 칠정은 모두 기가 발하고 이가 그것을 타는 한 가지 길[一途]을 따라서만 나타납니다. 왜냐하면 이(理)는 원리와 근거가 되고 실제로 작용하는 것은 기이기 때문입니다.



<보 기>

- ㄱ. 갑: 이(理)의 통제를 받아도 칠정은 선한 감정이 될 수 없다.
 ㄴ. 을: 기질을 교정해도 본연지성은 절대 변화시킬 수 없다.
 ㄷ. 을: 성실함[誠]은 하늘의 도(道)와 구분되는 인간만의 도이다.
 ㄹ. 갑과 을: 사양지심과 슬픔은 모두 성(性)이 발현된 감정이다.

- ① ㄱ, ㄴ ② ㄱ, ㄷ ③ ㄴ, ㄹ
 ④ ㄱ, ㄷ, ㄹ ⑤ ㄴ, ㄷ, ㄹ

8. 다음을 주장한 사회사상가의 입장으로 옳은 것만을 <보기>에서 고른 것은? [3점]

우리가 매일 식사를 마련할 수 있는 것은 정육점 주인과 양조장 주인, 그리고 빵집 주인의 자비심 때문이 아니라, 그들 자신의 이익을 위한 계산 때문이다. 우리는 그들의 자비심에 호소하지 않고 그들의 이기심에 호소하며, 그들에게 결코 우리 자신의 필요를 말하지 않고 그들의 유리함을 말한다.

<보 기>

- ㄱ. ‘보이지 않는 손’이 인간의 이기심을 억제해야 한다.
 ㄴ. 자유로운 경제 활동을 위해 국가의 역할이 필요한 경우가 있다.
 ㄷ. 직업인은 자기 노동이 공익에 기여하는 정도를 예상해야 한다.
 ㄹ. 모두가 자신만의 이익을 추구해도 사회 전체에 이익이 될 수 있다.

- ① ㄱ, ㄴ ② ㄱ, ㄷ ③ ㄴ, ㄷ ④ ㄴ, ㄹ ⑤ ㄷ, ㄹ

9. 사회사상가 갑, 을의 입장으로 옳은 것은? [3점]

갑: 정치적 자유는 한 개인이 타인의 방해받지 않고 행동할 수 있는 영역을 의미한다. 어떤 목표를 달성하지 못한다는 것만으로 정치적 자유가 결여되지는 않는다.

을: 법의 지배가 개인을 자유롭게 만드는 것은 동의를 표현해서가 아니다. 이는 법이 일반적이고 추상적 명령으로서, 개인을 타인의 자의적 의지로부터 보호하기 때문이다.

- ① 갑: 경제 환경이 부유할수록 소극적 자유도 더 많이 확보된다.
 ② 갑: 자의적 지배를 차단하는 법도 소극적 자유를 제한할 수 있다.
 ③ 을: 타인의 간섭이나 방해가 전혀 없다면 예측 상태도 전혀 없다.
 ④ 을: 예측 상태를 줄이기 위해서는 법적 제약을 줄일 수밖에 없다.
 ⑤ 갑과 을: 진정한 자유는 입법 과정에 참여할 때 비로소 보장된다.

10. 동양 불교 사상가 갑, 을의 입장으로 옳은 것만을 <보기>에서 있는 대로 고른 것은?

갑: 무릇 현상적 존재는 모두 공하다[諸法皆空]. 생겨나지도 않고 소멸하지도 않으며, 불연속도 아니고 연속도 아니며, 같은 것도 아니고 다른 것도 아니며, 오는 것도 아니고 가는 것도 아니다.

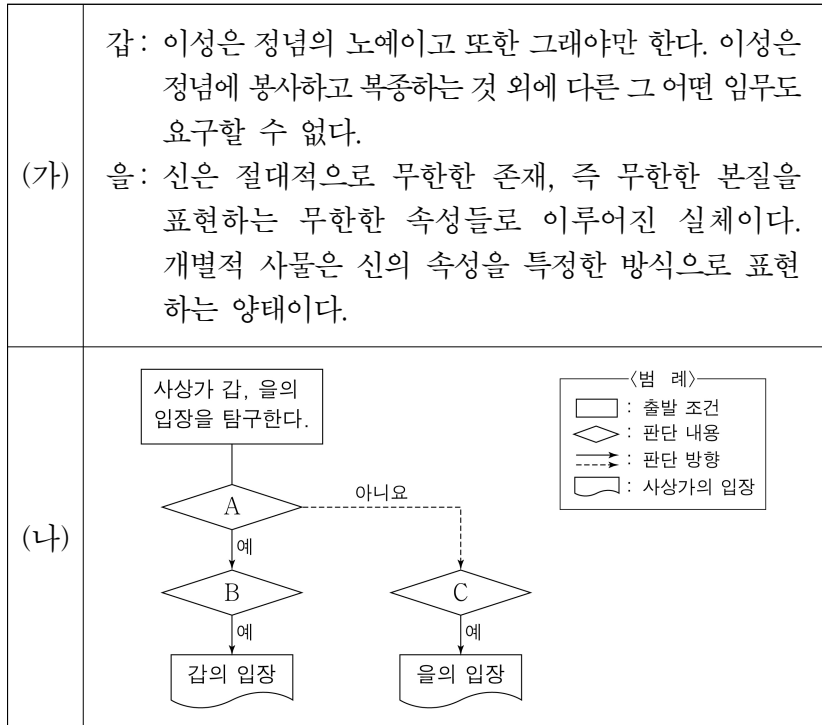
을: 오직 의식만이 존재할 뿐, 그 대상은 존재하지 않는다[唯識無境]. 마치 사람 눈에 백태가 끼면 터럭이나 두 개의 달이 보이듯이 실재하지 않는 대상이 허망하게 나타나 보이는 것일 뿐이다.

<보 기>

- ㄱ. 갑: 자아는 공하지만 그것을 구성하는 요소[法]는 실재한다.
 ㄴ. 을: 의식의 근원을 청정하게 하면 일체의 실상을 볼 수 있다.
 ㄷ. 을: 요가 수행을 통해 열반(涅槃)의 경지에 도달해야 한다.
 ㄹ. 갑과 을: 만물은 서로 의존적이므로 고유한 본성[自性]이 없다.

- ① ㄱ, ㄴ ② ㄱ, ㄹ ③ ㄴ, ㄷ
 ④ ㄱ, ㄷ, ㄹ ⑤ ㄴ, ㄷ, ㄹ

11. (가)의 근대 서양 사상이 갑, 을의 입장을 (나) 그림으로 탐구하고자 할 때, A~C에 들어갈 적절한 질문만을 <보기>에서 고른 것은? [3점]



<보 기>

- ㄱ. A: 선악 판단에 대한 설명은 인간의 자연 본성에 기초하는가?
 ㄴ. B: 개인의 승인 감정은 자신의 이해 관점에서 벗어날 수 있는가?
 ㄷ. C: 비인격적인 신에 대해서 사랑의 정서를 지닐 수 있는가?
 ㄹ. C: 지금 내게 일어난 사건 대신에 다른 사건이 일어날 수 있는가?

- ① ㄱ, ㄴ ② ㄱ, ㄷ ③ ㄴ, ㄷ ④ ㄴ, ㄹ ⑤ ㄷ, ㄹ

12. 한국 불교 사상이 갑, 을의 입장으로 옳은 것은?

갑: 세계는 무한하지만 모두 한마음(一心)에 포함된다. 따라서 마음이 생기면 모든 현상이 생겨나고 마음이 사라지면 흙구덩이와 무덤이 둘이 아니다. 세상이 오직 한마음일 뿐이니 그것을 밖에서 따로 구할 필요가 없다.

을: 자신의 본성이 부처와 다르지 않음을 깨달았어도 잘못된 습관(習氣)은 단박에 제거하기 어렵다. 그러므로 깨달음에 의지하여 점차로 닦고 익혀 부처가 될 수 있는 성품을 길러 나가야 한다.

- ① 갑: 청정한(眞如) 마음과 분별하는(生滅) 마음은 한마음이 될 수 없다.
 ② 갑: 무애행(無碍行)은 계율에 구속받지 않는 출가자만의 수행이다.
 ③ 을: 부처의 설법은 스승(祖師)이 전한 마음과 가리키는 바가 다르다.
 ④ 을: 돈오 후에도 정(定)과 혜(慧)를 함께 지속적으로 닦아야 한다.
 ⑤ 갑과 을: 선종과 교종을 통합하여 종파 간 대립을 없애야 한다.

13. 그림의 강연자가 지지할 입장으로 가장 적절한 것은?

절망하고 있는 사람은 죽음에 이르는 병에 걸린 것과 같습니다. 인간은 신과의 절대적 관계에 들어가지 않으면 이러한 절망에서 벗어날 수 없습니다. 인간은 인생을 향락하려는 심미적 단계의 절망에서 이것이나 저것이나 하는 선택의 문제에 놓여 있게 됩니다. 여기서 인간이 심미적 단계에만 머물기로 결단했다면 윤리적 단계로 비약하지 못합니다. 또한 윤리적인 것을 추구하는 인간도 결국 자신의 유한성과 불완전성에 절망하게 되고, 보편적인 것의 추구보다 더 높은 것으로 나아가야만 이 절망에서 비로소 해방될 수 있습니다. 결국 모든 것이 가능한 존재인 신에게 자신을 홀로 완전히 내맡겨야만 합니다.



- ① 인간은 심미적, 윤리적 단계에서는 절망 상태에 있는 존재이다.
 ② 인간은 주체적으로 스스로의 본질을 창조해야만 하는 존재이다.
 ③ 인간은 비약 없이 종교적 단계에서 심미적 단계로 나아가야 한다.
 ④ 인간은 대중적 반응을 통해서만 참된 실존의 회복이 가능하다.
 ⑤ 인간은 종교적 단계에서 스스로를 구원하여 절망 극복이 가능하다.

14. 고대 서양 사상이 갑, 을의 입장으로 옳지 않은 것은? [3점]

갑: 국가와 개인은 서로 닮았기 때문에 우리가 이미 국가에서 보았던 정의(正義)를 개인에게서도 볼 수 있는 것이다. 지혜, 용기, 절제도 이와 마찬가지로이다.

을: 국가는 여타의 다른 공동체를 포괄하는 최고의 공동체이다. 그리고 모든 공동체는 어떤 선을 목표로 한다. 따라서 국가의 선은 다른 선들을 포괄하는 최고의 선을 목표로 한다.

- ① 갑: 국가의 정의와 개인의 정의는 구조에서 유사성을 지닌다.
 ② 갑: 국가의 통치자는 생산자 계층의 소유물을 착취해서는 안 된다.
 ③ 을: 국가가 없다면 시민의 도덕적 능력을 완전히 계발할 수 없다.
 ④ 을: 국가는 다른 공동체의 완전한 선의 실현을 위한 수단이다.
 ⑤ 갑과 을: 국가의 존재 목적은 단지 생존만이 아니라 좋음의 추구이다.

15. 고대 동양 사상이 갑, 을의 입장으로 옳은 것은?

갑: 물은 모든 사물을 이롭게 하지만 그것들과 다투지 않는다. 모두가 싫어하는 낮은 곳에 처하므로 도(道)와 가깝다. 그러므로 최상의 좋음은 마치 물과 같다(上善若水).

을: 물은 그 흐름에 있어 동쪽이나 서쪽의 구분은 없지만 위아래의 구분은 있다. 마치 물이 반드시 위에서 아래로 흐르듯이, 모든 사람은 그 본성에 있어 선하고자 한다(性善).

- ① 갑: 인간의 소박한 자연성을 법률과 제도에 맞게 변화시켜야 한다.
 ② 갑: 백성은 무위(無爲)의 삶을 위해 이론적 지식을 확충해야 한다.
 ③ 을: 항산(恒産)은 백성의 도덕성 유지의 기반이 될 수는 없다.
 ④ 을: 악을 행한 자일지라도 본심(本心) 자체가 악한 것은 아니다.
 ⑤ 갑과 을: 도덕규범을 확립하기 위해 예(禮)를 강조해야 한다.

4 (윤리와 사상)

사회탐구 영역

16. 다음 가상 편지를 쓴 한국 유교 사상가의 입장으로 가장 적절한 것은? [3점]

○○○ 선생님께

그동안 잘 지내셨는지요. 인간 본성에 관하여 제 생각을 물으신 선생님의 편지에 대한 답장을 드립니다. 마을에 불효자가 있는데, 그에 대해 잘 모르는 사람이 그를 효자라고 칭찬하면 기뻐합니다. 또한 탐관오리가 부정한 짓을 저지르다가도 간사한 자가 아첨하여 그를 청렴하다고 하면 기뻐합니다. 이는 사람의 마음이 선을 좋아하고 악을 미워하기 때문입니다. 이러한 이유로 저는 이른바 성(性)은 기호(嗜好)에 중점을 두고 말해야 한다고 생각합니다.

- ① 영지의 기호는 모든 생명체가 지닌 순수한 도덕적 이법[理]이다.
 ② 선을 실천함이 없이 선한 마음만 지녔어도 덕 있는 존재라 할 수 있다.
 ③ 성에 내재된 인(仁)을 행함으로써 측은지심을 형성할 수 있다.
 ④ 모든 욕구를 깨끗이 제거하기 전에는 어떠한 선도 실천할 수 없다.
 ⑤ 자주지권뿐 아니라 영지의 기호도 하늘[天]이 인간에게 부여한 것이다.

17. 다음을 주장한 고대 서양 사상가의 입장으로 옳은 것만을 <보기>에서 고른 것은?

눈의 탁월성은 보는 기능을 잘 수행하게 만들고 그 눈을 좋은 눈으로 만든다. 발의 탁월성은 걷는 기능을 잘 수행하게 만들고 그 발을 좋은 발로 만든다. 그렇다면 인간 자체에도 어떤 기능이 있지 않을까? 영양 섭취와 생장은 인간뿐 아니라 식물에도 있으니 인간 영혼으로부터 제외해야 한다. 감각은 인간뿐 아니라 동물에도 있으니 제외해야 한다. 남는 것은 이성에 따른 영혼의 활동이니 이것이 곧 행복이다.

<보 기>

- ㄱ. 인간의 영혼 안에 있는 욕구적 부분에만 귀속되는 덕이 있다.
 ㄴ. 좋은 분별력은 품성적 덕을 동반할 뿐 그 자체가 덕은 아니다.
 ㄷ. 삶의 목적적 위계의 최정점은 좋음의 위계의 최정점과 같다.
 ㄹ. 덕을 실현하고자 노력한 사람은 행복한 사람일 수밖에 없다.

- ① ㄱ, ㄴ ② ㄱ, ㄷ ③ ㄴ, ㄷ ④ ㄴ, ㄹ ⑤ ㄷ, ㄹ

18. 다음을 주장한 근대 서양 사상가의 입장으로 옳은 것은? [3점]

이성은 실천적 능력으로서, 즉 의지에 영향을 주어야 할 능력으로서 우리에게 부여되어 있다. 따라서 이성의 진정한 사명은, 다른 의도에 이바지하는 수단으로서 선한 의지가 아니라, 그 자체로서 선한 의지를 낳는 것이어야 한다.

- ① 경험적 원리에 의존하지 않는 순수한 의지는 인간에게 불가능하다.
 ② 의지만 있다면 자연 본성 자체는 욕구의 영향을 전혀 받지 않는다.
 ③ 이성은 선한 의지를 가진 개인에게만 고유할 뿐 보편적일 수 없다.
 ④ 인간의 자유롭고 이성적인 의지는 절대적 가치를 지닌 자체적 선이다.
 ⑤ 인간의 무제한적으로 선한 의지는 어떤 법칙에 의해서도 제약될 수 없다.

19. 다음을 주장한 사회사상가의 입장으로 옳은 것만을 <보기>에서 고른 것은? [3점]

전쟁 상태를 벗어나기 위한 인간의 화합은 신의계약에 의해서만 이루어진다. 그 화합을 영속하기 위해서는, 공동 이익에 맞게 행동하도록 지도하는 공통의 권력이 필요하다. 이를 확립하는 유일한 길은 모든 사람의 의지를 다수결에 의해 하나의 의지로 결집하는 것, 즉 모두의 힘을 한 사람에게 양도하는 것이다. 이때 양도받은 자가 주권자이며, 모두의 대리인이다.

<보 기>

- ㄱ. 주권자가 시민에게 죽음을 명령하면 그는 복종해야 한다.
 ㄴ. 자연 상태에 있는 한, 자기 보존 노력은 자기 소멸 위험으로 이어진다.
 ㄷ. 주권자는 대리인임에도 불구하고 모든 시민의 힘을 임의대로 사용할 수 있다.
 ㄹ. 국가 설립에 반대하는 자는 계약이 체결된다고 해도 계약에 종속되지 않는다.

- ① ㄱ, ㄴ ② ㄱ, ㄷ ③ ㄴ, ㄷ ④ ㄴ, ㄹ ⑤ ㄷ, ㄹ

20. 근대 한국 사상가 갑, 을의 입장으로 적절한 것만을 <보기>에서 고른 것은?

갑: 인의예지는 옛 성인의 가르침이요, 수심정기(守心正氣)는 내가 다시 정한 것이다. 나는 동방에서 태어나 동방에서 도를 받았으니 그 가르침이 서학과 다르다. 한울님을 모시고 있음[侍天主]을 깨닫고 그 가르침을 따르고자 한다.
 을: 인의의 도덕을 틀어막고 세상을 속이는 말이 어느 때인들 없었으랴만 서양의 것만큼 참혹한 것은 없다. 난세를 구하고 이단(異端)을 물리치는 길은 바른 학문[正學]을 밝히는 것보다 급한 것이 없다.

<보 기>

- ㄱ. 갑: 경천(敬天) 사상에 기반하여 보국안민을 이룩해야 한다.
 ㄴ. 을: 서양과 교류하여 효제의 가르침을 천하에 전해야 한다.
 ㄷ. 을: 성리학적 질서를 수호하여 절의(節義)를 실천해야 한다.
 ㄹ. 갑과 을: 만민이 평등한 사회를 현세에서 구현해야 한다.

- ① ㄱ, ㄴ ② ㄱ, ㄷ ③ ㄴ, ㄷ ④ ㄴ, ㄹ ⑤ ㄷ, ㄹ

* 확인 사항

○ 답안지의 해당란에 필요한 내용을 정확히 기입(표기)했는지 확인 하시오.

2026학년도 대학수학능력시험

사회탐구 영역 정답표
(윤리와 사상) 과목

문항 번호	정 답	배 점	문항 번호	정 답	배 점	문항 번호	정 답	배 점	문항 번호	정 답	배 점
1	⑤	2	6	①	3	11	③	3	16	⑤	3
2	③	2	7	③	3	12	④	2	17	②	2
3	③	2	8	④	3	13	①	2	18	④	3
4	③	2	9	②	3	14	④	3	19	③	3
5	④	3	10	⑤	2	15	④	2	20	②	2

제 4 교시

사회탐구 영역(한국지리)

성명

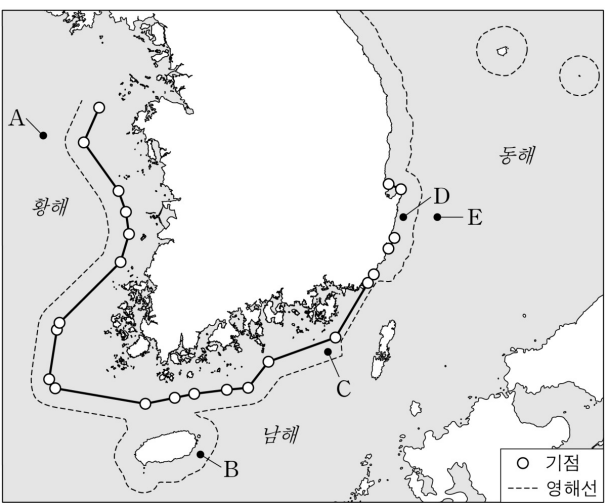
수험 번호

제 [] 선택

1. 다음 <조건>을 만족하는 곳을 지도의 A~E에서 고른 것은?

- <조건 1>: (배타적 경제 수역에 위치) OR (통상 기선의 적용을 받는 영해에 위치)
 <조건 2>: 호미곶 기점을 지나는 위선과 우리나라 영토 최남단을 지나는 위선 사이에 위치
 <조건 3>: 동경 127° 30' 00" ~ 동경 131° 52' 22" 사이에 위치
 <조건 4>: <조건 1> ~ <조건 3>을 모두 만족하는 곳 중 같은 날의 일출 시각이 가장 늦은 곳

* X OR Y: X 조건과 Y 조건 중 하나만 만족해도 되는 것을 의미함.



- ① A ② B ③ C ④ D ⑤ E

2. 다음 자료의 ㉠~㉣에 대한 설명으로 옳은 것은?

동해안의 ㉠ 석호 중 하나였던 풍호는 화력 발전소의 폐기물 매립과 골프장 건설로 사라졌다. 또한 최근 건설된 방파제로 인해 모래 이동의 균형이 깨져서 일부 구간은 ㉡ 사빈과 ㉢ 해안 사구의 침식이 일어나고 있다. 이를 완화하기 위해 ㉣ 그로인을 설치하였지만 침식은 지속되고 있다. 이 지역의 해안 변화는 인간의 개발로 지형이 얼마나 쉽게 변형 되는지를 보여준다.



<2024년 항공 사진>

- ① ㉠은 최종 빙기에 형성되었다.
 ② ㉡은 파랑 에너지가 집중되는 곳(串)에 잘 발달한다.
 ③ ㉢의 지하수는 바닷물보다 염도가 높다.
 ④ ㉣을 설치하는 주목적은 풍속을 낮추어 모래를 퇴적시키는 것이다.
 ⑤ ㉣은 ㉡에 비해 지표면의 퇴적물 평균 입자 크기가 작다.

3. 다음은 한국지리 수업 장면의 일부이다. 교사의 질문에 옳게 답한 학생만을 고른 것은?

기상청

보도 자료

배포 2025. 0. 00.

<2024년, 113년 관측 이래 가장 더운 해>

- 연평균 기온이 14.5°C로 평년보다 2.0°C 높고, 종전 1위(2023년 13.7°C)보다 0.8°C 높은 역대 1위
- 모든 달의 월평균 기온이 평년보다 높고, 5개 달(2월, 4월, 6월, 8월, 9월)에서 역대 1위
- 해수면 온도가 18.6°C로 최근 10년 대비 1.3°C 높고, 최근 10년 중 1위

자료의 현상이 지속될 경우 우리나라에서 나타날 변화에 대해 말해 볼까요?

갑

설악산에 단풍이 드는 시기가 빨라질 거예요.

을

한라산의 고산 식물 분포 범위가 좁아질 거예요.

병

동해에서 한류성 어종의 어획량이 증가할 거예요.

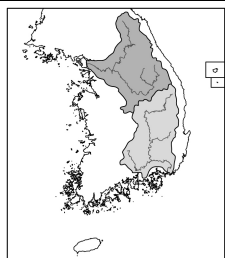
정

한강의 결빙 일수가 줄어들 거예요.

- ① 갑, 을 ② 갑, 병 ③ 을, 병 ④ 을, 정 ⑤ 병, 정

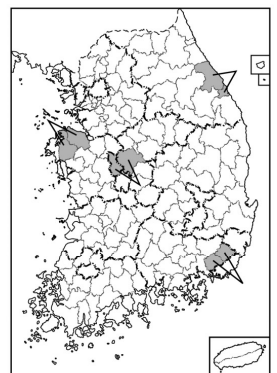
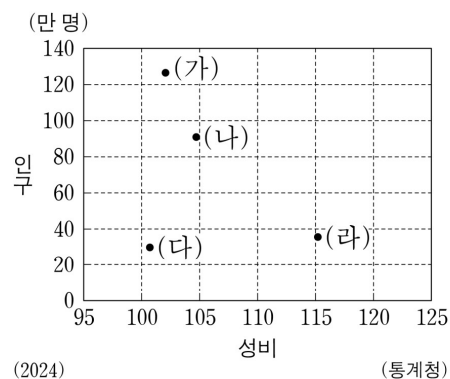
4. 다음 자료의 ㉠~㉣에 대한 설명으로 옳은 것은? (단, ㉡, ㉢은 각각 고생대 퇴적암, 중생대 퇴적암 중 하나임.) [3점]

지도는 두 하천 유역을 나타낸 것이다. 이 하천 유역의 암석 분포를 각각 살펴보면, 한강 유역에는 ㉠ 시·원생대 변성암이 가장 많고, 그 다음은 ㉡ 중생대 화강암, ㉢ 순이다. 낙동강 유역에는 ㉣ 이 가장 많고, 다음으로 시·원생대 변성암과 중생대 화강암이 유사한 비율로 분포한다.



- ① ㉠은 북한산 정상부의 주된 기반암을 이루고 있다.
 ② ㉡에서는 공룡 발자국 화석이 발견된다.
 ③ ㉢은 대부분 석회암으로 구성되어 있다.
 ④ ㉣은 ㉠보다 한반도 암석 분포에서 차지하는 비율이 높다.
 ⑤ ㉣은 ㉢보다 형성 시기가 이른다.

5. 그래프는 지도에 표시된 네 지역군의 인구 자료를 나타낸 것이다. (가)~(라) 지역군에 대한 설명으로 옳은 것은?

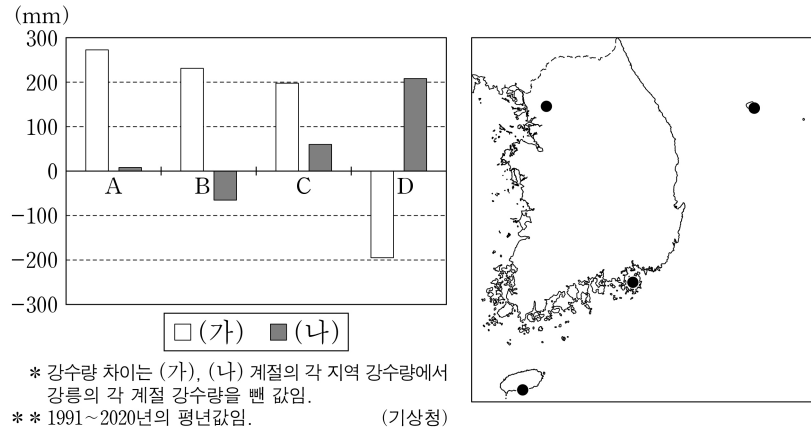


- ① (가)에는 기업도시가 위치한다.
 ② (나)와 (라)는 충청권에 위치한다.
 ③ (다)는 (나)보다 노년 부양비가 높다.
 ④ (다)는 (라)보다 제조업 출하액이 많다.
 ⑤ (라)는 (가)보다 남성 인구가 많다.

2 (한국지리)

사회탐구 영역

6. 그래프는 지도에 표시된 네 지역과 강릉 간의 (가), (나) 계절별 강수량 차이를 나타낸 것이다. 이에 대한 설명으로 옳은 것은? (단, (가), (나)는 각각 겨울(12~2월), 여름(6~8월) 중 하나임.)



- ① C는 강릉보다 최한월 평균 기온이 낮다.
- ② A는 B보다 무상 일수가 많다.
- ③ D는 C보다 연 강수량이 많다.
- ④ A와 D의 위도 차이는 B와 C의 위도 차이보다 크다.
- ⑤ A~D 중 여름 강수 집중률이 가장 높은 곳은 A이다.

7. 다음 글은 지리적 표시 농산물에 대한 것이다. 이에 대한 설명으로 옳은 것만을 <보기>에서 고른 것은? (단, (가)~(다)는 각각 고창, 괴산, 창녕 중 하나임.)

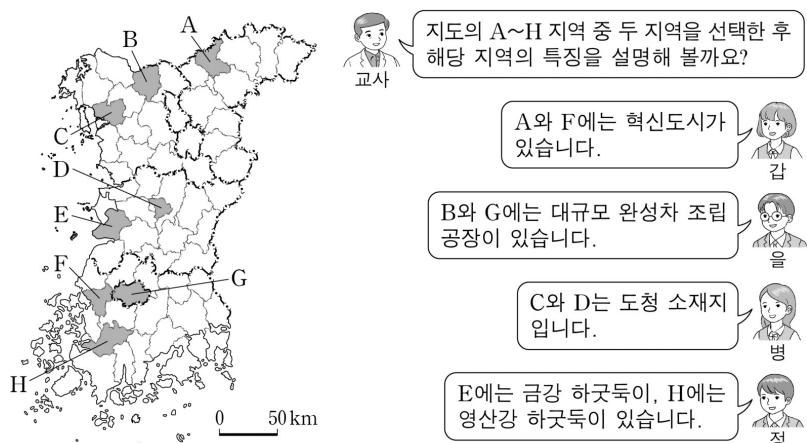
지리적 표시제는 농산물의 특징이 생산 지역의 지리적 특성에 기인하는 경우 그 지역의 특산물임을 표시하는 제도이다. 예를 들어, 소백산맥이 지나가는 (가)은 기후와 토양이 ① 옥수수 재배에 유리해 전국에서 옥수수 재배 면적이 가장 넓다. 서해안에 위치한 (나)은 해풍을 맞고 자란 색이 진하고 당도가 높은 복분자와 이를 활용한 특산품이 유명하다. 대구광역시와 접하는 (다)은 낙동강 유역 평야 지대로 유기질 성분이 풍부한 토양에서 양파를 재배한다. 이들 지역의 찰옥수수, 복분자, 양파는 각각 지리적 표시 농산물로 등록되어 있다.

<보 기>

- ㄱ. (가)는 경지 면적 중 밭이 논보다 넓다.
- ㄴ. (나)는 (가)보다 맥류 생산량이 많다.
- ㄷ. (나)는 전북, (다)는 경북에 위치한다.
- ㄹ. ①은 식량 작물 중 국내 자급률이 가장 높다.

- ① ㄱ, ㄴ ② ㄱ, ㄷ ③ ㄴ, ㄷ ④ ㄴ, ㄹ ⑤ ㄷ, ㄹ

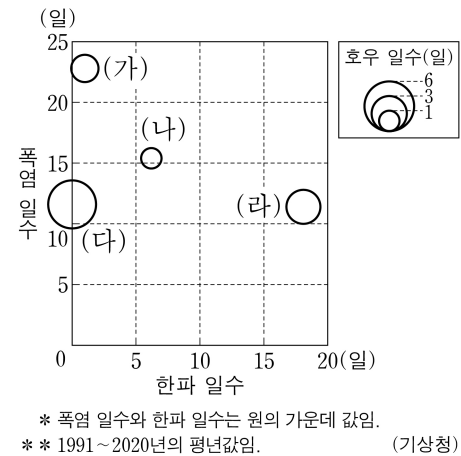
8. 다음은 한국지리 수업 장면의 일부이다. 교사의 질문에 옳게 답한 학생만을 있는 대로 고른 것은? [3점]



- ① 갑, 을 ② 갑, 정 ③ 을, 병
- ④ 갑, 병, 정 ⑤ 을, 병, 정

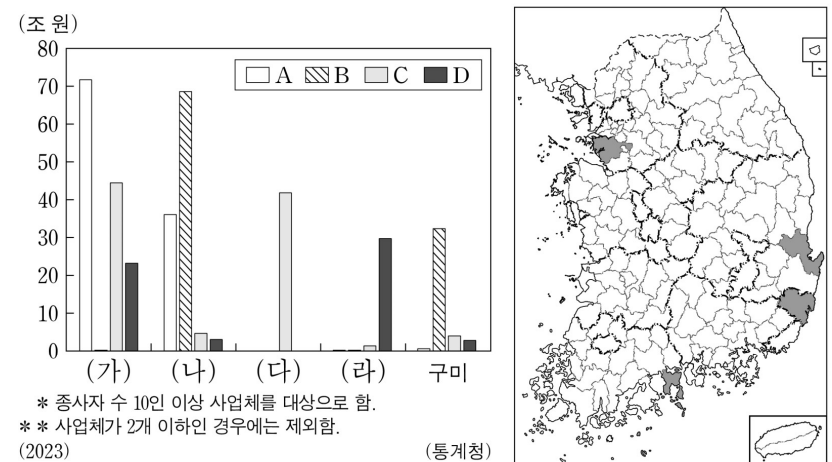
9. 다음 자료의 (가)~(라)에 해당하는 지역으로 옳은 것은? [3점]

최근 극한 기후 현상에 대한 관심이 높아지고 있다. 기상청은 극한 기후의 현황을 파악하기 위해 다양한 지표를 활용하고 있다. 대표적으로 폭염 일수(일 최고 기온이 33℃ 이상인 날의 연중 일수), 한파 일수(일 최저 기온이 -12℃ 이하인 날의 연중 일수), 호우 일수(일 강수량이 80 mm 이상인 날의 연중 일수) 등이 있다.



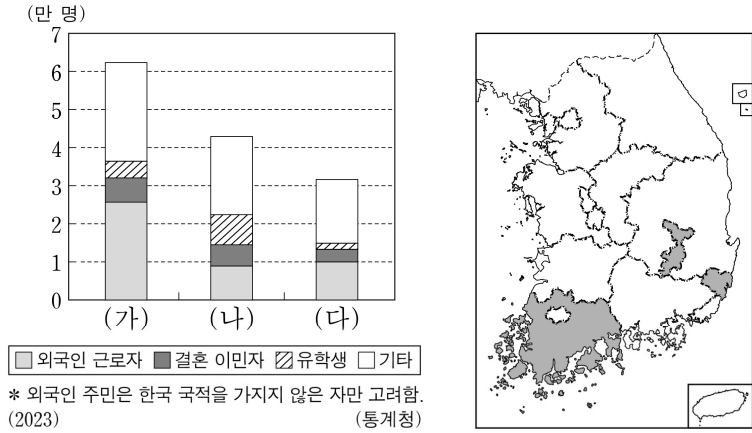
- | | (가) | (나) | (다) | (라) |
|---|-----|-----|-----|-----|
| ① | 남해 | 안동 | 밀양 | 춘천 |
| ② | 남해 | 춘천 | 밀양 | 안동 |
| ③ | 밀양 | 안동 | 남해 | 춘천 |
| ④ | 밀양 | 춘천 | 남해 | 안동 |
| ⑤ | 안동 | 남해 | 밀양 | 춘천 |

10. 그래프는 지도에 표시된 네 지역과 구미의 A~D 제조업 업종별 출하액을 나타낸 것이다. 이에 대한 설명으로 옳은 것은? (단, A~D는 각각 1차 금속, 자동차 및 트레일러, 전자 부품·컴퓨터·영상·음향 및 통신 장비, 화학 물질 및 화학 제품(의약품 제외) 제조업 중 하나임.) [3점]



- ① (다)는 구미보다 제조업 종사자 수가 많다.
- ② (가)는 (나)보다 제조업 사업체당 출하액이 많다.
- ③ (다)는 (라)보다 1차 금속 제조업 사업체 수가 많다.
- ④ 업종별 출하액에서 수도권이 차지하는 비율은 A가 B보다 높다.
- ⑤ C는 D에서 생산된 최종 제품을 주요 재료로 이용한다.

11. 그래프는 지도에 표시된 세 지역의 유형별 외국인 주민 수를 나타낸 것이다. 이에 대한 설명으로 옳은 것은? [3점]



- ① (나)는 (다)보다 외국인 주민의 성비가 높다.
- ② (다)는 (가)보다 노령화 지수가 높다.
- ③ 울산은 대구보다 결혼 이민자 수가 많다.
- ④ 전남은 울산보다 외국인 근로자 수가 많다.
- ⑤ 전남은 대구보다 지역 내 외국인 주민 중 유학생 비율이 높다.

12. 다음 글의 (가)~(다) 지역에 대한 설명으로 옳은 것만을 <보기>에서 고른 것은? (단, (가)~(다)는 각각 강원, 경북, 전남 중 하나이고, A~C는 각각 수력, 풍력, 태양광 중 하나임.) [3점]

신·재생 에너지 중 A~C의 2023년 발전량을 에너지원별로 보면, [A]가 가장 많고, [B], [C] 순으로 많다. A~C 중 [B]는 우리나라에서 상용화된 시기가 가장 이르다.

2023년 세 에너지원의 발전량을 지역별로 보면, [(가)]은 [(나)], [(다)]보다 [B] 발전량이 많고, [(나)]은 [(다)]보다 [A] 발전량이 많다.

* 수력은 양수식을 제외함.

<보 기>

- ㄱ. (다)는 A가 B보다 발전량이 많다.
- ㄴ. (가)는 (나)보다 C의 발전량이 많다.
- ㄷ. (가)는 (다)보다 1차 에너지 공급량이 많다.
- ㄹ. (나)는 (다)보다 원자력 발전량이 많다.

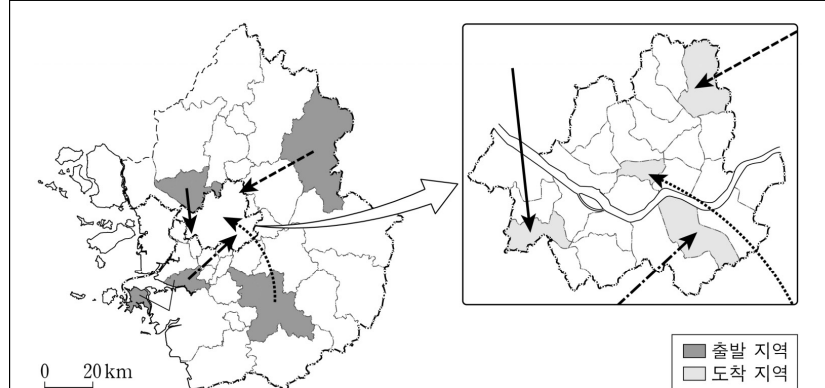
- ① ㄱ, ㄴ ② ㄱ, ㄷ ③ ㄴ, ㄷ ④ ㄴ, ㄹ ⑤ ㄷ, ㄹ

13. 다음 자료의 ㉠~㉣에 대한 설명으로 옳지 않은 것은?



- ① ㉠은 용암이 식는 과정에서 수축되어 형성된다.
- ② ㉡의 기반암은 시멘트 공업의 주원료이다.
- ③ ㉢에서는 대부분 중유석과 석순이 나타난다.
- ④ ㉣은 화구의 함몰로 형성된 칼데라이다.
- ⑤ ㉤은 ㉢보다 형성 시기가 이르다.

14. 다음 자료에 대한 설명으로 옳은 것은? (단, (가)~(라)는 각각 지도에 표시된 네 통근·통학 경로 중 하나로, 출발 지역은 경기도의 시·군, 도착 지역은 서울의 구에 해당함.) [3점]



- (가)~(라) 출발 지역 중 서울 전체로의 통근·통학 비율이 가장 높은 지역은 (가)의 출발 지역이다.
- (가)~(라) 도착 지역 중 타 시·군·구에서 통근·통학 유입 인구가 가장 많은 지역은 (나)의 도착 지역이다.
- (가), (나), (다)는 모두 출발 지역보다 도착 지역의 주간 인구 지수가 높다.

* 2020년 기준임.

- ① (라)의 출발 지역에는 수도권 1기 신도시가 위치한다.
- ② (가)의 도착 지역은 (나)의 출발 지역보다 국가에서 산업 단지 조성을 시작한 시기가 늦다.
- ③ (나)의 도착 지역은 (라)의 도착 지역보다 상주인구가 많다.
- ④ (다)의 출발 지역은 (가)의 출발 지역보다 지역 내 주택 유형에서 아파트 비율이 높다.
- ⑤ (가), (라)의 도착 지역은 한강 이남, (나), (다)의 도착 지역은 한강 이북에 위치한다.

15. 다음 자료는 지형 답사를 위한 계획서의 일부이다. 이에 대한 설명으로 옳은 것만을 <보기>에서 고른 것은?

• 답사 지역: 강원특별자치도 삼척시	
답사 장소	활동 내용
(가)	하천 직강 공사 이후 조성된 시가지에서 1910년대 하천 유로의 위치를 찾는다.
(나)	계단 모양의 지형에 올라 ㉠ 붉은색 토양이 분포하는 와지를 촬영한다.
(다)	퇴적층에 분포하는 등근 자갈을 관찰하고, 퇴적 과정을 추론한다.

<보 기>

- ㄱ. (나)의 농경지는 주로 논으로 이용된다.
- ㄴ. (다)는 구하도이다.
- ㄷ. (나)는 (가)보다 홍수 시 침수 가능성이 크다.
- ㄹ. ㉠은 기반암의 용식으로 형성된 지형이다.

- ① ㄱ, ㄴ ② ㄱ, ㄷ ③ ㄴ, ㄷ ④ ㄴ, ㄹ ⑤ ㄷ, ㄹ

4 (한국지리)

사회탐구 영역

16. 다음은 한국지리 온라인 수업 장면의 일부이다. 답글의 내용이 옳은 학생을 고른 것은? (단, (가)~(다)는 각각 농림어업, 사업 서비스업, 제조업 중 하나임.) [3점]

한국지리 온라인 수업

다음은 지역 내 총생산에서 (가)~(다)의 생산액 상위 4개 시·도를 순서대로 나타낸 것입니다. 이에 대해 답글을 달아 볼까요?

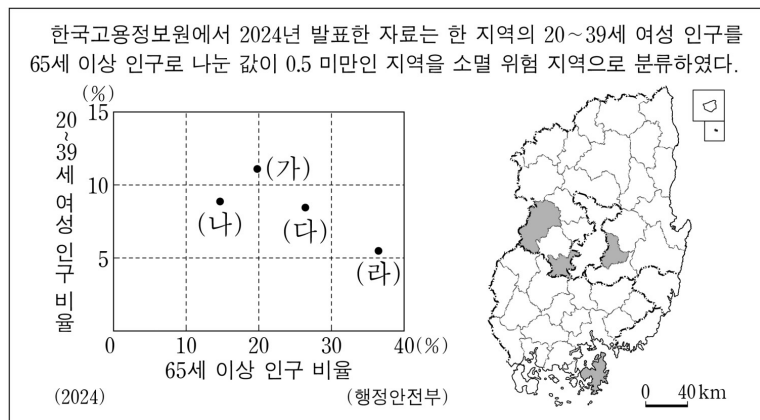
(가) 생산액 상위 4개 시·도: 경기 > 충남 > 울산 > 경남
(나) 생산액 상위 4개 시·도: 경북 > 전남 > 충남 > 경남
(다) 생산액 상위 4개 시·도: 서울 > 경기 > 부산 > 대전

* 사업 서비스업은 전문, 과학 및 기술 서비스업과 사업시설 관리, 사업 지원 및 임대 서비스업을 말함.
** 2023년 기준임.

갑: 경기는 (다)가 (가)보다 생산액이 많아요.
을: 사업체의 수도권 집중도는 (가)가 (다)보다 높아요.
병: 1960년대 산업별 취업자 수는 (가)가 (나)보다 많아요.
정: 국내 총생산에서 차지하는 비율은 (나)가 (다)보다 높아요.
무: 2000년 생산액 대비 2023년 생산액의 증감율은 (다)가 (가)보다 높아요.

- ① 갑 ② 을 ③ 병 ④ 정 ⑤ 무

17. 다음 자료의 (가)~(라) 지역에 대한 설명으로 옳은 것은? (단, (가)~(라)는 각각 지도에 표시된 네 지역 중 하나임.) [3점]



- ① (가)는 (다)보다 총인구가 많다.
② (나)는 (라)보다 총부양비가 높다.
③ (다)는 (나)보다 지역 내 총생산이 많다.
④ (다)와 (라)는 군(郡)이다.
⑤ (가)~(라)는 모두 소멸 위험 지역으로 분류된다.

18. 다음 글의 ㉠~㉣에 대한 설명으로 옳은 것만을 <보기>에서 있는 대로 고른 것은?

우리나라는 국토 개발 과정에서 ㉠ 수도권과 비수도권 간의 공간 불평등이 심화되었다. 수도권은 국토 면적의 약 12%를 차지하지만, 인구와 경제력은 절반 이상이 수도권에 집중되어 있다. 이러한 상황에서 비수도권 지역에서는 초광역권 형성을 통해 발전을 모색하고 있다. 대표적으로 ㉡ 충청권에서는 ‘충청광역연합’이 출범하였고, ㉢ 호남권에서는 ‘광주·전남 특별광역연합’이 추진되고 있다.

<보 기>

- ㄱ. ㉠은 수도권으로의 역류 효과가 컸기 때문이다.
ㄴ. ㉡은 ㉢보다 최근 10년간 인구 순 이동자 수가 많다.
ㄷ. ㉢은 ㉡보다 권역 내 인구 1위 도시와 3위 도시 간 인구 차이가 크다.

- ① ㄱ ② ㄷ ③ ㄱ, ㄴ ④ ㄴ, ㄷ ⑤ ㄱ, ㄴ, ㄷ

19. 다음 자료의 (가)~(라)와 A 지역에 대한 설명으로 옳은 것은? (단, (가)~(라)와 A는 각각 지도에 표시된 다섯 지역 중 하나임.)

※ (가)~(라) 지역을 지도에서 모두 선택하고 남은 지역 A를 쓰시오.

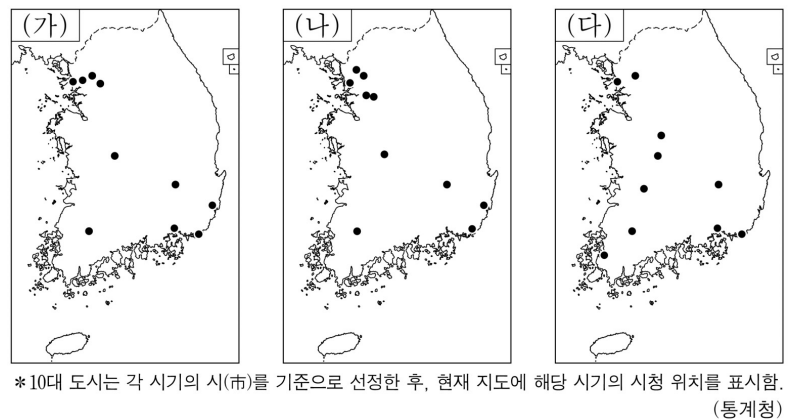
(가)	북한강과 남한강이 합류하는 곳이 있으며, 이 지역에서 합류한 물은 팔당호로 흘러 수도권의 상수원으로 이용된다.
(나)	고속 철도가 개통되면서 접근성이 향상되었고, 2018년 동계 올림픽 개최식이 열린 곳이다.
(다)	혁신도시와 기업도시가 있으며, 의료 기기 산업 클러스터가 조성되어 있다.
(라)	도자기 축제를 개최하며, 지리적 표시 농산물로 등록된 쌀이 유명하다.

0 25km

모두 옳게 선택한 경우, 남은 지역은 A이다.

- ① A에는 영동 지방과 영서 지방을 구분하는 대관령이 위치한다.
② A와 (가)는 모두 홍천군의 경계와 맞닿아 있다.
③ A는 (나)보다 고랭지 배추 재배 면적이 넓다.
④ A는 (다)보다 인구 밀도가 높다.
⑤ A와 (라)는 행정 구역상 같은 도(道)에 속한다.

20. 지도는 세 시기의 인구 규모에 따른 10대 도시를 나타낸 것이다. 이에 대한 설명으로 옳은 것은? (단, (가)~(다)는 각각 1960년, 1985년, 2024년 중 하나임.) [3점]



- ① (가)는 2024년, (나)는 1985년이다.
② 1960년 10대 도시에 포함된 도시 수는 호남권이 충청권보다 많다.
③ 1985년과 2024년의 인구 규모 상위 1~3위에 포함된 도시는 같다.
④ 1985년 대비 2024년 10대 도시 중 영남권에 위치한 도시 수는 증가하였다.
⑤ 1960년 대비 2024년 10대 도시에 새롭게 포함된 도시는 모두 수도권에 위치한다.

* 확인 사항

- 답안지의 해당란에 필요한 내용을 정확히 기입(표기)했는지 확인 하시오.

2026학년도 대학수학능력시험

사회탐구 영역 정답표
(한국지리) 과목

문항 번호	정 답	배 점	문항 번호	정 답	배 점	문항 번호	정 답	배 점	문항 번호	정 답	배 점
1	④	2	6	②	2	11	④	3	16	⑤	3
2	⑤	2	7	①	2	12	①	3	17	①	3
3	④	2	8	③	3	13	②	2	18	⑤	2
4	⑤	3	9	③	3	14	③	3	19	②	2
5	③	2	10	②	3	15	④	2	20	②	3

제 4 교시

사회탐구 영역(세계지리)

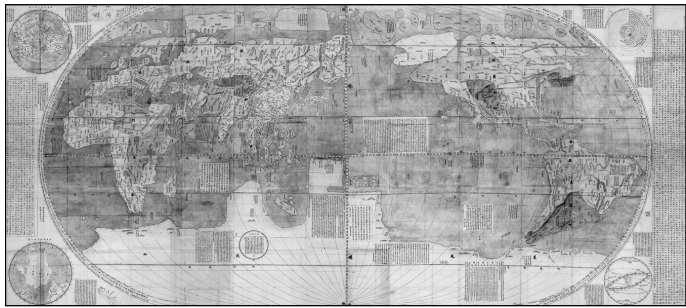
성명

수험 번호

제 [] 선택

1. (가)~(다) 지도에 대한 설명으로 옳은 것은? (단, (가)~(다)는 각각 곤여만국전도, 알 이드리시 세계 지도, 혼일강리역대국도지도 중 하나임.) [3점]

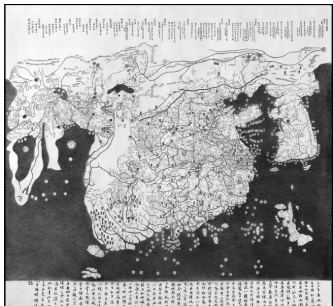
(가)



(나)



(다)



- ① (나)는 지도의 위쪽이 동쪽이다.
- ② (가)와 (다)는 모두 서양에서 최초로 제작되었다.
- ③ (나)와 (다)에는 모두 경위선이 표현되어 있다.
- ④ (다)는 (나)보다 최초 제작 시기가 이른다.
- ⑤ (가)~(다)에는 모두 아프리카 대륙이 표현되어 있다.

2. 다음은 세계지리 수업 장면의 일부이다. 교사의 질문에 옳게 답한 학생만을 있는 대로 고른 것은?

세계 여러 도시에서 지구 환경 보호를 위해 다양한 국제 환경 협약이 이루어졌어요. 협약이 이루어진 (가)~(라) 도시의 특징에 대해 이야기해 볼까요?

국제 환경 협약의 주요 내용

환경 협약	연도	주요 내용
(가)협약	1972	폐기물의 해양 투기로 인한 해양 오염을 방지
(나)협약	1979	산성비 문제 해결을 위해 국경을 넘어 이동하는 대기 오염 물질을 통제
(다)의정서	1987	오존층 파괴 물질(CFCs, 할론 등)의 생산 및 사용을 규제
(라)협정	2015	선진국과 개발 도상국 모두 온실가스 감축 의무 이행을 포함한 포괄적 대응에 동참하도록 규정

갑

(가)는 세계에서 산업 혁명이 가장 먼저 시작된 나라의 수도입니다.

을

(나)는 시스타 사이언스 시티가 입지한 나라의 수도입니다.

병

(다)는 멕시코, 미국과 북미 자유 무역 협정(NAFTA)을 체결했던 나라의 수도입니다.

정

(라)는 대서양과 지중 해에 모두 접하는 나라의 수도입니다.


- ① 갑, 정
- ② 을, 병
- ③ 병, 정
- ④ 갑, 을, 병
- ⑤ 갑, 을, 정

3. 다음 자료에 대한 설명으로 옳지 않은 것은?




(가) 할롱 베이

바다에 ⑦ 탑 모양으로 우뚝 솟은 봉우리들이 있고, 그 일부에는 ㉠ 종유석 등이 있는 동굴이 발달해 있다. ‘할롱(Ha Long)’은 ‘용이 내려온 자리’라는 뜻으로 하늘에서 용이 내려와 보석을 내뿜어 섬이 되었다는 전설이 있다.



(나) 그랑 칭기

뾰족한 돌기둥들이 숲처럼 펼쳐진 경관은 ㉡ 이 지역의 기반암이 용식을 거치며 단단한 부분만 남아 형성되었다. ‘칭기(Tsingy)’는 ‘맨발로 걸을 수 없는 곳’을 의미한다.



(다) 파묵칼레

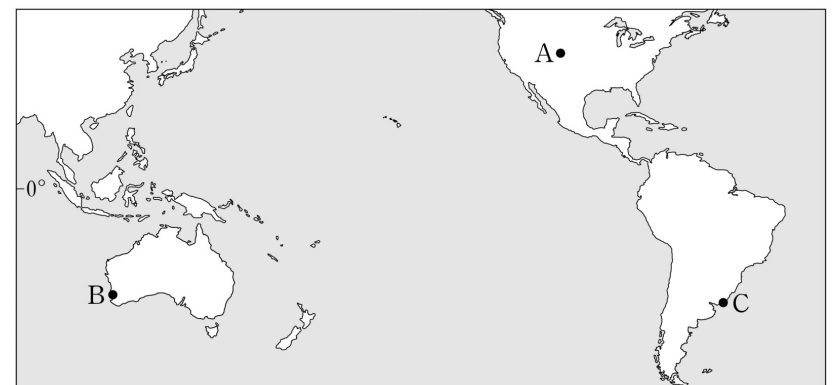
㉢ 계단 모양 지형과 하늘색 온천수가 빛어내는 아름다운 풍경으로 유명하다. ‘파묵칼레(Pamukkale)’는 ‘목화의 성’이라는 뜻으로 층층이 쌓인 하얀색의 지형과 잘 어울리는 지명이다.

- ① ⑦은 기반암이 차별적인 침식과 용식을 받아 형성되었다.
- ② ㉡은 용암의 반복적인 분출로 형성되었다.
- ③ ㉠과 ㉡의 주성분은 탄산 칼슘이다.
- ④ (나)에서는 카렌을 볼 수 있다.
- ⑤ (가)와 (다)는 북반구에 위치한다.

4. 표의 (가)~(다)에 해당하는 지역을 지도의 A~C에서 고른 것은? (단, ㉦, ㉧ 시기는 각각 1월, 7월 중 하나임.)

지역	㉦ 시기 강수량 차이(mm)	㉧ 시기 강수량 차이(mm)
(가)	-33.7	33.5
(나)	71.0	8.1
(다)	-37.4	-41.7

* 강수량 차이 = 각 지역 강수량 - (세 지역 강수량의 합 ÷ 3)

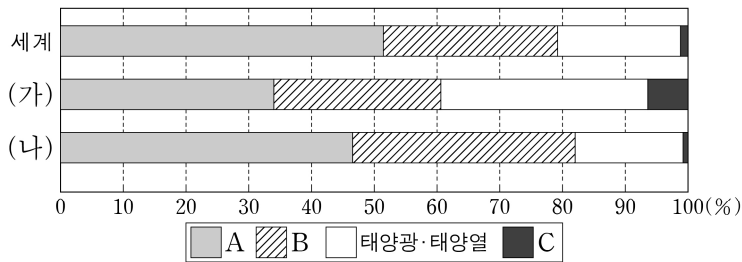


- | | | | | | | | |
|---|-----|-----|-----|---|-----|-----|-----|
| | (가) | (나) | (다) | | (가) | (나) | (다) |
| ① | A | C | B | ② | B | A | C |
| ③ | B | C | A | ④ | C | A | B |
| ⑤ | C | B | A | | | | |

2 (세계지리)

사회탐구 영역

5. 그래프는 세계 및 (가), (나) 지역(대륙)의 신·재생 에너지 발전량 비율을 나타낸 것이다. 이에 대한 설명으로 옳은 것은? (단, (가), (나)는 각각 오세아니아, 유럽 중 하나이며, A~C는 각각 수력, 지열, 풍력 중 하나임.)



* 수력, 지열, 태양광·태양열, 풍력의 발전량 합을 100%로 하여 나타냄.

(2023)

- ① (가)는 유럽이다.
 ② A 발전량은 캐나다가 중국보다 많다.
 ③ B 발전량은 독일이 프랑스보다 많다.
 ④ 노르웨이는 B 발전량이 A 발전량보다 많다.
 ⑤ C 발전량이 세계에서 가장 많은 국가는 (가)에 위치한다.
6. 다음 글은 (가)~(다) 국가에 대한 것이다. 이에 대한 설명으로 옳은 것만을 <보기>에서 있는 대로 고른 것은? [3점]

- (가)에는 이라와디강이 흐른다. 이라와디강 하류에 위치한 양곤은 과거부터 오랜 기간 수도였고, 수도를 네피도로 이전한 현재도 인구가 가장 많은 도시로 경제, 문화의 중심지이다.
- (나)에는 짜오프라야강이 흐른다. 짜오프라야강 하류에 위치한 방콕은 이 나라의 수도로 인구가 가장 많은 도시이다. 방콕을 비롯한 전국 각지에서 매년 우기가 시작될 무렵 전통 축제인 ‘송끄란’이 열린다.
- (다)의 남부에는 티베트고원에서 발원한 하천인 ㉠이 흐른다. 이 강 하구 북동쪽에 위치한 호찌민은 수도인 하노이보다 인구가 많은 도시이며, 식민 지배의 영향으로 프랑스풍 건축물을 볼 수 있다.

<보 기>

- ㄱ. ㉠은 메콩강이다.
 ㄴ. (가)에서는 로힝야족에 대한 차별과 억압이 이루어졌다.
 ㄷ. (가)~(다)는 모두 라오스와 국경을 접하고 있다.

- ① ㄴ ② ㄷ ③ ㄱ, ㄴ ④ ㄱ, ㄷ ⑤ ㄱ, ㄴ, ㄷ

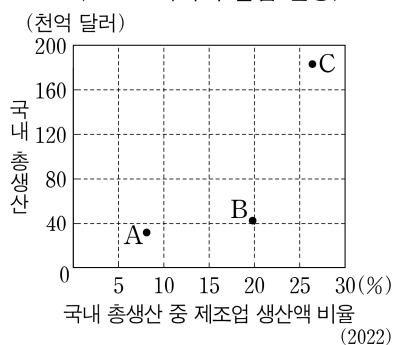
7. 다음 자료에 대한 설명으로 옳은 것은? (단, (가)~(다) 국가는 각각 A~C 중 하나임.)

<오스트레일리아의 무역 상대국>

순위	1950년		2020년	
	수출액	수입액	수출액	수입액
1	(가)	(가)	(나)	(나)
2	미국	미국	(다)	미국
3	프랑스	인도	대한민국	(다)

* 오스트레일리아의 수출액과 수입액 상위 3개국만을 나타냄.

<A~C 국가의 산업 현황>



- ① (가)의 원주민은 마오리족이 대표적이다.
 ② C는 오스트레일리아보다 2022년 기준 총수출액에서 광물 및 에너지 자원이 차지하는 비율이 높다.
 ③ B와 C는 모두 유럽 연합(EU) 회원국이다.
 ④ 인구는 B>C>A 순으로 많다.
 ⑤ (가)는 A, (나)는 C, (다)는 B이다.

8. 다음은 (가), (나) 지역을 소개하는 다큐멘터리 대본의 일부이다. 이에 대한 설명으로 옳은 것만을 <보기>에서 고른 것은? [3점]

(가) 지역

그린란드의 대표적인 도시인 누크는 ㉠ 피오르가 발달한 남서부 해안에 위치해 있습니다. 이 지역은 ㉡ 툰드라 기후 지역에 속하여 여름에는 솔리플렉션 현상이 나타나기도 합니다.

(나) 지역

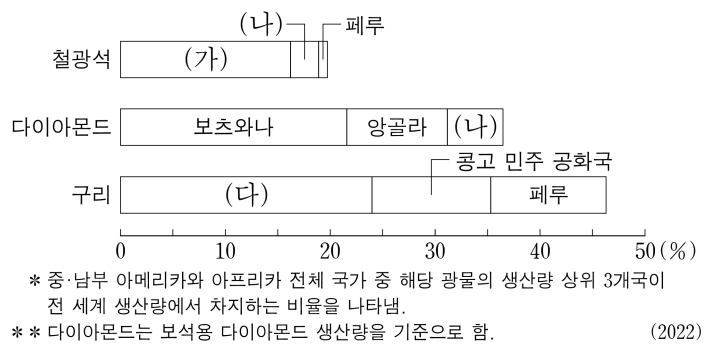
중국 북서부 타림(타리무) 분지에 발달한 이 사막은 텐산산맥, 쿤룬산맥, 파미르고원 등 높은 산지로 둘러싸여 있습니다. 이 지역에서는 ㉢ 바르한, ㉣ 바하다 등을 볼 수 있습니다.

<보 기>

- ㄱ. ㉠은 후빙기 해수면 상승으로 빙식곡이 침수되어 형성되었다.
 ㄴ. ㉡에서는 토양층의 융해에 대비한 고상 가옥을 볼 수 있다.
 ㄷ. ㉢은 주로 유수에 의해, ㉣은 주로 바람에 의해 형성되었다.
 ㄹ. (가), (나) 모두 최난일 평균 기온이 0℃ 미만이다.

- ① ㄱ, ㄴ ② ㄱ, ㄷ ③ ㄴ, ㄷ ④ ㄴ, ㄹ ⑤ ㄷ, ㄹ

9. 그래프는 광물별 중·남부 아메리카와 아프리카의 주요 생산국을 나타낸 것이다. (가)~(다) 국가에 대한 설명으로 옳은 것만을 <보기>에서 고른 것은? (단, (가)~(다)는 각각 남아프리카 공화국, 브라질, 칠레 중 하나임.)



* 중·남부 아메리카와 아프리카 전체 국가 중 해당 광물의 생산량 상위 3개국이 전 세계 생산량에서 차지하는 비율을 나타냄.

** 다이아몬드는 보석용 다이아몬드 생산량을 기준으로 함.

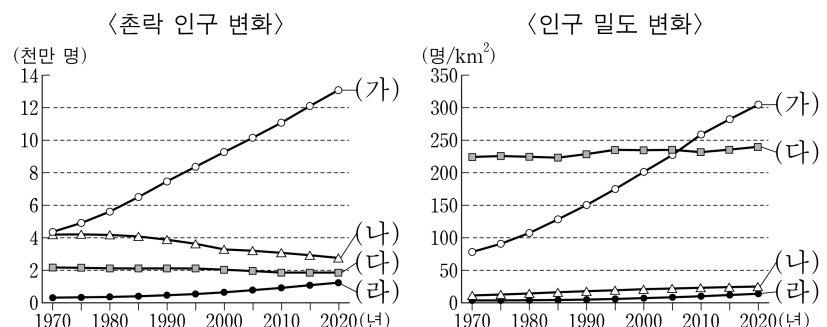
(2022)

<보 기>

- ㄱ. (가)는 인종 차별 정책인 ‘아파트헤이트’를 시행했었다.
 ㄴ. (다)에는 추키카마타 광산이 있다.
 ㄷ. (다)는 (나)보다 석탄 생산량이 많다.
 ㄹ. (가)와 (다)는 같은 지역(대륙)에 위치한다.

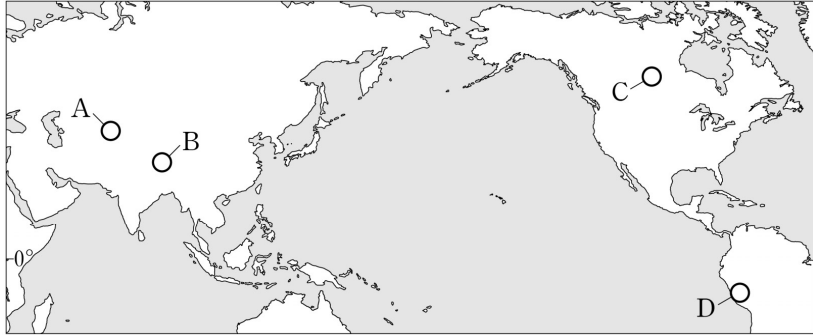
- ① ㄱ, ㄴ ② ㄱ, ㄷ ③ ㄴ, ㄷ ④ ㄴ, ㄹ ⑤ ㄷ, ㄹ

10. 그래프의 (가)~(라) 국가에 대한 설명으로 옳은 것은? (단, (가)~(라)는 각각 독일, 브라질, 차드, 파키스탄 중 하나임.) [3점]



- ① (나)는 1970년의 도시 인구가 2020년의 도시 인구보다 많다.
 ② (나)는 (가)보다 2020년의 도시 인구가 많다.
 ③ (나)는 (다)보다 2020년의 국가 내 노년층 인구 비율이 높다.
 ④ (다)는 (라)보다 2020년의 합계 출산율이 높다.
 ⑤ (가)는 아프리카, (라)는 아메리카에 위치한다.

11. 지도의 A~D 지역에 대한 설명으로 옳은 것만을 <보기>에서 있는 대로 고른 것은? [3점]



<보 기>

- ㄱ. A에서는 이동식 전통 가옥인 유르트를 볼 수 있다.
 ㄴ. B에는 영구 동토층이 분포한다.
 ㄷ. C에는 타이가 지대가 나타난다.
 ㄹ. D에는 카나트라 불리는 전통적인 지하 관개 수로가 있다.

- ① ㄱ, ㄷ ② ㄴ, ㄹ ③ ㄷ, ㄹ
 ④ ㄱ, ㄴ, ㄷ ⑤ ㄱ, ㄴ, ㄹ

12. 다음 글은 곡물의 지역(대륙)별 생산과 국제적 이동에 관한 것이다. 이에 대한 설명으로 옳은 것은? (단, A~D는 각각 에스파냐, 인도, 중국, 프랑스 중 하나임.)

곡물의 생산량과 소비량은 지역(대륙)별, 국가별로 차이가 있으며, 이로 인해 곡물의 국제적 이동이 발생한다.
 2023년 기준 지역(대륙)별 전체 곡물 생산량은 (가)가 가장 많고 다음으로 아메리카, (나) 순이다. 이 중 (가)는 곡물 수입량이 수출량보다 많고, 아메리카와 (나)는 수출량이 수입량보다 많다.
 이 세 지역(대륙)의 대표적인 순 수출국으로는 (가)의 A, 아메리카의 미국, (나)의 B 등이 있으며, 순 수입국으로는 (가)의 C, 아메리카의 멕시코, (나)의 D 등이 있다.

- ① (가)는 (나)보다 1인당 곡물 생산량이 많다.
 ② (나)는 (가)보다 쌀 생산량이 많다.
 ③ A는 B보다 밀 생산량이 많다.
 ④ C는 A보다 소 사육 두수가 많다.
 ⑤ D는 B보다 밀 수출량이 많다.

13. 다음 자료에 대한 설명으로 옳은 것만을 <보기>에서 있는 대로 고른 것은? (단, (가)~(다)는 각각 지도에 표시된 세 국가 중 하나이고, A~C는 각각 불교, 이슬람교, 힌두교 중 하나임.) [3점]

<(가)~(다) 국가의 신자 수 1, 2위 종교>

국가	(가)	(나)	(다)
순위			
1위	A	B	C
2위	B	A	A



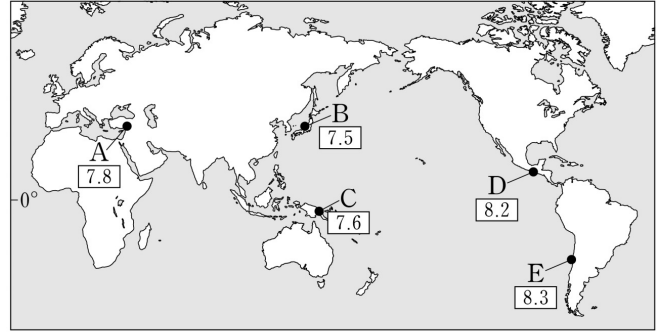
<보 기>

- ㄱ. B는 나이지리아 북부 지역 주민들이 주로 믿는 종교이다.
 ㄴ. C는 (다)의 신탈리즈족이 주로 믿는 종교이다.
 ㄷ. (가)~(다) 중 A 신자가 가장 많은 국가는 (가)이다.

- ① ㄱ ② ㄴ ③ ㄱ, ㄷ ④ ㄴ, ㄷ ⑤ ㄱ, ㄴ, ㄷ

14. 지도의 A~E에 대한 설명으로 옳은 것은? [3점]

<세계 주요 지진의 진앙지와 지진 규모>



* 2015~2024년 발생한 규모 7.0 이상의 지진 중 일부를 표시한 것임.

- ① A는 유라시아판과 태평양판의 경계에 위치한다.
 ② B에는 샌안드레아스 단층선이 지난다.
 ③ C는 '불의 고리'에 속한다.
 ④ D에는 아틀라스산맥이 지난다.
 ⑤ E는 두 해양 지각이 서로 갈라지는 경계에 위치한다.

15. 다음 자료는 미국 6개 도시의 도시 간 거리를 나타낸 것이다. (가)~(라) 도시에 대한 설명으로 옳은 것만을 <보기>에서 있는 대로 고른 것은? (단, (가)~(라)는 각각 로스앤젤레스, 샌프란시스코, 시카고, 휴스턴 중 하나임.) [3점]

(가)	(단위: km)				
559	(나)				
2,648	2,210	(다)			
2,992	2,809	1,514	(라)		
4,139	3,944	2,284	1,147	뉴욕	
4,344	4,179	2,584	1,369	307	보스턴

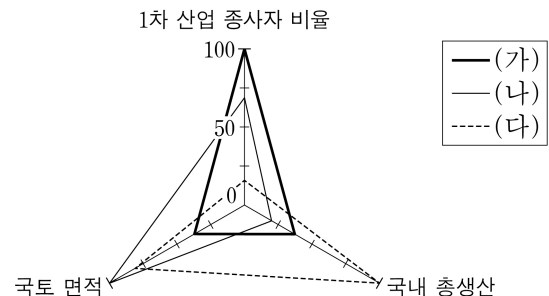
* 도시 간 거리는 두 도시 시청 간 최단 거리임.

<보 기>

- ㄱ. (가)에는 세계 영화 산업의 중심지인 할리우드가 있다.
 ㄴ. (다)는 선벨트 지역의 도시로 석유 화학 산업이 발달하였다.
 ㄷ. (라)는 오대호 연안 도시로 내륙 교통의 중심지이다.
 ㄹ. (다)는 (나)보다 고위도에 위치한다.

- ① ㄱ, ㄷ ② ㄴ, ㄷ ③ ㄷ, ㄹ
 ④ ㄱ, ㄴ, ㄷ ⑤ ㄱ, ㄴ, ㄹ

16. 그래프의 (가)~(다) 국가에 대한 설명으로 옳은 것은? (단, (가)~(다)는 각각 사우디아라비아, 이집트, 카자흐스탄 중 하나임.) [3점]



* 항목별 최댓값을 가진 국가의 값을 100으로 했을 때의 상대값임. (2022)

- ① (가)는 총수출액이 총수입액보다 많다.
 ② (나)는 홍해에 접해 있다.
 ③ (다)는 (가)보다 화석 에너지 자원의 생산량이 많다.
 ④ (나)는 아시아, (다)는 아프리카에 위치한다.
 ⑤ (가)~(다) 중 인구가 가장 많은 국가는 (나)이다.

4 (세계지리)

사회탐구 영역

17. 다음은 세계지리 수업 장면의 일부이다. 교사의 질문에 모두 옳게 답한 학생을 고른 것은? [3점]

(가)~(라)는 각각 볼리비아, 브라질, 아르헨티나, 콜롬비아 중 하나입니다. 다음 <조건>을 모두 만족하는 (가)~(라) 국가를 찾고, 질문에 답해 보세요.




〈 조 건 〉

- 조건1 - (가)~(라) 중 국토 면적이 넓은 상위 두 국가는 (다)와 (라)이다.
- 조건2 - (다)에서는 주로 포르투갈어를 사용한다.
- 조건3 - (나)의 수도는 (가)의 수도보다 고위도에 위치한다.

교사의 질문	학생				
	갑	을	병	정	무
(나)는 내륙국입니까?	예	예	예	아니요	아니요
(라)는 옥수수의 수출량이 수입량보다 많습니까?	예	아니요	예	예	아니요
(가)는 (다)보다 수위 도시의 해발 고도가 높습니까?	예	예	아니요	예	아니요

① 갑 ② 을 ③ 병 ④ 정 ⑤ 무

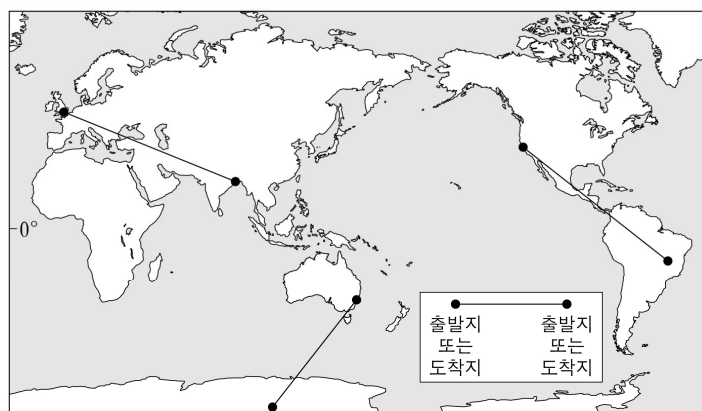
18. 다음은 (가)~(다) 국가에 대한 자료이다. 이에 대한 설명으로 옳은 것은?

(가)		지중해와 흑해에 접한 이 국가는 아시아와 유럽을 잇는 지리적 이점으로 일찍이 교역과 문화 교류의 요충지로 발전했다. 이 국가의 경제·문화 중심지이자 인구 최대 도시인 ㉠은/는 보스포루스 해협의 양안에 위치한다.
(나)		카스피해와 페르시아만에 모두 접한 국가로 일찍이 고대 문명이 발달했다. 인구 최대 도시인 테헤란은 자동차 및 전자 산업이 발달하였으며, 엘부르즈산맥 남쪽 기슭에 위치한다. 이 국가와 아라비아반도 사이에 위치한 호르무즈 해협은 에너지 자원의 주요 운송로로 이용된다.
(다)		화석 에너지 자원이 발견되면서 급속히 성장한 이 국가는 페르시아만에 위치한 반도국으로 육상으로는 남쪽의 사우디아라비아, 해상으로는 서쪽의 바레인과 접하고 있다. 인구 최대 도시인 ㉡은/는 금융, 물류의 중심지이자 각종 국제회의 및 스포츠 행사를 개최하고 있다.

- ① ㉡은 ㉠보다 인구가 많다.
 ② (나)는 수니파가 시아파보다 많다.
 ③ (다)의 수도는 아부다비이다.
 ④ (가)는 (다)보다 1인당 국내 총생산이 많다.
 ⑤ (다)는 (나)보다 천연가스 수출량이 많다.

19. 다음 자료에 대한 설명으로 옳은 것만을 <보기>에서 있는 대로 고른 것은? (단, (가)~(다)는 각각 지도에 표시된 세 경로 중 하나임.)

- 1월 평균 낮 길이는 (가)~(다) 모두 도착지가 출발지보다 짧다.
- 북반구 여름은 6~8월, 남반구 여름은 12~2월로 고려할 때, (나)는 도착지가 출발지보다 여름 강수량이 많고, (가)와 (다)는 모두 출발지가 도착지보다 여름 강수량이 많다.
- (가)의 출발지는 (다)의 출발지보다 1월 평균 정오의 태양 고도가 높다.



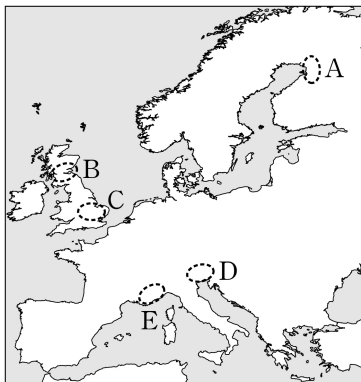
〈 보 기 〉

- ㄱ. (가)의 출발지는 7월보다 1월에 열대(적도) 수렴대의 영향을 많이 받는다.
 ㄴ. (나)의 출발지는 (다)의 출발지보다 기온의 연교차가 크다.
 ㄷ. (나)의 도착지는 (다)의 출발지보다 연 강수량이 많다.
 ㄹ. (다)의 도착지는 (가)의 도착지보다 7월 강수량이 많다.

- ① ㄱ, ㄴ ② ㄴ, ㄷ ③ ㄷ, ㄹ
 ④ ㄱ, ㄴ, ㄹ ⑤ ㄱ, ㄷ, ㄹ

20. 다음 글의 (가)를 포함하는 지역과 (나)를 포함하는 지역을 각각 지도의 A~E에서 고른 것은?

- (가)는 글래스고와 에든버러 일대의 첨단 산업 클러스터로 그 명칭에는 '전자 산업에 필요한 원료 물질'과 '계곡'이라는 뜻이 담겨있다. 이 지역은 산업화 초기에는 조선 및 제철 산업이 발달한 곳이었으나 전자 및 반도체 기업이 입주하면서 이와 같은 명칭을 얻게 되었다.
- (나)는 지중해 연안의 대표적인 휴양 도시인 칸, 니스와 가깝고, 대학과 다양한 연구 기관이 입지하여 우수한 전문 인력 확보에 유리한 이점을 지닌다. 이러한 환경을 바탕으로 산·학·연이 조화를 이루는 첨단 산업 클러스터로 발전하면서 여러 다국적 기업을 유치하였다.



- | | (가) | (나) |
|---|-----|-----|
| ① | A | D |
| ② | A | E |
| ③ | B | D |
| ④ | B | E |
| ⑤ | C | D |

* 확인 사항

- 답안지의 해당란에 필요한 내용을 정확히 기입(표기)했는지 확인 하시오.

2026학년도 대학수학능력시험

사회탐구 영역 정답표
(세계지리) 과목

문항 번호	정 답	배 점	문항 번호	정 답	배 점	문항 번호	정 답	배 점	문항 번호	정 답	배 점
1	⑤	3	6	⑤	3	11	④	3	16	③	3
2	①	2	7	⑤	2	12	③	2	17	①	3
3	②	2	8	①	3	13	⑤	3	18	⑤	2
4	③	2	9	④	2	14	③	3	19	④	2
5	③	2	10	②	3	15	②	3	20	④	2

제 4 교시

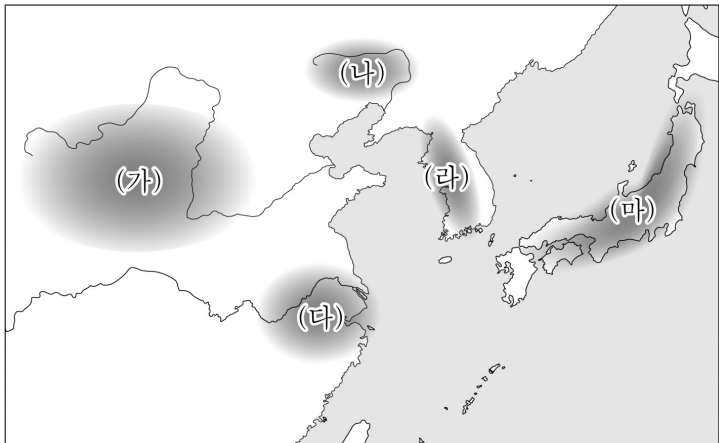
사회탐구 영역(동아시아사)

성명

수험 번호

제〔 〕선택

1. 밑줄 친 ‘이 지역’을 지도에서 옳게 고른 것은?



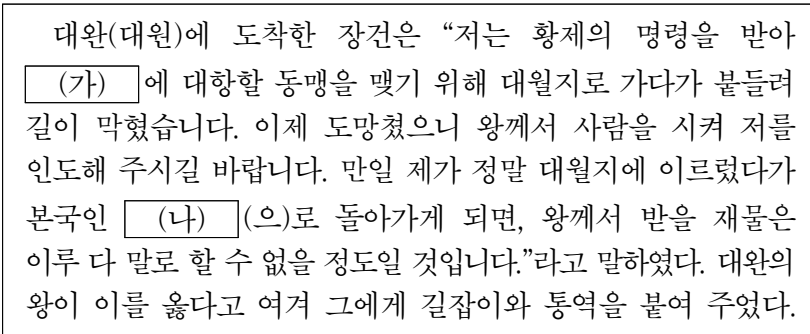
- ① (가) ② (나) ③ (다) ④ (라) ⑤ (마)

2. 밑줄 친 ‘이 국가’에 대한 설명으로 옳은 것은? [3점]



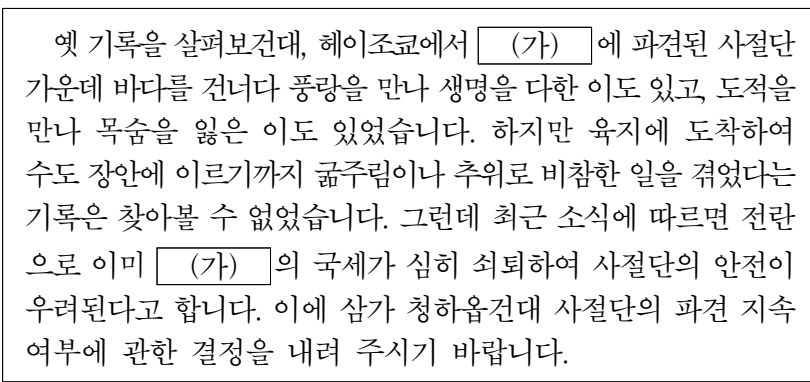
- ① 백제를 멸망시켰다.
② 제(齊)와 대립하였다.
③ 대도를 수도로 삼았다.
④ 다이카 개신을 단행하였다.
⑤ 남북조의 혼란을 수습하였다.

3. (가), (나) 국가에 대한 설명으로 옳은 것은?



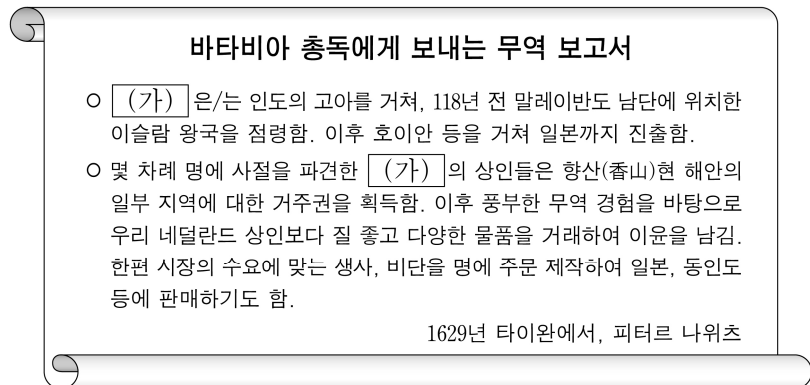
- ① (가) - 좌현왕과 우현왕을 두었다.
② (가) - 남비엣(남월)을 멸망시켰다.
③ (가) - 왜의 노국왕에게 금인을 주었다.
④ (나) - 과거제를 실시하였다.
⑤ (나) - 8조의 법을 제정하였다.

4. (가) 왕조에 대한 설명으로 옳은 것은?



- ① 북쪽 지방에 선우 도호부를 설치하였다.
② 재정 업무를 관장하는 대장성을 두었다.
③ 행성을 설치하고 다루가치를 파견하였다.
④ 농경민을 다스리는 남추밀원을 설립하였다.
⑤ 외교 사무 등을 담당하는 의부를 운영하였다.

5. (가) 국가에 대한 설명으로 옳은 것은? [3점]



- ① 매카트니 사절단을 파견하였다.
② 슈인장을 발급하여 무역을 통제하였다.
③ 정씨 세력의 근거지인 타이완을 점령하였다.
④ 마카오를 거점으로 중계 무역을 실시하였다.
⑤ 마닐라를 건설하고 갈레온 무역을 전개하였다.

2 (동아시아사)

사회탐구 영역

6. (가)~(다) 국가에 대한 설명으로 옳은 것은?

(가) 이/가 국경에서 소란을 일으키자 그 병화(兵禍)가 우리의 수도에까지 이르렀다. 짐이 생각하건대 우리 (나) 은/는 (다) 와/과 바다를 사이에 두고 떨어져 있지만, 은혜와 예의를 베풀었으니 어려울 때 함께 적과 싸워 줄 마음이 있어야 할 것이다. 그런데 너희 (다) 은/는 (가) 와/과 서로 가까이 마주 보면서도 오랑캐의 소굴을 소탕하여 우리에게 보답하지 않으니, 어찌하여 여러 대에 걸쳐 특별한 대우를 받았다고 생각하는가? (가) 사람들은 예전에 왕에게 신하로 복속하면서 바닷가 모퉁이에 모여 살던 보잘 것 없는 종족이었는데, 우리와 함께 거란(요)을 멸망시키더니 드디어 우리를 모욕하고 그 간사함과 횡포가 더욱 심해지고 있다.

- ① (가) - 별무반을 편성하였다.
- ② (가) - 누르하치가 건국하였다.
- ③ (나) - 서하와 전쟁을 벌였다.
- ④ (나) - 맹안·모극제를 운영하였다.
- ⑤ (다) - 5대 10국의 혼란을 수습하였다.

7. 밑줄 친 ‘이 전쟁’이 발생한 시기를 연표에서 옳게 고른 것은?

우리나라 도자기는 고금을 통틀어 세계에서 가장 우수하다고 할 수 있다. 도자기 만드는 기술이 발달되어 외국에까지 공적을 끼쳤으니, 이 전쟁 당시 포로가 되어 일본에 끌려간 조선인의 손에 의해 일본의 도자기업이 개량되고 발전하였다. 일본의 유명한 여러 도자기 가마가 팔산, 이삼평, 거관 등 우리 조선 도공들에 의해 만들어졌다. 그러므로 일본 도자기업의 역사를 논할 때 조선을 빼놓고 말할 수 없을 것이다.

- 『○○일보』 -

	(가)	(나)	(다)	(라)	(마)
삼포(3포) 왜란	나가시노 전투	센고쿠 시대 통일	에도 막부 수립	사르후 전투	정묘 호란

- ① (가) ② (나) ③ (다) ④ (라) ⑤ (마)

8. 밑줄 친 ‘황제’의 재위 시기 동아시아에서 있었던 사실로 옳은 것은? [3점]

국왕이 아뢰기를, “일개 섬 오랑캐가 지세가 험한 것을 믿고 입조(入朝)하지 않으며 감히 천자의 군대에 항거하고 있습니다. 신(臣)이 생각하건대 다시 배를 건조하고 양곡을 비축한 다음, 오랑캐의 죄상을 성토하고 함께 토벌에 나선다면 지난번과 달리 이번에는 반드시 성공할 것입니다.”라고 하였다. 황제가 말하기를, “왕은 개경으로 돌아가 재상들과 깊이 의논한 다음 사람을 보내서 아뢰도록 하라.”라고 하였다.

- ① 금이 멸망하였다.
- ② 남송이 정복되었다.
- ③ 천계령이 해제되었다.
- ④ 오닌의 난이 발생하였다.
- ⑤ 정화의 함대가 파견되었다.

9. (가) 막부 시기 동아시아에서 있었던 사실로 옳지 않은 것은? [3점]



이 자료는 가부키 배우를 낙서한 것처럼 그린 우키요에이다. 대기근으로 물가가 폭등하여 사회가 혼란스러워지자 (가) 은/는 사치를 조장한다는 이유로 가부키 공연을 제한하고, 유명 배우를 그린 우키요에 제작을 규제하였다. 이에 화가들은 낙서를 빙자해 배우를 익살스럽게 그려 단속을 피하였다.

- ① 한국 - 한글 소설이 유행하였다.
- ② 중국 - 홍루몽이 간행되었다.
- ③ 중국 - 대의각미록이 편찬되었다.
- ④ 일본 - 고사기전이 집필되었다.
- ⑤ 일본 - 입당구법순례행기가 저술되었다.

10. 밑줄 친 ‘이 도시’를 지도에서 옳게 고른 것은? [3점]



자료는 19세기 후반 이 도시의 모습입니다. 성안에는 과거 시험장, 순무부원, 장군아문, 해관이 보이고, 성 밖에는 ○○강에 인접한 외국 상관이 보입니다. 서양 상인을 감독하고 무역을 전담하는 상인 조합이 이 도시에서 활동하였으나, 전쟁 후에 폐지되었습니다. 이후 하단에 보이는 사면에 영국과 프랑스의 조계가 설치되었습니다.



- ① (가) ② (나) ③ (다) ④ (라) ⑤ (마)

11. (가), (나) 왕조 시기 동아시아에서 있었던 사실로 옳은 것은?

틈왕(閼王)이 이끄는 농민 반란군이 연경을 점령하니 (가) 이/가 멸망하였다. 이 소식이 전해지자 천하제일관을 지키던 요동총병 오장군을 비롯한 여러 한인 무장들이 변발을 하고 (나) 에 항복하였다. 이에 구왕(九王)은 투항한 무장들의 도움을 받아 연경으로 진격하여 농민군을 몰아냈다. 결국 (나) 의 황제가 연경을 새로운 수도로 삼았다.

- ① (가) - 삼번의 난이 일어났다.
- ② (가) - 이븐 바투타가 중국을 여행하였다.
- ③ (나) - 광해군이 폐위되었다.
- ④ (나) - 도요토미 히데요시가 사망하였다.
- ⑤ (나) - 홍타이지가 조선에 군신 관계를 요구하였다.

12. (가) 사상에 대한 설명으로 가장 적절한 것은?

자료로 보는 동아시아 사상

- 선생께서는 “내가 사람들에게 양지(良知)를 실천하여 격물(格物)하는 데 힘써 공부하라고 가르친 것은 근본이 있는 학문이다. 그런데 세상의 유학자들이 사람들에게 각각의 사물에서 탐구하도록 가르치고 있으니 이것은 오히려 근본이 없는 학문이다. 비유하자면 뿌리가 없는 나무를 물가에 옮겨 심으면 잠시 동안은 싱싱하고 좋을지라도 오래되면 마침내 시들시들해지는 것과 같다.” 라고 말하였다.
- 선생께서 말하기를 “알기만 하고 실천하지 않는다는 것은 아직 알지 못하는 것이다. 어찌 지(知)와 행(行)이 나누어질 수 있겠는가? 이것이 지와 행의 본체이고 사의(私意)에 의해 단절되지 않는 것이다.”라고 하였다.

- 『전습록』 -

[해설] 이 자료는 (가) 을/를 주창한 인물이 격물과 치지 및 지행에 대해 주장한 내용을 담고 있다. 그는 성즉리(性即理)설을 비판하면서 지와 행이 나누어지지 않고 일치해야 진정한 앎이라고 하는 등 실천을 강조하였다.

- ① 해체신서 간행을 계기로 확산하였다.
- ② 자비에 의한 중생의 구제를 중시하였다.
- ③ 약육강식과 적자생존의 원리를 제시하였다.
- ④ 마음이 곧 원리라는 심즉리를 강조하였다.
- ⑤ 고려 말 신진 사대부의 사상적 기반이 되었다.

13. (가)에 대한 설명으로 옳은 것은? [3점]

동아시아사 신문

동아시아에서 신흥 열강인 ○○와/과 □□의 충돌을 분석하다

전쟁이 경과하면서 유럽의 채무국이던 ○○이/가 일약 채권국이 되자 그 경제 세력은 천하를 능가하게 되었다. 그에 따라 동아시아에서 ○○와/과 □□이/가 충돌하게 되자, 이에 야심이 남보다 매우 큰 ○○은/는 문호 개방과 기회 균등을 요구하며 열강의 세력권 분배를 타파하려 하였다. 이러한 상황이 일어난 원인은 열강이 전쟁 중에 있어 □□이/가 동아시아 시장을 거의 독점하면서 중국으로 하여금 (가) 까지 조인하게 하였기 때문이다.

- ① 타이완이 일본에 할양되는 계기가 되었다.
- ② 닉슨의 대아시아 정책 발표에 영향을 받았다.
- ③ 주력함 보유 비율을 조정하여 군비 축소를 규정하였다.
- ④ 서양 열강들이 일본의 산둥반도 이권 승인을 명시하였다.
- ⑤ 일본이 다렌 등을 조차하는 기간을 연장하는 근거가 되었다.

14. 밑줄 친 ‘정부’가 실시한 정책으로 옳은 것만을 <보기>에서 고른 것은?

6월 중순까지 비가 내리지 않아 기우제가 열리는 가운데 매점 매석으로 쌀값이 폭등할 것이라는 소문이 퍼지면서 이를 계기로 정부에 항의하는 시위가 일어났다. 시위대의 규모는 수일 만에 10만여 명으로 불어났고, 이들은 징병제를 비롯한 근대화 정책의 폐지를 외치며 시내로 몰려가 상점, 청사 등을 공격하였다. 시위는 10여일 만에 군대에 의해 진압되었다. 시위가 이처럼 과격한 양상으로 전개된 배경에는 수개월 전에 도입된 태양력의 시행 등 서구를 모델로 삼은 정부의 여러 정책에 대한 불만이 자리 잡고 있었다.

<보 기>

- ㄱ. 교육입국 조서를 발표하였다.
- ㄴ. 흥정 헌법 대강을 반포하였다.
- ㄷ. 자유 민권 운동을 탄압하였다.
- ㄹ. 소학교 의무 교육을 실시하였다.

- ① ㄱ, ㄴ ② ㄱ, ㄷ ③ ㄴ, ㄷ ④ ㄴ, ㄹ ⑤ ㄷ, ㄹ

15. (가) 조약에 대한 설명으로 옳은 것은? [3점]

동아시아 답사 계획서

<근대 유산을 찾아서>

- 일시: ○○○○년 ○○월 ○○일
- 장소: 니가타 개항장 일대
- 목적: (가) 을/를 통해 개항장으로 지정된 항구 가운데 현재까지 개항 당시의 세관 청사가 보존되어 있는 니가타를 방문하여, 개항에 따른 경제 변화와 세관의 역할에 대해 알아본다.
- 주요 답사지: 구(舊) 니가타 세관 청사(현 니가타 역사 박물관)



<19세기 후반의 모습>



<현재 모습>

- ① 배상금 지급을 명기하였다.
- ② 영사 재판권을 인정하였다.
- ③ 조선이 자주국임을 명시하였다.
- ④ 외국 군대의 주둔을 허용하였다.
- ⑤ 페리 함대의 무력시위로 체결되었다.


16. (가) 사건이 전개된 시기에 있었던 사실로 옳은 것만을 <보기>에서 고른 것은? [3점]

소설 속 이 장면은 (가) 당시 마오쩌둥을 추종하며 활동했던 ○○병의 폭력적인 모습을 묘사하고 있어요. 이 소설은 대약진 운동의 실패로 악화된 마오쩌둥의 정치적 위상을 재정립하고, 주자파 등을 숙청하기 위해 추진된 (가) 을/를 배경으로 하고 있어요.

문학으로 읽는 중국의 격동기

세 명의 학생들이 키클거리며 두 아이를 밀쳐 내더니 그 가운데 장발의 쑤웨이가 송판핑에게 말했다. “우린 ○○병들인데 집을 몰수하러 왔다.” …(중략)… ○○병들은 송판핑네 집에서 오후 내내 부수고 슬쩍 하다가 더 이상 부술 것도 가져갈 것도 없자 휘파람을 불며 문을 나섰다. 그들의 주머니가 뱅뱅해진 뒤였다.

- 위화, 『형제』 -



<보 기>

- ㄱ. 베트남 공화국이 수립되었다.
- ㄴ. 중·일 공동 성명이 발표되었다.
- ㄷ. 일본과 타이완의 국교가 회복되었다.
- ㄹ. 10월 유신의 선포로 유신 체제가 성립되었다.

- ① ㄱ, ㄴ ② ㄱ, ㄷ ③ ㄴ, ㄷ ④ ㄴ, ㄹ ⑤ ㄷ, ㄹ

17. (가), (나)에 대한 설명으로 옳은 것은? [3점]

동아시아사 연구

[특집 기획] 전범 재판, 어떻게 이루어졌나?

연합국은 일본의 전쟁 책임을 묻기 위해 (가) 을/를 열어 도조 히데키 등을 기소하여 A급 전범으로 처벌하였다. 한편, B·C급 전범 재판은 아시아 곳곳에 설치된 전범 재판소에서 개별적으로 진행되었다. 이들 재판에서 일본에 의해 끌려가 포로 감시원 등으로 복무한 군속(軍屬)들도 전범으로 선고받았다. 이후 미국의 주도로 체결되면서 연합국과 일본 간 전쟁 상태의 공식적 종료를 명시한 (나) 의 제11조에서 “일본은 연합국 군사 재판의 판결을 존중하고 형을 집행한다.”라고 규정하였다. 이 조항은 B·C급 전범에게도 그대로 적용되었다.

- ① (가) - 국제 연합[UN]이 창설되는 계기가 되었다.
- ② (가) - 연합국 최고 사령부[SCAP/GHQ] 설치의 배경이 되었다.
- ③ (나) - 6·25 전쟁 중에 체결되었다.
- ④ (나) - 경찰 예비대 창설의 원인이 되었다.
- ⑤ (나) - 신헌법(평화 헌법) 제정에 영향을 끼쳤다.

18. (가), (나) 국가에 대한 설명으로 옳은 것만을 <보기>에서 있는 대로 고른 것은?

수신자: ○○○ 각하
발신자: 조소앙 외무부장

우리 임시 정부를 대신하여 각하게 위대한 승리를 진심으로 축하드립니다. 우리는 각하의 숭고한 지도력과 (가) 의 훌륭한 저항 정신에 대해 깊이 감탄하고 있습니다. 각하께서 잘 알고 계시듯이, 일전에 임시 대통령을 지내신 중산 선생께서 살아 계실 때 광둥에서 공산당과의 협력을 지원한 (가) 은/는 폭력배 국가들과 인접하고 있으니 인류 공동의 적을 무찌르기 위해서 다른 평화 애호국들과 협력해야만 합니다. 최근 폭력배 국가가 정박 중이던 (나) 함대를 갑작스럽게 공격하면서 위험천만한 사건을 일으키자, (나) 의 대통령께서 폭력배 국가를 적국으로 선포하였습니다. 이에 각하께서 평화 애호국들과 함께 전력을 다해 맞서 싸우신다면 폭력배 국가는 예상했던 것보다 더 빨리 무해해질 것입니다.

<보 기>

- ㄱ. (가) - 수도를 충청으로 옮겨 항일전을 전개하였다.
- ㄴ. (나) - 타이완 등을 방위선에 포함하지 않는 선언을 발표하였다.
- ㄷ. (가)와 (나) - 카이로 회담에 수뇌부가 연합국 대표로 참여하였다.

- ① ㄱ ② ㄴ ③ ㄱ, ㄷ ④ ㄴ, ㄷ ⑤ ㄱ, ㄴ, ㄷ

19. 밑줄 친 ‘교전’ 시기에 볼 수 있는 모습으로 가장 적절한 것은? [3점]

S#2. 독일 외무 장관과 ○○ 외교관이 회담을 나누는 장면

독일 외무 장관 : 귀국이 뤼순커우(旅順口)를 강제 점령한 것은 큰 장애를 받을 것입니다.

○○ 외교관 : 본국이 평화 조건으로 이 일대를 차지한 것은 반드시 필요한 조치임을 이해해 주시기 바랍니다. 일전에 귀국은 교전 중에 본국에 대해 일관된 지지를 표명한 바가 있습니다. 이번에도 일전의 돈독한 정락을 취해 주실 것을 요청드립니다.

독일 외무 장관 : 본국은 작년 가을 이래 귀국에 대해 이미 충분한 지지를 표했고 유럽 국가들의 간섭 기도를 타파했으며, 기타 여러 방법으로 귀국을 도와주었습니다. 그러나 귀국은 이에 대해 어떤 보상도 하지 않았고 본국의 이익을 증진시키지 않았을 뿐만 아니라 동아시아에서 본국 및 기타 열강의 통상 관계를 고려하지 않은 채 마음대로 평화 조건을 정했습니다. 따라서 이제 본국은 유럽 국가들과 공동으로 움직일 수밖에 없습니다.

- ① 의화단 봉기를 진압하는 연합군
- ② 과달카날 전투에서 승리하는 미국군
- ③ 동해 해전에서 격파당하는 발트 함대
- ④ 장쭤린 폭사 사건을 보도하는 중국 기자
- ⑤ 웨이하이웨이(웨이하이)로 이동하는 일본군

20. 밑줄 친 ㉠, ㉡ 시기 사이에 있었던 사실로 옳은 것은?

사회주의 국가의 개혁·개방 정책에 대해 말해 볼까요?

중국에서는 덩샤오핑 집권 이후 ㉠ 개혁·개방이 시작되고, 농업·공업·국방·과학 기술 4개 부문의 현대화가 본격화되었습니다.

베트남에서는 제6차 공산당 전국(대표) 대회에서 ㉡ ‘쇄신’이라는 의미의 정책을 처음 채택하여 시장 경제 체제의 일부를 도입하였습니다.



- ① 5·18 민주화 운동이 발생하였다.
- ② 민진당의 천수이벤이 총통에 당선되었다.
- ③ 중국이 세계 무역 기구[WTO]에 가입하였다.
- ④ 경제 정책 실패 등으로 55년 체제가 붕괴되었다.
- ⑤ 미군 철수 등을 합의한 파리 평화 협정이 체결되었다.

* 확인 사항

○ 답안지의 해당란에 필요한 내용을 정확히 기입(표기)했는지 확인 하시오.

2026학년도 대학수학능력시험

사회탐구 영역 정답표
(동아시아사) 과목

문항 번호	정 답	배 점	문항 번호	정 답	배 점	문항 번호	정 답	배 점	문항 번호	정 답	배 점
1	⑤	2	6	③	2	11	⑤	2	16	④	3
2	②	3	7	③	2	12	④	2	17	③	3
3	①	2	8	②	3	13	⑤	3	18	②	2
4	①	2	9	⑤	3	14	⑤	2	19	⑤	3
5	④	3	10	②	3	15	②	3	20	①	2

제 4 교시

사회탐구 영역(세계사)

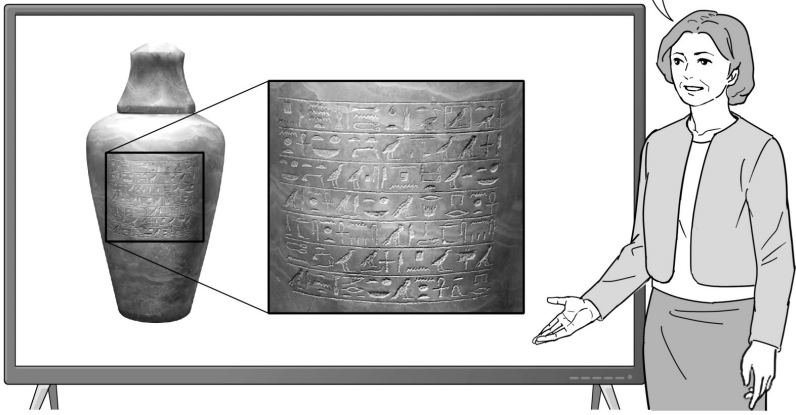
성명

수험 번호

제 [] 선택

1. (가) 문명에 대한 설명으로 옳은 것은? [3점]

이 유물은 나일강 유역에서 발달한 (가)의 라혼 지역에서 발견된 것입니다. 유물에는 '공주여, 만물을 낳는 이 땅에서 나오는 시원한 물을 받으소서. 그대가 그것을 통해 살고 그것을 통해 되살아나기를 기원합니다.'라는 내용이 상형 문자로 새겨져 있습니다. (가)의 사람들은 영혼 불멸과 사후 세계를 믿어 이러한 유물을 매장하였습니다.



- ① 피라미드를 축조하였다.
- ② 길가메시 서사시를 남겼다.
- ③ 올림피아 제전을 개최하였다.
- ④ 갑골에 점복의 내용을 기록하였다.
- ⑤ 하라파 등 계획도시를 건설하였다.

2. (가) 국가에 대한 설명으로 옳은 것은? [3점]



이것은 황색, 녹색, 백색의 유약을 사용하여 만든 (가)의 삼채(三彩) 원앙 모양 주전자이다. 원앙의 등에는 물이 들어가는 구멍이 있으며, 주둥이에는 물이 나오는 구멍이 있다. (가)은 절도사로 인해 중국이 분열된 틈을 타 건국되었다. 이후 만리장성 이남으로 남진하여 화북 일부 지역을 차지하였다. 이 과정에서 중원 지역의 도기 제작 기술을 수용하였지만, 민족 고유의 기술을 가미하였다. 이처럼 (가)의 삼채는 당시 문화 교류의 모습을 잘 보여 준다.

- ① 수시력을 편찬하였다.
- ② 전연의 맹약을 체결하였다.
- ③ 장건을 서역으로 파견하였다.
- ④ 수도를 낙읍(뤄양)으로 옮겼다.
- ⑤ 황소의 난으로 국력이 쇠퇴하였다.

3. (가) 국가에 대한 설명으로 옳은 것은?

우리 선조들은, 이탈리아반도를 통일하고 서지중해로 팽창을 꾀하는 (가)에게 코르시카섬, 사르데냐섬을 빼앗겼다. 게다가 우리 영토인 히스파니아까지 공격받아 위기에 처하였었다. ... (중략) ... (가)의 군대가 바다 건너 우리의 조국을 위협하자 우리는 강화 협상을 위해 이탈리아반도에서 철수할 수밖에 없었다. 하지만 협상은 결렬되었고 우리 군대는 자마에서 전투를 벌였지만 패배하였다.

- ① 도편 추방제를 시행하였다.
- ② 페르세폴리스를 건설하였다.
- ③ 베르딩 조약으로 분열되었다.
- ④ 호르텐시우스법을 제정하였다.
- ⑤ 펠로폰네소스 동맹을 주도하였다.

4. (가) 국가에 대한 설명으로 옳은 것은? [3점]

레피두스, 안토니우스 등 군인 정치가들의 난립으로 로마가 혼란스러웠다. 이러한 상황에서 바빌론, 셀레우키아 등 바빌로니아를 차지하고 있던 (가)은/는 시리아를 점령한 데 이어 팔레스타인 일부까지 진출하였다. 이로 인해 로마는 동방 지배권을 위협받았으나, 반격을 통해 잃었던 속주를 회복하였다. 로마군은 적국의 침공에 대응하기 위해서 대규모 원정을 감행하여 메디아로 진군하였다. 그러나 (가)와/과 메디아 연합군이 로마군을 기습한 뒤 지속적으로 공세를 가하였다. 결국 로마군은 큰 손실을 입고 퇴각하였다.

- ① 살라미스 해전에서 패배하였다.
- ② 데브시르메 제도를 운용하였다.
- ③ 이슬람 세력의 침입으로 멸망하였다.
- ④ 수도 니네베에 왕립 도서관을 건립하였다.
- ⑤ 알렉산드로스 제국의 분열 이후 출현하였다.

5. (가) 국가에 대한 설명으로 옳은 것은?

교회의 수장이자 군주로서 지극히 깊은 애정을 담아 폐하께 안부를 전합니다. 일전에 폐하께서 왕국 내 위그노와의 전쟁을 끝내려고 노력한다는 소식을 접하였습니다. 나는 당신의 왕국에 평화가 오기를 신께 기도합니다. 현재 네덜린트가 가톨릭 강요 정책을 펼치는 (가)에 맞서 독립 전쟁을 벌이고 있습니다. (가)을/를 견제하고 평화를 유지해 나가기 위해서 협력하길 희망합니다.

- ① 벵골 분할령을 발표하였다.
- ② 레판토 해전에서 승리하였다.
- ③ 상트페테르부르크를 건설하였다.
- ④ 콜베르를 등용하여 해외 시장을 개척하였다.
- ⑤ 오스트리아와의 전쟁을 통해 슬레지엔을 차지하였다.

2 (세계사)

사회탐구 영역

6. (가) 왕조의 문화에 대한 설명으로 옳은 것은? [3점]



이 유물은 파야즈테파 유적에서 발견된 불상이다. 이 유적에서는 연꽃무늬 수조, 불두(佛頭), 벽화 등 (가)의 다양한 불교 유물이 출토되었다. 특히 한 벽화에는 (가)의 카니슈카왕으로 추정되는 인물이 그려져 있다. 카니슈카왕은 불경을 모으고 탑과 사원을 축조하는 등 불교를 장려하였다. 그의 노력에 힘입어 (가)에서는 중생 구제를 중시하는 불교가 발달하였다.

- ① 시크교가 창시되었다.
- ② 샤쿤탈라가 저술되었다.
- ③ 산치 대탑이 건립되었다.
- ④ 보로부두르가 축조되었다.
- ⑤ 간다라 미술 양식이 발달하였다.

7. 밑줄 친 ‘막부’에 대한 설명으로 옳은 것은? [3점]



- ① 도다이사를 창건하였다.
- ② 몽골의 침입을 막아 냈다.
- ③ 산킨코타이제를 시행하였다.
- ④ 이와쿠라 사절단을 파견하였다.
- ⑤ 아시카가 다카우지가 개창하였다.

8. 밑줄 친 ‘우리 왕조’에 대한 설명으로 옳은 것은?

우리 왕조는 향촌 질서를 유지하기 위해 10호를 1패로, 10패를 1갑으로, 10갑을 1보로 편성한 보갑제를 시행하고 있다. 지방관이 힘써 행한다면, 도적 무리와 간사한 악당이 기델 곳이 없어져 민간의 생계가 편안해진다. 따라서 보갑의 운영은 지방관의 중요한 임무이다. 그런데 세월이 오래 지나 소홀함이 생겨 담당 관리들이 성심성의껏 살피지 않고 있다. 이에 보갑제를 성실히 운영하도록 새로이 보갑의 규정을 반포한다. ... (중략) ... 우리 왕조의 전·현직 관료, 과거 응시 자격이 있는 공립 학교 학생, 서민 등을 보갑에 일체 편성한다. 또한 기인(旗人)과 일반 백성이 섞여 사는 향촌에도 기인과 일반 백성을 보갑에 일체 편성한다. 그리고 몽골 지역에도 보갑을 편성하고 만일 도적질을 하거나 도망자를 은닉한 자가 있으면 조사하여 보고하도록 한다.

- ① 조광윤이 세웠다.
- ② 군기처를 설치하였다.
- ③ 파스파 문자를 만들었다.
- ④ 장거정이 개혁을 추진하였다.
- ⑤ 복면관제와 남면관제를 시행하였다.

9. (가) 국가에 대한 설명으로 옳은 것은?

로마 교황의 대리인으로서 모든 가톨릭 신자에게 경의를 표합니다. 로마 교황은 과거에 성상을 두고 갈등하였던 (가)의 수도에 우리를 사절로 파견하였습니다. 교황의 경고에도 불구하고, (가)의 총대주교는 성직 매매를 일삼고 있으며, 우리 교회가 누룩이 없는 빵을 성찬례에 사용한다고 비난하고 있습니다. 그는 회개하기를 거부하며 이단 행위를 멈추지 않고 있습니다. 그러므로 우리는 로마 교황의 권위로 엄중히 총대주교와 그의 모든 추종자들을 파문합니다.

- ① 보름스 협약을 체결하였다.
- ② 밀레트 제도를 운영하였다.
- ③ 홀라구에 의해 멸망하였다.
- ④ 군관구제와 둔전병제를 실시하였다.
- ⑤ 투르·푸아티에 전투에서 승리하였다.

10. (가) 왕조에서 있었던 사실로 옳은 것은?

(가)은/는 처음에 사방의 이민족을 살필 여유가 없었다. 그런데 동돌궐을 복속한 이래로 탕구트, 설연타 등 주변 민족이 점점 복속해 오자, 그들이 원래 살고 있던 지역에 주와 현을 설치하였다. 그 가운데 큰 것을 도독부라고 하고, 그 수령을 도독 및 자사로 삼았으며 모두 세습을 허용하였다. 이러한 주와 현은 대부분 호부에 세금을 납부하거나 호적을 보고하지 않았지만, 황제의 덕이 미치는 곳은 변주 도독이 다스렸다. 이민족에 대한 이러한 통치 방식은 마치 고삐로 소와 말을 잡아끄는 이치와 같았다.

- ① 자금성이 축조되었다.
- ② 9품중정제가 시행되었다.
- ③ 안사의 난이 발생하였다.
- ④ 청명상하도가 제작되었다.
- ⑤ 만한 병용제가 실시되었다.

11. (가) 국가에 대한 설명으로 옳은 것은?



그림은 (가)의 군대가 호르무즈를 공략하는 모습을 묘사한 것이다. 바스쿠 다 가마의 인도 항로 개척 이후 포르투갈은 호르무즈에 상관을 설치하여 페르시아만에 영향력을 행사하였다. 한편 (가)은/는 서쪽으로 인접한 이슬람 국가와의 대립으로 교역에 어려움을 겪고 있었고, 이러한 상황에서 호르무즈 장악을 통해 경제적 이익뿐만 아니라 정치적 영향력을 강화하고자 하였다. 이에 (가)은/는 영국 동인도 회사와 군사 협력 관계를 맺고 호르무즈를 공략해 점령하였다. 영국 동인도 회사는 이를 계기로 설립된 지 20여 년 만에 페르시아만에서 무역 특혜를 누리게 되었다.

- ① 이스파한을 수도로 삼았다.
- ② 우즈베크인의 침공으로 멸망하였다.
- ③ 이집트의 맘루크 왕조를 정복하였다.
- ④ 마라타 동맹의 반란으로 위기를 겪었다.
- ⑤ 아바스 왕조로부터 술탄의 칭호를 부여받았다.

12. 밑줄 친 '집'의 재위 시기에 있었던 사실로 옳은 것은? [3점]

집은 귀족원과 하원에서 개정한 다음의 헌장을 공포한다.

제1조 프랑스 국민은 법 앞에 평등하다.

제7조 국민은 법률에 따라 자신의 의견을 표현하고 발행할 권리를 가진다. 검열 등 자유를 제한하는 조치는 결코 다시 시행할 수 없다.

제10조 왕정복고 이전에 표명된 의견과 투표에 대한 모든 조사는 금지한다.

제13조 국왕은 국가의 최고 원수이다. 국왕은 육군과 해군을 지휘하고, 선전포고를 하고, 평화·동맹·통상 조약을 체결하고, 모든 공공 행정직을 임명하고, 법 집행에 필요한 규정과 행정 명령을 제정한다. 그러나 법 자체를 정지시킬 수 없다.

제15조 법안의 제안은 국왕, 귀족원과 하원의 소관이다. 그렇지만 세금과 관련된 모든 법은 먼저 하원에서 표결을 거쳐야 한다.

제67조 삼색기를 복원한다.

- ① 이탈리아 왕국이 수립되었다.
- ② 신성 로마 제국이 해체되었다.
- ③ 데카브리스트의 봉기가 일어났다.
- ④ 영국에서 부패 선거구가 폐지되었다.
- ⑤ 3월 혁명으로 메테르니히가 실각되었다.

13. (가) 국가에 대한 설명으로 옳은 것은?

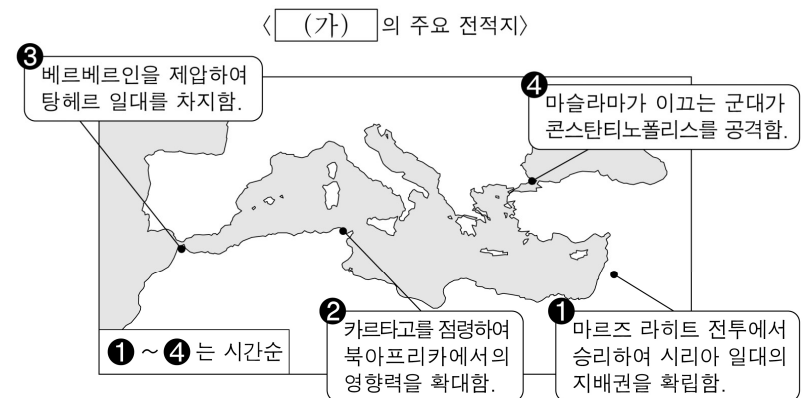
○○ 신문 ○○○○년 ○○월 ○○일

두 공화국, 독립을 선언하다

(가)이/가 탄생한 이래, 연방 내 다양한 민족 간의 갈등이 커져 갔고, 결코 해소된 적이 없었다. 이러한 상황에서 슬로베니아와 크로아티아 두 공화국이 공식적으로 자신들이 독립 국가임을 선언하였다. 이에 (가)의 의회는 즉각 연방군에게 분열을 막기 위한 조치를 취하라고 요청하였다. 그리고 (가)의 수상과 핵심 각료는 비상 회의를 소집하였지만 슬로베니아와 크로아티아가 독립 의지를 굳힌 상황에서 실질적으로 어떤 조치를 취할 수 있을지는 불분명해 보인다.

- ① 빌리 브란트가 동방 정책을 추진하였다.
- ② 호루쇼프가 평화 공존 원칙을 주장하였다.
- ③ 티토의 주도로 제1차 비동맹 회의에 참여하였다.
- ④ 하벨이 벨벳 혁명을 통해 민주 정부를 수립하였다.
- ⑤ 바웬사가 이끄는 자유 노조가 총선에서 승리하였다.

14. (가) 국가에 대한 설명으로 옳은 것은? [3점]



- ① 사마르칸트를 수도로 삼았다.
- ② 이스마일 1세에 의해 수립되었다.
- ③ 아랍인을 우대하는 정책을 펼쳤다.
- ④ 탈라스에서 당의 군대와 격돌하였다.
- ⑤ 헝가리를 정복하고 빈을 포위 공격하였다.


15. (가), (나) 국가에 대한 설명으로 옳은 것은? [3점]

지난 몇 달간 (가)의 상황은 우리의 우려가 현실이 되었음을 보여 줍니다. 새롭게 들어선 정부는 빠르게 권력을 공고히 하였으며, 대중에게 약속했던 '즉각적인 평화'를 이행하고 있습니다. 이로 인해 현재 벌어지고 있는 전쟁에서 (나)의 동부 전선은 곧 붕괴될 것이며, 이는 (나)이/가 대규모 병력과 자원을 서부 전선으로 이동시킬 수 있는 길을 열어 줄 것입니다. 저는 이 상황이 전쟁에서 연합국의 승리를 위협하는 가장 중대한 위험이라고 판단합니다. 서부 전선의 전력 불균형은 치명적일 수 있습니다. (가)의 새로운 정부에 저항하는 세력에게 지원을 확대해야 합니다.

- ① (가) - 바이마르 공화국을 선포하였다.
- ② (가) - 그리스 독립 운동을 지원하였다.
- ③ (나) - 인도차이나 연방을 조직하였다.
- ④ (나) - 알타 회담에 참여하여 전후 처리를 논의하였다.
- ⑤ (가)와 (나) - 모로코에서 두 차례 군사 충돌 위기를 겪었다.

16. (가) 운동에 대한 설명으로 옳은 것은? [3점]

이슬람교 초기의 순수함을 회복하자는 (가)은/는 아라비아반도의 사람들에게 호응을 얻어 빠르게 확산되었습니다. 이후 무함마드 이븐 사우드가 (가)의 정신을 계승하여 왕국을 세웠고, 오스만 제국에 저항하면서 아랍 세계의 통합과 민족의식을 고취하였습니다.



- ① 브나로드 운동에 영향을 주었다.
- ② 압둘 와하브의 주도로 일어났다.
- ③ 헤지라가 일어나는 계기가 되었다.
- ④ 스와데시와 스와라지 등을 강령으로 채택하였다.
- ⑤ 영국의 담배 독점 판매권 획득에 반대하여 시작되었다.

17. (가) 국가에 대한 설명으로 옳은 것은?

저희 대표들은 폐하께 깊은 애정과 충성심으로, 최근 (가) 의회의 재정 확보 방안에서 비롯된 각종 세금, 특히 신문 등 인쇄물에 부과한 세금으로 인해 겪고 있는 고충과 우려에 관한 의견을 표명합니다.

- 신민들의 자유와 권리는 반드시 지켜져야 하므로 대표들의 동의 없이 세금을 부과해서는 안 됩니다.
- 선출된 식민지 대표들의 동의를 받아야만 합법적으로 세금을 부과할 수 있습니다.
- 신민들은 국왕이나 의회에 청원할 권리가 있으므로 부당하게 부과된 세금을 폐지할 것을 요청합니다.

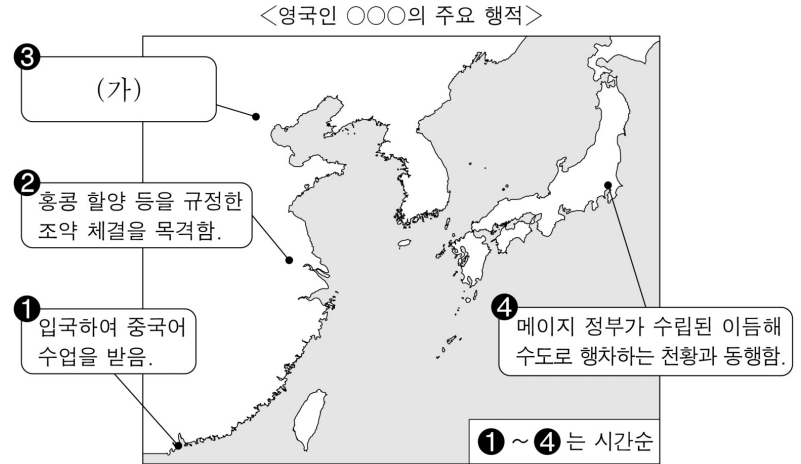
- ① 상수시 궁전을 건립하였다.
- ② 파쇼다에서 영국과 충돌하였다.
- ③ 콜럼버스의 항해를 후원하였다.
- ④ 요크타운 전투에서 패배하였다.
- ⑤ 파리 조약으로 독립을 인정받았다.

18. (가) 국가에 대한 설명으로 옳은 것은?

(가)은/는 북아프리카의 트리폴리 항구를 공격하면서 전쟁을 시작하였다. (가)의 군대는 비행기 등을 활용하여 벵가지, 홈스 등 여러 도시를 장악해 나갔다. 이에 몇 해 전 입헌 혁명에 성공한 청년 튀르크당 소속의 장교들이 현지 부족과 함께 격렬한 저항을 하였지만, 결국 (가)은/는 트리폴리타니아, 키레나이카 등에 대한 통치권을 확보하였다.

- ① 에티오피아를 침공하였다.
- ② 크림 전쟁에서 패배하였다.
- ③ 체코슬로바키아를 점령하였다.
- ④ 나이지리아를 식민지로 삼았다.
- ⑤ 필리핀 지배를 두고 미국과 전쟁을 벌였다.

19. (가)에 들어갈 내용으로 가장 적절한 것은?



- ① 쑨원의 임시 대총통 취임식에 참석함.
- ② 신축조약에 따라 주둔한 군대의 장교로 활동함.
- ③ 서태후 등에 의해 변법이 좌절된 Kangyewei와 면담함.
- ④ 철도 국유화 조치를 발표한 청 정부와 차관 협상을 진행함.
- ⑤ 초대 영국 공사가 상주할 공사관 설립 협상에 통역관으로 참여함.

20. 밑줄 친 '나'가 집권한 시기에 있었던 사실로 옳은 것은? [3점]

처음에는 우리 체제를 제대로 작동시킬 수 있다는 환상을 가지고 있었습니다. 하지만 집권 다음 해에 그 환상에서 벗어날 수밖에 없었습니다. 우리는 개혁을 이야기하였지만, 변화는 쉽지 않았습니다. 새로운 정치인들조차 중앙 집중식 계획 경제에 익숙해져 있었기에 개혁에 저항하였습니다. 그렇지만 나는 자유 선거, 권력 분립, 다당제, 시장 경제 도입과 같은 개혁이 필요하다고 생각하여 이를 추진하기로 결정하였습니다. ... (중략) ... 처음에는 큰 성공을 거두었다고 생각하였지만, 기존 특권 계층은 민주주의가 자신들에게 맞지 않다는 것을 인식하고 권력을 돌려 달라고 요구하기 시작하였습니다. 그들이 우리 개혁을 저지하는 데 실패하자 나를 체포하고 쿠데타를 일으켰습니다. 그들의 쿠데타는 실패로 끝났지만, 결국 나는 집권한 지 6년여 만에 연방이 해체 되는 것을 볼 수밖에 없었습니다.

- ① 베를린 장벽이 붕괴되었다.
- ② 닉슨 독트린이 발표되었다.
- ③ 유럽 연합[EU]이 출범하였다.
- ④ 쿠바 미사일 위기가 발생하였다.
- ⑤ 세계 무역 기구[WTO]가 창설되었다.

* 확인 사항

- 답안지의 해당란에 필요한 내용을 정확히 기입(표기)했는지 확인 하시오.

2026학년도 대학수학능력시험

사회탐구 영역 정답표
(세계사) 과목

문항 번호	정 답	배 점	문항 번호	정 답	배 점	문항 번호	정 답	배 점	문항 번호	정 답	배 점
1	①	3	6	⑤	3	11	①	2	16	②	3
2	②	3	7	③	3	12	④	3	17	④	2
3	④	2	8	②	2	13	③	2	18	①	2
4	⑤	3	9	④	2	14	③	3	19	⑤	2
5	②	2	10	③	2	15	②	3	20	①	3

제 4 교시

사회탐구 영역(경제)

성명

수험 번호

제 [] 선택

1. 다음 자료에 대한 설명으로 옳은 것은? (단, A, B는 각각 가계, 기업 중 하나임.)

경제 주체 A와 B 간의 화폐의 흐름으로 민간 경제 순환을 설명할 수 있다. 실물 제공에 대한 대가로 (가) 시장에서 B로부터 A로 이동하는 화폐는 A에게 ㉠ 판매 수입이 되고, (나) 시장에서 A로부터 B로 이동하는 화폐는 B에게 ㉡ 소득이 된다.

- ① A는 이윤 극대화를 추구한다.
- ② A는 (가) 시장에서 수요자이다.
- ③ B는 생산 활동의 주체이다.
- ④ 가족의 식사를 위한 식재료 구입은 (나) 시장에서 이루어진다.
- ⑤ ㉡과 달리 ㉠은 소비 활동의 원천이 된다.

2. 다음 자료에 대한 설명으로 옳은 것은? (단, A, B는 각각 계획 경제 체제, 시장 경제 체제 중 하나임.) [3점]

- A를 채택하고 있는 갑국에서는 정부가 생산물의 종류와 수량, 생산 방식 등의 결정을 국가 의사 결정 시스템을 통해 엄격히 통제한다. 즉, 자원 배분에 대한 의사 결정이 정부에 의해 이루어진다.
- B를 채택하고 있는 을국에서는 모든 경제 활동이 개인과 기업의 자유로운 선택에 맡겨져 있다. 자원 배분은 시장 가격 기구에 의해 이루어진다.

- ① A에서는 희소성에 따른 경제 문제가 발생하지 않는다.
- ② B에서는 자유로운 경쟁을 통한 이윤 추구가 보장된다.
- ③ A와 달리 B에서는 경제 문제 해결에 있어 효율성보다 형평성이 강조된다.
- ④ B와 달리 A에서는 경제 활동에서 경제적 유인이 증시된다.
- ⑤ A와 B에서는 모두 ‘보이지 않는 손’의 기능이 증시된다.

3. 다음 자료에 대한 분석으로 옳은 것은? [3점]

A 기업은 1개당 가격이 100달러인 X재를 생산하고, 생산 방식에는 (가), (나)가 있다. X재 생산비는 (가)의 경우 실내 공사 비용, 판매 수입의 5%에 해당하는 가맹점 수수료, 제품 제조 비용으로 구성되며, (나)의 경우 실내 공사 비용과 제품 제조 비용으로 구성된다. 실내 공사 비용은 생산량과 관계없이 (가)의 경우 100달러가, (나)의 경우 200달러가 발생한다. 표는 A 기업의 생산 방식 (가), (나)에 따른 생산량별 제품 제조 비용을 나타낸다. 단, X재는 (가), (나) 중 하나의 방식으로만 1개씩 5개까지 생산되고 생산된 X재는 모두 판매된다.

생산량(개)		1	2	3	4	5
제품 제조 비용(달러)	(가)	30	70	130	210	310
	(나)	30	60	100	150	210

- ① 생산량이 1개일 때 (가)와 (나)의 생산비는 동일하다.
- ② (가)로 생산할 경우 생산비 중 가맹점 수수료가 차지하는 비중이 생산량과 관계없이 일정하다.
- ③ (나)로 생산할 경우 생산량이 1개씩 증가할 때 추가로 발생하는 생산비가 생산량에 관계없이 감소한다.
- ④ (가)로 4개를 생산하면 1개당 생산비는 80달러보다 작다.
- ⑤ (나)로 5개를 생산할 때 얻는 이윤이 (가)로 4개를 생산할 때 얻는 이윤보다 20달러 크다.

4. 다음 자료에 대한 분석으로 옳은 것은?

X재 시장에서 소비자는 갑, 을만, 생산자는 A, B만 존재한다. 표는 X재 1개 추가 소비에 따른 소비자의 최대 지불 용의 금액과 X재 1개 추가 생산에 따른 생산자의 최소 요구 금액을 나타낸다. 단, 각 소비자와 생산자는 X재를 1개씩 3개까지 거래하고 X재는 시장 균형에서 거래된다. (단위: 달러)

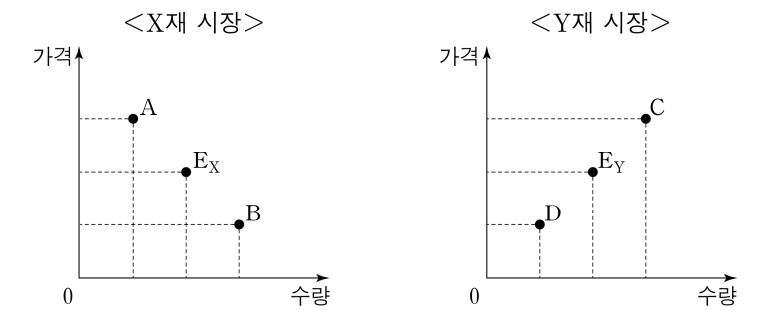
구분	최대 지불 용의 금액		최소 요구 금액	
	갑	을	A	B
첫 번째 X재	9	6	3	5
두 번째 X재	8	5	5	6
세 번째 X재	7	3	7	9

최근 정부는 ㉠ 을에게 X재 1개당 2달러의 보조금을 지급하는 정책을 검토 중이다.

- ① 균형 거래량은 5개이다.
- ② 시장 판매 수입은 21달러이다.
- ③ 가격이 4달러일 때 4개의 초과 수요가 발생한다.
- ④ ㉠이 시행되면 균형 가격은 2달러 상승한다.
- ⑤ ㉠이 시행되면 X재 시장의 생산자 잉여는 감소한다.

5. 다음 자료에 대한 옳은 분석 및 추론만을 <보기>에서 고른 것은? [3점]

X재 시장과 Y재 시장에서는 각각 소비 또는 생산 중 하나의 측면에서만 외부 경제 또는 외부 불경제 중 하나의 외부 효과가 발생하였다. 그림에서 E_X 는 X재 시장 균형점이고, E_Y 는 Y재 시장 균형점이다. X재 시장의 사회적 최적 균형점은 A, B 중 하나이고, Y재 시장의 사회적 최적 균형점은 C, D 중 하나이다. 단, X재와 Y재는 모두 수요와 공급 법칙을 따르고 수요와 공급 곡선은 모두 직선이다.



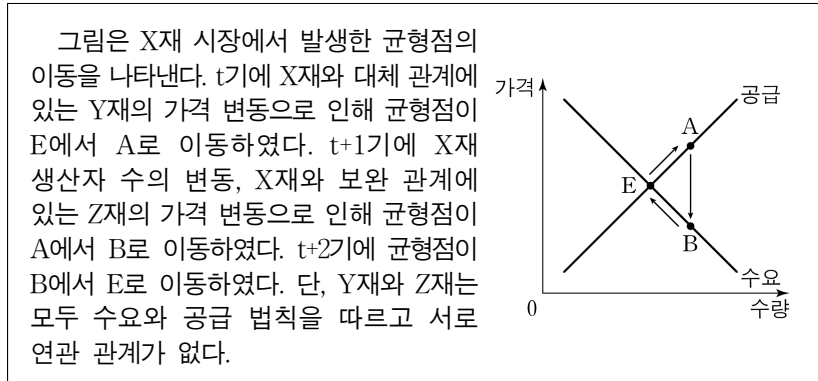
- <보 기>
- ㄱ. A가 사회적 최적 균형점이라면 X재 시장에서 발생한 외부 효과는 외부 불경제이다.
 - ㄴ. B가 사회적 최적 균형점이라면 X재 소비의 사회적 편익이 사적 편익보다 크다.
 - ㄷ. C가 사회적 최적 균형점이라면 소비자에게 Y재 1단위당 일정액의 보조금을 지급하여 외부 효과를 개선할 수 있다.
 - ㄹ. D가 사회적 최적 균형점이라면 Y재 사례로 독감 전파 가능성을 낮추는 백신 접종을 들 수 있다.

- ① ㄱ, ㄴ ② ㄱ, ㄷ ③ ㄴ, ㄷ ④ ㄴ, ㄹ ⑤ ㄷ, ㄹ

2 (경제)

사회탐구 영역

6. 다음 자료에 대한 옳은 분석만을 <보기>에서 고른 것은?

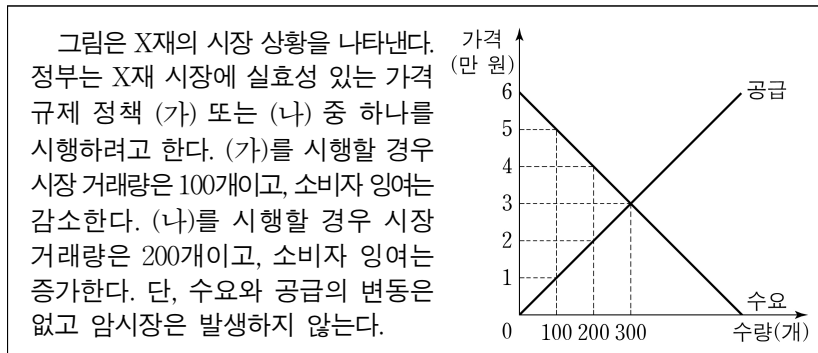


<보 기>

- ㄱ. t기 Y재의 가격은 상승하였다.
 ㄴ. t+1기 X재 생산자 수는 증가하였다.
 ㄷ. t+1기 나타난 Z재 가격 변동 요인으로 Z재의 원료 가격 하락을 들 수 있다.
 ㄹ. t+2기 균형점의 이동은 X재 수요의 변동만으로 나타났다.

- ① ㄱ, ㄴ ② ㄱ, ㄷ ③ ㄴ, ㄷ ④ ㄴ, ㄹ ⑤ ㄷ, ㄹ

7. 다음 자료에 대한 분석으로 옳은 것은? [3점]



- ① (가)는 최고 가격제이다.
 ② (나)는 생산자 보호를 목적으로 한다.
 ③ (가)를 시행할 경우 생산자 잉여는 (나)를 시행할 경우보다 작다.
 ④ (가)를 시행할 경우 총잉여는 (나)를 시행할 경우보다 작다.
 ⑤ (가)를 시행할 경우 판매 수입은 (나)를 시행할 경우보다 작다.

8. 다음 자료에 대한 분석 및 추론으로 옳은 것은?

정기 예금 A는 가입 시점으로부터 1년 만기 시에 나타날 수 있는 물가 상승률에 따라 만기 시 적용되는 연 이자율이 변동될 수 있는 금융 상품이고 연 이자율은 명목 이자율이다. 표는 만기 시 나타날 수 있는 물가 상승률이 3% 이하의 경우인 <상황 1>, 3%를 초과하는 경우인 <상황 2>에 따라 각각 적용되는 연 이자율을 나타낸다.

구분	연 이자율
<상황 1>	5%
<상황 2>	5% + (물가 상승률 - 3%)

* 실질 이자율 = 명목 이자율 - 물가 상승률
 ** 원리금 = 원금 + 이자

- ① <상황 1>에서 A의 실질 이자율은 고정되어 있다.
 ② <상황 2>에서 A의 명목 이자율은 고정되어 있다.
 ③ <상황 2>에서 A의 실질 이자율은 2%이다.
 ④ 만기 시 A의 원리금의 실질 구매력은 <상황 2>보다 <상황 1>에서 작다.
 ⑤ 물가 상승률에 관계없이 현금을 보유하는 것이 A에 가입하는 것보다 유리하다.

9. 다음 자료에 대한 분석으로 옳은 것은? [3점]

<자료 1>은 2024년 갑국의 경상 수지를 항목별로 나타낸 표이고, <자료 2>는 2024년 경상 수지 항목별 갑국 수취액 대비 을국과 병국 수취액의 비율을 각각 나타낸 표의 일부이다. 단, 국제 거래는 갑국과 을국 간, 갑국과 병국 간에만 이루어진다.

<자료 1>

경상 수지(억 달러)			
상품 수지	서비스 수지	본원 소득 수지	이전 소득 수지
100	-25	30	-15

<자료 2>

구분	갑국 수취액 대비 을국 수취액의 비율(%)	갑국 수취액 대비 병국 수취액의 비율(%)
상품 수지	30	20
서비스 수지	300	50
본원 소득 수지	25	25
이전 소득 수지		

- ① 갑국의 상품 수지 수취액은 갑국의 상품 수지 지급액의 2배이다.
 ② 을국의 서비스 수지는 적자이다.
 ③ 갑국은 해외 무상 원조액이 포함되는 항목의 지급액이 15억 달러보다 작다.
 ④ 을국은 해외 투자에 따른 배당금이 포함되는 항목의 수취액이 병국보다 크다.
 ⑤ 갑국의 경상 수지는 갑국의 통화량 감소 요인이다.

10. 다음 자료에 대한 옳은 분석 및 추론만을 <보기>에서 있는 대로 고른 것은? (단, 제시된 자료 이외의 다른 조건은 고려하지 않음.)

표는 갑의 동영상 공유 서비스 A, B, C가 제공하는 콘텐츠 이용에 따른 1년간 편익, 월 이용료, 사은품으로부터 얻는 편익을 나타낸다. 갑은 동영상 공유 서비스를 중도 해지 없이 1년 단위로 이용한다.

(단위: 만 원)

구분	A	B	C
콘텐츠 이용에 따른 1년간 편익	50	40	50
월 이용료	3	2	2.5
사은품으로부터 얻는 편익	(가)	(나)	0

1차 년도에 갑은 A~C 중 A를 선택하여 1년 동안 이용하였는데, 만료 시점에 A~C의 조건이 변경되었음을 알게 되었다. A는 월 이용료가 1회 면제되고 동일한 사은품이 제공된다. B는 사은품이 제공되지 않고, 이용 가능 콘텐츠가 증가하여 갑에게 ① 추가 편익이 발생한다. C는 B에서 제공되었던 동일한 사은품이 제공된다. 이에 갑은 2차 년도에 A~C 중 하나를 다시 선택하고자 한다. 단, 동일한 사은품으로부터 얻는 편익은 변함이 없고 갑은 편익과 기회비용만을 고려하여 합리적으로 선택한다.

<보 기>

- ㄱ. (가)가 '9'이면 (나)는 '8'이 될 수 있다.
 ㄴ. ①이 7만 원보다 작고 (나)가 3보다 작으면 2차 년도에 갑은 A를 선택한다.
 ㄷ. 2차 년도에 갑이 C를 선택한다면 (나)는 '2'가 될 수 있다.

- ① ㄱ ② ㄴ ③ ㄱ, ㄷ ④ ㄴ, ㄷ ⑤ ㄱ, ㄴ, ㄷ

11. 표는 갑국의 연도별 고용 관련 지표의 전년 대비 변화율을 나타낸다. 이에 대한 옳은 분석만을 <보기>에서 고른 것은?

(전년 대비, 단위: %)

구분	t년	t+1년	t+2년
15세 이상 인구	3	10	-10
취업자 수	8	12	0
비경제 활동 인구	-5	11	-10

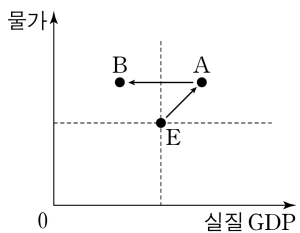
<보 기>

- ㄱ. t+1년 고용률은 t년보다 낮다.
 ㄴ. t+1년 경제 활동 참가율은 t년보다 낮다.
 ㄷ. t+2년 15세 이상 인구는 t년과 같다.
 ㄹ. t+2년 실업률은 t+1년보다 낮다.

- ① ㄱ, ㄴ ② ㄱ, ㄷ ③ ㄴ, ㄷ ④ ㄴ, ㄹ ⑤ ㄷ, ㄹ

12. 다음 자료에 대한 분석 및 추론으로 옳은 것은? [3점]

그림은 갑국 국민 경제 균형점의 이동을 나타낸다. 국민 경제 균형점 E가 t기에 순수출 변동에 의해서만 A로 이동하였다. t+1기에는 정부의 세율 조정과 수입 원자재 가격 변동에 의해서 균형점이 A에서 B로 이동하였으나 물가 수준은 변하지 않았다. 단, 총수요 곡선은 우하향하는 직선이고 총공급 곡선은 우상향하는 직선이다.



- ① t기에 총공급은 감소하였다.
 ② t기에 순수출은 감소하였다.
 ③ t+1기에 정부는 세율을 인하하였다.
 ④ t+1기에 수입 원자재 가격은 상승하였다.
 ⑤ t+1기에 시행된 세율 조정 대신 지급 준비율이 인하되었다라고 균형점의 이동 방향은 같다.

13. 그림은 형성 평가지이다. 이에 대한 설명으로 옳은 것은?

《형성 평가》

이름: ○○○

[문제] 표는 갑의 9월 모든 수입과 지출 내역을 나타낸다. <질문 1>, <질문 2>에 답하시오. [질문 1개당 맞으면 1점, 틀리면 0점을 부여함.]

(단위: 만 원)

수입		지출	
항목	금액	항목	금액
월급	650	재산세	㉠
명절 상여금	100	식료품비	200
주식 배당금	30	교육비	120
경조금	20	대출 이자	80

* 처분 가능 소득 = 소득 - 비소비 지출
 ** 저축 = 처분 가능 소득 - 소비 지출

<질문 1> 소득 대비 처분 가능 소득의 비율은? (80) %
 <질문 2> 소득 대비 저축의 비율은? (㉡) %

점수 / 배점 2점 / 2점

- ① ㉠은 '80'이고, ㉡은 '55'이다.
 ② 근로 소득은 650만 원이다.
 ③ 사업 소득은 30만 원이다.
 ④ 이전 소득은 비경상 소득의 5배이다.
 ⑤ 총지출 대비 소비 지출의 비율은 70%보다 낮다.

14. 다음 자료에 대한 분석으로 옳은 것은? (단, 제시된 자료 이외의 다른 조건은 고려하지 않음.) [3점]

갑은 t시점에 자신이 보유하고 있는 모든 자산을 정기 예금, 주식, 채권에 투자하였다. 정기 예금의 연 이자율은 8%이다. 표는 시점별 갑의 모든 자산에 대한 각 금융 상품의 구성 비율을 나타낸다. t 시점과 t+1년 시점 간 구성 비율의 변화는 갑이 보유한 금융 상품의 서로 다른 수익률에 의해서만 나타났다.

(단위: %)

구분	t 시점	t+1년 시점
정기 예금	50	40
주식	30	40
채권	20	20

- ① 총자산의 증가율은 40%보다 크다.
 ② 주식의 수익률은 80%이다.
 ③ 채권의 수익률은 정기 예금보다 낮다.
 ④ t 시점과 t+1년 시점에 배당 수익을 기대할 수 있는 상품의 구성 비율은 같다.
 ⑤ t 시점에 비해 t+1년 시점에 시세 차익을 기대할 수 있는 상품의 구성 비율은 낮다.

15. 다음 자료에 대한 분석으로 옳은 것은?

갑국에는 X재만을 생산하는 A 기업만, 을국에는 Y재만을 생산하는 B 기업만, 병국에는 Z재만을 생산하는 C 기업만 존재한다. 생산비는 임금과 중간재 구입 비용으로만 구성된다. 표는 2024년 각 기업의 생산량과 이윤을 나타낸다. 단, 각 기업은 자국 내에서만 생산하고 생산된 재화는 그 해에 모두 거래되어 소진된다. 또한 교역은 갑국과 을국, 을국과 병국 사이에서만 이루어지고 Y재와 Z재의 가격은 각각 국내외에서 동일하며, 교역에 따른 거래 비용은 없다.

구분	A 기업	B 기업	C 기업
생산량(개)	200	250	100
이윤(달러)	1,000	1,700	1,900

- A 기업은 노동과 유일한 중간재인 Y재를 사용하여 가격이 15달러인 X재를 생산하며 임금은 생산비의 50%이다. 생산된 X재는 자국에서 최종재로 전량 소비된다.
 ○ B 기업은 노동과 유일한 중간재인 Z재를 사용하여 Y재를 생산하며 중간재 구입 비용은 생산비의 50%이다. 생산된 Y재의 60%는 자국에서 최종재로 소비되며 나머지는 갑국에 수출되어 중간재로만 사용된다.
 ○ C 기업은 중간재 없이 노동만으로 Z재를 생산한다. 생산된 Z재의 80%는 자국에서 최종재로 소비되며 나머지는 을국에 수출되어 중간재로만 사용된다.

- ① 생산비는 A 기업이 B 기업보다 작다.
 ② 판매 수입은 B 기업이 C 기업보다 작다.
 ③ 지급한 임금이 가장 큰 기업은 C 기업이다.
 ④ 갑국의 수입액은 을국의 순수출보다 작다.
 ⑤ 창출한 부가 가치는 갑국과 병국이 같다.

4 (경제)

사회탐구 영역

16. 그림에 대한 옳은 설명만을 <보기>에서 고른 것은? (단, 총수요 곡선은 우하향하고 총공급 곡선은 우상향함.)



<보 기>

- ㄱ. (가)에는 ‘인상’이 들어갈 수 있다.
 ㄴ. ㉠, ㉢은 모두 총수요의 변동 요인이다.
 ㄷ. ㉠의 수단으로 정부 지출 확대를 들 수 있다.
 ㄹ. ㉢의 수단으로 중앙은행의 국공채 매입을 들 수 있다.

- ① ㄱ, ㄴ ② ㄱ, ㄷ ③ ㄴ, ㄷ ④ ㄴ, ㄹ ⑤ ㄷ, ㄹ

17. 다음 자료에 대한 분석으로 옳은 것은? (단, 환율 변동 이외의 다른 조건은 고려하지 않음.) [3점]

A 주식은 미국 달러화로 거래된다. 표는 t~t+2 시점별 A 주식 1주당 미국 달러화 가격과 갑국 통화인 원화로 환산한 가격의 직전 시점 대비 변동률을 나타낸다.

구분	t 시점	t+1 시점	t+2 시점
A 주식의 가격(달러)	40	50	60
원화로 환산한 A 주식 가격의 직전 시점 대비 변동률(%)	-2	20	20

- ① t+1 시점의 원/달러 환율은 t 시점에 비해 상승하였다.
 ② t+2 시점의 달러화 대비 원화 가치는 t+1 시점에 비해 상승하였다.
 ③ t 시점 대비 t+1 시점 환율 변동은 갑국 국민의 미국 여행 경비 부담 감소 요인이다.
 ④ t+1 시점 대비 t+2 시점 환율 변동은 미국 시장에서 갑국 수출품의 가격 경쟁력 상승 요인이다.
 ⑤ 갑국 기업의 달러화 표시 외채 상환 부담은 t+1 시점에 가장 크다.

18. 다음 자료에 대한 분석으로 옳은 것은?

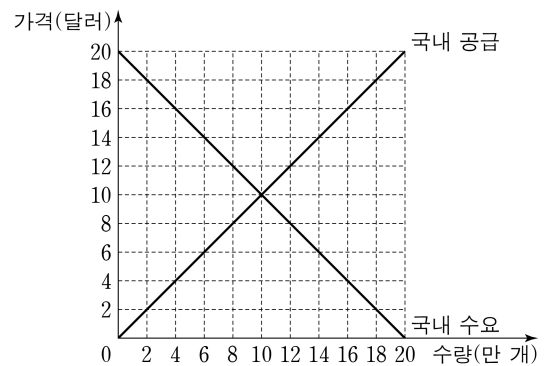
표는 2022년~2024년 갑국과 을국의 연도별 명목 GDP와 전년 대비 실질 GDP 변화율을 나타낸다. 단, 기준 연도는 2021년이고 두 국가의 2021년 명목 GDP는 각각 100억 달러이며, 물가 수준은 GDP 디플레이터로 측정한다.

구분	갑국		을국	
	명목 GDP (억 달러)	실질 GDP 변화율(%)	명목 GDP (억 달러)	실질 GDP 변화율(%)
2022년	99	-10	110	10
2023년	99	0	115	10
2024년	98	10	115	-5

- ① 갑국의 화폐 가치는 지속적으로 하락하였다.
 ② 을국의 경제 성장률은 지속적으로 높아졌다.
 ③ 2022년 갑국의 실질 GDP는 을국보다 크다.
 ④ 2023년 갑국의 GDP 디플레이터는 을국보다 크다.
 ⑤ 2024년 갑국의 전년 대비 물가 상승률은 을국보다 높다.

19. 다음 자료에 대한 분석으로 옳은 것은? [3점]

그림은 무역 전 t기 갑국의 X재 시장 상황을 나타낸다.



t+1기에 갑국은 자유 무역을 통해 국제 가격 4달러에 X재를 수입 하였다. t+2기에 갑국 정부는 X재 1개당 국제 가격의 50%에 해당하는 관세를 부과하였다. t+3기에는 관세를 폐지하고 국내 생산자에게 ㉠ X재 1개당 일정액의 보조금을 지급한 결과 t+2기의 수입량을 유지 하였다. 단, 갑국에서 생산된 X재는 전량 국내 시장에서 판매되고 국제 가격은 변함이 없으며, 제시된 내용 이외의 국내 수요와 국내 공급 변동 요인은 없다.

- ① ㉠은 2달러이다.
 ② t+1기 국내 생산자 잉여와 국내 소비자 잉여의 합은 t기와 같다.
 ③ t+2기 수입량은 t+1기보다 2만 개 적다.
 ④ t+2기 관세 수입은 24만 달러이다.
 ⑤ t+3기 국내 소비자 잉여는 t+2기보다 크다.

20. 다음 자료에 대한 분석 및 추론으로 옳은 것은? [3점]

같은 노동량을 보유하고 있는 갑국과 을국은 노동만을 생산 요소로 사용하여 직선인 생산 가능 곡선상에서 X재와 Y재만을 생산하고, 비교 우위를 갖는 재화에만 특화하여 양국 모두 이득이 발생하는 교환 비율에서만 교역한다. <표 1>은 갑국과 을국의 재화별 최대 생산 가능량을 나타낸다. <표 2>는 양국 간 X재 1개당 교환되는 Y재의 수량에 따른 갑국과 을국의 이득 발생 여부를 나타내고 이는 양국의 생산 가능 곡선에서 도출된 것이다. 단, 교역은 거래 비용 없이 양국 간에만 이루어진다.

<표 1>

구분		갑국	을국
	X재	㉠	140
	Y재	60	㉡

<표 2>

X재 1개당 교환되는 Y재의 수량	이득 발생 여부 (○: 발생함, ×: 발생하지 않음)	
	갑국	을국
Y재 1개 이상	×	○
Y재 1/2개 초과 1개 미만	○	○
Y재 1/2개 이하	○	×

- ① ㉠은 ‘30’, ㉡은 ‘140’이다.
 ② 갑국은 X재 생산에 특화한다.
 ③ 을국은 Y재 생산에 절대 우위를 갖는다.
 ④ 갑국은 교역 전 X재 40개, Y재 25개를 동시에 생산할 수 있다.
 ⑤ 양국 간 X재와 Y재의 교환 비율이 3:2라면, 을국은 교역으로 인해 Y재 1개당 X재 1/6개의 이득을 얻는다.

* 확인 사항

- 답안지의 해당란에 필요한 내용을 정확히 기입(표기)했는지 확인 하시오.

2026학년도 대학수학능력시험

사회탐구 영역 정답표
(경제) 과목

문항 번호	정 답	배 점	문항 번호	정 답	배 점	문항 번호	정 답	배 점	문항 번호	정 답	배 점
1	①	2	6	①	2	11	④	2	16	③	2
2	②	3	7	④	3	12	④	3	17	③	3
3	⑤	3	8	③	2	13	⑤	2	18	④	2
4	③	2	9	①	3	14	②	3	19	⑤	3
5	②	3	10	②	2	15	⑤	2	20	③	3

제 4 교시

사회탐구 영역(정치와 법)

성명

수험 번호

제 [] 선택

1. 정치를 바라보는 갑, 을의 관점에 대한 설명으로 옳은 것은?

아파트 단지 내에서 길고양이에게 먹이를 주는 것을 둘러싼 갈등을 해결하기 위해 아파트 주민 회의에서 자치 규약을 만드는 과정을 정치로 볼 수 있을까요?

정치는 본질적으로 국가 권력의 획득·유지·행사와 관련된 국가 고유의 활동만을 의미하기 때문에 정치로 볼 수 없습니다.



정치는 사회 집단 내에서 서로 다른 이해관계를 조정하고 집단의 의사를 결정하는 활동이기 때문에 아파트 자치 규약을 만드는 과정을 정치로 볼 수 있습니다.

- ① 갑의 관점은 국가와 국가 이외 사회 집단의 정치 현상은 본질적으로 다르지 않다고 본다.
- ② 을의 관점은 국가 형성 이전의 정치 현상을 설명하기에 적합하지 않다.
- ③ 갑과 달리 을의 관점은 정치 활동을 소수 통치 엘리트들의 전유물로 인식한다.
- ④ 을에 비해 갑의 관점은 사회적 갈등 해결 과정에 참여하는 정치 주체가 다양하다고 본다.
- ⑤ 갑과 을의 관점 모두 정년 연장 관련 국회의 법률안 의결 과정을 정치라고 본다.

2. 법치주의의 유형 A, B에 대한 설명으로 옳은 것은? [3점]



절대 왕정 시기에는 국왕에 의한 자의적인 통치가 이루어졌습니다. 이후 시민 혁명을 거치면서 의회에서 제정된 법률에 의한 통치가 이루어지기 시작했습니다. 그러나 적법한 절차를 통해 제정된 법률이라면 그 목적이나 내용에 상관없이 지켜져야 한다는 A는 통치자의 합법적인 독재 정치를 정당화하는 데 악용될 우려가 있었습니다. 이에 형식적인 원칙과 함께 자연법, 인권과 같은 실질적 내용까지를 그 불가분의 요소로 고려해야 한다는 B로 의미가 확장되었습니다.

- ① A는 행정 작용뿐 아니라 사법 작용도 법률에 구속되어야 한다고 본다.
- ② B는 의회에서 제정한 법률로도 기본권을 제한할 수 없다고 본다.
- ③ A와 달리 B는 인간의 존엄과 가치에 부합하는 경우라면 법률에 근거하지 않는 국가 권력 행사도 정당화된다고 본다.
- ④ B와 달리 A는 기본권 보장을 위한 위헌 법률 심사제의 필요성을 강조한다.
- ⑤ A와 B 모두 입법자에 의해서 국민의 자유와 권리가 침해될 수 있다는 점을 간과한다.

3. 우리나라 헌법의 기본 원리 A에 대한 설명으로 가장 적절한 것은?

헌법 재판소는 ○○법 조항에서 대형 마트 등의 의무 휴업일 지정을 규정한 것이 중소 상인들의 생존권 보장 등 경제 영역에서의 사회 정의를 실현하기 위한 국가의 정당한 규제·조정에 해당한다고 보았다. 이는 경제 민주화를 위한 국가의 경제 개입 인정 등을 내용으로 하는 A가 반영된 것으로 볼 수 있다.

- ① 남북 분단 상황을 전제로 한 우리나라 헌법 특유의 원리이다.
- ② 국민의 인간다운 생활 보장을 위해 국가의 간섭이 최소화되어야 한다는 원리이다.
- ③ 국가에 사회 보장·사회 복지 증진을 위해 노력할 의무를 부과하는 근거가 되는 원리이다.
- ④ 국가가 문화 활동의 자유를 보장하고, 전통문화의 계승·발전을 위해 노력해야 한다는 원리이다.
- ⑤ 상호주의 원칙에 따라 우리나라 국민과 외국인의 지위를 동등하게 보장하는 근거가 되는 원리이다.

4. 기본권 유형 A에 대한 설명으로 옳은 것은?

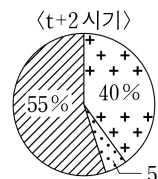
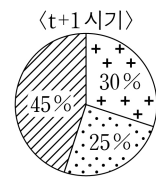
‘독이 있는 나무라면 그 나무에 열린 과실에도 독이 있다’는 의미의 독수독과(毒樹毒果) 이론에 따라, 1차적 증거가 독수라면 그에 의해 파생된 2차적 증거도 독과로서 증거 능력이 배제된다. 대법원도 ‘위법하게 수집한 증거는 물론 이를 기초로 하여 적법하게 획득한 2차적 증거도 유죄 인정의 증거로 삼을 수 없도록 하는 것이 수사 기관의 위법한 압수·수색을 억제하는 가장 확실한 대응책’이라고 하였다. 이는 실체적 진실 발견을 어느 정도 희생하더라도 적법 절차의 원리를 구현하여 A를 보장하기 위한 것이다.

- ① 소극적이고 방어적인 성격을 가진 권리이다.
- ② 실질적 평등의 실현을 위한 적극적 권리이다.
- ③ 합리적 이유 없이 차별적 대우를 받지 않을 권리이다.
- ④ 국가의 정치적 의사 결정 과정에 참여할 수 있는 능동적 권리이다.
- ⑤ 과잉 금지 원칙을 준수하더라도 법률로써 제한할 수 없는 권리이다.

5. 다음 자료에 대한 분석 및 추론으로 옳은 것은? [3점]

갑국의 시기별 정부 형태는 전형적인 의원 내각제 또는 전형적인 대통령제 중 어느 하나에 해당한다. t~t+3 시기에 갑국의 의회 전체 의석수는 200석으로 변동이 없으며, t 시기의 정부 형태는 직전 시기의 정부 형태와 동일하고, t+3 시기의 정부 형태는 직후 시기의 정부 형태와 동일하다.

- t 시기에 행정부 수반이 국가 원수의 지위를 동시에 가지며, 과반 의석을 차지한 정당이 존재함.
- t 시기에 비해 t+1 시기에 의회 의석수는 A당이 10석 감소, B당이 20석 감소, C당이 30석 증가함.
- t+2 시기에 행정부 수반은 A당 소속이고, t+2 시기 C당의 의회 의석수는 t 시기 C당 의회 의석수의 50%임.
- t+2 시기에 비해 t+3 시기에 의회 의석수는 B당이 44석 감소, C당이 23석 증가함.
- t+1 시기와 t+2 시기의 정당별 의회 의석률은 다음과 같음.



* [A], [B], [C]은 각각 A~C당 중 하나이고, t+1 시기와 t+2 시기의 서로 같은 무늬는 같은 정당을 의미함.

- * 의원 내각제인 경우, 각 시기에 최초 구성된 내각은 해당 시기 동안 변경 없이 지속되며, 단독 내각 성립이 가능하다면 연립 내각은 구성되지 않음.
- ** 각 시기의 정부 형태는 해당 시기 내에서 동일하며, 각 시기 내 정당별 의회 의석을 변화와 행정부 수반의 당적 변화는 없음.
- *** 갑국에는 A~C당만 존재하고 무소속 의원은 없음.

- ① t 시기와 t+1 시기의 정부 형태가 서로 다르다면, t+1 시기에 의회 의원이 각료를 겸직할 수 없다.
- ② t 시기에 행정부 수반이 B당 소속이라면, t+2 시기에 비해 t 시기에 행정부 수반이 제출한 법률안이 의회에서 통과될 가능성이 높다.
- ③ t+3 시기의 정부 형태와 행정부 수반 소속 정당이 t+2 시기와 같다면, t+2 시기와 t+3 시기 모두 야당 의석수가 여당보다 많다.
- ④ t~t+3 시기 중 정부 형태가 2회 변경되었다면, t+1 시기와 t+2 시기 모두 행정부 수반이 법률안에 대한 거부권을 가진다.
- ⑤ t~t+3 시기 중 정부 형태가 3회 변경되었다면, t+3 시기에 A당이 단독으로 내각을 구성하였을 것이다.

2 (정치와 법)

사회탐구 영역

6. 다음 사례에 대한 법적 판단으로 옳은 것은? [3점]

갑은 보존상 하자로 외벽에 금이 간 자기 소유 □□ 건물 외벽 수리 공사를 을에게 맡겼다. 을이 □□ 건물을 점유하여 공사를 하면서 건물 외벽의 금이 간 부분이 무너졌고, 을이 안전망 설치 등 보존상 하자로 인한 손해 방지에 필요한 주의를 다하지 않아 □□ 건물 옆에 위치한 병의 도시락 가게 문이 파손되었다. 병이 이에 대해 항의하기 위해 가게를 비운 사이, 병의 직원 정(17세)이 무로부터 도시락 30개를 주문받고, 판매 대금을 자신의 계좌로 받아 빼돌렸다. 다음 날 정은 출근하지 않았고, 무의 주문 확인 전화를 받은 병은 그런 주문을 받은 적이 없다고 하면서 무와 다투었으나, 결국 무가 주문한 도시락 30개를 약속한 시간에 배달해 주었다. 그럼에도 화가 덜 풀린 무는 인터넷에 병이 직원 관리도 제대로 하지 못한다는 등 비방하는 글을 올려 병의 명예를 훼손하였다. 이로 인하여 매출이 급격히 감소하는 등 재산상 손해를 입은 병은 무에게 자신을 비방하는 글 삭제 등 피해 구제를 요구하였다. 또한 병은 정을 상대로 불법 행위에 따른 손해 배상을 구하는 소를 제기하였고, 정에게 병의 손해를 배상하라는 법원의 판결이 확정되었다.

- ① 갑은 병에 대해 공작물 소유자로서 특수 불법 행위 책임을 진다.
- ② 을이 갑에게 채무 불이행 책임을 진다면, 을은 손해 배상을 위해 특별한 사정이 없는 한 무너진 □□ 건물 외벽을 수리하여야 한다.
- ③ 병은 정의 선임 및 사무 감독에 상당한 주의를 다하였음을 증명하지 못하더라도 무에 대해 정의 사용자로서 특수 불법 행위 책임을 지지 않는다.
- ④ 정의 법정 대리인은 정에 대한 감독을 게을리하지 않았음을 증명하지 못하면 병에 대해 법정 감독 의무자로서 특수 불법 행위 책임을 진다.
- ⑤ 무가 병에게 명예 회복을 위한 적당한 처분을 하였다면, 무는 명예 훼손으로 인해 병에게 발생한 재산상 손해를 배상할 책임이 없다.

7. 다음 자료에 대한 옳은 설명만을 <보기>에서 있는 대로 고른 것은? (단, A~C는 국제 연합의 주요 기관임.) [3점]



1986년 오늘, 국제 연합의 모든 회원국으로 구성된 의결 기관인 A에서 ○○국을 규탄하는 결의안이 채택되었습니다. 자세한 내용을 들어 보겠습니다.

아나운서

1984년 △△국에서 ○○국에 적대적인 새로운 정권이 출범하자 ○○국이 △△국 내 반군에게 무기를 제공하였습니다. 이에 △△국은 ○○국의 무기 제공 행위가 불법적인 시도라며 ○○국을 B에 제소하였습니다. B는 ○○국의 행위가 국제 연합 헌장 및 ①국제 관습법이 금지하는 타국에 대한 무력 침공이라고 보고 △△국의 피해에 대해 배상하도록 판결하였습니다. 하지만 ○○국은 B의 판결 이행을 거부하였고 이에 C가 판결 집행을 결정하려 했지만 C의 상임 이사국 중 하나인 ○○국의 반대로 무산되자 A에서 이 결의안을 채택한 것입니다.



기자

<보 기>

- ㄱ. B에 제소된 사건의 당사자에는 국가뿐 아니라 국가와 국제법상 분쟁 중인 개인도 포함된다.
- ㄴ. 절차 사항이 아닌 실질 사항에 대한 C의 결정은 상임 이사국의 거부권 행사 없이 9개국 이상의 찬성 투표로 성립된다.
- ㄷ. A는 B를 구성하는 재판관 선출 권한을 독점적으로 가진다.
- ㄹ. ①은 성문화된 규범이 아님에도 B의 재판 준거로 활용될 수 있다.

- ① ㄱ, ㄷ
- ② ㄴ, ㄹ
- ③ ㄷ, ㄹ
- ④ ㄱ, ㄴ, ㄷ
- ⑤ ㄱ, ㄴ, ㄹ

8. 다음 사례에 대한 법적 판단으로 옳은 것은?

온라인 쇼핑몰을 운영하는 갑(25세)이 ○○ 운동화 모조품을 진품으로 속이고 판매하다 사기 혐의로 고발되자, 갑은 ‘을이 수사 기관에서 허위 진술해 주면 100만 원을 지급하겠다’는 사회 질서에 반하는 계약을 을과 체결하였다. 한편 병(18세)은 갑이 판매하는 ○○ 운동화 모조품을 진품으로 믿고 계약을 체결하였다. 이후 병이 형 몰래 형의 휴대폰을 사용하여 송금하고 갑에게 자신이 미성년자라서 형의 이름으로 입금하였다고 말하여, 갑은 병이 미성년자임을 알게 되었다. 이후 병은 구입한 운동화를 친구 정(18세)에게 아무런 대가 없이 선물하였다. 다음 날 이러한 사실 전부를 알게 된 병의 법정 대리인 A가 정의 법정 대리인 B에게 이야기하여 B도 비로소 병과 정의 운동화 증여에 대해 알게 되었다.

- ① 을이 갑과의 계약에 따른 진술을 하였다면, 갑은 을에게 100만 원을 지급하여야 한다.
- ② 병이 미성년자임을 갑이 알게 되었을 당시 갑은 병과의 ○○ 운동화 매매 계약 체결의 의사 표시를 철회할 수 있다.
- ③ A가 갑과 병의 ○○ 운동화 매매 계약을 취소하더라도 갑은 병에게 ○○ 운동화 모조품 인도에 대하여 채무 불이행에 따른 손해 배상 책임을 진다.
- ④ A는 병과 정의 ○○ 운동화 증여 계약을 취소할 수 없다.
- ⑤ 병은 B에게 병과 정의 ○○ 운동화 증여 계약을 취소할 것인지에 대한 확답을 촉구할 수 있다.

9. 죄형 법정주의의 구체적 원칙 A, B에 대한 설명으로 옳은 것은? [3점]

<헌법 재판소 결정으로 보는 죄형 법정주의>

- A 적용 사례: 미성년자에게 불량 만화 판매를 금지하는 ○○법 조항은 ‘불량 만화’라는 모호하고 막연한 개념을 사용함으로써 그 적용 범위를 법 집행 기관의 자의적인 판단에 맡기고 있어 위헌임.
- B 적용 사례: 음주 운전 금지 규정을 다시 위반한 사람을 가장 처벌하도록 개정된 △△법 조항은 죄질이 비교적 낮은 유형의 재범 음주 운전 행위도 일률적으로 가장 처벌하도록 하여 책임과 형벌 사이에 비례성을 인정하기 어려워 위헌임.

- ① A는 관습법으로는 범죄와 형벌을 정할 수 없다는 원칙이다.
- ② A는 적용할 형벌 규정이 없는 경우 법관의 자의적인 판단으로 유사한 규정을 적용하여 처벌할 수 없다는 원칙이다.
- ③ B는 범죄의 성립과 처벌은 행위 시 법률에 의하여야 한다는 원칙이다.
- ④ B는 의회에서 제정된 법률에 의해 범죄와 형벌이 규정된 것에 그치지 않고, 범죄와 형벌 사이에 균형을 이루어야 한다는 원칙이다.
- ⑤ B와 달리 A는 현대적 의미의 죄형 법정주의에서 파생된 원칙이다.

10. 정치 참여 집단 A~C에 대한 설명으로 옳은 것은? (단, A~C는 각각 정당, 이익 집단, 시민 단체 중 하나임.)

최근 의료계에서 인공지능(AI)의 활용이 빠르게 확산됨에 따라 A는 고령층 유권자의 지지를 얻기 위해 인공지능을 활용한 의료 서비스 도입을 다가오는 총선 공약에 포함하기로 하였다. 의료 기기 업계의 이해를 대변하는 B는 새로운 시장과 일자리 창출 효과를 기대하면서 정부의 재정 지원을 함께 요구하였다. 의료 소비자 보호라는 공익 실현을 목적으로 시민들이 자발적으로 결성한 C는 개인 정보 유출에 대비한 제도적 안전장치를 마련할 것을 촉구하였다.

- ① A는 국민의 다양한 요구를 집약하여 법률안을 발의하는 주체이다.
- ② B는 공직 선거에 후보자를 공천한다.
- ③ C는 정치 사회화 기능을 수행하지 않는다.
- ④ B와 달리 A는 자신들의 활동에 대해 정치적 책임을 진다.
- ⑤ B와 C 모두 정책 결정 기구로서 정치 과정에서 산출을 담당한다.

11. 다음 자료에 대한 설명으로 옳은 것은? (단, A, B는 각각 현실주의, 자유주의 중 하나임.)

◇◇칼럼◇◇

□□□□년 □□월 □□일

유엔 기후 변화 협약 당사국 총회에서 온실가스 감축 의무를 규정한 ① 교토 의정서가 채택되었다. ○○ 지역 국가 연합은 이번 합의를 국제 협력의 전환점으로 평가했다. 이는 국제 사회의 규범과 제도를 통한 협력을 강조하는 A 관점을 지지하는 사례로 풀이된다. 하지만 △△국은 이번 합의가 자국을 포함한 일부 선진국에게만 과도한 감축 의무를 부과하는 합의라고 비판하며 비준을 거부하기로 했다. 이는 국가 이익을 국제 협력보다 중시하는 B 관점을 선명하게 보여준다.

- ① A는 국가 간 협동에 따른 국제 사회의 집단적 대응을 불신한다.
- ② B는 국가 간 힘의 균형이 이루어질 때 국제 분쟁 발생 가능성이 낮다고 본다.
- ③ B와 달리 A는 국제 사회의 무정부성을 전제하며 국가를 국제 사회에서 가장 중요한 행위자로 간주한다.
- ④ ①과 같은 국제법의 법원(法源)은 국가 간의 명시적 합의이므로 국제기구는 체결 당사자가 될 수 없다.
- ⑤ 다자간 합의를 통해 국제법으로 인정된 ①은 원칙적으로 국제 사회의 모든 국가에 대해 법적 구속력을 가진다.

12. 민법의 기본 원칙 A에 대한 설명으로 옳은 것은?

갑과 을은 갑 소유 부동산에 관한 등기*를 을 명의로 하면서 갑과 을 사이에서는 갑이 소유권을 보유하기로 합의하였다. 이후 갑은 이 합의가 ○○법에 따라 무효임을 이유로 을에게 등기 명의를 돌려달라고 청구하였다. 을은 위법한 합의에 따라 재산을 준 때에는 반환을 청구하지 못한다는 △△법을 이유로 반환을 거절하였다. 이에 대해 대법원이 '이 합의에 위법성이 인정된다 하더라도, 부동산에 대한 갑의 권리까지 박탈해서는 안 된다'고 보아 을에게 갑 명의로 등기를 반환하도록 명한 것은 A에 따른 것이다.

* 등기: 국가 기관에서 부동산 등의 권리에 관한 사항을 기록하는 일 또는 그 문서

- ① A는 개인의 사유 재산권을 국가나 다른 개인이 침해하거나 제한할 수 없다는 원칙이다.
- ② A는 개인은 자신의 고의나 과실에 따른 위법한 행위로 타인에게 손해를 끼친 경우에만 책임을 진다는 원칙이다.
- ③ A에 따르면 개인은 계약의 대상, 계약의 구체적 내용, 계약의 방법을 자유로이 결정할 수 있다.
- ④ A에 따르면 계약의 내용이 사회 질서에 반하거나 공공의 이익을 침해할 경우 법적 효력이 인정되지 않는다.
- ⑤ 제조물의 결함으로 인한 손해에 대해 제조업자에게 고의나 과실이 없더라도 손해 배상 책임을 인정하는 것은 A에 근거한다.

13. 다음 자료에 대한 옳은 설명만을 <보기>에서 고른 것은? (단, (가), (나)는 각각 주민 투표, 주민 소환 중 하나임.) [3점]

우리나라 ○○시의 신규 산업 단지 조성 계획을 둘러싸고 주민 갈등이 커지고 있다. 일부 주민 단체는 ○○시 행정 사무를 총괄하는 기관으로서 해당 계획을 강력하게 추진해 온 A에 대해 주민이 임기 중 해임 여부를 묻는 (가)의 투표를 청구하기 위한 법적 절차에 돌입했다. 다른 주민 단체는 B가 의결한 신규 산업 단지 조성 계획 관련 조례안이 주민에게 과도한 부담을 준다고 보고 계획의 찬반 여부를 묻는 (나)의 실시를 청구할 것을 예고했다.

<보 기>

- ㄱ. (가)를 통해 주민은 조례의 폐지를 A에게 직접 청구할 수 있다.
- ㄴ. (가)와 (나) 모두 지방 자치의 민주성 제고를 목적으로 한다.
- ㄷ. B가 의결한 조례의 시행을 위해서는 (나)를 거쳐야 한다.
- ㄹ. B는 A가 편성한 지방 자치 단체의 예산안에 대한 심의·확정권을 가진다.

- ① ㄱ, ㄴ ② ㄱ, ㄷ ③ ㄴ, ㄷ ④ ㄴ, ㄹ ⑤ ㄷ, ㄹ

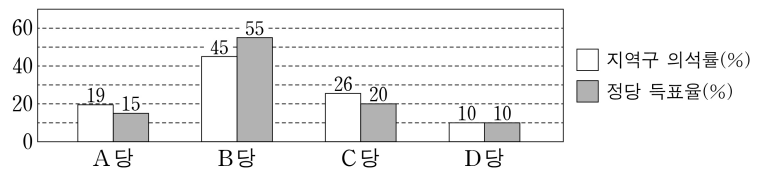
14. 다음 사례에 대한 법적 판단으로 옳은 것은? [3점]

갑은 법률혼 관계의 아내가 A를 출산한 후 사망하여 A를 홀로 양육하다 A가 3세 되던 해에 B를 양육하던 을과 법률혼을 하였다. B는 법률혼 관계에 있던 을과 병 사이에서 출생한 자녀로, 을과 병이 이혼하면서 을이 단독 친권자로 지정되었다. 갑과 법률혼을 한 을은 그 해에 C를 출산하였고, 다음 해 갑은 행위 능력이 있는 B의 동의를 받아 B를 적법하게 입양하였다. 1년 후 병이 사망하여 B는 병으로부터 상당한 재산을 상속받았다. 다음 해 갑은 을의 부정행위를 이유로 을과 협의 이혼하였고, 그해 말 갑은 갑작스런 사고로 유언 없이 사망하였다.

- ① 갑과 을이 이혼 당시 A의 친권자, C의 친권자를 협의하여 정하지 않으면 법원은 직권으로 친권자를 지정하여야 한다.
- ② 을은 B가 병으로부터 상속받은 재산을 관리하지 못한다.
- ③ B가 양자로 입양된 때에 갑은 B와 친족이지만 을은 A와 친족이 아니다.
- ④ B가 양자로 입양된 때에 병은 B와 친족이지만 C는 B와 친족이 아니다.
- ⑤ 갑의 사망 당시 A와 C는 갑의 상속인이지만 B는 갑의 상속인이 아니다.

15. 다음 자료에 대한 옳은 분석만을 <보기>에서 있는 대로 고른 것은?

갑국의 의회 전체 의석수는 400석으로 지역구 의석수와 비례 대표 의석수가 동일하다. 유권자는 지역구 의원 선출을 위해 후보자에게 1표, 비례 대표 의원 선출을 위해 정당에 1표를 행사한다. 지역구 의원 선거에서 선거구 수는 100개이며 각 선거구별로 같은 수의 의회 의원이 득표순으로 선출된다. 비례 대표 의석은 전국을 하나의 선거구로 하여 정당 득표율에 의회 전체 의석수를 곱하여 산출된 수의 정수(整數)만큼 각 정당의 의석으로 배정한 후, 정당별로 배정된 의석수에서 해당 정당의 지역구 의석수를 뺀 나머지 의석을 각 정당의 비례 대표 의석으로 배분한다. 다음은 갑국의 최근 의회 의원 선거 결과이다.



갑국은 현재의 의회 전체 의석수와 지역구 의원 선거의 선거구 수를 유지하면서 선거구 재획정 없이 다음과 같은 두 가지 선거 제도 개편안을 검토하고 있다.

- 지역구 의석수와 비례 대표 의석수의 비는 <1안>에서는 1:3, <2안>에서는 현행과 동일하다.
- 지역구 의원 선출 방식의 경우 <1안>에서는 1차 투표에서 50% 초과 득표한 후보자가 있으면 당선인으로 확정하고, 당선인이 없으면 1위와 2위 득표자를 대상으로 2차 투표하여 최다 득표자를 당선인으로 결정한다. <2안>에서는 현행과 동일하게 당선인을 결정한다.
- 비례 대표 의석 배분 방식의 경우 <1안>에서는 현행과 동일하며, <2안>에서는 전국을 하나의 선거구로 하여 정당 득표율에 비례 대표 의석수를 곱하여 산출된 수의 정수(整數)만큼 각 정당의 비례 대표 의석으로 배분한다.

* 갑국에는 A~D당만 존재하고, 무소속 의원은 없으며, 투표율은 100%이고 무효표는 없음.
** <2안>의 경우, 최근 의회 의원 선거 결과를 기준으로 판단함.

<보 기>

- ㄱ. <1안>의 경우, 지역구 의원 선거에서 1차 투표의 최다 득표자가 2차 투표에서 낙선될 가능성을 배제할 수 없다.
- ㄴ. <1안>과 달리 현행 지역구 의원 선거의 선거구제는 동일 선거구 내 당선자 간 표의 등가성 문제가 발생할 수 있는 제도이다.
- ㄷ. <2안> 적용 결과와 달리 현행에서는 의회 전체 의석수의 과반을 차지한 정당이 존재한다.

- ① ㄱ ② ㄷ ③ ㄱ, ㄴ ④ ㄴ, ㄷ ⑤ ㄱ, ㄴ, ㄷ

4 (정치와 법)

사회탐구 영역

16. 우리나라 헌법 기관 A~F에 대한 설명으로 옳은 것은? [3점]

A의 장(長), B의 장(長), C는 모두 D의 동의를 얻어 E가 임명한다. 정당 해산 심판을 담당하는 A를 구성하는 권한은 B의 장(長), D 그리고 E가 나누어 가진다. 한편 행정 각부의 장(長)은 F 중에서 C의 제청으로 E가 임명한다.

- ① A는 E 선거의 효력을 다루는 선거 소송 사건의 최종심을 관할한다.
- ② B의 장(長)은 대법관 임명 제청에 대한 동의권을 가진다.
- ③ C와 E 모두 A의 탄핵 소추 대상이 된다.
- ④ D는 F에 대한 해임을 의결할 수 있다.
- ⑤ E가 일반 사면을 명하려면 D의 동의를 얻어야 한다.

[17~18] 다음 자료를 보고 물음에 답하시오.



○○○○ 범죄 데이터리

“일상 속 범죄를 파헤치다”

1화 “믿을 수 없는 목소리”

A(60세)는 금융 기관을 사칭한 전화를 받고 5,000만 원을 인출하여, 갑(30세)에게 돈을 건네주려고 하였다. 이를 눈치챈 은행의 청원 경찰이 갑을 붙잡은 후 경찰에 인계하였다. 이후 검사는 갑을 구속 기소하였고, 이 사건으로 인해 A는 상당한 정신적 고통을 겪고 있는데...

2화 “허위 영상, 진짜 피해”

대학생 B(20세)는 자신의 얼굴이 합성된 허위 영상이 온라인에 유포되고 있다는 것을 알게 되어 이를 신고하였다. 경찰은 수사 결과 B의 대학 동기인 을(20세)이 자신의 동생 병(13세)과 공모하여 지인 수십 명의 얼굴이 합성된 허위 영상을 제작하여 유포한 것을 확인하였다. 경찰은 을에 대해서는 구속 영장을 신청하였고, 병에 대해서는 소년부 송치를 검토 중인데...

3화 “교제 폭력의 실상”

C(22세)는 교제 중인 정(25세)의 위치 추적, 휴대폰 검열 등 지속적인 통제와 협박을 이유로 이별을 통보하였다. 화가 난 ㉠ 정은 C를 둔기로 폭행하였고, 생명의 위협을 느껴 이를 피하고자 ㉡ C는 정을 밀치고 도망갔다. ㉢ 정이 계속 쫓아오자 이를 피해 ㉣ C는 옆집 대문을 부수고 들어가 신고를 하였다. 이후 경찰에 의해 정은 체포되었고, 검사는 C의 행위에 대해 전체 범질서에 비추어 위법하지 않다고 보아 불기소 처분을 하였다. 그 후 1심 법원은 불구속 재판을 받던 정에 대해 징역 2년을 선고하면서 C에 대한 보복의 위협 등을 이유로 구속하는데...

17. 위 자료에 대한 법적 판단으로 옳은 것은? [3점]

- ① 갑은 수사 단계에서 진술 거부권을 행사할 수 있으나, 재판에 출석하여서는 진술 거부권을 행사할 수 없다.
- ② 경찰이 구속 영장 신청을 함에 따라 검사는 을을 직접 대면하여 심문한 후 구속 영장 발부 여부를 결정하는 것이 원칙이다.
- ③ 병은 소년법상 보호 처분의 대상은 될 수 있으나, 기소 유에 처분의 대상은 될 수 없다.
- ④ 정은 1심 법원에서 징역을 선고받고 구속되었기에 유죄로 추정된다.
- ⑤ 정에게 선고된 형이 확정되면 정은 노역에 복무해야 하고, 일정 기간이 지나면 보석을 통해 석방될 수 있다.

18. 위 자료에 대한 옳은 법적 판단만을 <보기>에서 있는 대로 고른 것은?

<보 기>

- ㄱ. 갑에 대한 유죄가 확정되더라도 A는 형사 보상 제도를 통해서 자신의 피해를 보상받을 수 없다.
- ㄴ. 검사가 을을 기소한다면, B는 을에 대한 형사 소송의 당사자로 참여하여 자신의 피해를 배상받을 수 있다.
- ㄷ. 검사가 ㉠을 정당방위로 ㉡을 긴급 피난으로 판단하였다면, 검사는 ㉢을 C의 법익에 대한 현재의 부당한 침해로, ㉣을 C의 법익에 대한 현재의 위난으로 보았을 것이다.

- ① ㄱ ② ㄴ ③ ㄱ, ㄷ ④ ㄴ, ㄷ ⑤ ㄱ, ㄴ, ㄷ

19. 다음 사례에 대한 법적 판단으로 옳은 것은? [3점]

고등학생 갑과 을은 모두 민법상 미성년자로, 겨울 방학 2개월 동안 상시 근로자 20명이 고용된 ○○ 공장에서 매 근무일(수요일~일요일, 주 5일) 8시~16시까지(휴게 시간 11:30~12:30) 물품 검수 및 포장 업무를 하고 법정 최저 임금보다 높은 시간당 12,000원의 임금을 지급받는 내용의 근로 계약을 사장 병과 체결하였다. 근로 기준법에 따르면 당시 갑과 을은 고용 노동부 장관의 취직 인허증 발급 대상은 아니었고, 병은 갑과 달리 을에 대해서는 연령을 증명하는 가족 관계 기록 사항에 관한 증명서를 사업장에 갖추어 둘 의무가 있었다. 2개월 후 갑은 동일한 조건으로 계약을 연장하면서 노동조합에도 가입하여 활동하였는데, 1년 후 업무 능력 부족을 이유로 병으로부터 갑작스럽게 해고 통보를 받았다. 이에 갑은 정당한 해고의 요건을 갖추지 못하였을 뿐 아니라, 자신의 노동조합 활동을 방해하려는 목적의 해고라는 이유로 □□ 지방 노동 위원회에 구제 신청을 하였다. □□ 지방 노동 위원회는 갑의 부당 해고 구제 신청은 인용하였으나, 갑의 부당 노동 행위 구제 신청은 기각하였다.

- ① 병은 갑과 을 모두에 대하여 친권자 또는 후견인의 동의를 사업장에 갖추어 두어야 한다.
- ② 병이 을의 근로 시간을 매 근무일 17시까지 1시간씩 연장하는 것은 을과의 합의가 있어도 근로 기준법에 위배된다.
- ③ 갑과 을이 근로 계약 내용대로 근무한다면 갑과 을의 일요일 근무에 대해 병이 지급해야 할 1일 임금은 각각 126,000원이다.
- ④ 노동 위원회의 구제 절차와 별도로 갑은 병을 상대로 해고의 효력을 다루는 행정 소송을 제기할 수 있다.
- ⑤ □□ 지방 노동 위원회는 갑에 대한 해고는 부당하나 갑의 근로 3권을 침해한 것은 아니라고 보았다.

20. 다음 자료에 대한 법적 판단으로 옳은 것은?

- □□ 행정 법원은 갑이 제기한 수사 경력 자료 삭제 거부 처분의 취소 소송 진행 중, 소년부 법원에서 불처분 결정된 사건의 수사 경력 자료의 삭제 및 보존 기간을 규정하지 않은 ○○법 조항에 대하여 헌법 재판소에 A를 제청하였다. 헌법 재판소는 해당 조항으로 인해 수사 경력 자료가 일률적으로 당사자가 사망할 때까지 보존되는 것은 침해의 최소성에 위배되며, 달성되는 공익에 비해 당사자가 입을 수 있는 불이익이 더 크다고 보아 헌법에 합치되지 않는다고 결정하였다.
- 가정 폭력 피해자인 을은 가정 폭력 가해자인 전(前) 배우자가 아무런 제한 없이 그 자녀의 가족 관계 증명서를 발급받을 수 있도록 한 △△법 조항이 자신의 개인 정보 자기 결정권을 침해한다며 헌법 재판소에 B를 청구하였다. 헌법 재판소는 △△법 조항이 정당한 입법 목적 달성을 위한 적합한 수단이지만 필요한 범위를 넘어선 것일 뿐 아니라 이로 인해 침해되는 을의 기본권이 이를 통해 달성하려는 공익보다 중하다고 보아 헌법에 합치되지 않는다고 결정하였다.

- ① □□ 행정 법원이 헌법 재판소에 A를 제청하기 위해서는 갑이 □□ 행정 법원에 필수적으로 A 제청 신청을 하여야 한다.
- ② □□ 행정 법원이 제청한 A는 수사 경력 자료 삭제 거부 처분을 심판 대상으로 하였다.
- ③ 을이 청구한 B는 △△법 조항의 위헌 여부를 판단하는 위헌 심사형 헌법 소원 심판이다.
- ④ 을이 청구한 B와 달리 □□ 행정 법원이 제청한 A는 구체적 사건의 재판에 적용되는 법률의 위헌 여부가 재판의 전제가 될 것을 요구한다.
- ⑤ 헌법 재판소는 ○○법 조항과 달리 △△법 조항이 헌법상 과잉 금지의 원칙에 위배된다고 판단하였다.

* 확인 사항

- 답안지의 해당란에 필요한 내용을 정확히 기입(표기)했는지 확인 하시오.

2026학년도 대학수학능력시험

사회탐구 영역 정답표
(정치와 법) 과목

문항 번호	정 답	배 점	문항 번호	정 답	배 점	문항 번호	정 답	배 점	문항 번호	정 답	배 점
1	⑤	2	6	③	3	11	②	2	16	⑤	3
2	①	3	7	②	3	12	①	2	17	③	3
3	③	2	8	②	2	13	④	3	18	③	2
4	①	2	9	④	3	14	②	3	19	⑤	3
5	⑤	3	10	④	2	15	⑤	2	20	④	2

제 4 교시

사회탐구 영역(사회·문화)

성명

수험 번호

제 [] 선택

1. 밑줄 친 ㉠~㉣과 같은 현상의 일반적인 특징에 대한 설명으로 옳은 것은?

길이 약 1 mm의 투명한 예쁜꼬마선충(Caenorhabditis elegans)은 유전적 특징이 인간의 DNA와 유사한 것으로 밝혀졌다. 이 선충은 ㉠ 짧은 수명과 빠른 세대 교체 덕분에 ㉡ 세포 발달과 노화 과정을 규명하는 데 적합하다. 특히 이 선충은 신경 세포와 신경망 구조가 밝혀져 있어 ㉢ 신경계의 기능과 발달 원리를 파악하는 데 큰 기여를 했다. ㉣ 예쁜꼬마선충의 변이에 따른 진화와 적응의 과정은 ㉤ 인간 질병의 유전적 기반을 이해하는 데도 중요한 단서를 제공한다.

- ① ㉠과 같은 현상은 인과 관계가 불분명하다.
 ② ㉡과 같은 현상은 불가치적이다.
 ③ ㉢과 같은 현상은 확실성의 원리가 적용된다.
 ④ ㉣과 같은 현상은 보편성과 특수성이 공존한다.
 ⑤ ㉤과 같은 현상은 개연성의 원리가 적용된다.

2. 다음 글에서 개인과 사회의 관계를 바라보는 필자의 관점에 대한 옳은 설명만을 <보기>에서 고른 것은? [3점]

개인은 많은 활동을 한다. 그것도 자신이 원해서 그러한 일을 시작한다. 그리고 많은 시간 동안 자신이 하도록 되어 있는 일들도 한다. 원하는 일과 주어진 일이 일치할 때는 사회에 얽매어 있다는 것을 개인은 알지 못한다. 그런데 주어진 일에서 벗어나고 싶다고 느끼는 순간, 개인은 비로소 자신이 사회에 얽매어 있다는 것을 깨닫게 된다. 이는 개인이 인식하는 경계 너머에는 늘 개인의 활동에 사회가 깊숙이 자리하고 있음을 시사한다.

<보 기>

- ㄱ. 개인에게 사회 구조는 불가항력적이라고 본다.
 ㄴ. 집합적 속성은 개인의 속성에 의해 결정된다고 본다.
 ㄷ. 개인은 사회 속에서만 존재의 의미를 갖는다고 본다.
 ㄹ. 사회 규범은 개인이 옳다고 믿기 때문에 존재한다고 본다.

- ① ㄱ, ㄴ ② ㄱ, ㄷ ③ ㄴ, ㄷ ④ ㄴ, ㄹ ⑤ ㄷ, ㄹ

3. 밑줄 친 ㉠~㉣에 대한 설명으로 옳은 것은? [3점]

○○신문

◇◇◇◇년 ◇◇월 ◇◇일

토착어의 숨결을 이어가다.

갑국은 다양한 ㉠ 토착어 사용으로 인한 행정의 비효율성을 개선하기 위해 ㉡ 국가 공용어를 지정하였다. 이후 갑국 토착민들의 다양한 언어는 급속도로 사라지고 있다. 이에 일부 지역의 토착민들은 국가 공용어를 사용하면서도 지역의 고유한 토착어를 계승하기 위해 ㉢ 후손들에게 토착어를 교육하고 있다. 한편 토착어 소멸을 우려한 국제기구 A는 갑국 토착어를 포함한 ㉣ 토착어 보존 10년 프로젝트를 전 세계에 공표하였다. 갑국 정부는 소수 언어 사전을 발간하는 등 ㉤ 토착어 문화 보존을 위해 노력하겠다고 프로젝트 참여를 약속했다.

- ① ㉠은 비물질 문화이자 갑국의 지역 문화이다.
 ② ㉡은 갑국이 문화 지체 현상을 해결하기 위한 것이다.
 ③ ㉢은 지배 집단에 저항하는 반문화에 해당한다.
 ④ ㉣로 인해 갑국에서는 문화의 획일화가 나타날 우려가 있다.
 ⑤ ㉤은 갑국이 하위문화를 주류 문화로 바꾸려고 하는 것이다.

4. 표는 문화의 속성 A~D가 부각된 사례를 나타낸 것이다. 이에 대한 옳은 설명만을 <보기>에서 고른 것은? (단, A~D는 각각 공유성, 변동성, 전체성, 축적성 중 하나임.)

문화의 속성	부각된 사례
A, B	갑국에서는 집에서 전통 음식을 만들어 먹는 것이 일상적이었다. 최근에는 이러한 모습은 찾아볼 수 없고 식품 회사가 만든 전통 음식을 사 먹는 것을 당연하게 여긴다.
A, D	을국에서는 일반 자동차만 운행되고 있었는데, 몇 년 전 자율 주행 기능이 장착된 자동차가 등장하였다. 최근에는 일반 자동차가 자율 주행 자동차로 대체되고 있다.
B, C	병국에서는 집에서 목욕을 할 때, 사우나를 즐기는 것이 보편적이다. 이는 실내 중심의 여가 생활, 개인주의적 성향 등과 관련이 있다.

<보 기>

- ㄱ. 문화를 구성하는 요소들이 유기적으로 연결되어 있는 것은 A에 해당한다.
 ㄴ. 문화를 통해 구성원들이 사고와 행동의 동질성을 갖게 되는 것은 B에 해당한다.
 ㄷ. 문화 요소가 시간의 흐름에 따라 등장하고 사라지는 것은 C에 해당한다.
 ㄹ. 문화 요소들이 세대 간 전승되면서 다양해지고 풍부해지는 것은 D에 해당한다.

- ① ㄱ, ㄴ ② ㄱ, ㄷ ③ ㄴ, ㄷ ④ ㄴ, ㄹ ⑤ ㄷ, ㄹ

5. 다음 자료에 대한 옳은 설명만을 <보기>에서 있는 대로 고른 것은? [3점]

연구자 갑은 요즘 청소년들이 게임을 하지 않으면 친구 관계를 유지하기 어렵다는 기사를 접했다. 이후 갑은 친구와의 관계에 대한 인식이 청소년의 게임 의존에 미치는 영향을 파악하고자 (가)를 가설로 설정하고 연구를 진행하였다. 이를 위해 갑은 A 기관이 공개한 청소년 대상 설문 조사 자료에서 ㉠ 친구와의 관계에 대한 인식을 측정하는 문항과 게임 의존 정도를 측정하는 문항의 응답 결과에 대해 청소년 1,000명을 무작위로 추출하여 분석하였다. 자료 분석 결과, 친구와의 관계에 대한 긍정적 인식 정도가 청소년 게임 의존 정도에 미치는 영향은 통계적으로 유의미한 부(-)의 관계인 것으로 나타났다. 분석 결과를 토대로 갑은 (나)라고 제언하였다.

<보 기>

- ㄱ. ㉠은 갑의 연구에서 1차 자료 수집을 위한 조사 도구이다.
 ㄴ. (가)에는 ‘친구와의 관계에 대한 인식이 긍정적일수록 청소년의 게임 의존도가 높을 것이다.’가 들어갈 수 있다.
 ㄷ. (나)에는 ‘청소년의 게임 과의존을 예방하기 위해서는 친구와의 관계를 긍정적으로 형성해 가는 것이 필요하다.’가 들어갈 수 없다.

- ① ㄴ ② ㄷ ③ ㄱ, ㄴ ④ ㄱ, ㄷ ⑤ ㄱ, ㄴ, ㄷ

2 (사회 · 문화)

사회탐구 영역

6. 다음 자료의 A~C에 대한 설명으로 옳은 것은?

문화를 바라보는 관점 A로 살펴본 결과, 동물의 피를 식재료로 쓰는 나라에는 대표적으로 갑국과 을국이 있습니다. 갑국 사람들은 전통적으로 다진 고기에 소의 피를 첨가한 후 조리하여 먹는 데 반해, 을국 사람들은 소의 피를 응고시켜 덩어리째 끓여 먹습니다.

갑국 사람들은 을국 사람들의 식문화를 미개하다고 보고 있는데, 이는 문화 이해 태도인 B에 해당합니다. 갑국 사람들은 을국의 역사적, 사회적 맥락에서 을국의 식문화를 파악하는 문화 이해 태도인 C를 갖춰야 합니다.

A, B, C를 활용하여 세계의 식문화에 대해 두 학생 모두 옳게 발표했습니다.

- ① A는 서로 다른 문화를 객관적으로 이해하는 데 기여한다.
- ② A는 문화 요소 간의 관계를 전체적 맥락에서 살펴보는 관점이다.
- ③ B는 자문화의 정체성을 약화시킨다는 비판을 받는다.
- ④ C는 문화의 다양성을 저해할 수 있다는 비판을 받는다.
- ⑤ B와 달리 C는 문화를 이해가 아닌 평가의 대상으로 본다.

7. 다음 자료에 대한 설명으로 옳은 것은?

최근 주목받고 있는 애니메이션 ○○는 갑국의 일부 젊은이들이 즐겨온 을국의 아이돌 음악에 갑국 대중음악의 색깔을 입혀 갑국에서 창작된 작품이다. ○○에는 갑국 대중음악 요소를 을국 아이돌 가수의 노래에 녹여낸 새로운 음악 형식이 나타난다. 갑국은 온라인 동영상 플랫폼을 통해 ○○를 수출하였고, ○○는 갑국뿐만 아니라 을국에서 선풍적인 인기를 얻은 후 병국을 포함하여 세계적인 흥행을 일으키고 있다. 이후, 을국의 아이돌 음악은 병국의 음원 시장을 장악하며 젊은이들이 열광하는 음악 장르 중 하나로 자리 잡았다.

- ① 갑국에서는 자극 전파에 의한 문화 변동이 나타난다.
- ② 갑국과 병국 모두에서 문화 공존이 나타난다.
- ③ 을국과 병국 모두에서 문화 융합이 나타난다.
- ④ 을국과 병국 모두에서 직접 전파에 의한 문화 변동이 나타난다.
- ⑤ 갑국, 을국과 달리 병국에서는 문화 동화가 나타난다.

8. 다음 자료에 대한 설명으로 옳은 것은? [3점]

A대학교 26학번 ㉠ 예비 대학생이 되신 걸 축하합니다!
입학 후 하고 싶은 일을 메모지에 적어서 붙여 주세요.

재활 관련 지식을 잡지에서 찾아보며 고등학교 때부터 스포츠 트레이너가 되려고 준비했습니다. 관련 자격증을 취득하여 학과 내 재활 봉사 소모임을 만들고 싶어요. 국제 의료 봉사 단체에서 경험도 쌓고 싶습니다.
- 갑, 간호학과 입학 예정

저는 기후 관련 환경 단체에서 활동도 하고 싶고, 가족과 여행도 가고 싶어요. 대학원 진학과 대기업 취업으로 고민하고 있는데, 무엇이든 적극적으로 도전해 보겠습니다.
- 을, 전자공학과 입학 예정

군대 가기 전까지 인권 관련 연구소에서 실태 조사와 분석 경험을 쌓고 싶어요. 그리고 ㉡ 교환 학생으로 해외에 나가 견문을 넓히고 싶어요.
- 병, 사회학과 입학 예정

- ① ㉠과 달리 ㉡은 성취 지위이다.
- ② 자료에서 역할 갈등과 예기 사회화의 사례를 확인할 수 있다.
- ③ 갑의 메모지에 적혀 있는 비공식 조직의 개수가 을의 메모지에 적혀 있는 1차 집단의 개수보다 1개 많다.
- ④ 을의 메모지에 적혀 있는 공식적 사회화 기관의 개수와 자발적 결사체의 개수는 같다.
- ⑤ 병의 메모지에 적혀 있는 이익 사회의 개수는 갑의 메모지에 적혀 있는 비공식적 사회화 기관의 개수와 같다.

9. 다음 자료에 대한 설명으로 옳은 것은? (단, A~D는 각각 뒤르케임의 아노미 이론, 머튼의 아노미 이론, 차별 교제 이론, 낙인 이론 중 하나임.) [3점]

교사: A, B, C, D 중 각자에게 배정된 2가지 일탈 이론의 공통된 특징을 제시하고, 각 일탈 이론의 사례를 발표해 보세요.

갑: A와 B는 모두 문화적 목표와 제도적 수단 간의 괴리가 일탈의 원인이라고 봅니다. A의 사례로 부유한 생활을 원하는 장기 실업자가 쉽게 돈을 벌고자 사이버 사기를 저지른 것, B의 사례로 돈을 벌리고 갚지 않아 친구들에게 사기꾼이라는 비난을 받은 후 이를 내면화하여 사이버 사기를 저지른 것을 들 수 있습니다.

을: C와 D는 모두 일탈 행동 자체보다 일탈 행동에 대한 사회적 반응에 주목합니다. C의 사례로 사이버 사기가 빠르게 확산되는 상황에서 법 규정의 미비로 손쉽게 사이버 사기를 저지르게 된 것, D의 사례로 사기 전과자들과 어울려 그들의 태도와 수법을 배워 사이버 사기에 가담하게 된 것을 들 수 있습니다.

교사: 갑과 을은 모두 각자에게 배정된 2가지 일탈 이론 중에서 하나에만 해당하는 특징을 제시했습니다. 그리고 발표한 사례 4가지 중에는 D의 사례만 맞습니다.

- ① A와 달리 C는 급격한 사회 변동으로 인한 규범의 부재를 일탈 행동의 원인으로 본다.
- ② B와 달리 A는 일탈 행동의 대책으로 정상 집단과의 교류 촉진을 강조한다.
- ③ C와 달리 D는 차별적인 사회적 제재를 일탈 행동의 원인으로 본다.
- ④ D와 달리 B는 일탈 행동의 대책으로 제도화된 기회의 확대를 강조한다.
- ⑤ A, B, C와 달리 D는 1차적 일탈이 2차적 일탈로 이어지는 과정에 초점을 둔다.

10. 다음 자료에 대한 옳은 분석만을 <보기>에서 고른 것은?

다음은 갑국과 을국의 세대별 계층 구성 현황과 사회 이동 현황을 나타낸 것이다. 단, 와 는 해당 칸에 들어갈 값을 표기하지 않은 것이다.

<갑국>

(단위: %)

구분		부모 세대			계
		A	B	C	
자녀 세대	A	10		15	45
	B	5	20	5	30
	C			10	25
계		20	50	30	100

<을국>

(단위: %)

구분		부모 세대			계
		D	E	F	
자녀 세대	D	5	5	0	10
	E		35		60
	F		20	10	30
계		10	60	30	100

* 는 세대 간 상승 이동, 는 세대 간 하강 이동에 해당함.

** 갑국에서 A~C, 을국에서 D~F는 각각 상층, 중층, 하층 중 하나임.


*** 세대 간 이동은 부모 세대와 자녀 세대의 계층을 비교하여 판단함.

<보 기>

- ㄱ. 갑국에서는 계층 대물림 비율이 세대 간 이동 비율보다 높다.
- ㄴ. 을국에서는 세대 간 상승 이동 비율과 세대 간 하강 이동 비율이 동일하다.
- ㄷ. 부모 세대 중층의 경우, 세대 간 이동 비율은 갑국이 을국보다 낮다.
- ㄹ. 부모 세대의 계층 구조는 갑국은 모래시계형, 을국은 다이아몬드형이다.

- ① ㄱ, ㄴ ② ㄱ, ㄷ ③ ㄴ, ㄷ ④ ㄴ, ㄹ ⑤ ㄷ, ㄹ

11. (가), (나)는 정보화로 인한 문제점을 다룬 만평이다. 이에 대한 설명으로 가장 적절한 것은?



- ① (가)는 정보 격차로 인한 계층 양극화 문제를 보여준다.
 ② (가)는 정보 생산자의 정확한 정보 제공이 필요함을 보여준다.
 ③ (나)는 감시로 인한 개인의 자유와 권리 침해 문제를 보여준다.
 ④ (나)는 주체적으로 정보를 분석하고 평가하는 태도가 필요함을 보여준다.
 ⑤ (가)와 (나)는 모두 대면 접촉 감소로 피상적 인간관계가 확산되는 양상을 보여준다.
12. 다음 글에서 사회 변동의 방향을 바라보는 필자의 관점에 대한 옳은 설명만을 <보기>에서 고른 것은? [3점]

갑국은 종교에 기반한 강력한 왕권을 바탕으로 지역 패권을 장악해 나갔다. 이 과정에서 발생한 강압적인 통치와 급격한 제도 변화로 인해 자국민들의 불만은 누적되어 갔다. 갑국은 이 경험을 교훈 삼아 종교를 토대로 한 왕권 체제를 버리고 안정적이고 효율적인 행정 체계를 수립하여 국가의 영향력을 다시 확대해 갔다. 이러한 통치 체제의 소멸과 탄생의 과정 속에서 사회의 요구에 대응하며 체계적으로 분화된 사회로 나아가는 양상은 갑국뿐 아니라 대부분의 국가들에서 나타난다.

<보 기>

- ㄱ. 사회 변동을 지속적인 진보의 과정으로 본다.
 ㄴ. 서구 제국주의를 정당화하는 논리로 이용될 수 있다.
 ㄷ. 사회 변동 방향을 예측하여 대응하는 데 적합하지 않다.
 ㄹ. 운명론적 입장에서 사회의 소멸을 필연적 결과로 간주한다.

- ① ㄱ, ㄴ ② ㄱ, ㄷ ③ ㄴ, ㄷ ④ ㄴ, ㄹ ⑤ ㄷ, ㄹ
13. 다음 자료에 대한 설명으로 옳은 것은? (단, A, B는 각각 관료제, 탈관료제 중 하나임.)

사회학자 갑은 근대 사회의 핵심 가치인 합리성이 A를 통해 사회의 모든 영역으로 확장될 경우 인간 정신이 말살될 수 있다는 점을 우려했다. 합리성을 구현하는 방식이 지나치게 강조되면 A 그 자체가 조직의 목적이 될 수 있다고 보았기 때문이다. 최근 이러한 문제에 대처하기 위해 여러 조직들은 다양한 방식으로 ㉠경직된 절차보다 탄력적인 대응을 강조하는 B의 요소를 도입하고 있다. 그런데 B의 요소가 성공적으로 조직에 도입 되려면 ㉡절차와 규약을 준수하는 것에 대한 구성원 상호 간의 신뢰가 선행되어야 한다는 연구들이 발표되고 있다.

- ① ㉠은 목적 전치 현상에 해당한다.
 ② ㉡은 업무 수행 과정의 예측성을 높이는 데 기여한다.
 ③ A와 달리 B는 연공서열에 따른 보상을 중시한다.
 ④ A에 비해 B는 업무 수행의 전문화와 세분화 정도가 높다.
 ⑤ B에 비해 A는 구성원이 창의성을 발휘하기에 용이하다.

14. 다음은 학생의 응답에 대한 교사의 채점 결과이다. 이에 대한 설명으로 옳은 것은? (단, A~D는 각각 질문지법, 면접법, 실험법, 문헌 연구법 중 하나임.) [3점]

※ 제시된 진술이 자료 수집 방법 A, B, C, D의 특징으로 맞으면 '○', 틀리면 '×'를 쓰시오.

진술	자료 수집 방법				채점 결과
	A	B	C	D	
연구자와 연구 대상자 간의 언어적 상호 작용이 필수적이다.	×	×	○	○	2점
기존의 연구 동향이나 성과를 파악하는 데 주로 활용된다.	○	○	×	×	1점
연구자가 직접 수집한 자료를 계량화하여 양적 연구에 주로 활용한다.	○	×	×	○	0점
(가)	○	×	○	×	㉠

* 교사는 각 진술에 대한 학생 응답을 채점하며, 옳은 응답에는 1점, 틀린 응답에는 0점을 부여함. 각 진술별 만점은 4점임.

- ① B는 연구 대상자와의 정서적 교감을 중시한다.
 ② D는 연구 대상으로부터의 반응을 통해 자료를 수집한다.
 ③ C와 달리 A는 다수를 대상으로 자료를 수집하기 적합하다.
 ④ (가)에 '인위적 통제 상황에서 처치로 인한 변화를 관찰한다.'가 들어간다면 ㉠은 '1점'이다.
 ⑤ ㉠이 '2점'이면 (가)에 '현지에서 연구 대상자와 함께 생활하며 관심을 갖는 연구 현상을 관찰한다.'가 들어갈 수 없다.

15. 다음 자료에 대한 분석으로 옳은 것은? (단, A~C는 각각 사회 보험, 공공 부조, 사회 서비스 중 하나임.) [3점]

갑국에는 사회 보장 제도 A~C만 존재하고, 모두 우리나라의 사회 보장 제도와 동일하다. A는 선별적 복지의 이념을, B는 상호 부조의 원리를 기반으로 하는 제도이다. C는 국민의 인간다운 생활을 보장하고 삶의 질이 향상되도록 상담이나 돌봄 등 여러 방법을 활용하여 지원하는 제도이다. t년에 중복지 수혜자 중 B의 혜택을 받는 사람 수와 t+30년에 중복지 수혜자 중 A의 혜택을 받는 사람 수는 각각 전체 인구의 10%이다. 금전적 지원이 원칙인 두 제도의 혜택을 동시에 받는 사람 수는 t년이 전체 인구의 5%이고, t+30년은 전체 인구의 2%이다. 단, 갑국의 t년과 t+30년 전체 인구는 동일하다.

<전체 인구 중 A~C 수혜자의 비율>

(단위: %)

구분	A 수혜자	B 수혜자	C 수혜자	3중 수혜자	전체 수혜자
t년	20	60	15	0	82
t+30년	15	75	20	2	95

* 중복지 수혜자: A, B, C 중 2개 이상의 혜택을 받는 사람
 ** 3중 수혜자: A, B, C의 혜택을 모두 받는 사람
 *** 전체 수혜자: A, B, C 중 1개 이상의 혜택을 받는 사람

- ① t년에 공공 부조의 혜택만을 받는 사람 수는 사회 서비스의 혜택만을 받는 사람 수보다 적다.
 ② t+30년에 사회 보험의 혜택만을 받는 사람 수가 전체 수혜자 수의 70%이다.
 ③ 전체 인구 중 중복지 수혜자가 아닌 사람 수는 t+30년이 t년보다 많다.
 ④ 중복지 수혜자 중 정부 재정으로 비용을 전액 부담하는 것을 원칙으로 하는 제도의 혜택을 받는 사람 수는 t년이 t+30년보다 많다.
 ⑤ 강제 가입 원칙이 적용되는 제도와 비금전적 지원을 원칙으로 하는 제도의 혜택을 동시에 받는 사람 수는 t년과 t+30년이 동일하다.

4 (사회 · 문화)

사회탐구 영역

16. 다음 자료에 대한 설명으로 옳은 것은? (단, A, B는 각각 절대적 빈곤과 상대적 빈곤 중 하나임.)

최근 갑국은 5년 만에 최저 임금 인상을 단행하였다. 그 결과 사회 구성원 대다수가 누리는 일반적인 생활 수준에 미치지 못하는 A에 해당하는 가구의 수는 변화가 없었다. 이와 달리 최소한의 생활을 유지하기 어려운 상태인 B에 해당하는 가구 중 10%는 최저 임금 상승의 혜택으로 B의 상태에서 벗어날 수 있었지만 여전히 A의 상태인 것으로 나타났다.

- ① A는 소득 수준이 높은 국가에서는 나타나지 않는다.
- ② 갑국은 B를 판단하는 기준 금액을 최저 임금으로 결정한다.
- ③ A와 달리 B는 사회 구성원의 소득 분포를 고려하여 결정된다.
- ④ B와 달리 A는 자신의 소득이 평균적인 생활 수준에 미치지 못한다고 스스로 생각하는 상태를 의미한다.
- ⑤ 갑국은 최저 임금 인상 이후 A에 해당하지만 B에 해당하지 않는 가구가 존재한다.

17. 다음 자료에 대한 설명으로 가장 적절한 것은? [3점]

갑국의 A 종교 신자들이 종교 탄압에서 벗어나기 위해 국교가 A 종교인 을국으로 이주하는 일이 빈번해졌다. 이에 갑국은 사회 통합 실현을 목적으로 종교의 자유를 보장하는 ㉠ 정책을 실시하였다. 이로 인해 갑국 국민들은 누구나 자신들의 신념에 따라 종교 활동을 자유롭게 할 수 있게 되었다. 한편, B 인종에게는 주거 환경이 우수한 지역에 위치한 주택의 일정 비율을 우선 배정하는 ㉡ 정책을 실시하였다. B 인종은 갑국에서 가장 높은 인구 비중을 차지함에도 불구하고 지배 세력과 인종이 다르다는 이유로 낙후된 주거 지역에서 모여 살아야 했기 때문이다. 이후 주거 여건은 일부 개선되었지만, A 종교 신자와 달리 B 인종은 여전히 사회의 다양한 영역에서 차별받으며 살고 있다.

- ① ㉠은 선천적 요인에 의한 사회적 차별을 시정하려는 것이다.
- ② ㉡은 수적 열세로 인한 사회적 차별을 시정하려는 것이다.
- ③ ㉠은 사회적 차별을, ㉡은 역차별을 시정하려는 것이다.
- ④ 사회적 소수자로 규정되는지의 여부가 사회적 상황에 따라 달라지는 것을 A 종교 신자의 사례에서 확인할 수 있다.
- ⑤ 의식적 차원의 노력만으로는 사회적 차별 해소에 근본적인 한계가 있음을 B 인종의 사례에서 확인할 수 있다.

18. 다음 글에서 사회 · 문화 현상을 바라보는 필자의 관점에 대한 옳은 설명만을 <보기>에서 고른 것은?

사회 체계는 물리적 환경과 사회적 조건 속에서 상호 작용하는 개인들의 집합체로 이루어져 있으며, 개인들은 근본적으로 최고의 만족을 추구하는 경향이 강하다. 이러한 개인들이 구축한 관계는 사회적으로 합의된 문화적 가치와 규범에 의해 매개되어 사회 체계의 효율적인 작동을 가능하게 한다.

<보 기>

- ㄱ. 사회가 스스로 균형을 유지하려는 속성을 지닌다고 본다.
- ㄴ. 개인이 현상에 의미를 부여하는 자율적 주체라는 점을 강조한다.
- ㄷ. 지배 집단의 이익을 대변하는 논리로 활용될 수 있다는 비판을 받는다.
- ㄹ. 개별 구성원에 대한 사회 구조의 영향력을 간과한다는 비판을 받는다.

- ① ㄱ, ㄴ ② ㄱ, ㄷ ③ ㄴ, ㄷ ④ ㄴ, ㄹ ⑤ ㄷ, ㄹ

19. 다음 자료에 대한 설명으로 옳은 것은? [3점]

최근 ○○자원 채굴 과정에서 약소국 국민들은 노동에 대한 정당한 대가를 받지 못하고, 채굴할 때 발생하는 환경 오염의 피해를 고스란히 받고 있다. (가) 단체와 (나) 단체는 모두 이러한 현상이 약소국이 강대국에 경제적으로 종속된 국가 간 불평등에 기인한다고 주장한다. 이에 (가) 단체는 자원 채굴로 인한 생태계 파괴를 지적하고 각국 정부에 국제기구가 마련하고 있는 협약에 동참할 것을 촉구하며, 물리력을 활용한 ㉠ 시위를 지속적으로 전개하였다. (나) 단체는 미래 세대의 삶을 이어가기 위해, 지구 환경을 파괴하는 기업의 제품에 대한 ㉡ 불매 운동을 전개하며 지구촌 문제에 관심을 가질 것을 꾸준히 호소하였다.



(가) 단체와 (나) 단체의 국가 간 불평등의 원인에 대한 주장에서 사회 불평등을 바라보는 A 관점을 확인할 수 있습니다.

- ① A 관점은 사회 불평등을 피할 수 없는 필연적인 현상으로 본다.
- ② ㉠은 한정된 자원으로 인해 발생한 국가 간 물리적 충돌을 해결하려는 사회 운동이다.
- ③ ㉡은 세계 시민 의식을 바탕으로 지속 가능한 사회를 만들어 가려는 사회 운동이다.
- ④ (가) 단체는 전 지구적 문제를 국가들의 개별적인 활동으로 해결하려고 한다.
- ⑤ (나) 단체는 국제기구의 제재를 통해 지구 환경 문제를 해결하려고 한다.

20. 다음 자료는 갑국과 을국의 인구 변화 양상에 관한 예측 내용을 요약한 것이다. 이에 대한 분석 및 추론으로 옳은 것은?

요 약

- t년 대비 t+50년 전체 인구는 갑국의 경우 0.5배, 을국의 경우 2배가 되어 t+50년에 갑국과 을국의 전체 인구는 동일한 것으로 나타남.
- 표는 갑국과 을국의 t년 총부양비와 노령화 지수, t년 대비 t+50년의 인구 변화를 나타낸 것임.

구분	t년		t년 대비 t+50년	
	총부양비	노령화 지수	유소년 인구 전체 인구	부양 인구 전체 인구
갑국	150	200	감소	변화 없음
을국	25	100	변화 없음	감소

- 노령화 지수, 유소년(노년) 부양비, 총부양비의 산출식은 다음과 같음.
 - 노령화 지수 = $\frac{\text{노년 인구}(65\text{세 이상 인구})}{\text{유소년 인구}(0\sim 14\text{세 인구})} \times 100$
 - 유소년(노년) 부양비 = $\frac{\text{유소년(노년) 인구}}{\text{부양 인구}(15\sim 64\text{세 인구})} \times 100$
 - 총부양비 = 유소년 부양비 + 노년 부양비
- 다음 조건을 기준으로 사회 문제의 가능성을 판단함.
 - 전체 인구 중 부양 인구의 비율과 경제 성장 동력은 정(+)의 관계임.
 - 노령화 지수와 세대 간 갈등 정도는 정(+)의 관계임.

- ① t년 갑국의 유소년 부양비는 노년 부양비보다 크다.
- ② t년 갑국의 노년 인구는 t년 을국의 노년 인구의 8배이다.
- ③ t년 갑국의 부양 인구는 t+50년 을국의 유소년 인구의 8배이다.
- ④ t년 대비 t+50년에 경제 성장 동력은 갑국과 을국 모두 약화될 것이다.
- ⑤ t년 대비 t+50년에 세대 간 갈등 정도는 갑국이 커지고, 을국은 변함이 없을 것이다.

* 확인 사항

- 답안지의 해당란에 필요한 내용을 정확히 기입(표기)했는지 확인 하시오.

2026학년도 대학수학능력시험

사회탐구 영역 정답표
(사회·문화) 과목

문항 번호	정 답	배 점	문항 번호	정 답	배 점	문항 번호	정 답	배 점	문항 번호	정 답	배 점
1	⑤	2	6	①	2	11	④	2	16	⑤	2
2	②	3	7	②	2	12	①	3	17	④	3
3	①	3	8	⑤	3	13	②	2	18	②	2
4	④	2	9	④	3	14	④	3	19	③	3
5	①	3	10	③	2	15	⑤	3	20	③	2