

제 4 교시

사회탐구 영역(생활과 윤리)

성명 수험 번호 - 제 () 선택

1. (가), (나) 윤리학의 핵심 과제로 가장 적절한 것은?

(가) 윤리학은 ' 좋음, ' 옳음'과 같은 도덕적 용어들의 의미 분석과 도덕적 추론의 타당성을 검증하기 위한 논리적 분석에 주된 관심을 둔다.
 (나) 윤리학은 도덕 이론과 원리를 적용하여, 우리 삶의 다양한 영역에서 발생하는 윤리적 문제들에 대한 해결 방안을 제공하는 데 주된 관심을 둔다.

- ① (가): 다양한 문화권의 관행을 가치중립적으로 서술하는 것이다.
- ② (가): 마땅히 추구해야 할 바람직한 삶의 목적을 제공하는 것이다.
- ③ (나): 도덕 이론에 사용되는 명제의 논리적 구조를 검토하는 것이다.
- ④ (나): 현실의 도덕 문제에 대한 구체적 해법을 모색하는 것이다.
- ⑤ (가)와 (나): 모든 사람에게 보편타당한 도덕규범을 제시하는 것이다.


2. 다음 토론의 핵심 쟁점으로 가장 적절한 것은? [3점]

갑: 생명 과학이 발달함에 따라 뇌 자극과 약물을 통해 인간의 질병을 치료할 수 있게 되었고, 인간의 이타심을 향상시키는 강화도 가능해졌습니다.
 을: 동의합니다. 인간의 이타심을 인위적 조작으로 강화함으로써 사회 이익에 기여하는 도덕적 행동도 증가시킬 수 있게 되었습니다.
 갑: 물론 이타심 강화에 의해 사회 이익에 기여하는 친사회적 행동이 증가하는 것은 사실입니다. 하지만 그러한 행동은 자극에 의한 타율적 반응일 뿐 도덕적 행동은 아닙니다.
 을: 이타심 강화로 인해 증가한 친사회적 행동이 자극에 의한 타율적 반응인 것은 맞습니다. 하지만 결과적으로 사회 이익을 증진하므로 그러한 행동도 도덕적 행동입니다.

- ① 생명 과학의 발달은 인간의 질병 치료에 기여하는가?
- ② 강화에 의한 인간의 친사회적 행동은 도덕적 행동인가?
- ③ 인간의 이타심을 인위적으로 향상시키는 방법이 있는가?
- ④ 강화에 의한 인간의 친사회적 행동은 사회 이익에 기여할 수 있는가?
- ⑤ 강화에 의한 인간의 친사회적 행동은 자극에 의한 타율적 반응인가?

3. 그림의 강연자가 지지할 입장으로 가장 적절한 것은?

시인은 행위하는 인간을 모방하는데, 행위하는 인간은 필연적으로 선인이거나 악인입니다. 인간이 거의 언제나 이 두 가지 범주에 속하는 것은, 모든 인간은 덕과 부덕에 의해 구별되기 때문입니다. 모방된 인간은 필연적으로 우리 이상의 선인이든지, 우리 이하의 악인이든지, 우리와 동등한 인간입니다. 희극과 비극의 차이도 여기에 있습니다. 희극은 실제 이하의 악인을, 비극은 실제 이상의 선인을 재현합니다. 한 가지 명백한 사실은 시인의 임무는 실제 일어난 일이 아니라 일어날 법한 일을 이야기하는 데 있다는 것입니다.



- ① 예술가는 악한 인간의 성품을 묘사해서는 안 된다.
- ② 예술 작품 속 인물에 대한 도덕적 구분은 불가능하다.
- ③ 예술 작품 속 인물이 현실의 인간과 유사할 수는 없다.
- ④ 예술가는 인간의 유덕함을 작품 소재로 삼아서는 안 된다.
- ⑤ 예술가가 개연성 없는 서사를 창작하는 것은 바람직하지 않다.

4. 갑, 을 사상가들의 입장으로 가장 적절한 것은? [3점]

갑: 태초에 무언가가 섞이고 변하여 기(氣)를 얻었고, 기가 변하여 형체를 갖게 되었으며, 형체가 변하여 생명을 얻게 된다. 그리고 그 생명이 변하여 죽음에 이른다.
 을: 늙음[老]과 병듦[病]과 죽음[死]을 떨쳐내지 못하게 되는 것은 세 가지의 법(法)을 끊지 못하기 때문이다. 그 세 가지는 바로 탐욕[貪], 성냄[瞋], 어리석음[癡]이다.

- ① 갑: 죽음은 기가 흩어진 것이므로 운명으로 받아들여서는 안 된다.
- ② 갑: 죽음 앞에 두려움 없이 초연해야 인륜의 도(道)를 완성할 수 있다.
- ③ 을: 죽음의 참모습을 자각하면 업(業)을 짓지 않고 윤회하게 된다.
- ④ 을: 열반에 이르기 위해서는 삶과 죽음의 의존관계를 부정해야 한다.
- ⑤ 갑과 을: 도를 얻음으로써 생사(生死)의 얽매임에서 벗어날 수 있다.

5. 다음을 주장한 사상가의 입장으로 가장 적절한 것은?

종교적 인간에게 자연은 결코 단순한 자연이 아니다. 그것은 항상 종교적 의미로 충만해 있다. 우주는 신들의 창조물이고 세계는 신들의 손으로 완성된 것이어서 성스러움으로 가득 차 있기 때문이다. 이는 예를 들면, 신의 현존에 의해서 정화된 장소나 사물에 머무르는 경우와 같이 신들과 직접 교류하는 신성성만은 아니다. 신들은 세계의 구조와 우주적 현상의 구조 그 자체 안에서 다양한 성(聖)의 양태를 현현(顯現)한다.

- ① 성스러움이 드러나는 자연과 세계가 초월적 신 자체이다.
- ② 인간의 노력 없이는 세계 안에 성스러움이 존재할 수 없다.
- ③ 신이 창조한 세계는 실재하지 않지만 일정한 구조를 지닌다.
- ④ 종교적 인간은 신과 직접 교류함으로써만 성스러움을 느낀다.
- ⑤ 종교적 인간은 세속적 공간에서도 성스러움을 체험할 수 있다.

2 (생활과 윤리)

사회탐구 영역

6. 다음을 주장한 사상가의 입장으로 적절한 것만을 <보기>에서 고른 것은?

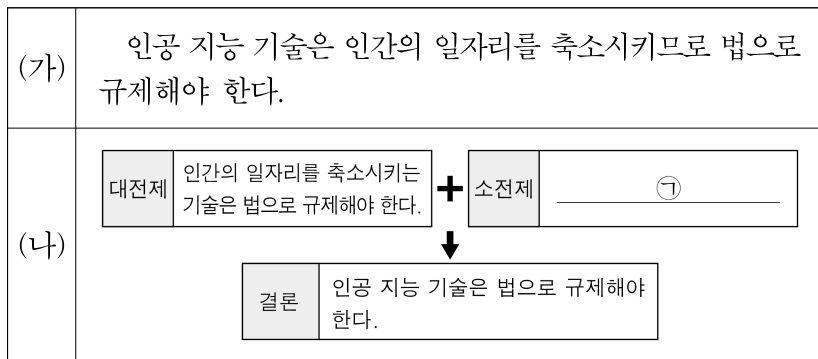
현대 기술이 지구 전역을 뒤덮고 있으며 그 누적된 결과가 미래 세대의 인류에게도 영향을 미치리라는 사실은 분명하다. 특히 주목할 것은 미래 지구와 관련된 문제가 우리의 일상적이고 실천적인 결단을 촉구한다는 사실, 그리고 새로운 윤리를 요청한다는 사실이다. 책임은 바로 이러한 새로운 사태를 준비하기 위해 마련된 윤리적 범주를 의미한다.

<보 기>

- ㄱ. 일상적 인간관계에서는 호혜적 책임이 성립되지 않는다.
- ㄴ. 인간의 책임 범위는 지구 생태계 전체를 포함해야 한다.
- ㄷ. 자연에 대한 인간의 의무는 인간에 대한 책임을 함축한다.
- ㄹ. 선한 결과가 예견되는 기술만이 도덕적 검토 대상에서 제외된다.

- ① ㄱ, ㄴ ② ㄱ, ㄷ ③ ㄴ, ㄷ ④ ㄴ, ㄹ ⑤ ㄷ, ㄹ

7. (가)의 주장을 (나) 그림으로 나타낼 때, ㉠에 대한 반론의 근거로 가장 적절한 것은? [3점]



- ① 인공 지능 기술은 인간 노동에 대한 기업의 수요를 감소시킨다.
- ② 인공 지능 기술은 직업을 통한 인간의 자아실현 기회를 박탈한다.
- ③ 인공 지능 기술로 인간 노동이 필요한 직종이 지속적으로 증가한다.
- ④ 인공 지능 기술은 인간 노동 대부분을 자동화 기기로 대체할 수 있다.
- ⑤ 인공 지능 기술로 일자리는 줄어들어도 최소한의 인간 노동은 필요하다.

8. 갑, 을 사상가들의 입장으로 적절한 것만을 <보기>에서 고른 것은?

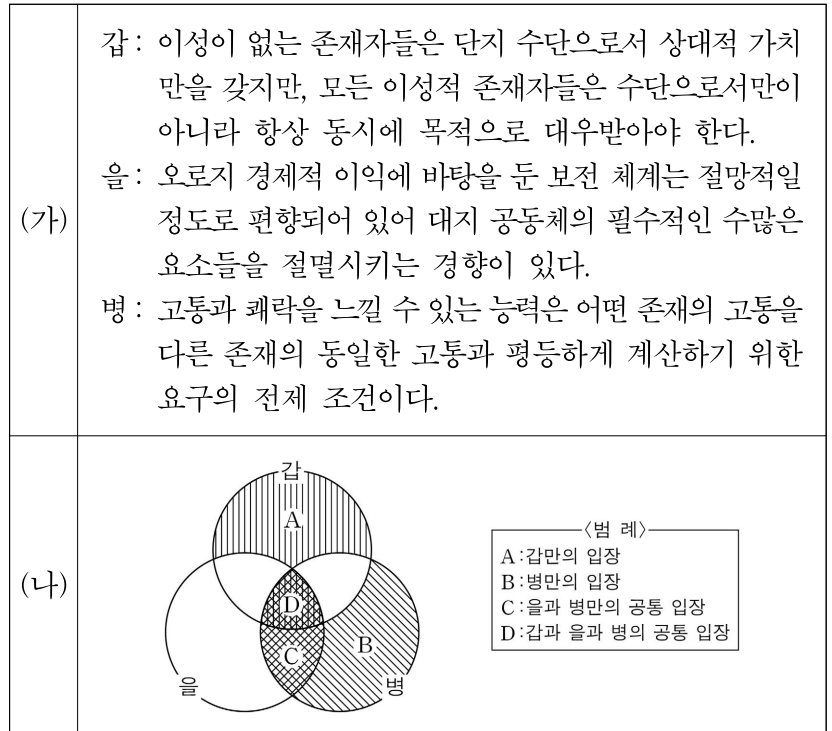
갑: 신은 우리들 각자가 인생의 온갖 활동을 하는 가운데 각자의 부르심을 기억하고 존중할 것을 명한다. 그리고 누구도 경솔하게 자기의 한계를 벗어나지 않도록 다양한 종류의 생활 양식을 소명이라 이름 붙였다.
 을: 선왕(先王)은 사람들 사이의 다툼으로 인한 혼란을 싫어하였기 때문에 예(禮)를 제정해 분별의 기준으로 삼았다. 그리하여 사람들의 욕망을 충족시키고 그들이 원하는 것을 공급하게 하여 물건이 부족하지 않도록 하였다.

<보 기>

- ㄱ. 갑: 구원은 근면과 검소에 대해 주어지는 응분의 보상이다.
- ㄴ. 갑: 노동으로 얻은 부를 베푸는 선행은 신의 영광을 드러낸다.
- ㄷ. 을: 백성의 직분은 예보다 능력을 기준으로 맡겨져야 한다.
- ㄹ. 갑과 을: 노동을 통한 정당한 이익의 추구는 권장될 수 있다.

- ① ㄱ, ㄴ ② ㄱ, ㄷ ③ ㄴ, ㄷ ④ ㄴ, ㄹ ⑤ ㄷ, ㄹ

9. (가)의 갑, 을, 병 사상가들의 입장을 (나) 그림으로 표현할 때, A~D에 해당하는 적절한 진술만을 <보기>에서 있는 대로 고른 것은? [3점]



<보 기>

- ㄱ. A: 도덕적 행위 주체성은 도덕적 지위 결정의 유일한 요인이다.
- ㄴ. B: 동물의 고통에 대한 동정심은 도덕적 의무에 어긋나지 않는다.
- ㄷ. C: 쾌고 감수 능력이 있는 모든 존재에 대한 종차별주의는 부당하다.
- ㄹ. D: 자연물을 파괴하는 인간의 행위가 도덕적으로 허용될 수 있다.

- ① ㄱ, ㄴ ② ㄱ, ㄹ ③ ㄴ, ㄷ
 ④ ㄱ, ㄷ, ㄹ ⑤ ㄴ, ㄷ, ㄹ

10. 갑, 을 사상가들의 입장으로 적절한 것만을 <보기>에서 고른 것은? [3점]

갑: 자연은 신이 세계를 창조하여 다스리는 기예이다. 이 자연을 인간의 기예로 모방하여 인공적 인격을 만들어 낼 수 있다. 이것이 국가라고 불리는 위대한 리바이어던이다.
 을: 사람들이 사회에 들어가는 목적은 재산을 안전하게 향유하는 것이며, 이를 위한 주요한 수단이 사회에서 확립된 법이다. 최초의 실정법은 입법권을 확립하는 것이다.

<보 기>

- ㄱ. 갑: 절대 군주는 모든 인간의 사회 계약 체결과 이행을 강제한다.
- ㄴ. 갑: 사회 계약 이후에 군주와 시민은 자연법을 준수해야 한다.
- ㄷ. 을: 자연 상태는 어떠한 불평등도 없는 대체로 평화로운 상태이다.
- ㄹ. 갑과 을: 자연 상태의 모든 인간은 동일한 자연권을 가진다.

- ① ㄱ, ㄴ ② ㄱ, ㄷ ③ ㄴ, ㄷ ④ ㄴ, ㄹ ⑤ ㄷ, ㄹ

11. 갑, 을 사상가들의 입장으로 적절하지 않은 것은?

갑: 뜻을 얻으면 백성과 함께 그 도(道)를 행하고, 뜻을 얻지 못하면 홀로 그 도를 행한다. 부귀가 마음을 어지럽히지 못하고, 빈천이 행위를 바꾸지 못하며, 위세와 무력이 지조를 꺾지 못한다. 이러한 사람을 대장부라 한다.
 을: 예(禮)라는 것은 진실하고 신실한 마음이 알팍해진 결과이며 혼란의 원인이다. 선부르게 내다보는 것은 도가 꾸며진 것이자 어리석음의 단초이다. 그러니 대장부는 중후함에 처하며 알팍한 곳에 거하지 않는다.

- ① 갑: 수오(羞惡)의 마음은 의로운 행위를 꾸준히 실천해야만 생겨난다.
- ② 갑: 오륜(五倫)의 참된 실천은 반드시 수기(修己)가 바탕이 되어야 한다.
- ③ 을: 이상적인 정치는 스스로 그러함[自然]의 원리에 어긋나지 않는다.
- ④ 을: 성인(聖人)의 도를 본받아 겸허하고 다툼 없는 덕을 지녀야 한다.
- ⑤ 갑과 을: 도를 따르는 사람은 곧 본성을 따르는 사람이라 할 수 있다.

12. 다음을 주장한 사상가의 입장으로 가장 적절한 것은?

‘목적 없는 합목적성’이 되어 버린 계몽적 합리성은 자본주의 대중문화에서도 관찰된다. 대중문화의 지배자들은 대중문화가 장사일 뿐이라는 사실을 숨기지 않는다. 오히려 그들은 이 사실을 자신들이 만든 저속한 문화 상품을 정당화하는 이데올로기로 활용한다. 소비자들은 자신들의 욕구에 맞게 그 유형이 규격화된 대량생산물을 별 저항 없이 스스로 받아들여지게 된다. 문화 산업의 기술이 사회에 대한 권력을 획득할 수 있는 기반은 바로 경제적 강자의 권력이라는 것은 여기서 언급되지 않는다. 다양한 문화 상품이 대중에게 제공되지만 이는 대량생산 법칙을 더 완벽하게 실현할 뿐이다.

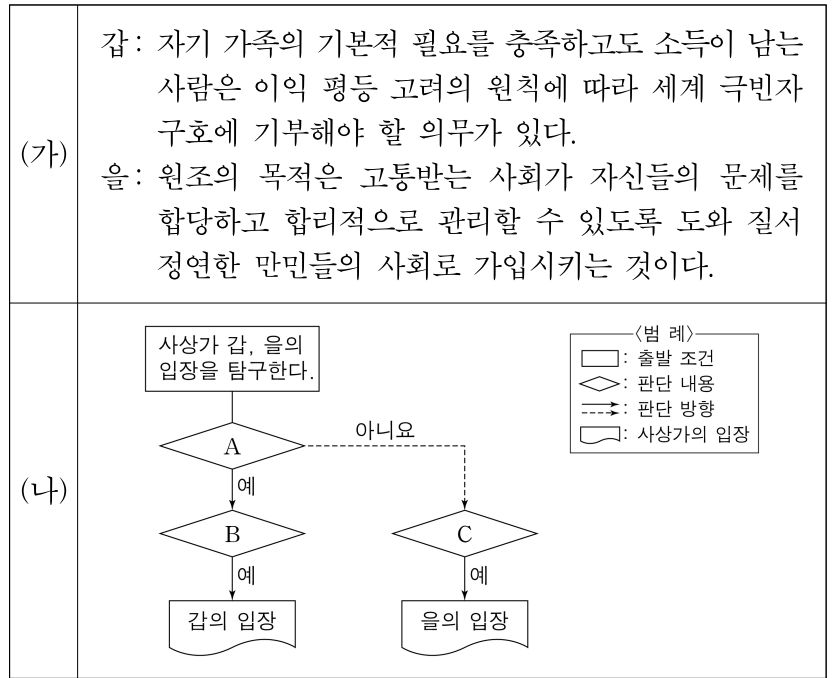
- ① 문화 산업은 대중문화가 상품에 불과하다는 사실을 은폐한다.
- ② 문화 상품에 대한 대중의 선호는 상업적 전략에 대한 순응이다.
- ③ 문화 상품 소비자는 합리적으로 대중문화를 지배하는 주체이다.
- ④ 문화 상품에 대한 다양한 수요는 표준화된 소비 양식과 상충한다.
- ⑤ 문화 상품 소비자는 대중문화의 본질을 간파하는 합리성을 발휘한다.

13. 다음 신문 칼럼에서 강조하는 내용으로 가장 적절한 것은? [3점]

○○ 신문 ○○○○년 ○○월 ○○일
칼럼
 내가 잘못 생각할 수 있고 다른 사람이 옳을 수도 있다. 인간은 함께 노력해야만 진리에 다가갈 수 있다. 이러한 비판적 합리주의는 비판적 논증과 반박에 귀를 기울이며, 경험으로부터 배울 용의가 있는 태도라고 말할 수 있다. 특히 경험 세계에 관련될 수 밖에 없는 과학적 명제의 경우, 이는 언제나 반박될 수 있어야 한다. 경험 과학 이론은 그 이론을 반증할 수 있는 실험 결과를 얻는다면 뒤집어질 수 있다. 이론의 과학성을 구성하는 것은 바로 이러한 반증 가능성이다. 이론에 대한 모든 관찰은 그 이론으로부터 도출된 예측을 반증하려는 시도라 할 수 있다.

- ① 실험 결과에 의해 예측이 반증된 경험 과학 이론은 거부된다.
- ② 논박이 불가능한 경험 과학적 가설만을 진리로 확정해야 한다.
- ③ 비판은 원천적으로 반증 불가능한 사실 명제에 근거해야 한다.
- ④ 진리에 대한 접근은 불가능하다는 상대주의 관점을 수용해야 한다.
- ⑤ 오류임이 증명되지 않은 과학 이론은 반증 대상에서 제외된다.

14. (가)의 갑, 을 사상가들의 입장을 (나) 그림으로 탐구하고자 할 때, A~C에 들어갈 적절한 질문만을 <보기>에서 고른 것은? [3점]



<보 기>
 가. A: 절대 빈곤 감소는 원조의 정당화 조건이 될 수 있는가?
 나. B: 원조 대상의 기본적 필요 충족은 원조 중단 근거가 될 수 있는가?
 다. B: 원조 대상의 고통을 방지하기 위해 원조 주체의 처지 개선이 유보될 수 있는가?
 르. C: 원조 대상국 내부의 불평등 감소를 원조의 목적으로 삼는 것은 불가능한가?

- ① 가, 나 ② 가, 다 ③ 나, 다 ④ 나, 르 ⑤ 다, 르

15. 갑, 을 사상가들의 입장으로 적절한 것만을 <보기>에서 고른 것은? [3점]

갑: 원초적 입장은 그 입장에서 도달된 기본적 합의가 공정함을 보장해주는 적절한 최초 상태이다. 바로 이 때문에 공정으로서의 정의란 명칭이 생겨난 것이다.
 을: 국가에 관한 우리의 결론에 따르면 강요, 절도, 사기 등으로부터의 보호와 같은 최소한의 기능에 그 역할이 국한된 최소국가만이 도덕적으로 정당화된다.

<보 기>
 가. 갑: 무지의 베일 속 개인은 자유롭고 평등한 인격체이다.
 나. 갑: 원초적 입장의 당사자들은 상호 신뢰할 수 있는 존재들이다.
 다. 을: 오직 최소국가에서만 개인의 소유 권리가 존재할 수 있다.
 르. 갑과 을: 정의의 원칙이 보장하는 기본적 권리는 제한될 수 없다.

- ① 가, 나 ② 가, 다 ③ 나, 다 ④ 나, 르 ⑤ 다, 르

4 (생활과 윤리)

사회탐구 영역

16. (가)의 갑, 을, 병 사상가들의 입장에서 서로에게 제기할 수 있는 비판을 (나) 그림으로 표현할 때, A~F에 해당하는 내용으로 가장 적절한 것은? [3점]

(가)	<p>갑: 공적 정의가 원리와 표준으로 삼는 것은 어떤 종류와 어느 정도의 형벌인가? 오직 보복법만이 형벌의 질과 양을 명확하게 제시한다.</p> <p>을: 법은 공동 이익을 지향하는 일반 의지의 지도를 받아야 한다. 법을 어긴 범죄자는 더 이상 조국의 구성원이 아니고 조국과 전쟁을 벌이는 자이다.</p> <p>병: 종신 노역형만으로도 가장 완강한 자의 마음을 억제하기에 충분한 엄격성을 지닌다. 종신 노역형은 사형 이상의 확실한 효과를 가져온다.</p>
(나)	

- ① A: 사형은 살인범의 자발적 행위에 대한 응보적 형벌임을 간과한다.
- ② B: 살인범에 대한 사형은 정의를 실현하는 형벌임을 간과한다.
- ③ C와 E: 사형은 개인이 국가에 양도한 생명권을 국가가 침해하는 형벌임을 간과한다.
- ④ D: 사회 계약의 목적을 위해 모든 시민이 사형제에 동의해야 함을 간과한다.
- ⑤ F: 형벌의 경중은 오직 범죄의 동기에 비례하여 결정해야 함을 간과한다.

17. 다음 사상가의 관점에서 <문제 상황> 속 A에게 제시할 조언으로 가장 적절한 것은? [3점]

그 자체로 높이 평가해야 할, 더 이상의 의도가 없는 선의지라는 개념은 이미 자연적인 건전한 지성에 내재해 있고, 가르칠 필요는 없으며 오히려 단지 계발될 필요만 있는 것이다.

<문제 상황>

A는 좋아하는 게임 아이템을 구입하고 싶지만 용돈이 부족하다. A는 갚지 못할 것을 알면서도 친구에게 “꼭 갚을게!”라고 약속하고 돈을 빌려야 할지 고민하고 있다.

- ① 약속을 어긴 사람은 목적으로 대우받아서 안 됨을 명심하세요.
- ② 약속 준수의 의무는 자기 행복에 대한 열망에 근거함을 명심하세요.
- ③ 거짓 약속은 친구의 인격을 존경하는 것이 아님을 유념하세요.
- ④ 약속은 친구와의 돈독한 정서적 유대를 위해 지켜야 함을 유념하세요.
- ⑤ 친구에게 무해하다면 거짓 약속도 도덕적으로 정당화됨을 유념하세요.

18. 다음을 주장한 사상가의 입장으로 가장 적절한 것은?

시민 불복종을 정당화할 때 어떤 개인적 도덕 원칙이나 종교적 교설이 우리 주장을 지지해 준다고 해서 그것에 의거해서는 안 된다. 시민 불복종의 근거가 오직 개인이나 집단의 이익에만 기초할 수 없다는 것은 말할 필요도 없다. 그 대신 시민 불복종은 공공적 정의관에 의거하게 된다.

- ① 소수자가 지닌 정의관은 시민 불복종의 근거가 될 수 없다.
- ② 차등의 원칙에 근거한 법은 시민 불복종의 대상이 될 수 있다.
- ③ 준법의 의무는 기본적 자유를 방어할 권리와 상충할 수 없다.
- ④ 시민 불복종의 대상은 기본적 자유의 심각한 위반에 국한된다.
- ⑤ 양심적 거부에 대한 국가의 규제는 시민 불복종의 대상이 될 수 없다.

19. 다음을 주장한 사상가의 입장으로 가장 적절한 것은?

서로에게 영향을 끼치는 사람들은 어떤 공민적 체제에 속해야 한다. 그런 체제에 귀속될 사람들에 관계되는 모든 법률상의 체제는 다음 중 하나이다. 첫째, 한 국가 안에서는 시민법에 따르는 체제이며 둘째, 국가 간 관계에서 국제법에 따르는 체제이고 셋째, 사람이나 국가가 서로 영향을 줄 수 있는 관계에 있으면서 보편 상태의 시민으로 고려되는 한, 세계 시민법에 따르는 체제이다. 이러한 분류는 영원한 평화 이념에 걸맞은 필연적인 것이다.

- ① 시민법 체제가 한 국가의 대내적 정치 체도를 지정할 수는 없다.
- ② 세계 시민법은 이방인의 환대권과 영속적 체류권을 보장한다.
- ③ 전쟁 상태 극복을 위해서는 주권이 국제 국가로 귀속되어야 한다.
- ④ 영원한 평화를 위해 국가는 어떠한 국채도 발행해서는 안 된다.
- ⑤ 국가 간 적대 행위가 종식되어야 영원한 평화 실현이 가능하다.

20. 다음 대화에서 갑, 을의 입장으로 가장 적절한 것은?

통일은 민족 내부의 경직된 이념 대립에서 벗어나 사상과 양심의 자유를 신장합니다. 또한 분단 비용을 해소해 이를 사회적 약자들의 인간다운 삶의 권리 보장과 양극화 완화를 위한 복지 재원으로 전환합니다. 분단 상태에서는 이러한 편익이 불가능하므로 통일은 꼭 실현해야 할 과제입니다.

통일은 남북한 경제 통합으로 상호보완적인 시너지 효과를 극대화합니다. 또한 분단 비용을 해소해 이를 한반도 전체의 새로운 성장 동력을 창출하는 재원으로 전환합니다. 다만 이러한 편익이 통일 비용보다 적을 수 있으므로 통일은 꼭 실현해야 할 과제라고 할 수는 없습니다.



- ① 갑: 사회경제적 불평등 완화는 통일의 근거에 포함될 수 없다.
- ② 갑: 통일의 근거는 보편적 권리가 아니라 민족 통합 자체에 있다.
- ③ 을: 통일 비용이 증가하더라도 통일의 당위성이 약화될 수는 없다.
- ④ 을: 통일 비용이 남북 경제 통합의 기대 효과를 초과할 가능성은 없다.
- ⑤ 갑과 을: 분단 비용 해소와 통일 편익을 통일의 근거로 고려해야 한다.

* 확인 사항

- 답안지의 해당란에 필요한 내용을 정확히 기입(표기)했는지 확인 하시오.

2025학년도 대학수학능력시험

사회탐구 영역 정답표
(생활과 윤리) 과목

문항 번호	정 답	배 점	문항 번호	정 답	배 점	문항 번호	정 답	배 점	문항 번호	정 답	배 점
1	④	2	6	③	2	11	①	2	16	④	3
2	②	3	7	③	3	12	②	2	17	③	3
3	⑤	2	8	④	2	13	①	3	18	②	2
4	⑤	3	9	④	3	14	③	3	19	⑤	2
5	⑤	2	10	④	3	15	①	3	20	⑤	2

제 4 교시

사회탐구 영역 (윤리와 사상)

성명 수험 번호 - 제 () 선택

윤리와 사상

1. 다음 가상 대화의 스승이 강조하는 삶의 태도로 가장 적절한 것은?



- ① 인위적인 노력으로 본성을 변화시켜 사회 규범을 내면화해야 한다.
- ② 만물의 근본 원리인 도를 따라 무위자연의 삶을 영위해야 한다.
- ③ 사회적 혼란을 막기 위해 서로 차별 없이 사랑해야[兼愛] 한다.
- ④ 열반에 도달하기 위해서 쾌락과 고통의 양극단을 떠나야 한다.
- ⑤ 잃어버린 마음을 되찾아[求放心] 본성을 잘 길러 나가야 한다.

2. (가)의 사회사상가 갑, 을의 입장에서 서로에게 제기할 수 있는 비판을 (나) 그림으로 표현할 때, A, B에 해당하는 내용으로 가장 적절한 것은? [3점]

(가)	갑: 정부의 기능 확대는 현재 경제 형태들의 근본적 파괴를 피할 수 있는 실행 수단이다. 정부는 도로 건설, 주택 건축 등의 공공사업을 통해 유효 수요를 창출해야 한다. 을: 정부의 경제 계획은 개인의 자유를 철저히 파괴한다. 반면에 개인들의 개별적 노력을 조정하는 방법으로서의 자유 경쟁은 의식적인 사회적 통제를 필요로 하지 않는다.
(나)	

- ① A: 자유로운 고용과 해고로 기업이 지속 성장할 수 있음을 간과한다.
- ② A: 민주적 방식의 국가 경제 계획이 개인의 자유를 억압함을 간과한다.
- ③ A: 유효 수요의 창출을 위한 투자 정책을 세워야 함을 간과한다.
- ④ B: 사적 소유권과 개인의 경제적 자율성을 인정해야 함을 간과한다.
- ⑤ B: 시장 경제의 원활한 작동을 위한 법적 규제가 허용됨을 간과한다.

3. 갑, 을은 고대 서양 사상가들이다. 갑은 긍정, 을은 부정의 대답을 할 질문으로 옳은 것은? [3점]

갑: 절제는 품성적인 덕으로, 지나침과 모자람에 의해 파괴되고 중용에 의해 보존된다. 절제 있는 사람은 올바른 이성이 규정하는 대로 즐거움들을 좋아하는 사람이다.
 을: 절제는 이성적 존재자에게서 발견되는 덕으로, 쾌락의 반대편에 서 있다. 우리는 신과 인간에게 공통된 이성에 따라 행동할 때 두려워할 것도 없고 해를 입을 것도 없다.

- ① 개인의 참된 행복은 덕에 따르는 삶을 통해 실현될 수 있는가?
- ② 덕을 발휘하면 사건을 받아들이는 태도가 변화될 수 있는가?
- ③ 덕 있는 삶의 실현을 위한 모든 조건은 자발성의 영역 안에 있는가?
- ④ 이성의 명령에 따라 두려움의 감정을 가져야 하는 경우가 있는가?
- ⑤ 공동체 성원으로서의 인간은 공공의 이익을 위해 노력해야 하는가?

4. 현대 서양 사상가 갑, 을의 입장으로 옳은 것은?

갑: 어떤 사람이 좋은 사람인 이유는 그가 점점 나아지는 쪽으로 움직이고 있기 때문이다. 현재를 변화시키는 능동적인 과정으로서 성장 자체가 유일한 도덕적 목적이다.
 을: 어떤 사람이 비겁한 자이거나 영웅인 이유는 그가 스스로를 그렇게 만들었기 때문이다. 인간이 정의되는 것은 인간이 세계 속에 실존한 이후의 일이다.

- ① 갑: 문제 상황을 해결하기 위해 절대적 지식을 적용해야 한다.
- ② 갑: 행위가 지니는 유용성 가치는 행복이라는 최고선에 따라 결정된다.
- ③ 을: 인간 본질을 결정하는 외적 존재를 통해 실존을 자각해야 한다.
- ④ 을: 실존적 불안 극복을 위해 관습적 규범을 기준으로 삼아야 한다.
- ⑤ 갑과 을: 현실의 사회적 문제 해결에 능동적으로 참여해야 한다.

5. 다음을 주장한 근대 서양 사상가의 입장으로 옳은 것은? [3점]

신은 곧 자연이다. 개별적 존재는 신의 속성을 어떤 일정한 방식으로 표현하는 양태이다. 정서는 신체의 활동 능력을 증대시키거나 감소시키는 신체의 변용인 동시에 그러한 변용의 관념이다. 그러므로 우리가 그러한 변용의 타당한 원인이 될 수 있다면 나는 그 정서를 능동이라고 이해하고, 그렇지 않다면 수동이라고 이해한다.

- ① 신은 유일한 실체로서 모든 자연 세계의 안과 밖에 존재한다.
- ② 쾌락을 억제해야만 이성의 힘으로 비로소 지복에 도달할 수 있다.
- ③ 자연은 인과적 관계를 넘어선 목적의 필연성으로 정해져 있다.
- ④ 정념에 속박되지 않은 사람도 원인에 대한 명확한 관념에 의존한다.
- ⑤ 선은 양태가 지닌 특성으로서 자기 보존을 위한 활동 능력 그 자체이다.

2 (윤리와 사상)

사회탐구 영역

6. (가)의 고대 서양 사상가 갑, 근대 서양 사상가 을과 병의 입장을 (나) 그림으로 표현할 때, A~D에 해당하는 진술로 적절한 것만을 <보기>에서 고른 것은?

(가)	<p>갑: 쾌락 그 자체는 나쁘지 않다. 하지만 우리가 모든 쾌락을 선택하는 것도 항상 고통을 피하는 것도 아니다. 고통의 제거를 넘어서는 쾌락은 존재하지 않는다.</p> <p>을: 쾌락은 그 자체로 좋은 것이며 고통은 그 자체로 나쁜 것이다. 입법자는 쾌락과 고통의 가치를 측정할 때 그것의 강도, 지속성, 범위 등을 고려해야 한다.</p> <p>병: 쾌락은 목적으로서 바람직한 유일한 것이다. 우리는 가능한 한 고통이 없고 질적으로나 양적으로나 최대한의 쾌락을 만끽할 수 있는 상태에 이르러야 한다.</p>
(나)	<p style="text-align: center;">(법 레)</p> <p>A: 갑만의 입장 B: 갑과 을만의 공통 입장 C: 을과 병만의 공통 입장 D: 갑과 을과 병의 공통 입장</p>

<보 기>

- ㄱ. A: 사려 깊음과 정의는 궁극적으로 쾌락에 의해 가치가 결정된다.
 ㄴ. B: 행위의 선악을 평가하기 위한 보편적 기준이 존재한다.
 ㄷ. C: 도덕적 이상 실현을 위해 공적 사회에 관심을 가져야 한다.
 ㄹ. D: 자기 자신의 고통에 대한 경험이 행위의 동기를 유발한다.

- ① ㄱ, ㄴ ② ㄱ, ㄷ ③ ㄴ, ㄷ ④ ㄴ, ㄹ ⑤ ㄷ, ㄹ

7. 한국 유교 사상가 갑, 을의 입장으로 옳은 것만을 <보기>에서 있는 대로 고른 것은? [3점]

갑: 이(理)가 발하여 사단이 되는데, 여기서 발하는 바탕[資]은 기(氣)이지만 실제 그렇게 발하게 하는 것은 이이다. 이것은 마치 사람이 말[馬]을 이끄는 주인이므로, 가는 것은 말이지만 말을 가게 하는 것은 사람인 것과 같다.


을: 사람은 말이 아니면 출입하지 못하고 말은 사람이 아니면 궤도를 잃는 것처럼, 이와 기는 서로 떨어질 수 없다. 다만 성(性)이 발한 이후에 이를 위주로, 기를 위주로 말하는 것에 차이가 있더라도 이와 기가 서로 발하는 것은 아니다.

<보 기>

- ㄱ. 갑: 정(情)은 그 연원[所從來]에 따라 이나 기로만 존재한다.
 ㄴ. 갑: 칠정은 기가 이의 주재를 벗어나면 결코 선이 될 수 없다.
 ㄷ. 을: 사단은 반드시 성이 발해야만 드러나는 마음의 작용[用]이다.
 ㄹ. 갑과 을: 이는 기가 발하게 하는 원인과 근거[所以然]가 된다.

- ① ㄱ, ㄴ ② ㄱ, ㄷ ③ ㄴ, ㄹ
 ④ ㄱ, ㄷ, ㄹ ⑤ ㄴ, ㄷ, ㄹ

8. 그림의 강연자가 지지할 입장으로 가장 적절한 것은?



민주주의는 어원상 '국민'과 '통치'의 합성어로 국민의 지배를 의미합니다. 하지만 국민과 통치라는 단어가 갖는 의미가 무엇인지 간에 민주주의는 국민이 실제로 지배한다는 것을 뜻하지 않습니다. 또한 모든 국민이 동의할 수 있는 공동선과 같은 것도 존재하지 않습니다. 따라서 민주주의는 정치적 결정에 도달하기 위한 제도적 장치에 불과합니다. 정치 엘리트들은 국민의 표를 얻기 위한 경쟁을 통해 권력을 획득해야 합니다. 여기서 국민의 주된 역할은 직접적으로 또는 중간 기구를 통하여 정부를 탄생시키는 것에 머물러야 합니다.

- ① 국민은 대표자에게 권력의 정당성을 부여하는 주권을 행사한다.
 ② 민주주의는 정치적 절차를 뜻하는 것이 아니라 그 자체가 목적이다.
 ③ 정치적 의사 결정에서 일반 시민은 소수 정치인보다 합리적이다.
 ④ 국가 구성원 모두의 의지가 반영된 유일한 공동선이 존재한다.
 ⑤ 정치 엘리트는 국민 여론으로 형성된 정책의 집행자 역할만을 한다.

9. 고대 동양 사상가 갑, 을의 입장으로 적절한 것만을 <보기>에서 있는 대로 고른 것은? [3점]

갑: 호연지기(浩然之氣)는 지극히 크고 강하며, 도(道)와 의(義)를 짝으로 삼는다. 이것은 의가 쌓여서[集義] 이루어지는 것이지만 한 번의 의로운 행동으로 생겨나는 것이 아니다.

을: 좌망(坐忘)은 자신의 육신과 총명(聰明)을 모두 무너뜨려서 그 형체와 지식을 완전히 떠나는 것이다. 그리하여 도와 하나로 융합된 상태이다.

<보 기>

- ㄱ. 갑: 대인(大人)도 삶이 궁핍해지면 양지(良知)를 잃게 된다.
 ㄴ. 갑: 천명을 받은 군주는 민심을 잃어도 결코 쫓아내서는 안 된다.
 ㄷ. 을: 누구나 마음을 텅 비우면[心齋] 성인(聖人)이 될 수 있다.
 ㄹ. 갑과 을: 본성을 보존하려면 사사로운 욕심을 줄여야 한다.

- ① ㄱ, ㄴ ② ㄴ, ㄷ ③ ㄷ, ㄹ
 ④ ㄱ, ㄴ, ㄹ ⑤ ㄱ, ㄷ, ㄹ

10. 사회사상가 갑, 을이 공통으로 지지할 입장으로 가장 적절한 것은?

갑: 우리는 자유를 절대적 의미에서 무제한적으로 누릴 수 없다. 자유를 누리기 위해서는 일정 부분을 포기해야 한다. 이때 우리가 옹호해야 할 자유는 언제나 '~로부터의 자유'이다.

을: 우리의 권리는 역사적인 것이지만 자연적인 것이 아니기에 관습과 법이 인정할 때만 권리가 된다. 법의 지배하에서는 누구도 자의적 의사를 타인에게 강요할 수 없게 된다.

- ① 개인이 지닌 천부적인 권리를 보장하기 위한 제도가 필요하다.
 ② 비자의적 권력의 존재는 언제나 개인의 자유를 침해하게 된다.
 ③ 개인의 자유는 타인에 의한 간섭의 부재만으로도 실현될 수 있다.
 ④ 법의 지배하에 개인의 행위를 제약하는 개입이 허용될 수 있다.
 ⑤ 개인의 정치적 자유를 위해 정형화된 삶의 방식을 강조해야 한다.

11. 근대 서양 사상이자 갑, 을의 입장으로 적절한 것만을 <보기>에서 고른 것은?

갑: 인간은 자연의 사용자 및 해석자이다. 인간은 자연의 질서에 대해 실제로 관찰하고 고찰한 만큼만 무엇인가를 할 수 있으며 이해할 수 있다.

을: 공감은 도덕적 구별의 원천이다. 하지만 우리는 자신과 거리가 먼 사람보다 가까운 사람, 낯선 사람보다 친숙한 사람에게 더욱 잘 공감한다. 그래서 공평한 관찰자의 관점이 요구된다.

<보 기>

- ㄱ. 갑: 일반적 진리는 추론 없이 경험에서 도출되어야 한다.
- ㄴ. 을: 공감도 편향될 수 있으므로 반성과 교정을 필요로 한다.
- ㄷ. 을: 이성은 감정과 병행하여 정념을 실행하는 의지를 촉발한다.
- ㄹ. 갑과 을: 지식의 확장에는 자연에 대한 관찰이나 실험이 요구된다.

- ① ㄱ, ㄴ ② ㄱ, ㄷ ③ ㄴ, ㄷ ④ ㄴ, ㄹ ⑤ ㄷ, ㄹ

12. 사회사상이자 갑, 을의 입장으로 적절한 것만을 <보기>에서 있는 대로 고른 것은? [3점]

갑: 평화는 국가 간의 계약 없이는 구축될 수도 없고 보장될 수도 없다. 영원한 평화를 위해서는 특별한 종류의 연맹이 필요하다. 평화 조약에 의해 전쟁은 일시적으로 중단될 수 있지만 전쟁 상태가 영원히 종식되지는 않는다.

을: 평화는 어떠한 폭력도 없는 상태이며 비폭력적 방식으로 실현해 나가야 한다. 폭력을 예방하고 제거하기 위해서는 직접적 폭력, 구조적 폭력, 그리고 문화적 폭력에 대한 정확한 진단과 처방이 필요하다.

<보 기>

- ㄱ. 갑: 각 국가는 자유 보장을 위해 평화 연맹에 주권을 위임해야 한다.
- ㄴ. 을: 경제적 불평등에 의한 인간 소외도 평화 실현을 방해한다.
- ㄷ. 을: 폭력 주체의 의도성이 없는 경우에는 폭력이 성립되지 않는다.
- ㄹ. 갑과 을: 평화를 위한 예방적 처방 없이 진정한 평화는 불가능하다.

- ① ㄱ, ㄴ ② ㄱ, ㄷ ③ ㄴ, ㄹ
- ④ ㄱ, ㄷ, ㄹ ⑤ ㄴ, ㄷ, ㄹ

13. 다음 가상 편지를 쓴 한국 유교 사상가의 입장으로 가장 적절한 것은? [3점]

신(臣)이 임금님께 삼가 아뢰옵니다.

마음속 측은지심을 이끌어 기르면 어진 정치를 행할 수 있으니, 측은지심이 어진 정치의 시작이 아니겠습니까? 이를 실에 비유하면 측은지심은 실뿔치와 같고 이것을 풀어내면 효제(孝悌)를 할 수 있으니, 어느 것이 근본이고 말단이겠습니까? 맹자가 직접 사단을 “불이 처음 타오르고 샘물이 처음 솟아나는 것과 같다.” 라고 풀이했으니, ‘단(端)’이 ‘시작[始]’임이 분명합니다. 이러한 뜻을 생각하시어 부디 어진 정치를 베풀어 주시길 간청하옵니다.

- ① 부모에게 효도하고 형을 공경하는 덕이 측은지심의 근본이다.
- ② 형구(形軀)의 기호에는 어떠한 도덕적 욕구도 내재되어 있지 않다.
- ③ 인간만이 지닌 성(性)은 기질에 따라 선악의 향방이 변할 수 있다.
- ④ 선을 좋아하는 마음은 인간에게 자유 의지로 부여된 천명(天命)이다.
- ⑤ 시비지심을 시작으로 삼아 확충하면 성으로서 지(智)를 형성할 수 있다.

14. 다음을 주장한 중세 서양 사상가의 입장으로 옳은 것은?

모든 사람은 선이라는 개념을 가지고 있다. 실천 이성에 부여된 제1 원리는 선이라는 개념 위에 세워졌다. ‘선은 모든 것이 추구하는 것이다.’가 그 원리이다. 따라서 자연법의 제1 계명은 ‘선은 행하고 추구해야 하는 것이며, 악은 피해야 하는 것이다.’라는 것이다.

- ① 인간의 이성적 본성에는 신의 의도로 향하는 선한 성향이 없다.
- ② 인간의 도덕적 의무는 인간 본성에 부여된 원리에 기초해야 한다.
- ③ 인간의 자기 보존을 위한 노력 그 자체는 선도 아니고 악도 아니다.
- ④ 자연법에 근거한 실정법을 준수하기만 하면 참된 행복에 도달한다.
- ⑤ 인간법이 자연법에 위배되어도 그러한 법은 영원법에 부합할 수 있다.

15. 중국 유교 사상가 갑, 을의 입장으로 옳은 것은? [3점]

갑: 치지(致知)란 내 마음의 양지(良知)를 끝까지 확충하는 것이다. 만약 치지하지 못하면 악을 미워해야 함을 알면서도 미워함을 행동으로 실천하지 못하게 된다.

을: 치지란 모든 사물 각각의 이치(理)를 아는 것이다. 그러므로 치지하면 알지 못하는 바가 없으니, 그 불선(不善)을 행해서는 안 된다는 것을 알게 된다.

- ① 갑: 마음의 천리를 깨달아 객관적 사물이 지닌 이치를 알 수 있다.
- ② 갑: 마음을 바로 잡으면(格物) 양지는 별도의 학습 없이 획득된다.
- ③ 을: 성선(性善)은 측은지심의 실마리(緝)인 인(仁)을 통해 확증된다.
- ④ 을: 개별적인 도덕 실천보다 궁리(窮理)를 통한 앎을 중시해야 한다.
- ⑤ 갑과 을: 진정한 앎(眞知)을 실현하는 수양인 치지를 이루어야 한다.

4 (윤리와 사상)

사회탐구 영역

16. 동양 불교 사상이 갑, 을의 입장으로 적절한 것만을 <보기>에서 있는 대로 고른 것은?

갑: 모든 것은 오직 식일 뿐[唯識]이다. '식'에서 떠나지 않는 법(法)은 부정되지 않기 때문에 '오직'이라고 말하는 것이다. 따라서 모든 법은 양극단을 벗어나 중도(中道)에 부합한다.
 을: 모든 것이 공(空)하지 않다면 생겨남도 없어짐도 없다. 인(因)과 연(緣)에서 생겨나는 일체 법은 공이고 가명(假名)이며 중도에 부합한다.

<보 기>
 ㄱ. 갑: 영원불변의 나를 상징하는 자아의식은 자성(自性)을 지닌다.
 ㄴ. 갑: 세속의 오염된 의식을 전환하여 맑은 지혜를 얻어야 한다.
 ㄷ. 을: 인연의 화합에 의해 생겨난 사물은 임시적으로 존재한다.
 ㄹ. 갑과 을: 공에 대한 올바른 인식을 통해 중도를 지향해야 한다.

- ① ㄱ, ㄴ ② ㄱ, ㄹ ③ ㄴ, ㄷ
- ④ ㄱ, ㄷ, ㄹ ⑤ ㄴ, ㄷ, ㄹ

17. 다음을 주장한 근대 서양 사상가의 입장으로 옳은 것은? [3점]

인간은 예지 세계의 성원인 동시에 감성 세계의 성원이기도 하다. 예지 세계에 속하는 이성적 존재로서의 인간은 자기 의지의 원인성을 자유의 이념 아래 놓여 있는 것으로밖에는 달리 생각할 수 없다. 이렇게 자유의 이념이 나를 예지 세계의 구성원으로 만듦으로써 정언 명령이 가능해진다.

- ① 자유 의지는 도덕 법칙에 속박된 의지와는 다른 종류의 것이다.
- ② 자기 행복의 추구는 직접적 의무는 아니지만 선의지를 증대한다.
- ③ 도덕 법칙에 적합한 준칙은 의욕 대상을 위해서 보편화된 것이다.
- ④ 이성을 지닌 완전한 존재에게도 정언 명령이 부과될 수밖에 없다.
- ⑤ 의지의 자율은 감성 세계의 어떠한 원인에 의해서도 결정되지 않는다.

18. 근대 한국 사상 (가), (나)의 입장으로 가장 적절한 것은?

(가) 서양 외적(洋賊)을 치자는 것은 우리나라 입장에 선 사람이고, 서양 외적과 화친하자는 것은 그들의 입장에 선 사람이다. 전자는 나라 안 문물제도를 보전할 수 있지만, 후자는 사람들을 짐승의 영역에 밀어 넣을 것이다.
 (나) 우리의 도(道)는 한울님의 마음을 지키고 한울님의 기운을 바르게 하는 것[守心正氣]이다. 한울님의 성품을 따르고 한울님의 가르침을 받으면 자연스러운 가운데 변화가 나타날 것[無爲而化]이다.

- ① (가): 민족을 중심으로 새로운 정체성을 세워 평등 사회를 구현해야 한다.
- ② (가): 서양의 물건은 풍속을 해치므로 서양과의 교역을 단절해야 한다.
- ③ (나): 현세의 고통을 인내하고 사후(死後)의 극락세계를 기다려야 한다.
- ④ (나): 보국안민을 위해 동양의 학문과 서양의 종교를 융합해야 한다.
- ⑤ (가)와 (나): 성리학적 신분 질서와 규범을 지키기 위해 노력해야 한다.

19. (가)의 사회사상가 갑, 을의 입장을 (나) 그림으로 탐구하고자 할 때, A~C에 들어갈 적절한 질문만을 <보기>에서 있는 대로 고른 것은? [3점]

(가) 갑: 국가는 모든 사람들이 지닌 권력과 힘을 한 사람 또는 하나의 합의체에 양도하여 세운 인격이다. 인간은 국가를 통해서만 전쟁 상태에서 벗어날 수 있다.
 을: 국가는 지배 계급이 자신들의 공동 이해를 관철하는 정치적 형태이다. 프롤레타리아는 혁명을 통해 기존 질서를 무너뜨려야만 인간답게 살 수 있다.

(나)

<보 기>
 ㄱ. A: 국가는 전체 구성원의 평화와 안전을 확립하기 위한 노력으로 출현하는가?
 ㄴ. B: 정의의 실현은 동의에 의해 설립된 주권에 근거하는가?
 ㄷ. B: 시민은 주권자의 행위를 자신의 행위로 인정해야 하는가?
 ㄹ. C: 국가는 인간의 자아실현에 기반이 되는 정치적 중립 조직인가?

- ① ㄱ, ㄴ ② ㄱ, ㄹ ③ ㄷ, ㄹ
- ④ ㄱ, ㄴ, ㄷ ⑤ ㄴ, ㄷ, ㄹ

20. 갑은 중국 불교 사상가, 을은 한국 불교 사상가이다. 갑의 입장에 비해 을의 입장이 갖는 상대적 특징을 그림의 ㉠~㉣ 중에서 고른 것은?

갑: 모든 법(法)이 비어 고요한 것이 여래의 좌(坐)이고, 생겨남이 없고 소멸함도 없는 것이 여래의 선(禪)이다. 근본 바탕이 청정하고 깨달음의 본체가 뚜렷이 밝음을 보게 되면, 이것이 곧 견성성불(見性成佛)이며 여래의 지견(知見)이다.
 을: 한마음[一心]은 부처가 체득한 것이므로 이 마음을 일컬어 불성(佛性)이라 부른다. 이는 여러 경전들의 부분을 통괄 하는데, 마치 모든 물줄기가 바다로 모이듯 한맛[一味]으로 돌아가게 한다.

- ① ㉠ ② ㉡ ③ ㉢ ④ ㉣ ⑤ ㉣

* 확인 사항
 ○ 답안지의 해당란에 필요한 내용을 정확히 기입(표기)했는지 확인 하시오.

2025학년도 대학수학능력시험

사회탐구 영역 정답표
(윤리와 사상) 과목

문항 번호	정 답	배 점	문항 번호	정 답	배 점	문항 번호	정 답	배 점	문항 번호	정 답	배 점
1	①	2	6	⑤	2	11	④	2	16	⑤	2
2	③	3	7	⑤	3	12	③	3	17	⑤	3
3	④	3	8	①	2	13	②	3	18	②	2
4	⑤	2	9	③	3	14	②	2	19	④	3
5	④	3	10	④	2	15	⑤	3	20	①	2

제 4 교시

사회탐구 영역 (한국지리)

성명 수험번호 제 () 선택

1. 다음 자료의 (가)~(다) 섬에 대한 교사의 질문에 모두 옳게 답한 학생을 고른 것은?

구분	(가)	(나)	(다)
위성 영상			
기준점(Δ) 위·경도	39° 48' 10" N 124° 10' 47" E	37° 14' 22" N 131° 52' 08" E	33° 07' 03" N 126° 16' 10" E
면적	약 64.368km ²	약 0.187km ²	약 0.298km ²

교사의 질문	학생				
	갑	을	병	정	무
(나)의 기선으로부터 바깥쪽 12해리 이내에 종합 해양 과학 기지가 건설되어 있습니까?	아니오	예	아니오	아니오	예
(가)는 (나)보다 우리나라 표준 경선과의 최단 거리가 멀니까?	예	예	예	예	아니오
(나)와 (다)는 영해 설정에 직선 기선이 적용됩니까?	아니오	아니오	예	아니오	아니오
(가)~(다)는 모두 우리나라 영토의 4극 중 하나에 해당합니까?	예	예	예	아니오	예

- ① 갑 ② 을 ③ 병 ④ 정 ⑤ 무

2. 다음 자료는 지형에 관한 다큐멘터리 촬영을 위한 방송 대본이다. ㉠~㉤에 대한 설명으로 옳은 것은?

송지호

과거 바다였던 이곳이 지금의 ㉠호수로 변모한 과정을 애니메이션으로 보여 준다.

호미곶

㉡해안과 평행하게 발달한 계단 모양의 지형을 따라 걸으며 전문가와 함께 퇴적층을 관찰한다.

월등도

㉢섬과 섬을 연결하는 좁고 긴 지형을 촬영하고 이 지형이 형성된 과정을 내레이션과 함께 보여 준다.

신두리

㉣바람에 의해 형성된 모래 언덕을 걸으며 이곳에 서식하는 다양한 동·식물의 모습을 촬영한다.

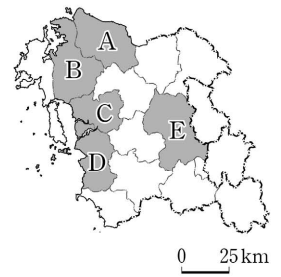
- ① ㉠의 물은 주변 농경지의 농업용수로 주로 이용된다.
 ② ㉡은 파랑 에너지가 집중되는 곳에 주로 발달한다.
 ③ ㉢은 지하수를 저장하는 기능이 있다.
 ④ ㉠은 ㉡보다 형성 시기가 이른다.
 ⑤ ㉠과 ㉢은 자연 상태에서 시간이 지남에 따라 규모가 확대된다.

3. 다음 <조건>만을 고려하여 대형 마트를 새로 건설하고자 할 때, 가장 적합한 후보지를 고른 것은?

<조건 1>: [(면적당 도로 연장 > 0.7km/km²) AND (인구 밀도 > 150명/km²)]
 <조건 2>: <조건 1>을 만족하는 지역 중
 [(전통 시장 수 < 3개) OR (1인당 지역 내 총생산 > 7천만 원)]인 곳을 선택함.

* X AND Y: X조건과 Y조건을 모두 만족하는 것을 의미함.
 ** X OR Y: X조건과 Y조건 중 하나만 만족해도 되는 것을 의미함.

구분	면적당 도로 연장(km/km ²)	인구 밀도(명/km ²)	전통 시장 수(개)	1인당 지역 내 총생산(천만 원)
A	0.6	236.8	1	7.7
B	1.2	238.0	4	11.1
C	0.8	222.4	5	3.9
D	1.0	167.7	6	3.8
E	0.7	119.4	2	3.9



(2021) (충청남도)

- ① A ② B ③ C ④ D ⑤ E

4. 다음은 지도에 표시된 세 지역에 대한 인구 관련 언론 보도 내용이다. (가)~(다) 지역에 대한 설명으로 옳은 것은? [3점]

㉠ (가)은/는 인구가 약 3만 1천여 명까지 줄었는데도 심각한 주차난을 겪고 있습니다. 군부대가 많은 지역적 특성상 군인들을 포함해 사실상 이 지역에서 생활하는 인구는 약 7만여 명이 가깝기 때문입니다.

㉡ (나)은/는 지방의 인구 감소에도 불구하고 인구가 꾸준히 늘고 있어 그 배경에 관심이 쏠린다. 공공 기관 입주, 신도시 조성 등으로 최근 10년간 내국인 인구는 약 3만 6천여 명이 증가했다.

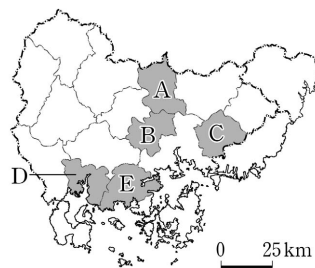
㉢ (다)은/는 탄광이 폐광되면서 근로자와 주민 약 2천여 명이 떠나고 그에 따라 지역 상권이 침체돼 존립 기반이 흔들리고 있다. 또한 여기에 있던 한 대학교의 폐교로 지역 경제에 대한 우려의 목소리가 더욱 커지고 있는 상황이다.



- ① (가)는 (나)보다 인구가 많다.
 ② (가)는 (나)보다 외국인 주민 중 결혼 이민자 수가 많다.
 ③ (나)는 (다)보다 중위 연령이 높다.
 ④ (다)는 (가)보다 성비가 높다.
 ⑤ (다)는 (나)보다 총부양비가 높다.

5. 다음 자료에서 설명하는 지역을 지도의 A~E에서 고른 것은? [3점]

이 지역은 1995년 삼천포시와 사천군이 통합된 곳이다. 항공·우주 산업이 발달한 곳으로 항공 부품과 전자 정밀 기계 업체가 입지한 산업 단지가 조성되어 있다. 이 지역에서는 비행기를 생산하는 한국항공우주산업(KAI)과 최근에 개칭한 우주항공청이 연구·개발 업무를 주도하고 있다.



- ① A
 ② B
 ③ C
 ④ D
 ⑤ E

2 (한국지리)

사회탐구 영역

6. 다음 자료에 대한 설명으로 옳은 것은?

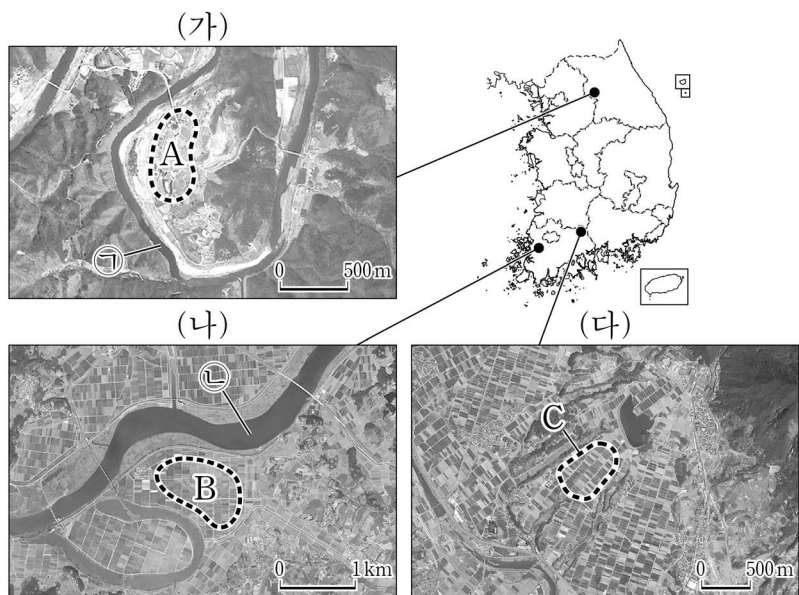
〈한반도 주요 지질 계통과 지각 변동〉

지질 시대	고생대		중생대			신생대	
	캄브리아기	석탄기-페름기	트라이아스기	쥐라기	백악기	제3기	제4기
지질 계통	(가)	(결층)	평안 누층군	대동 누층군	경상 누층군	제3계	제4계
주요 지각 변동	조륙 운동		(나)	(다)	(라)	(마)	화산 활동

중생대 동안 발생하였던 세 번의 주요 지각 변동 중 초기에 발생한 (나) 은/는 주로 한반도 북부 지방에 영향을 미쳤으며, 중기에는 (다) 이/가 발생해 중·남부 지방을 중심으로 영향을 주었다. 중생대 말기에는 (라) 이/가 주로 경상 분지 일대에서 일어났다.

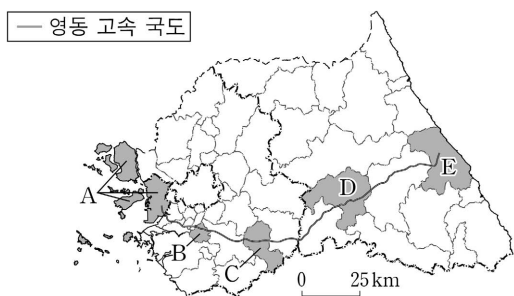
- (가)에서는 공룡 발자국 화석이 흔히 발견된다.
- (나)가 발생한 시기에 길주·명천 지괴가 형성되었다.
- (다)로 인해 중국 방향(북동-남서)의 지질 구조선이 형성되었다.
- (라)로 인해 지리산을 이루는 주된 기반암이 형성되었다.
- 한반도에 분포하는 대부분의 화강암은 (마)에 의해 형성되었다.

7. 다음은 지도에 표시된 세 지역의 하천 지형을 나타낸 위성 영상이다. 이에 대한 설명으로 옳은 것은? (단, A~C는 각각 배후 습지, 전상지, 하안 단구 중 하나임.) [3점]



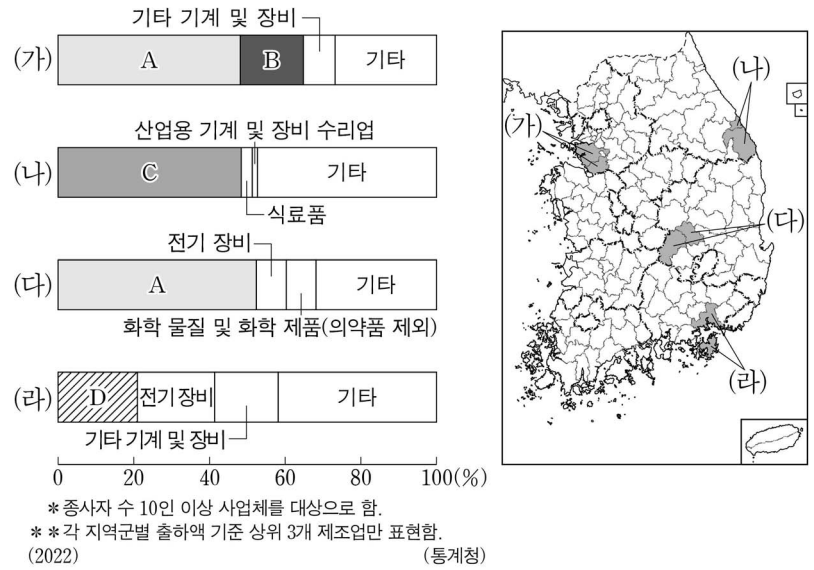
- A는 기반암의 용식 작용으로 평탄화된 지형이다.
- B는 후빙기 이후 하천의 퇴적 작용이 활발해져 형성되었다.
- B는 A보다 퇴적물의 평균 입자 크기가 크다.
- B와 C에는 지하수가 솟아나는 용천대가 발달해 있다.
- (가)의 ㉠ 하천 범람원은 (나)의 ㉡ 하천 범람원보다 면적이 넓다.

8. 지도에 표시된 고속 국도가 지나가는 A~E 지역을 여행할 때, 각 지역에서 체험할 수 있는 활동으로 옳은 것은?



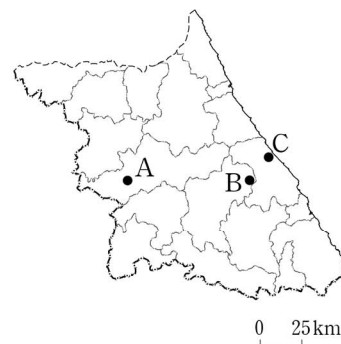
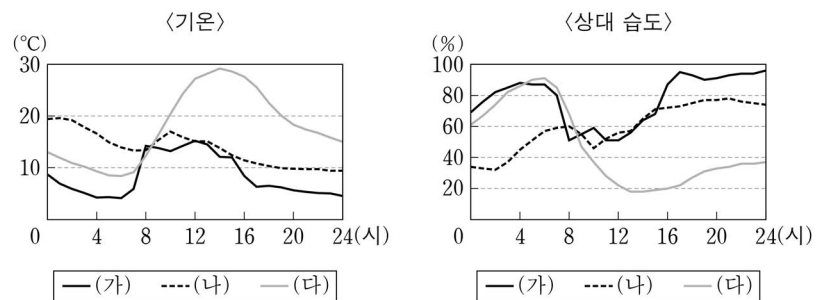
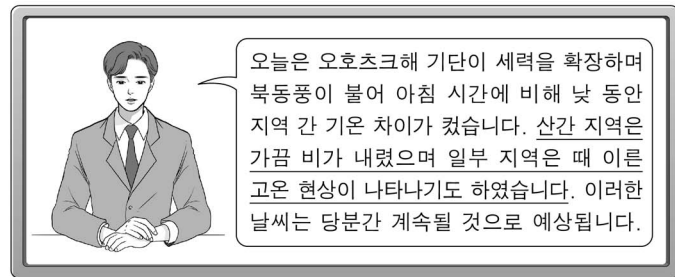
- A: 관광특구로 지정된 차이나타운에서 짜장면 먹기
- B: 동계 올림픽이 개최된 경기장에서 스케이트 타기
- C: 세계 문화유산으로 등재된 화성에서 성곽 길 걷기
- D: 폐광을 활용한 석탄 박물관에서 갱도 견학하기
- E: 도자 박물관에서 도자기 만들기 체험하기

9. 그래프는 지도에 표시된 네 지역군의 제조업 업종별 출하액 비율을 나타낸 것이다. 이에 대한 설명으로 옳은 것은? (단, A~D는 각각 기타 운송 장비, 비금속 광물 제품, 자동차 및 트레일러, 전자 부품·컴퓨터·영상·음향 및 통신 장비 제조업 중 하나임.)



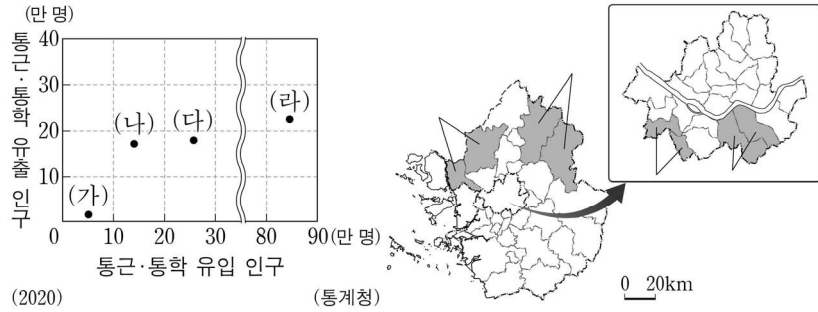
- D는 전국에서 영남권보다 수도권이 차지하는 출하액 비율이 높다.
- A는 B에서 생산된 최종 제품을 주요 재료로 이용한다.
- C는 B보다 총매출액 대비 연구 개발비 비율이 높다.
- D는 A보다 전국 종사자 수가 많다.
- A~D 중 호남권 내에서 출하액이 가장 많은 것은 B이다.

10. 다음은 ○월 ○일의 날씨와 관련한 방송 내용의 일부이다. 밑줄 친 기상 현상과 관련하여 그래프의 (가)~(다)에 해당하는 지역을 지도의 A~C에서 고른 것은? [3점]



- | | (가) | (나) | (다) |
|---|-----|-----|-----|
| ① | A | B | C |
| ② | A | C | B |
| ③ | B | A | C |
| ④ | B | C | A |
| ⑤ | C | B | A |

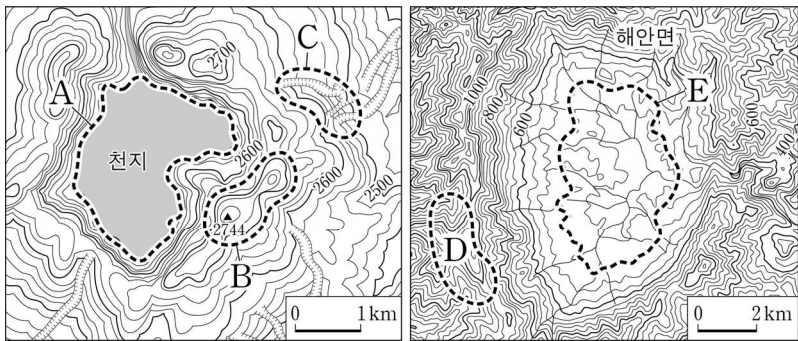
11. 그래프는 지도에 표시된 네 지역군의 통근·통학 유입 및 유출 인구를 나타낸 것이다. (가)~(라) 지역군에 대한 설명으로 옳은 것만을 <보기>에서 고른 것은?



<보 기>
 가. (가)는 (나)보다 서울로의 통근·통학자 수가 많다.
 나. (다)는 (나)보다 주간 인구 지수가 높다.
 다. (다)는 (라)보다 생산자 서비스업 종사자 비율이 높다.
 라. (라)는 (가)보다 주택 유형 중 아파트 비율이 높다.

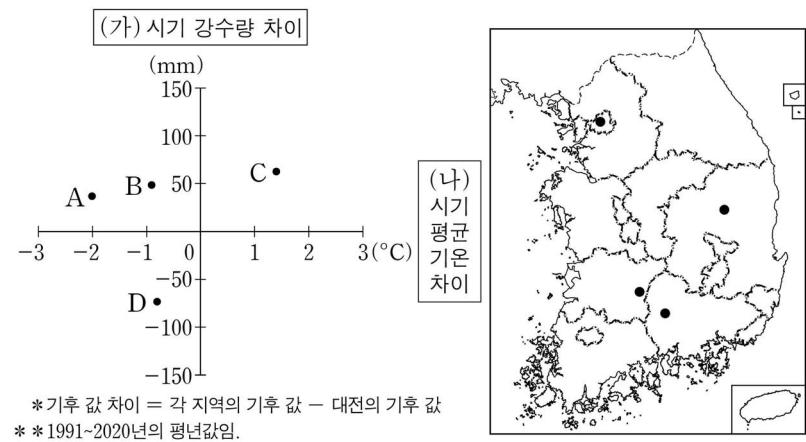
- ① 가, 나 ② 가, 다 ③ 나, 다 ④ 나, 라 ⑤ 다, 라

12. 지도의 A~E에 대한 설명으로 옳은 것은? [3점]



- ① C는 둘 이상의 돌리네가 연결된 우발라이다.
 ② A와 E는 화구의 함몰로 형성된 칼데라이다.
 ③ D의 기반암은 B의 기반암보다 먼저 형성되었다.
 ④ D의 기반암은 E의 기반암보다 차별적 풍화·침식에 약하다.
 ⑤ 한반도에서 E의 기반암은 B의 기반암보다 분포 면적이 좁다.

13. 그래프는 지도에 표시된 네 지역과 대전 간의 기후 값 차이를 나타낸 것이다. 이에 대한 설명으로 옳은 것은? (단, (가), (나) 시기는 각각 1월과 8월 중 하나임.)



- ① C는 대전보다 기온의 연교차가 크다.
 ② A는 B보다 (가) 시기의 평균 기온이 높다.
 ③ C는 A보다 겨울 강수량이 많다.
 ④ A와 D의 위도 차이는 B와 C의 위도 차이보다 더 크다.
 ⑤ A~D 중 평균 열대야 일수가 가장 많은 곳은 B이다.

14. 다음 자료의 (가)에 들어갈 활동 내용으로 가장 적절한 것은? (단, 각 고등학교는 3일 동안 매일 한 지역씩 서로 다른 세 지역을 방문함.) [3점]

영·호남 교류를 위한 탐방 계획서

※ 지도에 표시된 지역 중 방문 지역을 선택하고, 선택된 영·호남 지역에서 공통으로 할 수 있는 활동 내용을 작성해 보세요.

일정	방문 지역에 대한 활동 내용	호남의 ○○○고 영남 방문 지역	영남의 □□□고 호남 방문 지역
1일 차	원자력 발전소를 견학하여 입지 요인을 파악하고 주변 지역 토지 이용의 변화 조사하기		
2일 차	도청이 있는 지역을 탐방하고 인구 유입 현황에 대해 조사하기		
3일 차	(가)		

- ① 기업도시를 답사하여 지역 주민의 이주 요인 설문하기
 ② 녹차 재배지를 방문하여 찻잎을 따서 녹차 만들어 보기
 ③ 대규모 자동차 조립 공장을 견학하여 생산 과정 파악하기
 ④ 염해 방지를 위해 건설된 하굿둑을 방문하여 갑문 기능 알아보기
 ⑤ 석유 화학 공장을 견학하여 지역 경제에 미치는 영향 조사하기

15. 다음 자료는 두 시기의 국토 종합 (개발) 계획에 관한 것이다. (가), (나) 시행 시기의 특징을 그림과 같이 표현할 때, A~D에 들어갈 질문으로 옳은 것을 <보기>에서 고른 것은? (단, (가), (나)는 각각 제2차, 제4차 국토 종합 (개발) 계획 중 하나임.) [3점]

(가)	(나)
경제 성장과 지역 간 균형 개발의 조화를 꿈꾸다 • 인구의 지방 정착 유도 • 개발 가능성의 전국적 확대 • 국토의 다핵 구조 형성과 지역 생활권 조성	새로운 도약을 위한 통합 국토를 지향하다 • 개방형 통합 국토축 형성 • 지역별 경쟁력 고도화 • 건강하고 쾌적한 국토 환경 조성 • 남북 교류 협력 기반 조성

<보 기>

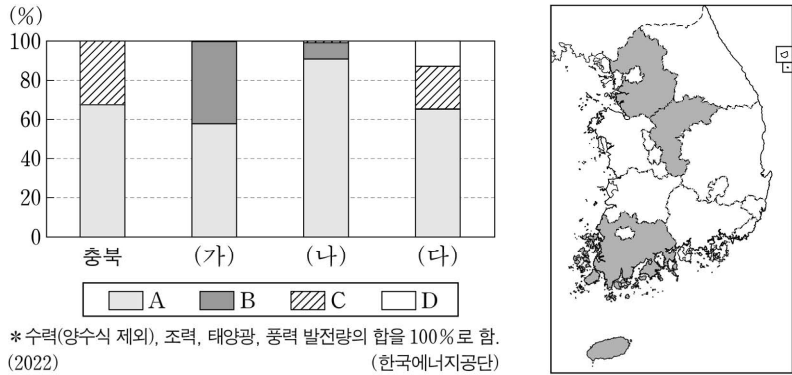
가. 경부 고속 국도 전 구간이 개통되었습니까?
 나. 이전 계획 시행 시기보다 전국에서 수도권이 차지하는 인구 비율이 증가하였습니까?
 다. 수도권 정비 계획법이 최초로 제정되었습니까?
 라. 행정 중심 복합 도시가 건설 되었습니까?

- | | | | | | | | | | |
|---|----------|----------|----------|----------|---|----------|----------|----------|----------|
| | <u>A</u> | <u>B</u> | <u>C</u> | <u>D</u> | | <u>A</u> | <u>B</u> | <u>C</u> | <u>D</u> |
| ① | 나 | 다 | 가 | 라 | ② | 나 | 다 | 라 | 가 |
| ③ | 나 | 라 | 다 | 가 | ④ | 다 | 가 | 라 | 나 |
| ⑤ | 다 | 나 | 가 | 라 | | | | | |

4 (한국지리)

사회탐구 영역

16. 그래프는 지도에 표시된 네 지역의 신·재생 에너지 발전량 비율을 나타낸 것이다. 이에 대한 설명으로 옳은 것은? (단, A~D는 각각 수력, 조력, 태양광, 풍력 중 하나임.) [3점]



- ① A의 발전량은 호남권이 충청권보다 많다.
- ② B의 발전량은 여름이 겨울보다 많다.
- ③ D는 C보다 발전 시 기상 조건의 영향을 크게 받는다.
- ④ (가)는 (나)보다 신·재생 에너지 총발전량이 많다.
- ⑤ (나)는 제주권, (다)는 호남권에 위치한다.

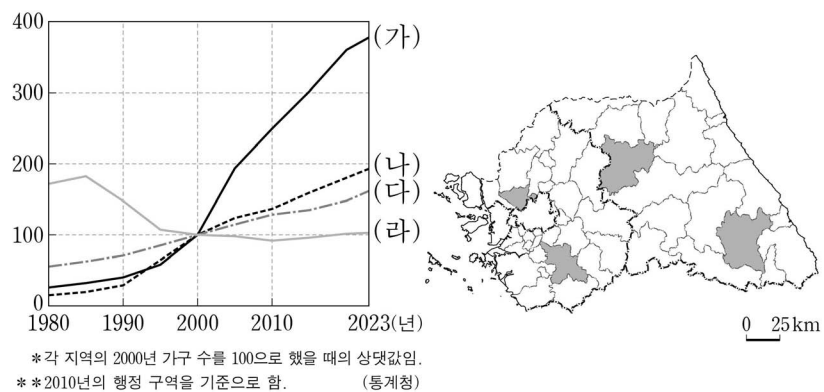
17. 다음 글의 ㉠~㉣에 대한 설명으로 옳은 것만을 <보기>에서 있는 대로 고른 것은?

토양은 암석 풍화의 산물로 기후와 식생, 기반암, 시간 등에 따라 성질이 달라진다. 기후와 식생의 영향을 받아 형성된 토양으로는 중부 및 남부 지방에 넓게 분포하는 ㉠갈색 삼림토, 개마고원 지역에 분포하는 회백색토가 대표적이다. 기반암(모암)의 성질이 많이 반영된 토양으로는 강원 남부, 충북 북동부 등에 분포하는 ㉡석회암 풍화토를 들 수 있다. 한편 토양 생성 기간이 비교적 짧은 토양으로는 ㉢충적토, 염류토가 대표적이다.

- <보 기>
- ㉠. ㉡의 기반암(모암)은 고생대 해성층에 주로 포함된다.
 - ㉡. ㉢은 주로 하천에 의해 운반된 물질이 퇴적되어 형성되었다.
 - ㉢. ㉠은 간대토양, ㉣은 성대 토양에 해당한다.

- ① ㉠
- ② ㉡
- ③ ㉠, ㉡
- ④ ㉡, ㉢
- ⑤ ㉠, ㉡, ㉢

18. 그래프는 지도에 표시된 네 지역의 가구 수 변화를 나타낸 것이다. (가)~(라) 지역에 대한 설명으로 옳은 것은? [3점]



- ① (나)는 (가)보다 인구 밀도가 높다.
- ② (다)는 (라)보다 지역 내 농가 비율이 높다.
- ③ (가)와 (나)에는 수도권 2기 신도시가 조성되어 있다.
- ④ (가)~(라)는 모두 수도권 전철이 연결되어 있다.
- ⑤ (가)와 (다)는 경기도, (나)와 (라)는 강원특별자치도에 속한다.

19. 다음 자료의 A 지역에 대한 설명으로 옳은 것만을 <보기>에서 고른 것은?

※(가), (나)에서 설명하는 지역을 지도에서 찾아 하나씩 지운 후, 남은 지역 A를 쓰시오. (단, (가), (나), A는 각각 지도에 표시된 세 지역 중 하나임.)

(가) 이 지역은 참외의 최대 재배 지역으로 전국 재배 면적의 70% 이상을 차지하고 있다. 다른 지역에 비해 육질이 단단하고 단맛이 강한 참외는 비닐하우스를 이용한 상업적 농업에 성공하면서 이 지역의 대표 과일로 자리를 잡았다.

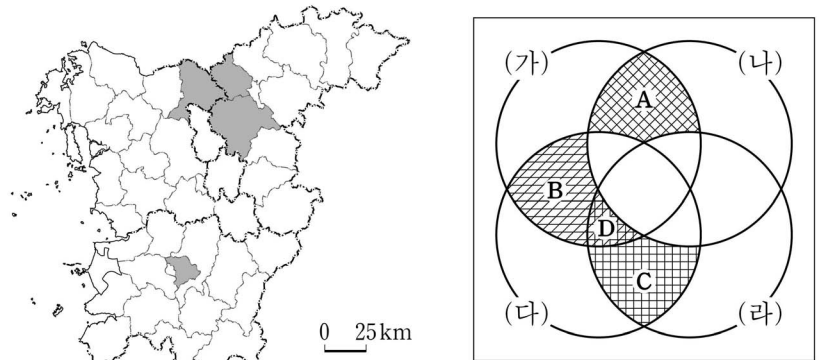
(나) 이 지역은 카르스트 지형 분포 지역으로, 기온의 일교차가 크고 배수가 양호한 토질 특성을 활용하여 마늘 재배가 활발하다. 이 지역에서 생산된 육쪽마늘은 대표적인 특산품으로 유명하다.

정답: (가), (나) 지역을 모두 지운 후 남은 지역은 A이다.

- <보 기>
- ㉠. 채소 생산량보다 과일 생산량이 많다.
 - ㉡. 경지 면적 중 밭보다 논이 차지하는 비율이 높다.
 - ㉢. (가)보다 경지 면적 중 시설 재배 면적 비율이 높다.
 - ㉣. 지도에 표시된 세 지역 중 맥류 생산량이 가장 많다.

- ① ㉠, ㉡
- ② ㉠, ㉢
- ③ ㉡, ㉣
- ④ ㉡, ㉣
- ⑤ ㉢, ㉣

20. 지도에 표시된 네 지역의 특징을 그림과 같이 표현할 때, A~D의 내용으로 옳은 것만을 <보기>에서 고른 것은? (단, (가)~(라)는 각각 지도에 표시된 네 지역 중 하나임.) [3점]



- A: (가)와 (나)만의 공통 특징으로 '혁신도시가 조성되어 있음.'이 해당함.
- B: (가)와 (다)만의 공통 특징으로 '지명의 첫 글자가 도 명칭의 유래가 됨.'이 해당함.
- C: (다)와 (라)만의 공통 특징임.
- D: (가)와 (다)와 (라)만의 공통 특징임.

- <보 기>
- ㉠. A: '슬로 시티로 지정된 한옥 마을이 있음.'이 해당함.
 - ㉡. B: '국제공항이 있음.'이 해당함.
 - ㉢. C: '경부선 고속 철도가 통과함.'이 해당함.
 - ㉣. D: '도내 인구 규모 1위 도시임.'이 해당함.

- ① ㉠, ㉡
- ② ㉠, ㉢
- ③ ㉡, ㉣
- ④ ㉡, ㉣
- ⑤ ㉢, ㉣

* 확인 사항

- 답안지의 해당란에 필요한 내용을 정확히 기입(표기)했는지 확인 하시오.

2025학년도 대학수학능력시험

사회탐구 영역 정답표
(한국지리) 과목

문항 번호	정 답	배 점	문항 번호	정 답	배 점	문항 번호	정 답	배 점	문항 번호	정 답	배 점
1	①	2	6	③	2	11	④	2	16	①	3
2	③	2	7	②	3	12	③	3	17	③	2
3	②	2	8	①	2	13	⑤	2	18	①	3
4	⑤	3	9	⑤	2	14	②	3	19	④	2
5	④	3	10	④	3	15	②	3	20	⑤	3

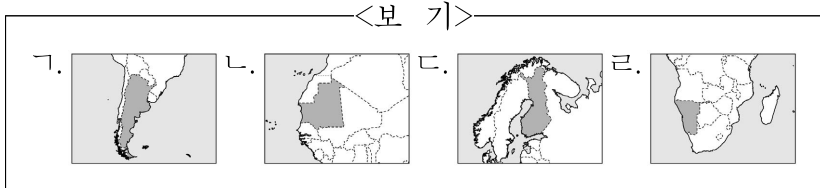
제 4 교시

사회탐구 영역(세계지리)

성명 [] 수험 번호 [] 제 [] 선택

1. 다음 자료의 (가), (나) 국가가 표시된 지도만을 <보기>에서 고른 것은?

(가)의 로바니에미에 있는 산타클로스 마을은 많은 관광객이 찾는 곳이다. 이 마을에 있는 사진 속 조형물은 북극권(Arctic Circle)의 경계선상에 세워져 있고, 경계선의 북쪽이 북극권에 해당한다. (나)의 해안 사막에 있는 사구 위에서는 다른 사구 위로 올라오는 일출과 대서양으로 떨어지는 일몰을 모두 볼 수 있다. 이 사막의 동쪽 내륙에 있는 도로에는 사진과 같이 남회귀선(Tropic of Capricorn)을 나타내는 표지판이 있다.



- (가) (나) ① ㄱ ㄴ ② ㄱ ㄷ ③ ㄴ ㄷ ④ ㄷ ㄴ ⑤ ㄷ ㄹ

2. 다음 자료는 세 국가의 국장에 관한 것이다. 이에 대한 설명으로 옳은 것만을 <보기>에서 고른 것은? (단, (가)~(다)는 각각 모로코, 우즈베키스탄, 이스라엘 중 하나임.) [3점]

Table with 3 columns: (가), (나), (다). Each column contains a national emblem and a descriptive text block.

<보 기> ㄱ. ㉠ 일대는 사막화의 사례 지역이다. ㄴ. ㉡은 주로 시·원생대 지각 운동으로 형성되었다. ㄷ. ㉢에는 유대교, 이슬람교, 크리스트교의 성지가 모두 있다. ㄹ. (가)~(다) 중 국토 면적이 가장 넓은 국가는 (다)이다.

- ① ㄱ, ㄴ ② ㄱ, ㄷ ③ ㄴ, ㄷ ④ ㄴ, ㄹ ⑤ ㄷ, ㄹ

3. 다음 자료에 대한 설명으로 옳지 않은 것은? [3점]

△△ 신문 2000년 0월 0일 "폭 25m, 깊이 30m 구덩이의 비밀" 야말반도 서시베리아. 2013년 이후 러시아 야말반도 일대에서 17개에 달하는 거대한 구덩이가 발견되었다. 연구진은 ㉠ 지구 온난화로 두꺼운 얼음층이 녹아내려 그 아래 갇혀 있던 대량의 메테인이 지상으로 폭발하면서 이런 구덩이를 형성한 것으로 보고 있다. 야말반도는 '나무가 자랄 수 없는 땅'을 의미하는 (가)에 속한다. (가) 기후 지역의 지하에는 연중 얼어 있는 영구 동토층이 있고, 그 위에는 계절에 따라 결빙과 융해를 반복하는 ㉡ 활동층이 있다. 짧은 여름 동안 활동층이 녹으면 지반은 불안정해지며, 크고 작은 습지와 호소가 생기기도 한다.

- ① (가) 기후 지역의 분포 면적은 북반구가 남반구보다 넓다. ② (가) 기후 지역 원주민은 순록 유목, 수렵 등으로 생활해 왔다. ③ (가) 기후 지역은 화학적 풍화 작용이 물리적 풍화 작용보다 활발하다. ④ ㉠에 의한 기온 상승으로 영구 동토층의 두께는 감소한다. ⑤ ㉡의 표면에는 다각형 모양의 구조토가 발달한다.

4. 다음 글의 (가)~(라) 종교에 대한 설명으로 옳은 것은? (단, (가)~(라)는 각각 불교, 이슬람교, 크리스트교, 힌두교 중 하나임.)

국가 내 특정 종교의 신자가 절대 다수를 차지하는 경우에도 종교 전파 등으로 다양한 종교 경관이 나타난다. 튀르키예는 국민 대다수가 (가) 신자이지만, 아나톨리아의 데린쿠유에 있는 성 테오도르 교회는 (나) 건축물로 이곳에는 십자가와 종탑이 있다. 인도네시아도 국민 대다수가 (가) 신자이지만, 옥야카르타 인근 보로부두르 사원에서는 불상과 탑을 볼 수 있어 과거 이 지역에 (다)가 전파되었음을 알 수 있다. 한편, 싱가포르의 어느 한 종교의 신자가 절대 다수를 차지하지 않아 특정 종교 경관이 두드러지지 않고 사원, 교회, 모스크 등 다양한 종교 경관이 나타난다. 리틀 인디아 지구에는 스리 비라마칼리암만 사원이 있는데, 이곳은 다양한 신을 믿는 (라) 사원이다.

- ① (가)의 대표적인 성지로 바라나시가 있다. ② (라)의 기원지는 서남아시아이다. ③ (가)는 (다)보다 기원 시기가 이르다. ④ 사하라 이남 아프리카에서는 (나) 신자가 (가) 신자보다 많다. ⑤ 전 세계 신자는 (나) > (다) > (가) > (라)의 순으로 많다.

2 (세계지리)

사회탐구 영역

5. 다음 글은 동남아시아 국가에 관한 내용이다. 이에 대한 설명으로 옳은 것만을 <보기>에서 있는 대로 고른 것은? [3점]

(가) 은/는 주민의 대부분이 불교를 믿는다. 미얀마, 캄보디아, (다) 등과 국경을 접하고 있으며 수도는 짜오프라야강 주변에 위치해 있다. 4월 중순을 전통적인 새해의 시작으로 여겨 ① 이를 기념하는 축제가 개최된다.

(나) 은/는 인도차이나반도에 위치한 남북으로 긴 형태의 국가로 중국, 캄보디아 등과 국경을 접하고 있다. 수도는 이 국가의 북부에 위치하며 수도의 이름은 '강(Ha)의 안쪽(Noi)'이라는 뜻이다. 전통 의상인 아오자이와 전통 음식인 쌀국수 '퍼(Pho)'가 유명하다.

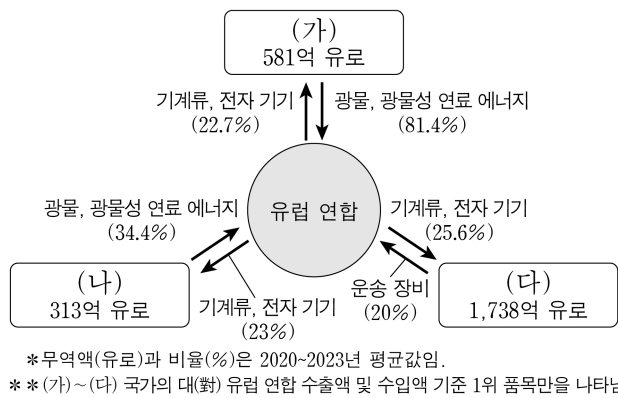
(다) 은/는 (가), 싱가포르 등과 국경을 접하고 있으며 이 국가와 수마트라섬 사이의 해협은 인도양과 동아시아를 연결하는 주요 해상 교통로이다. 수도는 19세기의 주석 광산 개발로 인해 성장하였고 수도의 이름은 '흙탕물(Lumpur)의 합류(Kuala)'라는 뜻이다.

<보 기>

- ㄱ. ①은 송끄란 축제로 우기가 끝나는 시기에 개최된다.
 ㄴ. (가)와 (나)는 국경을 접하고 있다.
 ㄷ. (나)는 (다)보다 쌀 수출량이 많다.

- ① ㄱ ② ㄷ ③ ㄱ, ㄴ ④ ㄴ, ㄷ ⑤ ㄱ, ㄴ, ㄷ

6. 다음 자료는 (가)~(다) 국가와 유럽 연합(EU) 간의 무역 현황을 나타낸 것이다. 이에 대한 설명으로 옳은 것은? (단, (가)~(다)는 각각 사우디아라비아, 이집트, 튀르키예 중 하나임.) [3점]

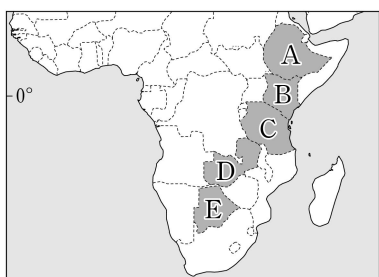


- ① (나)에는 홍해와 지중해를 연결하는 수에즈 운하가 있다.
 ② (다)에는 톱알할리 사막이 넓게 분포한다.
 ③ (가)는 (나)보다 국내 총생산에서 1차 산업이 차지하는 비율이 높다.
 ④ (가)는 (다)보다 인구 밀도가 높다.
 ⑤ (나)는 아시아, (다)는 아프리카에 위치한다.

7. 다음 자료의 (가), (나) 국가를 지도의 A~E에서 고른 것은?

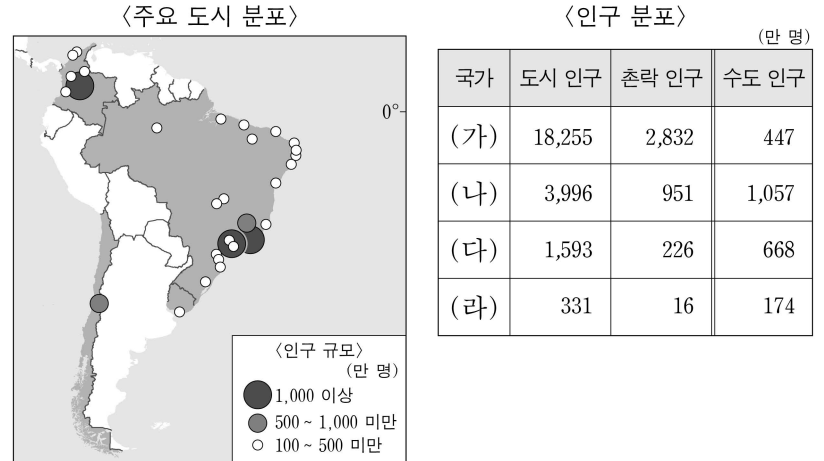
○ '코퍼 벨트'는 내륙국인 (가) 와/과 콩고 민주 공화국에 걸친 세계적 구리 매장 지대를 가리키는 명칭임과 동시에 이 국가의 행정 구역 명칭이기도 하다. 이러한 지명에서 알 수 있듯이 구리는 이 국가 수출에서 가장 높은 비율을 차지하는 자원이다.

○ 인도양과 접한 (나) 은/는 기후 작물이 주요 수출 상품이다. 이 국가의 고산 지역에서는 차(茶)와 커피 재배가 이루어지며, 수출 1위 상품은 차이다. 이외에도 다양한 화훼류가 수도 나이로비 국제공항에서 출발하는 항공편을 이용하여 유럽으로 수출된다.



- | | (가) | (나) |
|---|-----|-----|
| ① | D | B |
| ② | D | C |
| ③ | E | A |
| ④ | E | B |
| ⑤ | E | C |

8. 다음 자료는 네 국가의 주요 도시와 인구 분포를 나타낸 것이다. 이에 대한 설명으로 옳은 것은? (단, (가)~(라)는 각각 지도에 표시된 네 국가 중 하나임.) [3점]



- ① (가)의 수위 도시는 수도이다.
 ② (다)에는 잉카인들이 높은 산 위에 건설한 마추픽추가 있다.
 ③ (라)는 (나)보다 수도의 해발 고도가 높다.
 ④ (나)와 (다)는 모두 중주 도시화 현상이 나타난다.
 ⑤ (가)~(라) 중 국가 내 수도 인구 비율이 가장 높은 국가는 (나)이다.

9. 표의 (가)~(라)에 대한 설명으로 옳은 것은? (단, (가)~(라)는 각각 수력, 지열, 태양광·태양열, 풍력 중 하나임.)

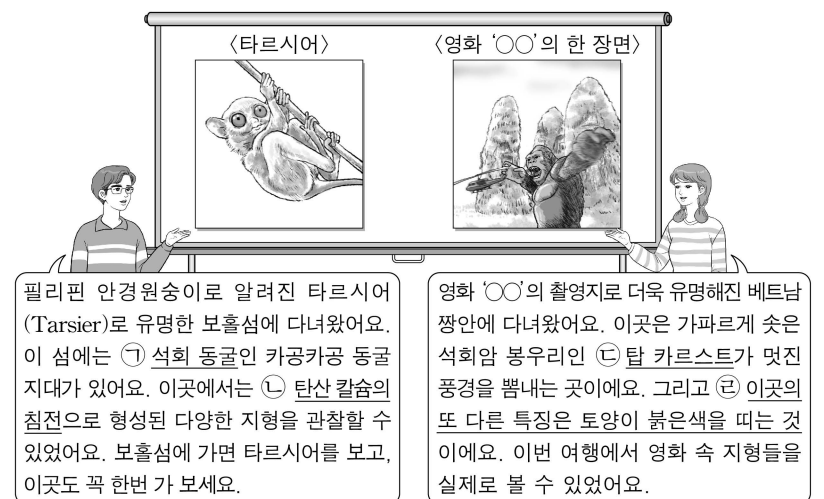
<유럽의 신·재생 에너지 발전량 상위 3개국>

순위	(가)	(나)	(다)	(라)
1위	러시아	독일	독일	이탈리아
2위	노르웨이	영국	에스파냐	아이슬란드
3위	스웨덴	에스파냐	이탈리아	러시아

(2021년)

- ① (라)의 발전량이 전 세계에서 가장 많은 국가는 미국이다.
 ② 아이슬란드의 발전량은 (나)가 (가)보다 많다.
 ③ 덴마크의 발전량은 (다)가 (나)보다 많다.
 ④ (라)는 (다)보다 발전 시 기상 조건의 제약을 많이 받는다.
 ⑤ (가)~(라) 중 전 세계 발전량은 (라)가 가장 많다.

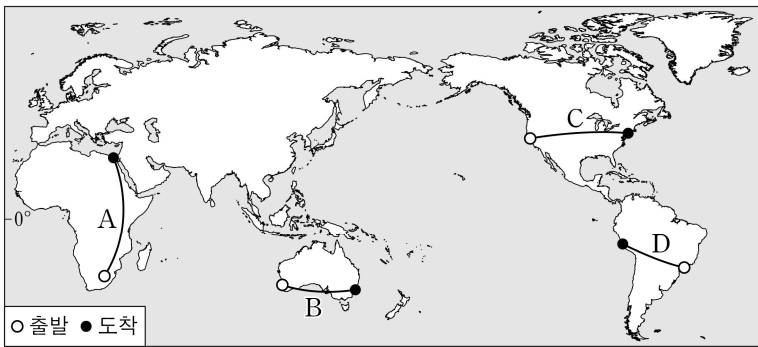
10. 다음은 두 학생의 여행 후기 발표 장면이다. ㉠~㉤에 대한 설명으로 옳지 않은 것은?



- ① ㉠은 주로 땅속으로 흘러든 빗물과 지하수의 용식으로 형성된다.
 ② ㉡으로 형성된 지형으로는 카렌이 있다.
 ③ ㉢을 관광 자원으로 활용하는 사례로 중국의 구이린에 있다.
 ④ ㉣은 철분이 산화되어 토양에 남아 있기 때문이다.
 ⑤ ㉠과 ㉢은 건조한 지역보다 습윤한 지역에서 잘 발달한다.

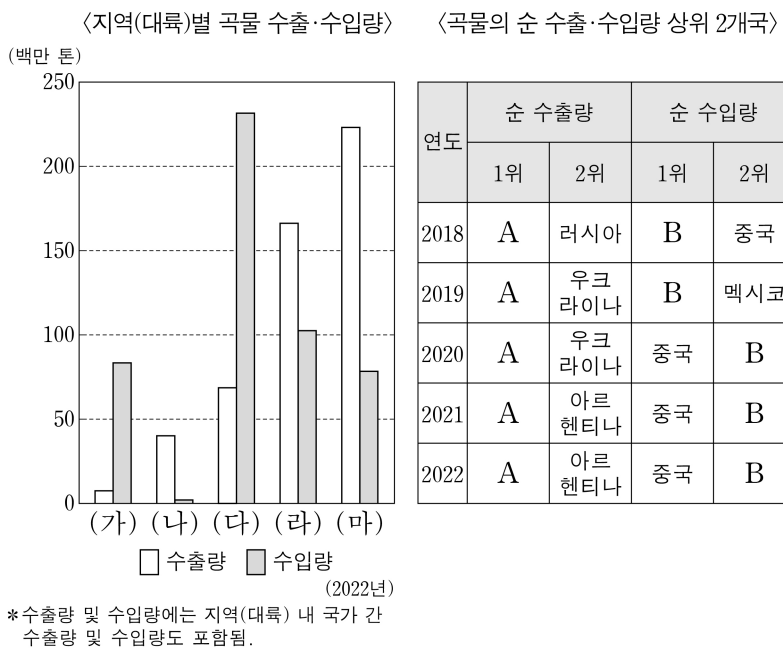
11. 다음 자료는 기내 안내 방송 대본의 일부이다. (가), (나) 대본이 방송되는 비행기의 경로를 지도의 A~D에서 고른 것은?

<비행경로별 기내 안내 방송 대본>
 (가) 승객 여러분, 우리 비행기는 이제 곧 목적지에 도착할 예정이며 현재 해발 고도 약 3,800m에 위치한 큰 호수 근처를 지나고 있습니다. 이 호수는 판의 수렴으로 형성된 거대한 신기 습곡 산지에 있으며, 산지 곳곳에 고산 도시가 있습니다. ...
 (나) 기장입니다. 비행경로의 절반쯤 지나고 있는 우리 비행기는 현재 거대한 지구대 위를 지나고 있습니다. 판이 갈라져 형성된 이 지구대는 남북 방향으로 수천 km에 걸쳐 이어집니다. 지구대 주변에는 크고 작은 호수와 해발 고도 5,000m가 넘는 화산도 분포합니다. ...



- (가) (나) (가) (나) (가) (나)
 ① A B ② C A ③ C B
 ④ D A ⑤ D C

12. 다음 자료에 대한 설명으로 옳은 것만을 <보기>에서 있는 대로 고른 것은? (단, (가)~(마)는 각각 아메리카, 아시아, 아프리카, 오세아니아, 유럽 중 하나임.)

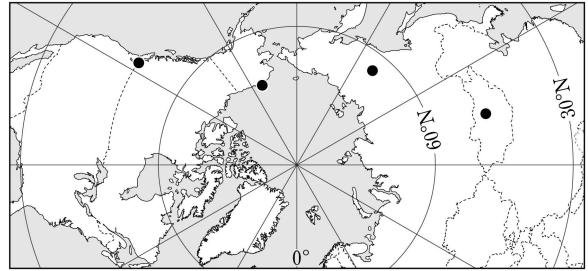


<보 기>
 가. (나)의 곡물 수출량 중 밀 수출량이 가장 많다.
 나. (라)에는 소 사육 두수가 세계에서 가장 많은 국가가 위치한다.
 다. (마)에는 옥수수의 세계 최대 수출 국가가 위치한다.
 리. A는 미국이고, B는 일본이다.

- ① 가, 리 ② 나, 리 ③ 나, 리
 ④ 가, 나, 리 ⑤ 가, 리, 리

13. 표의 A~D 지역에 대한 설명으로 옳은 것은? (단, A~D는 각각 지도의 네 지역 중 하나임.)

구분	A	B	C	D
최한월 평균 기온 (°C)	-45.6	-21.4	3.9	-24.4
기온의 연교차 (°C)	60.9	40.5	14.2	29.9



- ① D는 건조 기후 지역에 속한다.
 ② A는 B보다 바다와의 최단 거리가 짧다.
 ③ B는 C보다 1월 강수량이 많다.
 ④ B와 D에는 모두 타이가라 불리는 침엽수림대가 있다.
 ⑤ A~D 중 7월 낮 길이가 가장 긴 곳은 A이다.

14. 다음 자료의 (가)~(다) 도시에 대한 설명으로 옳은 것은? [3점]


지구적 환경 문제를 해결하기 위해 세계의 여러 도시에서 다양한 국제 환경 협약이 체결되었으며, 협약의 명칭에는 협약이 체결된 도시명이 포함된 경우가 있다.

<주요 국제 환경 협약>

체결 도시	체결 연도	협약의 주요 내용
(가)	1972	폐기물 등의 투기에 의한 해양 오염 방지
(나)	1987	오존층 파괴 물질의 생산과 사용 규제
(다)	2015	선진국과 개발 도상국 모두의 온실가스 감축 의무 규정

- ① (가)는 최상위 계층의 세계 도시이다.
 ② (나)에는 금융 중심지인 카나리워프가 있다.
 ③ (다)에는 국제 연합(UN) 본부가 있다.
 ④ (가)~(다)는 모두 유럽에 위치한다.
 ⑤ (가)~(다) 중 도시 발달 역사는 (나)가 가장 길다.

15. 다음 자료의 (가)~(다)에 대한 설명으로 옳은 것만을 <보기>에서 고른 것은? (단, (가)~(다)는 각각 버섯바위, 뷰트, 사구 중 하나임.) [3점]



<보 기>
 가. (가)는 경암층과 연암층이 차별 침식을 받아 형성된다.
 나. (나)는 주로 외래 하천의 퇴적 작용으로 형성된다.
 다. (다)는 주로 바람에 날린 모래의 침식 작용으로 형성된다.
 리. (가)~(다)가 위치한 사막은 모두 한류에 의해 형성된다.

- ① 가, 나 ② 가, 리 ③ 나, 리 ④ 나, 리 ⑤ 다, 리

4 (세계지리)

사회탐구 영역

16. 다음 글의 (가)~(다) 도시를 지도의 A~C에서 고른 것은?

- (가) 은/는 미국 중서부, 남부, 동부 지역을 연결하는 철도 교통 및 내륙 수운의 중심지로 성장하였다. 이 도시는 로스앤젤레스에 이어 미국에서 인구가 세 번째로 많으며, 고층화된 도시 스카이라인으로 유명하다.
- (나) 은/는 오대호의 수운을 이용해 18세기부터 모피 교역 중심지로 번성하였다. 이후 주요 완성차 업체가 입지하며 20세기 초부터 세계적인 자동차 산업의 중심지로 성장하였다.
- (다) 은/는 애팔래치아산맥의 석탄 산지에 입지한 도시이다. 이 도시는 인근의 풍부한 석탄과 오대호 수운 및 철도를 통해 운반된 철광석을 바탕으로 철강 산업이 발달하였다.

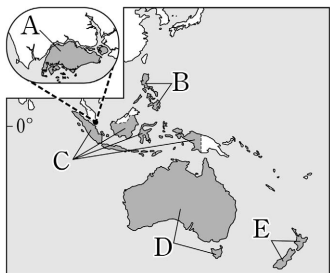
- | | | | | | | | |
|---|-----|-----|-----|---|-----|-----|-----|
| | (가) | (나) | (다) | | (가) | (나) | (다) |
| ① | A | B | C | ② | A | C | B |
| ③ | B | A | C | ④ | B | C | A |
| ⑤ | C | B | A | | | | |

17. 다음 자료의 (가) 국가를 지도의 A~E에서 고른 것은? [3점]

유네스코

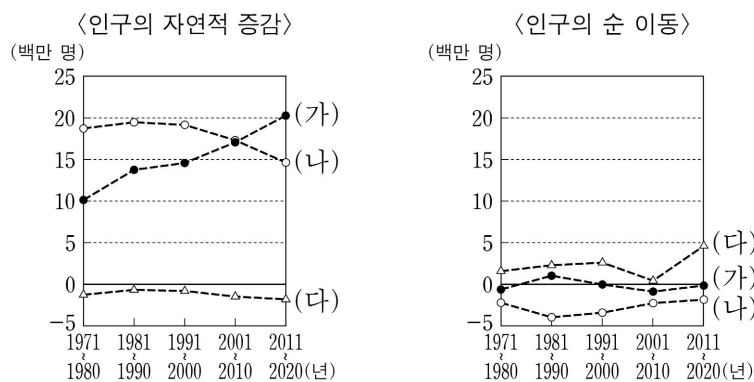
(가) 의 유네스코 세계 유산

- 통가리로(Tongariro) 국립 공원
북섬에 있는 여러 개의 화산 및 다양한 생태 지역을 포함함. 마오리족의 성지로 문화적 가치까지 인정받아 세계 복합 유산으로 지정함.
- 테 와히포우나무(Te Wahipounamu) 공원
마오리족의 언어로 '녹색 돌의 산지' 라는 뜻임. 피오르를 비롯한 빙하 지형, 희귀 동물 서식지 등이 있는 남섬 남서쪽 네 개 국립 공원을 하나의 세계 자연 유산으로 지정함.



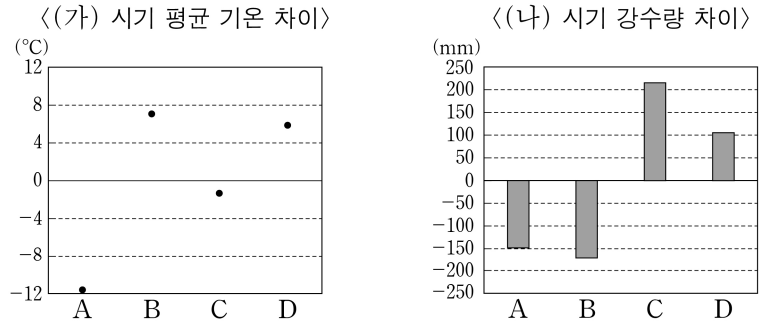
- ① A
- ② B
- ③ C
- ④ D
- ⑤ E

18. 그래프는 세 국가의 인구 특성을 나타낸 것이다. 이에 대한 설명으로 옳은 것은? (단, (가)~(다)는 각각 독일, 멕시코, 이집트 중 하나임.)

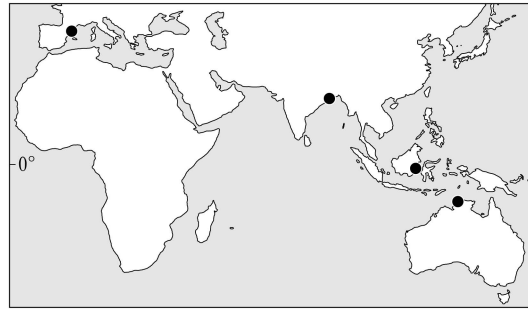


- ① 독일은 2011년 인구가 2020년 인구보다 많다.
- ② 1971년 중위 연령은 (가)가 (다)보다 높다.
- ③ 2020년 1인당 국내 총생산은 (나) > (다) > (가) 순으로 많다.
- ④ (가)~(다) 중 1971년에서 2000년까지 증가한 인구가 가장 많은 국가는 멕시코이다.
- ⑤ (가)~(다) 중 2011~2020년 미국으로의 유출 인구가 가장 많은 국가는 (가)이다.

19. 그래프는 지도에 표시된 네 지역의 기후 특성을 나타낸 것이다. A~D 지역에 대한 설명으로 옳은 것은? (단, (가), (나) 시기는 각각 1월, 7월 중 하나임.) [3점]



* 강수량 차이 = 해당 지역 강수량 - (네 지역 강수량의 합 ÷ 4)
* * 평균 기온 차이 = 해당 지역 평균 기온 - (네 지역 평균 기온의 합 ÷ 4)



- ① D의 최한월 평균 기온은 18°C 미만이다.
- ② B는 C보다 7월 강수일수가 많다.
- ③ C는 A보다 (가) 시기 정오의 태양 고도가 높다.
- ④ D는 A보다 기온의 연교차가 크다.
- ⑤ A는 남반구, B는 북반구에 위치한다.

20. 다음 자료의 (가)~(라) 국가에 대한 설명으로 옳은 것만을 <보기>에서 있는 대로 고른 것은? [3점]

유럽의 (가) 은/는 여러 언어를 사용하는 국가이다. 이 국가의 헌법은 인접국인 (나), (다), (라) 의 언어로 작성되었다. 그리고 이들 언어의 주요 사용 지역을 바탕으로 구분한 네 개 언어권을 헌법에 명시하고 있다.

(가)의 언어권 구분

- <보 기>
- ㄱ. (가)는 내륙 국가이다.
 - ㄴ. (다)의 라인강 하구에는 석유를 비롯한 원료 수입과 제품 수출에 유리한 항구 도시인 로테르담이 있다.
 - ㄷ. (나)에는 루르 공업 지역이, (라)에는 로렌 공업 지역이 있다.
 - ㄹ. (가)~(라)는 모두 유럽 연합(EU) 가입국이다.

- ① ㄱ, ㄷ ② ㄴ, ㄹ ③ ㄷ, ㄹ
- ④ ㄱ, ㄴ, ㄷ ⑤ ㄱ, ㄴ, ㄹ

* 확인 사항

- 답안지의 해당란에 필요한 내용을 정확히 기입(표기)했는지 확인 하시오.

2025학년도 대학수학능력시험

사회탐구 영역 정답표
(세계지리) 과목

문항 번호	정 답	배 점	문항 번호	정 답	배 점	문항 번호	정 답	배 점	문항 번호	정 답	배 점
1	⑤	2	6	①	3	11	④	2	16	①	2
2	②	3	7	①	2	12	⑤	2	17	⑤	3
3	③	3	8	④	3	13	②	2	18	④	2
4	④	2	9	①	2	14	①	3	19	③	3
5	②	3	10	②	2	15	②	3	20	②	3

제 4 교시

사회탐구 영역(세계사)

성명

수험 번호

제 () 선택

1. 다음 유물을 남긴 고대 문명에 대한 설명으로 옳은 것은? [3점]



이것은 나일강 유역 람세스 3세의 궁전 유적에서 발굴된 타일 조각들이다. 이 유물에는 주변 지역에서 사로잡은 포로들이 표현되어 있다. 특히 첫 번째 인물은 족장으로 추정되며, 파라는 이러한 장식을 통하여 대내외적으로 자신의 권력을 과시하고자 하였다.

- ① 사자의 서를 제작하였다.
- ② 길가메시 서사시를 남겼다.
- ③ 올림피아 제전을 개최하였다.
- ④ 갑골에 점복의 내용을 기록하였다.
- ⑤ 모헨조다로에 계획도시를 건설하였다.

2. (가), (나) 시기 사이에 있었던 사실로 옳은 것은?

(가) 중국 황제의 서신에 “황제가 왜황에게 안부를 묻는다.”라고 적혀 있던 것에 대하여, 군신들은 “이것은 중국의 황제가 제후 왕에게 서신을 보낼 때의 예의입니다.”라 하여 이의를 제기하였다. 하지만 쇼토쿠 태자는 “황(皇)이란 글자는 함부로 사용하는 글자가 아니다.”라고 군신들의 주장을 일축하였다. 그리고 중국 사신들에게 답서를 건네고 후한 접대를 하여 귀국시켰다.

(나) 스가와라노 미치자네가 상소하기를, “중국에 있는 승려 추칸이 상인 왕놀을 통해 보내온 문서에 의하면 지금 중국은 반란이 끝난 지 얼마 되지 않아 수도 장안이 혼란한 모습을 보이고 있습니다. 또 바다를 건너 중국으로 향해하는 것의 어려움과 해적에 의한 피해 등을 고려할 때, 사신 파견의 필요 여부에 대한 신중한 논의가 필요하다고 생각합니다.”라고 하였다. 얼마 후 중국 문물 수용을 위한 사신 파견이 중지되었다.

- ① 류큐가 병합되었다.
- ② 고사기가 편찬되었다.
- ③ 해체신서가 간행되었다.
- ④ 동유 운동이 전개되었다.
- ⑤ 산킨코타이 제도가 시행되었다.

3. (가) 국가에 대한 설명으로 옳은 것은? [3점]

(가)의 공신 열전

○한기선
태조가 연경에 입성하고 효율적인 통치를 위해 북면관·남면관을 활용하였다. 관료였던 한기선은 군대를 지휘하는 것 외에 민정, 수도와 지방에 물자 보급 등을 담당하여 공을 세웠다. 그는 두 황제 치세하에서 재상을 역임하며 성공적인 업적을 쌓았기에 세종이 그의 현명함을 칭찬하였다.

○곽약사
태종은 남조에서 투항해 온 곽약사에게 높은 벼슬을 주고 많은 혜택을 베풀었다. 이에 곽약사는 종망에게 남조의 약점을 알려 주어 쉽게 공격할 수 있게 도움을 주었다. 종망이 남조의 수도까지 진군하여 큰 승리를 거두고, 그들로 하여금 우리에게 쫓겨 창장강 이남으로 수도를 옮기게 한 것도 곽약사의 조언 덕분이었다.

- ① 동돌궐을 복속하였다.
- ② 파스파 문자를 만들었다.
- ③ 9품중정제를 실시하였다.
- ④ 전연의 맹약을 체결하였다.
- ⑤ 수도를 중도(베이징)로 옮겼다.

4. 다음을 통해 알 수 있는 전쟁의 결과로 옳은 것은?

지도는 크세르크세스 군대의 진격로와 주요 격전지를 나타낸 것이다. 테르모필레 전투에서 크세르크세스 군대는 스파르타의 왕 레오니다스가 이끄는 300인대와 마주하였다. 레오니다스의 군대를 제외한 다른 펠로폰네소스군은 겁을 먹고 펠로폰네소스로 철수하여 지협을 방어해야 한다고 주장하였다. ... (중략) ... 크세르크세스의 군대는 테르모필레 전투에서 승리하였지만 이후 벌어진 살라미스 해전에서 대패한 후 물러났다.

- ① 솔론이 개혁을 단행하였다.
- ② 아테네가 델로스 동맹의 맹주가 되었다.
- ③ 스파르타가 그리스의 패권을 장악하였다.
- ④ 페이시스트라토스가 참주정을 실시하였다.
- ⑤ 클레이스테네스가 도편 추방제를 마련하였다.

5. (가) 왕조에 대한 설명으로 옳은 것은? [3점]

성지 회복을 명분으로 내건 크리스티교 군대는 니케이아를 점령한 이후 소아시아를 경유하여 무슬림 군대의 방어를 뚫고 시리아에 진출하였다. 그들은 먼저 성지로 향하는 길목의 요충지인 안티오크를 점령하고 예루살렘마저 함락시키는 데 성공하였다. ... (중략) ... 시리아 지방을 거쳐 동쪽으로 탈출한 피난민들은 (가)의 칼리프가 머무르고 있는 수도 바그다드에 이르러 크리스티교도들이 예루살렘에서 자행한 살인과 약탈의 소식을 전하였다.

- ① 술탄의 칭호를 받았다.
- ② 탈라스 전투에서 승리하였다.
- ③ 이베리아반도까지 진출하였다.
- ④ 아프간족의 침입으로 쇠퇴하였다.
- ⑤ 사산 왕조 페르시아를 정복하였다.

세계사

2 (세계사)

사회탐구 영역

6. 밑줄 친 '이 왕조'의 경제 상황으로 옳은 것은? [3점]

이 왕조는 호적·조세 대장에 따라 세금을 부과하고 이장호와 갑수호가 징수와 납입을 책임지는 세제를 추진하였다. 그런데 세금 항목이 무원칙적으로 늘어나 복잡해지고 백성들이 세금을 체납하거나 회피하는 일이 많아졌다. 이에 주·현의 잡다한 항목의 세금을 지세와 정세로 통합하여 지세는 보유 토지에 따라, 정세는 성년 남자의 수에 따라 은으로 할당해 납부하도록 하는 세제를 시행하였다. 이 세제는 가정, 읍경 연간 부분적으로 시행되다가 만력 연간 내각 수보 대학사의 주도로 전국적으로 확대 실시되었다.

- ① 지정은제가 실시되었다.
- ② 반량전으로 화폐가 통일되었다.
- ③ 균수법과 평준법이 시행되었다.
- ④ 영제거 등 대운하가 건설되었다.
- ⑤ 북로남왜로 인해 재정난이 가중되었다.

7. (가) 인물에 대한 설명으로 옳은 것은?

주제: ○○○ 왕국과 로마 교회의 제휴

왕조의 개창자가 주교 성 레미로부터 세례를 받고 로마 가톨릭으로 개종하면서 양측의 제휴가 본격적으로 시작되었어.

맞아. (가)의 아버지는 투르·푸아티에 전투에서 승리하여 크리스티교 세계를 보호하였지. (가)도 교황에게 편지를 보내서 누가 왕국을 지배하는 것이 마땅한지에 관하여 조언을 구했어.

(가)의 아들이 교황 레오 3세로부터 서로마 황제의 관을 받으면서 양측의 제휴는 절정에 달했어.

- ① 밀라노 칙령을 공포하였다.
- ② 성상 파괴령을 반포하였다.
- ③ 카롤루스 왕조를 개창하였다.
- ④ 악티움 해전에서 승리하였다.
- ⑤ 클레르몽 공의회를 개최하였다.

8. (가) 왕조에 대한 설명으로 옳은 것은?

(가)의 카르피세스 2세는 편자브 지방을 장악하고 동서 교류의 기반을 확립하였다. 그의 치세에 (가)은/는 서로는 파르티아와 로마 제국, 동으로는 중앙아시아를 거쳐 후한까지 이어지는 동서 교류의 통로 역할을 하며 크게 발전하였다. 한편 (가)은/는 비단길 교역을 장악하기 위해 서역으로 군대를 파견한 후한과 몇 차례 군사적으로 충돌하기도 하였다.

- ① 에프탈의 침입으로 쇠퇴하였다.
- ② 아소카왕 때 전성기를 맞이하였다.
- ③ 가즈니 왕조의 군대를 격퇴하였다.
- ④ 이란 계통의 민족에 의해 세워졌다.
- ⑤ 마라타 동맹의 반란으로 위기를 겪었다.

9. 밑줄 친 ㉠, ㉡에 대한 설명으로 옳은 것은?

〈어느 공화주의자의 주요 행적〉

① 노동자 선거권 확대를 요구하는 차티스트에 영향을 받음.

② 중하층 시민 계급과 노동자가 선거권 확대를 요구하며 일으켰던 ㉠ 사건으로 내각이 사임하고 왕이 퇴임하는 것을 목격하면서 자국에서의 공화주의적 이상을 실현하기 위해 노력함.

③ 망명 생활 중, 폭정에 시달리는 인민의 해방과 통일을 목표로 '청년 이탈리아당'을 조직함.

④ 새로 생겨난 국가가 공화국이길 원했으나 국왕 주도의 ㉡ 통일을 보고 실망함.

①~④는 시간순


- ① ㉠ - 테르미도르의 반동으로 이어졌다.
- ② ㉠ - 샤를 10세가 퇴위하는 계기가 되었다.
- ③ ㉠ - 빈 체제가 붕괴되는 결과를 초래하였다.
- ④ ㉡ - 알자스·로렌 지방이 병합되었다.
- ⑤ ㉡ - 빌헬름 1세의 제국 선포로 완결되었다.

10. (가), (나) 왕조에 대한 설명으로 옳은 것은? [3점]

(가)의 술탄이 완충 지대에 위치한 들카디르 왕조를 공격하자 이에 위협을 느낀 맘루크 왕조의 술탄은 (나)와/과 연합 세력을 구축하였다. 당시 (나)은/는 (가)와/과 서쪽으로 국경을 접하며 메소포타미아 지방의 지배권을 놓고 대립하고 있었기 때문이다. 이러한 상황에서 (가)의 술탄은 포병과 소총 부대를 이끌고 원정에 나서 기병대를 앞세운 맘루크 왕조의 군대를 격파하고 다마스쿠스에 입성하였다. 뒤이어 카이로를 정복하여 북아프리카 일대까지 진출하였다.

- ① (가) - 크림 전쟁에서 패배하였다.
- ② (가) - 티무르 왕조를 멸망시켰다.
- ③ (나) - 몽골의 침입으로 멸망하였다.
- ④ (나) - 이스파한을 수도로 정하였다.
- ⑤ (나) - 아이바크가 델리를 점령하였다.

11. (가) 국가에 대한 설명으로 옳은 것은? [3점]



항해 보고서

우리는 (가)의 공동 통치자인 이사벨라와 페르난도 페하의 후원을 받아 추진한 항해를 보고합니다.

우리의 배는 이베리아반도 남부의 항구를 떠나 서쪽으로 항해한 지 33일 차에 '인도 바다' (mare Indicum)로 진입하였습니다. 신의 은총으로 우리는 마침내 인도로 가는 새로운 항로를 발견하였습니다.

우리는 이곳에서 처음 발견한 몇몇 섬들을 산살바도르, 섬모 마리아, 페르난도, 이사벨라, 히스파니아로 새로이 명명하였습니다.

- ① 상수시 궁전을 건립하였다.
- ② 레판토 해전에서 승리하였다.
- ③ 네르친스크 조약을 체결하였다.
- ④ 콜베르를 등용하여 해외 시장을 개척하였다.
- ⑤ 무적함대를 격파하고 대서양 무역을 주도하였다.

12. 밑줄 친 '전쟁'에 대한 설명으로 옳은 것은?

우리는 우리 나라를 예측하려고 하는 적에 맞서 3년 동안 위대한 투쟁을 하고 있습니다. 잔인한 적은 끝까지 발악하고 있으나, 우리의 용감한 군대가 영광스러운 협상국과 함께 적을 무찌를 시간이 다가오고 있습니다. 그러나 최근 국내에서 발생한 소요 사태가 이 결연한 싸움을 성공적으로 지속해 나가기 어렵게 만듭니다. 이 결정적인 시기에 국민이 단결하고 모든 힘을 모아 전쟁에서 신속한 승리를 거두는 것이 우리의 의무라고 생각합니다. 이러한 이유로 저는 두마와 협의하에 권좌에서 내려오고자 합니다.

- ① 포츠머스 조약 체결로 종결되었다.
- ② 비시 정부가 수립되는 배경이 되었다.
- ③ 신성 로마 제국의 해체에 영향을 주었다.
- ④ 필리핀에 대한 지배권을 두고 대립하였다.
- ⑤ 오스트리아·헝가리 제국이 붕괴되는 결과를 가져왔다.

13. (가)에 들어갈 내용으로 가장 적절한 것은?

무역 활동이 확대되면서 서양 상인들이 유리한 무역 조건을 찾아 지정된 남쪽의 항구를 벗어나 닝보 등으로 북상하는 경우가 많아졌다. 황제는 효율적으로 무역을 통제하기 위하여 민절 총독 양응거의 건의를 받아들여 서양 상인과의 무역을 광저우 한 곳으로 제한하였다. 영국인 제임스 플린트가 황제에게 광동성 해관의 부패와 불량한 태도를 고발하고 북쪽 연안의 더 많은 항구에서 서양 상인이 무역 활동을 할 수 있도록 허용해 줄 것을 요구하였지만 황제는 이를 허락하지 않았다. 이러한 상황에서 서양 상인과의 무역을 관리하기 위해 (가)

- ① 공행을 운영하였다.
- ② 시박사를 설치하였다.
- ③ 회관, 공소를 건립하였다.
- ④ 지역법 등 신법을 단행하였다.
- ⑤ 색목인을 재정 관료로 등용하였다.

14. (가) 인물에 대한 설명으로 옳은 것은? [3점]

어떤 이들은 불신에 사로잡혀 이렇게 말합니다. '제국, 그것은 곧 전쟁입니다.' 하지만 나는 이렇게 말합니다. '제국, 그것은 곧 평화입니다.' 왜냐하면 우리 나라가 제국을 원하기 때문입니다. 나는 (가)처럼 실로 이루어 내야 할 정복이 수두룩하다는 점을 인정합니다. 나는 (가)처럼 반대파들을 설득하여 화합으로 이끌고 정복을 통해 혁명의 이념을 전파하고 싶습니다. 우리는 20여 년 전 우리의 식민지가 된 알제리를 우리 나라에 동화시켜야 합니다. 반세기 전 (가)이가 세웠던 제정을 다시 세워야 합니다. 바로 이것이 내가 이해하는 제국의 모습이며, 내가 꿈꾸는 정복입니다. 나를 지지하며 나와 같이 우리 조국의 행복을 염원하는 여러분, 여러분은 바로 나의 병사들입니다.

- 공화국 대통령의 연설 -

- ① 통령 정부를 수립하였다.
- ② 철혈 정책을 추진하였다.
- ③ 7월 혁명으로 즉위하였다.
- ④ 데카브리스트의 봉기를 진압하였다.
- ⑤ 공화정을 수립하고 파리 코뮌을 진압하였다.

15. 밑줄 친 '국가'에서 있었던 사실로 옳은 것만을 <보기>에서 있는 대로 고른 것은?

자료는 「경사공보」라는 신문의 호외입니다. 여기에는 베이징에서 선포된 황제의 퇴위 조서와 퇴위 후 우대 조건 등이 실려 있습니다. 이 자료를 통해서 새로운 국가로 권력이 이양되는 과정을 알 수 있습니다.



<보 기>

ㄱ. 장쉐량이 시안 사건을 일으켰다.
 ㄴ. 쑨원이 중국 동맹회를 조직하였다.
 ㄷ. 위안스카이가 황제 체제 부활을 시도하였다.

- ① ㄴ ② ㄷ ③ ㄱ, ㄴ ④ ㄱ, ㄷ ⑤ ㄱ, ㄴ, ㄷ

4 (세계사)

사회탐구 영역


16. (가) 조직에 대한 탐구 활동으로 가장 적절한 것은? [3점]

영국 (가)에 고용된 용병들에게 새로 지급된 앤필드 소총의 탄약통에는 소기름과 돼지기름이 발라져 있다는 소문이 돌았다. 또한 영국이 인도의 전통인 카스트를 파괴하고 용병들을 크리스티교로 강제 개종시키려 한다는 말까지 퍼졌다. ... (중략) ... 불만은 확산되고 있었고, 영국인들만 탄약통을 사용하도록 제한하는 명령은 오히려 용병들의 의심을 더욱 키웠다. ... (중략) ... 그 결과 거센 폭풍처럼 무장봉기가 일어났다.

- 『디 애틀랜틱』 -

- ① 벵골 분할령의 영향을 찾아본다.
- ② 롤릿법 제정의 결과를 파악한다.
- ③ 파쇼다 사건의 배경을 조사한다.
- ④ 카슈미르 분쟁의 주체를 알아본다.
- ⑤ 보스턴 차 사건의 전개 과정을 살펴본다.

17. 밑줄 친 '종교적 타협'에 대한 설명으로 가장 적절한 것은? [3점]



▲ 제국 의회 장면


비텐베르크에서 종교 개혁을 시작한 성직자를 지지한 프로테스탄트 제후들은 로마 가톨릭 교회의 보호자를 자처한 신성 로마 제국 황제 카를 5세와 대립하였다. 이후 황제는 이 종교적 갈등을 해결하고 당면한 오스만 제국의 위협에 대처하기 위해 제국 의회를 소집하였다. 20여 년 정도의 긴 논의 끝에 황제는 제국 의회에서 종교적 타협을 이루었다.

- ① 낭트 칙령을 반포하였다.
- ② 베스트팔렌 조약을 체결하였다.
- ③ 루터파를 공식적으로 인정하였다.
- ④ 로올라가 설립한 예수회를 인가하였다.
- ⑤ 콘스탄츠 공의회를 개최하기로 결정하였다.

18. (가) 국가에 대한 설명으로 옳은 것은?

이 자료는 미국 대통령이 유럽에서의 공산주의 확산을 막기 위해 발표한 연설문입니다.

현재 수천 명의 무장 병력이 (가)의 생존을 위협하고 있습니다. 공산주의자들의 조종을 받는 이들은 여러 지역, 특히 북쪽 국경에서 위협을 가하고 있습니다. 국제기구가 현재 이 혼란스러운 사태뿐만 아니라 (가)와/과 그 북쪽 국경선에 접해 있는 알바니아·유고슬라비아·불가리아 간에 발생한 국경 분쟁에 대해서도 조사하고 있습니다. 그러나 이러한 사태를 극복할 능력이 없는 (가) 육군에 물자와 장비를 공급해야 합니다. 우리 미국은 이러한 원조를 제공해야 합니다. 이미 구제 기금과 경제적 원조를 제공해 왔지만 이것만으로는 충분하지 않습니다.



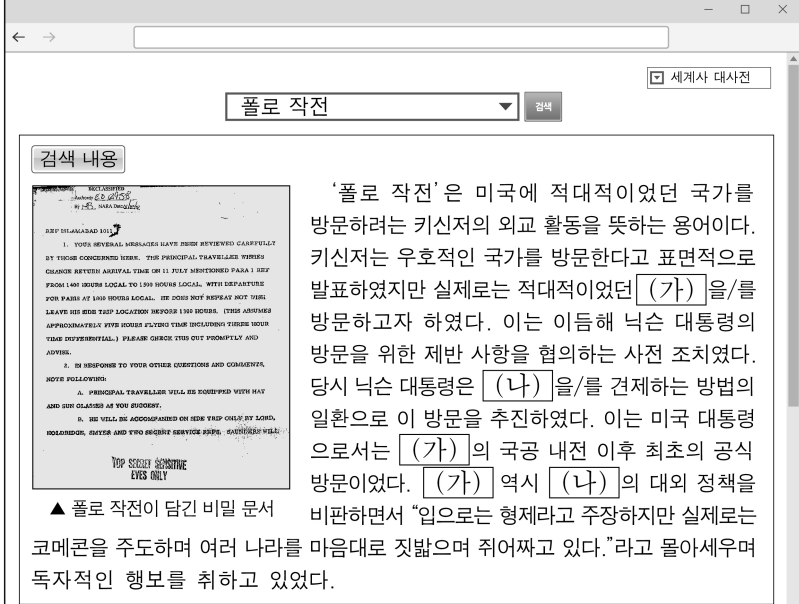
- ① 3국 방공 협정을 체결하였다.
- ② 사라예보 사건이 발생하였다.
- ③ 오스만 제국으로부터 독립하였다.
- ④ 무스타파 케말이 공화국을 수립하였다.
- ⑤ 빌리 브란트가 동방 정책을 추진하였다.

19. (가) 국가에 대한 설명으로 옳은 것은?

여러분, 우리는 몹시 어려운 상황에서도 혁명 24주년을 기념하고 있습니다. (가)은/는 우리 나라를 침략하지 않겠다는 협약을 어기고 전쟁을 도발하였습니다. 우리 나라는 일시적이긴 하지만 많은 지역을 잃었습니다. 그러나 우리 군대는 적의 공격을 막아 내고 있습니다. 우리 나라가 지금보다 더 어려운 상황일 때도 있었습니다. 혁명 1주년을 기념했을 때를 생각해 보십시오. 그때 우리 국토의 상당 부분이 다른 나라에 장악되어 있지 않았습니까! 중앙아시아, 우랄 등을 일시적으로 상실하였지만 결국 승리하여 수복하였습니다.

- ① 국제 연맹에서 탈퇴하였다.
- ② 미얀마를 식민지로 삼았다.
- ③ 아도와 전투에서 승리하였다.
- ④ 인도차이나 연방을 조직하였다.
- ⑤ 신경제 정책[NEP]을 추진하였다.

20. (가), (나) 국가에 대한 설명으로 옳은 것은? [3점]



▲ 폴로 작전이 담긴 비밀 문서

‘폴로 작전’은 미국에 적대적이었던 국가를 방문하려는 키신저의 외교 활동을 뜻하는 용어이다. 키신저는 우호적인 국가를 방문한다고 표면적으로 발표하였지만 실제로는 적대적이었던 (가)을/를 방문하고자 하였다. 이는 이듬해 닉슨 대통령의 방문을 위한 제반 사항을 협의하는 사전 조치였다. 당시 닉슨 대통령은 (나)을/를 견제하는 방법의 일환으로 이 방문을 추진하였다. 이는 미국 대통령 으로서는 (가)의 국공 내전 이후 최초의 공식 방문이었다. (가) 역시 (나)의 대외 정책을 비판하면서 “입으로는 형제라고 주장하지만 실제로는 코메콘을 주도하며 여러 나라를 마음대로 짓밟으며 쥐어짜고 있다.”라고 몰아세우며 독자적인 행보를 취하고 있었다.

- ① (가) - 만주 사변을 일으켰다.
- ② (가) - 알타 회담에 참가하였다.
- ③ (나) - 미국 등과 함께 독일을 분할 점령하였다.
- ④ (나) - 바웬사의 자유 노조가 총선에서 승리하였다.
- ⑤ (가)와 (나) - 전략 무기 제한 협정[SALT]을 체결하였다.

* 확인 사항

- 답안지의 해당란에 필요한 내용을 정확히 기입(표기)했는지 확인 하시오.

2025학년도 대학수학능력시험

사회탐구 영역 정답표
(세계사) 과목

문항 번호	정 답	배 점	문항 번호	정 답	배 점	문항 번호	정 답	배 점	문항 번호	정 답	배 점
1	①	3	6	⑤	3	11	②	3	16	⑤	3
2	②	2	7	③	2	12	⑤	2	17	③	3
3	⑤	3	8	④	2	13	①	2	18	③	2
4	②	2	9	③	2	14	①	3	19	①	2
5	②	3	10	④	3	15	④	2	20	③	3

제 4 교시

사회탐구 영역 (동아시아사)

성명

수험 번호

제 () 선택

1. (가)에 들어갈 유물로 가장 적절한 것은? [3점]

초청장


○○ 문화 특별전
- 동아시아 선사 문화로의 초대 -

우리 박물관에서는 라오허강 유역에서 발달한 신석기 문화 특별전을 준비하였습니다. 이 지역에서 출토된 ○○ 문화의 유물을 통해 신석기인의 삶을 느껴 보시길 바랍니다.

- 기간: 2024년 11월 △일 ~ 11월 □일
- 장소: ◇◇ 박물관 특별 전시실
- 대표 출토 유물

(가)

◇◇ 박물관



2. (가) 국가에 대한 탐구 활동으로 가장 적절한 것은?

항우를 물리치고 천하를 차지한 (가)의 황제는 종실의 자제들을 왕으로 대거 봉하였다. 동성(同姓)으로 왕이 된 자는 9명이고, 이들은 연·대·제·조·양·초·형·회남·회양의 제후국을 각각 다스렸다. 또한 공신으로서 제후가 된 자는 백여 명이다. 강릉에서 서쪽으로 축까지, 북쪽으로 운중에서 농서에 이르기까지 15개 군은 황제가 직접 다스렸다.

- ① 8조법의 내용과 성격을 분석한다.
- ② 상앙이 실시한 개혁 정책을 조사한다.
- ③ 다이카 개신을 주도한 세력을 알아본다.
- ④ 3성 6부제가 주변 국가에 끼친 영향을 파악한다.
- ⑤ 유교를 통치 이념으로 채택하는 과정을 찾아본다.

3. 밑줄 친 '복조'에 대한 설명으로 옳은 것은? [3점]

신(臣)은 칙명을 받은 후 변경(汴京)을 떠나 백구교를 건너 복조의 땅에 이르렀습니다. 그러자 상경 임황부로부터 파견된 접반사와 접반부사가 말을 세우고 기다리고 있었습니다. 접반부사는 남조 황제의 성체(聖體)가 건강하신가 물었고, 신도 복조의 군주 및 태후의 안부를 물었습니다. 그리고 서로 읍(揖)하고 북정(北亭)에 이르렀습니다. 우리 조정이 오대의 뒤를 이어 천하를 평정했을 때는 이러한 인사법을 행하지 않았습니다. 하지만 저들과 강화한 이래 사자를 주고받을 때마다 관행적으로 이를 반복해 오고 있다 들었습니다.

- ① 남송과 군신 관계를 맺었다.
- ② 금의 공격을 받아 멸망하였다.
- ③ 평성 백등산 전투에서 승리하였다.
- ④ 고구려와 조공·책봉 관계를 수립하였다.
- ⑤ 카라코룸에 수도를 두고 서방 원정군을 파견하였다.

4. (가), (나) 국가에 대한 설명으로 옳은 것은?

공의 선조는 한강 이남으로 내려와 흑치에 봉해졌기 때문에 자손들이 흑치를 성씨로 삼았다. 그 가문은 대대로 달솔의 직위에 올랐는데 달솔은 (가)의 병부 상서에 해당한다. 증조부의 이름은 문대이고, 할아버지의 이름은 덕현이며, 아버지의 이름은 사차이다. 우리 황제께서 형국공을 보내어 신라와 연합하여 (나)을/를 평정하자, 그 임금 부여융과 함께 입조하였으므로 거둬들여 만년현 사람으로 삼았다.

- ① (가) - 독서삼품과를 실시하였다.
- ② (가) - 북추밀원과 남추밀원을 설치하였다.
- ③ (나) - 수의 공격을 받았다.
- ④ (나) - 한사군 중 낙랑의 유민을 받아들였다.
- ⑤ (나) - 중앙 기구로 2관 8성제를 운영하였다.

5. (가) 전쟁 중에 있었던 사실로 옳은 것은?

동아시아사 신문 ○○○○년 ○○월 ○○일

[특별 기획] (가)의 현장을 찾아서

서생포 왜성은 고니시 유키나가의 부대가 부산포에 상륙하면서 시작된 (가) 중에 일본군이 쌓은 성곽으로 오늘날의 울산광역시 서생리에 있다. 이곳은 물자와 인력의 수송이 용이하여 당시 일본군의 중요 거점으로 사용되었다. 또한 사명 대사가 가토 기요마사와 협상을 진행한 곳이기도 하다. 일본군이 물러간 뒤에는 경상 좌수영 소속 서생포 진성으로 사용되었다.

- ① 여진족이 후금을 건국하였다.
- ② 국왕이 남한산성에서 항전하였다.
- ③ 강홍립이 사르후 전투에 출전하였다.
- ④ 일본이 조선 남부 4도 할양을 요구하였다.
- ⑤ 오다 노부나가 나가시노 전투에서 승리하였다.

2 (동아시아사)

사회탐구 영역

6. (가), (나) 군주에 대한 설명으로 옳은 것은? [3점]

- (가) 은/는 중앙아시아 일대를 얻기 위해 출정하여 님의 해에 자신의 장막으로 돌아왔다. 이로써 부하라, 바다산, 카슈가르 일대를 지배하게 되었다. 그 후 탕구트의 군주가 반란을 일으켰다는 소식을 들었다. 그는 이를 징벌하고자 탕구트를 공격하게 하였다.
- 대리를 정복한 지 이십여 년이 지났다. (나) 은/는 비얀에게 명하여 대군을 이끌고 남하하여 마지막 남은 강남을 정복하게 하였다. 비얀의 군대는 창장강을 건넌 뒤 건강에서 세 길로 나누어 고정산에 도달하였다. 그러자 그곳의 군주가 신하를 보내 국새를 지니고 와서 항복의 표문을 바쳤다.

- ① (가) - 국호를 원으로 바꿨다.
- ② (가) - 고려 정벌을 시작하였다.
- ③ (가) - 베트남에 원정군을 파견하였다.
- ④ (나) - 난징에서 베이징으로 천도하였다.
- ⑤ (나) - 두 차례에 걸쳐 일본 원정을 단행하였다.

7. 밑줄 친 '대사'에 대한 설명으로 옳은 것은?

- 우리는 내주에 있는 노산에 도착하였는데, 그곳 사람들이 말하기를 일본의 승려와 속인들이 현재 등주 법화원에 있다고 하기에, 대사를 만나기 위해 그곳으로 가려고 했습니다. 그러나 우리가 출발하기로 한 날, 대사께서는 일본으로 가는 일본 배를 타기 위해 이미 남쪽으로 떠났다는 소식을 들었습니다. 현재 우리는 노산에서 기다리고 있사오니 모쪼록 이곳으로 돌아오시기 바랍니다.
- 전등대법사 운신이 삼가 아뢰입니다. 옛날 대사께서는 법을 구하기 위해 당의 오대산에 올라 문수보살의 화신을 만났습니다. 문수보살의 감화에 의지하여 마침내 구하는 바를 얻었습니다. 그 가르침을 본조에 들여와 국가를 진호(鎭護)하고 백성을 이롭게 하고자 하였습니다.

- ① 왕오천축국전을 집필하였다.
- ② 쇼토쿠 태자의 스승이 되었다.
- ③ 입당구법순례행기를 저술하였다.
- ④ 참선을 중시하는 선종을 개창하였다.
- ⑤ 일본에 계율과 수계 방식을 전하였다.

8. 밑줄 친 '헌법' 반포의 영향으로 가장 적절한 것은?

2월 9일
 도쿄 전체가 헌법 반포를 앞두고 그 준비를 위해 말로는 이루 다 표현할 수 없을 정도로 소란하였다. 가는 곳마다 봉축문(奉祝門), 조명, 행렬 등의 준비로 분주하였다. 그런데 정작 어느 누구 하나 헌법의 내용을 아는 이가 없었다.

2월 11일
 헌법이 반포되었다. 천황의 앞쪽에는 대신들과 고관들이 왼쪽을 향해 정렬하였고, 그 뒤쪽에는 혁명이 없었다면 지금은 입장이 바뀌었을 도쿠가와 가메노스케가 있었다. 그 옆에는 양복 복장에 상투를 튼 시마즈 다다요시가 서 있었다. 재미있는 광경이었다.

- ① 중체서용을 기치로 군대를 육성하였다.
- ② 선거를 실시하여 제국 의회를 설립하였다.
- ③ 자위대의 전신인 경찰 예비대가 창설되었다.
- ④ 교육입국 조서를 발표하여 근대 교육을 강조하였다.
- ⑤ 번을 폐지하고 현을 설치하여 중앙 집권 체제를 확립하였다.

9. (가), (나) 국가에 대한 옳은 설명만을 <보기>에서 고른 것은?

베트남 여행 정보

홈 여행 콘텐츠 리뷰 예약하기 사진 주변

다낭 > 다낭 박물관

<다낭 박물관>



이곳은 중부 베트남의 대표적인 박물관으로 다낭의 역사를 알 수 있는 곳이다. 특히 2층 전시실에서는 19세기 베트남이 (가)의 침략을 받아 보호령이 된 후 20세기 중엽까지 전개한 독립운동과 관련한 전시물을 살펴볼 수 있다. 그리고 통킹만에서의 자국 군함 피격 사건을 빌미로 본격적으로 전투 부대를 파병한 (나)와/과의 전쟁 자료와 유물도 함께 관람할 수 있다.

<보 기>

- ㄱ. (가) - 19세기 후반 청과의 전쟁에서 승리하였다.
- ㄴ. (가) - 카이로 회담에 수뇌부가 연합국 대표로 참여하였다.
- ㄷ. (나) - 개항장인 상하이에 조계를 설치하였다.
- ㄹ. (나) - 태평양 전쟁 시기 미드웨이 해전에서 패배하였다.

- ① ㄱ, ㄴ ② ㄱ, ㄷ ③ ㄴ, ㄷ ④ ㄴ, ㄹ ⑤ ㄷ, ㄹ

10. 밑줄 친 ㉠, ㉡에 대한 설명으로 옳은 것은? [3점]

- 의정부에서 아뢰기를, “중국 군함이 곧 와서 정박한다고 하니, 영접하는 절차를 조금도 늦출 수 없습니다. 공조 참관 이중하를 영접관으로 보내 일을 처리하게 하는 것이 어떻겠습니까?”라고 하여, 윤허하였다. ㉠적도가 이미 전주를 함락하고 세력이 성해져 정부에서 비밀리에 위안스카이와 의논하고 구원을 청한 바 있었다.
- 산둥성에서 봉기한 청국 ㉡폭도에게 베이징 및 텐진 부근에서 영국인 선교사 한 명과 약 60명의 중국인 크리스티교 신자가 살해되었습니다. 철로와 전신선도 여러 번 파괴되었습니다. 그들에게 베이징의 공사관이 위협받자 외국 대표들은 여러 차례의 회합을 가지고 신속하게 이 문제를 해결해 줄 것을 청국 정부에 건의하였습니다.

- ① ㉠ - 군벌 제거를 위한 북벌에 참여하였다.
- ② ㉠ - 메이지 유신을 본받아 정변을 주도하였다.
- ③ ㉡ - 홍수전의 지휘를 받았다.
- ④ ㉡ - 외세의 개입에 의해 진압되었다.
- ⑤ ㉠과 ㉡ - 의회 개설을 요구하였다.

11. (가) 막부에 대한 설명으로 옳은 것은?


일본에 갔던 나홍유가 (가)의 답신을 가지고 돌아왔다. 답신에 이르기를, “지금 귀국에 출몰하는 해적은 규슈 지역의 난신들로 마쓰우라 등 서쪽 섬에 할거해 노략질하는 자들입니다. 규슈는 서해도(西海道)에 속해 있으나, 고다이코 천황이 남쪽으로 내려간 이후 역신들이 난립하여 우리의 지배가 미치지 않는 상태입니다. 사정이 이러하므로 감히 곧바로 금지하겠다는 약속을 드릴 수 없습니다.”라고 하였다.

- ① 신패를 발급하였다.
- ② 당에 사신을 파견하였다.
- ③ 감합 무역을 실시하였다.
- ④ 초량 왜관을 설치해 교역하였다.
- ⑤ 미나모토노 요리토모에 의해 수립되었다.

12. 밑줄 친 ‘이 사절단’이 파견된 시기에 볼 수 있는 모습으로 가장 적절한 것은? [3점]

탐구 활동 보고서 3학년 ○반 ○○○

◎ 주제: 사절단 파견과 그 역사적 의의
◎ 조사 내용



영가대는 한성을 출발한 사절단이 부산포에 도착한 후 일본으로의 출항에 앞서 무사 안녕을 기원하는 해신제를 지낸 곳이다. 기유약조가 체결되기 2년 전부터 약 200년 동안 12회에 걸쳐 파견된 이 사절단은 양국 우호 관계의 상징이 되었으며, 학술과 문물의 교류를 촉진하였다. 이러한 역사적 가치와 의미가 인정되어 조선 국왕이 보낸 국서, 『해유록』, 『해사일기』 등의 기록물이 유네스코 세계 기록 유산으로 등재되었다.

▲ 조선 시대에 그려진 영가대

- ① 조선으로 천리경을 들여오는 사신
- ② 동남아시아로 항해에 나서는 정화
- ③ 중국 각지를 여행하는 이븐 바투타
- ④ 미국 및 유럽을 향해 출발하는 이와쿠라 사절단
- ⑤ 회취법을 처음 전수받기 위해 조선 장인을 초빙하는 일본 상인


13. (가), (나) 지역에 대한 옳은 설명만을 <보기>에서 고른 것은? [3점]

저들은 시모노세키에서 조인한 바에 의거하여 (가)와/과 (나) 섬 전체 및 부속 도서, 평후 열도에 대한 할양과 배상금 2억 냥의 지불을 요구하고 있다. 저들은 전쟁에서 거듭 승리한 것을 믿고, 이 두 가지 조건이 이행되지 않으면 전쟁을 재개할 것이라고 공언하고 있다.

- <보 기>
- ㄱ. (가) - 러시아의 발트 함대가 격파된 곳이다.
 - ㄴ. (가) - 21개조 요구에서 이권이 거론된 도시를 포함하고 있다.
 - ㄷ. (나) - 장제스가 이끄는 국민당 정부가 옮겨 간 곳이다.
 - ㄹ. (나) - 파리 강화 회의에서 일본의 권익으로 인정되었다.

- ① ㄱ, ㄴ ② ㄱ, ㄷ ③ ㄴ, ㄷ ④ ㄴ, ㄹ ⑤ ㄷ, ㄹ

14. 밑줄 친 ‘포고’가 발표된 시기에 동아시아에서 볼 수 있는 모습으로 가장 적절한 것은? [3점]



그림은 포병이 옛 에도성에서 오폏(午砲)을 쏘는 장면이다. 일본인들은 개항 후 서양 문물이 들어오면서 근대적 시간을 접하게 되었다. 당시 모든 사람이 시계를 가질 수는 없었기 때문에 12시 정각을 알리는 오폏을 쏘도록 태정관 포고를 내렸다. 그 이듬해 요코하마와 도쿄 사이를 잇는 철도가 최초로 개통되면서 근대적 시간 개념은 더욱 확실해져 갔다.

- ① 한국 - 여권통문의 발표를 취재하는 기자
- ② 중국 - 태평천국의 수도를 함락하는 한인 관료
- ③ 중국 - 사면에서 영국 영사에게 재판권을 받는 영국 상인
- ④ 일본 - 교육 칙어를 낭독하는 교사
- ⑤ 일본 - 도쿄 대학 개교식에 참석하는 관리


15. 교사의 질문에 대한 학생의 답변으로 옳은 것만을 <보기>에서 고른 것은?

제1조
(a) 일본과 각 연합국들과의 전쟁 상태는 일본과 관련된 연합국 사이에서 이 조약이 시행되는 날부터 중지된다.

제11조
일본은 일본 안팎의 극동 및 기타 국가의 연합의 전범 재판소의 국제 군사 재판 판결을 수용하고 이로써 일본 내 일본인에게 선고된 형량을 수행한다.

제14조
(b) 연합국은 본 조약에 특별한 규정이 있는 경우를 제외하고, 연합국의 모든 배상 청구권, 전쟁 수행 과정에서 일본 및 그 국민이 자행한 어떤 행동으로부터 발생한 연합국 및 그 국민의 다른 청구권, 그리고 점령에 따른 직접적인 군사적 비용에 관한 연합국의 청구권을 포기한다.

제시된 조항이 포함된 조약에 대해 말해 볼까요?




- <보 기>
- ㄱ. 일본의 주권 회복을 명시하였어요.
 - ㄴ. 미·일 군사 동맹 관계를 규정하였어요.
 - ㄷ. 한국과 중국이 참여하지 못한 채 체결되었어요.
 - ㄹ. 극동 국제 군사 재판이 개최되는 배경이 되었어요.

- ① ㄱ, ㄴ ② ㄱ, ㄷ ③ ㄴ, ㄷ ④ ㄴ, ㄹ ⑤ ㄷ, ㄹ

4 (동아시아사)

사회탐구 영역

16. (가), (나)가 전개된 시기에 있었던 사실로 옳은 것은? [3점]



사진의 인물은 중화 인민 공화국의 제2대 국가 주석을 역임한 류샤오치이다. 그는 마오쩌둥 주도하에 인민공사 등을 설립하며 추진되었던 (가)의 문제점을 지적하면서 사회주의 경제 정책의 수정을 주장하였다. 그러나 마오쩌둥이 자본주의적 요소의 도입을 주장하는 세력을 숙청하고자 주도한 (나) 당시 홍위병들의 표적이 되어 비판과 박해를 받아 국가 주석에서 물러난 후 사망하였다. 그는 덩샤오핑이 집권한 이후야 정치적으로 복권되었다.

- ① (가) - 도이머이 정책이 추진되었다.
- ② (가) - 일본에서 거품 경제가 붕괴되었다.
- ③ (나) - 4·19 혁명이 전개되었다.
- ④ (나) - 중·일 공동 성명이 발표되었다.
- ⑤ (나) - 미국과 중국이 국교를 수립하였다.


17. (가), (나) 왕조에 대한 설명으로 옳은 것은?

황제의 숙부인 섭정왕이 영을 내렸다.
 “남방의 문무 관원에게 유시를 내리니 잘 유념토록 하라. 너희는 송정제가 순천부의 경사(京師)에서 난리로 인해 생을 마감하여 (가)이/가 멸망할 때, 마치 굴속의 호랑이처럼 숨어 있었다. 지난날 태조께서 흥경 허투알라에서 건국한 후 태종께서 국호를 (나) (으)로 바꾸었고, 지금 황제께서는 산하이관을 넘어 중원으로 들어왔다. 너희들이 이전의 과오를 뉘우치고 힘써 우리 조정을 돕지 않는다면 그 나태함을 반드시 징벌할 것이다.”

- ① (가) - 천계령을 해제하였다.
- ② (가) - 맹안·모극제를 실시하였다.
- ③ (나) - 일본과 조공·책봉 관계를 맺었다.
- ④ (나) - 장거정을 등용하여 개혁을 추진하였다.
- ⑤ (가)와 (나) - 한반도에 군대를 보냈다.

18. 다음 상황이 나타난 시기를 연표에서 옳게 고른 것은? [3점]

지난 30일 치러진 일본 총선에서 민주당은 전체 480개 의석 가운데 과반수를 넘긴 308석을 차지하였습니다. 선거를 승리로 이끈 일본 민주당의 하토야마 대표는 정권 인수 작업에 들어갔습니다.



일본, 변화 택했다

(가)	(나)	(다)	(라)	(마)
일본·타이완 국교 수립	한·일 기본 조약 조인	10월 유신 선포	한국·중국 수교	천수이볜, 총통 당선
자민당 재집권				

- ① (가) ② (나) ③ (다) ④ (라) ⑤ (마)

19. (가)에 들어갈 내용으로 적절한 것만을 <보기>에서 있는 대로 고른 것은? [3점]



<보 기>

ㄱ. 쩐 왕조에서 보낸 사신도 타고 있을 거야.
 ㄴ. 광저우를 통해 들어온 서양 상품도 실려 있을 거야.
 ㄷ. 슈인장을 소지한 상인에게 판매할 물건도 쌓여 있을 거야.

- ① ㄱ ② ㄴ ③ ㄱ, ㄷ ④ ㄴ, ㄷ ⑤ ㄱ, ㄴ, ㄷ

20. (가)~(다) 도시에 대한 설명으로 옳지 않은 것은?



- ① (가) - 서울과 연결되는 경인선이 개통된 곳이다.
- ② (나) - 금릉 기기국이 설립된 곳이다.
- ③ (나) - 쑨원이 중화민국 수립을 선포한 곳이다.
- ④ (다) - 미·일 화친 조약으로 개항된 곳이다.
- ⑤ (다) - 제2차 세계 대전 당시 원자 폭탄이 투하된 곳이다.

* 확인 사항

○ 답안지의 해당란에 필요한 내용을 정확히 기입(표기)했는지 확인 하시오.

2025학년도 대학수학능력시험

사회탐구 영역 정답표
(동아시아사) 과목

문항 번호	정 답	배 점	문항 번호	정 답	배 점	문항 번호	정 답	배 점	문항 번호	정 답	배 점
1	①	3	6	⑤	3	11	③	2	16	④	3
2	⑤	2	7	③	2	12	①	3	17	⑤	2
3	②	3	8	②	2	13	③	3	18	⑤	3
4	④	2	9	②	2	14	③	3	19	②	3
5	④	2	10	④	3	15	②	2	20	④	2

제 4 교시

사회탐구 영역 (정치와 법)

성명

수험 번호

제 () 선택

1. 다음 자료에 대한 설명으로 옳은 것은?



정치를 바라보는 관점에는 A, B가 있습니다. A는 모든 사회 집단 내에서 구성원 간의 이해관계를 조정하고 갈등을 해결하는 과정을 정치라고 보지만, B는 정치권력의 획득·유지·행사와 관련된 국가의 고유한 활동만을 정치라고 봅니다. A, B의 공통점과 차이점에 대해서 사례를 들어 설명해 볼까요?

A와 B는 모두 (가) 을/를 정치로 보고 있지만, A는 (나) 을/를 정치로 본다는 점에서 B와 구별됩니다.



- ① A는 국가 형성 이전의 정치 현상을 설명하기에 적합하지 않다.
- ② B는 행정부의 정책 수립과 집행을 정치로 보지 않는다.
- ③ A에 비해 B는 다원화된 현대 사회의 정치 현상을 설명하기에 적합하다.
- ④ (가)에는 '대통령이 조약을 체결·비준하는 것'이 들어갈 수 있다.
- ⑤ (나)에는 '축구 동호회에서 신입 회원 가입 조건을 둘러싼 의견 대립을 조율해 나가는 것'이 들어갈 수 없다.

2. 법치주의의 유형 A에 대한 옳은 설명만을 <보기>에서 고른 것은?

형벌은 범죄에 대한 법률 효과로 국가가 범죄인에게 책임을 기초로 부과하는 법익의 박탈을 의미한다. 형벌권의 주체는 국가이지만 입법자가 범죄의 유형 및 형벌의 종류와 정도를 미리 성문의 법률로 규정해야, 이에 근거한 국가의 형벌권 행사는 정당화될 수 있다. 그러나 입법자가 선택한 형벌이 구성 요건에 기술된 불법의 내용에 상응하지 않거나 행위자의 책임에 상응하지 않을 정도로 과도한 경우에, 이는 법률의 내용이 정의에 합치될 것을 요구하는 A에 따라 용인될 수 없다. 이러한 형벌 규정은 법률의 외관을 띠고 있으나 '법률적 불법'에 해당하기 때문이다.

<보 기>

- ㄱ. 죄형 법치주의의 내용인 적정성의 원칙을 강조하는 근거가 된다.
- ㄴ. 입법자의 자의로부터 개인의 자유와 권리를 보장할 것을 요청한다.
- ㄷ. 정의에 부합하는 경우라면 법률에 근거하지 않은 국가 권력 행사도 정당화된다고 본다.
- ㄹ. 합법적 절차를 거쳐 제정된 법률이 국가의 폭력을 정당화하는 도구로 악용될 수 있음을 간과한다.

- ① ㄱ, ㄴ ② ㄱ, ㄷ ③ ㄴ, ㄷ ④ ㄴ, ㄹ ⑤ ㄷ, ㄹ

3. 기본권 유형 A, B에 대한 설명으로 옳은 것은? [3점]

A의 침해 여부는 권리를 주장하는 주체, 국가, 그리고 비교의 대상이 되는 또 다른 주체와의 관계에서 판단된다. A를 침해당한 주체가 주장하는 국가 작용의 위헌성은 본질적으로 같은 것을 자의적으로 다르게, 본질적으로 다른 것을 자의적으로 같게 취급하는지 여부에 있다. 한편, 기본권 침해 시 국가에 대하여 구제를 요구할 수 있는 수단적 권리인 B는 국가의 행위나 조력을 필요로 하기에 입법자에 의해 법률로 행사 절차가 구체화될 것이 요구된다.

- ① A는 다른 기본권 보장의 전제가 되는 권리이다.
- ② B는 국가로부터의 간섭이나 침해를 배제하는 방어적 권리이다.
- ③ A와 달리 B는 헌법에 열거되지 않아도 보장되는 권리로 포괄성을 가진다.
- ④ B와 달리 A는 기본권 보장을 위한 기본권으로 절차적 권리이다.
- ⑤ A와 B 모두 의회가 제정한 법률로도 제한할 수 없는 권리이다.

4. 우리나라 헌법의 기본 원리 A, B에 대한 설명으로 가장 적절한 것은?

A는 국가 의사를 최종적으로 결정하는 최고의 권력이 국민에게 있다는 원리라는 점에서 민주주의로 귀결된다. 이러한 민주주의가 자유주의와 결합되면서 우리 헌법의 또 다른 기본 원리로 자리 잡고 있다. 한편, 자유방임적 시장 경제 질서가 초래한 불평등 문제를 국가의 적극적 역할을 통하여 해결하려는 노력으로 등장한 B는 국민의 인간다운 생활을 보장하기 위한 국가의 지원과 배려를 정당화하는 근거가 된다.

- ① A는 상호주의 원칙에 따라 외국인의 지위를 보장하는 근거가 된다.
- ② 국민 투표를 통해 국민이 직접 국가 안위에 관한 중요 정책을 결정할 수 있도록 하는 것은 A의 실현 방안이다.
- ③ B는 남북 분단의 상황을 반영한 우리나라 헌법 특유의 원리이다.
- ④ A와 달리 B는 근대 입헌주의 헌법에서부터 강조되기 시작한 원리이다.
- ⑤ 국가가 적정한 소득의 분배를 유지하기 위해 경제 질서에 관한 규제와 조정을 하는 것은 B가 아닌 A의 실현 방안이다.

5. 다음 자료에 대한 분석 및 추론으로 옳은 것은? [3점]

다음은 □□국의 정치 상황을 정리한 것이다. 정부 형태 변경 전후 □□국의 정부 형태는 전형적인 대통령제 또는 전형적인 의원 내각제 중 어느 하나에 해당한다. 의회의 총의석수는 100석으로 변동이 없다.

- t대 의회 의원 선거 결과, 직전 의회에 비해 A당은 10석 증가, B당과 C당은 각각 8석, 2석씩 감소하여 행정부 수반 겸 소속된 정당은 원내 과반 의석을 유지할 수 없게 됨. t대 의회 의원의 임기는 행정부 수반 겸의 임기 중 3년 차가 시작되는 날 동시에 시작됨.
- t+1대 의회 의원 선거 결과, 행정부 수반 겸이 소속된 정당은 원내 과반 의석을 유지할 수 없게 됨.
- t+1대 의회 의원과 행정부 수반 겸의 임기가 동시에 종료되면서 □□국은 처음으로 정부 형태가 변경됨. t+2대 의회 의원 선거 결과에 따라 행정부 수반으로 병을 선출함.
- 의회 의원의 임기는 4년이고, 행정부 수반 겸, 을의 임기는 5년임.

<t ~ t+2대 의회의 정당별 의석수>

구분	정당별 의석수(석)		
	A당	B당	C당
t대	51	43	6
t+1대	44	51	5
t+2대	47	46	7

* 정당별 의석수는 해당 의회 의원의 임기 내에서 변동이 없고, 행정부 수반의 당적은 임기 내에서 변동이 없음.

- ① 겸의 임기 중 1년 차에 겸의 소속 정당은 의회 내에서 과반 의석을 확보하고 있다.
- ② 병은 국가 원수로서의 지위에서 의회 해산권을 가진다.
- ③ t대 의회 의원의 임기 내내 A당은 야당으로서 행정부 수반을 견제한다.
- ④ t+1대 의회에서는 행정부 수반 겸이 제출한 법률안이 과반 의석을 확보한 야당의 견제로 통과될 가능성이 낮다.
- ⑤ t대와 달리 t+2대 의회 의원은 각료를 겸직할 수 없다.

2 (정치와 법)

사회탐구 영역

6. 다음 자료에 대한 설명으로 옳은 것은? (단, A~C는 각각 정당, 이익 집단, 시민 단체 중 하나임.) [3점]

A, B, C는 모두 (가)는 점에서 정치 과정에 영향력을 행사하는 주체로 볼 수 있지만, A는 (나)는 점에서 B, C와 구별되는 특징을 갖는다. 소속 집단의 특수한 이해관계를 관철하기 위해 정치 활동을 하는 B와 공익 추구를 목적으로 공공의 이해관계가 걸린 쟁점을 제기하고 해결을 요구하는 C는 모두 정책 결정 과정에서 해당 집단의 요구가 관철되기를 원하지만, B와 C는 모두 정치권력을 목표로 하는 집단은 아니다. 하지만 A는 단순히 요구의 전달에 그치지 않고 그 구성원이 공유하는 공통의 정치적 가치에 기반하여 정치권력을 획득해야 하는 이유를 제시함으로써 유권자를 설득해야 한다.

- ① A는 정치적 현안에 관한 정보를 제공하는 정치 사회화 기능을 한다.
- ② B는 행정부와 의회를 매개하기 위해 교섭 단체를 구성한다.
- ③ C는 국가 수준의 정책적 대안을 제시하는 정책 결정 기구이다.
- ④ (가)에는 '공직 선거를 통해 정치적 책임을 진다'가 들어갈 수 있다.
- ⑤ (나)에는 '사회적 쟁점에 대한 여론을 형성한다'가 들어갈 수 있다.

7. 다음 자료에 대한 법적 판단으로 옳은 것은?

<근로 상담 일지>

○ 상담 사례 1 (해고 관련 문의)
갑: 상시 근로자 30명인 ○○기업에서 1년간 근무하였고, 해고 당시 ○○기업 노동조합 조합원이었음. 사용자가 근로 계약과 다르게 1시간 일찍 출근하여 업무를 준비할 것을 갑에게 지시하였으나 갑이 이에 항의하며 따르지 않자 이를 이유로 사용자가 갑에게 해고를 통보함.

○ 상담 사례 2 (근로 계약 내용 관련 문의)
을: 상시 근로자 30명이 고용된 마트에서 근무하고 있는 17세 남자 고등학생임. 근로 계약 기간은 2개월이고, 업무 내용은 마트 내 물품 정리임. 소정 근로 시간은 12시 30분부터 20시(휴게 시간: 16시~16시 30분)임. 임금은 시간급이며 법정 최저 임금으로 하고, 근무일은 매주 수요일부터 일요일까지임. 을의 친권자가 근로 계약 체결에 동의함.

- ① 사용자가 갑에게 해고 30일 전에 해고를 예고하였다면 갑은 부당 해고를 주장할 수 없다.
- ② ○○기업 노동조합은 근로 기준법에 따라 지방 노동 위원회에 갑에 대한 부당 해고 구제 신청을 할 수 있다.
- ③ 갑은 해고의 효력을 다투는 소송이 진행되는 동안에는 별도로 노동 위원회에 구제 신청을 할 수 없다.
- ④ 을이 사용자와 체결한 근로 계약에 따른 을의 휴게 시간은 근로 기준법에 위배된다.
- ⑤ 사용자가 을의 근로 시간을 매 근무일 2시간씩 연장하는 것은 을과의 합의가 있더라도 근로 기준법에 위배된다.

8. 우리나라 헌법 기관 A~D에 대한 설명으로 옳은 것은?



헌법상 민주적 정당성을 직접적으로 확보하고 있는 A는 임기 중 원칙적으로 B에 대해 정치적 책임을 지지 않지만, B는 해임 건의권을 통해 C에 대해 정치적 책임을 물을 수 있습니다. A의 국법상 행위는 문서로써 하는데 관계 국무 위원과 C는 A의 보좌 기관으로서 이 문서에 부서할 권한을 가집니다. A가 관계 국무 위원이나 C의 부서 없이 국법상 행위를 한 경우 그 행위는 헌법에 위반되며, 이는 A가 직무 집행에 있어서 위헌·위법한 행위를 한 경우에 해당하므로 B는 A에 대한 탄핵 소추를 의결하여 D가 탄핵 심판을 하게 할 수 있습니다.

- ① A는 C의 제청을 받아 행정 각 부의 장(長) 중에서 국무 위원을 임명한다.
- ② B는 C에 대하여 B에 출석하여 질문에 답변할 것을 요구할 수 있다.
- ③ 정당의 목적이나 활동이 민주적 기본 질서에 위배된다는 B의 제소가 있으면 D는 그 정당의 해산 여부를 심판한다.
- ④ D는 A 선거의 효력을 다투는 선거 소송을 관할한다.
- ⑤ A는 B의 동의를 얻어 D의 재판관 9인을 임명한다.

9. 다음 자료에 대한 법적 판단으로 옳은 것은? [3점]

○○죄로 기소된 갑은 벌금형을 선고받고 상고하였으나, A가 이를 기각하여 판결이 확정됨에 따라 □□법 조항에 따른 신상 정보 등록 대상자가 되었다. 이에 다른 구제 절차를 거칠 수 없었던 갑은 □□법 조항이 자신의 기본권을 직접 침해한다고 주장하면서 B에 헌법 소원 심판을 청구하였다. 이에 대해 B는 해당 조항이 갑의 기본권을 침해하지 않는다고 판단하였다. 한편, △△죄로 기소된 을은 징역형을 선고받고 판결이 확정되어 □□법 조항에 따라 신상 정보 등록 대상자 및 ◇◇법 조항에 따라 디엔에이(DNA) 감식 시료 채취 대상자가 되었다. 이에 검사는 을의 디엔에이(DNA) 감식 시료를 채취하도록 하는 처분을 하였다. 을은 이에 불복하여 C에 그 처분의 취소를 청구하고, 당해 사건에 적용되는 ◇◇법 조항에 대하여 위헌 법률 심판을 제청해 줄 것을 C에 신청하였다. C가 을의 제청 신청을 기각하자 을은 ◇◇법 조항이 자신의 신체의 자유를 침해한다고 주장하며 B에 헌법 소원 심판을 청구하였다. 이에 대해 B는 ◇◇법 조항이 헌법에 위반되지 않는다고 판단하였다.

- ① A의 기각 결정에 불복하는 경우 C에 상소하여 재판을 받을 수 있다.
- ② 갑은 A의 기각 결정에 대하여 B에 헌법 소원 심판을 청구하였다.
- ③ C는 □□법 조항이 을의 신체의 자유를 침해한다고 판단하였다.
- ④ 갑과 달리 을은 □□법 조항에 따른 신상 정보 등록 대상자가 되지 않았다.
- ⑤ 을이 청구한 헌법 소원 심판과 달리 갑이 청구한 헌법 소원 심판은 권리 구제형 헌법 소원 심판이다.

10. 다음 사례에 대한 법적 판단으로 옳은 것은? [3점]

갑은 ○○스키장을 임차하여 직접 점유하면서 운영하고 있다. ○○스키장 슬로프에는 설치상 하자로 배수관이 튀어나와 있었는데, 스키를 타고 내려오던 을은 이 배수관에 걸려 다리가 부러졌다. 갑의 직원 병은 갑의 지시에 따라 차량을 운전하여 을을 병원에 데리고 가던 중 중앙선을 침범하였고, 정이 운전하던 트럭과 충돌하였다. 이 사고로 을이 차량 밖으로 튕겨 나가 크게 다쳐 석 달간 입원 치료를 받게 되었고, 정신적으로도 큰 고통을 겪었다. 한편 이 사고 당시 정은 화물칸에 돼지들을 싣고 돼지 소유자에게 운송하던 중이었는데, 사고로 트럭이 멈춘 사이 화물칸에 실려 있던 돼지들이 탈출하여 도로 인근에 있는 무가 소유한 배추밭을 마구 헤집어 무에게 재산상 피해를 입혔다.

- ① 갑은 배수관으로 인한 손해 방지에 필요한 주의를 다하였더라도 을에 대하여 공작물 점유자로서 특수 불법 행위 책임을 진다.
- ② 갑이 을에게 치료비 상당의 손해를 배상하였다면 갑은 을에게 정신적 고통에 따른 위자료는 배상하지 않아도 된다.
- ③ 을에 대하여 병의 사용자로서 갑의 특수 불법 행위 책임이 인정 되더라도 병은 을에 대한 일반 불법 행위 책임을 면할 수 없다.
- ④ 정이 동물의 종류와 성질에 따라 보관에 상당한 주의를 기울였음을 증명하더라도 무에 대한 정의 손해 배상 책임은 면제되지 않는다.
- ⑤ 무에 대한 정의 손해 배상 책임이 인정되는 경우 특별한 사정이 없는 한 정은 무가 소유한 배추밭을 원상으로 회복시켜야 한다.

11. 다음 자료의 (가)에 들어갈 수 있는 진술로 옳은 것은?

교사: A국에서 시행되고 있는 △△법과 그 적용 사례에 대하여 우리나라 형법에 근거하여 법적 판단을 해 보세요.

A국에서는 허위 영상의 제작과 유포 등이 사회 문제로 등장하였지만 이를 처벌할 수 있는 법률이 없었다. 이에 A국 의회는 처음으로 허위 영상의 제작과 유포를 처벌하기 위해 2020년 6월 △△법을 제정하였다.

- 2020년 6월 시행된 △△법 제14조 제1항은 '유포할 목적으로 사람의 신체를 대상으로 한 허위 영상을 제작한 자는 1년 이하의 금고에 처한다.'고 규정하였다.
- 2021년 6월 △△법 제14조 제1항은 형벌 규정만 '2년 이하의 징역에 처한다.'로 개정·시행되었다.
- 2022년 7월 △△법 제14조 제2항 '사람의 신체를 대상으로 한 허위 영상을 저장·시청한 자는 2천만 원 이하의 벌금에 처한다.'는 조항이 신설·시행되었다.

【△△법의 적용 사례】

- 갑은 2020년 8월에 사람의 신체를 대상으로 한 허위 영상을 제작하여 유포한 사실로 2021년 9월에 기소되어 재판 중이다.
- 을은 2021년 12월에 사람의 신체를 대상으로 한 허위 영상을 제작하여 유포한 사실로 2022년 2월에 기소되어 재판 중이다.
- 병은 2022년 10월에 사람의 신체를 대상으로 한 허위 영상을 저장하여 시청한 사실로 2023년 1월에 기소되어 재판 중이다.

학생: (가)

- ① △△법의 기능은 일반 국민의 자유와 권리 보장이 아닌 사회 질서 유지에 있습니다.
- ② 법원은 갑에게 개정 전 △△법 제14조 제1항을 적용하여 정해진 노역에 복무해야 하는 형벌을 선고할 수 있습니다.
- ③ 을의 행위에 대하여 개정 전 △△법 제14조 제1항을 적용하는 것은 죄형 법정주의에 위배됩니다.
- ④ 병의 행위에 대하여 △△법 제14조 제2항을 적용하는 것은 죄형 법정주의에 위배됩니다.
- ⑤ △△법 제14조 제2항에는 범죄 행위에 제공한 물건을 국고에 귀속시킬 수 있는 형벌이 규정되어 있습니다.

12. 다음 사례에 대한 법적 판단으로 옳은 것은? [3점]

갑의 부모 A, B가 이혼하면서 A가 갑의 단독 친권자로 지정되었다. 갑은 무용 공연을 위하여 을과 100만 원에 의상 제작 계약을 체결하였다. 을은 계약 당일에는 갑이 미성년자임을 몰랐으나 다음 날 갑이 미성년자임을 알게 되었다. 일주일 후 갑은 19세 생일에 친구의 공연을 보러 갔다가 을에게 제작을 맡긴 의상과 동일한 의상을 90만 원에 제작해 준다는 병을 소개받았다. 갑은 병에게 80만 원에 의상을 제작해 줄 수 있는지 물었고, 병이 알겠다고 하여 갑과 병은 80만 원에 의상 제작을 하는 데에 합의하고 다음 날 계약서를 작성하였다. 이후 을은 갑의 의상 제작을 완료한 상태에서 갑과 병의 계약 체결 사실을 알게 되었고, 제작한 의상을 갑에게 인도하였다. 한편 A, B는 갑과 을이 체결한 계약과 갑과 병이 체결한 계약에 관하여 알지 못하다가 을이 갑에게 의상을 인도한 날 이 계약들에 관하여 알게 되었다.

- ① 을은 갑이 미성년자임을 알게 되었을 당시 갑과의 의상 제작 계약을 철회할 수 없다.
- ② 을은 B에게 갑과의 의상 제작 계약의 취소 여부에 대한 확답을 촉구할 수 없다.
- ③ 병의 청약과 갑의 승낙이 합치된 때 갑과 병의 의상 제작 계약이 성립하였다.
- ④ A는 을이 제작한 의상을 갑에게 인도한 때에 갑과 병의 의상 제작 계약을 취소할 수 있다.
- ⑤ 을이 제작한 의상을 인도받은 갑이 그 대금을 지급하지 않더라도 갑에게 계약상 의무 위반에 따른 책임은 성립하지 않는다.

13. 다음 사례에 대한 법적 판단으로 옳은 것은? [3점]

법률혼 관계에 있는 갑과 을 사이에서 A가 태어난 후 B가 적법한 절차를 거쳐 갑과 을의 친양자로 입양되었다. 그 해에 갑은 유언 없이 사망하였다. 한편 병은 정과의 사이에서 자녀 C를 낳았으나 경제적 문제로 자주 다투었다. 결국 병과 정은 법원에 이혼 의사 확인의 신청을 하여 이혼에 이르렀고, 병이 단독으로 C에 대한 친권자 및 양육권자가 되었다. 이후 병은 을과 법률혼을 하였고, 을이 적법한 절차를 거쳐 C를 친양자 아닌 양자로 입양하였다. 그 후 병이 갑작스런 사고로 유언 없이 사망하였고, 1년 후 C도 초등학교 입학할 앞둔 상태에서 갑작스런 사고로 사망하였다.

- ① 갑의 사망 시 을과 A는 갑의 상속인이지만 B는 갑의 상속인이 아니다.
- ② 병과 정이 법원으로부터 이혼 의사 확인을 받은 때부터 정은 C에 대하여 면접 교섭권을 갖는다.
- ③ 병의 사망 시 B는 A의 친족이지만 C는 A의 친족이 아니다.
- ④ 병의 사망 시 C는 병의 상속인이지만 A와 B는 병의 상속인이 아니다.
- ⑤ C의 사망 시 정은 C의 상속인이 아니다.

14. 다음 사례에 대한 법적 판단으로 옳은 것은?

갑(18세)은 돈을 낼 의사가 없음에도 A가 운영하는 식당에서 음식을 주문하여 먹고 도주하였다. A는 식당 앞을 지나가던 을을 갑으로 오인하고 "계산하고 가자."라고 하며 을의 목살을 잡고 식당으로 끌고 왔다. 경찰이 수사를 통하여 A의 식당에서 음식을 먹은 사람은 을이 아니라는 사실을 밝혀냈지만, 수사 과정에서 을은 정신적으로 큰 고통을 받았다. 검사는 A에 대하여 폭행 혐의는 인정되지만 정상을 참작하여 기소 유예 처분을 하였다. 이후 경찰은 동종의 범죄로 수사 대상이었던 갑을 체포하였고, 검사는 구속 상태인 갑을 기소하였다. 1심 법원이 갑에게 사기죄로 징역 6월에 집행 유예 1년을 선고하였다. 이에 검사는 항소를 하였지만 갑은 항소를 포기하였다.

- ① 을의 정신적 피해에 대하여 국가는 범죄 피해자 구조금을 지급해야 한다.
- ② 검사는 A의 행위가 자구 행위에 해당한다고 판단하였다.
- ③ 갑은 기소 전 검사에게 구속 적부 심사를 청구하여 석방될 수 있다.
- ④ 1심 법원은 갑에게 형 선고의 취소 없이 1년이 경과한 때에는 공소 제기가 없었던 것으로 간주되는 판결을 선고했다.
- ⑤ 갑이 항소를 포기하였다더라도 갑에게는 당해 사건의 항소심 계속 중 무죄 추정의 원칙이 적용된다.

15. 우리나라 지방 자치 단체의 기관 A, B에 대한 설명으로 옳은 것은? (단, A, B는 각각 지방 자치 단체의 장, 지방 의회 중 하나임.) [3점]

지방 자치법은 '주민에게 과도한 부담을 주거나 중대한 영향을 미치는 지방 자치 단체의 주요 결정 사항'을 주민 투표의 대상으로 규정하고 있다. 종전에는 지방 자치 단체의 주요 결정 사항 중 A의 의결로 제정한 조례로 정하는 사항을 주민 투표의 대상으로 하였지만, 주민 투표법 개정 후 따라 조례로 정하지 않아도 지방 자치법에 규정된 사항에 해당하면 주민 투표의 대상이 될 수 있다. 이는 지방 자치 단체를 대표하는 B가 권한을 가지고 결정할 수 있는 사항을 주민 투표에 부칠 수 있도록 하여 지방 자치 행정의 책임성을 제고하기 위한 것으로 판단된다.

- ① A는 주민 투표법 개정 및 폐지에 대한 의결권을 가진다.
- ② B는 법령 위반을 이유로는 주민 소환의 대상이 될 수 없다.
- ③ B는 해당 지방 자치 단체의 사무와 법령에 따라 B에게 위임된 사무를 관리하고 집행한다.
- ④ B는 A가 편성한 지방 자치 단체의 예산안에 대해 심의·확정한다.
- ⑤ 지방 자치 단체의 행정 사무 감사권은 A에 대한 B의 견제 수단에 해당한다.

4 (정치와 법)

사회탐구 영역

16. 민법의 기본 원칙 A에 대한 설명으로 옳은 것은?



매크로 프로그램을 이용하여 인기 가수의 콘서트 입장권을 대량으로 선점한 자가 콘서트 입장권 구매를 원하는 자에게 웃돈을 얹어 재판매하는 압표 거래 사례가 증가하고 있습니다. 판매업자와 구매자의 자유로운 의사에 따른 것이라 하더라도 매크로 프로그램을 이용한 압표 거래 행위는, 소비자의 이익을 침해하고 건전한 공연 문화 조성을 저해하여 사회 질서에 반하는 행위이므로 A에 따라 법적 효력이 인정되지 않는다고 할 것입니다.

- ① A는 개인의 자유로운 의사에 따라 형성된 계약 관계에 국가나 타인이 개입해서는 안 된다는 원칙이다.
- ② A는 다른 사람에게 손해를 입힌 행위에 대해 고의나 과실이 없는 경우에는 책임을 지지 않는다는 원칙이다.
- ③ A는 개인은 자신이 소유하는 재산을 배타적으로 사용·수익 또는 처분할 수 있는 권리를 갖는다는 원칙이다.
- ④ 계약 내용이 한쪽 당사자에게 현저하게 불공정한 경우 그러한 계약의 내용은 무효라는 법률의 규정은 A에 근거한다.
- ⑤ 환경 오염으로 피해가 발생한 경우 해당 환경 오염의 원인이자 그 피해를 배상하여야 한다는 법률의 규정은 A에 근거한다.

17. 다음 사례에 대한 법적 판단으로 옳은 것은? [3점]

평소에 장난이 심한 갑(18세)은 친구 을(18세)의 휴대 전화를 실수로 깨뜨렸다. 그날 저녁 갑은 부모의 허락을 받아 자신이 키우던 개를 데리고 산책하던 중 을을 만났다. 갑은 장난삼아 자신의 개에게 을을 향하여 "물어!"라고 명령하였고, 목줄이 풀린 갑의 개가 을을 물어 을에게 상해를 입혔다. 을의 위급한 상황을 목격한 병은 을을 구하기 위해 갑의 개를 발로 찼다. 동물 학대 혐의로 수사를 받은 병에 대해 검사는 정당방위를 이유로 불기소 처분을 하였다. 휴대 전화 손괴 및 상해 혐의로 불기소 상태에서 수사를 받은 갑에 대해 검사는 과실에 의한 손괴는 법 규정이 없어 범죄가 성립하지 않는다고 불기소 처분을 하였고, 상해 혐의에 대해서는 정상을 참작하여 기소 유예 처분을 하였다.

- ① 갑에게 책임 능력이 인정되더라도 갑의 부모는 을의 상해에 대해 법정 감독 의무자로서 특수 불법 행위 책임을 진다.
- ② 을은 배상 명령 제도를 통하여 갑에게 손해를 배상받을 수 있다.
- ③ 검사는 갑이 을의 휴대 전화를 손괴한 행위에 대하여 구성 요건에 해당하지 않는 것으로 판단하였다.
- ④ 검사는 갑의 상해 혐의에 대하여 객관적 법질서 관점에서 위배되지만, 법적 비난 가능성이 없는 것으로 판단하였다.
- ⑤ 검사는 병의 행위에 대하여 타인의 법익에 대한 현재의 위난을 피하기 위한 행위로 상당한 이유가 있다고 판단하였다.

18. 국제 연합의 주요 기관 A~C에 대한 설명으로 옳은 것은?

◇◇ 신문 ◇◇
 ○○ 지역에서 발생한 분쟁의 평화적 해결을 촉구하는 A의 결의안 채택이 상임 이사국의 거부권 행사로 무산되는 일이 많아지고 있다. 이에 거부권을 행사한 해당 상임 이사국의 대표가 모든 회원국으로 구성된 의결 기관인 B에 출석하여 거부권 행사 이유를 설명하도록 하는 결의안이 B에서 채택되었다. 한편, A에서의 거부권 남발로 야기되는 폐해를 막기 위해서는 주요 사법 기관인 C가 보다 적극적인 역할을 해야 한다는 주장도 대두되고 있다.

- ① A를 구성하는 15개 이사국의 임기는 동일하다.
- ② A에서 절차 사항을 포함한 모든 사항에 대한 결정은 상임 이사국 전체의 동의를 전제로 한다.
- ③ B의 결의안은 회원국의 의지가 반영되어 강제력이 있다.
- ④ C가 관할하는 법적 분쟁에는 국가뿐만 아니라 개인도 소송 당사자가 될 수 있다.
- ⑤ C를 구성하는 15인의 재판관에 대한 선출 권한은 A와 B가 가진다.

19. 국제 관계를 바라보는 관점 A, B에 대한 설명으로 옳은 것은?

국제 정치 분석의 핵심 단위를 주권 국가에 두고 있는 A는 국제 사회에서 개별 국가의 최우선 목표가 자국 이익 극대화에 있고, 국제기구는 주권 국가의 행위를 억제할 수 없다고 본다. 반면 국제 관계를 인간의 이성과 도덕이 작동하는 사회로 파악하는 B는 국제기구가 국가 간 갈등의 위험성을 낮추고 평화적이고 협력적인 국제 사회 형성에 건설적인 역할을 한다고 본다.

- ① A는 국가 간 경쟁보다 상호 의존적 관계를 중시한다.
- ② B는 힘의 논리가 지배하는 국제 사회의 현실을 강조한다.
- ③ A와 달리 B는 개별 국가의 이익과 국제 사회 전체의 이익이 조화를 이룰 수 있다고 본다.
- ④ B와 달리 A는 특정 국가의 침략 행위에 모든 국가들이 공동으로 대응함으로써 국제 분쟁이 해결될 수 있다고 본다.
- ⑤ A와 B 모두 국제 사회의 일반적 관행과 법적 확신에 기초한 국제 규범을 통해 국제 사회의 무정부 상태를 극복할 수 있다고 본다.

20. (가)에 들어갈 수 있는 옳은 내용만을 <보기>에서 있는 대로 고른 것은? [3점]



갑국의 의회 의원 정수(定數)는 300명으로 유권자는 지역구 의원 선출을 위해 후보자에 1표, 비례 대표 의원 선출을 위해 정당에 1표를 행사합니다. 최근 의회 의원 선거를 실시한 갑국에서는 현재의 의원 정수(定數)는 유지하면서 선거 제도 개편안을 마련하였습니다. 의회 의원의 당적 변경은 없는 것으로 가정하고, <자료 1>과 <자료 2>를 근거로 갑국의 선거 제도 개편안에 대해 분석해 볼까요?

<자료 1> 갑국의 현행 의회 의원 선거 제도와 최근 선거 결과

- 지역구 의원 선출을 위한 선거구 수는 전체 지역구 의석수와 동일하며, 전체 지역구 의석수는 전체 비례 대표 의석수의 2배임.
- 지역구 의원 선거에서는 선거구별로 최다 득표한 후보자가 당선되며, 비례 대표 의원 선거에서는 전국을 하나의 선거구로 하고 각 정당의 정당 투표 득표율에 비례하여 전체 비례 대표 의석수를 각 정당에 배분함.
- 현재, A당~E당이 의회 의석을 확보하고 있으며, 무소속 의원은 없음. A당~E당은 모두 지역구 의석들과 정당 투표 득표율이 일치하지 않음.

<자료 2> 갑국의 의회 의원 선거 제도 개편안

<1안>	현행에서 지역구 의원 선거 제도만 변경함. 지역구 의원 선거에서 선거구 수만 50개로 축소하고, 선거구별로 같은 수의 의회 의원을 득표순으로 선출함.
<2안>	현행에서 지역구 의원 선거 제도만 변경함. 지역구 의원 선거에서 당선을 위한 조건을 유효 투표 총수의 과반 득표로 함. 1차 투표에서 이 조건을 충족하는 후보자가 있으면 당선인으로 확정하고, 당선인이 없을 경우 1위와 2위 득표자만을 대상으로 2차 투표를 실시하여 최다 득표자를 당선인으로 결정함.
<3안>	지역구 의원 선출 방식과 비례 대표 의원 선출 방식은 현행과 동일하게 유지함. 전체 지역구 의석수와 전체 비례 대표 의석수가 동수가 되도록 함.

(가) 학생

<보 기>

ㄱ. <1안>의 경우, 지역구 의원 선거에서 각 정당이 선거구별로 1인의 후보자만 공천하면, 특정 정당이 의회 내 과반 의석을 차지할 수 없습니다.

ㄴ. <2안>의 경우, 지역구 의원 선거 제도에는 다른 후보자들이 얻은 표를 모두 합한 것보다 더 많은 표를 얻은 후보자가 당선되도록 하는 대표 결정 방식이 적용되고 있습니다.

ㄷ. <3안>을 적용하더라도 각 정당의 정당 투표 득표율과 각 정당의 총의석률이 불일치하는 현상이 나타날 가능성을 배제할 수 없습니다.

- ① ㄱ ② ㄴ ③ ㄱ, ㄷ ④ ㄴ, ㄷ ⑤ ㄱ, ㄴ, ㄷ

* 확인 사항

- 답안지의 해당란에 필요한 내용을 정확히 기입(표기)했는지 확인 하시오.

2025학년도 대학수학능력시험

사회탐구 영역 정답표
(정치와 법) 과목

문항 번호	정 답	배 점	문항 번호	정 답	배 점	문항 번호	정 답	배 점	문항 번호	정 답	배 점
1	④	2	6	①	3	11	③	2	16	④	2
2	①	2	7	⑤	2	12	②	3	17	③	3
3	①	3	8	②	2	13	④	3	18	⑤	2
4	②	2	9	⑤	3	14	⑤	2	19	③	2
5	①	3	10	③	3	15	③	3	20	⑤	3

제 4 교시

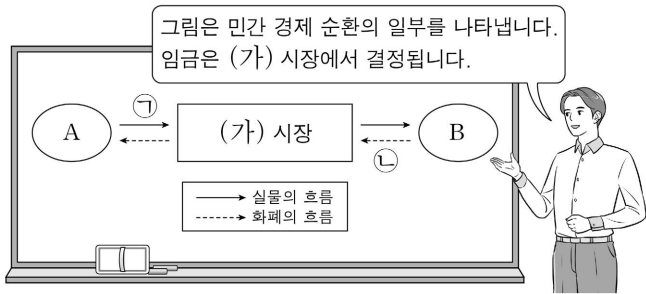
사회탐구 영역(경제)

성명

수험 번호 -

제 () 선택

1. 그림은 교사의 수업 장면이다. 이에 대한 설명으로 옳은 것은?
(단, A, B는 각각 가게, 기업 중 하나임.)



- ① A는 생산물 시장의 공급자이다.
- ② B는 부가 가치를 창출하는 주체이다.
- ③ B와 달리 A는 이윤 극대화를 추구한다.
- ④ ㉠은 재화와 서비스이다.
- ⑤ 가족 휴가를 위한 여행 상품 구입에 대한 지출은 ㉡에 해당한다.

2. 다음 두 사례에 공통으로 나타난 시장 실패의 원인으로 가장 적절한 것은?

○ 가로등 서비스는 대가를 치르지 않은 사람의 소비를 막을 수 없으므로 민간 기업은 생산에 대한 경제적 유인이 없다.
○ 대가를 지불하지 않은 사람도 수산 자원을 채취할 수 있는 공해에서는 남획의 문제가 발생하여 수산 자원은 결국 고갈된다.

- ① 역선택
- ② 도덕적 해이
- ③ 시장의 진입 장벽
- ④ 기업 간 가격 담합
- ⑤ 재화와 서비스의 비배제성

3. 다음 자료에 대한 분석 및 추론으로 옳은 것은? (단, 제시된 자료 이외의 다른 조건은 고려하지 않음.) [3점]

□□ 재단은 최대 100명을 수용할 수 있는 소극장을 운영하고 있다. 공연의 종류와 관객 수에 관계없이 소극장 운영 비용은 공연 1회당 100만 원이 발생한다. □□ 재단은 ㉠ 총수입이 총비용과 일치되도록 표의 가격을 결정한다. 공연 1회당 판매되는 공연 표를 평균 50장으로 예상하여 A 공연 표의 가격을 책정 하였으나 실제 판매된 공연 표는 1회당 평균 60장이었다. 최근 □□ 재단은 A 공연 대신 공연 표 판매량에 따라 저작권 사용료를 지급해야 하는 B 공연을 유치하였다. 저작권 사용료는 공연 표 1장당 1만 원이며, 매 공연 전석 매진을 예상하여 B 공연 표의 가격을 책정하였으나 실제 판매된 공연 표는 1회당 평균 80장이었다.

- ① A 공연 표의 가격은 1만 원이다.
- ② B 공연 표의 가격은 2만 원이다.
- ③ A 공연으로 인해 발생하는 1회당 평균 이윤은 0이다.
- ④ B 공연으로 인해 발생하는 손실은 1회당 평균 40만 원이다.
- ⑤ B 공연 표가 1회당 평균 80장 판매될 것으로 정확히 예측되었다면, ㉠을 위한 B 공연 표의 가격은 2만 5천 원이다.

4. 다음 자료에 대한 분석으로 옳은 것은? [3점]

갑국 정부는 시장 균형에서 거래되고 있는 X재 시장에 실효성 있는 가격 규제 정책 (가), (나) 중 하나를 시행하려고 한다. 그림의 A 점은 (가), B 점은 (나) 시행에 따른 시장 가격과 시장 거래량의 변화율을 나타낸다. 단, X재는 수요와 공급 법칙을 따르고 (가), (나) 시행 전후 수요와 공급의 변동은 없으며, 암시장은 발생하지 않는다.

- ① (가)는 최고 가격제이다.
- ② (가)의 시행은 초과 수요 발생 요인이다.
- ③ (나)의 시행은 판매 수입 증가 요인이다.
- ④ (나)의 시행은 생산자 잉여 감소 요인이다.
- ⑤ (가), (나)의 시행은 모두 총잉여 증가 요인이다.

5. 다음 자료에 대한 옳은 분석 및 추론만을 <보기>에서 고른 것은?

X재는 시장 균형에서 가격 70달러에 거래되고 있다. ㉠ X재 시장에는 소비 측면에서만 발생한 외부 효과로 인해 사적 편익 이외에 X재 1개당 ㉡ 일정액의 추가 편익이 발생하고 있다. 이에 정부는 사회적 최적 거래량을 달성하기 위해 소비자에게 X재 1개당 20달러의 보조금을 지급해야 하며, 이때 보조금 총액은 1,600달러이다. 표는 X재 시장 공급 곡선상의 점들의 일부를 나타낸다. 단, 수요와 공급 곡선은 모두 직선이다.

가격(달러)	50	60	70	80	90	100
시장 공급량(개)	50	60	70	80	90	100

<보 기>

㉠. ㉠은 긍정적 외부 효과에 해당한다.
㉡. 소비자에게 X재 1개당 20달러의 보조금을 지급하면 거래량은 10개 증가한다.
㉢. 소비자에게 X재 1개당 20달러의 보조금을 지급하면 시장 판매 수입은 3,200달러 증가한다.
㉣. ㉡이 현재 수준의 50%로 감소하여도 사회적 최적 거래량 달성을 위해 지급해야 할 보조금 총액은 변함이 없다.

- ① ㉠, ㉡ ② ㉠, ㉢ ③ ㉡, ㉣ ④ ㉠, ㉣ ⑤ ㉢, ㉣

경제

2 (경제)

사회탐구 영역

6. 그림은 경제 수업의 일부이다. 이에 대한 설명으로 옳은 것은?
(단, A, B는 각각 계획 경제 체제, 시장 경제 체제 중 하나임.)

교사: 경제 체제 A, B의 특징에 대해 말해 볼까요?

① '무엇을 얼마나 생산할 것인가?'와 같은 경제 문제는 A에서만 발생합니다.

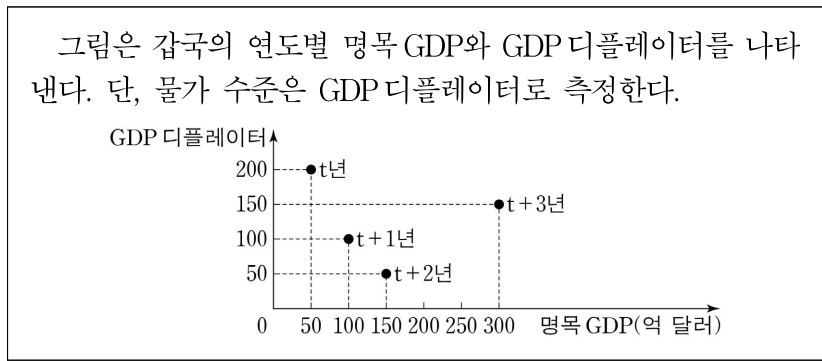
A와 달리 B에서는 ㉠ 생산 요소의 선택과 결합 방법의 결정이 가격 기구에 의해 이루어집니다.

A와 B에서는 모두 자유로운 경쟁을 통한 이윤 추구가 보장됩니다.

세 학생 중 한 명만 옳게 대답했네요.

- ① A에서는 '보이지 않는 손'의 기능을 중시한다.
- ② A와 달리 B에서는 정부의 계획에 의해 자원이 배분된다.
- ③ A, B에서는 모두 자원 배분의 효율성보다 형평성이 강조된다.
- ④ ㉠은 생산물의 분배 방식 결정에 대한 문제이다.
- ⑤ 기업이 자율적인 의사 결정을 통해 인력을 감축하고 자동화 설비 시스템을 구축하는 것은 ㉠의 사례이다.

7. 다음 자료에 대한 분석으로 옳은 것은? [3점]



- ① t년 명목 GDP는 실질 GDP보다 작다.
- ② t+1년 전년 대비 명목 GDP 증가율은 실질 GDP 증가율과 같다.
- ③ t+2년 화폐 가치는 전년 대비 하락했다.
- ④ t+2년 실질 GDP는 t+1년보다 작다.
- ⑤ t+3년 경제 성장률은 음(-)의 값을 갖는다.

8. 다음 자료에 대한 분석 및 추론으로 옳은 것은? [3점]

표는 2023년 ㉠ 근로 소득이 5,000만 원인 갑의 2023년 소득 및 소비 관련 분석 자료이다. 단, 근로 소득 이외에 정기적으로 발생하는 소득은 없다.

소득 분석	경상 소득:비경상 소득 = 5:1
소비 분석	소득:저축 = 6:1
	처분 가능 소득:소비 지출 = 4:3

*저축 = 처분 가능 소득 - 소비 지출
**처분 가능 소득 = 소득 - 비소비 지출

- ① ㉠은 비경상 소득에 해당한다.
- ② 경조금으로 인한 소득이 1,100만 원일 수 있다.
- ③ 소비 지출은 3,000만 원이다.
- ④ 비소비 지출과 저축은 금액이 같다.
- ⑤ 소비 분석 자료의 지표 비율이 유지되고 소득이 3,000만 원 증가한다면, 저축은 600만 원 증가한다.

9. 다음 자료에 대한 분석으로 옳은 것은?

갑국에는 A기업과 B기업만 존재하고 두 기업은 모두 갑국에서만 생산하며, 생산물은 생산한 해에 전량 판매된다. 생산비는 중간재 구입 비용과 노동 비용으로만 구성된다. 표는 2023년 두 기업의 생산량과 생산비를 나타낸다.

구분	A기업	B기업
생산량(억 개)	100	200
생산비(억 달러)	100	400

- A기업은 중간재 없이 X재만을 생산하며, 생산된 X재는 1개당 10달러의 가격에 갑국 내에서 전량 판매된다.
- B기업은 수입한 원자재만을 중간재로 사용하여 Y재만을 생산하며 중간재 구입 비용은 생산비의 75%이다. 생산된 Y재는 1개당 5달러의 가격에 전량 판매되며, 그중 50%는 수출된다. 단, 교역에 따른 거래 비용은 발생하지 않는다.

- ① A기업이 창출한 부가 가치는 B기업보다 작다.
- ② A기업의 이윤은 B기업보다 작다.
- ③ 갑국의 중간재 구입 비용은 400억 달러이다.
- ④ 갑국의 순수출은 200억 달러이다.
- ⑤ 갑국의 GDP는 2,000억 달러이다.

10. 다음 자료에 대한 옳은 분석만을 <보기>에서 고른 것은? (단, 제시된 자료 이외의 다른 조건은 고려하지 않음.) [3점]

표는 갑이 상품 A~C로부터 얻는 편익, 상품의 가격 및 설치비를 나타낸다.

구분	A	B	C
편익(만 원)	㉠	40	㉡
가격(만 원)	30	㉢	35
설치비(만 원)	0	3	5

갑은 상품 A~C 중 A를 구입하였고, 그 직후 B의 가격에 대한 20% 할인과 C의 설치비 면제 행사가 시작되었다. B 또는 C를 새로 구입할 경우, A에 대한 환불은 불가하지만 A를 중고 거래 시장에서 거래 비용 없이 최대 25만 원에 판매 가능하다. 이에 갑은 다음 세 가지 방안 중 하나를 선택하려고 한다. 단, 갑은 편익과 기회비용만을 고려하여 합리적으로 선택하고, 상품 A~C로부터 얻는 편익은 변함이 없다.

- <1안> A를 계속 사용
- <2안> A를 중고 거래 시장에 판매하고, B를 구입하여 사용
- <3안> A를 중고 거래 시장에 판매하고, C를 구입하여 사용

<보 기>

- ㄱ. ㉠과 ㉢의 합은 '66'이 될 수 있다.
- ㄴ. ㉠이 '39'이면 ㉡은 '48'이 될 수 있다.
- ㄷ. ㉠, ㉢이 각각 '35'이면 <2안>을 선택한다.
- ㄹ. ㉢에 관계없이 <3안>은 선택하지 않는다.

- ① ㄱ, ㄴ ② ㄱ, ㄷ ③ ㄴ, ㄷ ④ ㄴ, ㄹ ⑤ ㄷ, ㄹ

11. 다음 자료에 대한 분석으로 옳은 것은? [3점]

노동만을 생산 요소로 사용하여 직선인 생산 가능 곡선상에서 X재와 Y재만을 생산하는 갑국과 을국은 비교 우위를 갖는 재화에만 특화하여 양국 모두 이득이 발생하는 교환 비율에 따라 교역한다. 그림은 갑국과 을국의 교역 전 소비량과 교역 후 소비량을 나타낸 표의 일부이다. X재 1개 생산의 기회비용이 Y재 1개인 갑국은 X재를 특화하였다. 단, 양국이 보유한 노동량은 같고, 생산된 X재와 Y재는 전량 소비되며, 교역은 거래 비용 없이 양국 간에만 이루어진다.

구분	교역 전 소비량		교역 후 소비량	
	갑국	을국	갑국	을국
X재(개)	20	10	20	
Y재(개)	10	40	20	

- ① 갑국은 X재 생산에 절대 우위를 갖는다.
- ② 갑국의 Y재 최대 생산 가능량은 40개이다.
- ③ 을국의 교역 후 Y재 소비량은 40개보다 적다.
- ④ 을국의 교역 후 X재 1개 소비의 기회비용은 증가하였다.
- ⑤ 양국 간 X재와 Y재의 교환 비율은 2:1이다.

12. 다음 자료에 대한 분석으로 옳은 것은?

그림은 X재 시장에서 수요와 공급 중 하나만 변동될 경우 형성되는 균형점 E의 변화를 나타낸다. X재와 Y재는 보완 관계이고, X재와 Z재는 대체 관계이며, Y재와 Z재는 서로 관계가 없다. 단, X재~Z재는 모두 수요와 공급 법칙을 따르며, 수요와 공급 곡선은 모두 직선이다.

- ① X재에 대한 소비자 선호도의 변화는 A점 또는 D점으로의 이동 요인이다.
- ② X재의 공급자 수 감소는 Z재 거래량 감소 요인이다.
- ③ Y재의 생산 기술 혁신은 B점으로의 이동 요인이다.
- ④ Y재의 공급 감소는 X재 시장의 판매 수입 증가 요인이다.
- ⑤ Z재의 생산 요소 가격 상승은 C점으로의 이동 요인이다.

13. 다음 자료에 대한 분석으로 옳은 것은? [3점]

표는 t년 갑국 A, B 지역의 경제 활동 참가율과 실업률을 나타낸다. t년 대비 t+10년 A 지역의 경제 활동 인구는 변함이 없었고 실업자 수는 25% 감소한 반면 B 지역의 경제 활동 인구가 취업자 수는 각각 50% 증가하였다. 단, 갑국은 A, B 지역으로만 구분되고, 갑국의 15세 이상 인구는 변함이 없으며, t년과 t+10년 모두 A 지역의 15세 이상 인구는 B 지역과 같다.

구분	A 지역	B 지역
경제 활동 참가율(%)	80	50
실업률(%)	10	8

- ① t년 갑국 전체 고용률은 60%보다 높다.
- ② t+10년 실업률은 A 지역이 B 지역보다 높다.
- ③ t년과 t+10년 갑국 전체 실업자 수는 같다.
- ④ t년 대비 t+10년 A 지역의 고용률은 하락하였다.
- ⑤ t년 대비 t+10년 갑국 전체 비경제 활동 인구는 50% 감소하였다.

14. 다음 자료에 대한 분석 및 추론으로 옳은 것은?

현재 X재의 시장 가격은 1,000원이고 거래량은 3개이며 X재 시장의 총잉여는 2,000원이다. X재 시장의 소비자는 각각 X재를 1개만 구입하려고 하는 갑~무, 생산자는 각각 X재를 1개만 판매하려고 하는 A~E만 존재한다. <표 1>은 소비자 갑~무가 X재 1개를 구입할 때의 최대 지불 용의 금액을, <표 2>는 생산자 A~E의 생산자 잉여를 나타낸다. 단, 현재 시장 가격에서 수요량과 공급량은 같다.

<표 1>

소비자	갑	을	병	정	무
최대 지불 용의 금액(원)	1,500	1,300	1,100	900	700

<표 2>

생산자	A	B	C	D	E
생산자 잉여(원)	500	400	㉠	0	0

- ① ㉠은 을의 소비자 잉여와 같다.
- ② 갑과 달리 무는 X재를 구입한다.
- ③ 전체 소비자 잉여는 시장 판매 수입의 50%이다.
- ④ 최소 요구 금액이 가장 큰 생산자는 A이다.
- ⑤ 생산자에게 X재 1개당 100원의 조세를 부과하더라도 거래량은 변함이 없다.

15. 다음 자료에 대한 분석으로 옳은 것은? [3점]

그림은 시장 개방 전 갑국의 X재 시장 상황을 나타낸다.

갑국에서는 시기별로 다음과 같은 상황이 전개되었다.

t기	X재 시장을 개방하여 국제 가격 ㉠ 달러에 X재를 수입함.
t+1기	국내 생산자에게 X재 1개당 ㉡ 달러의 보조금을 지급한 결과 국내 생산량은 10만 개, 수입량은 4만 개가 됨.
t+2기	보조금 지급 정책을 폐지하고, t+1기 수입량이 유지되도록 X재 1개당 일정액의 관세를 부과함.

단, X재의 국제 가격은 변함이 없고, 갑국은 X재를 국제 가격 수준에서 무제한 수입할 수 있으며, 갑국에서 생산된 X재는 전량 국내 시장에서 판매된다. 또한 수요와 공급의 변동 요인으로 제시된 정책 이외의 요인은 고려하지 않는다.

- ① ㉠은 '4', ㉡은 '6'이다.
- ② t+1기 국내 소비량은 t기보다 4만 개 증가한다.
- ③ t+1기 수입액은 t기보다 24만 달러 적다.
- ④ t+2기 관세 수입은 24만 달러이다.
- ⑤ t+2기 국내 생산량은 t+1기보다 2만 개 많다.

4 (경제)

사회탐구 영역

16. 다음 자료에 대한 설명으로 옳은 것은? (단, 총수요 곡선은 우하향하고 총공급 곡선은 우상향함.)



- ① 갑국에서는 스태그플레이션이 발생하고 있다.
- ② 갑국, 을국 모두 실질 GDP 감소를 동반한 경제 문제가 나타나고 있다.
- ③ ㉠, ㉡의 공통적인 발생 요인으로 총수요의 증가를 들 수 있다.
- ④ ㉠을 개선하기 위한 재정 정책으로 소득세율 인상을 들 수 있다.
- ⑤ ㉡을 개선하기 위한 통화 정책으로 중앙은행의 국공채 매각을 들 수 있다.

17. 다음 자료에 대한 분석으로 옳은 것은? [3점]

원화를 사용하는 갑국에서 거주 중인 A는 미국 달러화로 임금을 받는다. 표는 A의 시기별 전기 대비 미국 달러화 표시 임금 변화율과 각 시기의 환율을 적용하여 원화로 환산한 전기 대비 임금 변화율을 나타낸다.

구분	t기	t+1기
달러화 표시 임금 변화율(%)	2	6
원화 환산 임금 변화율(%)	7	-2

- ① t기 원/달러 환율은 전기에 비해 하락하였다.
- ② 전기 대비 t기 환율 변동은 미국 시장에서 갑국 수출품의 가격 경쟁력 하락 요인이다.
- ③ t+1기 달러화 대비 원화 가치는 전기에 비해 하락하였다.
- ④ 전기 대비 t+1기 환율 변동은 미국인의 갑국 여행 경비 부담 증가 요인이다.
- ⑤ 전기 대비 t+1기 환율 변동은 갑국 기업의 달러화 표시 외채 상환 부담 증가 요인이다.

18. 다음 자료에 대한 분석으로 옳은 것은? [3점]

표는 t년 연초에 원금 1,000만 원을 연 이자율이 일정한 3년 만기 정기 예금 A, B에 각각 예치한 경우 연도별 발생한 이자를 나타낸다. 만기 시 A, B의 원리금은 1,300만 원으로 같다. A, B의 이자 지급 방식은 서로 다르며 예치한 원금에만 이자가 계산되거나, 원금뿐 아니라 발생한 이자에도 이자가 계산되는 방식 중 하나이다. 단, 이자는 매년 발생하고, 세금이나 수수료 등의 거래 비용은 없다.

구분	t년	t+1년	t+2년
A의 이자(만 원)	100	㉠	㉡
B의 이자(만 원)	㉢	㉣	㉤

* 원리금 = 원금 + 이자

- ① A는 예치한 원금에만 이자가 계산되는 상품이다.
- ② 연 이자율은 B가 A보다 높다.
- ③ ㉢은 '100'이다.
- ④ ㉡과 ㉤은 같다.
- ⑤ ㉠에서 ㉡으로의 증가율과 ㉣에서 ㉤으로의 증가율은 같다.

19. 다음 자료에 대한 분석으로 옳은 것은?

<표 1>은 갑국, 을국, 병국의 국제 거래에 따른 2023년 경상 수지 항목별 수취액, <표 2>는 갑국의 경상 수지를 항목별로 나타낸다. 을국의 2023년 경상 수지는 적자를 기록하였다. 단, 국제 거래는 갑국과 을국 간, 갑국과 병국 간에만 이루어진다.

<표 1>

구분	외화 수취액		
	갑국	을국	병국
상품 수지(억 달러)	70	40	20
서비스 수지(억 달러)	30	㉠	㉡
본원 소득 수지(억 달러)	50	50	0
이전 소득 수지(억 달러)	20	0	15

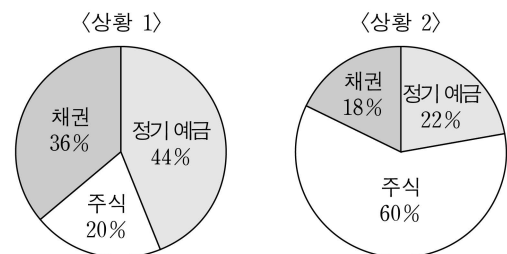
<표 2>

경상 수지(억 달러)			
상품 수지	서비스 수지	본원 소득 수지	이전 소득 수지
㉢	-25	0	㉣

- ① ㉠과 ㉡의 합은 '55'이다.
- ② ㉢은 '5', ㉣은 '10'이다.
- ③ 갑국은 해외 무상 원조금이 포함되는 항목이 5억 달러 적자이다.
- ④ 해외 지식 재산권 사용료가 포함되는 항목에서 을국과 병국의 외화 지급액 합은 50억 달러이다.
- ⑤ 병국 경상 수지는 병국의 통화량 감소 요인이다.

20. 다음 자료에 대한 분석 및 추론으로 옳은 것은? (단, 제시된 자료 이외의 다른 조건은 고려하지 않음.)

갑은 t시점에 자신이 보유하고 있는 ㉠ 전 자산을 정기 예금, 주식, 채권에 동일한 금액으로 나누어 1년간 투자하려고 한다. 정기 예금의 연 이자율은 10%이다. 그림은 t+1년 시점에 투자가 종료될 경우 예상되는 각 상황별 갑의 자산 대비 정기 예금, 주식, 채권의 구성 비율을 나타낸다.



- ① 시세 차익을 기대할 수 있는 상품의 구성 비율은 두 상황 모두 낮아진다.
- ② 채권은 두 상황 모두 손실이 발생한다.
- ③ 배당 수익을 기대할 수 있는 상품의 수익은 <상황 1>이 <상황 2>보다 많다.
- ④ 갑의 투자 수익은 <상황 1>이 <상황 2>보다 많다.
- ⑤ 전 자산을 주식과 채권에 절반씩 투자한다면, <상황 1>과 <상황 2> 간 투자 수익 차이는 ㉠의 경우에 비해 작아진다.

* 확인 사항

○ 답안지의 해당란에 필요한 내용을 정확히 기입(표기)했는지 확인 하시오.

2025학년도 대학수학능력시험

사회탐구 영역 정답표
(경제) 과목

문항 번호	정 답	배 점	문항 번호	정 답	배 점	문항 번호	정 답	배 점	문항 번호	정 답	배 점
1	②	2	6	⑤	2	11	①	3	16	⑤	2
2	⑤	2	7	⑤	3	12	③	2	17	④	3
3	②	3	8	③	3	13	③	3	18	①	3
4	④	3	9	④	2	14	⑤	2	19	①	2
5	①	2	10	④	3	15	③	3	20	②	2

제 4 교시

사회탐구 영역(사회·문화)

성명 수험 번호 - 제 () 선택

1. 밑줄 친 ㉠~㉣과 같은 현상의 일반적인 특징에 대한 설명으로 옳은 것은?

○○ 신문 2024년 ○월 ○일

뜨거워진 한반도, 과일 재배 지도가 바뀐다!

우리나라 사람들이 좋아하는 ㉠ 나주 배, 대구 사과와 같이 지역 특산물로 생산되고 있는 과일들이 더 이상 그 지역을 대표할 수 없을지도 모른다. 기후 변화로 ㉡ 연평균 기온이 올라갈수록 특정 과일이 자랄 수 있는 지역이 북상하기 때문이다. 이에 따라 ㉢ 사과 재배 가능 지역이 변할 것으로 예측된다. 대표적인 사과 재배지가 경북 지역에서 강원 지역으로 바뀌고 2090년경에는 ㉣ 국내에서 고품질의 사과 생산이 불가능할 것이라는 분석도 나온다. 폭염, 한파 등 ㉤ 기상 이변이 자주 발생하는 것은 뜨겁게 돌아오는 지구가 인류에게 주는 마지막 경고일지도 모른다.

- ① ㉠과 같은 현상은 확률의 원리가 적용된다.
- ② ㉡과 같은 현상은 인과 관계가 불분명하다.
- ③ ㉢과 같은 현상은 필연성의 원리가 적용된다.
- ④ ㉣과 같은 현상과 달리 ㉤과 같은 현상은 몰가치적이다.
- ⑤ ㉤과 같은 현상에 비해 ㉣과 같은 현상은 특수성이 강하다.

2. 다음 글에서 사회·문화 현상을 바라보는 필자의 관점에 대한 옳은 설명만을 <보기>에서 고른 것은? [3점]

사회 체계 안에서 인간의 상호 작용이 작동하는 이유는 행위자들에게 할당되는, 분화된 역할 구조가 있기 때문이다. 개인은 역할 구조 속에서 사회가 기대하는 행동을 수행하게 된다. 이렇게 개인이 사회의 한 부분으로서 공유된 기대에 부응하여 다른 부분과 유기적으로 상호 작용을 함에 따라 사회라는 완전체가 형성된다.

<보 기>

ㄱ. 상황 정의에 기초한 개인 간 상호 작용을 중시한다.
 ㄴ. 개인 행위자의 능동적이고 자율적인 측면을 중시한다.
 ㄷ. 사회의 각 부분이 상호 의존적 관계를 맺는다고 본다.
 ㄹ. 사회는 스스로 균형을 유지하려는 속성을 지닌다고 본다.

- ① ㄱ, ㄴ ② ㄱ, ㄷ ③ ㄴ, ㄷ ④ ㄴ, ㄹ ⑤ ㄷ, ㄹ

3. A, B의 일반적인 특징에 대한 설명으로 옳은 것은? (단, A, B는 각각 관료제와 탈관료제 중 하나임.)

도서 출판 과정에는 편집, 디자인, 인쇄 등 여러 공정이 있다. ○○ 출판 회사는 수평적으로 분권화된 조직을 통해 구성원들이 함께 결정을 내려 출판 공정을 관리하고 도서를 출간한다. □□ 출판 회사는 세부적으로 분업화된 조직을 통해 해당 분야의 담당자들이 정해진 서열과 절차에 따라 각 공정을 진행하여 도서를 출간한다. ○○ 출판 회사는 A의 운영 원리가, □□ 출판 회사는 B의 운영 원리가 강조된다.

- ① A에 비해 B는 조직 구성원의 업무 재량권 및 자율성이 낮다.
- ② A에 비해 B는 외부 환경 변화에 대한 유연한 대처가 용이하다.
- ③ B에 비해 A는 업무의 표준화와 세분화가 강조된다.
- ④ B에 비해 A는 목적 전치 현상이 나타날 가능성이 높다.
- ⑤ A는 경력에 따른 보상을, B는 성과에 따른 보상을 중시한다.

4. 다음 자료에 대한 옳은 설명만을 <보기>에서 있는 대로 고른 것은?

기자: ○○신문사 탐사 보도 공모전에서 입상한 □□동아리를 만나 보겠습니다. 세 분이 어떻게 함께하게 되었나요?

갑: ☆☆대학교 내 영화제작동아리 회원으로 저와 함께 활동하고 있는 병이 취업 준비를 위해 □□동아리를 만들었습니다. 인권 단체 회원으로 함께 활동 중인 을에게 제가 제안하여 합류하게 되었습니다.

기자: 공모전에 참여하면서 느낀 점이나 공모전 준비에 도움이 되었던 경험이 있다면 말씀해 주세요.

을: 저는 사회복지대학원에 재학 중입니다. 취재를 하면서 가족과 함께 하지 못하는 청소년들의 안타까운 사연을 접하고 청소년 복지의 필요성을 더 알고 싶어졌습니다.

병: 저는 갑과 함께 ☆☆대학교에 재학 중입니다. 갑과 함께 들었던 PD 초청 특강이 큰 도움이 되었습니다. 입상을 계기로 셋이 □□동아리 활동을 더 열심히 하려고 합니다.

<보 기>

ㄱ. 갑과 병 모두 비공식 조직에 속해 있다.
 ㄴ. 을과 병이 속한 2차적 사회화 기관은 각각 1개이다.
 ㄷ. 자료 전체에 적혀 있는 사회 집단에서 자발적 결사체가 아니면서 비공식적 사회화 기관인 것은 2개이다.

- ① ㄱ ② ㄴ ③ ㄱ, ㄷ ④ ㄴ, ㄷ ⑤ ㄱ, ㄴ, ㄷ

5. 다음 자료에 대한 설명으로 옳은 것은? [3점]

갑은 고등학생의 학업 성취도와 문해력 간의 관계를 파악하고자 하였다. 이를 위해 □□지역 고등학생 200명을 대상으로 질문지를 통해 학업 성취도와 ㉠ 문해력 수준을 측정하였다. 이 자료에서 문해력을 기준으로, 상위 100명(A 집단)과 하위 100명(B 집단)으로 구분하여 학업 성취도를 분석하였다. 그 결과 ㉡ B 집단의 학업 성취도가 A 집단의 학업 성취도보다 유의미하게 낮았다.

을은 ㉢ 독서 프로그램이 고등학생의 문해력 증진에 효과가 있을 것이라 생각하고 이를 알아보기 위해 다음과 같이 연구를 진행하였다. 그는 갑과 연구 대상자의 동의를 받아, 갑의 연구에서 문해력이 낮은 것으로 판명된 B 집단을 무작위로 50명씩 C 집단과 D 집단으로 나눈 후 C 집단에겐 4주간 ○○ 독서 프로그램을 적용하였다. 독서 프로그램 종료 시점에 갑이 활용한 측정 도구로 ㉣ 문해력 수준을 측정할 결과, C 집단의 문해력 수준은 유의미하게 높아졌으나 D 집단의 문해력 수준은 이전과 차이가 없었다. 이후 을은 D 집단에겐 ○○ 독서 프로그램을 4주간 적용하였다. 그 결과 D 집단의 문해력 수준이 높아져 최종적으로 ㉤ C 집단과 D 집단 간에는 문해력 수준이 유의미한 차이를 보이지 않았다.

- ① 갑의 연구에서 모집단은 □□지역 고등학생이다.
- ② ㉠은 을의 연구에서 사전 검사로 활용되었다.
- ③ ㉡은 문해력과 학업 성취도 간의 부(-)의 관계를 보여 준다.
- ④ ㉢은 을의 연구에서 실험 처치에 해당한다.
- ⑤ ㉤은 ㉣을 지지하는 근거로 사용할 수 없다.

2 (사회·문화)

사회탐구 영역

6. 밑줄 친 ㉠~㉣에 대한 설명으로 옳은 것은? [3점]

갑국에서는 손을 씻으면 영혼이 오염되어 목숨이 위험해진다는 ㉠ 전통적 믿음 때문에 손을 잘 씻지 않는 관습이 있었다. 이로 인해 많은 사람이 감염병으로 목숨을 잃었다. 한 의사가 손 씻기로 건강을 유지하고 생명을 지킬 수 있다는 사실을 알리면서 갑국의 A 지역에서는 ㉡ 손을 잘 씻는 문화가 형성되었다. ㉢ 이러한 문화가 조금씩 퍼져 나가자 대다수 갑국 사람들은 자신들의 믿음을 해친다는 이유로 A 지역 사람을 비난하며 ㉣ 자신들의 문화를 지키기 위해 저항하였다. 갑국에서 감염병이 유행했을 때, A 지역 사망률은 다른 지역에 비해 현저히 낮았다. 손 씻는 간단한 행위로 질병을 예방할 수 있다는 사실을 깨닫자 갑국에서는 ㉤ 손을 잘 씻어 위생 관리를 철저히 하는 생활 습관이 보편화되었다.

- ① ㉠은 지배 세력에 반발하여 사회 통합이 이루어진 사례이다.
- ② ㉡은 주류 문화가 하위문화로 변한 사례이다.
- ③ ㉢은 문화 변동이 빠르게 진행되어 나타난 문화 지체 사례이다.
- ④ ㉣은 지역 문화가 주류 문화에 대항한 반문화 사례이다.
- ⑤ ㉤은 하위문화가 주류 문화로 변한 사례이다.

7. 다음 글에서 필자가 강조하는 현대 사회의 대중이 가져야 할 자세로 가장 적절한 것은?

급변하는 세상에서 사람들은 무한히 제공되는 정보를 모두 살펴볼 여유가 없다. 그로 인해 사회 이슈를 직관적으로 이해할 수 있게 가공한 콘텐츠들이 인기를 얻는다. 사람들은 가공된 콘텐츠를 소비할 때 자신이 정보를 찾고 스스로 생각해 판단한다고 느낀다. 하지만 해당 콘텐츠에는 제작자의 편향된 시각이 반영되어 있어 정보를 받아들이는 대중은 제작자의 시각에 동화된다. 이처럼 사유를 외주화하는 사람들이 많아지면 비슷한 생각을 가진 사람들이 폐쇄적 집단에 머물며 다른 생각을 가진 사람들을 배척하는 상황이 발생한다. 이는 다원화된 민주 사회의 형성을 어렵게 만든다. 디지털 기술이 정보의 소비 선택성과 생산 주체성을 높여 줄 수는 있지만 그 자체가 지성적인 대중을 만드는 것은 아니다. 개인은 지성적 사유의 주체가 되어야 한다.

- ① 정보 기기에 대한 과도한 의존을 경계한다.
- ② 정보를 비판적으로 분석하고 평가하는 능력을 함양한다.
- ③ 문화의 질적 저하 방지를 위해 지나친 상업성을 경계한다.
- ④ 문화의 다양성 제고를 위해 콘텐츠 생산에 적극적으로 참여한다.
- ⑤ 표현의 자유를 이유로 타인의 권리를 침해하지 않도록 유의한다.

8. 밑줄 친 ㉠~㉣에 대한 설명으로 옳은 것은? [3점]

1970년대에 □□국제 시민 단체는 분유를 만드는 ○○다국적 기업에 대한 ㉠ 불매 운동을 전개하였다. ㉡ 저개발국에 분유를 무료로 나누어 주는 ○○다국적 기업의 공격적 마케팅으로 저개발국의 영아 사망률이 급격히 증가하였기 때문이다. 위생적인 환경이 갖추어지지 않은 저개발국에서 세균에 오염된 물과 젖병으로 인해 설사와 열병이 발생해 많은 아기가 사망하였다. ○○다국적 기업에 선의의 의도가 있었을지라도, 무분별한 시장 확대가 ㉢ 저개발국의 영아 건강을 심각하게 위협하는 결과를 초래한 것이다. 이로 인해 ○○다국적 기업이 영아 사망에 대해 책임을 져야 한다며 □□국제 시민 단체가 전 세계의 소비자들과 ㉣ 집단행동을 시작했다. 이를 계기로 여러 국제 시민 단체는 다국적 기업의 윤리적 책임을 요구하고, 나아가 환경 문제, 자원 문제와 같은 ㉤ 전 지구적 수준의 문제를 해결하기 위한 활동을 지속적으로 전개하고 있다.

- ① ㉠은 급격한 사회 변동에 저항하기 위해 펼치는 사회 운동이다.
- ② ㉡은 식량 자원 확보를 위한 국가 간 경쟁이 초래한 문제이다.
- ③ ㉢은 ○○다국적 기업의 이윤 추구를 정당화하는 근거가 된다.
- ④ ㉣은 사회 체제의 전면적인 변혁을 추구하는 사회 운동이다.
- ⑤ ㉤은 세계 시민 의식을 바탕으로 하는 조직적인 사회 운동이다.

9. 다음 자료에 대한 설명으로 옳은 것은? (단, A~E는 각각 공유성, 변동성, 전체성, 축적성, 학습성 중 하나임.) [3점]

교사: 문화의 속성 5가지를 모둠별로 서로 다르게 한 가지씩 배정 하였습니다. 각 모듬은 배정받은 속성이 부각된 사례를 웹툰 문화에서 찾아 발표해 봅시다.

- <1 모듬> 부모가 자녀에게 스마트폰을 활용하여 웹툰 앱을 이용하는 방법을 배우는 것은 A가 부각된 사례입니다.
- <2 모듬> 부모 세대에서 웹툰을 만화라고 부르고 만화가 보고 싶을 때 만화방을 떠올리는 것은 B가 부각된 사례입니다.
- <3 모듬> 만화책을 보는 사람이 줄어들고 태블릿 PC로 웹툰을 보는 사람이 늘어난 것은 C가 부각된 사례입니다.
- <4 모듬> 부모 세대에서 눈으로만 즐기던 만화에 음성 지원, 배경 음악 재생 기능 등이 추가된 현재의 웹툰은 D가 부각된 사례입니다.

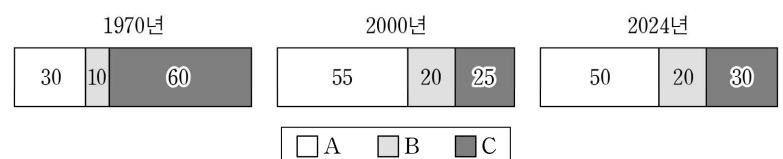
학생: 선생님, <2 모듬>의 발표 사례는 D가 부각된 것이 아닐까요?
교사: <2 모듬>의 사례는 D로도 설명이 가능하지만, 부모 세대에서 만화방을 떠올린다고 했기 때문에 B가 부각된 것이 맞습니다. <3 모듬>과 <4 모듬>은 발표한 사례가 서로 바뀌어야 각 모듬에 배정된 속성이 부각됩니다. <1 모듬>은 <5 모듬>에 배정된 속성이 부각된 사례를 발표했어요. A를 배정받은 <1 모듬>과 E를 배정받은 <5 모듬>은 다음 시간에 발표합니다.

- ① 문화가 한 사회 구성원의 공통된 생활 양식이라는 것을 의미하는 속성은 B가 아니라 A이다.
- ② 문화가 세대 간 전승되며 더욱 발전되고 풍부해지는 것을 의미하는 속성은 C가 아니라 D이다.
- ③ <1 모듬>에 배정된 속성은 문화의 각 요소들이 상호 유기적으로 연결되어 영향을 주고받는 것을 의미한다.
- ④ <2 모듬>에 배정된 속성은 공유성, <5 모듬>에 배정된 속성은 전체성이다.
- ⑤ 문화가 상징을 통해 후천적으로 학습된다는 것을 의미하는 속성은 <3 모듬>이 아니라 <4 모듬>에 배정되었다.

10. 다음 자료에 대한 분석으로 옳은 것은?

다음은 □□국 시기별 계층 구성 비율과 연령이 50대인 갑~무의 사회 이동 결과를 세대 간 이동과 세대 내 이동으로 구분하여 나타낸 것이다. 단, 세대 간 이동은 부모 계층과 본인의 현재 계층 비교로, 세대 내 이동은 본인의 24년 전 계층과 현재 계층 비교로 판단한다. A~C는 각각 상승, 중층, 하층 중 하나이다.

<자료 1> 시기별 계층 구성 비율(%)



<자료 2> 갑~무의 사회 이동 결과

구분	부모 계층 (1970년)			구분	본인의 24년 전 계층 (2000년)		
	A	B	C		A	B	C
본인의 현재 계층 (2024년)	A	정		본인의 현재 계층 (2024년)	A	정	
	B	을	무		B	을	무
	C	병	갑		C	갑	병

* 갑의 부모 계층(1970년)은 상승이며, 갑의 세대 간 이동과 세대 내 이동은 모두 하강 이동임.

- ① 1970년 계층 구조는 2000년 계층 구조보다 사회 안정성이 높다.
- ② 2000년은 다이아몬드형, 2024년은 모래시계형 계층 구조이다.
- ③ 을은 세대 간 상승 이동과 세대 내 하강 이동을 하였다.
- ④ 정은 세대 간 이동과 세대 내 이동 모두 상승 이동을 하였다.
- ⑤ 병은 세대 간 하강 이동을 하였고, 무는 세대 내 상승 이동을 하였다.

11. 다음 자료에 대한 설명으로 옳은 것은?

㉠ 대부분의 사회에는 고인(故人)을 떠나보낼 때 치르는 의례가 존재하며, 세계 각지에는 다양한 ㉡ 장례 문화가 있다. ○○족은 깊은 산이나 들녘에 서 있는 ㉢ 나무 위에 시신을 두는 방식으로 장례를 치른다. 어떤 사람들은 이런 방식을 ㉣ 자신의 문화를 기준으로 비인간적이고 기이한 관습이라 폄하한다. 하지만 ○○족의 장례 문화는, 조상의 정령이 후손을 외부의 위협으로부터 보호해 준다는 ㉤ 종교적 믿음의 결과물이다. 이처럼 해당 사회의 맥락에서 각 문화가 갖는 고유한 의미를 파악하려면 (가) 하는 태도를 지녀야 한다.

- ① ㉠은 문화의 특수성을 나타낸다.
- ② ㉡에서 '문화'는 좁은 의미의 문화이다.
- ③ ㉢은 비물질문화에, ㉣은 물질문화에 해당한다.
- ④ ㉤과 같은 태도는 국수주의로 변질될 수 있다는 비판을 받는다.
- ⑤ (가)에는 '자기 문화를 낮추고 타 문화의 우수성을 동경'이 적절하다.

12. 다음 글에서 개인과 사회의 관계를 바라보는 필자의 관점에 대한 옳은 설명만을 <보기>에서 고른 것은?

계산적 심성은 개인들이 일상에서 결과를 예측하고 최선의 수단을 선택하여 합목적적으로 행동하도록 한다. 국가 관료제에 기반을 둔 행정과 로마법에 기초한 법률은 서구인들로 하여금 합목적적으로 행동하도록 하였다. 이렇게 서구 사회의 행정과 법률에 의해 만들어진 계산적 심성은 근대적 경제 성장을 이끌었다.

<보 기>
 가. 사회에 의해 개인은 구조화된 행동을 한다고 본다.
 나. 사회의 속성은 개인의 속성에 의해 결정된다고 본다.
 다. 사회는 개인 외부에 존재하는 독립적인 실체라고 본다.
 리. 사회는 개인 이익을 실현해 주는 도구일 뿐이라고 본다.

- ① 가, 나 ② 가, 다 ③ 나, 다 ④ 나, 리 ⑤ 다, 리

13. 갑~병이 사용한 자료 수집 방법에 대한 설명으로 옳은 것은? [3점]

- 갑은 청소년이 휴대 전화에 부여하는 의미를 파악하기 위해 ○○ 고등학교 학생의 일상생활을 관찰한 연구 기관의 보고서를 분석함. 이후 휴대 전화 의존도가 높은 학생들에게 질문하여 사용 용도와 중독 증상 등에 대한 이야기를 깊이 있게 나누고 이 과정을 녹음함.
- 을은 팬덤 문화 연구를 위해 ☆☆ 야구단의 팬클럽에 가입하여 6개월간 회원들과 경기를 관람하며 그들의 대화와 응원 모습을 기록함. 이후 아이돌 팬클럽의 열성팬을 대상으로 그들만의 친밀한 관계를 형성한 경험을 직접 듣고 심층적인 자료를 얻음.
- 병은 대학생의 정치 성향과 정치 참여 연구를 위해 대학생 500명을 대상으로 구조화된 문항에 응답하도록 함. 또한 선거 관련 기관이 발간한 대학생 정치 성향 면접 조사 자료집을 분석하여 대학생의 정치 참여 과정을 연구함.

- ① 갑과 달리 을은 표준화된 도구로 대량의 자료를 획득하기 용이한 자료 수집 방법을 사용하였다.
- ② 병과 달리 갑은 인위적으로 통제된 상황에서 변수의 효과를 관찰하는 자료 수집 방법을 사용하였다.
- ③ 갑과 을 모두 현장에서 연구 대상자와 함께 생활하며 관심을 갖는 연구 현상을 관찰하는 자료 수집 방법을 사용하였다.
- ④ 갑과 병 모두 기존의 연구 결과물을 자신의 연구에 활용하는 자료 수집 방법을 사용하였다.
- ⑤ 을과 병 모두 연구 대상자와의 정서적 교감 형성을 중시하는 자료 수집 방법을 사용하였다.

14. 다음은 일탈 이론 A~D를 구분하는 질문에 대한 학생의 분류와 교사의 채점 결과이다. 이에 대한 설명으로 옳은 것은? (단, A~D는 각각 뒤르켐의 아노미 이론, 머튼의 아노미 이론, 차별 교제 이론, 낙인 이론 중 하나임.) [3점]

※ 질문에 따라 A, B, C, D를 '예', '아니오'로 분류하여 해당하는 칸에 적으시오.

질문	예	아니오	채점 결과
일탈자가 부정적 자아를 내면화하는 과정에 주목하는가?	B, C	A, D	3점
타인과의 상호 작용이 일탈에 미치는 영향을 강조하는가?	B, D	A, C	2점
일탈을 규정하는 객관적인 기준이 존재한다고 보는가?	B, D	A, C	1점
문화적 목표와 제도적 수단 간의 괴리가 일탈의 원인이라고 보는가?	B, C	A, D	3점

* 질문별로 채점하며, 맞게 적은 이론에는 각 1점을, 틀리게 적은 이론에는 각 0점을 부여함. 질문별 만점은 4점임.

- ① A의 사례로 신입 사원이 비리를 저지르는 회사 선배들과 어울리면서 죄의식이 사라져 부정행위를 같이 하는 경우를 들 수 있다.
- ② B의 사례로 한탕주의로 쉽게 돈을 버는 사람을 보고 부자가 되고 싶은 실업자가 불법 도박에 빠지는 경우를 들 수 있다.
- ③ C의 사례로 학교 폭력 가해 사실로 징계를 받은 학생이 스스로를 문제아로 인식하고 범죄를 저지르는 경우를 들 수 있다.
- ④ B와 달리 D는 정상 집단과의 교류를 일탈의 해결책으로 본다.
- ⑤ D와 달리 A는 사회 규범의 통제력 강화를 일탈의 해결책으로 본다.

15. 다음 자료에 대한 분석으로 옳은 것은? (단, A, B는 각각 공공 부조와 사회 보험 중 하나임.)

갑국에는 사회 보장 제도 A, B만 존재하며, A, B는 우리나라의 사회 보장 제도와 동일하다. A는 사전 예방적 성격이 강한 제도이고, B는 사후 처방적 성격이 강한 제도이다.

표는 갑국의 (가)~(다) 지역별 전체 인구 중 A, B 수급자 비율 및 비(非)수급자 비율을 나타낸 것이다. 비(非)수급자는 A나 B 중 어느 것도 받지 않는 사람으로서, A나 B의 복지 혜택이 필요하지만 수급 자격 조건에 미달하여 받지 못하는 사람(탈락자)과 비(非)수급자에서 탈락자를 제외한 사람(비(非)탈락자)으로 구성된다. 단, (가)~(다) 지역의 중복 수급자 수는 동일하다.

(단위: %)

구분	A 수급자	B 수급자	중복 수급자	비(非)수급자	
				탈락자	비(非)탈락자
(가) 지역	73	20	㉠	12	10
(나) 지역	72	28	15	5	㉡
(다) 지역	50	㉢	10	8	32

* 중복 수급자: A 수급자이면서 동시에 B 수급자인 사람

- ① ㉠은 (나) 지역의 선별적 복지의 성격이 강한 제도에만 해당하는 수급자 비율보다 작다.
- ② ㉡은 (가) 지역의 부정적 낙인이 발생할 수 있는 제도에만 해당하는 수급자 비율과 같다.
- ③ ㉢은 (다) 지역의 상호 부조의 원리가 적용되는 제도에만 해당하는 수급자 비율의 2배이다.
- ④ (가) 지역의 탈락자 수보다 (나) 지역의 비(非)탈락자 수가 많다.
- ⑤ 금전적 지원을 원칙으로 하는 제도의 수급자 수는 (다) 지역이 가장 많다.

4 (사회 · 문화)

사회탐구 영역

16. 다음 자료에 대한 옳은 설명만을 <보기>에서 고른 것은? (단, A, B는 각각 기능론과 갈등론 중 하나임.) [3점]

<확인 평가>

○ 제시된 '진위 판단'에 부합하도록 빈칸을 채워 진술을 완성하십시오.

진위 판단	진위 판단에 부합하는 진술	채점 결과
참	A와 달리 B는 희소 자원의 차등 분배가 개인의 성취동기에 긍정적으로 작용한다고 본다.	0점
거짓	B와 달리 A는 (가)	①

* 교사는 완성한 진술별로 채점하고, 제시된 '진위 판단'에 부합하도록 진술을 완성한 경우에는 1점을, 그렇지 않은 경우에는 0점을 부여함.

<보 기>

ㄱ. A는 직업 유형 간 사회적 중요도의 차이가 없다고 본다.
 ㄴ. B는 사회 불평등 현상을 제거해야 하는 대상이라고 본다.
 ㄷ. (가)에 '개인의 귀속적 요인이 사회 불평등에 미치는 영향력을 중시한다.'가 들어간다면, ①은 '0점'이다.
 ㄹ. ①이 '1점'이라면, (가)에 '사회적 희소가치의 분배 기준은 사회 전체가 합의한 것이라고 본다.'가 들어갈 수 없다.

- ① ㄱ, ㄴ ② ㄱ, ㄷ ③ ㄴ, ㄷ ④ ㄴ, ㄹ ⑤ ㄷ, ㄹ

17. 다음 자료에 대한 설명으로 옳은 것은? [3점]

□□ 국은 소수이지만 지배층을 이루는 A족과 다수이지만 지배를 받는 B족으로 구성되어 있었다. A족 출신 직업 군인인 갑은 ㉠ 자신에게 주어진 업무 처리를 위해 철저히 준비하여 조직에서 우수한 성과를 내었다. 빠른 진급을 하며 승승장구하던 갑은 훈련 도중 불의의 사고로 장애 판정을 받아 더 이상 군 생활을 할 수 없었다. 이후 다른 직종에 취업하려 했으나 장애인에 대한 사회적 편견으로 인해 늘 거절당했다. 갑이 생활의 어려움을 겪던 중 □□ 국에서 대다수를 이루는 B족이 권력을 장악하게 되었다. B족은 권력의 정통성을 확보하기 위해 A족에게 인종 차별 정책을 시행하였다. 인종 차별까지 겪은 갑은 ㉡ □□ 국에서 생활을 계속해야 할지 차별이 없는 다른 나라로 이주해야 할지 고민하였다.

- ① ㉠은 갑의 예기 사회화이다.
 ② ㉡은 갑의 역할 갈등이다.
 ③ 갑은 생득적 요인과 후천적 요인에 따른 차별을 모두 경험하였다.
 ④ A족과 달리 B족은 수적인 열세로 인해 차별을 받았다.
 ⑤ B족과 달리 A족은 사회적 소수자 우대 정책으로 역차별을 받았다.

18. 다음 글에서 사회 변동의 방향을 바라보는 필자의 관점에 대한 옳은 설명만을 <보기>에서 고른 것은?

인간이 찾아낸 과학적 지식은 자연이 가하는 제약으로 만들어진 원시적인 미신과 선입견, 오류를 극복하는 과정에서 축적되고 정해진 하나의 방향을 향해 진전하며 확장한다. 문명의 전개도 근대 과학의 이러한 과정과 유사하다.

<보 기>

ㄱ. 서구 중심적 사고라는 비판을 피하기 어렵다.
 ㄴ. 사회 변동 방향을 예측하여 대응하기 어렵다.
 ㄷ. 지속적으로 발전하는 사회를 설명하기 용이하다.
 ㄹ. 인류 문명의 흥망성쇠 역사를 설명하기 용이하다.

- ① ㄱ, ㄴ ② ㄱ, ㄷ ③ ㄴ, ㄷ ④ ㄴ, ㄹ ⑤ ㄷ, ㄹ

19. 다음 자료에 대한 설명으로 옳은 것은?

A국 디저트 열풍에 대한 조사

<p>● A국에서 유행하는 B국의 고급 초콜릿 디저트</p> <p>B국의 상류 사회에서 즐겨 먹던 고급 초콜릿을 B국에 여행을 다녀온 A국 사람들이 기념 선물로 들여 오면서 A국에서 다수가 좋아하는 디저트가 됨.</p> <p>작성자: 갑</p>	<p>● A국의 전통 음식을 재해석한 복고풍 디저트</p> <p>A국 연예인이 자국의 인기 있는 TV 프로그램에서 사라진 전통 음식을 찾아 젊은 세대의 입맛에 맞는 독특한 디저트를 만들어 소개함. 이후 이 디저트는 A국의 여러 세대에서 즐겨 먹는 다양한 디저트 중 하나가 됨.</p> <p>작성자: 을</p>	<p>● A국 사람들이 정보를 공유하며 즐겨 먹는 C국 디저트</p> <p>C국 유명 요리사가 자국의 전통 디저트를 판매하는 카페를 A국에 차리면서 SNS를 통해 카페 정보가 A국 사람들에게 공유됨. A국 사람들이 이 디저트를 즐겨 새로운 음식 문화로 정착됨.</p> <p>작성자: 병</p>
--	--	---

- ① 갑이 작성한 내용에는 문화 동화가 나타난다.
 ② 을이 작성한 내용에는 자발적 문화 접변이 나타난다.
 ③ 병이 작성한 내용에는 직접 전파가 나타난다.
 ④ 갑과 달리 을, 병이 작성한 내용에는 문화 공존이 나타난다.
 ⑤ 갑, 을과 달리 병이 작성한 내용에는 문화 융합이 나타난다.

20. 다음 자료에 대한 분석으로 옳은 것은? [3점]

갑국 t년의 부양 인구(15~64세 인구)는 노년 인구의 7배이며, 노령화 지수는 50이다. 표는 기간별 인구 변화 양상을 나타낸 것으로 A 기간은 t년 대비 t+30년으로, B 기간은 t+30년 대비 t+50년으로 하여 분석하였다. 단, A 기간과 B 기간 동안 전체 인구의 변화는 없다.

구분	A 기간	B 기간
노령화 지수 증가율(%)	60	50
노년 인구 증가율(%)	100	50

* 노령화 지수 = $\frac{\text{노년 인구}(65\text{세 이상 인구})}{\text{유소년 인구}(0\sim 14\text{세 인구})} \times 100$

<조건>

- 노동력 부족 정도, 세대 간 갈등 정도, 양육에 대한 사회적 부담 정도는 아래의 조건으로만 각각 판단한다.
- 노동력 부족 정도는 부양 인구와 부(-)의 관계에 있다.
 - 세대 간 갈등 정도는 노년 부양비와 정(+)의 관계에 있다.
 - 양육에 대한 사회적 부담 정도는 유소년 부양비와 정(+)의 관계에 있다.

* 노년(유소년) 부양비 = $\frac{\text{노년(유소년) 인구}}{\text{부양 인구}} \times 100$

- ① A 기간에 유소년 인구는 감소하고 노년 인구는 증가하였다.
 ② B 기간에 부양 인구와 노년 인구는 모두 증가하였다.
 ③ A 기간과 B 기간에 증가한 노년 인구는 동일하다.
 ④ 양육에 대한 사회적 부담 정도는 t+50년보다 t+30년이 크다.
 ⑤ 노동력 부족 정도는 t+50년보다 t+30년이, 세대 간 갈등 정도는 t+30년보다 t+50년이 크다.

* 확인 사항

- 답안지의 해당란에 필요한 내용을 정확히 기입(표기)했는지 확인 하시오.

2025학년도 대학수학능력시험

사회탐구 영역 정답표
(사회·문화) 과목

문항 번호	정 답	배 점	문항 번호	정 답	배 점	문항 번호	정 답	배 점	문항 번호	정 답	배 점
1	①	2	6	⑤	3	11	④	2	16	④	3
2	⑤	3	7	②	2	12	②	2	17	③	3
3	①	2	8	⑤	3	13	④	3	18	②	2
4	③	2	9	③	3	14	①	3	19	③	2
5	②	3	10	⑤	2	15	⑤	2	20	③	3