

제 4 교시

한국사 영역

흘수형

1. (가) 시대의 사회 모습으로 옳은 것은?

**(가) 시대 생활 체험 축제**

주먹도끼, 스페찌르개 등 뎀석기를 사용하던 (가) 시대의 모습을 다양한 프로그램을 통해 체험해 보세요.

○기간: 2024년 ○○월 ○○일 ~ ○○일  
○장소: □□ 박물관  
○프로그램 구성

장소	프로그램	내용
전시관	학예사와 함께 하는 유물 관람	■ 주먹도끼, 스페찌르개 등의 제작 방법과 용도 해설
영상관	유적지 VR 체험	■ 가상 공간에서 공주 석장리 유적 둘러보기
야외 체험관	생활 체험	■ 마찰열을 이용하여 불 피우기 ■ 나뭇가지, 가죽 등을 활용하여 막집 만들기


- ① 율령을 반포하였다.
- ② 철제 농기구를 보급하였다.
- ③ 비파형 동검을 제작하였다.
- ④ 고추, 인삼 등 상품 작물을 재배하였다.
- ⑤ 사냥과 채집을 하며 이동 생활을 하였다.

2. (가) 국가의 문화에 대한 설명으로 옳은 것은? [3점]

OO 박물관

박물관 소개  
특별전  
소장품 소개  
공지 사항

■ 『제왕운기』



이 책은 (가)의 이승휴가 쓴 역사시(歷史詩)로 상·하 양권으로 구성되어 있다. 상권은 중국의 역사를 신화에서부터 원(元) 왕조의 성립까지, 하권은 우리나라의 역사를 단군부터 (가) 충렬왕까지 서술하고 있다. 이 책은 우리 역사의 시작을 단군으로 설정했다는 점에서 귀중한 문헌 자료로 평가되고 있다.

- ① 국자감이 설립되었다.
- ② 북학론이 제기되었다.
- ③ 육영 공원이 설치되었다.
- ④ 조선어 학회가 결성되었다.
- ⑤ 한국독립운동지혈사가 편찬되었다.

3. (가) 국가에 대한 설명으로 옳은 것은? [3점]

개로왕이 북위에 사신을 보내 표(表)를 올렸다. “우리과 (가) 은/는 모두 부여에서 나왔으므로 서로 옛정을 굳건히 존중하였는데, 그들의 선조인 쇄(劄, 고국원왕)가 이웃과의 우호를 깨버리고 우리의 국경을 짓밟았습니다. 이에 우리의 선조께서 평양성을 공격하여 쇄를 죽였습니다. … (중략) … 지금 (가) 의 연(璦, 장수왕)이 죄가 있어 나라는 엉망이 되었고, 백성들은 이리저리 흩어지고 있습니다. 이는 멸망시킬 기회이며 폐하의 도움을 받아야 할 때입니다.”

- ① 조사 시찰단을 파견하였다.
- ② 도병마사를 설치하였다.
- ③ 수의 침략을 막아 냈다.
- ④ 전국을 8도로 나누었다.
- ⑤ 대가야를 정복하였다.

4. 밑줄 친 ‘이 시기’에 있었던 사실로 옳은 것은?

OO고등학교 한국사 수업 교실


수행 과제: 고려 무신들이 100년에 걸쳐 권력을 장악했던 이 시기의 대표적인 인물과 활동을 조사해서 올려 주세요.

◇◇◇ 정중부 이의방과 함께 정변을 일으켜 새로운 왕을 옹립하였어요.	□□□ 최충헌 도방을 더 큰 규모로 재건하고, 교정도감이라는 기구를 설치하였어요.	△△△ 최우 정방을 통해 인사권을 장악하였고, 몽골의 침략에 대항하였어요.
---	--	--

- ① 골품제가 운영되었다.
- ② 한인 애국단이 조직되었다.
- ③ 수도가 강화도로 옮겨졌다.
- ④ 백두산정계비가 건립되었다.
- ⑤ 이른바 남한 대토벌 작전이 전개되었다.

5. 밑줄 친 ‘이 왕’에 대한 설명으로 옳은 것은?

특별 기획전 <국왕의 도장> 전시를 정보



이것은 영조에 이어 즉위한 이 왕이 사용한 장서인 중 2개이다. 장서인은 자신이 소장한 서책에 찍는 도장을 일컫는다. ‘탕평탕평’이라고 새겨진 이 장서인들은 봉당 간의 대립을 완화하고자 했던 이 왕의 탕평 정책 추진 의지를 엿볼 수 있는 자료이다.

- ① 규장각을 육성하였다.
- ② 후삼국을 통일하였다.
- ③ 당백전을 발행하였다.
- ④ 경국대전을 반포하였다.
- ⑤ 쌍성총관부를 회복하였다.

6. (가) 인물의 활동으로 옳은 것은? [3점]



- ① 녹읍을 폐지하였다.
- ② 별무반을 편성하였다.
- ③ 대동법을 시행하였다.
- ④ 위화도 회군을 단행하였다.
- ⑤ 통리기무아문을 설치하였다.

7. 밑줄 친 '변란'의 영향으로 가장 적절한 것은?



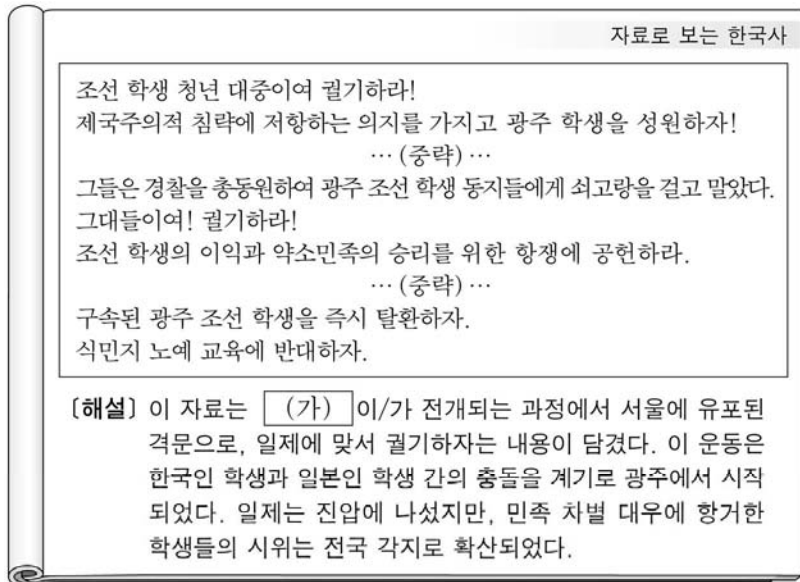
- ① 6·3 시위가 전개되었다.
- ② 수선사 결사가 제창되었다.
- ③ 물산 장려 운동이 일어났다.
- ④ 국민 대표 회의가 개최되었다.
- ⑤ 조청 상민 수륙 무역 장정이 체결되었다.

8. (가)에 대한 설명으로 옳은 것은? [3점]

일본이 제1차 한일 협약을 체결하여 고문 정치의 서막을 열고 재정·외교를 감시하더니, 이후에 (가)을/를 체결해서 외교를 주관하게 되었다. 이에 조선의 우국지사가 시국이 날로 그릇되는 것을 목도하고 비분강개하는 사이에 민영환을 비롯한 강직한 신하가 자결하고, 최익현과 같은 절의를 지닌 사람이 거병(擧兵)하여 천하가 떠들썩한 중에 일대 큰일이 돌연히 일어나니, 즉 이상설 등의 특사 사건이다.

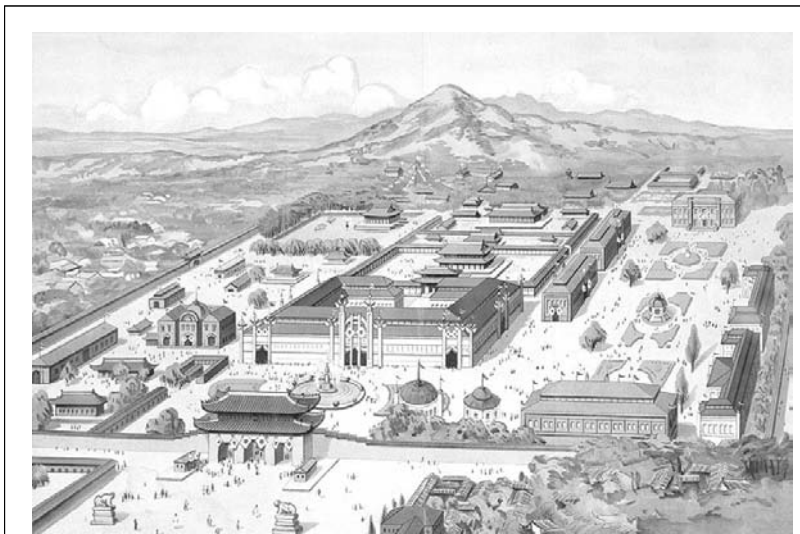
- ① 베트남 파병의 배경이 되었다.
- ② 통감부가 설치되는 근거가 되었다.
- ③ 강동 6주를 확보하는 계기가 되었다.
- ④ 최혜국 대우를 처음으로 규정하였다.
- ⑤ 북벌론이 대두하는 데 영향을 끼쳤다.

9. (가) 운동에 대한 설명으로 옳은 것은? [3점]



- ① 3·1 운동에 영향을 주었다.
- ② 순종의 장례일을 기해 일어났다.
- ③ 학생 김주열의 사망으로 격화되었다.
- ④ 김옥균 등 급진 개화파가 주도하였다.
- ⑤ 신간회가 조사단을 파견하여 지원하였다.

10. (가) 시기에 있었던 사실로 옳은 것은?



자료는 경복궁에서 열린 '시정(始政) 5년 기념 조선 물산 공진회' 홍보지의 삽화이다. 일제는 한국인을 무력으로 굴복시키고자 헌병 경찰제를 시행하던 (가) 시기에 이러한 행사를 열어 식민 통치를 미화하려 하였다. 삽화에서 볼 수 있듯이 일제는 궁궐 내 수많은 전각들을 파괴하고 그 자리에 행사장을 조성함으로써 조선 왕조를 상징하는 공간을 의도적으로 훼손하였다.

- ① 삼청 교육대가 운영되었다.
- ② 전민변정도감이 설치되었다.
- ③ 토지 조사 사업이 실시되었다.
- ④ 임술 농민 봉기가 발생하였다.
- ⑤ 지계아문에서 지계가 발급되었다.



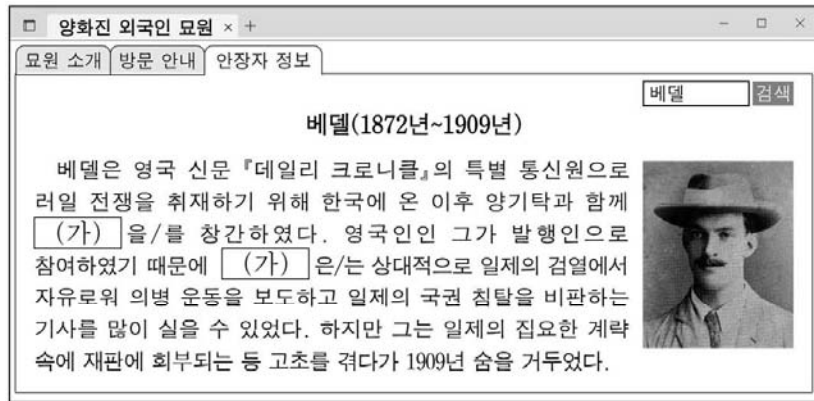
11. (가), (나) 시기 사이에 있었던 사실로 옳은 것은? [3점]

(가) 왕이 종묘에 나아가 다음과 같이 고하였다. “... (중략) ... 짐은 홍범 14조를 하늘에 계신 선대 왕들의 신령께 고하면서 그들이 남기신 업적을 우러러 능히 공적을 이룩하고 감히 어기지 않을 것이니, 밝은 신령께서는 굽어 살피시기 바랍니다.”

(나) 왕이 의심과 두려움을 이기지 못하고 새벽에 궁녀가 타는 가마를 이용하여 몰래 건춘문을 나와 러시아 공사관으로 거처를 옮겼다. ... (중략) ... 궁궐 내에서는 알아차리지 못했고, 내각 또한 알지 못했다. 왕이 러시아 공사관에 도착한 때는 대략 오전 7시 20분쯤이었다.

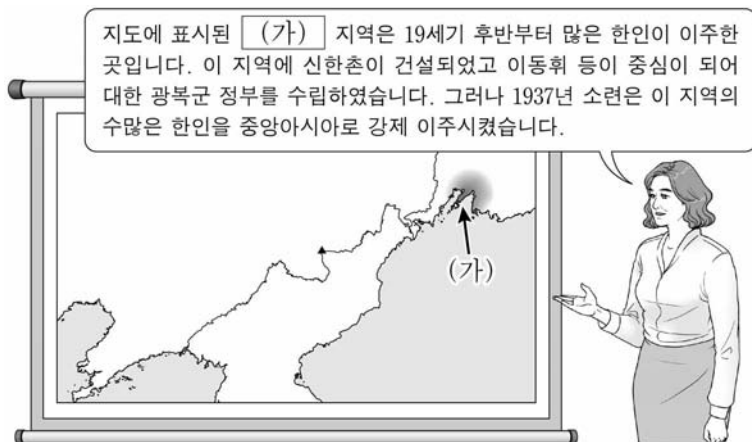
- ① 영국이 거문도를 불법 점령하였다.
- ② 대한국 국제가 제정되었다.
- ③ 정묘호란이 발생하였다.
- ④ 삼별초가 봉기하였다.
- ⑤ 을미사변이 일어났다.

12. (가) 신문에 대한 설명으로 옳은 것은?



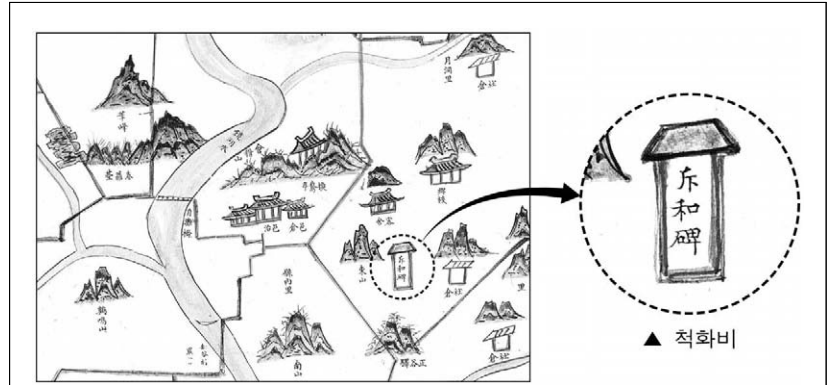
- ① 박문국에서 발간되었다.
- ② 브나로드 운동을 주도하였다.
- ③ YH 무역 사건을 보도하였다.
- ④ 국채 보상 운동을 지원하였다.
- ⑤ 독립문 건립에 영향을 주었다.

13. (가) 지역에서 있었던 사실로 옳은 것은? [3점]



- ① 권업회가 조직되었다.
- ② 조선 형평사가 결성되었다.
- ③ 신흥 강습소가 설립되었다.
- ④ 청산리 전투가 전개되었다.
- ⑤ 윤봉길의 홍커우 공원 의거가 일어났다.

14. 밑줄 친 '이 사건'에 대한 탐구 활동으로 가장 적절한 것은? [3점]



이 지도는 1872년 제작된 경상도 산청현 지도의 일부이다. 여기에는 당시 사회적 상황을 알 수 있는 다양한 정보들이 나타나 있는데, 그중 하나가 관아 부근에 건립된 척화비이다. 척화비는 미국의 군대가 강화도를 침입한 이 사건 이후 전국 각지에 건립된 것으로, 당시 조선 정부의 통상 수교 거부 의지를 확인할 수 있다.

- ① 정동행성이 설치된 원인을 조사한다.
- ② 원산 총파업의 전개 과정을 살펴본다.
- ③ 제너럴셔먼호 사건의 영향을 알아본다.
- ④ 민립 대학 설립 운동의 배경을 분석한다.
- ⑤ 3·1 민주 구국 선언의 내용을 찾아본다.


15. (가) 군사 조직에 대한 설명으로 옳은 것은?

○ 대한민국 임시 정부는 영국군의 요구에 응하여 (가)의 대원 일부를 인도에 파견하였다. 연합국이 이 군대에 공작 임무를 맡긴 것은 1940년 창설 이래 쌓은 훈련의 성과를 인정한 것이다. 조선 민족의 능력을 발휘하여 일본 제국주의를 박멸하는 것은 연합국의 목적인 동시에 우리의 책임이다.

○ 일본군이 인도의 임팔 인근까지 접근하였다. 이에 우리 (가) 공작대 대원들은 그들에게 가까이 다가가 일본어로 방송하였으며 선전문을 살포하였다. 또한 대원들은 일본군 문서를 번역하고 포로를 심문하면서 영국군과 함께 작전을 전개하였다.

- ① 봉오동 전투에 참여하였다.
- ② 국내 진공 작전을 계획하였다.
- ③ 양세봉의 지휘하에 활동하였다.
- ④ 고종의 밀명을 받아 조직되었다.
- ⑤ 자유시 참변으로 피해를 입었다.

16. 밑줄 친 '이 시기'에 볼 수 있는 모습으로 가장 적절한 것은?



이 사진은 일제가 탐골 공원의 문을 뜯어내는 장면이다. 일제는 중일 전쟁을 일으키고 침략 전쟁을 확대 하던 이 시기에 사진과 같이 금속 소재로 제작된 문과 현판, 울타리 등도 가져가 군수 물자로 활용하였다. 또한 애국반과 같은 조직을 활용하여 금속류에 대한 공출을 실시하였다.

- ① 비변사에서 회의하는 관리
- ② 신사 참배에 동원되는 학생
- ③ 홍경래의 난에 참여하는 농민
- ④ 13도 창의군을 이끄는 의병장
- ⑤ 전태일 분신 사건을 취재하는 기자

17. 다음 자료에 나타난 민주화 운동의 결과로 옳은 것은? [3점]

**행동하는 국민 속에 박종철은 부활한다!**

국민 여러분!  
4·13 호헌 조치는 우리 국민들의 민주화 열망의 죽음이었습니다. ... (중략) ... 호헌으로 돌아서는 자들이 군림하고 있는 한, 박종철 군의 영혼은 편안히 잠들지 못할 것입니다. 오로지 스스로 자신의 민주 권리를 쟁취하고자 하는 국민 여러분의 행동 속에서 박 군은 되살아날 것입니다. 민주화 없이 울림픽 없습니다. 나아갑시다. 민주 헌법 쟁취를 위해, 이 땅의 민주화를 위해 함께 행동합시다.

- ① 군국기무처가 설치되었다.
- ② 치안 유지법이 공포되었다.
- ③ 내각 책임제 정부가 출범하였다.
- ④ 대통령 직선제 개헌이 이루어졌다.
- ⑤ 통일 주체 국민 회의가 구성되었다.

18. 다음 사건이 일어난 정부 시기에 있었던 사실로 옳은 것은?

【한국사 속 오늘】

1월 22일 3당 합당 발표

19△△년 1월 22일은 '3당 합당'이 발표된 날이다. 제13대 국회 의원 선거에서 야당의 의석수가 집권 여당보다 많은 이른바 '여소야대' 국면이 조성되었다. 하지만 국정의 주도권을 쥐려는 여당인 민주 정의당이 통일 민주당, 신민주 공화당 등 두 야당과 통합하여 과반수 이상의 의석을 차지하는 민주 자유당을 창당하였다.

- ① 6·15 남북 공동 선언이 발표되었다.
- ② 국가 재건 최고 회의가 조직되었다.
- ③ 남북 기본 합의서가 채택되었다.
- ④ 좌우 합작 위원회가 결성되었다.
- ⑤ 윤요호 사건이 일어났다.

19. 다음 상황이 나타난 시기를 연표에서 옳게 고른 것은? [3점]

어제 21일 김규식은 출발에 앞서 이번 북행(北行)에 대한 소견을 다음과 같이 피력하였다. “나와 김구 선생은 우리의 손으로써 조국을 통일시켜야 한다는 데서 남북 협상을 제안하였던 것이다. ... (중략) ... 우리는 안으로 민족의 통일을 성취시키고, 밖으로 연합국의 협조를 통하여 우리의 자주독립을 이루기 위하여 다음과 같은 원칙을 제시할 예정이다.

1. 어떠한 형태의 독재 정치라도 이를 배격하고 진정한 민주주의 국가를 건립할 것.
- ... (중략) ...
5. 미·소 양군의 조속한 철수에 관해서는 우선 양군 당국이 철수 조건 및 기일 등을 협정하여 공포하라고 주장할 것.”

	(가)	(나)	(다)	(라)	(마)
조선 건국 동맹 조직	8·15 광복	제헌 국회 출범	정전(휴전) 협정 체결	5·16 군사 정변	3선 개헌

- ① (가)      ② (나)      ③ (다)      ④ (라)      ⑤ (마)

20. 다음 자료를 활용한 탐구 주제로 가장 적절한 것은?

저는 경제 대국으로 발전해 가는 한국이 '나의 고향'이라는 자부심을 간직하여 왔습니다. 뜻밖에도 고국이 경제 위기에 처했다는 소식을 듣고 크게 놀랐습니다. 어느덧 해가 바뀌면서 '아이엠에프(IMF)' 한파로 공공 얼어붙었던 고국의 경제 상황이 조금씩 풀려 가고 있다는 보도가 무선 전파를 통하여 이곳 머나먼 만주 땅까지 전해져 오고 있습니다. ... (중략) ... 저는 해외 동포의 일원으로서, 더욱이 조국 독립을 위하여 일제와 용감히 싸우다 순국하신 독립운동가의 후손으로서 고국의 경제 위기에 조그마한 도움이라도 되기를 바라면서 미화 30달러를 보내오니 반가이 받아 주십시오.

- 1998년 1월, 중국 헤이룽강성에서 -

- ① 외환 위기의 극복 노력
- ② 암태도 소작 쟁의의 전개
- ③ 화폐 정리 사업 실시의 영향
- ④ 동양척식주식회사의 설립 목적
- ⑤ 제1차 경제 개발 5개년 계획의 추진 배경

\* 확인 사항

- 답안지의 해당란에 필요한 내용을 정확히 기입(표기)했는지 확인 하시오.



제 4 교시

한국사 영역

짜수형

1. (가) 시대의 사회 모습으로 옳은 것은?

**(가) 시대 생활 체험 축제**

주먹도끼, 스펀지돌 등 선사기를 사용하던 (가) 시대의 모습을 다양한 프로그램을 통해 체험해 보세요.

○기간: 2024년 ○○월 ○○일 ~ ○○일  
○장소: □□ 박물관  
○프로그램 구성

장소	프로그램	내용
전시관	학예사와 함께 하는 유물 관람	■ 주먹도끼, 스펀지돌 등의 제작 방법과 용도 해설
영상관	유적지 VR 체험	■ 가상 공간에서 공주 석장리 유적 둘러보기
야외 체험관	생활 체험	■ 마찰열을 이용하여 불 피우기 ■ 나뭇가지, 가죽 등을 활용하여 막집 만들기


- ① 율령을 반포하였다.
- ② 철제 농기구를 보급하였다.
- ③ 비파형 동검을 제작하였다.
- ④ 고추, 인삼 등 상품 작물을 재배하였다.
- ⑤ 사냥과 채집을 하며 이동 생활을 하였다.

2. (가) 국가의 문화에 대한 설명으로 옳은 것은? [3점]

**OO 박물관**

박물관 소개 | 특별전 | 소장품 소개 | 공지 사항

■ 『제왕운기』



이 책은 (가)의 이승휴가 쓴 역사시(歷史詩)로 상·하 양권으로 구성되어 있다. 상권은 중국의 역사를 신화에서부터 원(元) 왕조의 성립까지, 하권은 우리나라의 역사를 단군부터 (가) 충렬왕까지 서술하고 있다. 이 책은 우리 역사의 시작을 단군으로 설정했다는 점에서 귀중한 문헌 자료로 평가되고 있다.

- ① 국자감이 설립되었다.
- ② 북학론이 제기되었다.
- ③ 육영 공원이 설치되었다.
- ④ 조선어 학회가 결성되었다.
- ⑤ 한국독립운동지혈사가 편찬되었다.

3. (가) 국가에 대한 설명으로 옳은 것은? [3점]

개로왕이 북위에 사신을 보내 표(表)를 올렸다. “우리과 (가) 은/는 모두 부여에서 나왔으므로 서로 옛정을 굳건히 존중하였는데, 그들의 선조인 쇄(劄, 고국원왕)가 이웃과의 우호를 깨버리고 우리의 국경을 짓밟았습니다. 이에 우리의 선조께서 평양성을 공격하여 쇄를 죽였습니다. … (중략) … 지금 (가) 의 연(璦, 장수왕)이 죄가 있어 나라는 엉망이 되었고, 백성들은 이리저리 흩어지고 있습니다. 이는 멸망시킬 기회이며 폐하의 도움을 받아야 할 때입니다.”

- ① 대가야를 정복하였다.
- ② 전국을 8도로 나누었다.
- ③ 수의 침략을 막아 냈다.
- ④ 도병마사를 설치하였다.
- ⑤ 조사 시찰단을 파견하였다.

4. 밑줄 친 ‘이 시기’에 있었던 사실로 옳은 것은?

**OO고등학교 한국사 수업 교실**


수행 과제: 고려 무신들이 100년에 걸쳐 권력을 장악했던 이 시기의 대표적인 인물과 활동을 조사해서 올려 주세요.

<p>◇◇◇ 정중부 이의방과 함께 정변을 일으켜 새로운 왕을 옹립하였어요.</p>	<p>□□□ 최충헌 도방을 더 큰 규모로 재건하고, 교정도감이라는 기구를 설치하였어요.</p>	<p>△△△ 최우 정방을 통해 인사권을 장악하였고, 몽골의 침략에 대항하였어요.</p>
---	--	--

- ① 이른바 남한 대토벌 작전이 전개되었다.
- ② 백두산정계비가 건립되었다.
- ③ 수도가 강화도로 옮겨졌다.
- ④ 한인 애국단이 조직되었다.
- ⑤ 골품제가 운영되었다.

5. 밑줄 친 ‘이 왕’에 대한 설명으로 옳은 것은?

**특별 기획전 <국왕의 도장>** 전시를 정보



이것은 영조에 이어 즉위한 이 왕이 사용한 장서인 중 2개이다. 장서인은 자신이 소장한 서책에 찍는 도장을 일컫는다. ‘탕평탕평’이라고 새겨진 이 장서인들은 붕당 간의 대립을 완화하고자 했던 이 왕의 탕평 정책 추진 의지를 엿볼 수 있는 자료이다.

- ① 규장각을 육성하였다.
- ② 후삼국을 통일하였다.
- ③ 당백전을 발행하였다.
- ④ 경국대전을 반포하였다.
- ⑤ 쌍성총관부를 회복하였다.

6. (가) 인물의 활동으로 옳은 것은? [3점]



- ① 녹읍을 폐지하였다.
- ② 별무반을 편성하였다.
- ③ 대동법을 시행하였다.
- ④ 위화도 회군을 단행하였다.
- ⑤ 통리기무아문을 설치하였다.

7. 밑줄 친 '변란'의 영향으로 가장 적절한 것은?



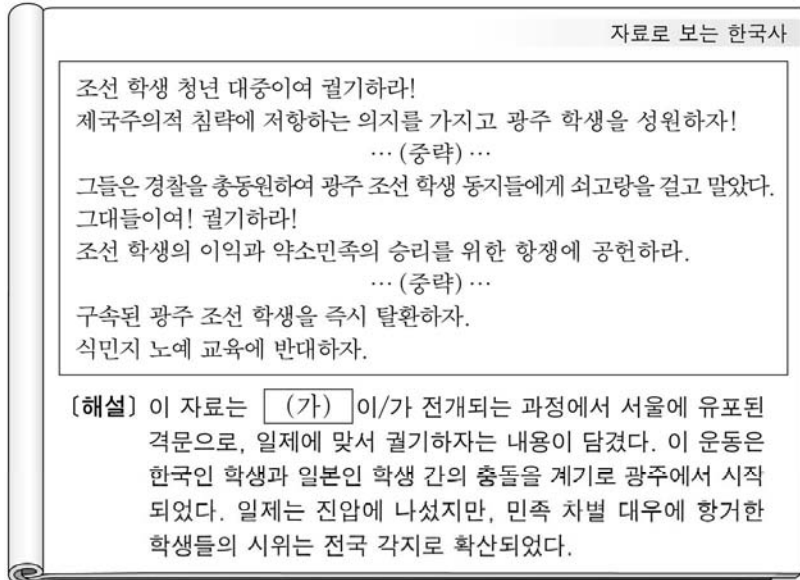
- ① 6·3 시위가 전개되었다.
- ② 수선사 결사가 제창되었다.
- ③ 물산 장려 운동이 일어났다.
- ④ 국민 대표 회의가 개최되었다.
- ⑤ 조청 상민 수륙 무역 장정이 체결되었다.

8. (가)에 대한 설명으로 옳은 것은? [3점]

일본이 제1차 한일 협약을 체결하여 고문 정치의 서막을 열고 재정·외교를 감시하더니, 이후에 (가)을/를 체결해서 외교를 주관하게 되었다. 이에 조선의 우국지사가 시국이 날로 그릇되는 것을 목도하고 비분강개하는 사이에 민영환을 비롯한 강직한 신하가 자결하고, 최익현과 같은 절의를 지닌 사람이 거병(擧兵)하여 천하가 떠들썩한 중에 일대 큰일이 돌연히 일어나니, 즉 이상설 등의 특사 사건이다.

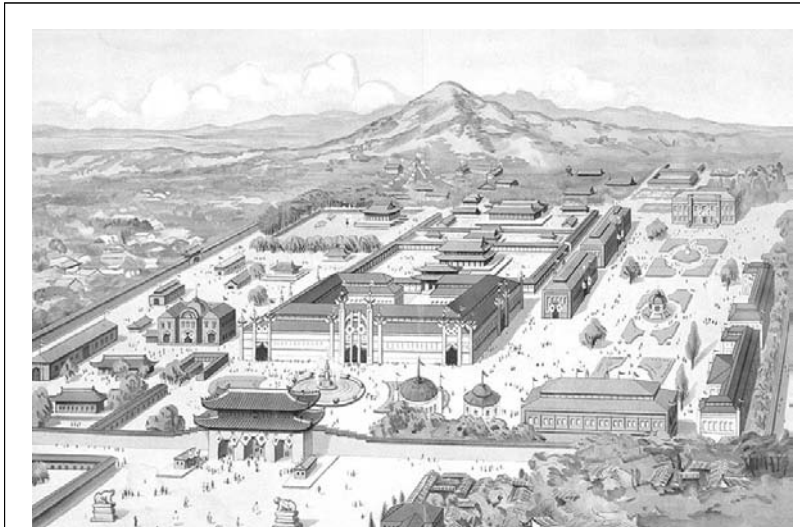
- ① 베트남 파병의 배경이 되었다.
- ② 통감부가 설치되는 근거가 되었다.
- ③ 강동 6주를 확보하는 계기가 되었다.
- ④ 최혜국 대우를 처음으로 규정하였다.
- ⑤ 북벌론이 대두하는 데 영향을 끼쳤다.

9. (가) 운동에 대한 설명으로 옳은 것은? [3점]



- ① 3·1 운동에 영향을 주었다.
- ② 순종의 장례일을 기해 일어났다.
- ③ 학생 김주열의 사망으로 격화되었다.
- ④ 김옥균 등 급진 개화파가 주도하였다.
- ⑤ 신간회가 조사단을 파견하여 지원하였다.

10. (가) 시기에 있었던 사실로 옳은 것은?



자료는 경복궁에서 열린 '시정(始政) 5년 기념 조선 물산 공진회' 홍보지의 삽화이다. 일제는 한국인을 무력으로 굴복시키고자 헌병 경찰제를 시행하던 (가) 시기에 이러한 행사를 열어 식민 통치를 미화하려 하였다. 삽화에서 볼 수 있듯이 일제는 궁궐 내 수많은 전각들을 파괴하고 그 자리에 행사장을 조성함으로써 조선 왕조를 상징하는 공간을 의도적으로 훼손하였다.

- ① 지계아문에서 지계가 발급되었다.
- ② 임술 농민 봉기가 발생하였다.
- ③ 토지 조사 사업이 실시되었다.
- ④ 전민변정도감이 설치되었다.
- ⑤ 삼청 교육대가 운영되었다.



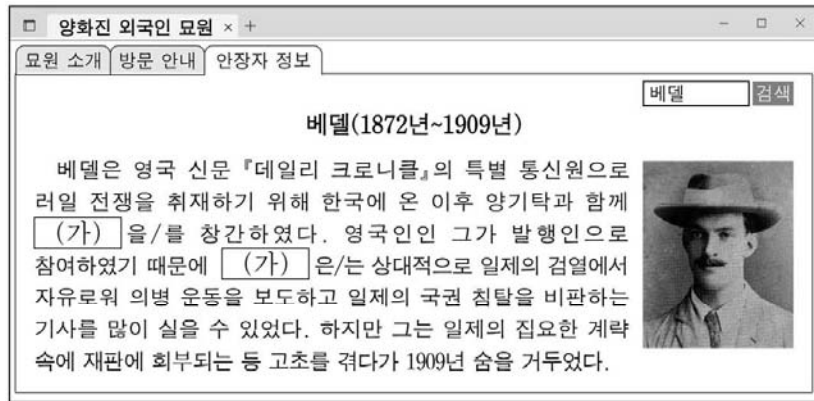
11. (가), (나) 시기 사이에 있었던 사실로 옳은 것은? [3점]

(가) 왕이 종묘에 나아가 다음과 같이 고하였다. “... (중략) ... 짐은 홍범 14조를 하늘에 계신 선대 왕들의 신령께 고하면서 그들이 남기신 업적을 우러러 능히 공적을 이룩하고 감히 어기지 않을 것이니, 밝은 신령께서는 굽어 살피시기 바랍니다.”

(나) 왕이 의심과 두려움을 이기지 못하고 새벽에 궁녀가 타는 가마를 이용하여 몰래 건춘문을 나와 러시아 공사관으로 거처를 옮겼다. ... (중략) ... 궁궐 내에서는 알아차리지 못했고, 내각 또한 알지 못했다. 왕이 러시아 공사관에 도착한 때는 대략 오전 7시 20분쯤이었다.

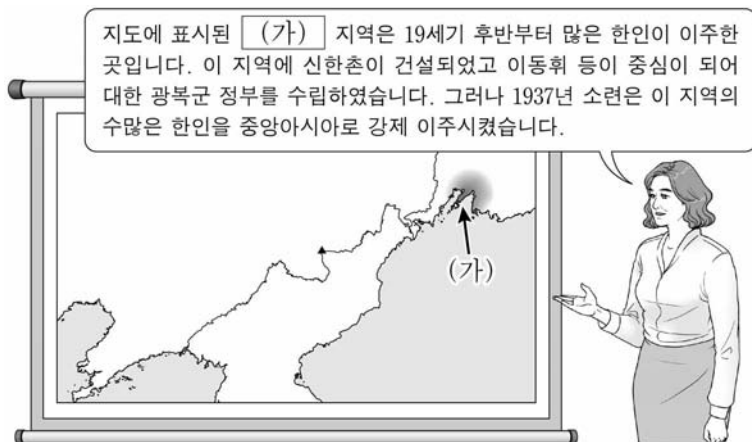
- ① 을미사변이 일어났다.
- ② 삼별초가 봉기하였다.
- ③ 정묘호란이 발생하였다.
- ④ 대한국 국제가 제정되었다.
- ⑤ 영국이 거문도를 불법 점령하였다.

12. (가) 신문에 대한 설명으로 옳은 것은?



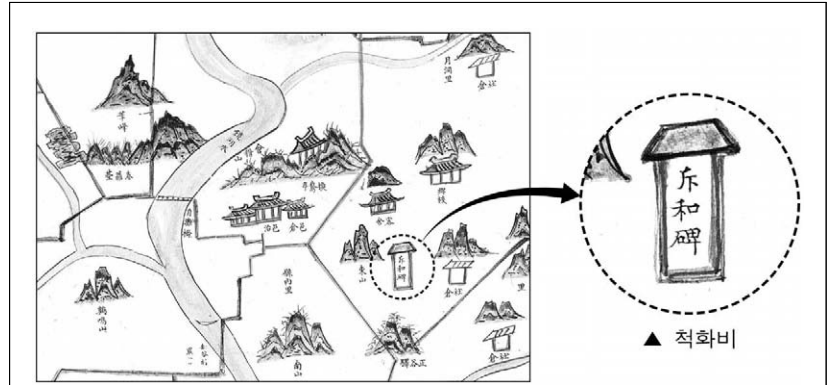
- ① 박문국에서 발간되었다.
- ② 브나로드 운동을 주도하였다.
- ③ YH 무역 사건을 보도하였다.
- ④ 국채 보상 운동을 지원하였다.
- ⑤ 독립문 건립에 영향을 주었다.

13. (가) 지역에서 있었던 사실로 옳은 것은? [3점]



- ① 윤봉길의 홍커우 공원 의거가 일어났다.
- ② 청산리 전투가 전개되었다.
- ③ 신흥 강습소가 설립되었다.
- ④ 조선 형평사가 결성되었다.
- ⑤ 권업회가 조직되었다.

14. 밑줄 친 '이 사건'에 대한 탐구 활동으로 가장 적절한 것은? [3점]



이 지도는 1872년 제작된 경상도 산청현 지도의 일부이다. 여기에는 당시 사회적 상황을 알 수 있는 다양한 정보들이 나타나 있는데, 그중 하나가 관아 부근에 건립된 척화비이다. 척화비는 미국의 군대가 강화도를 침입한 이 사건 이후 전국 각지에 건립된 것으로, 당시 조선 정부의 통상 수교 거부 의지를 확인할 수 있다.

- ① 정동행성이 설치된 원인을 조사한다.
- ② 원산 총파업의 전개 과정을 살펴본다.
- ③ 제너럴셔먼호 사건의 영향을 알아본다.
- ④ 민립 대학 설립 운동의 배경을 분석한다.
- ⑤ 3·1 민주 구국 선언의 내용을 찾아본다.


15. (가) 군사 조직에 대한 설명으로 옳은 것은?

○ 대한민국 임시 정부는 영국군의 요구에 응하여 (가)의 대원 일부를 인도에 파견하였다. 연합국이 이 군대에 공작 임무를 맡긴 것은 1940년 창설 이래 쌓은 훈련의 성과를 인정한 것이다. 조선 민족의 능력을 발휘하여 일본 제국주의를 박멸하는 것은 연합국의 목적인 동시에 우리의 책임이다.

○ 일본군이 인도의 임팔 인근까지 접근하였다. 이에 우리 (가) 공작대 대원들은 그들에게 가까이 다가가 일본어로 방송하였으며 선전문을 살포하였다. 또한 대원들은 일본군 문서를 번역하고 포로를 심문하면서 영국군과 함께 작전을 전개하였다.

- ① 봉오동 전투에 참여하였다.
- ② 국내 진공 작전을 계획하였다.
- ③ 양세봉의 지휘하에 활동하였다.
- ④ 고종의 밀명을 받아 조직되었다.
- ⑤ 자유시 참변으로 피해를 입었다.

16. 밑줄 친 '이 시기'에 볼 수 있는 모습으로 가장 적절한 것은?



이 사진은 일제가 탐골 공원의 문을 뜯어내는 장면이다. 일제는 중일 전쟁을 일으키고 침략 전쟁을 확대 하던 이 시기에 사진과 같이 금속 소재로 제작된 문과 현판, 울타리 등도 가져가 군수 물자로 활용하였다. 또한 애국반과 같은 조직을 활용하여 금속류에 대한 공출을 실시하였다.

- ① 비변사에서 회의하는 관리
- ② 신사 참배에 동원되는 학생
- ③ 흥경래의 난에 참여하는 농민
- ④ 13도 창의군을 이끄는 의병장
- ⑤ 전태일 분신 사건을 취재하는 기자

17. 다음 자료에 나타난 민주화 운동의 결과로 옳은 것은? [3점]

**행동하는 국민 속에 박종철은 부활한다!**

국민 여러분!  
4·13 호헌 조치는 우리 국민들의 민주화 열망의 죽음이었습니다. ... (중략) ... 호헌으로 돌아서는 자들이 군림하고 있는 한, 박종철 군의 영혼은 편안히 잠들지 못할 것입니다. 오로지 스스로 자신의 민주 권리를 쟁취하고자 하는 국민 여러분의 행동 속에서 박 군은 되살아날 것입니다. 민주화 없이 올림픽 없습니다. 나아갑시다. 민주 헌법 쟁취를 위해, 이 땅의 민주화를 위해 함께 행동합시다.

- ① 군국기무처가 설치되었다.
- ② 치안 유지법이 공포되었다.
- ③ 내각 책임제 정부가 출범하였다.
- ④ 대통령 직선제 개헌이 이루어졌다.
- ⑤ 통일 주체 국민 회의가 구성되었다.

18. 다음 사건이 일어난 정부 시기에 있었던 사실로 옳은 것은?

【한국사 속 오늘】

1월 22일 3당 합당 발표

19△△년 1월 22일은 '3당 합당'이 발표된 날이다. 제13대 국회 의원 선거에서 야당의 의석수가 집권 여당보다 많은 이른바 '여소야대' 국면이 조성되었다. 하지만 국정의 주도권을 쥐려는 여당인 민주 정의당이 통일 민주당, 신민주 공화당 등 두 야당과 통합하여 과반수 이상의 의석을 차지하는 민주 자유당을 창당하였다.

- ① 윤요호 사건이 일어났다.
- ② 좌우 합작 위원회가 결성되었다.
- ③ 남북 기본 합의서가 채택되었다.
- ④ 국가 재건 최고 회의가 조직되었다.
- ⑤ 6·15 남북 공동 선언이 발표되었다.

19. 다음 상황이 나타난 시기를 연표에서 옳게 고른 것은? [3점]

어제 21일 김규식은 출발에 앞서 이번 북행(北行)에 대한 소견을 다음과 같이 피력하였다. “나와 김구 선생은 우리의 손으로써 조국을 통일시켜야 한다는 데서 남북 협상을 제안하였던 것이다. ... (중략) ... 우리는 안으로 민족의 통일을 성취시키고, 밖으로 연합국의 협조를 통하여 우리의 자주독립을 이루기 위하여 다음과 같은 원칙을 제시할 예정이다.

1. 어떠한 형태의 독재 정치라도 이를 배격하고 진정한 민주주의 국가를 건립할 것.
- ... (중략) ...
5. 미·소 양군의 조속한 철수에 관해서는 우선 양군 당국이 철수 조건 및 기일 등을 협정하여 공포하라고 주장할 것.”

	(가)	(나)	(다)	(라)	(마)
조선 건국 동맹 조직	8·15 광복	제헌 국회 출범	정전(휴전) 협정 체결	5·16 군사 정변	3선 개헌

- ① (가)      ② (나)      ③ (다)      ④ (라)      ⑤ (마)

20. 다음 자료를 활용한 탐구 주제로 가장 적절한 것은?

저는 경제 대국으로 발전해 가는 한국이 '나의 고향'이라는 자부심을 간직하여 왔습니다. 뜻밖에도 고국이 경제 위기에 처했다는 소식을 듣고 크게 놀랐습니다. 어느덧 해가 바뀌면서 '아이엠에프(IMF)' 한파로 공공 얼어붙었던 고국의 경제 상황이 조금씩 풀려 가고 있다는 보도가 무선 전파를 통하여 이곳 머나먼 만주 땅까지 전해져 오고 있습니다. ... (중략) ... 저는 해외 동포의 일원으로서, 더욱이 조국 독립을 위하여 일제와 용감히 싸우다 순국하신 독립운동가의 후손으로서 고국의 경제 위기에 조그마한 도움이라도 되기를 바라면서 미화 30달러를 보내오니 반가이 받아 주십시오.

- 1998년 1월, 중국 헤이룽강성에서 -

- ① 외환 위기의 극복 노력
- ② 암태도 소작 쟁의의 전개
- ③ 화폐 정리 사업 실시의 영향
- ④ 동양척식주식회사의 설립 목적
- ⑤ 제1차 경제 개발 5개년 계획의 추진 배경

\* 확인 사항

- 답안지의 해당란에 필요한 내용을 정확히 기입(표기)했는지 확인 하시오.



2025학년도 대학수학능력시험

한국사 영역 정답표

( 홀수 ) 형

문항 번호	정 답	배 점	문항 번호	정 답	배 점	문항 번호	정 답	배 점	문항 번호	정 답	배 점
1	⑤	2	6	④	3	11	⑤	3	16	②	2
2	①	3	7	⑤	2	12	④	2	17	④	3
3	③	3	8	②	3	13	①	3	18	③	2
4	③	2	9	⑤	3	14	③	3	19	②	3
5	①	2	10	③	2	15	②	2	20	①	2

2025학년도 대학수학능력시험

한국사 영역 정답표

( 짝수 ) 형

문항 번호	정 답	배 점	문항 번호	정 답	배 점	문항 번호	정 답	배 점	문항 번호	정 답	배 점
1	⑤	2	6	④	3	11	①	3	16	②	2
2	①	3	7	⑤	2	12	④	2	17	④	3
3	③	3	8	②	3	13	⑤	3	18	③	2
4	③	2	9	⑤	3	14	③	3	19	②	3
5	①	2	10	③	2	15	②	2	20	①	2