

제 4 교시

사회탐구 영역 (생활과 윤리)

성명 수험 번호 - 제 () 선택

1. (가), (나) 윤리학의 핵심 과제로 가장 적절한 것은?

(가) 윤리학은 도덕적 행위를 정당화하는 규범적 근거를 탐구하고, 마땅히 행해야 할 행위의 객관적인 도덕 원리를 제시하는 데 주력해야 한다.
 (나) 윤리학은 규범적 속성의 존재론적·인식론적 지위를 탐구하고, 도덕적 용어의 의미를 분석하며, 도덕 추론의 규칙을 검토하는 데 주력해야 한다.

- ① (가): 도덕적 삶의 지침이 되는 보편적 원리를 제시하는 것이다.
- ② (가): 도덕 현상 간의 인과 관계를 가치중립적으로 설명하는 것이다.
- ③ (나): 학제적 연구 방법으로 실생활의 도덕 문제를 해결하는 것이다.
- ④ (나): 각 사회의 다양한 도덕적 관습을 객관적으로 기술하는 것이다.
- ⑤ (가)와 (나): 도덕 언어의 의미와 도덕 추론의 구조를 분석하는 것이다.

2. 다음을 주장한 사상가의 입장에서 <문제 상황> 속 A에게 제시할 조언으로 가장 적절한 것은? [3점]

모든 쾌락은 질적으로 동일하며 양적으로 측정할 수 있다. 쾌락의 가치를 측정할 때에는 강도와 지속성 등 여섯 가지 기준 외에 쾌락과 고통에 의해 영향을 받는 사람의 수를 참작해야 한다.

<문제 상황>

부모님께 용돈을 받은 학생 A는 게임 아이템을 구매하려 하고 있다. 이때 구호 단체에서 온 기부 권고 문자를 보고, 게임 아이템을 구매하는 대신 기부를 해야 할지 고민 중이다.

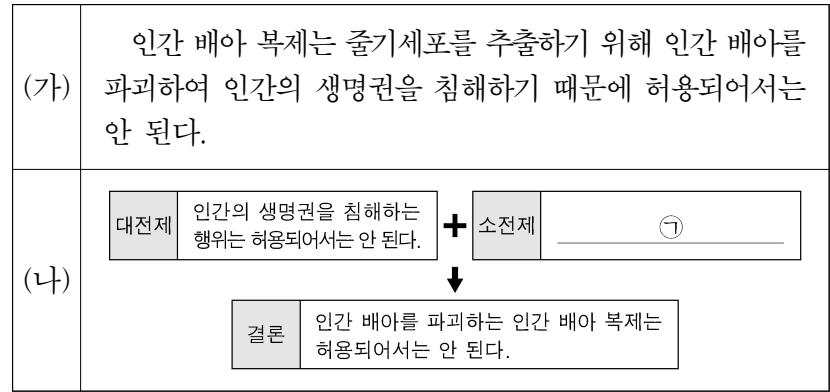
- ① 기부 행위가 자연법의 제1원리에 부합하는지를 판단해 보세요.
- ② 선의지에서 비롯된 기부 행위여야 도덕적 행위임을 명심하세요.
- ③ 유덕한 행위자가 행할 만한 것을 그 결과에 상관없이 행하세요.
- ④ 기부 행위가 산출할 쾌락의 양을 쾌락 계산법에 따라 계산해 보세요.
- ⑤ 쾌락의 양뿐만 아니라 질적 차이까지 고려하여 기부 여부를 정하세요.

3. 다음을 주장한 사상가의 입장으로 가장 적절한 것은?

의사소통 과정에서 발언의 합리성은 근거 제시 가능성에 있다. 또한 담론 참여자가 지닌 태도의 합리성은 자신을 비판에 노출하고, 필요시 논증에 적절히 참여하려는 자세에 있다. 이러한 비판 가능성으로 인해 합리적 발언은 개선될 수 있다.

- ① 담론 참여자는 자신의 오류 가능성을 인정하는 자세로 대화해야 한다.
- ② 담론 참여자는 타인의 의견에 비판적 이의를 제기해서는 안 된다.
- ③ 담론 참여자는 합의한 결론에 대해 다시 문제를 제기해서는 안 된다.
- ④ 담론 참여자의 전문성을 기준으로 발언의 기회를 제한해야 한다.
- ⑤ 담론 참여자는 자신의 개인적 이익이나 준칙을 주장해서는 안 된다.

4. (가)의 주장을 (나) 그림으로 나타낼 때, ㉠에 대한 반론의 근거로 가장 적절한 것은?



- ① 인간 배아 복제는 인간의 생명권을 침해한다.
- ② 인간은 인간 배아와 유전적 특징이 다르지 않다.
- ③ 인간 중의 구성원들 중에는 인간 배아도 포함된다.
- ④ 인간 배아가 인간이 되는 과정은 끊임없이 연속적이다.
- ⑤ 인간 배아는 도덕적 지위가 없는 단순한 세포 덩어리이다.

5. 다음 토론의 핵심 쟁점으로 가장 적절한 것은? [3점]

갑: 사회 관계망 서비스(SNS)를 통한 광고를 이용하는 기업이 늘어나면서 허위·과장 광고에 의한 피해 사례가 늘고 있습니다. 따라서 SNS를 통한 광고를 규제할 필요가 있습니다.
 을: 동의합니다. 하지만 SNS를 통한 광고는 사회적 기업이 제작한 제품에 대한 윤리적 소비로 이어지는 사례도 많습니다. 따라서 SNS를 통한 광고는 허용되어야 합니다.
 갑: 아닙니다. SNS를 통한 광고는 윤리적 소비로 이어지기도 하지만 허위·과장 광고의 수단으로 악용될 소지가 큽니다. 따라서 SNS를 통한 광고는 전면 금지되어야 합니다.
 을: 아닙니다. SNS를 통한 광고를 허용하되 적극적인 단속을 실시해 나간다면, SNS가 허위·과장 광고의 수단이 될 가능성을 최소화할 수 있습니다.

- ① SNS를 통한 광고를 규제할 필요가 있는가?
- ② SNS를 통한 광고는 모두 금지되어야 하는가?
- ③ SNS를 통한 광고는 윤리적 소비로 이어지는가?
- ④ SNS는 기업의 광고 수단으로만 이용되어야 하는가?
- ⑤ SNS는 허위·과장 광고의 수단으로 악용될 수 있는가?

2 (생활과 윤리)

사회탐구 영역

6. 갑, 을 사상가들의 입장으로 가장 적절한 것은? [3점]

갑: 사람의 본성에 어찌 인의(仁義)의 마음이 없겠는가? 그런데도 그 양심을 잃어버리는 이유는 마치 도끼로 산의 나무를 아침마다 베는 것처럼 스스로 양심의 싹을 자르기 때문이다. 양심을 보존하지 못하면 금수(禽獸)와 같아진다.
 을: 괴로움이 생겨나는 것은 마치 사람이 나무를 심어 물을 때 맞춰 주고 온도를 유지해 주면, 이 인연(因緣)으로 나무가 자라나는 것과 같다. 이러한 얽매임에 집착하면 애욕(愛欲)과 함께 생로병사(生老病死)의 괴로움이 일어난다.

- ① 갑: 나쁜 환경에 처한 사람은 반드시 자신의 본성을 잃게 된다.
- ② 갑: 다른 사람을 편안하게 한 후에야 비로소 자기 수양이 가능하다.
- ③ 을: 탐욕으로 생긴 번뇌는 깨달음을 얻더라도 소멸될 수 없다.
- ④ 을: 나와 남이 둘이 아니라는 자각에서 만물에 대한 사랑이 생긴다.
- ⑤ 갑과 을: 인류의 규범에서 벗어나야 이상적 인간이 될 수 있다.

7. (가)의 사상가 갑, 을의 입장을 (나) 그림으로 탐구하고자 할 때, A~C에 들어갈 적절한 질문만을 <보기>에서 있는 대로 고른 것은? [3점]

(가)	<p>갑: 만인은 서로 늑대처럼 싸우는 자연 상태에서 벗어나기 위해 상호 계약을 맺어 하나의 인격으로 결합해야 한다. 이 인격을 지닌 통치자는 모든 사람의 힘과 수단을 임의로 사용할 수 있는 권력을 지닌다.</p> <p>을: 절대 권력에 책임을 묻지 않는 식의 합의는 여우나 스핑크스를 피해 사자에게 잡아먹히는 데 만족하는 것과 같다. 통치자가 시민의 생명, 자유 및 자산을 보존하지 못할 때 시민은 통치자에 저항할 수 있다.</p>
(나)	<div style="display: flex; justify-content: space-between;"> <div style="border: 1px solid black; padding: 5px; width: 45%;"> <p>사상가 갑, 을의 입장을 탐구한다.</p> <pre> graph TD A{A} -- 아니오 --> C{C} A -- 예 --> B{B} B -- 예 --> G[갑의 입장] C -- 예 --> E[을의 입장] </pre> </div> <div style="width: 45%;"> <p style="text-align: center;"><범례></p> <ul style="list-style-type: none"> □ : 출발 조건 ◇ : 판단 내용 → : 판단 방향 ○ : 사상가의 입장 </div> </div>

<보 기>

ㄱ. A: 국가의 통치자가 사회 계약을 위반하는 것은 가능한가?
 ㄴ. B: 국가는 신의(信義) 계약으로 탄생한 자연적 인격인가?
 ㄷ. B: 국가가 부재하는 곳에서는 각자의 소유권도 부재하는가?
 ㄹ. C: 국가의 통치자에게는 단지 신탁된 권력만 주어지는가?

- ① ㄱ, ㄴ
- ② ㄱ, ㄷ
- ③ ㄷ, ㄹ
- ④ ㄱ, ㄴ, ㄹ
- ⑤ ㄴ, ㄷ, ㄹ

8. 다음을 주장한 사상가의 입장에서 <문제 상황> 속 A에게 제시할 조언으로 가장 적절한 것은?

운동을 지나치게 많이 하거나 적게 하는 것, 음식을 지나치게 많이 먹거나 적게 먹는 것은 건강을 해치지만, 적당한 운동이나 식사는 건강에 도움이 된다. 마땅한 때에, 마땅한 방식으로, 마땅하게 행동하는 것이 쉬운 일은 아니다. 그러므로 중용을 지키는 사람은 칭송받을 만하다.

<문제 상황>

학생 A는 급식에서 자신이 좋아하는 음식이 나올 때는 폭식을 하고, 좋아하지 않는 음식이 나올 때는 거의 먹지 않고 버린다. 최근 A는 자신의 건강과 올바른 생활 태도에 필요한 식습관이 무엇인지 고민하고 있다.

- ① 먹는 행위와 좋은 품성의 형성은 서로 무관함을 고려하세요.
- ② 먹는 것은 본능이므로 스스로 통제할 수 없음을 고려하세요.
- ③ 먹을 때 이성이 아닌 감정의 명령에 따라야 함을 고려하세요.
- ④ 먹는 즐거움을 느낄 때에도 절제의 덕이 필요함을 고려하세요.
- ⑤ 먹는 것은 육체의 욕망을 채우는 행위에 불과함을 고려하세요.

9. 다음을 주장한 사상가의 입장으로 적절한 것만을 <보기>에서 있는 대로 고른 것은?

시민 불복종은 법에 대한 충실성의 한계 내에서 부정의한 법에 대한 불복종을 나타낸다. 시민 불복종 행위에 가담함으로써 소수자는 다수자에게 그들의 행위가 정의의 원칙들에 대한 위반으로 해석되기를 바라는지 아니면 공통된 정의감에 비추어 소수자의 합당한 요구를 인정하고자 하는지를 숙고하도록 강요하게 된다.

<보 기>

ㄱ. 시민 불복종은 다수자의 정의감을 나타내는 양심적인 행위이다.
 ㄴ. 시민 불복종은 법의 경계선 내에서 행해지는 정치적 행위이다.
 ㄷ. 부정의한 법의 변혁은 시민 불복종의 목적이 아니라 결과이다.

- ① ㄱ
- ② ㄴ
- ③ ㄱ, ㄷ
- ④ ㄴ, ㄷ
- ⑤ ㄱ, ㄴ, ㄷ

10. 다음을 주장한 사상가의 입장으로 가장 적절한 것은? [3점]

미적인 것은 윤리적으로 좋은 것의 상징이다. 미적인 것은 다른 모든 사람들의 동의를 요구하며 요구해야 마땅하다. 이때 우리의 마음은 쾌락의 단순한 감각적 수용을 넘어선 순화와 고양을 의식하며, 다른 사람들의 가치도 그들이 지닌 판단력의 비슷한 준칙에 따라서 평가하게 된다.

- ① 미적 판단과 도덕 판단은 모두 이해 관심에 근거해야 한다.
- ② 미적 판단은 개인의 주관적인 판단이기에 보편화될 수 없다.
- ③ 미적 판단의 대상인 예술은 그 자체로 자율성을 지닐 수 없다.
- ④ 미적 대상에 대한 감각적 경험은 도덕성 고양에 기여할 수 있다.
- ⑤ 미적 판단 능력은 옳고 그름을 판단하는 도덕적 능력에 종속된다.

11. 갑, 을 사상가들의 입장으로 적절한 것만을 <보기>에서 고른 것은? [3점]

갑: 법은 공공 의사의 표현이다. 법은 살인을 미워하고 처벌한다. 그런데 그런 법이 스스로 살인을 범한다면 얼마나 어리석은가. 사형은 한 시민에 대한 국가의 전쟁이다. 이 전쟁은 필요하지도 효과적이지도 않다.
 을: 법을 제정하는 행위는 일반 의지의 행사이다. 위법 행위와 형벌의 관계에 따라 형법이 제정된다. 국가에 맞서 전쟁을 선포한 죄인을 사형에 처할 때 우리는 그를 국가의 적으로서 처벌하는 것이다.

<보 기>

ㄱ. 갑: 형벌은 모든 고통을 한순간에 집중시켜야만 효과적이다.
 ㄴ. 갑: 법은 살인을 금지하므로 법에 의해 살인하는 형벌은 부당하다.
 ㄷ. 을: 모든 형벌은 범죄자를 시민의 일원으로서 처벌하는 것이다.
 ㄹ. 갑과 을: 사회 계약의 목적에 반하는 형벌은 정당성이 없다.

- ① ㄱ, ㄴ ② ㄱ, ㄷ ③ ㄴ, ㄷ ④ ㄴ, ㄹ ⑤ ㄷ, ㄹ

12. 다음을 주장한 사상가가 강조하는 공직자의 자세로 옳지 않은 것은?

○ 관청에서 쓰는 모든 물건은 하늘에서 비처럼 내리고 땅에서 물처럼 솟는 것이 아니니, 씹씹이를 절약하면서 물건 사용의 폐해를 살피 백성들의 힘을 덜어 주어야 한다.
 ○ 청렴한 선비는 벼슬자리에 부임하려 갈 때 가족을 데려가지 않는데, 이때의 가족이란 아내와 자식을 일컫는다. 형제 간에는 가끔 왕래해도 되지만 오래 머물러서는 안 된다.

- ① 사사로운 정(情)에 따른 이익보다는 청렴을 중시해야 한다.
 ② 자애의 덕을 지니기 위해서는 반드시 절용(節用)해야 한다.
 ③ 청백리가 되려면 자신에게만 관대하고 가족에게는 엄격해야 한다.
 ④ 세금 사용에 주의를 기울여 국민의 경제적 부담을 줄여야 한다.
 ⑤ 공적 재산이 국민의 노력으로 이루어진 것임을 유념해야 한다.

13. 갑, 을의 입장으로 가장 적절한 것은?

성(性)은 사적 자유의 영역을 넘어 사회 안정과 질서 유지와도 관련됩니다. 결혼의 울타리 안에서 이루어지는 성만이 정당합니다. 부부 간의 사랑이야말로 성의 근거입니다.



갑

성은 상대방에 대한 배려와 사랑을 필요로 합니다. 굳이 결혼과 결부시킬 필요가 없습니다. 사랑 없이 쾌락만을 추구하는 성은 도덕적으로 정당하지 않습니다.



을

- ① 갑: 성적 관계에서 개인의 자유가 사회적 책임보다 중요하다.
 ② 갑: 출산과 양육은 바람직한 성적 관계의 조건이 아니다.
 ③ 을: 성적 관계는 윤리적 가치 판단의 대상이 아니다.
 ④ 을: 정당한 성적 관계는 당사자 간의 동의로 충분하다.
 ⑤ 갑과 을: 성적 관계는 당사자 간의 사랑을 전제해야 한다.

14. 갑, 을 사상가들의 입장으로 적절한 것만을 <보기>에서 있는 대로 고른 것은?

갑: 정의의 일차적 주제는 사회의 기본 구조, 즉 사회의 주요 제도가 권리와 의무를 배분하고 사회 협동체로부터 생긴 이익의 분배를 정하는 방식이다. 사회의 기본 구조를 규제하는 원칙은 원초적 합의의 대상이다.
 을: 정의의 주제는 세 가지이다. 즉, 누구의 소유물도 아니던 것이 어떻게 누군가의 소유물이 될 수 있는가, 한 사람의 소유물이 어떻게 다른 사람의 소유물이 될 수 있는가, 그리고 부정의를 어떻게 바로잡을 수 있는가이다.

<보 기>

ㄱ. 갑: 차등의 원칙은 천부적 능력의 차등이 있어도 성립한다.
 ㄴ. 을: 각 개인에게 소유물을 분배하는 최소 국가만이 정의롭다.
 ㄷ. 을: 소유물 취득의 정당성은 타인의 처지 개선을 요구한다.
 ㄹ. 갑과 을: 개인은 사유 재산을 소유할 불가침적 권리를 지닌다.

- ① ㄱ, ㄷ ② ㄱ, ㄹ ③ ㄴ, ㄷ
 ④ ㄱ, ㄴ, ㄹ ⑤ ㄴ, ㄷ, ㄹ

15. (가)의 갑, 을, 병 사상가들의 입장을 (나) 그림으로 표현할 때, A~D에 해당하는 적절한 진술만을 <보기>에서 고른 것은? [3점]

(가)	<p>갑: 동물을 폭력적으로 다루면 고통에 대한 공감은 무더져 결국 타인과의 관계에서 인간의 도덕성에 매우 유익한 천성적 소질이 고갈될 수 있다. 을: 어떤 존재가 느끼는 고통을 고려하지 않는 것은 옳지 않다. 이익 평등 고려의 원리는 그 존재의 고통을 다른 존재의 고통과 평등하게 계산하도록 한다. 병: 경제적 이익 계산의 문제로만 바람직한 대지의 이용을 생각하지 말라. 생명 공동체의 통합성과 안정성 그리고 아름다움의 보전에 이바지한다면 그것은 옳다.</p>
(나)	<p style="text-align: right;"><법 레> A: 갑만의 입장 B: 을만의 입장 C: 병만의 입장 D: 을과 병만의 공통 입장</p>

<보 기>

ㄱ. A: 동물을 학대하지 않는 것은 인간의 자신에 대한 의무에 부합한다.
 ㄴ. B: 쾌고 감수 능력은 도덕적 행위자임을 판별하는 결정적 기준이다.
 ㄷ. C: 생태계뿐만 아니라 개별 생명체도 도덕적 고려의 대상일 수 있다.
 ㄹ. D: 인간은 다른 모든 생명체보다 본질적으로 우월하지 않다.

- ① ㄱ, ㄴ ② ㄱ, ㄷ ③ ㄴ, ㄷ ④ ㄴ, ㄹ ⑤ ㄷ, ㄹ

4 (생활과 윤리)

사회탐구 영역

16. 갑, 을 사상가들의 입장으로 옳지 않은 것은?

갑: 국제 사회에서 평화 실현은 도덕적 의무이다. 국가는 세계 시민법에 따라 외국 방문객이 평화적으로 처신하는 한 적대적으로 대하면 안 된다. 세계 시민법의 이념은 공적인 인권과 영원한 평화를 위해 필요하다.
 을: 국제 정치에서 평화 유지는 세력 균형을 통해 가능하다. 모든 정치가 그러하듯 국제 정치도 권력을 얻기 위한 투쟁이다. 따라서 국제 정치의 본질상 평화 상태에서도 폭력 사용의 가능성은 항상 존재한다.

- ① 갑: 국가는 모든 외국인에 대해 호의적으로 대할 필요는 없다.
- ② 갑: 국가 간 신뢰를 불가능하게 하는 적대 행위를 해서는 안 된다.
- ③ 을: 국제 정치에서 개별 국가들의 권력욕은 갈등의 원인이다.
- ④ 을: 국제법에 근거한 세력 균형이 유일한 평화 유지 수단이다.
- ⑤ 갑과 을: 국제 연맹은 독립된 국가처럼 주권을 행사할 수 없다.

17. 갑, 을 사상가들의 입장으로 가장 적절한 것은? [3점]

갑: 사람에게 인(仁)은 물과 불보다 더 필요한 것이다. 하지만 나는 물과 불로 인해 죽은 사람은 보았지만, 인을 실천하다가 죽은 사람은 아직 보지 못하였다.
 을: 삶과 죽음은 사계절의 운행과 같다. 이러한 이치에 통달한 지인(至人)은 물과 불이 다치게 할 수 없고, 추위와 더위가 해칠 수 없으며, 짐승들마저도 죽이지 못한다.

- ① 갑: 죽음 이후에 관한 지식이 삶에 관한 지식보다 중요하다.
- ② 갑: 죽음을 맞이하는 한이 있더라도 도(道)를 추구해야 한다.
- ③ 을: 죽음은 삶에서 지은 업(業)으로 말미암아 나타난 결과이다.
- ④ 을: 죽음은 삶의 자연스러운 변화이지만 마땅히 슬퍼해야 한다.
- ⑤ 갑과 을: 삶과 죽음은 운명[命]에 따라 주기적으로 순환한다.

18. 다음을 주장한 사상가의 입장으로 가장 적절한 것은?

현대의 기술이 산출한 행위들은 그 규모와 대상, 결과가 너무나 새로운 것이기 때문에 이러한 행위들은 전통 윤리학의 틀로서는 더 이상 파악할 수 없다. 이에 따라 나는 서로 관련된 두 가지 주장을 제시한다. 하나는 인간의 기술적 힘이 발전하면서 인간 행위의 본질이 변화했다는 것이다. 그리고 다른 하나는 인간 행위의 변형된 본질로 인해 윤리학에 있어서도 변화가 요청된다는 것이다.

- ① 인간은 호혜적 관계를 맺는 존재에 대해서만 책임이 있다.
- ② 현대 과학 기술의 힘은 인간 행위의 본질을 변화시키지 못한다.
- ③ 기술로 얻은 힘의 크기가 커질수록 인간의 책임 범위는 넓어진다.
- ④ 과학 기술로 인한 비의도적 결과는 인간이 책임질 필요가 없다.
- ⑤ 전통 윤리학은 미래 세대의 생존 문제를 모두 해결할 수 있다.

19. 갑, 을 사상가들의 입장으로 적절한 것만을 <보기>에서 있는 대로 고른 것은? [3점]

갑: 질서 정연한 사회의 장기 목표는 무법 국가와 마찬가지로 고통받는 사회들을 질서 정연한 만민의 사회에 가입시키는 것이어야 한다. 고통받는 사회가 적정 수준의 사회가 되면 더 이상의 원조는 필요하지 않다.
 을: 우리는 인류의 고통을 감소시키고 쾌락을 증진할 의무를 지닌다. 우리에게 얼마 되지 않는 비용으로 곤궁한 타인의 복리에 중요한 변화를 일으킬 수 있을 때 발생하는 의무보다 우선할 수 있는 것은 없다.


— < 보 기 > —

ㄱ. 갑: 독재나 착취로 빈곤한 사회는 원조 대상이 될 수 없다.
 ㄴ. 갑: 고통받는 사회가 스스로 정치 문화를 개선하도록 원조해야 한다.
 ㄷ. 을: 지구촌의 절대 빈곤 해결을 위한 원조의 의무는 정언 명령이다.
 ㄹ. 갑과 을: 원조의 목적은 인류 복지 수준의 균등화가 아니다.

- ① ㄱ, ㄷ ② ㄱ, ㄹ ③ ㄴ, ㄹ
- ④ ㄱ, ㄴ, ㄷ ⑤ ㄴ, ㄷ, ㄹ

20. 그림의 강연자가 지지할 입장으로 가장 적절한 것은? [3점]

문명의 충돌을 막기 위해 우리는 무엇보다 종교 간의 관용과 적극적인 대화에 힘써야 합니다. 종교 간의 갈등은 수많은 사람을 고통스럽게 하고 사회와 국가의 발전을 가로막습니다. 이러한 갈등은 무엇보다 자신의 종교만을 맹신하고 타 종교를 인정하지 않는 배타적인 태도에 기인합니다. 종교 간의 대화 없이는 국가 안의 평화는 물론이고 국가 간의 평화도 불가능합니다. 지구에 존재하는 주요 종교들에는 비폭력과 생명 존중, 관용과 진실성, 연대와 정의로운 경제 질서, 평등과 남녀 동반 관계 등의 가치가 들어 있습니다. 종교 간의 대화를 통해 이러한 가치들을 기본으로 하는 세계 윤리를 도출하여 평화로운 세계를 만들어야 합니다.



- ① 종교 간의 평화 실현에 타인과의 대화 역량은 불필요하다.
- ② 다른 종교를 관용의 눈으로 바라보는 것은 불필요한 노력이다.
- ③ 종교의 통일이 문명의 충돌을 막을 수 있는 유일한 해법이다.
- ④ 종교 간의 갈등은 사회와 국가의 발전과 어떠한 관련도 없다.
- ⑤ 편견 없이 타 종교를 이해하는 일이 평화로운 공존의 초석이다.

* 확인 사항
 ○ 답안지의 해당란에 필요한 내용을 정확히 기입(표기)했는지 확인 하시오.

2024학년도 대학수학능력시험

사회탐구 영역 정답표
(생활과 윤리) 과목

문항 번호	정 답	배 점	문항 번호	정 답	배 점	문항 번호	정 답	배 점	문항 번호	정 답	배 점
1	①	2	6	④	3	11	④	3	16	④	2
2	④	3	7	③	3	12	③	2	17	②	3
3	①	2	8	④	2	13	⑤	2	18	③	2
4	⑤	2	9	①	2	14	②	2	19	③	3
5	②	3	10	④	3	15	②	3	20	⑤	3

제 4 교시

사회탐구 영역 (윤리와 사상)

성명

수험 번호 -

제 () 선택

윤리와 사상

1. 다음 가상 대화의 스승이 강조하는 삶의 태도로 가장 적절한 것은?

1 스승님, 인(仁)이란 무엇인가요?
2 인간다움을 발휘하며 다른 사람을 사랑하는 것이네.
3 그 가르침을 잘 실천하기 위해서는 어떻게 해야 할까요?
4 예(禮)가 아니면, 보지도 말고, 듣지도 말며, 말하지도 말고, 행동하지도 말아야 하네.

- ① 효제(孝悌)와 충서(忠恕)를 실천하고자 한다.
- ② 무명(無明)에서 벗어나 해탈에 이르고자 한다.
- ③ 깨달음(菩提)을 추구하고 중생을 구제하고자 한다.
- ④ 문명을 배격하고 무위자연의 도(道)를 따르고자 한다.
- ⑤ 서로 차별 없이 사랑(兼愛)하고 이익을 함께 나누고자 한다.

2. 사회사상가 갑, 을의 입장으로 옳은 것만을 <보기>에서 고른 것은?

갑: 국가는 소비 성향과 투자 유인의 상호 관계를 조정하는 일에 관련된 정부 기능을 확대해야 한다. 광범위한 투자의 사회화가 완전 고용에 가까운 상태를 확보하는 유일한 수단이다.
을: 국가는 경쟁이 최대한 효율적으로 작동할 수 있는 조건을 창출해야 한다. 경쟁은 권력의 간섭 없이도 우리의 행위를 조정할 수 있지만, 계획은 사람을 노예의 길로 이끄는 치명적 자판이다.

<보 기>
ㄱ. 갑: 시장 실패의 극복을 위해 경제 활동 규제를 철폐해야 한다.
ㄴ. 갑: 정부는 유효 수요 창출을 위해 공공사업을 추진해야 한다.
ㄷ. 을: 시장의 자생적 질서를 통해 자유 경쟁을 활성화해야 한다.
ㄹ. 갑과 을: 완전 고용을 위해 국가 재정 지출을 확대해야 한다.

- ① ㄱ, ㄴ ② ㄱ, ㄷ ③ ㄴ, ㄷ ④ ㄴ, ㄹ ⑤ ㄷ, ㄹ

3. 다음을 주장한 고대 동양 사상가가 공정의 대답을 할 질문으로 가장 적절한 것은? [3점]

도(道)는 흘러 넘쳐 왼쪽으로든 오른쪽으로든 이르지 아니하는 곳이 없다. 만물이 도에 의지하여 생겨나지만 도는 말이 없고, 공적이 이루어져도 그 공적이 자기에게 있다고 말하지 않는다. 또한 도는 만물을 생기게 하지만 자기 소유로 삼지 않고, 만물을 거느리는 주인이 되려 하지 않는다.

- ① 도는 만물의 화육에 개입하면서 세상을 주재하는가?
- ② 도는 하늘과 땅보다 먼저 존재한 자연 운행의 원리인가?
- ③ 도를 체득하기 위해서는 공적과 명예를 추구해야 하는가?
- ④ 도 자체는 사물이므로 인간의 언어로써 규정될 수 있는가?
- ⑤ 도가 인간을 넓히는 것이 아니라 인간이 도를 넓히는 것인가?

4. 그림의 강연자가 추구하는 이상 사회의 모습으로 옳은 것은? [3점]



제가 추구하는 사회에서는 시민이 매일 정해진 시간 동안 생산적 노동에 종사하고, 그 이외의 시간을 정신적 오락이나 교육에 사용합니다. 어떤 물품이든 풍족하여 탐욕을 부리지 않습니다. 모든 것이 공동 소유로 되어 있어 필요한 물품은 값을 치르지 않고 가져올 수 있습니다. 또한 공정한 제도가 있어 모든 일을 잘 해결할 수 있습니다.

- ① 개인의 재산 증식을 보장하기 위해 새로운 법률을 제정한다.
- ② 국가에 이바지한 업적에 따라 재화를 공정하게 분배한다.
- ③ 구성원은 물질적 재화의 부족 때문에 검소하게 살아간다.
- ④ 일부 시민에게는 종사하는 일에 따라 사유 재산을 인정한다.
- ⑤ 여가 시간에 문화생활을 자유롭게 누리는 것을 허용한다.

5. 다음을 주장한 고대 서양 사상가의 입장으로 옳지 않은 것은?

신은 국가를 다스릴 수 있는 이들이 태어날 때는 황금을 섞고, 방위자들에게는 은을, 농부들이나 장인들에게는 철과 청동을 섞었다. 대개는 자신들을 닮은 자손들을 낳지만, 때로는 황금의 자손에서 은의 자손이, 그리고 은의 자손에서 철의 자손이, 그 밖의 모든 자손이 서로의 자손에서 태어나는 때가 있다.

- ① 누구나 타고난 소질을 잘 발휘하면 통치자가 될 수 있다.
- ② 통치자는 이데아를 인식하여 지혜의 덕을 갖춘 자들로 구성된다.
- ③ 방위자는 교육을 통해 용기의 덕을 쌓고 두려움에 대해 분별한다.
- ④ 생산자가 가진 덕을 다른 두 계층도 공통적으로 갖추고 있다.
- ⑤ 국가의 세 계층이 각자 자신의 소임을 다할 때 정의가 실현된다.

2 (윤리와 사상)

사회탐구 영역

6. (가)의 중국 유교 사상가 갑, 을의 입장을 (나) 그림으로 탐구하고자 할 때, A~C에 들어갈 적절한 질문만을 <보기>에서 고른 것은? [3점]

(가)	<p>갑: 학문의 길은 사물에 나아가 이치를 궁구하는 것보다 앞서는 것이 없다. 이치를 궁구하는 핵심에는 무엇보다 독서가 있다. 경전과 역사책에 입각하지 않는다면 이는 벽을 마주 대하고 있는 것과 같다.</p> <p>을: 학문의 길은 마음의 본체에서 공부하고 돌이켜 내 마음에서 체득하는 것이다. 경전은 마음의 본체를 대략적으로 말한 것에 불과하니, 마치 초상화를 그려 그 인물의 정신을 전달하는 것과 같다.</p>
(나)	<p style="text-align: center;"><범례></p> <p>□ : 출발 조건 ◇ : 판단 내용 → : 판단 방향 ○ : 사상가의 입장</p>

<보기>

ㄱ. A: 부도덕한 행위를 하는 인간도 양지를 지니고 태어나는가?
 ㄴ. B: 내 마음의 본체인 성(性)이 곧 도덕적 행위의 근거인가?
 ㄷ. B: 경전 공부를 통한 앎[知]이 도덕적 실천[行]보다 중요한가?
 ㄹ. C: 격물(格物)은 사욕을 제거하여 내 마음을 바로잡는 것인가?

① ㄱ, ㄴ ② ㄱ, ㄷ ③ ㄴ, ㄷ ④ ㄴ, ㄹ ⑤ ㄷ, ㄹ

7. (가)의 고대 서양 사상가 갑, 근대 서양 사상가 을의 입장에서 서로에게 제기할 수 있는 비판을 (나) 그림으로 표현할 때, A, B에 해당하는 내용으로 옳은 것은? [3점]

(가)	<p>갑: 쾌락은 행복한 삶의 시작이자 끝이다. 우리는 우리의 느낌을 모든 좋은 것들을 판단하는 잣대로 사용하면서, 쾌락에서 모든 선택과 회피를 시작하고 쾌락으로 돌아온다.</p> <p>을: 고통과 쾌락만이 우리가 무엇을 해야 하는지를 명령하고 무엇을 행하게 될지를 결정한다. 옳고 그름의 잣대, 원인과 결과의 사슬이 고통과 쾌락이라는 두 군주의 옥좌에 매여 있다.</p>
(나)	<p style="text-align: center;"><범례></p> <p>→ : 비판의 방향 A, B: 비판의 내용</p> <p style="text-align: center;"><예시></p>

- ① A: 쾌락은 선이고 고통은 악이라는 것을 깨달아야 함을 간과한다.
 ② A: 세계 시민으로서 정치적 삶의 욕구를 충족해야 함을 간과한다.
 ③ A: 사회적 쾌락이 개인의 쾌락보다 우선시되어야 함을 간과한다.
 ④ B: 쾌락 총량의 최대화를 낳는 행위가 도덕적 행위임을 간과한다.
 ⑤ B: 행복한 삶을 위해 인간의 자연적 본성에 주목해야 함을 간과한다.

8. 다음은 사회사상가 갑, 을의 가상 대화이다. 갑, 을의 입장으로 옳은 것만을 <보기>에서 있는 대로 고른 것은?

<p>적대 행위의 중단이 곧 평화 상태에 대한 보증은 아닙니다. 국가 간 영원한 평화를 위해서는 자유로운 국가들의 연방 체제가 확립되어야 합니다.</p>	<p>전쟁의 부재가 곧 평화에 대한 완전한 보증은 아닙니다. 진정한 평화를 위해서는 직접적 폭력 뿐만 아니라 구조적 폭력과 문화적 폭력도 없는 상태가 실현되어야 합니다.</p>

<보기>

ㄱ. 갑: 평화 연맹은 그 소속 국가의 자유를 국제법에 따라 보호한다.
 ㄴ. 을: 목표로서의 평화뿐 아니라 과정으로서의 평화도 중요하다.
 ㄷ. 갑과 을: 폭력은 평화 실현을 위한 최후의 정치적 수단이다.

① ㄱ ② ㄷ ③ ㄱ, ㄴ ④ ㄴ, ㄷ ⑤ ㄱ, ㄴ, ㄷ

9. 고대 동양 사상가 갑, 을의 입장으로 옳은 것만을 <보기>에서 고른 것은? [3점]

<p>갑: 하늘은 백성이 듣고 보는 것으로부터 듣고 보며, 하늘은 백성이 좋아하고 싫어하는 것으로부터 좋아하고 싫어한다. 따라서 통치자는 백성과 함께 즐거움을 누리는 왕도(王道)를 시행해야 한다.</p>	<p>을: 하늘의 운행에는 일정한 법칙이 있다. 요(堯) 임금 때문에 있는 것도 아니고 곽(桀) 임금 때문에 없어지는 것도 아니다. 인간이 도를 따라서 어기지 않는다면 하늘도 화를 입히지 못한다. 하늘의 운행과 인간의 일은 서로 별개이다.</p>
---	---

<보기>

ㄱ. 갑: 하늘은 백성과 즐거움을 함께하니 민심이 곧 천심이다.
 ㄴ. 을: 하늘은 성인(聖人)의 도를 따르는 무위(無爲)한 존재이다.
 ㄷ. 을: 하늘은 예(禮)에 따라 사는 백성에게 복을 주지 않는다.
 ㄹ. 갑과 을: 하늘이 부여한 마음을 되찾아야 성인이 될 수 있다.

① ㄱ, ㄴ ② ㄱ, ㄷ ③ ㄴ, ㄷ ④ ㄴ, ㄹ ⑤ ㄷ, ㄹ

10. 고대 서양 사상가 갑, 중세 서양 사상가 을의 입장으로 옳은 것은?

<p>갑: 행복하기를 바란다면 이렇게 바라라. 즉 일어나는 일들이 네가 바라는 대로 일어나기를 바라지 말고, 일어나는 일들이 실제로 일어나는 대로 일어나기를 바라라.</p>	<p>을: 행복한 삶은 최고신인 신을 사랑하는 것이다. 따라서 행복한 삶이란 신에 관해서, 신을 향해서, 신을 위해서 향유하는 것이다. 오직 이런 향유만이 행복이다.</p>
--	--

- ① 갑: 행복한 자는 공적인 인간관계를 가능하면 피하고자 한다.
 ② 갑: 행복한 자는 사건들의 필연적 관계를 자신의 삶으로 받아들인다.
 ③ 을: 행복은 지금 이 지상의 삶에서 완전히 실현할 수 있는 것이다.
 ④ 을: 행복은 인간뿐만 아니라 다른 동물들 역시 향유하는 것이다.
 ⑤ 갑과 을: 행복은 타락한 본성을 회복하여 신과 합일하는 데 있다.

11. 그림은 서술형 평가 문제와 학생 답안이다. 학생 답안의 ㉠~㉣ 중 옳지 않은 것은? [3점]

서술형 평가

◎ 문제: 현대 서양 사상가 갑, 을의 입장을 비교하여 서술하시오.

갑: 인간에게 정해진 본질은 없다. 인간은 실존 이후에 인간 스스로가 구상하는 무엇이기 때문에 결국 인간은 인간 스스로가 만들어 가는 것과 다른 무엇이 아니다.
 을: 관념, 의미, 개념, 이론, 체계는 주어진 환경을 적극적으로 재조직하고, 난점과 혼란을 해결하기 위한 도구이다. 이러한 도구들의 가치는 그런 일을 성취하느냐 못하느냐를 통해 평가될 수 있다.

◎ 학생 답안

갑, 을의 입장을 비교해 보면, 갑은 ㉠ 인간을 선택의 순간마다 주체적인 결단을 통해 스스로를 만들어 가는 존재로 보고, ㉡ 인간은 자유로운 선택에 대한 책임을 통해 불성실을 벗어나야 한다고 본다. 그런데 을은 ㉢ 인간을 끊임없는 문제 상황을 해결하면서 경험을 축적해 가는 존재로 보고, ㉣ 인간은 지성을 최대한 발휘해 사회가 성장하고 진보할 수 있도록 노력해야 한다고 본다. 한편 갑, 을은 모두 ㉤ 현대 사회에서 나타나는 다양한 문제를 극복하기 위해 보편적인 도덕규범을 따라야 한다고 본다.

- ① ㉠ ② ㉡ ③ ㉢ ④ ㉣ ⑤ ㉤

12. (가)의 사회사상가 갑, 을, 병의 입장에서 서로에게 제기할 수 있는 비판을 (나) 그림으로 표현할 때, A~F에 해당하는 내용으로 가장 적절한 것은? [3점]

(가)	<p>갑: 국가는 다수의 사람이 상호 계약을 체결하여 세운 인격이다. 자연 상태에는 공동의 권력이 없어 각자의 각자에 대한 전쟁 상태에 빠져든다.</p> <p>을: 국가는 계급과 함께 출현한 계급 사회의 산물로 지배 계급이 그들의 공동의 이해를 관철하는 정치적 형태이다. 따라서 프롤레타리아는 이 국가를 타도해야 한다.</p> <p>병: 국가는 개인의 인격이 모두 결합된 공적 인격이다. 개인은 정치 공동체 안에서 스스로가 입법권을 가진 주권자로서 시민적 자유를 획득하게 된다.</p>
(나)	<p>〈법 레〉 → : 비판의 방향 A~F : 비판의 내용</p> <p>〈예 시〉 ① 갑 → A → 을 A는 갑이 을에게 제기할 수 있는 비판임.</p>

- ① A: 국가는 그 사회의 지배 계급의 이익을 대변함을 간과한다.
 ② B와 D: 국가는 계약 주체의 의지가 반영되어 성립된 것임을 간과한다.
 ③ C: 사유 재산제가 성립되면서 경제적 불평등이 발생함을 간과한다.
 ④ E: 자연 상태에서 인간은 평화로운 삶을 누릴 수 있음을 간과한다.
 ⑤ F: 국가의 주권은 사회 계약에 참여한 주체에게 귀속됨을 간과한다.

13. 중세 서양 사상가 갑, 근대 서양 사상가 을의 입장으로 옳은 것은?

갑: 자연법은 신의 영원한 창조 계획에 기초한다. 자연법의 질서는 자연적 성향의 질서에 따른다. 모든 각각의 실체는 자신의 존재를 보존하려고 노력한다. 인간 역시 자기 보존을 향한 자연적 성향을 가진다.
 을: 각각의 것들은, 자신이 할 수 있는 한, 자신의 존재를 보존하려고 노력한다. 그것들은 신의 힘, 즉 신의 본질을 특정하게 표현하는 양태이기 때문이다. 그 어떤 사물도 자신을 파괴할 수 있는 것을 자신 안에 가지고 있지 않다.

- ① 갑: 자기 보존은 자연적 본성의 요구일 뿐이므로 선이 될 수는 없다.
 ② 갑: 자기 보존 성향과 달리 사회적 삶의 성향은 비자연적 성향이다.
 ③ 을: 자기 보존을 위한 각자의 욕망은 신이 지닌 본성을 나타낸다.
 ④ 을: 자기 보존은 동물과 달리 인간의 경우 자유로운 선택일 수 있다.
 ⑤ 갑과 을: 자기 보존에 성공한 사례는 신의 의도적 계획에 따른 것이다.

14. 한국 유교 사상가 갑, 을의 입장으로 옳은 것만을 <보기>에서 고른 것은?

갑: 기(氣)가 아니면 발할 수 없고, 이(理)가 아니면 발하게 할 까닭이 없다. 사단과 칠정은 모두 기가 발하고 이가 올라탄 것이다. 기는 유위(有爲)하고 이는 무위(無爲)하다.
 을: 사단은 이가 발함에 기가 따르는 것이고, 칠정은 기가 발함에 이가 기를 타는 것이다. 이가 동정(動靜)을 지니기에 기도 동정을 지닌다.

—<보 기>—

ㄱ. 갑: 칠정 가운데 선한 감정을 키우면 사덕으로 자라난다.
 ㄴ. 을: 사단은 순선한 성이고 칠정은 선악이 함께 있는 정이다.
 ㄷ. 을: 이는 기를 주재하고 명령할 뿐 기에 구속받지 않는다.
 ㄹ. 갑과 을: 이와 기는 서로 분리될 수 없고 섞일 수도 없다.

- ① ㄱ, ㄴ ② ㄱ, ㄷ ③ ㄴ, ㄷ ④ ㄴ, ㄹ ⑤ ㄷ, ㄹ

15. 다음을 주장한 근대 서양 사상가의 입장으로 옳은 것만을 <보기>에서 고른 것은? [3점]

도덕적 구별은 사회의 이익을 촉진 혹은 저하시키는 자질 및 성격의 경향으로부터 발생한다. 관찰자인 우리가 이 자질 및 성격을 지닌 또는 부인할 수 있는 것은 바로 이 사회의 이익에 대한 우리의 관심 때문이다. 우리는 공감으로부터 타인이 속한 사회의 이익에 대해 확장된 관심을 가질 수 있다.

—<보 기>—

ㄱ. 공감은 타인의 유덕한 품성에서 쾌감을 느끼게 하는 원리이다.
 ㄴ. 이성은 목적을 위한 최적의 수단을 발견하는 역할을 한다.
 ㄷ. 도덕은 어떤 행위나 사물에 내재하는 근본적인 속성이다.
 ㄹ. 이성은 행위의 동기가 아니라 도덕적 선악을 구별하는 원천이다.

- ① ㄱ, ㄴ ② ㄱ, ㄷ ③ ㄴ, ㄷ ④ ㄴ, ㄹ ⑤ ㄷ, ㄹ

4 (윤리와 사상)

사회탐구 영역

16. 다음 가상 편지를 쓴 한국 유교 사상가의 입장으로 가장 적절한 것은?

사랑하는 아들에게
아들아! 네가 지난번 편지에서 질문한 인간의 본성에 대해 답하고자 한다. 인간의 본성은 마음의 기호란다. 이것은 채소가 거름을 좋아하는 것과 같으며, 연꽃과 수초가 물을 좋아하는 것과 같다. 원래 본성이란 것은 선을 좋아하고 악을 싫어하는 것이니, 그 본성을 잘 따르게 되면 인(仁)에 머무를 수 있고 의(義)를 따를 수 있어서 인의가 이루어지게 된다.

- ① 영지의 기호를 발휘해 자주지권을 형성해야 한다.
- ② 수양의 궁극적 목표인 형구의 기호를 완성해야 한다.
- ③ 본성은 하늘의 이치로 인간 모두가 갖춘 인의예지이다.
- ④ 타인을 측은히 여기는 마음은 인을 형성하기 위한 시작이다.
- ⑤ 인간이 선천적으로 부여받은 덕은 사단의 확충으로 완성된다.

17. 다음을 주장한 근대 서양 사상가의 입장으로 옳은 것은?

의무의 모든 명령이 이것들의 원리인 바로 그 정언 명령으로부터 도출될 수 있다면, 우리는 의무 개념이 무엇을 말하는지 제시할 수 있다. 결과들이 일어날 때, 이것들이 따르는 법칙의 보편성은 가장 일반적인 의미에서 본래적으로 '자연'이라 불리는 것을 구성하므로, 정언 명령은 "네 행위의 준칙이 네 의지에 의해 마치 자연 법칙이 되어야 하는 것처럼, 그렇게 행하라."라고도 표현될 수 있다.

- ① 정언 명령은 여러 가지 정식(定式)들로 표현될 수 없다.
- ② 정언 명령의 보편화 검증을 통과해야 준칙은 도덕 법칙이 된다.
- ③ 정언 명령 형식의 도덕 법칙은 자연의 모든 사물에 적용된다.
- ④ 정언 명령은 옳은 행위만, 가언 명령은 그른 행위만 명령한다.
- ⑤ 정언 명령은 하지 말 것만 명령할 뿐 해야 할 것은 명령하지 않는다.

18. 다음을 주장한 동양 불교 사상가의 입장으로 옳은 것은? [3점]

○ 모든 사물이 생겨날 수 있는 여러 조건[緣]이 있다. 하지만 자성(自性)은 여러 생성 조건 가운데 어느 하나에도 속하지 않는다. 따라서 자성은 없다. 자성이 없기 때문에 공(空)인 것이다.
○ 어떤 사물도 인연으로부터 생기지 않는 것이 없으니 모든 사물이 공 아닌 것이 없다. 모든 사물이 공하지 않다면, 생멸(生滅)은 존재하지 않고 사성제의 진리도 존재하지 않는다.

- ① 만물의 자성은 인연의 법칙에 따라 영원히 존재한다.
- ② 만물에 대한 참된 인식을 통해 자성을 완성해야 한다.
- ③ 만물은 상호 의존적이지만 각 사물은 불변하는 실체이다.
- ④ 만물의 있음이 아니라 없음에 집착하는 태도를 지녀야 한다.
- ⑤ 만물은 원인과 조건에 의해 생겨난 것이므로 공 아닌 것이 없다.

19. (가)의 고대 서양 사상가 갑, 을의 입장을 (나) 그림으로 표현할 때, A~C에 해당하는 적절한 진술만을 <보기>에서 있는 대로 고른 것은? [3점]

(가)	<p>갑: 덕이 이롭다면 덕은 얹이어야 한다. 영혼에 관한 모든 것은 그 자체로 이롭지도 해롭지도 않지만, 얹이나 무지가 더해져 이롭거나 해롭게 되기 때문이다.</p> <p>을: 자제력 없는 사람은 좋음에 대해서 알고 있지만, 유덕한 사람도 부덕한 사람도 아니다. 그리고 유덕한 사람이 아니고서는 실천적 지혜를 가진 사람이 될 수 없다.</p>
(나)	

<보 기>

ㄱ. A: 비겁한 행위란 항상 용기에 대한 무지에서 비롯된 행위이다.
 ㄴ. A: 좋음에 대한 앎을 가진 자들 모두가 지혜의 덕을 갖춘 자들이다.
 ㄷ. B: 나쁜 것을 알면서도 그것을 선택한 행위는 자발적인 행위이다.
 ㄹ. C: 행복을 원하는 자는 자기 영혼의 상태 개선에 힘써야 한다.

- ① ㄱ, ㄴ ② ㄱ, ㄷ ③ ㄷ, ㄹ
- ④ ㄱ, ㄴ, ㄹ ⑤ ㄴ, ㄷ, ㄹ

20. 갑, 을은 근대 한국 사상가들이다. 갑의 입장에 비해 을의 입장이 갖는 상대적 특징을 그림의 ㉠~㉣ 중에서 고른 것은?

갑: 강화(講和)가 이루어지면 사학(邪學)이 교역 속에 섞여 들어올 것이다. 장차 집집마다 사학을 하고 사람마다 사학을 하게 되면, 자식이 아버지를 아버지로 여기지 않고 신하가 임금을 임금으로 여기지 않게 되어, 사람은 짐승이 될 것이다.

을: 한울님의 마음을 지키고 기운을 바르게 하지 않으면 인의예지의 도(道)를 실천하기 어렵다. 한울님의 마음을 지키는 법은 부모에게 효도하고 윗사람을 공경하며, 타인에게 온화하고 공손하게 대하는 것이다.

- ① ㉠ ② ㉡ ③ ㉢ ④ ㉣ ⑤ ㉣

* 확인 사항

○ 답안지의 해당란에 필요한 내용을 정확히 기입(표기)했는지 확인 하시오.

2024학년도 대학수학능력시험

사회탐구 영역 정답표
(윤리와 사상) 과목

문항 번호	정 답	배 점	문항 번호	정 답	배 점	문항 번호	정 답	배 점	문항 번호	정 답	배 점
1	①	2	6	④	3	11	⑤	3	16	④	2
2	③	2	7	④	3	12	④	3	17	②	2
3	②	3	8	③	2	13	③	2	18	⑤	3
4	⑤	3	9	②	3	14	⑤	2	19	①	3
5	①	2	10	②	2	15	①	3	20	④	2

제 4 교시

사회탐구 영역 (한국지리)

성명 수험번호 제 () 선택

1. 다음 자료의 (가)~(다) 섬에 대한 설명으로 옳은 것은?

구분	(가)	(나)	(다)
섬			
기준점(▲) 위·경도	34° 04' 32" N 125° 06' 31" E	33° 07' 03" N 126° 16' 10" E	37° 14' 22" N 131° 52' 08" E
특징	<ul style="list-style-type: none"> 섬의 이름은 '사람이 살 수 있는 곳'이라는 뜻에서 유래. 일제 강점기에 '소흑산도'로 불렸으나, 2008년에 현 지명으로 복원. 	<ul style="list-style-type: none"> 섬의 최고점이 약 39m로 해안 일부가 기암절벽으로 이루어진 화산섬. 섬 전체가 남북으로 긴 고구마 모양으로 평탄한 초원이 있음. 	<ul style="list-style-type: none"> 섬의 이름은 돌섬이라는 뜻의 독섬에서 유래. '독'이 '홀로' 뜻으로 한자화 됨. 동도와 서도 외에 89개의 부속 도서로 구성.

- (가)는 우리나라 영토의 최서단(극서)에 위치한다.
- (나)의 남서쪽 우리나라 영해에 이어도 종합 해양 과학 기지가 건설되어 있다.
- (다)로부터 200해리까지 전역은 우리나라의 배타적 경제 수역에 해당한다.
- (나)와 (다)는 영해 설정에 통상 기선을 적용한다.
- (가)~(다) 중 우리나라 표준 경선과의 최단 거리가 가장 가까운 곳은 (나)이다.

2. 다음 자료의 ㉠~㉣에 대한 설명으로 옳은 것은? [3점]

평창군 황병산 일대에서는 해발 고도 800m가 넘는 곳에 넓은 ㉠ 평탄면을 볼 수 있다. 이 평탄면은 과거 오랜 기간 풍화와 침식을 받아 평탄해진 곳이 ㉡ 경동성 요곡 운동으로 융기한 후에도 완만한 기복을 유지하고 있는 지형이며, 목초 재배에 유리하여 목축업이 발달하였다.

북한강 유역의 춘천은 주변이 산지로 둘러싸인 ㉢ 분지의 평탄면에 발달한 도시이다. 춘천 분지는 ㉣ 변성암과 ㉤ 화강암의 차별적인 풍화·침식 작용을 받아 형성된 지형으로, 용수 확보가 쉬워 일찍부터 농업 및 생활의 중심지로 이용되었다.

- ㉠에는 공룡 발자국 화석이 많이 분포한다.
- ㉡은 주로 시멘트 공업의 원료로 이용된다.
- ㉡으로 한반도 전역에 ㉢이 관입되었다.
- ㉢에서는 ㉠보다 바람이 강하여 풍력 발전에 유리하다.
- ㉣은 ㉤보다 한반도 암석 분포에서 차지하는 비율이 높다.

3. 그림의 (가)~(라)에 해당하는 지역을 지도의 A~D에서 고른 것은? (단, A~D는 각각 단양, 울릉도, 제주도, 철원 중 하나임.)

해성층인 조선 누층군이 넓게 분포한다. 예 (가)

아니요

유동성이 큰 용암으로 인해 형성된 넓은 평지에서 벼농사가 이루어지고 있다. 예 (나)

아니요

화구의 함몰로 형성된 갈데라 분지가 있다. 예 (다)

아니요

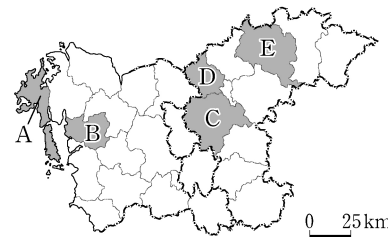
(라)

- | | (가) | (나) | (다) | (라) |
|---|-----|-----|-----|-----|
| ① | B | A | C | D |
| ② | B | A | D | C |
| ③ | B | D | A | C |
| ④ | C | A | B | D |
| ⑤ | C | B | D | A |

4. 다음 자료에서 설명하는 지역을 지도의 A~E에서 고른 것은?

이 지역은 한강 뱃길과 육로 교통의 길목으로 삼국 시대에는 각축을 벌이던 전략 요충지였다. 수자원 확보와 홍수 피해 경감 등을 목적으로 다목적댐이 건설되어 전력 생산과 관광 자원으로도 활용되고 있다. 또한 민간 기업이 주도적으로 개발하는 기업도시가 조성되어 지역 경제에 활력을 불어 넣고 있다.

태극 모양과 지명 영문 표기 첫 글자인 C와 J를 조화롭게 표현한 이 지역의 심벌 마크이다.



- A
- B
- C
- D
- E

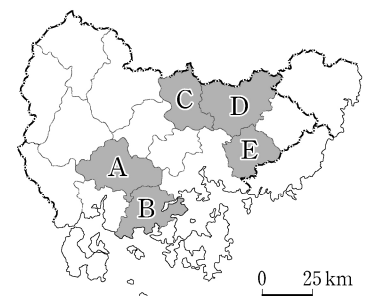
5. 다음 <조건>만을 고려하여 아동 복지 시설의 입지를 선정하고자 할 때, 가장 적절한 곳을 지도의 A~E에서 고른 것은? [3점]

- <조건1>: '시(市)' 단위 행정 구역인 곳
- <조건2>: 유소년층 인구 비율이 10% 이상인 곳
- <조건3>: <조건1>과 <조건2>를 만족한 지역 중 총부양비가 가장 높은 곳

<연령층별 인구 비율> (단위: %)

구분	0~14세	15~64세	65세 이상
A	12.8	70.7	16.5
B	8.9	60.5	30.6
C	8.4	61.8	29.8
D	8.9	63.8	27.3
E	14.5	74.4	11.1

(2020) (통계청)

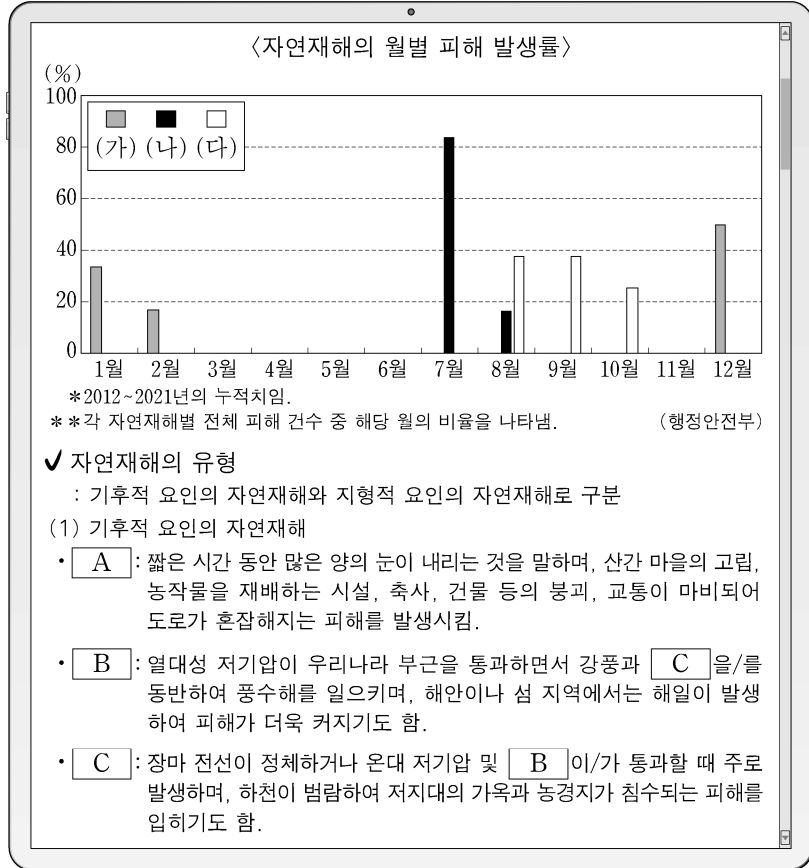


- A
- B
- C
- D
- E

2 (한국지리)

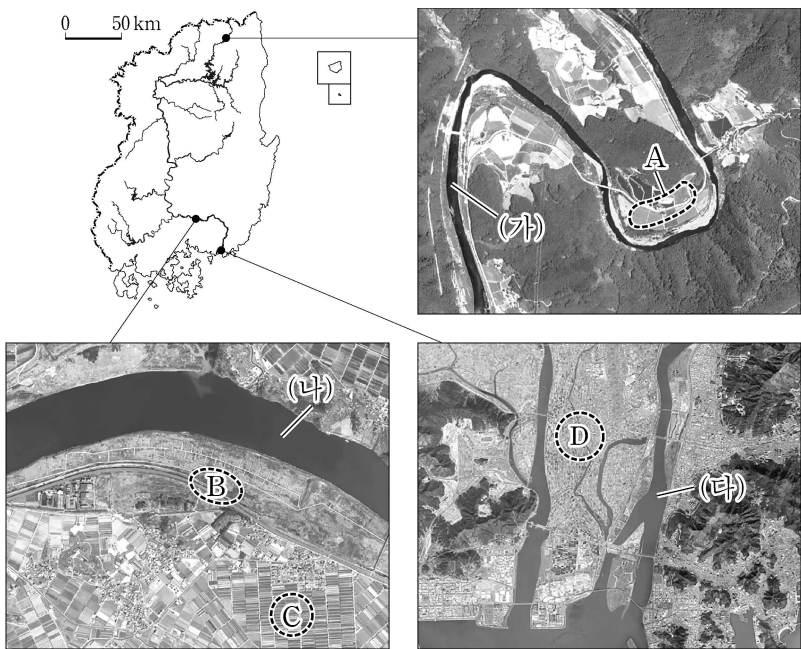
사회탐구 영역

6. 다음 자료는 자연재해에 대한 온라인 수업 자료의 일부 내용이다. (가)~(다)에 해당하는 자연재해를 A~C에서 고른 것은? (단, (가)~(다)와 A~C는 각각 대설, 태풍, 호우 중 하나임.)



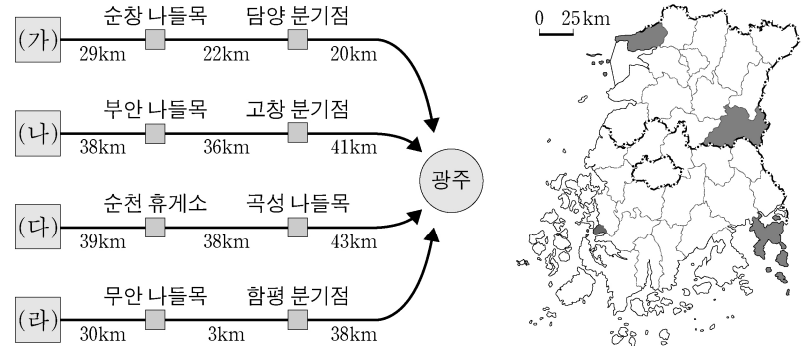
- | | | | | | | | |
|---|-----|-----|-----|---|-----|-----|-----|
| | (가) | (나) | (다) | | (가) | (나) | (다) |
| ① | A | B | C | ② | A | C | B |
| ③ | B | A | C | ④ | B | C | A |
| ⑤ | C | A | B | | | | |

7. 다음은 지도에 표시된 세 지역의 하천 지형을 나타낸 사진이다. 이에 대한 설명으로 옳은 것은? (단, A~D는 각각 배후 습지, 삼각주, 자연 제방, 하안 단구 중 하나임.) [3점]



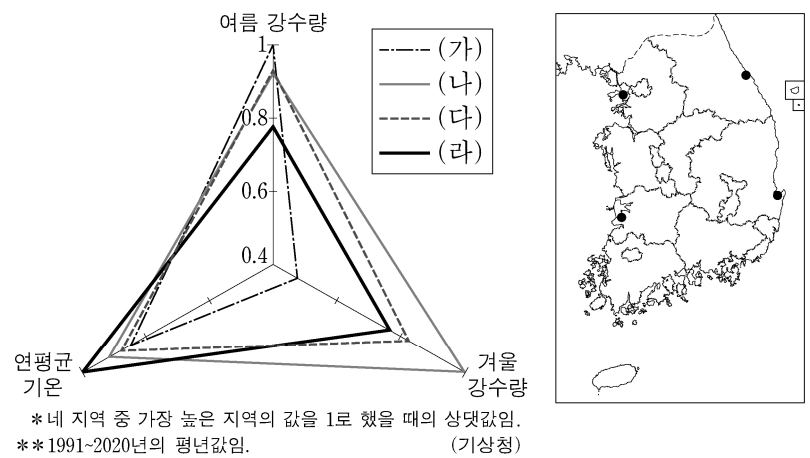
- (가)는 (다)보다 하방 침식이 활발하다.
- (나)는 (가)보다 하상의 해발 고도가 높다.
- D는 하천 퇴적물의 공급량이 적고, 조차가 큰 하구에서 잘 발달한다.
- A는 C보다 홍수 시 범람에 의한 침수 위험이 높다.
- B는 C보다 토양 배수가 불량하다.

8. 다음 자료는 지도에 표시된 네 도시의 시청에서 출발해 광주광역시청으로 가는 길 찾기 안내의 일부이다. (가)~(라) 도시에 대한 설명으로 옳은 것은? [3점]



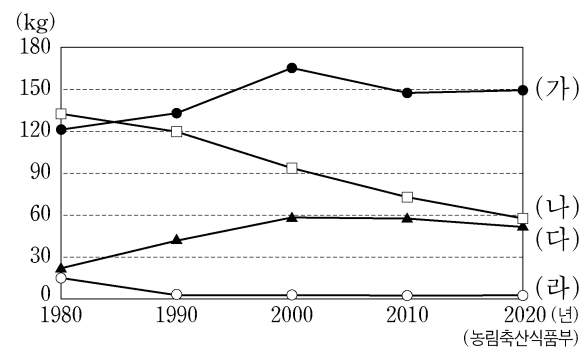
- (다)에는 춘향전의 배경이 되는 광한루원이 있다.
- (라)에는 대규모 완성형 자동차 조립 공장이 입지해 있다.
- (가)와 (다)에는 모두 람사르 협약에 등록된 습지가 있다.
- (나)와 (라)에는 모두 하굿둑이 건설되어 있다.
- (가)~(라)에는 모두 국제공항이 입지해 있다.

9. 그래프의 (가)~(라)는 지도에 표시된 네 지역의 상대적 기후 특성을 나타낸 것이다. 이에 대한 설명으로 옳은 것은? [3점]



- (가)는 (나)보다 최한월 평균 기온이 높다.
- (다)는 (나)보다 연 강수량이 많다.
- (다)는 (라)보다 기온의 연교차가 크다.
- (가)와 (라)는 서해안, (나)와 (다)는 동해안에 위치한다.
- (가)~(라) 중 여름 강수 집중률이 가장 높은 곳은 (라)이다.

10. 그래프는 주요 농산물의 1인당 소비량 변화를 나타낸 것이다. (가)~(라)에 대한 설명으로 옳은 것은? (단, (가)~(라)는 각각 과실, 보리, 쌀, 채소 중 하나임.)



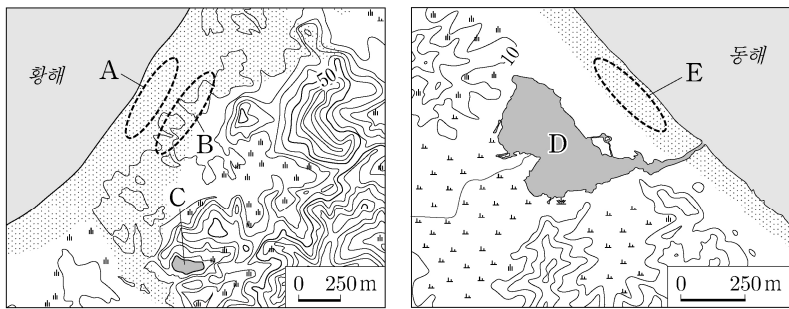
- (가)는 (나)보다 재배 면적이 넓다.
- (나)는 (가)보다 노지 재배 면적 비율이 높다.
- 전남은 (가)보다 (다)의 생산량이 많다.
- 제주도는 (다)보다 (나)의 재배 면적이 넓다.
- 강원은 전북보다 (라)의 생산량이 많다.

11. 다음 자료는 네 계절에 개최되는 지역 축제를 나타낸 것이다. (가)~(라) 계절에 대한 설명으로 가장 적절한 것은? (단, (가)~(라)는 각각 봄, 여름, 가을, 겨울 중 하나임.) [3점]



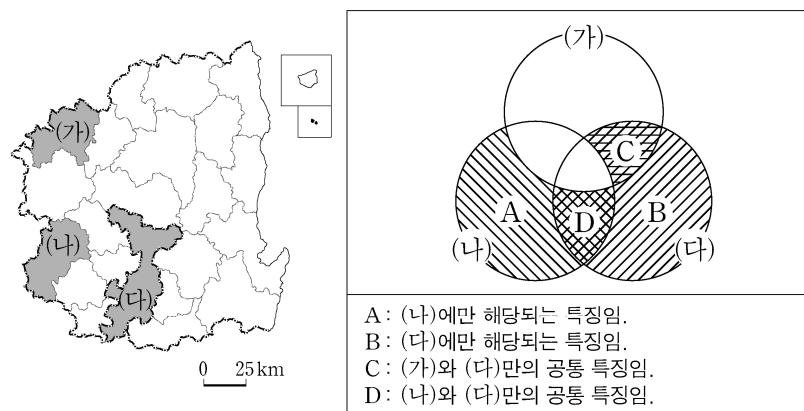
- ① (나)에는 고랭지 채소 재배가 활발히 이루어진다.
- ② (다)에는 시베리아 기단의 확장으로 꽃샘추위가 발생한다.
- ③ (라)에는 월동을 대비해 김장을 한다.
- ④ (가)에는 (나)보다 서고동저형의 기압 배치가 자주 나타난다.
- ⑤ (가)에는 (라)보다 평균 상대 습도가 높다.

12. 지도의 A~E 지형에 대한 설명으로 옳은 것은? [3점]



- ① B에는 지반 융기로 형성된 해안 단구가 있다.
- ② C 습지는 D 호수보다 물의 염도가 높다.
- ③ E는 B보다 퇴적 물질의 평균 입자 크기가 크다.
- ④ A와 E는 주로 조류의 퇴적 작용으로 형성되었다.
- ⑤ B와 D는 후빙기 해수면 상승 이전에 형성되었다.

13. 지도에 표시된 (가)~(다) 지역의 특징을 그림과 같이 표현할 때, A~D의 내용으로 옳은 것만을 <보기>에서 고른 것은? [3점]

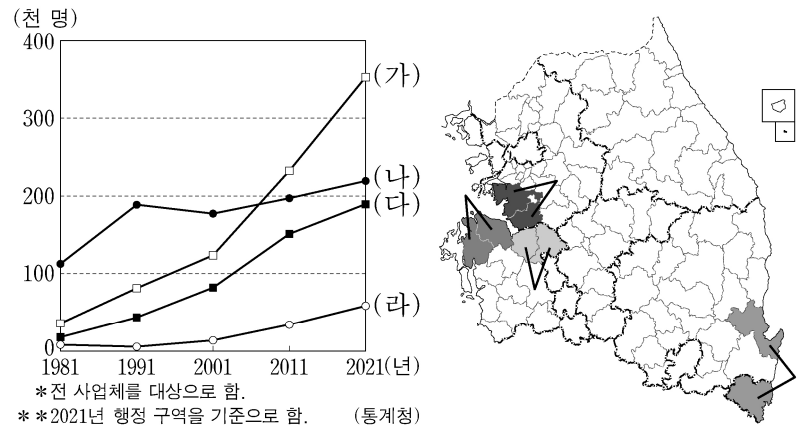


<보 기>

- ㄱ. A: 도청이 입지하고 있음.
- ㄴ. B: 지하철이 운행되고 있음.
- ㄷ. C: 천연기념물로 지정된 석회 동굴이 있음.
- ㄹ. D: 혁신도시가 구성되어 있음.

- ① ㄱ, ㄴ ② ㄱ, ㄷ ③ ㄴ, ㄷ ④ ㄴ, ㄹ ⑤ ㄷ, ㄹ

14. 그래프는 지도에 표시된 네 지역군의 제조업 종사자 수 변화를 나타낸 것이다. (가)~(라) 지역군에 대한 설명으로 옳은 것은?



- ① (가)는 (나)보다 지역군 내 제조업 출하액에서 전자 부품·컴퓨터·영상·음향 및 통신 장비 제조업이 차지하는 비율이 높다.
- ② (다)는 (나)보다 전국 석유 정제품 제조업 종사자 수에서 차지하는 비율이 높다.
- ③ (다)는 (라)보다 1차 금속 제조업 출하액이 많다.
- ④ (라)는 (나)보다 대규모 국가 산업 단지 조성을 시작한 시기가 이른다.
- ⑤ (가)~(라) 중 2001년에 비해 2021년 제조업 종사자 수가 가장 많이 증가한 지역군은 영남 지방에 속한다.

15. 다음은 한국지리 온라인 수업의 한 장면이다. 답글의 내용이 적절한 학생만을 있는 대로 고른 것은?

○○신문 2023년 5월 △△일

전기 요금 차등 부과 법안 통과

모든 지역에 같은 단가를 적용하는 현행 전기 요금 부과 방식 대신, 발전소와의 거리를 고려해 지역별로 요금에 차등을 둘 수 있게 하는 법안이 국회 본회의를 통과했다. 그동안 발전소 밀집 지역은 각종 규제에 노출된 반면, 서울, 경기처럼 전력 소비량이 많은 지역은 별다른 부담을 지지 않은 채 혜택만 본다는 지적이 꾸준히 제기됐다. 발전소 밀집 지역은 시설 입지 반대와 관련한 갈등이 일어나고 피해를 겪고 있지만, 전기 요금은 똑같이 불합리하다는 지적이 잇따랐다. 따라서 앞으로는 전력 생산량에 비해 전력 소비량이 많은 지역은 상대적으로 전기 요금 부담이 증가할 것으로 예상된다.

(에너지경제연구원)

- 교사: 제시된 자료에 대하여 답글을 달아 보세요.
- 갑: 발전으로 인한 대기 오염 물질 배출량이 가장 많은 지역은 충남이에요.
- 을: 모든 광역시는 전력 생산량에 비해 전력 소비량이 많아요.
- 병: 전력 생산지와 전력 소비지의 불일치로 환경 불평등이 발생할 수 있어요.
- 정: 이 법안이 시행될 경우 상대적으로 서울은 전기 요금 단가가 상승할 수 있어요.

- ① 갑, 을 ② 을, 병 ③ 병, 정
- ④ 갑, 을, 병 ⑤ 갑, 병, 정

4 (한국지리)

사회탐구 영역

16. 다음은 한국지리 수업 장면이다. 발표 내용이 옳은 학생만을 있는 대로 고른 것은?

(가)~(라) 지역에 대해 발표해 볼까요?

(가)에는 유엔 개발 계획(UNDP)의 지원을 계기로 지정된 북한 최초의 경제특구가 있어요.

(나)는 북한 최대 도시인 평양의 외항으로, 대동강 하구에 서해감문이 설치되어 있어요.

(다)와 (라) 모두 남북 합작으로 지정·운영된 관광특구가 있었으나, 2008년 이후 관광이 중단되었어요.

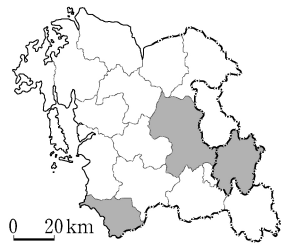
- ① 갑 ② 병 ③ 갑, 을 ④ 을, 병 ⑤ 갑, 을, 병

17. 표는 지도에 표시된 세 지역의 교육 기관 수를 나타낸 것이다. 이에 대한 설명으로 옳은 것만을 <보기>에서 고른 것은? (단, A~C는 각각 대학교, 고등학교, 초등학교 중 하나임.)

지역	교육 기관	A	B	C
(가)		152	62	17
(나)		27	10	2
(다)		18	7	0

* 대학교는 전문대학을 포함함. (2021)

(통계청)

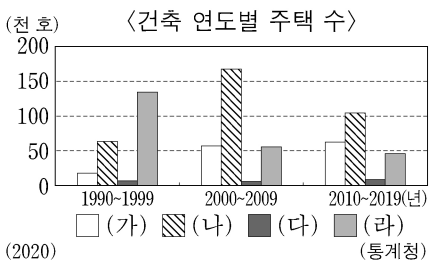


<보 기>

- ㄱ. (다)는 (가)보다 보유하고 있는 중심지 기능이 다양하다.
 ㄴ. (가)와 (나)는 모두 세종특별자치시와 경계를 접하고 있다.
 ㄷ. A는 B보다 학교 간 평균 거리가 멀다.
 ㄹ. C는 A보다 학생들의 평균 통학권 범위가 넓다.

- ① ㄱ, ㄴ ② ㄱ, ㄷ ③ ㄴ, ㄷ ④ ㄴ, ㄹ ⑤ ㄷ, ㄹ

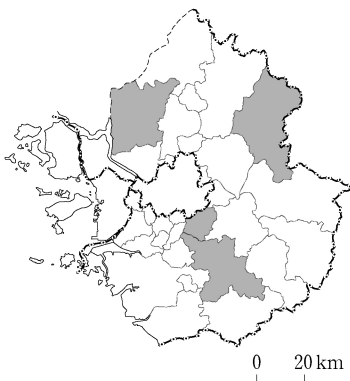
18. 다음 자료는 지도에 표시된 네 지역의 특성을 나타낸 것이다. (가)~(라)에 대한 설명으로 옳은 것은? [3점]



<통근·통학지별 인구 비율>

지역	지역 내	서울	기타
(가)	70.9	12.0	17.1
(나)	56.8	15.7	27.5
(다)	83.4	6.4	10.2
(라)	60.1	24.5	15.4

(2020) (통계청)



- ① (가)는 (라)보다 지역 내 농가 인구 비율이 높다.
 ② (나)는 (다)보다 주간 인구 지수가 높다.
 ③ (다)는 (라)보다 주택 유형 중 아파트 비율이 높다.
 ④ (가)에는 수도권 1기 신도시, (나)에는 2기 신도시가 건설되었다.
 ⑤ (가)~(라) 중 생산자 서비스업 종사자 수는 (가)가 가장 많다.

19. 다음 글은 주요 에너지 자원의 특성에 관한 것이다. (가)~(다)에 대한 설명으로 옳은 것은? (단, (가)~(다)는 각각 석유, 석탄, 천연가스 중 하나임.)

- (가) 무연탄은 주로 평안 누층군에 분포하며, 강원 남부 지역을 중심으로 생산이 활발하였으나, 에너지 소비 구조의 변화로 국내 생산량이 감소하였다. 한편 제철 공업에서 주로 사용되는 역청탄은 전량 수입에 의존하고 있다.
 (나) 1차 에너지 자원 중 현재 우리나라에서 가장 많이 소비되며, 주로 화학 공업의 원료 및 수송용 연료로 이용된다. 대부분 서남 아시아에서 수입되고 있어 수입 지역의 다변화가 필요하다.
 (다) 주로 가정·상업용 연료로 이용되며 수송 및 발전용 소비량이 증가하는 추세이다. 다른 화석 에너지보다 연소 시 대기 오염 물질 배출량이 적은 편이다.

- ① (나)의 1차 에너지 공급량이 가장 많은 지역은 경북이다.
 ② (다)의 최종 에너지 소비량이 가장 많은 지역은 경기이다.
 ③ (나)는 (가)보다 발전용으로 사용되는 비율이 높다.
 ④ (다)는 (가)보다 전력 생산에 이용된 시기가 이르다.
 ⑤ 전남은 (나)보다 (가)의 1차 에너지 공급량이 많다.

20. 다음은 지도에 표시된 A~F 지역에 대한 학생의 답변과 교사의 채점 결과이다. 이에 대한 설명으로 옳은 것만을 <보기>에서 고른 것은? [3점]

질문	답변	
	갑	을
A와 B는 모두 인구 100만 명 이상 도시인가요?	예	예
B와 C는 모두 서울과 전철로 연결되어 있나요?	예	아니요
(가)	㉠	아니요
(나)	㉡	예
점수	4점	2점

* 교사는 각 답변이 맞으면 1점, 틀리면 0점을 부여함.

<보 기>

- ㄱ. (가)가 'D와 F에는 모두 폐탄광을 활용한 석탄 박물관이 있나요?'이면, ㉡은 '예'이다.
 ㄴ. (나)가 'D는 C보다 청장년층 인구의 성비가 높나요?'이면, ㉠은 '예'이다.
 ㄷ. (가)가 'C에는 다목적 댐이 있나요?'이면, (나)에는 'B에는 유네스코에 등재된 세계 문화유산이 있나요?'가 들어갈 수 있다.
 ㄹ. ㉠이 '예'이면, (나)에는 'C와 E의 지명에서 '강원'의 지명이 유래했나요?'가 들어갈 수 있다.

- ① ㄱ, ㄴ ② ㄱ, ㄷ ③ ㄴ, ㄷ ④ ㄴ, ㄹ ⑤ ㄷ, ㄹ

* 확인 사항

- 답안지의 해당란에 필요한 내용을 정확히 기입(표기)했는지 확인 하시오.

2024학년도 대학수학능력시험

사회탐구 영역 정답표
(한국지리) 과목

문항 번호	정 답	배 점	문항 번호	정 답	배 점	문항 번호	정 답	배 점	문항 번호	정 답	배 점
1	④	2	6	②	2	11	⑤	3	16	③	2
2	⑤	3	7	①	3	12	③	3	17	④	2
3	②	2	8	④	3	13	④	3	18	①	3
4	⑤	2	9	③	3	14	①	2	19	②	2
5	①	3	10	②	2	15	⑤	2	20	③	3



제 4 교시

사회탐구 영역 (세계지리)

성명 수험 번호 - 제 () 선택

1. 다음 자료의 ㉠~㉡에 대한 설명으로 옳은 것만을 <보기>에서 고른 것은? [3점]

지역화 전략의 사례

<p style="text-align: center;"><지형을 활용한 지역화></p> <p>카자흐스탄은 콜사이 호수에 관광객을 유치하기 위하여 지역 특성을 반영한 트레킹 코스를 개발하였다. 또한 이곳은 보트를 타고 호수 주변의 경치를 볼 수 있어 관광객에게 인기가 있다.</p> <ul style="list-style-type: none"> • 카자흐스탄 콜사이 호수의 ㉠ 전자 지도 	<p style="text-align: center;"><음식 문화를 활용한 지역화></p> <p>가가와현은 '우동현(うどん県)'이라 불릴 만큼 우동이 유명하다. 우동의 역사와 유명 점포를 소개하는 택시 관광 코스는 이곳의 대표적인 관광 상품이다.</p> <p><small>* 현(県)은 일본의 지방 행정 단위임.</small></p> <ul style="list-style-type: none"> • 현(県)의 청사 위치와 홍보 이미지 ㉡ 34° 20' N, 134° 3' E 
--	--

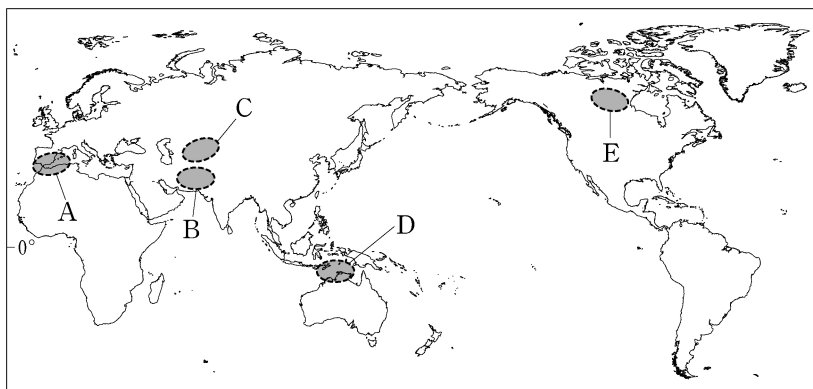
<보 기>

㉠. ㉠은 종이 지도보다 특정 지역의 확대 또는 축소가 용이하다.
 ㉡. ㉡은 지리 정보 중 속성 정보에 해당한다.
 ㉢. ㉢은 지역 브랜드화의 사례이다.
 ㉣. 적도와의 최단 거리는 ㉣이 ㉡보다 짧다.

- ① ㉠, ㉡ ② ㉠, ㉢ ③ ㉡, ㉣ ④ ㉡, ㉣ ⑤ ㉢, ㉣

2. 다음 글에서 설명하는 지역을 지도의 A~E에서 고른 것은?

이 지역은 소련이 붕괴되면서 다양한 민족과 언어 집단에 따라 여러 국가로 독립되었다. 특히, 유럽 문화, 건조 문화, 동양 문화가 접하는 문화적 점이 지대가 형성되었으며, 지금도 다양한 세력의 영향이 공존하고 있다. 이 지역에는 사막과 스텝이 넓게 나타나며, 텐산 산맥 주변에는 이들 국가의 주요 도시들이 분포하고 있다.



- ① A ② B ③ C ④ D ⑤ E

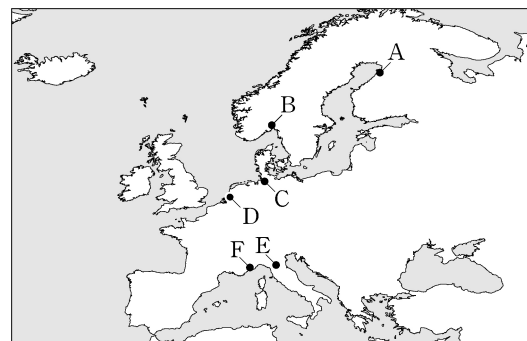
3. 다음 자료는 두 지역의 지형에 관한 것이다. 밑줄 친 ㉠, ㉡에 대한 설명으로 옳은 것은? [3점]

	
<p>주화는 ㉠ 알프스 산맥에 있는 <u>뾰족한 형태의 호른</u> 주변에서 이동하는 <u>빙하의 모습</u>을 보여 준다.</p>	<p>메달은 미국 서부의 ㉡ <u>모뉴먼트 밸리</u>에 <u>우뚝 솟아 있는 뷰트</u>의 모습을 보여 준다.</p>

- ① ㉠은 주로 바람의 침식 작용으로 형성되었다.
 ② ㉡은 암석의 차별적 풍화와 침식으로 형성되었다.
 ③ ㉠은 고기 습곡 산지, ㉡은 순상지에 위치해 있다.
 ④ ㉠ 주변에는 플라야, ㉡ 주변에는 권곡이 발달한다.
 ⑤ ㉠과 ㉡은 모두 물리적 풍화보다 화학적 풍화가 활발하다.

4. 다음 자료는 유럽의 클러스터 지역 답사 안내문의 일부이다. (가)~(다)에 해당하는 지역을 지도의 A~F에서 고른 것은? [3점]

일정	지역	특성
1일 차	(가)	• 발트해 북동쪽에 위치한 첨단 IT 기반의 기술 도시로 성장 • 성공 요인은 대기업과 대학 중심의 협력 네트워크 형성과 지방 정부 주도의 '테크노폴리스' 설립
2일 차	(나)	• 라인강 하구에 입지한 대규모 항구 도시로 세계적인 석유 화학 클러스터 조성 • 성공 요인은 유럽 주요 도시로 통하는 교통망, 송유관 등 배후 수송망 및 시설의 발달
3일 차	(다)	• 알프스 산맥 남쪽의 도시로 섬유, 의류 등에 특화된 다품종 소량 생산 방식의 장인적 중소기업이 집적 • 성공 요인은 신뢰를 바탕으로 기업 간 협력 네트워크 형성



- (가) (나) (다)
- ① A C F
 ② A D E
 ③ B C F
 ④ B D E
 ⑤ B D F

2 (세계지리)

사회탐구 영역

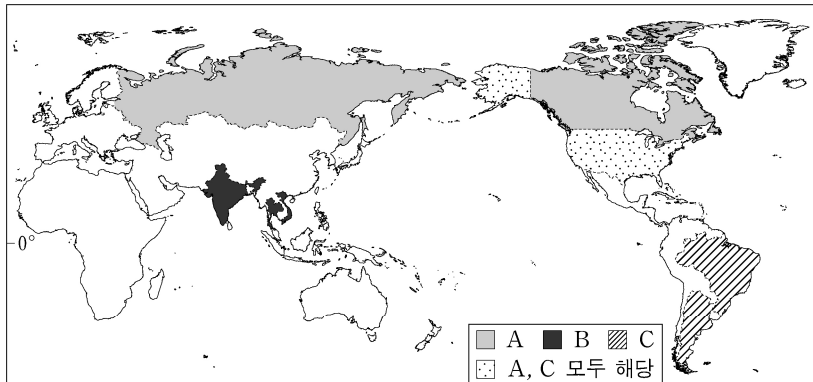
5. 표의 (가)~(라)에 대한 설명으로 옳은 것은?

지진 정보			
주요 피해 지역(국가)	지진 발생일	진앙지의 위·경도	지진 규모
(가)	2023.09.08.	31° 3' 18" N, 8° 23' 53" W	6.8
(나)	2023.02.06.	37° 13' 34" N, 37° 0' 50" E	7.8
아이티	2021.08.14.	18° 26' 2" N, 73° 28' 55" W	7.2
(다)	2018.09.28.	0° 15' 22" S, 119° 50' 46" E	7.5
(라)	2015.04.25.	28° 13' 52" N, 84° 43' 52" E	7.8

* 주요 피해 지역(국가)은 사망자 2,000명 이상인 국가임.

- ① (가)는 동아프리카 지구대가 형성되는 지역이다.
- ② (나)는 환태평양 조산대에 속한 지역이다.
- ③ (다)는 유라시아판과 아라비아판이 만나는 지역이다.
- ④ (라)는 대륙판과 대륙판이 충돌하여 산맥이 형성되는 지역이다.
- ⑤ (가)와 (나)는 해령에서 마그마가 분출하여 지각이 확장되는 지역이다.

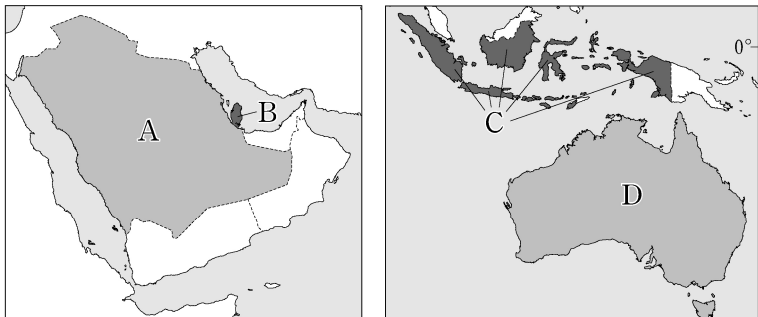
6. 지도는 A~C 작물의 주요 수출국을 나타낸 것이다. 이에 대한 설명으로 옳지 않은 것은? (단, A~C는 각각 밀, 쌀, 옥수수 중 하나임.) [3점]



* 2016~2020년 수출액의 평균값 기준 상위 3개국을 선정하여 해당 국가만을 표시함.

- ① A는 내건성이 약해 고온 다습한 지역에서 주로 재배된다.
- ② B의 생산량은 북아메리카가 오세아니아보다 많다.
- ③ C의 기원지는 아메리카이다.
- ④ A와 B의 최대 생산국은 동일하다.
- ⑤ A~C 중 국제 이동량은 B가 가장 적다.

7. 지도의 A~D 국가에 대한 설명으로 옳은 것은?



- ① A는 최대 도시인 두바이를 관광 산업의 중심지로 육성하고 있다.
- ② D의 주요 수입품은 철광석, 보크사이트 등의 광물 자원이다.
- ③ B는 A보다 천연가스 수출량이 많다.
- ④ D는 C보다 국내 총생산(GDP) 중 2차 산업의 비율이 높다.
- ⑤ B와 C는 모두 아시아·태평양 경제 협력체(APEC) 회원국이다.

8. 다음 글은 대기 대순환에 관한 것이다. 밑줄 친 ㉠~㉣에 대한 설명으로 옳은 것만을 <보기>에서 고른 것은? [3점]

대기 대순환은 세계 여러 지역의 강수량 분포에 큰 영향을 미친다. ㉠ 적도 지역에서는 상승 기류가 탁월하게 발달한다. 이 기류는 고위도 지역으로 이동하다가 남·북위 30° 부근에서 하강한다. 이 하강 기류에 의해 ㉡ 아열대 고압대가 형성되면서 사막이 곳곳에 발달한다. 중위도 지역에서는 저위도와 고위도의 기압 차이와 지구 자전에 의해 탁월풍인 ㉢○○풍이 분다. 극 지역에서는 하강 기류가 형성된 후, 중위도 지역으로 바람이 불어 나가면서 중위도 탁월풍대와 만나 ㉣□□ 전선을 형성한다.

<보 기>

- ㉠. ㉠은 한랭 건조한 기단과 온난 습윤한 기단이 만나기 때문이다.
- ㉡. ㉡의 대표적인 사례로 몽골의 고비 사막을 들 수 있다.
- ㉢. ㉢이 안데스 산맥을 넘어 형성한 비그늘 지역에 파타고니아 사막이 발달하였다.
- ㉣. ㉣의 형성 지역은 극 고압대 지역에 비해 강수량이 많다.

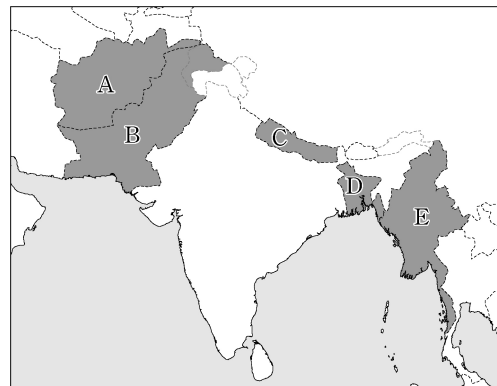
- ① ㉠, ㉡ ② ㉠, ㉢ ③ ㉡, ㉣ ④ ㉢, ㉣ ⑤ ㉢, ㉣

9. (가)에 해당하는 국가를 지도의 A~E에서 고른 것은? [3점]

<2024년 세계 기상 기구(WMO) 달력 표지>



간지스강 하류에 위치한 (가)에서는 홍수가 자주 발생한다. 이 사진은 간지스강으로 유입하는 브라마푸트라강의 유역에서 발생한 홍수 피해 모습을 보여 주고 있다. 하천의 범람으로 인해 침수된 집 안에서 망연자실한 채 창밖을 응시하는 여인의 모습이 안타까움을 더해 준다.



- ① A
- ② B
- ③ C
- ④ D
- ⑤ E

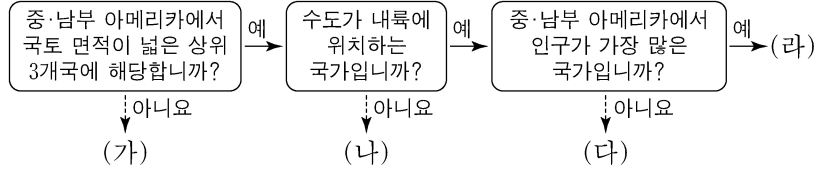
10. (가), (나)에 해당하는 국제 환경 협약/협정으로 옳은 것은?

- 국제 사회는 폐기물 및 기타 물질의 투기로 인한 해양 오염을 방지하기 위한 목적으로 1972년에 (가)을 체결하였다. 최근 인간 활동이 해양 환경에 미치는 영향이 증가하면서 다시 이 협약/협정의 중요성이 부각되고 있다.
- 국제 사회는 습지를 보호하기 위해 1971년에 (나)을 체결하였다. 최근 한 저명한 학술지는 바다와 숲은 물론 습지도 이산화탄소의 주요 저장고라는 연구 결과를 발표하면서 습지의 중요성을 재차 강조하였다.

(가) (나)

- ① 런던 협약 람사르 협약
- ② 런던 협약 바젤 협약
- ③ 파리 협정 런던 협약
- ④ 파리 협정 람사르 협약
- ⑤ 람사르 협약 바젤 협약

11. (가)~(라) 국가에 대한 설명으로 옳은 것만을 <보기>에서 있는 대로 고른 것은? (단, (가)~(라)는 각각 멕시코, 볼리비아, 브라질, 아르헨티나 중 하나임.)

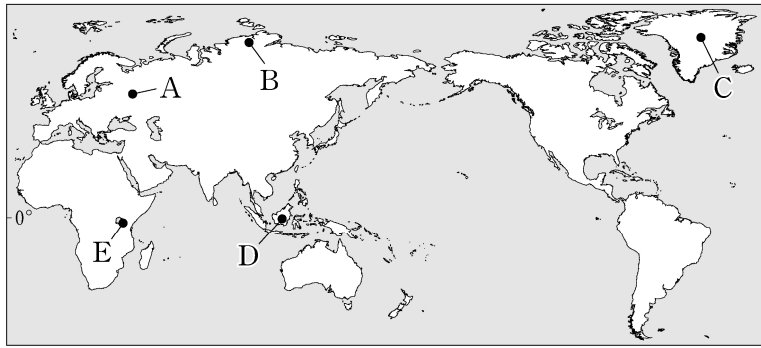


<보 기>

ㄱ. (가)의 수도는 북반구에 위치한다.
 ㄴ. (나)에서 가장 많이 사용하는 언어는 에스파냐어이다.
 ㄷ. (다)에는 마킬라도라 산업 지역이 있다.
 ㄹ. (나)는 (라)보다 자국 내 총인구에서 백인이 차지하는 비율이 높다.

- ① ㄱ, ㄴ ② ㄱ, ㄷ ③ ㄴ, ㄹ
 ④ ㄱ, ㄷ, ㄹ ⑤ ㄴ, ㄷ, ㄹ

12. 지도의 A~E 지역에 대한 설명으로 옳은 것은? [3점]



- ① A에는 카사바, 양 등의 식량 작물이 주로 재배된다.
 ② B에는 소와 양의 기업적 방목이 이루어진다.
 ③ C에는 타이가라고 불리는 침엽수림대가 넓게 분포한다.
 ④ D의 전통 가옥은 이동식 천막인 유르트이다.
 ⑤ E의 사바나에는 사자, 얼룩말 등의 야생 동물이 서식한다.

13. (가)~(다) 국가에 대한 설명으로 옳은 것만을 <보기>에서 있는 대로 고른 것은?

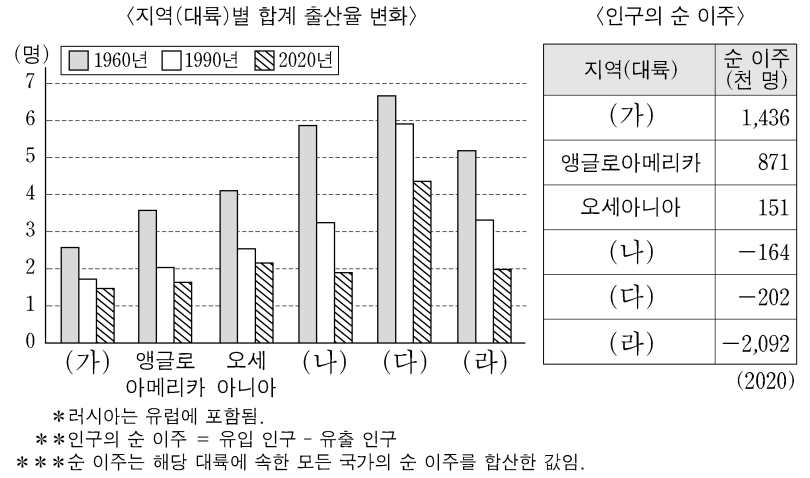
내륙국은 영토가 바다와 접하지 않은 국가이다. 유럽에는 면적이 좁은 내륙국이 많다. 대표적인 국가는 바티칸과 산마리노를 들 수 있으며, 이들 국가는 (가)에 둘러싸여 있다. 산지에 위치한 안도라는 (나)을/를 포함한 두 국가와 국경을 접하고 있는 내륙국이다. 또한 룩셈부르크는 벨기에, (나), (다)에 둘러싸인 내륙국이다. (다)은/는 룩셈부르크를 포함한 4개의 내륙국 및 그 외의 국가들과 국경을 접하고 있다.

<보 기>

ㄱ. 벨기에의 왈로니아(왈롱) 지역에서는 (나)어를 주로 사용한다.
 ㄴ. (나)에는 로렌 공업 지역이, (다)에는 루르 공업 지역이 있다.
 ㄷ. (가)와 (다)는 국경을 접하고 있다.

- ① ㄱ ② ㄷ ③ ㄱ, ㄴ ④ ㄴ, ㄷ ⑤ ㄱ, ㄴ, ㄷ

14. 다음 자료의 (가)~(라)에 대한 설명으로 옳은 것만을 <보기>에서 있는 대로 고른 것은? (단, (가)~(라)는 각각 라틴 아메리카, 아시아, 아프리카, 유럽 중 하나임.) [3점]

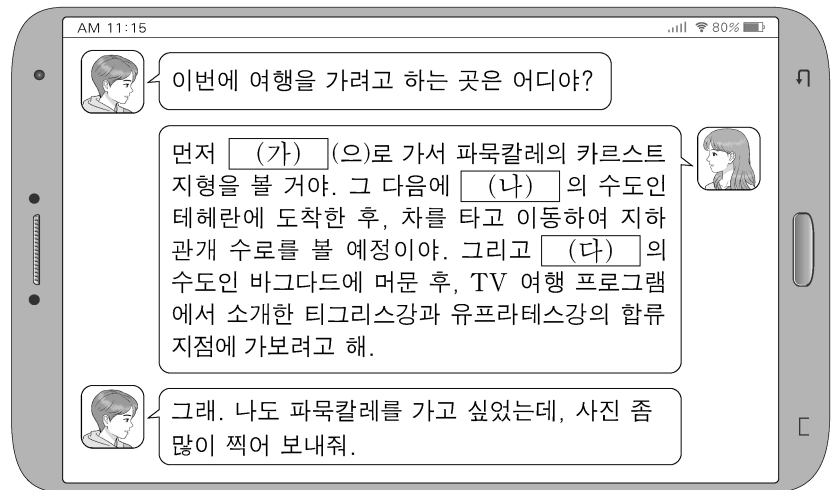


<보 기>

ㄱ. (다)에는 전 세계에서 인구가 가장 많은 국가가 있다.
 ㄴ. 2020년 기준 (가)는 (나)보다 인구가 많다.
 ㄷ. (라)는 (다)보다 인구 밀도가 높다.
 ㄹ. 1960년 합계 출산율은 아프리카 > 라틴 아메리카 > 아시아 순으로 높다.

- ① ㄱ, ㄴ ② ㄱ, ㄷ ③ ㄷ, ㄹ
 ④ ㄱ, ㄴ, ㄹ ⑤ ㄴ, ㄷ, ㄹ

15. 다음은 여행 계획에 관한 두 학생 간 대화의 일부이다. (가)~(다) 국가에 대한 설명으로 옳은 것만을 <보기>에서 있는 대로 고른 것은?



<보 기>

ㄱ. (가)는 시아파보다 수니파의 신자가, (나)는 수니파보다 시아파의 신자가 많다.
 ㄴ. (나)는 (다)보다 국토 면적이 좁다.
 ㄷ. (가)와 (다)는 모두 지중해 연안에 위치한다.

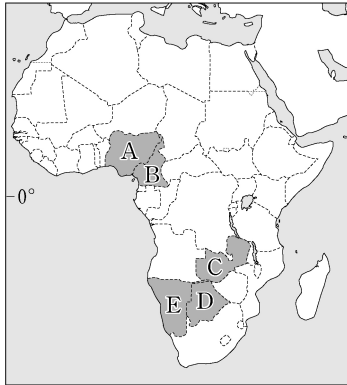
- ① ㄱ ② ㄴ ③ ㄱ, ㄷ ④ ㄴ, ㄷ ⑤ ㄱ, ㄴ, ㄷ

4 (세계지리)

사회탐구 영역

16. 다음 글의 (가), (나)에 해당하는 국가를 지도의 A~E에서 고른 것은?

○ (가) 은/는 석유 수출국 기구(OPEC) 회원국이며 나이저강의 삼각주를 따라 원유와 가스의 생산량과 수출량이 많다. 그러나 원유를 정제하는 시설과 기술이 부족하여 석유 제품을 수입하고 있다.
 ○ (나) 은/는 콩고 민주 공화국과 국경을 접하고 있으며, 아프리카의 주요 구리 생산국이다. 이 국가와 짐바브웨의 접경 지대에는 경치가 아름다운 잠베지강과 폭포가 있다.



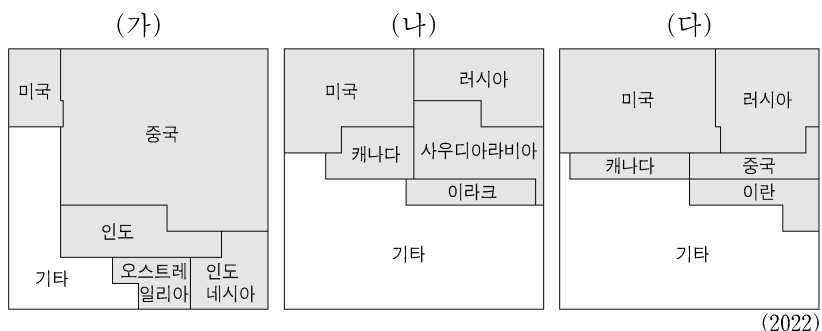
- | | | |
|---|-----|-----|
| | (가) | (나) |
| ① | A | C |
| ② | A | D |
| ③ | B | C |
| ④ | B | D |
| ⑤ | B | E |

17. (가)~(라) 종교에 대한 설명으로 옳은 것은? (단, (가)~(라)는 각각 불교, 이슬람교, 그리스도교, 힌두교 중 하나임.) [3점]

문순 아시아의 일부 지역에서는 다양한 종교로 인한 갈등과 분쟁이 발생하고 있다. 대표적인 사례로는 필리핀과 스리랑카를 들 수 있다. 필리핀은 국민의 대부분이 (가) 신자이다. 반면 미나오섬의 모로족은 대부분 (나) 를 믿으며 필리핀으로부터 분리·독립을 요구하고 있다. 또한 스리랑카에서는 (다) 신자가 대다수인 신타리족과 (라) 신자가 대다수인 타밀족 간 분쟁이 발생하였다.

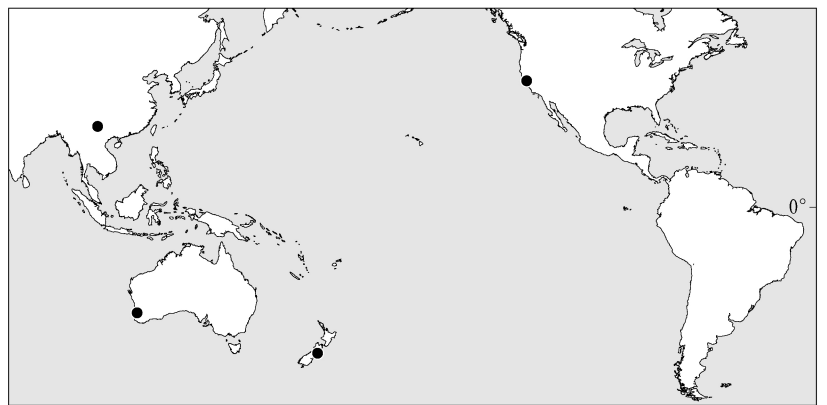
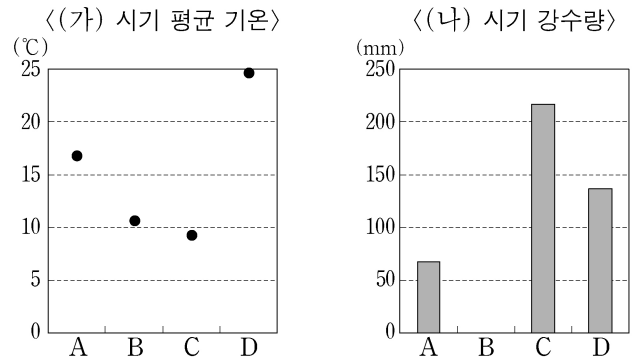
- (가)는 여러 신을 믿는 다신교이다.
- (다)의 대표적인 종교 경관은 모스크이다.
- (라)의 기원지는 서남아시아이다.
- 사하라 이남 아프리카에서는 (가)의 신자가 (나)의 신자보다 많다.
- 전 세계의 신자는 (다)가 (라)보다 많다.

18. 다음 자료는 1차 에너지원별 주요 생산국의 생산 비율을 나타낸 것이다. (가)~(다)에 대한 설명으로 옳은 것은? (단, (가)~(다)는 각각 석유, 석탄, 천연가스 중 하나임.) [3점]



- (가)는 최대 생산국과 최대 수출국이 동일하다.
- (나)는 산업용보다 수송용으로 소비되는 비율이 높다.
- (가)는 (나)보다 세계 1차 에너지 소비량에서 차지하는 비율이 높다.
- (나)는 (다)보다 상용화된 시기가 늦다.
- (가)~(다) 중 (다)는 연소 시 대기 오염 물질 배출량이 가장 많다.

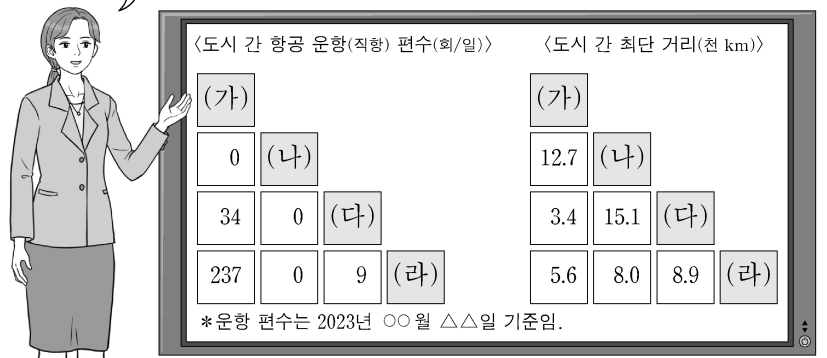
19. 그래프는 지도에 표시된 네 지역의 기후 특성을 나타낸 것이다. A~D 지역에 대한 설명으로 옳은 것은? (단, (가), (나) 시기는 각각 1월, 7월 중 하나임.)



- A는 북반구, B는 남반구에 위치해 있다.
- C는 지중해성 기후 지역, D는 서안 해양성 기후 지역에 속한다.
- A~D 중 여름 강수 집중률이 가장 높은 지역은 C이다.
- (가) 시기에 C는 D보다 정오의 태양 고도가 높다.
- (나) 시기에 A는 B보다 낮 길이가 길다.

20. 다음은 '세계 도시'의 학습 장면이다. 학생의 발표 내용 중 가장 적절한 것은?

(가)~(라)의 항공 운항 자료를 통해 추론한 내용을 발표해 볼까요?
 단, (가)~(라)는 각각 뉴욕, 다카, 런던, 멕시코시티 중 하나입니다.



- 갑: (나)는 라틴 아메리카에서 인구가 가장 많은 도시예요.
- 을: (다)는 세계 도시 체계에서 최상위 계층의 도시예요.
- 병: (라)는 국제 연합(UN)의 본부가 위치하며, 세계 금융의 중심지예요.
- 정: (가)와 (다)는 모두 해당 국가의 수도예요.
- 무: 멕시코시티~런던의 최단 거리는 다카~런던의 최단 거리보다 길어요.

* 확인 사항
 ○ 답안지의 해당란에 필요한 내용을 정확히 기입(표기)했는지 확인 하시오.

2024학년도 대학수학능력시험

사회탐구 영역 정답표
(세계지리) 과목

문항 번호	정 답	배 점	문항 번호	정 답	배 점	문항 번호	정 답	배 점	문항 번호	정 답	배 점
1	②	3	6	①	3	11	⑤	2	16	①	2
2	③	2	7	③	2	12	⑤	3	17	④	3
3	②	3	8	⑤	3	13	③	2	18	②	3
4	②	3	9	④	3	14	⑤	3	19	③	2
5	④	2	10	①	2	15	①	2	20	⑤	2

제 4 교시

사회탐구 영역 (동아시아사)



성명

수험 번호


제 () 선택

1. (가)에 들어갈 유물로 가장 적절한 것은?

창장강 하류 지역에서는 허무두 문화가 발전하여 흑도, 회도 등 다양한 토기가 만들어졌습니다. 지금 보고 있는 유물은 이 지역에서 출토된 대표적 토기 중의 하나입니다.



2. (가) 왕조에 대한 설명으로 옳은 것은?



이 자료는 중국 신장 웨이리의 무덤에서 발굴된 옷으로 동서 교류의 흔적을 보여준다. 이 옷의 걸감에는 그리스 양식의 무기와 높은 코, 곱슬머리 등 이국적 외모를 지닌 남성 등이 묘사되어 있으며, 옷 안쪽은 중국의 비단으로 덧대어 있다. 신장은 비단길의 주요 경로로서, (가)의 장군이 다녀온 후 널리 알려졌으며, 이 왕조는 도호부를 설치하여 이 지역을 관리하기도 하였다.

- ① 군국제를 시행하였다.
- ② 3성 6부를 설치하였다.
- ③ 남북조 시대를 통일하였다.
- ④ 취안저우 등지에 시박사를 두었다.
- ⑤ 좌현왕과 우현왕을 두어 다스렸다.

3. 밑줄 친 '이 나라'에 대한 설명으로 옳은 것은? [3점]

황제는 다시 출병하여 연운 지역을 수복하고자 하였다. 이에 황족인 아율대석이 "동쪽에서 흥기한 이 나라의 군대가 장춘과 요양을 함락시키자 황제께서 중경을 수도로 삼았고 ... (중략) ... 운중에서 협산으로 피난 오셨습니다. 나라의 온 힘을 모아 전쟁에 대비하지 못했기 때문에 우리 나라 대부분의 땅을 빼앗기게 되었습니다. ... (중략) ... 마땅히 병사를 기르고 때를 기다려 움직여야지 경솔하게 군대를 움직여서는 안 됩니다."라고 간언하였다. 그러나 황제는 간언을 받아들이지 않고 군대를 이끌고 출병하였다가 이 나라의 군대에 사로잡혔다.

- ① 발해를 멸망시켰다.
- ② 별무반을 조직하였다.
- ③ 맹안·모극제를 실시하였다.
- ④ 5대 10국의 분열을 수습하였다.
- ⑤ 탕구트족의 이원호가 건국하였다.

4. ㉠~㉣ 국가에 대한 설명으로 옳은 것은? [3점]

중대성이 문서를 보냅니다. ㉠ 귀국은 ㉣ 이 나라에서 귀환하지 못한 사신을 데려오기 위해 사절 99명을 ㉡ 본국에 파견하였습니다. 하지만 절도사의 반란으로 ㉣ 이 나라의 수도 장안이 혼란한 상황이라 99명의 사절은 이리지도 저리지도 못하는 상황입니다. 그러므로 ㉠ 귀국의 대사 고원도를 비롯한 11명은 그대로 보내 귀환하지 못한 민부성 관원을 데려오도록 하고, 판관 이하는 모두 배에 태워 돌려보내고자 합니다.

- ① ㉠은 낙랑군을 축출하였다.
- ② ㉠과 ㉣은 백강 전투에서 승리하였다.
- ③ ㉣은 ㉡에 문성 공주를 보냈다.
- ④ ㉡은 ㉠에 적산 법화원을 건립하였다.
- ⑤ ㉡은 ㉣의 영향을 받아 상경성을 세웠다.

5. (가) 유학 사상에 대한 설명으로 옳은 것은?

자료로 읽는 동아시아 사상사

양지 두 글자는 본디 맹자의 말인데, 상산이 꼬집어내어 화두로 삼았다. 왕수인에 이르러서는 비로소 『대학』의 격물치지와 거짓으로 짜 맞추어 주장을 펼쳤으니, 그는 정호·정이 형제와 주희의 격물치지에 대한 해석을 뒤집고자 하였던 것이다. 그러나 그의 주장은 속임수와 영성함으로 그 천박함과 남루함을 가리려 한 것일 뿐, 사리에 맞지 않는다.

〈해설〉
이 자료는 조선의 한 유학자가 (가) 을/를 비판하는 내용입니다. 특히 유교 경전인 『대학』의 격물치지에 대한 해석을 비판의 중점으로 삼았습니다.

- ① 윤희와 해탈을 중시하였다.
- ② 명대 관학으로 채택되었다.
- ③ 다이호 율령 제정에 영향을 끼쳤다.
- ④ 마음이 곧 원리라는 심즉리를 내세웠다.
- ⑤ 고려 말 신진 사대부의 사상적 기반이 되었다.

동아시아사

2 (동아시아사)

사회탐구 영역

6. (가) 막부 시기의 동아시아 문화에 대한 설명으로 옳지 않은 것은?



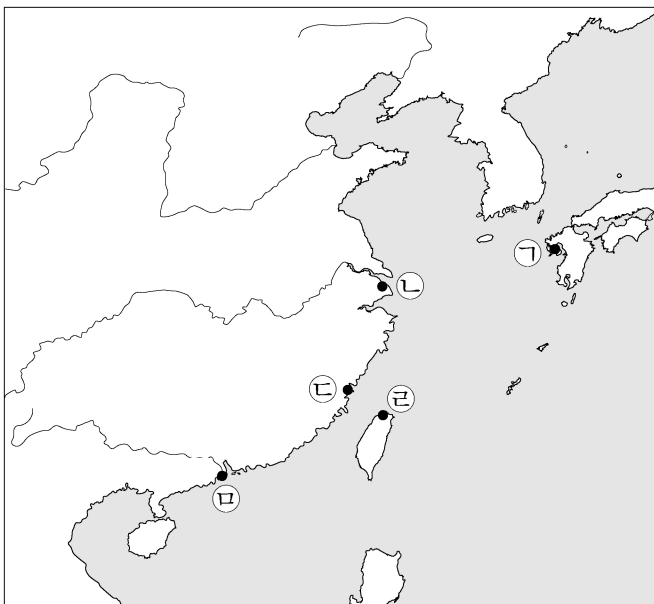
이 그림은 에레키테루라는 정전기 발생 장치로 환자를 치료하는 모습을 묘사하고 있다. 에레키테루는 전기나 전류를 뜻하는 네덜란드어에서 유래한 말로, 일본에서는 정전기 발생 장치를 통칭하는 의미로 쓰였다. (가) 막부 시기 난학자 히라가 겐나이가 파손된 에레키테루를 구입하여 복원하는 데 성공하였다. 이후 정전기 발생 장치는 일본에서 치료나 놀이에 활용되었다.

- ① 한국 - 춘향전 등 한글 소설이 유행하였다.
- ② 한국 - 관리 선발에 독서삼품과가 활용되었다.
- ③ 중국 - 남녀의 사랑을 표현한 홍루몽이 저술되었다.
- ④ 중국 - 황실과 상인의 지원 아래 경극이 성행하였다.
- ⑤ 일본 - 인물, 풍속 등을 묘사한 우키요에가 발달하였다.

7. (가) 지역을 지도에서 옳게 고른 것은? [3점]

○○○계
포르투갈은 몰라카를 점령하여 동방 무역의 교두보로 삼았고, 중국으로부터 (가)에서의 거주권도 인정받아 막대한 이익을 얻고 있습니다. 만약 우리가 이 지역을 빼앗으면 포르투갈을 대신하여 일본에 중국 생사를 공급할 수 있을 것입니다. 또한 아시아에서 포르투갈이 누리고 있는 독점적 지위를 뺏을 수 있으며, 동시에 몰라카도 공략할 수 있습니다. (가)을 점령하면 결국 우리는 전 세계가 그토록 갈망하는 중국의 부와 상품을 얻을 수 있습니다.

바타비아 총독 안 코엔으로부터



- ① (가)
- ② (나)
- ③ (다)
- ④ (라)
- ⑤ (마)


8. (가) 왕조 시기 동아시아 상황에 대한 설명으로 옳은 것은? [3점]

(가)의 선대 황제가 화북을 평정한 후 얼마 지나지 않아 상(上)이 제나라를 정벌하려 하였다. 상은 군대를 이끌고 남하하여 황허를 건넜고, 옛 왕조의 수도에 이르러 진을 치고 궁궐터를 둘러보았다. 상이 출병할 때 문무백관이 극구 만류하자, 상은 수도 이전을 공포하고, 말하길 “먼저 이곳을 수도로 삼아 정비를 마무리하고, 이후 남벌하겠다. 옛일을 거울삼아 멀리 도모하여 때를 기다리며 군대를 쉬게 하고, 수도에 오래도록 머무르며 황제의 거처로 삼겠다.”라고 하였다.

- ① 자금성이 건설되었다.
- ② 복제와 복주가 대립하였다.
- ③ 가마쿠라 막부가 수립되었다.
- ④ 거란이 북면관제와 남면관제를 시행하였다.
- ⑤ 고구려가 남북조와 조공·책봉 관계를 맺었다.

9. 밑줄 친 ㉠이 있었던 시기에 동아시아에서 볼 수 있는 모습으로 가장 적절한 것은?

이 자료는 태양력 적용 전에 제작된 음력으로 표기된 달력입니다. ㉠ 일본에서는 태양력 도입으로 음력 12월 3일이 양력 1월 1일이 되었습니다. 갑작스런 변화에 새로운 달력을 구하지 못한 사람들은 음력에 양력 날짜를 표시하여 사용하였습니다. 자료에 보이는 것처럼 음력 1월 1일은 양력 1월 29일입니다.



- ① 광무개혁을 추진하는 관리
- ② 도쿄 대학에서 연구하는 학생
- ③ 광저우에서 교역하는 영국 상인
- ④ 태평천국 운동을 진압하는 군인
- ⑤ 막부 타도 운동에 참여하는 무사

10. (가), (나) 황제에 대한 설명으로 옳은 것은? [3점]

진공은 유양 사람으로 적이 쳐들어오자 군인으로 참전하였다. (가)이 보낸 적에 의해 수도 임안이 함락되고, 이후 애산 앞바다에서도 패하여 황제가 자결하니 군사들도 이를 따랐다. 이에 진공도 그 뒤를 따르려 하였으나 천운으로 살아남았다. 이후 진공은 우여곡절 끝에 고향에 돌아와 결혼하여 성녀를 낳았다. 오호! 진공이 덕을 두텁게 쌓으니 하늘이 도와 성녀를 태어나게 하였다. 성녀의 아들인 (나)은/는 적을 몰아내고 한족의 왕조를 건국하였다.

- ① (가) - 금을 멸망시켰다.
- ② (가) - 일본 원정을 단행하였다.
- ③ (가) - 송과 전연에서 맹약을 체결하였다.
- ④ (나) - 조선과 형제의 관계를 맺었다.
- ⑤ (나) - 일본과 감함 무역을 실시하였다.

11. 다음 사절단의 파견 시기 동아시아에서 볼 수 있는 상황으로 옳은 것은?



자료는 일본이 개항 이후 파견한 사절단원의 사진이다. 이 사절단은 2년 전 체결된 나가사키 등지의 개항을 명시한 조약의 비준서 교환과 근대 시설 견학 등을 위해 파견되었다. 사절단은 워싱턴에서 이 조약의 비준서를 교환하고, 군함을 만드는 조선소를 견학하였다. 그해 말 귀국한 사절단 중 한 명인 오구리 다다마사는 조선소와 제철소 건립을 주장하였다.

- ① 급진 개화파의 주도로 갑신정변이 일어났다.
- ② 상하이에서 영국 상인이 신보를 발행하였다.
- ③ 영사 재판권이 포함된 강화도 조약이 조인되었다.
- ④ 입헌제를 명시한 대일본 제국 헌법이 제정되었다.
- ⑤ 크리스티교 포교를 인정한 베이징 조약이 체결되었다.

12. 밑줄 친 ‘봉기’에 대한 설명으로 옳은 것은?

베이징 주재 공사와 해군 장군이 보낸 심각한 소식들에 비추어 보건대, 최근 산둥에서 일어난 봉기가 확대되고 있습니다. 베이징에 있는 러시아 제국 공사관원의 생명과 재산 등을 보호하고, 특히 일본군이나 기타 외국 군대가 들어오는 사태를 막기 위해서 조차지인 뤄순에 있는 군인 4천여 명을 파견하는 것이 시급합니다. 영국 공사도 우리에게 이런 조치를 취해줄 것을 은밀히 요구해 왔습니다. 이 조치는 우리가 만주 지역을 점령하는 이점을 다시금 증명해 줄 것입니다.

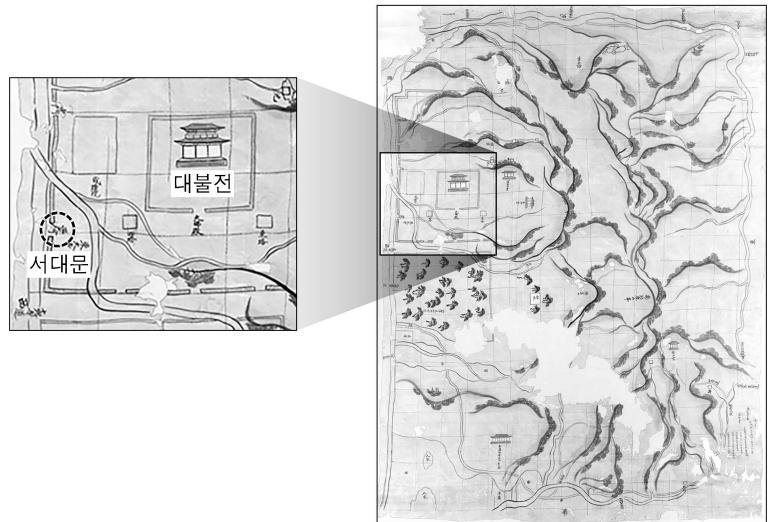
- ① 동학 농민 운동에 영향을 주었다.
- ② 홍수전이 조직한 상계회가 주도하였다.
- ③ 타이완이 일본에 할양되는 배경이 되었다.
- ④ 청을 도와 서양 세력을 몰아내자는 구호를 내세웠다.
- ⑤ 일본이 만주 남부의 철도 부설권을 갖는 결과를 낳았다.

13. 다음에 나타난 전쟁 시기에 있었던 사실로 옳은 것은? [3점]

천자의 병사가 동쪽으로 가는 것은 천자의 인자함에서이고, 그대 나라의 외침을 가련히 여긴 것은 곧 성심의 남다른 은혜에서입니다. 천자의 군대는 황명을 받들어 천자의 성덕과 위엄을 드높일 뿐입니다. 지금 평양에서 이기고, 황주를 되찾으며, 개성에서 무찌르고, 함경도에서 적을 몰아냈습니다. 이는 마치 바람이 열린 안개를 쫓고 불이 마른 풀을 태우듯이 하여 삼한 백제가 이미 태평을 되찾은 것입니다.

- ① 몽골이 베이징을 포위하였다.
- ② 인조가 남한산성에서 항전하였다.
- ③ 나·당 연합군이 고구려를 멸망시켰다.
- ④ 강홍립이 사르후 전투에서 투항하였다.
- ⑤ 일본이 조선 남부 4도 할양 등을 요구하였다.

14. (가) 시대에 동아시아에서 볼 수 있는 모습으로 가장 적절한 것은? [3점]



이 자료는 쇼무 천황의 명으로 건립 중이던 도다이사의 영역을 나타낸 지도로, 창건 초기의 건축물 중 대불을 모신 대불전과 서대문 등이 그려져 있다. 사찰의 정문인 서대문은 (가) 시대의 수도 헤이조쿄 내의 주요 도로인 이조대로로 통하고 있으며, 그 인근에서 사찰의 정문이었음을 알려 주는 편액이 발견되었다.

- ① 견당사를 접견하는 황제
- ② 사서집주를 저술하는 유학자
- ③ 백운동 서원에서 공부하는 선비
- ④ 원강 석굴 대불을 조성하는 장인
- ⑤ 쇼토쿠 태자에게 불법을 가르치는 승려

15. 밑줄 친 ‘우리 나라’에 대한 설명으로 옳은 것은?

S#3. 교양병 직의 설치를 논의하는 장면

신 하: 세조께서 베이징으로 도읍을 옮기고, 성조께서 혼란을 수습한 이래 우리 나라의 인구가 증가하였습니다. 생계 해결을 위해 군인의 수를 늘리는 것이 어떨지 말씀드립니다.

황 제: 4,800명을 선발하여 교양병이라 칭하고 군사 훈련을 시키라. 선발된 인원에게 매월 3냥을 지급하라. 각 기별로 600명을 선발하고, 이중 한군 80명에게는 3냥이 아니라 2냥을 지급하라. 이렇게 하여 남은 액수를 융통하면 한군 40명을 더 뽑아 모두 120명을 선발할 수 있다. 시행할 수 있도록 힘쓰라.

신 하: 가난한 자 중에 병사의 자질이 있는 자를 선발하여 시행토록 하겠습니다.

- ① 거란(요)을 멸망시켰다.
- ② 흥정 헌법 대강을 제정하였다.
- ③ 정화를 동남아시아 등지에 파견하였다.
- ④ 대월의 전홍다오 군대와 전투를 벌였다.
- ⑤ 왜구의 근거지인 쓰시마섬을 정벌하였다.

4 (동아시아사)

사회탐구 영역

16. 밑줄 친 '이 운동'에 대한 설명으로 옳은 것은?

중국은 원명원에서 치욕을 겪은 후 큰 충격을 받아 병제 개혁과 해안 방어를 중요 과제로 여기고, 이 운동을 전개하고 있습니다. 그 일환으로 푸저우에는 대형 조선소를 건설하여 크고 작은 군함을 제조하고 있고, 광저우·항저우·난징·톈진 등지에 금릉 기기국, 강남 제조 총국 등의 조병국을 건설해서 총포와 탄약을 제조하고 있습니다. 또한 한커우·광저우 등 연안의 요충지에는 포대를 건축하였습니다.

- ① 군벌 타도를 제창하였다.
- ② 한인 관료들이 주도하였다.
- ③ 공화정 수립을 목표로 하였다.
- ④ 홍콩이 할양되는 결과를 가져왔다.
- ⑤ 삼국 간섭의 영향을 받아 전개되었다.

17. 밑줄 친 '5년 동안'에 있었던 사실로 옳은 것만을 <보기>에서 있는 대로 고른 것은? [3점]

일본은 침략 전쟁에서 어려워지는 전세를 만회하기 위하여 한국 민족에게 가장 야만적인 폭압 정책을 실시하고 있다. 일본은 갖은 위협과 강요로써 한국인을 침략 전쟁의 도구와 제물로 삼아왔다. 한국 민족은 과거 5년 동안 보고 들은 우방 중국 민족의 단결과 항전의 사실을 교훈으로 삼아 전 민족이 총단결하여 반일 투쟁 활동을 더욱 강화했다. 특히 50여 일 전에 일본은 진주만 공격을 감행했다. 이에 한국 민족은 천만 배의 자신과 용기를 가지고 독립과 자유의 밝은 앞날을 향하여 분투해야 한다.

<보 기>

- ㄱ. 일본이 난징 대학살을 자행하였다.
- ㄴ. 독일, 이탈리아, 일본 3국이 동맹을 맺었다.
- ㄷ. 조선 의용대가 중국 국민당 정부의 지원을 받았다.

- ① ㄱ ② ㄴ ③ ㄱ, ㄷ ④ ㄴ, ㄷ ⑤ ㄱ, ㄴ, ㄷ

18. 다음 연설 이후의 동아시아 상황으로 옳지 않은 것은?

저는 오늘 중요한 문제에 대해 이야기하고자 합니다. 그것은 바로 실사구시입니다. 혁명 정신은 매우 중요합니다. 그러나 혁명은 물질적 이익의 기초 위에서 나오는 것인데 정신적 희생만 강요하고 있습니다. 성과가 크고 수입도 늘어나는 일부 지역, 일부 노동자가 있으면 필연적으로 다른 지역과 이웃에게도 좋은 영향을 끼쳐 모두가 더 빨리 부유해질 것입니다. 이제 우리는 2년 전 서거한 마오쩌둥의 사상 위에 공업, 농업, 국방 및 과학 기술 4개 부문의 현대화를 구체적으로 실현해야 합니다.

- ① 한국 - 제1차 경제 개발 5개년 계획을 실시하였다.
- ② 북한 - 외국 자본 유치에 관한 합영법을 제정하였다.
- ③ 중국 - 세계 무역 기구[WTO]에 가입하였다.
- ④ 일본 - 경제 정책 실패 등으로 55년 체제가 붕괴되었다.
- ⑤ 베트남 - 도이머이 정책을 추진하였다.

19. (가), (나) 시기 사이에 있었던 사실로 옳은 것은? [3점]

(가) 도쿄만에 들어온 미주리호에서 일본 대표가 항복 문서에 정식 서명하였다. 이로부터 일본은 천황의 통치에서 연합군 맥아더 장군 관할로 바뀐다. 일본 강도는 4개 섬과 연합국이 지정해 준 작은 섬에 한하고, 정부·인민·천황 등은 모두 연합국 최고 사령부의 통치를 받게 되었다.

- 『○○민보』 -


(나) 역사적인 조인식이 드디어 진행되었다. 예상대로 소련 등 3국 대표의 의석은 비어 있었다. 그리고 무대 뒤편 각국 국기 사이에 전일까지 없었던 일장기가 걸려 있었다. 샌프란시스코의 오페라 하우스에서 거행된 조인식은 예정 보다 좀 늦게 시작되었다.

- 『△△일보』 -

- ① 통킹만 사건이 발발하였다.
- ② 닉슨 독트린이 발표되었다.
- ③ 애치슨 라인이 선언되었다.
- ④ 타이완이 일본과 국교를 회복하였다.
- ⑤ 남베트남 민족 해방 전선이 결성되었다.

20. 교사의 질문에 대한 학생의 답변으로 가장 적절한 것은? [3점]

이 자료는 경제 개발을 위해 실시한 이 운동과 관련된 선전문물입니다. 인민공사를 설립하여 인민이 노력하면, 그림 속 거대한 돼지처럼 생산량도 늘릴 수 있다는 의미를 담고 있습니다. 그러나 식량 증산은 실패했고 오히려 식량 위기를 초래하여 수많은 아사자가 발생했습니다. 이 운동에 대해 말해 볼까요?



- ① 텐메이 대기근의 원인이 되었어요.
- ② 6월 민주 항쟁의 계기가 되었어요.
- ③ 우창 신군 봉기에 영향을 주었어요.
- ④ 문화 대혁명 발발의 배경이 되었어요.
- ⑤ 미·일 안보 조약이 체결되는 결과를 가져왔어요.

* 확인 사항
○ 답안지의 해당란에 필요한 내용을 정확히 기입(표기)했는지 확인 하시오.

2024학년도 대학수학능력시험

사회탐구 영역 정답표
(동아시아사) 과목

문항 번호	정 답	배 점	문항 번호	정 답	배 점	문항 번호	정 답	배 점	문항 번호	정 답	배 점
1	③	2	6	②	2	11	⑤	2	16	②	2
2	①	2	7	⑤	3	12	④	2	17	⑤	3
3	③	3	8	⑤	3	13	⑤	3	18	①	2
4	⑤	3	9	③	2	14	①	3	19	③	3
5	④	2	10	②	3	15	②	2	20	④	3

제 4 교시

사회탐구 영역(세계사)

성명 수험 번호 - 제 () 선택


1. 교사의 질문에 대한 답변으로 가장 적절한 것은? [3점]

나일강 유역에서 발굴된 이 유물은 파라오의 공주가 매장된 무덤에 있던 부장품입니다. 영혼 불멸과 사후 세계를 믿었던 이 문명의 사람들이 저승에서도 함께할 시종들을 인형으로 만듭니다. 이 문명에 대해 말해 볼까요?



- ① 갑골 문자를 사용하였어요.
- ② 사자의 서를 제작하였어요.
- ③ 함무라비 법전을 편찬하였어요.
- ④ 올림피아 제전을 개최하였어요.
- ⑤ 하라파와 모헨조다로를 건설하였어요.

2. 자료에 나타난 칙령을 반포한 제국에 대한 설명으로 옳은 것은?



위의 사진에서 왼쪽 교회 내부에는 성화가 묘사되어 있는 반면, 오른쪽 교회 내부에는 십자가만 그려져 있다. 그 이유는 황제 레오 3세가 신을 형상화하는 행위를 신성 모독으로 규정하는 칙령을 반포하였기 때문인데, 왼쪽 교회는 칙령 반포 이전에 세워진 것이고, 오른쪽 교회는 칙령 반포 이후에 건립된 것이다.

- ① 에니체리를 창설하였다.
- ② 사마르칸트를 수도로 삼았다.
- ③ 상트페테르부르크를 건설하였다.
- ④ 군관구제와 둔전병제를 실시하였다.
- ⑤ 펠로폰네소스 전쟁에서 승리하였다.

3. 밑줄 친 '황제'의 업적으로 옳은 것은? [3점]

- 『시경』, 『서경』, 백가 서적을 불태운 참화가 매서웠으나 박사관에 소장된 서적들은 온전히 보존되었다. 박사관의 서적들이 모두 사라진 것은 항우가 궁궐에 불을 질렀기 때문인데도, 후세 사람들이 오직 황제만 책망하는 것은 어찌서인가?
- 유생들을 생매장한 일은 진실로 포악한 행위였다. 그러나 황제가 6국을 멸하여 천하를 이미 통일하였는데도, 유생들이 여전히 자신들의 생각을 펴뜨리며 백성들 사이에서 권세를 취하고 있었으니 어찌 화를 당하지 않을 수 있었겠는가?

- ① 양세법을 시행하였다.
- ② 9품중정제를 실시하였다.
- ③ 과거제에 전시를 도입하였다.
- ④ 통제거 등 대운하를 건설하였다.
- ⑤ 흉노를 몰아내고 만리장성을 쌓았다.

4. (가) 왕조에서 있었던 사실로 옳은 것은?

(가)의 테오도리쿠스 4세가 사망할 당시 실권자였던 궁재는 새 왕을 옹립하지 않고 자신이 전권을 행사하였다. 그러나 궁재직을 물려받은 그의 아들 피핀은 왕좌를 비워 두는 데 부담을 느껴 선왕의 먼 친척을 킬데리쿠스 3세로 추대하였다. 그는 스스로 왕이 되려는 야심이 있었지만, 당시에는 신의 재가를 받아야 왕조를 개창할 수 있다는 믿음이 팽배하였기에 함부로 왕위에 오를 수는 없었다. 이에 신의 대리자인 교황의 권위를 빌리고자 교황과의 협력을 적극적으로 추구하여 결국 왕위에 올랐다.

- ① 보름스 협약이 맺어졌다.
- ② 베르딩 조약이 체결되었다.
- ③ 카노사의 굴욕 사건이 일어났다.
- ④ 투르·푸아티에 전투가 벌어졌다.
- ⑤ 클뤼니 수도원의 개혁 운동이 시작되었다.

5. 다음 상황이 전개된 왕조의 문화에 대한 설명으로 옳은 것은? [3점]

아라본이 이끄는 선교단이 중국에 도착하면서 경교(네스토리우스파 크리스티교)의 전래가 시작되었다. 당시 중국 황제는 동돌궐을 복속하는 등 활발한 대외 팽창을 시도하였지만, 이민족 종교에 대해서는 관대하였다. 이에 경교 선교단이 수도에 머무르며 포교 활동을 할 수 있도록 허락하였다. 나아가 황제는 파사사라는 사원의 건축과 『일천론』, 『세존포시론』 등 각종 경전의 번역을 지원하기도 하였다.

- ① 수시력이 만들어졌다.
- ② 성리학이 발달하였다.
- ③ 반고의 한서가 저술되었다.
- ④ 곤여만국전도가 제작되었다.
- ⑤ 이백, 두보 등이 활약하였다.

세계사

2 (세계사)

사회탐구 영역

6. 밑줄 친 '이 막부' 시기에 있었던 사실로 옳은 것은? [3점]



그림은 규슈 지역의 다이묘들이 파견한 사절단이 교황을 알현하는 모습이다. 이들은 유럽 각지를 방문하여 서양 문물을 접하고, 구텐베르크 인쇄기를 갖고 귀국하였다. 그러나 이러한 서양과의 교류는 이 막부의 성립 이후 쇄국 정책의 기초가 우세해지면서 크게 위축되었다. 크리스트교 포교가 금지되었고, 서양과의 무역도 나가사키에서만 제한적으로 허용되었다.

- ① 페리 제독이 내항하였다.
- ② 가나 문자가 만들어졌다.
- ③ 다이카 개신이 단행되었다.
- ④ 번이 폐지되고 현이 설치되었다.
- ⑤ 아시카가 다카우지가 쇼군에 올랐다.


7. 밑줄 친 '황제'에 대한 설명으로 옳은 것은?

**베이징에서 태어난 북방 민족의 통치자,
제국의 길을 밝히다**


이번에 소개할 황제는 어린 나이에 즉위하여 60여 년간 제위를 지켰습니다. 그는 막강한 권력을 행사하던 대신들을 숙청하여 황제권을 확립하였으며, 삼번의 난을 평정하고 왕조에 반대하는 타이완 세력을 진압하였습니다. 그는 '천 년에 한 번 나올 군주'라는 별칭을 얻을 정도로 후대에 높은 평가를 받기도 합니다. 영상을 통해 그의 파란만장한 일생을 따라가 보세요.

- ① 군기처를 설치하였다.
- ② 과거제를 폐지하였다.
- ③ 사고전서를 편찬하였다.
- ④ 국호를 청으로 바꾸었다.
- ⑤ 네르친스크 조약을 체결하였다.

8. 밑줄 친 '이 왕조'의 문화에 대한 설명으로 옳은 것은? [3점]



유물은 이 왕조의 전성기를 연 왕의 입상입니다. 입상에는 이 왕을 '위대한 왕, 왕 중의 왕, 신의 아들, 카니슈카'라고 칭송하는 문구가 새겨져 있습니다. 그의 치세 중 영토는 서쪽으로 파르티아와 접하고, 남쪽으로 안드라 왕조 방면으로 뻗어 가며, 동쪽으로 갠지스강 유역까지 이르렀습니다.



- ① 보로부두르가 축조되었다.
- ② 쿠티브 미나르가 건설되었다.
- ③ 나나크에 의해 시크교가 창시되었다.
- ④ 중생 구제를 피하는 대승 불교가 발달하였다.
- ⑤ 라마야나, 샤쿤탈라 등 산스크리트 문학이 성행하였다.

9. (가) 황제에 대한 설명으로 옳은 것은?

(가) 은/는 로마 제국이 통합과 분열을 거듭한 혼란기에 등장한 황제였다. 그는 당시 발렌티니아누스 2세와 함께 공동으로 로마 제국을 다스리고 있었는데, 자신은 동로마 지역을, 발렌티니아누스 2세는 서로마 지역을 통치하였다. 발렌티니아누스 2세가 야심적인 장군에 의해 살해되고 새로운 황제가 옹립되자, 그는 서로마 지역으로 진군하여 혼란을 수습하고 단독으로 제국을 통치하였다. 그러나 사망하기 전에 두 아들에게 각각 서로마 지역과 동로마 지역을 물려주었고, 이를 계기로 로마 제국의 영토는 영구히 분열되었다.


- ① 악티움 해전에서 승리하였다.
- ② 크리스트교를 국교로 삼았다.
- ③ 호르텐시우스법을 제정하였다.
- ④ 콘스탄티노폴리스로 천도하였다.
- ⑤ 제국의 4분할 통치를 시작하였다.

10. (가) 제국에 대한 설명으로 옳은 것은? [3점]

(가) 의 후마운은 아프간족의 공세에 밀려 사파비 왕조의 영역으로 피신하였다. 사파비 왕조의 군주는 후마운에게 시아파 이슬람교로의 개종을 요구하면서 군사적 지원을 약속하였다. 그의 지원 아래 후마운은 내분에 빠져있던 아프간족을 공략해 델리를 수복하였지만 곧 사망하였다. 그 후 제위를 계승한 후마운의 아들은 대외적으로 사파비 왕조와의 협력을 강화하는 데 힘쓰는 한편, 대내적으로는 비이슬람교도에 부과하던 지즈야를 폐지하는 등 토착 세력을 포용하는 정책을 펼쳤다.

- ① 우르두어를 사용하였다.
- ② 탈라스 전투에서 승리하였다.
- ③ 이스마일 1세에 의해 건립되었다.
- ④ 우즈베크인의 침공으로 멸망하였다.
- ⑤ 아바스 왕조로부터 술탄의 칭호를 받았다.


11. (가) 왕조에 대한 탐구 활동으로 가장 적절한 것은? [3점]



'솔로몬의 잔'으로 알려진 이 유물의 중앙에는 (가)의 사한샤 호스로 1세가 묘사되어 있다. 그는 대내적으로 조세 제도와 군사 제도를 개혁하여 제국의 안정을 도모하였고, 대외적으로는 수도 크테시폰을 중심으로 적극적으로 영토를 확장하였다. 또한 인접국의 황제 유스티니아누스가 그리스 문화를 억압하는 가운데 아테네의 학교를 폐쇄하자, 이를 피해 온 학자들을 지원하여 학문 발달에 기여하였다.

- ① 맘루크 왕조가 멸망한 원인을 분석한다.
- ② 카르타고 등 여러 도시가 건설된 배경을 조사한다.
- ③ 마라타 동맹의 반란이 일어나게 된 계기를 파악한다.
- ④ 왕의 눈이라 불리는 감찰관이 파견된 목적을 살펴본다.
- ⑤ 선악의 대립을 교리로 하는 종교가 국교화된 과정을 알아본다.

12. 밑줄 친 '이 운동'에 대한 설명으로 옳은 것은?



그림은 이 운동이 전개되던 시기 난징의 모습이다. 당시 '멸만홍한'을 내세우며 청조에 맞섰던 이 운동은 남녀평등, 토지 균분, 변발과 전족의 금지 등 급진적인 주장을 내세웠다. 그림에서는 운동에 가담한 세력이 난징을 점령한 뒤 진압군을 막기 위해 창장강 주변에 방책을 둘러친 모습을 확인할 수 있다.

- ① 철도 국유화 조치에 반발하였다.
- ② 8개국 연합군에 의해 진압되었다.
- ③ 애로호 사건을 빌미로 촉발되었다.
- ④ Kangyuei, 량치차오 등이 주도하였다.
- ⑤ 중국변 등이 이끄는 향용에 의해 저지되었다.

13. (가), (나) 국가 사이의 관계에 대한 설명으로 옳은 것은?

역사극 시나리오 S#2. 군주와 사절의 만남

내레이션: (가)의 사절이 (나)의 군주를 알현하여 현재 유럽의 정세를 논의하며 동맹을 맺으려 한다.

사절: 우리 나라는 한때 교황청 이전과 교황 선출에도 큰 영향력을 행사할 만큼 위세가 상당하였습니다. 그러나 지금은 합스부르크 가문이 에스파냐와 신성 로마 제국을 차지한 후 양 방향에서 우리의 국경을 위협하고 있습니다.

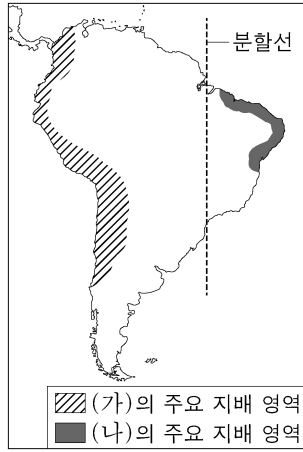
군주: 짐도 나라의 위신을 드높이기 위해 로도스섬, 헝가리 등을 정복하였지만, 정작 합스부르크 가문의 심장부인 빈의 점령에는 실패하였습니다.

사절: 합스부르크 가문의 세력 확대를 막기 위해 힘을 합쳐야 합니다.

군주: 동의하오. 이제 공동의 적에 맞서 동맹을 맺읍시다.

- ① 크림 전쟁에서 격돌하였다.
- ② 이란을 침략하여 분할하였다.
- ③ 제1차 세계 대전에서 군사적으로 대립하였다.
- ④ 영국과 함께 그리스 독립 운동을 지원하였다.
- ⑤ 모로코에서 두 차례의 군사 충돌 위기를 겪었다.


14. (가), (나) 국가에 대한 설명으로 옳은 것은? [3점]



신항로 개척을 주도한 두 국가는 세력권 분할을 위한 조약을 체결하였다. 분할선을 기준으로 서쪽은 콜럼버스의 항해를 후원한 (가)의 영역으로, 동쪽은 바스쿠 다 가마의 인도 항로 개척을 지원한 (나)의 영역으로 정하였다. 그 후 (가)은 원주민 제국을 파괴하고 주로 태평양 연안 지역을 장악하였고, (나)은 오늘날의 브라질에 해당하는 지역을 차지하였다.

- ① (가) - 레판토 해전에서 승리하였다.
- ② (가) - 플라시 전투에서 프랑스를 격파하였다.
- ③ (나) - 필리핀을 둘러싸고 미국과 전쟁을 벌였다.
- ④ (나) - 콜베르를 등용하여 중상주의 정책을 추진하였다.
- ⑤ (나) - 스웨덴과의 북방 전쟁을 통해 발트해로 진출하였다.

15. 밑줄 친 '나'에 대한 설명으로 옳은 것은?



“나는 유럽과 미국의 발전이 3대 주의에 의해 이루어졌다고 생각한다. 그것은 민족, 민권, 민생이다. 로마가 멸망하고 나서 민족주의가 일어나 유럽 각국이 독립하였다. 하지만 이 나라들도 제국이 되어 전제 정치를 행하자, 민권주의가 일어나 입헌 국가가 세워졌다. 그 후 세계는 더욱 문명화되고 물질이 풍부해져, 이제는 정치 문제에 이어 경제 문제가 중요해지면서 민생주의가 유행하고 있다.”

- 『민보』 발간사 -

- ① 북벌을 완수하였다.
- ② 시안 사건을 일으켰다.
- ③ 중국 공산당을 창당하였다.
- ④ 중국 동맹회를 조직하였다.
- ⑤ 중화 인민 공화국을 수립하였다.

4 (세계사)

사회탐구 영역

16. 밑줄 친 '새로운 정부'에 대한 설명으로 옳은 것은?

시에에스를 비롯한 일단의 정치가들이 이탈리아 원정 등으로 인기가 높았던 장군을 앞세워 정변을 일으켰다. 파리 각지에 병력이 배치되고 정부에 대한 압박이 이루어지는 가운데 5명의 총재 중 3명이 스스로 물러났고 사임을 거부한 2명은 감금되었다. 다음 날 정변 주도자들은 의회에서 근위대를 동원하여 반대파의 저항을 무력으로 제압하였다. 곧이어 시에에스 등은 반대파 의원들을 자코뱅으로 규정하여 축출하였고 새로운 헌법 제정에 착수하였다. 이에 대의제, 소유권, 평등권, 자유권 등을 담은 헌법이 제정되었고, 이를 토대로 새로운 정부가 공식적으로 수립되었다.


- ① 프로이센과의 전쟁에서 패하여 붕괴되었다.
- ② 공화정을 선포하고 파리 코뮌을 진압하였다.
- ③ 교육 제도를 개혁하고 국민 투표를 실시하였다.
- ④ 영국을 굴복시키기 위해 대륙 봉쇄령을 발표하였다.
- ⑤ 제한 선거제에 토대를 둔 입헌 군주제를 시행하였다.

17. 자료에 나타난 조항에 대한 설명으로 옳은 것은? [3점]

미국 대통령 윌슨은 의회 연설에서 정의롭고 지속 가능한 평화를 수립하는 데 필요한 조항을 제시하였습니다.

5조 식민지의 주권 문제를 결정하는 과정에서는 식민지 주민의 이해관계가 앞으로 그 지역에서 수립될 정부의 주장과 동등하게 고려되어야 한다.

11조 루마니아, 세르비아, 몬테네그로에 주둔한 외국 군대는 철수하고 점령지는 원래 상태로 복구되어야 한다.



- ① 독소 불가침 조약의 체결로 이어졌다.
- ② 파리 강화 회의의 기본 원칙이 되었다.
- ③ 파쇼다 사건이 일어나는 배경이 되었다.
- ④ 유럽 연합[EU]의 출범에 영향을 주었다.
- ⑤ 북대서양 조약 기구[NATO] 창설의 계기가 되었다.

18. 밑줄 친 '이곳'에서 있었던 사실로 옳은 것은? [3점]

우리의 국왕께서 황제의 자격으로 식민 통치하는 이곳이 없었다면 일찍이 우리는 수에즈 운하의 주식을 사들이지 않았을 것이며, 수에즈 운하가 없었다면 우리는 현재 이집트에 있지도 않을 것이다. 이곳이 없었다면 우리는 지금 모리셔스에 있지 않을 것이며, 남아프리카 일대로 팽창하지도 않았을 것이다. 이곳이 없었다면 우리는 메소포타미아에서 우월적 지위를 확보하지 않았을 것이고, 페르시아만을 장악하지도 않았을 것이다.

- ① 이산들로나 전투가 벌어졌다.
- ② 헤레로족의 봉기가 진압되었다.
- ③ 카자르 왕조의 개혁이 시도되었다.
- ④ 람 모한 로이가 종교 운동을 이끌었다.
- ⑤ 아라비 파샤가 주도하는 혁명이 일어났다.

19. 밑줄 친 ㉠의 사례로 가장 적절한 것은?

새로운 서기장은 브레즈네프 시대의 정책과 공개적으로 거리를 두며 바르샤바 조약 기구 회원국들의 내정에 개입하지 않는다는 원칙을 표명하였다. 이에 동유럽 공산주의 정권들에 대한 소련의 지원 가능성이 현격히 줄어들자, 각국 반체제 세력은 운신의 폭이 넓어졌고, 국제 외교 무대에서도 상당한 영향력을 행사하기에 이르렀다. 일반 시민들 사이에서도 개혁의 요구와 민족주의의 열기가 거세지면서 ㉠ 대부분의 공산주의 국가들이 혁명의 파도에 휩쓸렸다.

- ① 체코슬로바키아가 독립하였다.
- ② 헝가리에 다당제가 도입되었다.
- ③ 바이마르 공화국이 수립되었다.
- ④ 브란트가 동방 정책을 추진하였다.
- ⑤ 흐루쇼프가 평화 공존을 추구하였다.

20. (가) 회의에 대한 설명으로 옳은 것은?

세계사 신문 ○○○○년 ○월 ○일

(가), 새로운 질서를 모색하다



▲ 회의에 참가한 각국 대표

티토, 네루, 나세르 등의 주도 아래 (가) 이/가 유고슬라비아의 베오그라드에서 개최되었다. 이 회의에서 회원국의 자격 조건이 논의되고 평화에 대한 호소가 담긴 선언문이 발표되었다. 그 주된 내용은 미국과 소련의 영향력을 배제하고 제국주의와 식민주의에 반대하는 것이었다.

- ① 냉전 체제를 지지하였다.
- ② 브레턴우즈 체제를 형성하였다.
- ③ 제3 세계의 협력을 추구하였다.
- ④ 독립 국가 연합[CIS]을 출범시켰다.
- ⑤ 전략 무기 제한 협정[SALT]을 체결하였다.

* 확인 사항
○ 답안지의 해당란에 필요한 내용을 정확히 기입(표기)했는지 확인 하시오.

2024학년도 대학수학능력시험

사회탐구 영역 정답표
(세계사) 과목

문항 번호	정 답	배 점	문항 번호	정 답	배 점	문항 번호	정 답	배 점	문항 번호	정 답	배 점
1	②	3	6	①	3	11	⑤	3	16	③	2
2	④	2	7	⑤	2	12	⑤	2	17	②	3
3	⑤	3	8	④	3	13	③	2	18	④	3
4	④	2	9	②	2	14	①	3	19	②	2
5	⑤	3	10	①	3	15	④	2	20	③	2

제 4 교시

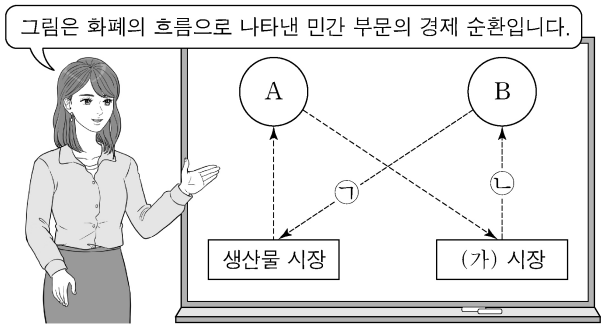
사회탐구 영역(경제)

성명

수험 번호

제 () 선택

1. 그림은 교사의 수업 장면이다. 이에 대한 설명으로 옳은 것은? (단, A, B는 각각 가게, 기업 중 하나임.) [3점]



- ① A는 효용 극대화를 추구한다.
- ② A는 (가) 시장의 수요자이다.
- ③ B는 생산 활동의 주체이다.
- ④ 물류 회사의 화물차 구입비는 ㉠에 해당한다.
- ⑤ 백화점의 의류 판매 수입은 ㉡에 해당한다.

2. 경제 체제 A, B에 대한 설명으로 옳은 것은? (단, A, B는 각각 계획 경제 체제, 시장 경제 체제 중 하나임.)

주거 문제를 해결하는 것은 안정적인 경제생활을 위해 필수적이다. A를 채택하고 있는 갑국에서는 사유 재산권을 토대로 주택의 종류와 수량, 생산 방식 및 분배가 시장 가격 기구를 통해 결정된다. 반면 B를 채택하고 있는 을국에서는 토지에 대한 국가 소유권을 토대로 주택 공급과 관련된 모든 사항이 정부의 명령에 따라 결정된다.

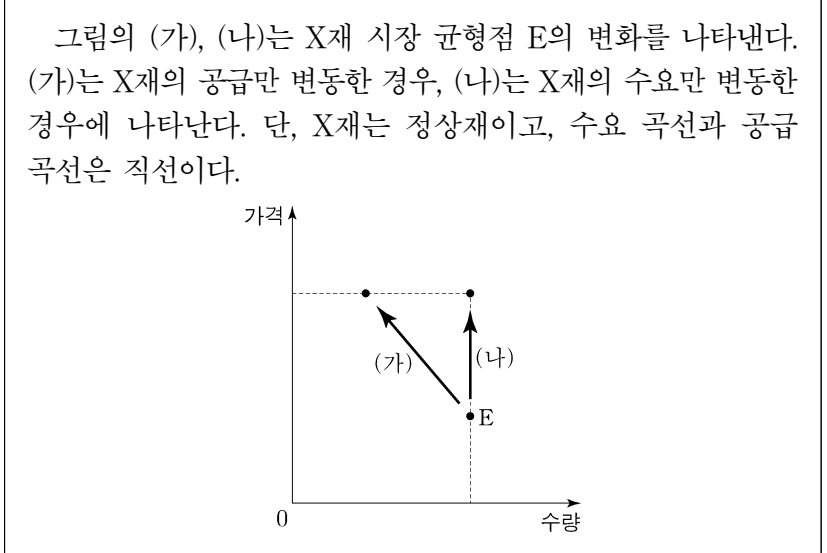
- ① A에서는 경제 문제 해결에 있어 효율성보다 형평성을 강조한다.
- ② B에서는 '보이지 않는 손'의 기능을 중시한다.
- ③ B에서는 정부의 계획과 통제에 의한 자원 배분을 중시한다.
- ④ B에서는 A와 달리 희소성에 따른 경제 문제가 발생하지 않는다.
- ⑤ A와 B에서는 모두 자유로운 경쟁을 통한 이윤 추구를 보장한다.

3. 밑줄 친 ㉠의 목적으로 가장 적절한 것은?

시장에서 유통되는 다양한 종류의 화장품에 대해 소비자는 생산자와 달리 화장품 제조에 투입되는 원료를 정확하게 알기 어렵다. 따라서 소비자는 화장품 제조에 사용되는 성분이 자신에게 잘 맞는지 또는 자신에게 해가 되는 성분이 사용되었는지 알기 어려워 불리한 선택을 할 수 있다. 이에 정부는 ㉠화장품 성분 표시제를 시행하여 소비자의 합리적 선택을 유도하고 있다.

- ① 정보의 비대칭성 개선
- ② 부정적 외부 효과 개선
- ③ 독과점 기업의 불공정 경쟁 행위 규제
- ④ 기업이 정신 장려를 통한 생산성 향상
- ⑤ 경제적 유인을 활용한 정부 실패 보완

4. 다음 자료에 대한 분석으로 옳은 것은? [3점]



- ① X재의 가격과 공급량은 양(+)의 관계에 있다.
- ② X재에 대한 소비자의 선호도 증가는 (가)의 요인이다.
- ③ 자연재해로 인한 X재 생산 시설의 파손은 (가)의 요인이다.
- ④ X재 소비자의 소득 감소는 (나)의 요인이다.
- ⑤ X재와 대체 관계에 있는 재화의 가격 하락은 (나)의 요인이다.

5. 다음 자료에 대한 옳은 분석 및 추론만을 <보기>에서 고른 것은?

X재 시장에서는 외부 효과로 인해 사적 편익 이외에 X재 1개당 1만 원의 편익이 추가적으로 발생하고 있다. 표는 X재의 시장 공급 곡선과 사회적 편익이 반영된 수요 곡선에 있는 점들의 일부를 나타낸다. 단, X재 시장에서는 소비 측면에서만 외부 효과가 발생하고, 수요 곡선과 공급 곡선은 직선이다.

가격(만 원)	5	6	7	8	9	10
시장 공급량(개)	40	50	60	70	80	90
사회적 편익이 반영된 수요량(개)	90	80	70	60	50	40

- <보 기>
- ㄱ. X재의 사례로 소비 과정에서 환경 오염이 발생하는 제품을 들 수 있다.
 - ㄴ. 시장 거래량이 사회적 최적 거래량보다 10개 적다.
 - ㄷ. 시장 판매 수입은 420만 원이다.
 - ㄹ. 정부가 소비자에게 X재 1개당 일정액의 보조금을 지급하여 사회적 최적 거래량이 달성된 경우, 지급한 보조금 총액은 65만 원이다.

- ① ㄱ, ㄴ ② ㄱ, ㄷ ③ ㄴ, ㄷ ④ ㄴ, ㄹ ⑤ ㄷ, ㄹ

경제

2 (경제)

사회탐구 영역

6. 밑줄 친 ㉠~㉣에 대한 설명으로 옳은 것은? (단, 갑국과 을국은 서로 다른 통화를 사용하고, 국제 거래는 미국 달러화로 이루어짐.)

□□ 신문

갑국의 인공 지능, 전기 자동차 등 첨단 산업에 ㉠ 해외 투자 자금이 대폭 유입되어 ㉡ 갑국 통화/미국 달러 환율이 변화하고 있다. 한편 을국은 이상 기후로 곡물 생산이 감소하자 ㉢ 해외로부터 곡물을 대량으로 수입하고 있으며, 이에 따라 ㉣ 미국 달러화 대비 을국 통화 가치가 변화하고 있다.

- ① ㉠은 갑국 외환 시장에서 미국 달러화의 공급 감소 요인이다.
- ② ㉡은 갑국 기업의 미국 달러화 표시 외채 상환 부담 감소 요인이다.
- ③ ㉢은 을국 외환 시장에서 미국 달러화에 대한 수요 감소 요인이다.
- ④ ㉣은 미국 달러화 대비 을국 통화 가치 상승을 의미한다.
- ⑤ ㉣은 미국으로 여행하는 을국 국민의 여행 경비 부담 감소 요인이다.

7. 다음 자료에 대한 분석으로 옳은 것은? [3점]

갑국 정부는 시장 균형에서 거래되고 있는 X재 시장에 실효성 있는 가격 규제 정책 (가) 또는 (나) 중 하나를 시행하려고 한다. 표는 가격 규제 정책 시행 이전과 가격 규제 정책 (가) 또는 (나)를 시행할 경우 X재의 판매 수입과 시장 거래량을 나타낸다. 단, X재는 수요와 공급 법칙을 따르고, 수요 곡선과 공급 곡선은 직선이다. 또한 가격 규제 정책 시행 전후 수요와 공급의 변동은 없으며, 암시장은 발생하지 않는다.

구분	판매 수입(원)	시장 거래량(개)
정책 시행 이전	4,500	15
(가) 시행 이후	4,800	12
(나) 시행 이후	2,000	10

- ① 가격이 100원일 때 수요량은 20개이다.
- ② (가)는 소비자 보호를 목적으로 한다.
- ③ (가)를 시행할 경우 소비자 잉여는 2,400원이다.
- ④ (나)를 시행할 경우 시장 가격은 300원이다.
- ⑤ (나)를 시행할 경우 6개의 초과 수요가 발생한다.

8. 다음 자료에 대한 설명으로 옳은 것은? (단, A~D는 각각 요구불 예금, 정기 예금, 주식, 채권 중 하나이며, 각 금융 상품의 일반적인 특징을 가짐.) [3점]

표는 금융 상품 A~D로 구성된 투자 포트폴리오의 조정 전후 상품별 금액을 나타낸다. 조정 후 전체 포트폴리오에서 입출금이 자유로운 상품의 비율은 변함이 없고, 이자 수익을 기대할 수 있는 상품의 비율은 80%가 되었으며, 시세 차익을 기대할 수 있는 상품만 비율이 모두 높아졌다.

(단위: 만 원)

구분	A	B	C	D
조정 전	10	30	50	10
조정 후	10	15	55	20

- ① A는 C에 비해 유동성이 낮다.
- ② D는 B에 비해 안전성이 높다.
- ③ 만기가 있는 상품의 총액은 커졌다.
- ④ 배당 수익을 기대할 수 있는 상품의 총액은 커졌다.
- ⑤ 예금자 보호 제도의 적용을 받는 상품의 총액은 변함이 없다.

9. 다음 자료에 대한 분석 및 추론으로 옳은 것은?

표는 노동만을 생산 요소로 하여 직선인 생산 가능 곡선상에서 X재와 Y재만을 생산하는 갑국과 을국의 교역 전 X재와 Y재의 생산량을 나타낸다. 갑국의 X재 최대 생산 가능량은 80개이고, 을국의 Y재 최대 생산 가능량은 90개이다. 양국 모두 비교 우위가 있는 재화만을 생산하여 양국 모두 이익이 발생하는 교환 비율에 따라 교역한다. 단, 교역은 거래 비용 없이 양국 간에만 이루어지고, 양국이 보유하고 있는 노동량은 동일하며, 생산된 재화는 모두 소비된다.

구분	갑국		을국	
	X재	Y재	X재	Y재
생산량(개)	50	㉠ 15	40	60

- ① 을국은 X재 60개와 Y재 50개를 동시에 생산할 수 있다.
- ② X재 1단위 생산에 필요한 노동량은 을국이 갑국의 1.5배이다.
- ③ 교역 후 갑국의 X재로 표시한 Y재 1개 소비의 기회비용은 증가한다.
- ④ X재와 Y재의 교환 비율이 5:3이면 양국 간 교역은 이루어지지 않는다.
- ⑤ ㉠이 '21'로 변동하여도 갑국이 비교 우위를 가지는 재화는 변함이 없다.

10. 다음 자료에 대한 옳은 분석 및 추론만을 <보기>에서 있는 대로 고른 것은? (단, 제시된 자료 이외에 다른 조건은 고려하지 않음.) [3점]

같은 시간에 열려 둘 중 하나만 관람할 수 있는 아이돌 공연과 뮤지컬 공연이 있다. 표는 갑과 을이 공연 관람으로부터 얻는 편익과 공연 표의 가격을 나타낸다. ㉠ 같은 두 공연 중 뮤지컬 공연을 선택하여 표를 구입하였으며, 을은 아이돌 공연 표를 무료로 선물 받았다.

(단위: 만 원)

구분	아이돌 공연	뮤지컬 공연
갑의 편익	(가)	9
을의 편익	10	(나)
표 가격	(다)	8

을에게 아이돌 공연 표가 있다는 사실을 알게 된 갑은 ㉡ "나에게 아이돌 공연 표를 5만 원에 팔면 너에게 뮤지컬 공연 표를 그냥 줄게."라고 을에게 제안하였다. 단, 갑과 을은 편익과 기회비용만을 고려하여 합리적으로 결정하고, 모든 공연 표는 환불이 불가능하며, 공연 관람에 따른 추가 비용은 없다.

<보 기>

㉠. (가)가 '13'이라면 갑은 ㉡을 제안하지 않았을 것이다.
 ㉡. (나)가 '4'라면 을은 ㉡을 받아들일 것이다.
 ㉢. ㉠과 ㉡으로부터 판단할 때, (다)는 '12'가 될 수 있다.

- ① ㉠ ② ㉡ ③ ㉠, ㉡ ④ ㉡, ㉢ ⑤ ㉠, ㉡, ㉢

11. 다음 자료에 대한 옳은 분석 및 추론만을 <보기>에서 고른 것은? [3점]

표는 A기업의 X재 생산에 필요한 노동과 Y재 투입량을 나타낸다. X재 1개당 가격은 10만 원이고, 노동 1단위당 임금은 2만 원이며, Y재 1단위당 가격은 (가)만 원이다. 또한 X재 생산량이 1개일 때 이윤은 4만 원이다. 단, X재는 노동과 Y재만을 사용하여 1개씩 6개까지 생산되고, 생산된 X재는 모두 판매된다.

X재 생산량(개)	1	2	3	4	5	6
노동 투입량(단위)	2	4	6	8	10	12
Y재 투입량(단위)	2	4	7	11	14	21

<보 기>

- ㄱ. (가)는 '2'이다.
- ㄴ. X재 1개당 생산 비용은 생산량이 5개일 때가 2개일 때보다 크다.
- ㄷ. A기업이 얻을 수 있는 가장 큰 이윤은 15만 원이다.
- ㄹ. 노동 1단위당 임금이 3만 원으로 상승하더라도 이윤 극대화 생산량은 변함이 없다.

- ① ㄱ, ㄴ ② ㄱ, ㄷ ③ ㄴ, ㄷ ④ ㄴ, ㄹ ⑤ ㄷ, ㄹ

12. 표는 갑국의 연도별 전년 대비 명목 GDP 증가율과 경제 성장률을 나타낸다. 이에 대한 분석으로 옳은 것은? (단, 기준 연도는 2019년 이고, 물가 수준은 GDP 디플레이터로 측정함.)

구분	2020년	2021년	2022년
명목 GDP 증가율(%)	0	1	5
경제 성장률(%)	-5	1	4

- ① 2020년의 GDP 디플레이터는 100보다 작다.
- ② 2021년의 실질 GDP와 명목 GDP는 같다.
- ③ 2020년의 물가 수준은 2021년보다 낮다.
- ④ 2022년의 경제 규모는 2019년보다 크다.
- ⑤ 2022년의 전년 대비 물가 상승률은 2021년보다 높다.

13. 다음 자료에 대한 설명으로 옳은 것은? (단, 총수요 곡선은 우하향하고 총공급 곡선은 우상향함.) [3점]

< 경제 형성 평가 >

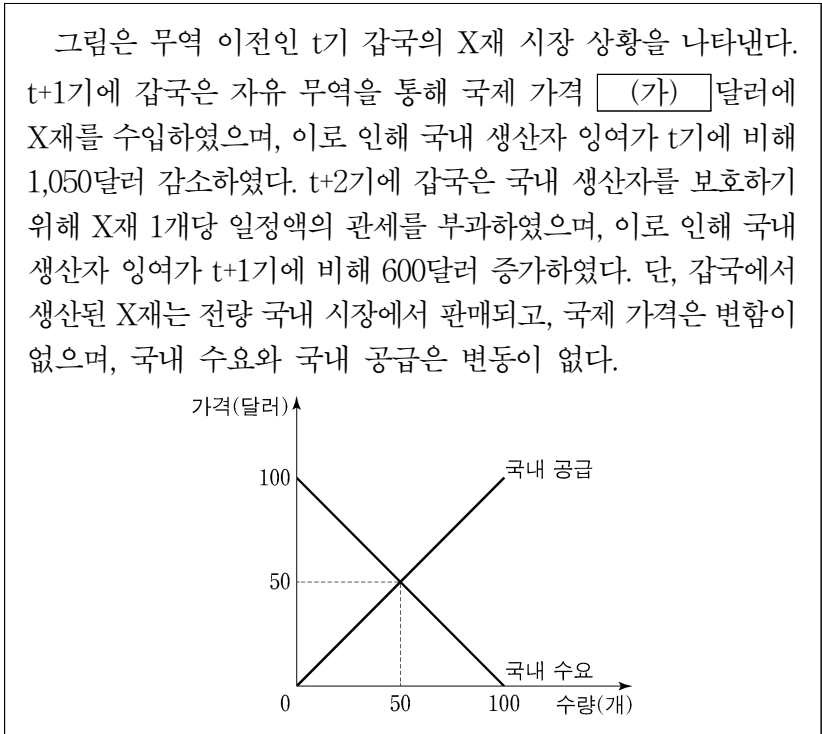
이름: ○○○ 점수: **4/4**

◎ 다음 신문 기사를 통해 파악할 수 있는 경제 안정화 정책의 종류와 목표를 각각 1개씩 쓰시오. (서술 내용 1개당 옳으면 1점, 틀리면 0점)

신문 기사	갑국 정부는 최근 실업자 증가 폭이 역대 최대를 기록하는 등 고용 상황이 심각하다고 보고 ㉠ 정부 지출 확대를 통해 공공 일자리를 늘리겠다고 밝혔다.	을국 중앙은행은 목표 수준을 크게 웃도는 ㉡ 물가 오름세가 상당 기간 지속될 것으로 전망하며 당분간 ㉢ 기준 금리 인상 흐름을 이어갈 것이라 밝혔다.
정책 종류	확대 재정 정책 (가)	
정책 목표	(나)	물가 안정

- ① ㉠은 과열된 경기를 진정시키는 요인이다.
- ② ㉡의 개선 방안으로 지급 준비율 인하를 들 수 있다.
- ③ ㉢의 개선 방안으로 중앙은행의 국공채 매각 확대를 들 수 있다.
- ④ ㉠과 ㉢은 모두 총수요를 증가시키는 정책이다.
- ⑤ (가)에는 '긴축 재정 정책', (나)에는 '경기 부양'이 들어갈 수 있다.

14. 다음 자료에 대한 분석으로 옳은 것은?



- ① (가)는 '10'이다.
- ② t+1기 국내 소비량은 t기보다 40개 많다.
- ③ t+2기 관세 수입은 800달러이다.
- ④ t+2기 수입량은 t+1기보다 40개 적다.
- ⑤ t+2기 국내 소비자 잉여는 t+1기보다 1,800달러 적다.

15. 다음 자료에 대한 분석 및 추론으로 옳은 것은? [3점]

갑은 t시점에 연 이자율 10%로 1,000달러를 1년 만기로 대출 받아 (가), (나) 중 하나에 1년간 전액 투자하여 순수익을 최대화 하려고 한다. 원리금 1,100달러는 t+1년 시점에 한꺼번에 상환 한다. 순수익은 보유 주식의 t+1년 시점 원화 환산 금액에서 원리금의 t+1년 시점 원화 환산 금액을 뺀 값이다. 단, 세금이나 수수료 등 거래 비용과 배당 수익은 없다.

- (가): 원화로 환전하여 한국 주식 X 매입
- (나): 미국 주식 Y 매입

표는 각각의 상황에 따라 예상되는 t시점 대비 t+1년 시점의 원/달러 환율과 주식 가격의 변동을 나타낸다. t시점 환율은 1,000원/달러이다.

구분	환율	한국 주식 X 가격	미국 주식 Y 가격
<상황 1>	10% 상승	20% 상승	30% 상승
<상황 2>	30% 하락	불변	10% 하락

* 원리금 = 원금 + 이자

- ① 원리금의 원화 환산 금액은 <상황 1>의 경우가 <상황 2>의 경우보다 40만 원 더 많다.
- ② <상황 1>의 경우 (가)에 따른 순수익은 0이다.
- ③ <상황 2>의 경우 (가)보다 (나)에 따른 순수익이 더 크다.
- ④ (가)보다 (나)를 따를 때 두 상황 간 순수익의 차이가 더 작다.
- ⑤ 투자 금액을 (가), (나)에 각각 절반씩 배분한다면 두 상황 모두 에서 순수익은 양(+)의 값이다.

16. 표는 갑국의 연도별 고용 지표를 나타낸다. 이에 대한 옳은 분석만을 <보기>에서 고른 것은? (단, 15세 이상 인구는 변함이 없음.)

구분	2020년	2021년	2022년
고용률(%)	63	64	72
실업률(%)	10	20	10

<보 기>

ㄱ. 실업자 수는 2021년이 2022년의 2배이다.
 ㄴ. 경제 활동 인구는 매년 증가하였다.
 ㄷ. 경제 활동 인구에서 취업자가 차지하는 비율은 2021년이 2022년보다 작다.
 ㄹ. 전년 대비 비경제 활동 인구의 변화율은 2021년과 2022년이 같다.

- ① ㄱ, ㄴ ② ㄱ, ㄷ ③ ㄴ, ㄷ ④ ㄴ, ㄹ ⑤ ㄷ, ㄹ

17. 다음 자료에 대한 분석으로 옳은 것은? [3점]

표는 갑국, 을국, 병국의 국제 거래에 따른 2022년 경상 수지 항목별 수취액을 나타낸다. 단, 국제 거래는 갑국과 을국, 갑국과 병국 사이에서만 이루어진다.

(단위: 억 달러)

구분	갑국과 을국 간 거래		갑국과 병국 간 거래	
	갑국 수취액	을국 수취액	갑국 수취액	병국 수취액
상품 수지	100	90	70	70
서비스 수지	40	50	30	40
본원 소득 수지	5	10	20	5
이전 소득 수지	0	0	0	5

- ① 갑국은 해외 지식 재산권 사용료를 포함하는 항목이 20억 달러 적자이다.
 ② 병국은 해외 주식 거래액을 포함하는 항목이 15억 달러 적자이다.
 ③ 갑국의 경상 수지는 갑국의 물가 상승 요인이다.
 ④ 을국은 병국보다 상품 수입액이 20억 달러 많다.
 ⑤ 해외 투자에 따른 배당금을 포함하는 항목은 갑국은 적자이고 을국은 흑자이다.

18. 그림은 경제 수업의 일부이다. 이에 대한 설명으로 옳은 것은? (단, A, B는 각각 수요 견인 인플레이션, 비용 인상 인플레이션 중 하나이고, 총수요 곡선은 우하향하며 총공급 곡선은 우상향함.) [3점]

인플레이션의 유형 A, B에 대해 말해 볼까요?

민간 투자가 증가하여 인플레이션이 발생했다면 A에 해당합니다.

총공급 곡선이 이동하여 인플레이션이 발생했다면 B에 해당합니다.

(가)

모든 학생이 옳게 대답했네요.

- ① A는 스태그플레이션으로 이어진다.
 ② B는 실질 GDP 감소를 동반한다.
 ③ A와 B는 모두 화폐 구매력의 증가 요인이다.
 ④ (가)에는 '수입 원자재 가격이 상승하여 인플레이션이 발생했다면 A에 해당합니다.'가 들어갈 수 있다.
 ⑤ (가)에는 '가계의 소득이 증가하여 인플레이션이 발생했다면 B에 해당합니다.'가 들어갈 수 있다.

19. 다음 자료에 대한 분석으로 옳은 것은?

갑은 10월에 월급을 받고 대출 이자 (가) 만 원을 납부하였다. <자료 1>은 갑의 10월 월급 명세서의 모든 지급 및 공제 항목을 나타내고, <자료 2>는 갑의 10월 소득 및 지출 관련 분석 자료이다. 단, 월급 명세서의 지급 항목 이외에 다른 소득은 없다.

<자료 1>

지급 항목	금액	공제 항목	금액
기본급	350만 원	소득세	50만 원
명절 상여금	100만 원	국민연금	17만 원
		건강 보험	13만 원
합계	450만 원	합계	80만 원

<자료 2>

○ $\frac{\text{소비 지출}}{\text{소득}} = 0.6$	○ $\frac{\text{저축}}{\text{처분 가능 소득}} = 0.25$
--	--

* 저축 = 처분 가능 소득 - 소비 지출
 ** 처분 가능 소득 = 소득 - 비소비 지출

- ① 비경상 소득은 100만 원이다.
 ② 소비 지출은 240만 원이다.
 ③ 비소비 지출은 80만 원이다.
 ④ 저축은 90만 원이다.
 ⑤ (가)는 10보다 크다.

20. 다음 자료에 대한 분석으로 옳은 것은?

갑국은 X재와 Y재만을, 을국은 Z재만을 생산한다. X재와 Z재는 생산된 나라에서 최종재로만 전량 소비된다. Y재는 X재 또는 Z재 생산 원료로만 사용되며 X재 1개 생산에 Y재 0.5개, Z재 1개 생산에 Y재 0.1개가 사용된다.

표는 2021년, 2022년 양국의 각 재화 생산량과 가격을 나타내며, 기준 연도는 2021년이다. 단, 생산된 재화는 그 해에 모두 소진되고, 교역은 양국 간에만 이루어지며, 거래 비용은 없다. 또한 양국은 동일한 화폐를 사용하고, 각 재화의 가격은 양국에서 같다.

(단위: 만 개, 달러)

구분		2021년		2022년	
		생산량	가격	생산량	가격
갑국	X재	20	10	20	20
	Y재	Ⓣ	10	Ⓛ	10
을국	Z재	40	20	50	30

- ① Ⓣ과 Ⓛ의 합은 30이다.
 ② 갑국의 2021년 명목 GDP는 340만 달러이다.
 ③ 갑국의 2022년 GDP 디플레이터는 180이다.
 ④ 을국의 2021년 순수출은 40만 달러이다.
 ⑤ 을국의 2022년 실질 GDP는 1,450만 달러이다.

* 확인 사항
 ○ 답안지의 해당란에 필요한 내용을 정확히 기입(표기)했는지 확인하십시오.

2024학년도 대학수학능력시험

사회탐구 영역 정답표
(경제) 과목

문항 번호	정 답	배 점	문항 번호	정 답	배 점	문항 번호	정 답	배 점	문항 번호	정 답	배 점
1	②	3	6	②	2	11	④	3	16	②	2
2	③	2	7	③	3	12	⑤	2	17	①	3
3	①	2	8	④	3	13	③	3	18	②	3
4	③	3	9	⑤	2	14	④	2	19	④	2
5	⑤	2	10	①	3	15	⑤	3	20	③	2

제 4 교시

사회탐구 영역(정치와 법)

성명 [] 수험 번호 [] 제 [] 선택

1. 정치를 바라보는 갑, 을의 관점에 대한 설명으로 옳은 것은?

갑 ○○ 미술 협회에서 AI 기술을 활용한 작품에 대한 시상 여부를 둘러싼 갈등을 회원들 간 자율적 협의를 통해 해결한 사례는 정치로 볼 수 있어. 정치란 다양한 집단이나 개인 간 발생한 이해관계의 대립과 갈등을 조정하고 해결하는 활동이기 때문이야.

을 내 생각은 달라. 정치란 정치권력의 획득·유지·행사와 관련된 국가의 고유한 활동만을 의미하므로 그 사례는 정치로 볼 수 없어.

- ① 갑의 관점은 국회가 국가의 예산안을 심의·확정하는 것을 정치로 보지 않는다.
② 을의 관점은 다른 사회 집단의 활동과 구별되는 국가 활동의 특수성을 인정하지 않는다.
③ 갑과 달리 을의 관점은 다원화된 현대 사회에서 나타나는 갈등 해결 과정을 설명하기에 적합하다.
④ 을과 달리 갑의 관점은 행사 준비 과정에서 초대 가수 선정을 둘러싼 의견 대립을 조율하기 위한 학생회 회의를 정치로 본다.
⑤ 갑과 을의 관점 모두 국가 형성 이전의 정치 현상을 설명하기에 용이하다.

2. 법치주의의 유형 A, B에 대한 설명으로 옳은 것은? [3점]

국민의 권리와 의무에 관한 사항을 법률로 정해야 한다는 A에 따르면 법적 안정성과 예측 가능성을 확보하기 위해 법률 그 자체에 의한 통치가 강조되어, 정당하지 않은 법률에 의한 통치도 가능하였다. 반면 B는 법률의 내용도 정의에 부합할 것을 요구하여, 입법자도 기본권 보장이라는 헌법의 이념에 구속되도록 한다.

- ① A는 행정 작용이 의회가 제정한 법률에 근거해야 한다고 본다.
② B는 국민의 자유와 권리 보장보다 통치의 합법성을 중시한다.
③ A와 달리 B는 적법한 절차를 거쳐 제정된 법률이라면 국민을 구속할 수 있다고 본다.
④ B와 달리 A는 위헌 법률 심사제의 도입을 옹호한다.
⑤ A와 B 모두 명목상 법률에 의해 통치 질서가 확보되는 것만으로도 기본권 보장이 이루어진다고 본다.

3. 우리나라 헌법의 기본 원리 A에 대한 설명으로 가장 적절한 것은?

A는 국제 평화주의와 관련됩니다. 대한민국은 국제 평화의 유지에 노력하고 침략적 전쟁을 부인한다고 규정한 헌법 조항은 우리나라가 A를 추구하고 있음을 간접적으로 보여줍니다. 한편, 대통령은 조국의 평화적 통일을 위한 성실한 의무를 진다고 규정한 헌법 조항은 A를 직접적으로 나타냅니다.

- ① 국가의 의사를 결정하는 주권이 국민에게 있다는 원리이다.
② 국가 권력의 창설이 국민의 합의에 기초해야 한다는 원리이다.
③ 자유 민주적 기본 질서에 입각한 평화적 통일 정책을 수립하고 추진하는 근거가 된다.
④ 국가가 경제 문제를 해결하기 위하여 경제에 관한 규제와 조정을 할 수 있는 근거가 된다.
⑤ 학문과 예술 및 문화 활동의 자유를 보장하고 국가가 문화 발전을 지향해야 한다는 원리이다.

4. 밑줄 친 'A 원칙'에 대한 옳은 설명만을 <보기>에서 있는 대로 고른 것은?

기본권은 최대한 보장되어야 하지만, 공익이나 타인의 기본권과 조화를 이루기 위해서 부득이 제한될 수 있다. 그러나 기본권을 제한하더라도 특정 기본권 주체에게 일반적인 희생이 강요되어서는 안 되며, 가능한 한 기본권이 보장될 수 있도록 최소한의 제한에 그쳐야 한다. 이러한 이유로 헌법은 법률에 의한 기본권 제한 가능성을 인정하면서도 A 원칙에 따라 '필요한 경우에 한하여' 기본권 제한을 허용하고 있다. 이에 따르면 기본권 제한은 공익이 요구하는 범위 내에서 적합하고 필요하며 법익의 균형이 유지되는 경우에 한해 가능하다.

<보 기>
ㄱ. 기본권 제한의 목적과 수단 사이에 적정한 비례 관계가 유지되어야 한다는 원칙이다.
ㄴ. 소극적·방어적 성격의 권리를 제한하는 법률의 위헌 여부를 심사하는 기준으로 활용된다.
ㄷ. A 원칙에서 '목적의 정당성'은 기본권 제한의 수단이 목적 달성을 위해 필요 최소한에 그쳤는지를 심사하는 것이다.

- ① ㄱ ② ㄷ ③ ㄱ, ㄴ ④ ㄴ, ㄷ ⑤ ㄱ, ㄴ, ㄷ

5. 다음 자료에 대한 분석 및 추론으로 옳은 것은? [3점]

갑국의 시기별 정부 형태는 전형적인 대통령제 또는 전형적인 의원 내각제 중 어느 하나에 해당한다. t 시기의 정부 형태는 직전 시기의 정부 형태와 동일하고, t~t+2 시기 중 정부 형태는 1회 변경되었다. 갑국의 t 시기 의회를 구성하기 위한 선거는 국민이 직접 행정부 수반을 선출하는 선거와 동시에 각각 실시되었다. 표는 갑국에서 각 시기의 정당별 의회 의석률과 행정부 수반 소속 정당을 나타낸다.

Table with 6 columns: 시기, 정당별 의회 의석률(%), 행정부 수반 소속 정당. Rows for t, t+1, t+2.

* 각 시기의 정부 형태는 해당 시기 내에서 동일하며, 각 시기 내 정당별 의회 의석률 변화와 행정부 수반의 당적 변화는 없음.

- ① t 시기에 국정 운영의 효율성을 위해 의회 의원이 각료를 겸직할 수 있다.
② t+2 시기에 행정부 수반은 법률안 거부권을 통해 입법 과정에 관여한다.
③ ㉠이 'B당'이라면, t 시기에 행정부 수반이 제출한 법률안이 의회에서 통과될 가능성이 높다.
④ ㉡과 ㉢이 동일하다면, t+1 시기에 행정부 수반은 국가 원수로서의 지위도 가진다.
⑤ ㉠, ㉡, ㉢이 모두 동일하다면, t 시기와 달리 t+1 시기에는 행정부와 입법부 간 대립 시 잦은 불신임 결의로 국정 불안이 초래될 가능성이 높다.

정치와 법

2 (정치와 법)

사회탐구 영역

6. 우리나라 헌법 기관 A~F에 대한 설명으로 옳은 것은? [3점]

헌법 기관 구성에 관한 권한을 가지는 A는 B의 임명에 대한 동의권을 가진다. 이는 C의 행정부 구성권에 대한 견제 기능을 수행하는데, C가 행정부 최고 심의 기관인 D를 구성하는 국무 위원을 임명할 때 B의 제청이 필수적이기 때문이다. 한편, A는 E의 장(長)과 F의 장(長)의 임명에 대한 동의권을 가진다. 이는 사법 기관의 민주적 정당성 확보를 위해 긍정적으로 평가되지만, F의 장(長)에게 E의 재판관을 지명할 권한을 부여하면서 A의 동의권을 규정하지 않은 것은 적절하지 않다는 지적도 있다.

- ① F는 항소 법원의 결정·명령에 대한 재항고 사건을 심판한다.
- ② C가 긴급 명령을 발한 경우 D에 보고하여 그 승인을 얻어야 한다.
- ③ E의 재판관은 A의 탄핵 소추 대상에 해당하지 않는다.
- ④ E는 F의 제청 신청에 의한 법률의 위헌 여부 심판을 관장한다.
- ⑤ B와 달리 A는 국무 위원에 대한 해임을 C에게 건의할 수 없다.

7. 다음 자료에 대한 설명으로 옳은 것은? (단, A, B는 각각 지방 자치 단체의 장, 지방 의회 중 하나임.)

헌법은 A를 구성하기 위한 선거만을 규정하고 있을 뿐 B의 선임 방법은 법률로 정하도록 하고 있다. 현재는 주민의 대의 기관인 A뿐만 아니라 지방 자치 단체를 대표하는 B도 주민이 직접 선출하고 있다. 하지만 개정된 지방 자치법에 의하면 따로 법률로 정하는 경우 주민 투표를 거쳐 B의 선임 방법을 포함한 지방 자치 단체의 기관 구성 형태를 다르게 할 수 있어 지방 자치 단체별로 기관 구성 형태가 다양해질 수 있을 것으로 기대된다.

- ① A는 조례의 제정·개정 및 폐지를 의결한다.
- ② 주민 참여 예산 제도는 A의 예산안 편성권에 대한 통제 수단이다.
- ③ B의 선임 방법 변경을 내용으로 하는 법률은 주민 투표를 통해 확정된다.
- ④ B를 선출하기 위한 선거의 대표 결정 방식은 다수 대표제에 해당하지 않는다.
- ⑤ A의 구성원과 달리 B는 주민 소환의 대상이 될 수 없다.

8. 민법의 기본 원칙 A에 대한 설명으로 가장 적절한 것은?

소유자가 소유권의 핵심적인 내용에 속하는 사용·수익권을 완전히 포기하는 것은 원칙적으로 허용되지 않지만, 특정인에 대한 관계에서 계약으로 사용·수익권을 포기하는 것까지 금지되는 것은 아니다. 더욱이 임대차 기간이 영구인 임대차 계약을 인정할 실제의 필요성도 있고, 이를 인정한다고 하더라도 임차인에 대한 관계에서만 사용·수익권이 제한될 뿐 임대인의 소유권을 전면적으로 제한하는 것은 아니다. 따라서 당사자들이 자유로운 의사에 따라 임대차 기간을 영구로 정한 약정은 특별한 사정이 없는 한 A에 의하여 허용된다고 보아야 한다.

- ① 자본주의 발전 과정에서 나타난 개인 간 불평등을 해소하기 위해 등장하였다.
- ② 제조업자에게 고의나 과실이 없더라도 제조물의 결함으로 발생한 손해에 대하여 배상 의무를 부과하는 근거가 된다.
- ③ 근로 계약 체결 시 최저 임금법에 근거하여 임금의 최저 수준을 보장하는 것은 A를 제한하는 것이다.
- ④ A에 따르면 당사자의 의사에 부합하더라도 현저하게 공정성을 잃은 내용의 계약은 법적 효력이 발생하지 않는다.
- ⑤ A에 따르면 계약 상대방을 선택할 자유는 보장되지만, 누구와도 계약을 체결하지 않을 자유까지 보장되는 것은 아니다.

9. 다음 자료에 대한 옳은 법적 판단만을 <보기>에서 있는 대로 고른 것은? [3점]

HOME > 연재 > □□의 헌법 교실

수형자 관련 주요 헌법 재판소 결정 분석

헌법 재판소는 수형자 갑이 민사 소송의 항소심 계속 중 청구한 헌법 소원 심판에서 수형자와 소송 사건의 대리인인 변호사와의 접견 시간 및 횟수에 대한 별도의 규정을 두지 않고 일반 접견에 포함시켜 접견 시간 및 횟수를 제한한 ○○법 시행령 조항이 갑의 기본권을 침해한다고 결정하였다. 이후 개정된 ○○법 시행령 조항에 따라 소송 사건의 대리인인 변호사가 수용자를 접견하는 '변호사 접견'의 경우 별도의 접견 시간 및 횟수를 보장받게 되었다. 그러나 '변호사 접견'을 위해서는 ○○법 시행 규칙 조항에 따라 '소송 계속 사실을 소명할 수 있는 자료' 제출이 요구되어 소 제기 전에는 사실상 일반 접견만이 가능하였다. 한편, 수형자 을의 재심 청구를 위해 변호인으로 선임된 병이 청구한 헌법 소원 심판에서 '변호사 접견'의 경우 '소송 계속 사실을 소명할 수 있는 자료'를 제출하도록 한 ○○법 시행 규칙 조항이 병의 기본권을 침해한다는 결정이 있었다. 추후 소송 사건의 대리인인 변호사가 아직 소를 제기하지 않은 단계에서도 수형자와의 충분한 접견 시간을 보장 받을 수 있을 것으로 기대된다.

—<보 기>—

- ㄱ. 갑이 청구한 헌법 소원 심판은 구체적 사건의 재판에 적용되는 법령의 위헌 여부가 재판의 전제가 되어야 청구할 수 있다.
- ㄴ. 병이 청구한 헌법 소원 심판은 을에 대한 일반 접견의 근거인 ○○법 시행령 조항의 위헌 여부를 심판 대상으로 한다.
- ㄷ. 갑이 청구한 헌법 소원 심판과 병이 청구한 헌법 소원 심판 모두 권리 구제형 헌법 소원 심판이다.

- ① ㄱ ② ㄷ ③ ㄱ, ㄴ ④ ㄴ, ㄷ ⑤ ㄱ, ㄴ, ㄷ

10. 다음 사례에 대한 법적 판단으로 옳은 것은? [3점]

○○ 회사에서 근무하던 A는 사용자 B로부터 갑작스럽게 해고 통보를 받았다. 이에 B의 해고 통보가 ○○ 회사 노동조합 소속인 자신에게 불이익을 주고 노동조합 활동을 방해하기 위한 것으로 부당 해고이자 부당 노동 행위에 해당한다며 A는 □□ 지방 노동 위원회에 구제 신청을 하였다. 한편, 이 사실을 알게 된 A의 두 아들 C(18세, 고등학생)와 D(16세, 고등학생)는 생활비를 벌고자 집 근처 대형 마트 사장 E와 근로 계약을 체결하였다. 표는 C, D가 각각 E로부터 교부받은 근로 계약서 내용의 일부를 정리한 것이다.

구분	C	D
계약 기간	2023년 1월 2일~2023년 2월 28일	
업무의 내용	마트 내 물품 판매	
소정 근로 시간 (휴게 시간)	9:00~18:00 (13:00~14:00)	9:30~17:00 (13:30~14:00)
근무일 (주휴일)	매주 5일(화~토) (일요일)	매주 5일(월~금) (일요일)

- ① B의 해고 통보에 대해 A가 소속된 노동조합은 근로 기준법에 따라 □□ 지방 노동 위원회에 부당 해고 구제 신청을 할 수 있다.
- ② □□ 지방 노동 위원회에서 A의 구제 신청을 인용한 경우, B는 이에 불복하려면 10일 이내에 행정 소송을 제기해야 한다.
- ③ C의 휴게 시간뿐만 아니라 D의 휴게 시간도 근로 기준법에 위배되지 않는다.
- ④ C의 근로 시간을 매 근무일 2시간씩 연장하는 것은 C와 E의 합의가 있어도 근로 기준법에 위배된다.
- ⑤ E는 D를 근로자로 사용하기 위해 A의 동의서와 고용 노동부장관이 발급한 취직 인허증을 사업장에 갖추어 두어야 한다.

11. 다음 사례에 대한 법적 판단으로 옳은 것은?

A(17세)는 오토바이 운전면허 취득을 위해 자신의 유일한 법정 대리인인 B의 동의 없이 갑(41세)이 운영하는 운전면허 학원에 등록하였다. A와의 계약 체결 당시 갑은 A가 미성년자라는 사실을 알고 있었다. 한편, A와 평소 친분이 있던 을(21세)은 계약을 체결할 의사로 A에게 운전면허를 취득하면 오토바이를 사 주겠다는 제안을 하였고, A는 그 제안을 수락하였다. 한 달 후 오토바이 운전면허를 취득한 A는 을에게 약속대로 오토바이를 사 달라고 요청하였으나, 을은 이를 거절하였다. 이에 오토바이를 구매하려고 알아보던 A는 다음날 병(20세)에게 사기를 당해 중고 오토바이를 B의 동의 없이 병으로부터 구매하였다. A는 그 오토바이를 타고 가던 중 운전 미숙으로 정 소유 상가 건물의 출입문을 파손하여, 정에게 재산상 손해가 발생하였다.

- ① 갑은 B에게 A와 체결한 계약의 취소 여부에 대해 확답을 촉구하거나 계약 체결에 관한 의사 표시를 철회할 수 있다.
- ② A의 운전면허 취득으로 A와 을 사이의 계약이 성립하였으므로, 을은 A에게 채무 불이행 책임을 진다.
- ③ B는 A와 병이 체결한 계약을 A가 미성년자라는 이유로 취소할 수 있지만, 병의 사기를 이유로는 취소할 수 없다.
- ④ A가 과실로 위법하게 정에게 손해를 끼치는 행위를 하였으므로 정에 대해 채무 불이행 책임을 진다.
- ⑤ 정에 대한 A의 불법 행위 책임이 인정되면 B는 정에게 법정 감독 의무자로서의 특수 불법 행위 책임을 지지 않는다.

12. 다음 사례에 대한 법적 판단으로 옳은 것은? [3점]

동물 병원 원장 A(35세)는 차량의 소유자로부터 공작물인 차량을 장기간 임차하여 사용하고 있다. A는 고객 갑이 치료를 위해 입원시킨 반려견의 재활 운동을 위해 그 차량을 운전하여 직원 B(21세)와 함께 공원으로 갔다. A는 차량을 주차하고 B와 함께 반려견을 데리고 산책하던 중 B가 부주의로 반려견의 발을 밟아 상처를 입혔다. 놀란 반려견이 지나가던 을의 다리를 물어 2주간의 치료를 요하는 상처를 입혔고, 을은 이로 인해 정신적으로도 큰 충격을 받았다. 그 사이 A가 주차해 두었던 차량에서 불이 났고, 이로 인해 옆에 주차되어 있던 병 소유 차량이 파손되는 재산상 손해가 발생하였다. 사고 조사 결과, 화재의 원인은 차량에 대한 비전문가인 소유자가 해당 차량을 직접 수리하여 발생한 보존상의 하자에 의한 것으로 밝혀졌다.

- ① A가 B에 대한 선임 및 사무 감독에 상당한 주의를 다하였더라도, A는 갑에 대한 B의 사용자로서의 특수 불법 행위 책임을 면할 수 없다.
- ② 을은 치료비에 대한 배상을 받기 위해 위자료를 청구해야 한다.
- ③ A가 반려견의 종류와 성질에 따라 그 보관에 상당한 주의를 다하였더라도, A는 을에 대한 동물 점유자로서의 특수 불법 행위 책임을 면할 수 없다.
- ④ 병에게 발생한 재산상 손해에 대한 배상은 특별한 사정이 없는 한 원상회복이 원칙이다.
- ⑤ A가 병에게 발생한 손해의 방지에 필요한 주의를 다한 경우, A는 병에 대한 공작물 점유자로서의 특수 불법 행위 책임을 지지 않는다.

13. 정치 참여 집단 A~C에 대한 설명으로 옳은 것은? (단, A~C는 각각 정당, 이익 집단, 시민 단체 중 하나임.)

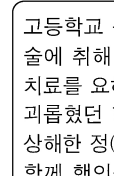
관광 개발 사업이 예정된 ○○ 지역의 상가 이익 증대를 위해 조직된 A는 상권이 확대될 것으로 기대하며 해당 사업의 빠른 추진을 요구하고 있다. 반면, 공익 추구를 목적으로 결성되어 환경 보호 활동에 앞장서 온 B는 생태계 파괴 우려가 있다며 해당 사업에 반대하고 있다. 한편, C는 A와 B의 의견을 수렴한 후 친환경 개발 분야 전문가를 이번 공직 선거에 후보자로 공천하였다.

- ① A는 의회와 행정부를 매개하기 위해 당정 협의회를 구성한다.
- ② B는 국정 감사권을 행사하여 행정부를 견제·감시한다.
- ③ B는 정치 과정에서 산출을 담당하는 정책 결정 기구이다.
- ④ C는 공익보다 사익을 우선시하며 정치적 책임을 지지 않는다.
- ⑤ C는 정권 획득을 목적으로 하며 정치적 충원 기능을 담당한다.

[14~15] 다음 자료를 보고 물음에 답하시오.



오늘 들어온 주요 사건 소식입니다. 1년 전 태풍으로 배가 전복될 위험을 피하기 위해 A의 굴 양식장에 들어간 선장 갑(35세)을 기억하십니까? 당시 수많은 승객을 살렸음에도 굴 양식장에 재산상 손해를 입혀 손괴 혐의로 재판을 받던 갑에게 현재의 위난을 피하기 위한 상당한 이유가 인정되어 무죄 판결이 확정되었습니다. 한편, 스토킹 행위를 처벌하기 위한 ○○법이 오늘 처음 시행되었습니다. 이와 관련하여 한 스토킹 피해자가 지난 주까지 자신을 스토킹했던 을(21세)을 오늘 고소했고 을은 현재 도주하여 행방이 묘연한 상태입니다.



고등학교 동창생을 상해한 병(25세)에 대한 구속 영장이 청구되었습니다. 술에 취해 심신 미약 상태에서 병은 우연히 만난 B(25세)를 폭행해 8주의 치료를 요하는 상해를 입혔습니다. 그런데 B는 학창 시절 병을 지속적으로 괴롭혔던 학교 폭력 가해자로 밝혀져 비난을 받고 있습니다. 한편, 행인을 상해한 정(20세)에 대한 구속 영장이 발부되었습니다. 정은 동생 무(12세)와 함께 행인을 일방적으로 폭행하여 행인에게 6주의 치료를 요하는 상해를 입힌 혐의로 체포되어 경찰 조사를 받고 있습니다.

14. 위 자료에 대한 옳은 법적 판단만을 <보기>에서 고른 것은?

<보 기>

ㄱ. 갑의 행위는 전체 범질서의 관점에 위배되나, 생명을 살리기 위한 행위로 책임이 조각되어 무죄 판결을 받았다.

ㄴ. 을에 대한 고소가 ○○법 시행 이후 이루어졌지만, ○○법 조항의 범죄 구성 요건을 적용하여 을을 처벌할 수 없다.

ㄷ. 병의 행위는 침해의 현재성이 없어 정당방위로 인정될 수 없으나, 병에 대한 법적 비난 가능성은 없다.

ㄹ. 무는 형사 책임 무능력자이지만 소년법상 보호 처분이 부과될 수 있다.

- ① ㄱ, ㄴ ② ㄱ, ㄷ ③ ㄴ, ㄷ ④ ㄴ, ㄹ ⑤ ㄷ, ㄹ

15. 위 자료에 대한 법적 판단으로 옳은 것은? [3점]

- ① A는 배상 명령 제도를 통해 갑으로부터 자신이 입은 굴 양식장의 재산상 손해에 대한 배상을 받을 수 없다.
- ② 법원은 병의 구속 여부를 판단하기 위해 필요한 경우에 한해 병을 직접 심문할 수 있다.
- ③ B는 피해 전부 또는 일부를 배상받지 못한 경우 병에게 범죄 피해자 구조금 지급을 청구할 수 있다.
- ④ 정은 기소된 이후 법원에 구속 적부 심사를 청구하여 구속 상태에서 벗어날 수 있다.
- ⑤ 정은 구속된 상태에서 공판 절차가 진행되더라도 국선 변호인의 조력을 받기 위해서는 법원에 신청을 해야 한다.

16. 다음 사례에 대한 법적 판단으로 옳은 것은?

갑과 그의 아들 을은 슈퍼에서 빵을 훔친 혐의로 모두 불구속 상태에서 수사와 재판을 받았다. 1심 법원은 갑에게 배고픈 을을 위해 범행한 점, 범행을 뉘우치고 있는 점을 고려하여 형의 선고를 유예하고, 을에게는 범행에 가담했다는 확신이 들지 않아 무죄를 선고하였다. 한편, 병과 정은 출판물에 의한 명예 훼손 혐의로 재판을 받았다. 1심 법원은 범행을 주도한 병에게는 금고 2년을 선고한 반면, 정에게는 정상에 침착할 만한 사유를 고려하여 금고 1년을 선고하면서 그 집행을 2년간 유예하였다.

- ① 갑은 실효 없이 일정 기간이 경과하면 형 선고의 효력이 상실되는 판결을 선고받았다.
- ② 1심 법원의 판결이 확정되면 을은 형사 보상 제도를 통하여 자신에게 발생한 손해에 대한 보상을 받을 수 있다.
- ③ 1심 법원은 을에게 무죄를 선고하면서 범죄 예방의 필요성이 인정되면 치료 감호 처분을 부과할 수 있다.
- ④ 1심 법원의 판결이 확정되면 병은 판사의 지휘를 받아 교정 시설에 수용되거나 정해진 노역에 복무하지 않아도 된다.
- ⑤ 1심 법원은 정에게 보호 관찰을 받을 것을 명할 수 있는 판결을 선고하였다.

17. 다음 사례에 대한 법적 판단으로 옳은 것은? [3점]

갑은 을과 재판상 이혼을 하고, 을과의 사이에서 혼인 중 출생한 자녀 A를 홀로 양육하게 되었다. 병은 정과 법률혼을 한 후 정 의 자녀 B(12세)를 적법한 절차를 거쳐 친양자로 입양하였다. 2년 후 정이 교통사고로 사망하자 병은 갑과 법률혼을 하였으며, A가 19세가 되자 적법한 절차를 거쳐 A를 양자로 입양하였다. 그 후 병과 B는 해외여행을 갔다가 풍토병을 얻어 모두 사망하였는데, 병이 B보다 먼저 사망하였다.

- ① 갑과 을의 이혼은 법원의 판결로 이혼의 효력이 발생하였고, 갑과 을에게 A에 대한 면접 교섭권이 인정된다.
- ② 정 사망 당시 정이 가진 재산은 병과 B가 상속받으나, 병은 B가 상속받은 재산을 관리할 수는 없다.
- ③ 병이 A를 입양함에 따라 A는 병의 친생자와 같은 지위를 가지게 되고, 병은 A에게 친권을 행사할 수 있다.
- ④ 병과 B의 해외여행 출발 당시 갑, 을, 병, B는 모두 A의 친족이다.
- ⑤ 병의 사망에 따른 상속인은 갑, A, B이며, B의 사망에 따른 상속인은 갑이다.

18. 다음 자료에 대한 설명으로 옳은 것은? (단, A~C는 국제 연합의 주요 기관임.) [3점]

지구 온난화 문제를 해결하기 위해 ① '기후 변화 협약'의 체결 등 다양한 노력이 국제 사회에서 진행되고 있는 가운데, 모든 회원국으로 구성된 의결 기관인 A는 기후 변화 대응에 있어 국가의 구체적 의무에 관한 권고적 의견을 줄 것을 주요 사법 기관인 B에 요청하는 결의안을 채택하였다. 한편, 평화와 안전 유지에 관한 일차적 책임을 부여받은 C는 기후 변화로 인한 자원 배분의 갈등이 평화와 안보에 대한 위협으로 작용할 수 있다는 내용의 결의안 채택을 추진하였으나, C의 상임 이사국 중 한 국가가 거부권을 행사하여 무산되었다.

- ① B에 제소된 사건의 당사자에는 국가와 개인이 모두 포함된다.
- ② B는 판결을 이행하지 않는 당사국을 직접 제재할 수 있는 수단이 없다.
- ③ C의 상임 이사국은 대륙별 안배를 통해 A에서 선출되고 5개국으로 구성된다.
- ④ C와 달리 A는 B의 재판관 선출 권한을 가지고 있지 않다.
- ⑤ ①과 같은 국제법의 법원(法源)이 우리나라에서 국내법적 효력을 가지려면 국회가 이를 비준해야 한다.

19. 국제 관계를 바라보는 관점 A, B에 대한 설명으로 옳은 것은?

A는 어느 국가도 압도적인 힘을 갖지 못하도록 상대국을 견제하여 힘의 균형 상태를 이루어야 쉽게 상대국이 공격하지 못하기 때문에 평화가 유지된다고 본다. 반면, B는 한 국가가 전쟁을 도발한 경우, 이를 다른 모든 국가에 대한 위협으로 간주하고 국제 연맹과 같은 국제기구를 통해 집단적으로 대응함으로써 침략국을 응징해야 평화가 유지된다고 본다.

- ① A는 국제 사회에 보편적 선(善)과 사회적 공동체 의식이 존재한다고 본다.
- ② B는 국가 간 갈등을 해결하고 협력을 증진시킬 수 있는 국제 규범의 역할을 강조한다.
- ③ A와 달리 B는 국가가 스스로 국력을 증가시켜 상대적 힘의 우위를 확보해야 생존할 수 있다고 본다.
- ④ B와 달리 A는 국가 간 공동의 이익 추구를 통해 개별 국가의 이익과 국제 사회 전체의 이익이 조화를 이룰 수 있다고 본다.
- ⑤ A와 B 모두 배타적 국익 추구로 인한 국제 사회의 갈등을 강제력 있는 중앙 정부가 해결할 수 있다고 본다.

20. 다음 자료에 대한 옳은 분석만을 <보기>에서 있는 대로 고른 것은? [3점]

갑국 의회는 지역구 의원 100인과 비례 대표 의원 100인으로 구성된다. 유권자는 지역구 의원 선출을 위해 후보자에 1표를 행사하며, 비례 대표 의석은 지역구 의원 선거에서 각 정당이 얻은 득표율에 비례하여 정당별로 배분된다. 지역구 의원 선거에서 각 선거구별로 선출되는 지역구 의원 수는 같고, 각 정당은 선거구별로 1인의 후보자만 공천한다. 갑국에는 A~E당만 존재하며, 최근 의회 의원 선거 결과 B당을 제외한 모든 정당은 비례 대표 의석률이 지역구 의석률보다 높게 나타났다. 표는 최근 의회 의원 선거 결과에 따른 지역구 의석수를 나타낸다.

구분	A당	B당	C당	D당	E당	무소속
지역구 의석수(석)	30	51	12	4	1	2

갑국에서는 다음과 같은 의회 의원 선거 제도 개편안이 검토되고 있다.

- (가) 선거일에 투표에 참여할 수 없는 유권자들을 위해 선거일 전 미리 투표할 수 있도록 하는 사전 투표제 도입
- (나) 국내에 거주하는 국민에게만 선거권을 부여하는 것은 해외에 거주하는 국민의 선거권과 평등권을 침해할 수 있어 해외에 거주하는 국민에게도 선거권을 부여
- (다) 지역구 의원 선출을 위해 후보자에 1표, 비례 대표 의원 선출을 위해 정당에 1표를 행사하는 1인 2표제 도입

—<보 기>—

- ㄱ. 갑국은 최근 실시한 지역구 의원 선거에서 '동일 선거구 내 당선자 간 득표율 차이로 표의 등가성 문제가 발생할 수 있는 선거구제'를 채택하지 않았다.
- ㄴ. 최근 의회 의원 선거 결과 B당은 과반 의석을 확보하지 못하였다.
- ㄷ. (가)와 (나) 모두 유권자의 수를 증가시켜 보통 선거의 원칙을 실현할 수 있다.
- ㄹ. (다)는 현행 의회 의원 선거에서 정당 소속 후보자에게 투표한 유권자와 무소속 후보자에게 투표한 유권자 간에 투표 가치의 불평등이 발생하는 문제를 해소하는 데 기여할 수 있다.

- ① ㄱ, ㄷ ② ㄱ, ㄹ ③ ㄴ, ㄷ
- ④ ㄱ, ㄴ, ㄹ ⑤ ㄴ, ㄷ, ㄹ

* 확인 사항
○ 답안지의 해당란에 필요한 내용을 정확히 기입(표기)했는지 확인 하시오.

2024학년도 대학수학능력시험

사회탐구 영역 정답표
(정치와 법) 과목

문항 번호	정 답	배 점	문항 번호	정 답	배 점	문항 번호	정 답	배 점	문항 번호	정 답	배 점
1	④	2	6	①	3	11	⑤	2	16	⑤	2
2	①	3	7	①	2	12	⑤	3	17	④	3
3	③	2	8	③	2	13	⑤	2	18	②	3
4	③	2	9	②	3	14	④	2	19	②	2
5	④	3	10	③	3	15	①	3	20	④	3

제 4 교시

사회탐구 영역(사회·문화)

성명 수험 번호 - 제 () 선택

1. 밑줄 친 ㉠~㉣과 같은 현상의 일반적인 특징에 대한 설명으로 옳은 것은?

지구 온난화로 인한 ㉠강물 속 용존 산소 감소가 수생 생물의 다양성을 위협한다는 보고서가 발표됐다. 물속 용존 산소는 물속 생물의 호흡 과정에서 소비된다. 그런데 ㉡지구 온난화에 의해 수온이 상승하면 물속 생물의 호흡량이 증가하여 ㉢용존 산소가 더 빠르게 고갈된다. 보고서에서는 ㉣탄소 배출량 감축 정책이 실패할 경우 얕은 강에서 특정 어종이 사라질 정도로 수(水) 생태계의 ㉤생물 다양성이 훼손될 것으로 예측했다.

- ① ㉠과 같은 현상은 가치 함축적이다.
- ② ㉡과 같은 현상은 당위 법칙을 따른다.
- ③ ㉢과 같은 현상은 보편성보다 특수성이 강하게 나타난다.
- ④ ㉣과 같은 현상은 개연성의 원리가 적용된다.
- ⑤ ㉤과 같은 현상은 확실성의 원리가 적용된다.

2. 다음 글에서 개인과 사회의 관계를 바라보는 필자의 관점에 대한 옳은 설명만을 <보기>에서 고른 것은?

돈 자체가 가치를 지닌다는 믿음과 돈이 삶의 궁극적 목표라는 인식이 있다. 하지만 돈의 가치는 인간의 욕구에서 기인하는 심리적 사실에 불과하다. 돈은 인간이 그것을 갈망할 때 비로소 가치를 부여받는다. 또한 돈은 사회적 결사의 매개체일 뿐이다. 사람은 돈을 매개로 아름다운 사회를 만들 수도, 차별과 위선이 만연한 사회를 만들 수도 있다. 결국 돈의 가치는 상대적, 수단적인 것이다. 돈은 '더 나은 삶'에 도달하기 위한 다리에 불과하며, 인간은 다리에서 살아갈 수 없다.

<보 기>

- ㄱ. 사회의 속성을 개인의 속성으로 환원할 수 있다고 본다.
- ㄴ. 사회는 개인의 이익을 실현해 주는 도구에 불과하다고 본다.
- ㄷ. 사회는 개인의 외부에 존재하는 독자적인 실체라고 본다.
- ㄹ. 사회의 구속력이 개인의 자유 의지보다 우위에 있다고 본다.


- ① ㄱ, ㄴ ② ㄱ, ㄷ ③ ㄴ, ㄷ ④ ㄴ, ㄹ ⑤ ㄷ, ㄹ

3. 자료 수집 방법 A~C의 일반적인 특징에 대한 설명으로 옳은 것은? [3점]

○ 갑은 진로 집중 학기제의 효과를 연구하기 위해 ○○고등학교 1학년 학생들의 학습 활동을 한 학기 동안 참관하며 관찰 일지를 작성하였다. 이후 해당 학교 학생과 교사를 대상으로 진로 집중 학기제의 효과에 대해 어떻게 인식하고 있는지 알아보기 위한 설문 조사를 진행하였다.

○ 을은 학생들의 교우 관계와 학교생활 만족도 간의 관계를 파악하기 위해 청소년 관련 연구기관이 발행한 심층 면접 조사 결과를 분석하였다. 이후 □□지역 고등학생들을 대상으로 구조화된 문항에 응답하도록 하였다.

갑은 A와 B를, 을은 B와 C를 사용하였습니다.



- ① A는 B와 달리 변인 간의 관계를 파악하는 연구에 주로 사용된다.
- ② B는 C와 달리 연구 대상자와의 언어적 상호 작용이 필수적이다.
- ③ C는 A에 비해 연구 대상자와의 정서적 교감 형성을 중시한다.
- ④ A는 B, C에 비해 다수를 대상으로 한 자료 수집에 유리하다.
- ⑤ C는 A, B와 달리 질적 자료의 수집에 주로 활용된다.

4. 사회·문화 현상을 바라보는 관점 A~C에 대한 설명으로 옳은 것은? (단, A~C는 각각 기능론, 갈등론, 상징적 상호 작용론 중 하나임.) [3점]

교사: A, B, C 중 하나를 선택한 후 해당 관점에 대해 설명해 보세요.
 갑: A는 사회가 생물 유기체처럼 균형을 유지한다고 전제합니다. 조화와 균형은 정상적 상태로, 부조화와 불균형은 병리적 상태로 봅니다.
 을: B는 사회를 구성하는 하위 요소가 사회 전체의 존속과 통합을 위한 역할을 수행한다고 봅니다. 또한 B는 사회 각 부분에 존재하는 복잡한 관계를 지배와 피지배의 관계로 단순화합니다.
 교사: 갑은 옳게, 을은 틀리게 설명했습니다. 을의 설명에는 정작 B의 내용은 없고, A와 C의 내용만 있네요.

- ① A는 B와 달리 개인의 상황 정의와 의미 해석을 강조한다.
- ② B는 C와 달리 사회에 내재한 구조적 모순을 중심으로 사회 현상을 설명한다.
- ③ C는 A와 달리 기득권층의 이익을 옹호한다는 비판을 받는다.
- ④ '대립과 갈등을 사회의 본질적 속성으로 보는가?'라는 질문으로 A와 B를 구분할 수 없다.
- ⑤ '사회 각 제도의 상호 의존적 관계에 주목하는가?'라는 질문으로 B와 C를 구분할 수 있다.

5. 다음 자료에 대한 설명으로 옳은 것은?

연구자 갑은 정부 정책 도입에 대한 여론 조사 연구에서 '정보 제공이 응답자의 ㉠응답 반응에 영향을 미칠 것이다.'라는 가설을 설정하였다. 이를 검증하기 위해 질문 방식을 정부 정책에 대한 정보 제시 없이 정부 정책 도입에 대한 동의 여부를 묻는 것(유형 A), 정부 정책에 대한 중립적인 정보를 제시한 후 정부 정책 도입에 대한 동의 여부를 묻는 것(유형 B), ㉡정부 정책에 대한 긍정적인 정보를 제시한 후 정부 정책 도입에 대한 동의 여부를 묻는 것(유형 C)으로 구분한 후, 다음과 같이 두 단계에 걸쳐 연구를 진행하였다.


- 1단계: 동일한 정부 정책 도입에 대해 비슷한 시기에 수행된 여론 조사 결과를 수집하였다. 자료 분석을 통해 여론 조사에서 ㉢정보 제공 여부가 응답자의 의사 결정에 영향을 미칠 수 있음을 확인하였다.
- 2단계: 1단계에서 확인한 결과를 경험적으로 검증하기 위해 성인 200명을 무작위로 선정한 후 실험을 실시하였다. 유형 A를 배부하여 ㉣정부 정책 도입에 대한 찬반 여부를 측정된 결과 응답자의 60%가 제안된 정책에 반대하였다. 반대한 사람을 40명씩 무작위로 세 집단으로 나눈 뒤, 첫째 집단에는 유형 A에, 둘째 집단에는 유형 B에, 셋째 집단에는 유형 C에 각각 응답하도록 하였다. 세 집단의 응답을 분석한 결과, 첫째 집단과 둘째 집단 간, 첫째 집단과 셋째 집단 간에는 제안된 정책에 반대하는 비율이 유의미하게 차이가 났지만, 둘째 집단과 셋째 집단 간에는 유의미한 차이가 없었다.


- ① 2단계에서 갑은 사전 검사를 실시하지 않았다.
- ② 유형 B에 응답한 사람들은 통제 집단, 유형 C에 응답한 사람들은 실험 집단이다.
- ③ ㉠은 ㉡에 대한 조작적 정의이다.
- ④ ㉢은 질문지 작성 시 특정 응답을 유도한 것이므로 갑의 연구 결과를 일반화할 수 없다.
- ⑤ 2단계에서 도출한 분석 결과는 ㉣을 지지한다.


2 (사회 · 문화)


사회탐구 영역


6. 다음 자료에 대한 설명으로 옳은 것은? [3점]


문화의 속성 5가지를 서로 다르게 1가지씩 배정했습니다. '자전거'를 소재로 각자 배정받은 속성이 부각된 사례를 말해 볼까요?  교사


갑  출퇴근 수단으로 ○○국 사람들이 자전거를 떠올리는 것은 A가 부각된 사례입니다.

을  예전과 다르게 짧은 거리를 이동할 때 택시를 이용하는 대신 자전거를 이용하는 사람이 늘어난 것은 B가 부각된 사례입니다.

병  (가) 은 축적성이 부각된 사례입니다.

정  (나) 은 전체성이 부각된 사례입니다.

무  (다) 은 변동성이 부각된 사례입니다.

갑과 정은 각각 배정받은 속성이 부각된 사례를 제시하였습니다. 하지만 을은 무가 배정받은 속성, 병은 학습성, 무는 병이 배정받은 속성이 부각된 사례를 제시하였습니다.  교사

- ① A는 문화가 시간이 지남에 따라 변화하는 것을 의미한다.
- ② B는 사회 구성원이 문화를 후천적으로 습득하는 것을 의미한다.
- ③ (가)에는 '어릴 적 자전거 타는 방법을 부모에게 배워 능숙하게 자전거를 탈 수 있게 된 것'이 들어갈 수 없다.
- ④ (나)에는 '기존의 자전거에 변속기가 추가되고 충격 흡수 장치가 더해지는 것'이 들어갈 수 있다.
- ⑤ (다)에는 '자전거 이용자가 늘어나자 기업이 자전거를 이용하는 공유 경제 상품을 개발하고, 정부가 전용 도로를 건설하는 것'이 들어갈 수 있다.

7. 다음 자료에 대한 설명으로 옳은 것은?

예능 프로그램 <인연 만들기> 대본

[장면 1] (내레이션): 이번회는 연하남, 연상녀와 결혼하고 싶은 사람들의 특징입니다. 먼저 자기소개를 들어볼까요?

[장면 2] 갑: □□기업에서 프로그래머로 근무 중입니다. 대학교 때는 경영학을 공부했으나, 진로에 대한 고민 끝에 선택한 현재 직업에 매우 만족하고 있습니다. 바다낚시 동호회에서 함께 활동하고 있는 을과 낚시를 자주 다닙니다.

[장면 3] 을: 여행을 좋아하여 △△은행 사내 여행 동아리에서 활동한 적이 있습니다. 해외 여행 관련 회사 창업을 고민하던 중에 고등학교 총동창회에서 함께 활동하고 있는 병의 조언에 따라 은행을 그만두고, 대학원에 진학하여 관광 경영에 관한 공부를 다시 하고 있습니다.

[장면 4] 병: ○○방송국의 프로듀서로 일하면서 영화감독이 되기 위해 시나리오를 구상 중입니다. 대학교를 졸업한 후 을과 함께 △△은행에서 주최한 모의 주식 투자 대회에서 입상한 적이 있습니다. 주말에는 동물 보호 단체 회원으로 봉사 활동을 합니다.

- ① [장면 1]에 적혀 있는 내용에는 성취 지위가, [장면 3]에 적혀 있는 내용에는 비공식 조직이 있다.
- ② [장면 2]에 적혀 있는 이익 사회의 개수는 [장면 4]에 적혀 있는 비공식적 사회화 기관의 개수보다 적다.
- ③ 갑은 을과 달리 역할 갈등이 해소되어 준거 집단과 소속 집단이 일치한다.
- ④ 을이 속해 있는 자발적 결사체의 개수는 병이 속해 있는 2차 집단의 개수보다 적다.
- ⑤ 대본에는 갑의 재사회화와 을, 병의 예기 사회화 내용이 적혀 있다.

8. 사회적 소수자 A, B에 대한 설명으로 옳은 것은? [3점]

- 갑국에 사는 노인 A는 취업 시장에서 불이익을 받거나 카페 등 특정한 장소에서 입장에 제한을 받는 등 나이가 많다는 이유로 차별받았다.
- 강제 이주로 3대째 을국에서 살고 있는 이주민의 3세 B는 을국 사람들과 구분되는 민족적, 인종적 특성으로 인해 을국에서 차별받았다.

- ① A는 B와 달리 권력의 열세로 인해 차별받았다.
- ② A는 B와 달리 여러 사회적 소수자 집단에 중첩되어 속해 있다.
- ③ B는 A와 달리 고정 관념으로 인해 차별의 대상이 되었다.
- ④ B는 A와 달리 식별 가능성으로 인해 차별의 대상이 되었다.
- ⑤ A와 B는 모두 귀속적 특성으로 인해 차별받았다.

9. 다음 두 사례에서 공통적으로 도출할 수 있는 내용으로 가장 적절한 것은?

- 갑국의 빈민가 출신 젊은이들은 주류 사회의 가치관에 상충하는 요소들을 의식적으로 드러내는 새로운 장르의 음악을 만들어 냈다. 그런데 해당 장르가 음악 산업의 주류로 자리 잡으면서 본연의 색채를 잃었다는 평가를 받고 있다.
- 을국의 일부 젊은이들은 사회 전반에 퍼진 삶의 방식이 지나치게 경쟁적이고, 이기적이며, 물질 중심적이라고 비판하며 그들만의 새로운 삶의 양식을 만들어 나갔다. 이들은 물질 소유를 최소화하고 인간으로서 정신적 성장을 중시하는 삶의 양식을 추구하였다.

- ① 반문화는 전체 사회에서 주류 문화가 된다.
- ② 하위문화와 반문화는 모두 세대 간 갈등의 원인이 된다.
- ③ 주류 문화에 대항하는 구성원에 의해 반문화가 형성된다.
- ④ 주류 문화와 하위문화는 모두 사회의 안정과 통합에 기여한다.
- ⑤ 반문화는 주류 문화로 변화하는 과정에서 정체성이 상실된다.

10. 다음 자료에 대한 분석으로 옳은 것은? [3점]

표는 갑국과 을국의 세대 간 계층 이동 현황을 나타낸 것이다. C에서 A로의 이동은 하강 이동이고, C에서 B로의 이동은 상승 이동이다. 단, 계층은 A, B, C로만 구분되고, A~C는 각각 상층, 중층, 하층 중 하나이다.

〈갑국〉				〈을국〉				
구분	부모 세대			구분	부모 세대			
	A	B	C		A	B	C	
자녀 세대	A	●●	●	●●●	A	●●●	●	●●●●
	B	●●●	●●		B	●	●●	●●●
	C	●●●	●	●●	C	●●	●	●

* ●는 해당 계층 사람의 수를 나타낸 것이며, 각 ●가 나타내는 사람의 수는 동일함.

- ① 갑국은 자녀 세대에서 완전 평등한 계층 구조를 이루었다.
- ② 을국의 자녀 세대에서 중층인 사람의 수는 갑국의 부모 세대에서 상층인 사람의 수보다 많다.
- ③ 갑국은 을국과 달리 부모 세대 중층에서 세대 간 하강 이동이 발생하지 않았다.
- ④ 갑국은 개방적 계층 구조, 을국은 폐쇄적 계층 구조이다.
- ⑤ 갑국의 부모 세대 계층 구조는 피라미드형, 을국의 자녀 세대 계층 구조는 모래시계형이다.

11. 다음 자료에 대한 설명으로 옳은 것은?

사회자: 뒤르켐의 아노미 이론, 머튼의 아노미 이론, 차별 교제 이론, 낙인 이론 중 하나를 선택하여 최근 우리 사회에서 나타나는 범죄 현상을 설명해 주십시오.
 갑: 급속한 사회 변동으로 경제적 성취와 개인주의라는 새로운 가치가 나타나고 있습니다. 이로 인해 과거에 작동했던 전통적 규범과 새롭게 등장한 가치가 혼재되면서 삶의 기준을 상실한 사람들의 범죄가 늘어나고 있습니다.
 을: 성공에 필요한 합법적 기회가 있는 사람들마저도 범죄를 저지릅니다. 이들은 비합법적 수단으로 큰돈을 번 사람들과 빈번하게 교류하며 그들의 방식과 태도를 습득함으로써 범죄를 저지르고 있습니다.
 병: 청소년 시기에 전과자가 된 사람들은 충분한 교육을 받지 못합니다. 이로 인해 경제적 성공을 위한 경쟁이 치열한 사회에서 물질적 성공에 필요한 기회가 제한되어 범죄를 저지르고 있습니다.

- ① 갑의 관점은 을의 관점과 달리 정상 집단과의 교류를 일탈 행동의 해결 방안으로 제시한다.
- ② 을의 관점은 병의 관점과 달리 차별적인 사회적 제재를 일탈 행동의 원인으로 본다.
- ③ 병의 관점은 갑의 관점과 달리 문화적 목표와 제도화된 수단의 괴리를 일탈 행동의 원인으로 본다.
- ④ 갑, 을의 관점은 병의 관점과 달리 사회 구조적 관점에서 일탈 행동을 설명한다.
- ⑤ 을, 병의 관점은 갑의 관점과 달리 개인이 타인과의 상호 작용을 통해 일탈자가 되어가는 과정에 주목한다.

12. A, B의 일반적인 특징에 대한 설명으로 옳은 것은? (단, A, B는 각각 관료제, 탈관료제 중 하나임.) [3점]

○○ 버거 회사는 명확한 위계 구조 속에서 직급별 권한과 책임을 세분화하고 메뉴, 조리법 등을 표준화하여 관리하는 A로 운영하였다. 최근 이윤이 급감하자 ○○ 버거 회사는 어떤 직원의 제안이든 창의적인 메뉴라면 수용하고 수평적인 의사 결정 구조를 채택하는 등 B를 도입하여 회사의 이윤 증대를 꾀하고 있다.

- ① A는 B에 비해 업무 수행 과정의 예측 가능성이 높다.
- ② A는 B와 달리 외부 환경 변화에 대한 유연한 대처가 용이하다.
- ③ B는 A에 비해 목적 전치 현상이 나타날 가능성이 높다.
- ④ B는 A와 달리 효율적인 목표 달성이 조직 운영의 핵심이다.
- ⑤ A는 능력에 따른 보상을, B는 경력에 따른 보상을 중시한다.

13. 사회 변동 이론 (가), (나)에 대한 설명으로 옳은 것은? (단, (가), (나)는 각각 진화론, 순환론 중 하나임.)

(가) 자연 현상에 빗대어 사회 변동을 설명하면 그 방향을 쉽게 이해할 수 있다. 태양 주위로 지구와 달이 돌면서 낮과 밤, 밀물과 썰물, 계절이 번갈아 가며 나타나듯 사회는 변동한다.
 (나) 자연 현상에 빗대어 사회 변동을 설명하면 그 방향을 쉽게 이해할 수 있다. 모든 생명체가 적자생존의 상황에서 살아남기 위한 경쟁을 통해 더 나은 방향으로 변화하듯 사회는 변동한다.

- ① (가)는 장기적인 사회 변동의 과정을 설명하기 어렵다.
- ② (나)는 단선적인 사회 변동의 과정을 설명하기 어렵다.
- ③ (가)는 (나)에 비해 사회 변동 방향을 예측하여 대응하기 어렵다.
- ④ (나)는 (가)와 달리 과거에 비해 진보한 사회를 설명하기 어렵다.
- ⑤ (가)는 서구 중심적 사고라는, (나)는 숙명론적 사고라는 비판을 피하기 어렵다.

14. 다음 자료에 대한 설명으로 옳은 것은? [3점]

○○국의 음식 문화 변동 양상에 대한 모둠 과제 우수 사례

<p><1모둠></p> <p>○○국 내에 갑국 이주민 거주 지역에서나 볼 수 있던 갑국의 전통 음식 A가 전국적으로 유행함. 특히 ○○국 젊은 세대 사이에서 자극적인 맛으로 A가 인기임.</p>	<p><2모둠></p> <p>○○국 음료 회사는 다이어트 열풍으로 을국의 무설탕 음료 B의 제조법에 자극 받아 새로운 무열량 음료를 개발함. 젊은 층의 선호로 ○○국에서 전통 음료와 B의 판매량을 추월함.</p>
<p><3모둠></p> <p>○○국 제과 회사가 만든 과자 C는 병국의 과자에 ○○국의 식재료인 황태 가루를 넣은 새로운 과자임. 병국의 유명 연예인이 C가 병국 과자를 대체할 수 있을 만큼 맛있다고 하자 ○○국보다 병국에서 많이 판매됨.</p>	<p><4모둠></p> <p>막대기에 과일 사탕을 꽂은 정국의 디저트 D가 SNS를 통해 ○○국에 알려짐. 이후 ○○국 젊은이들이 인터넷에서 배운 조리법 대로 D를 만들어 먹기 시작하며 D가 젊은 세대 문화로 스며들.</p>

- ① 1모둠과 2모둠이 작성한 내용에 모두 문화 공존이 나타난다.
- ② 3모둠과 4모둠이 작성한 내용에 모두 문화 융합이 나타난다.
- ③ 1모둠이 작성한 내용에 발명이, 2모둠이 작성한 내용에 직접 전파가 나타난다.
- ④ 3모둠이 작성한 내용에 문화 동화가, 4모둠이 작성한 내용에 간접 전파가 나타난다.
- ⑤ 1모둠과 2모둠이 작성한 내용에 모두 자극 전파가, 3모둠과 4모둠이 작성한 내용에 모두 자발적 문화 접변이 나타난다.

15. 다음 자료에 대한 분석으로 옳은 것은? [3점]

갑국의 사회 보장 제도는 우리나라의 사회 보장 제도와 동일하다. A는 상호 부조의 원리가 적용되는 제도이고, B는 정부 재정으로 비용을 전액 총당하는 것을 원칙으로 하는 제도이다. 표는 갑국의 전체 인구 중 A, B 수급자 비율과 시기에 따른 비율 차이를 나타낸 것이다. t년 대비 t+30년에 갑국의 전체 인구는 50% 증가하였다.

<표 1> t년의 수급자 비율 (단위: %)

A 수급자	B 수급자	A와 B의 중복 수급자
40	15	8

<표 2> t년 대비 t+30년의 수급자 비율 차이*

A에만 해당하는 수급자	B에만 해당하는 수급자	A와 B의 중복 수급자
2	-3	8

* 수급자 비율 차이 = t+30년의 수급자 비율 - t년의 수급자 비율

- ① t년에 전체 인구 중 부정적 낙인이 발생할 수 있는 제도에만 해당하는 수급자 비율은 A와 B의 중복 수급자 비율보다 크다.
- ② t+30년에 수혜자 비용 부담 원칙이 적용되는 제도의 수급자 수는 t년에 A나 B 어느 것도 받지 않는 비(非)수급자 수보다 많다.
- ③ t+30년에 강제 가입의 원칙이 적용되는 제도에만 해당하는 수급자 수는 A와 B의 중복 수급자 수보다 적다.
- ④ t년에 사전 예방적 성격이 강한 제도의 수급자 수는 t+30년에 사후 처방적 성격이 강한 제도의 수급자 수의 2배이다.
- ⑤ t년 대비 t+30년에 A 수급자 수의 증가율은 B 수급자 수의 증가율보다 크다.

4 (사회 · 문화)


사회탐구 영역

16. 갑~병의 문화 이해 태도에 대한 설명으로 옳은 것은?


A국 사람들은 동료들과 함께 식사해도 자신이 먹은 음식 값은 각자 지불해. A국 사람들의 세련되고 진보한 문화를 우리 사회가 본받았으면 좋겠어.

나는 연장자나 모임을 주최한 사람이 기본 좋게 음식 값을 모두 지불하는 우리의 문화가 훌륭하다고 생각해. 오히려 A국 사람들이 우리 문화를 본받아야 해.


A국의 문화도, 우리의 문화도 모두 의미가 있지. 무엇이 더 훌륭한지를 판단할 게 아니라 왜 그런 문화가 생겼는지 그 사회의 맥락을 살펴보는 것이 필요해.



갑



을



병

- ① 갑의 태도는 선진 문물 수용에 적극적이지 않다는 비판을 받는다.
- ② 을의 태도는 자국의 문화 정체성을 약화한다는 비판을 받는다.
- ③ 병의 태도는 문화 제국주의로 나아갈 수 있다는 비판을 받는다.
- ④ 갑, 을의 태도는 모두 문화의 다양성을 저해할 수 있다는 비판을 받는다.
- ⑤ 을, 병의 태도는 모두 특정 문화를 기준으로 문화 간 우열을 가린다는 비판을 받는다.

17. 빈곤의 유형 A, B에 대한 설명으로 옳은 것은? (단, A, B는 각각 절대적 빈곤, 상대적 빈곤 중 하나임.)

소설 ○○○는 1970년대를 배경으로 하여 최소한의 생계 유지를 하지 못하는 A가구의 삶을 그리고 있다. 소설의 주인공은 생필품조차 구매할 수 없는 저임금을 받고 고된 노동을 한다. 2020년대를 배경으로 한 드라마 □□□는 A에서는 벗어났지만 사회 구성원 다수가 누리는 생활 수준을 충족하지 못하는 B가구의 삶을 그리고 있다. 드라마 속 주인공은 부자들의 모습에 상대적 박탈감을 느낀다.

- ① A는 상대적 박탈감이라는 사회 문제를 유발하지 않는다.
- ② 우리나라에서 가구 소득이 중위 소득에 미치지 못하는 가구는 모두 B가구이다.
- ③ A는 B와 달리 사회 구성원의 소득 분포에 따라 상대적으로 규정된다.
- ④ B는 A와 달리 경제 성장을 통해 해결할 수 있다.
- ⑤ 상대적 빈곤선이 절대적 빈곤선보다 높으면 A에 해당하는 모든 가구는 B에 해당한다.

18. 밑줄 친 ㉠, ㉡에 대한 설명으로 가장 적절한 것은? [3점]

- A국에서는 이전 세대의 경제 성장 과정에서 배출된 온실 가스로 인해 기후 위기의 피해가 심각하다. 이에 기후 위기 해결을 위해 청년 중심의 시민 단체가 환경 정책 마련을 요구하고 온라인 캠페인 활동을 하는 등 ㉠ 사회 운동을 전개하고 있다.
- B국의 한 노숙인은 행색이 초라하다는 이유로 건강권 관련 정책 토론회 출입을 제지당했다. 이 사건으로 노숙인 인권 보장을 요구하는 인권 단체의 시위가 벌어졌다. 이후 노숙인의 생계 지원법 마련을 요구하는 ㉡ 사회 운동이 지속적으로 확산되었다.

- ① ㉠은 세대 간 통합을 추구하는 체계적인 사회 운동이다.
- ② ㉡은 사회 체제 내에서 특정 사회 문제의 개선을 요구하는 사회 운동이다.
- ③ ㉠은 ㉡과 달리 사회적 약자의 권리 보장을 목적으로 하는 사회 운동이다.
- ④ ㉡은 ㉠과 달리 비대면 방식을 활용하는 사회 운동이다.
- ⑤ ㉠과 ㉡은 모두 변화를 거부하고 과거 질서로 되돌아가려는 사회 운동이다.

19. 다음 자료에 대한 옳은 설명만을 <보기>에서 있는 대로 고른 것은? (단, A, B는 각각 산업 사회, 정보 사회 중 하나임.)

<형성 평가>

○ 제시된 '대답'에 맞게 빈칸을 채워 질문을 완성하십시오.

대답	대답에 맞는 질문	채점 결과
예	A는 B에 비해 (가) 이가 높은가?	①
아니오	B는 A에 비해 정보 제공자와 수용자 간 구분 이가 명확한가?	1점

* 교사는 완성한 질문별로 채점하고 제시된 대답에 맞게 질문을 완성한 경우는 1점, 틀린 경우는 0점임.

<보 기>

ㄱ. A는 B에 비해 물리적 거리가 사회적 관계 형성에 미치는 제약 정도가 크다.

ㄴ. (가)에 '사회의 다원화 정도'가 들어간다면, ㉠은 '1점'이다.

ㄷ. ㉠이 '0점'이라면, (가)에는 '가정과 일터의 결합 정도'가 들어갈 수 없다.

- ① ㄱ ② ㄴ ③ ㄱ, ㄷ ④ ㄴ, ㄷ ⑤ ㄱ, ㄴ, ㄷ

20. 다음 자료에 대한 분석으로 옳은 것은? [3점]

표는 갑국과 을국의 인구 구조 변화를 비교한 것이다. t년 대비 t+50년에 갑국의 전체 인구는 10% 감소하였고, 을국의 전체 인구는 20% 감소하였다. 단, t년에 갑국과 을국의 전체 인구는 동일하다.

구분	갑국		을국	
	t년	t+50년	t년	t+50년
합계 출산율(명)	4.2	1.8	1.5	0.9
전체 인구 대비 15~64세 인구 비율(%)	50	60	50	55
노령화 지수	25	100	150	200

* 합계 출산율: 여성 1명이 가임 기간(15~49세) 동안 낳을 것으로 예상되는 평균 출생아 수

** 노령화 지수 = $\frac{\text{노년 인구}(65\text{세 이상 인구})}{\text{유소년 인구}(0\sim 14\text{세 인구})} \times 100$

*** 전체 인구 중 65세 이상 인구가 차지하는 비율이 20% 이상인 사회를 초고령 사회라고 함.

- ① t년과 t+50년 모두 갑국은 을국에 비해 저출산 현상이 강하게 나타난다.
- ② t년과 t+50년에 갑국과 을국은 모두 초고령 사회이다.
- ③ t년 대비 t+50년의 노령화 지수 증가율은 을국이 갑국보다 크다.
- ④ t년에 을국의 유소년 인구는 t+50년에 갑국의 유소년 인구보다 많다.
- ⑤ t년에 노년 인구는 을국이 갑국의 3배이고, t+50년에 노년 인구는 을국이 갑국의 1.5배이다.

* 확인 사항

○ 답안지의 해당란에 필요한 내용을 정확히 기입(표기)했는지 확인 하시오.

2024학년도 대학수학능력시험

사회탐구 영역 정답표
(사회·문화) 과목

문항 번호	정 답	배 점	문항 번호	정 답	배 점	문항 번호	정 답	배 점	문항 번호	정 답	배 점
1	④	2	6	②	3	11	③	2	16	④	2
2	①	2	7	④	2	12	①	3	17	⑤	2
3	②	3	8	⑤	3	13	③	2	18	②	3
4	④	3	9	③	2	14	①	3	19	①	2
5	⑤	2	10	⑤	3	15	②	3	20	④	3