

제 4 교시

사회탐구 영역(생활과 윤리)

성명 [ ] 수험 번호 [ ] 제 [ ] 선택

1. ㉠에 들어갈 진술로 가장 적절한 것은?

나는 윤리학이란 도덕 이론에 근거하여 우리가 당면한 실질적인 도덕 문제를 해결하는 것을 목표로 삼아야 한다고 생각한다. 그런데 어떤 사람은 사회에서 통용되고 있는 도덕 현상을 과학적으로 설명하는 것을 윤리학의 목표로 삼아야 한다고 주장한다. 나는 이러한 주장이 ㉠ 고 생각한다.

- 1. 도덕적 담론의 논증 구조에 대한 논리적 분석을 강조한다
2. 도덕 판단의 표준에 대한 체계적인 이론의 정립을 강조한다
3. 도덕적으로 바람직한 삶의 이상에 대한 규범적 탐구를 간과한다
4. 도덕적 딜레마 해결을 위해 타 학문과의 학제적 연구를 강조한다
5. 도덕규범이 형성된 인과 관계에 대한 경험적인 탐구를 간과한다

2. 갑, 을 사상가들의 입장으로 가장 적절한 것은? [3점]

갑: 성인(聖人)의 은혜가 만세에 베풀어져도 사람에게 특별히 치우치지 않는다. 친함이 있으면 어진 자가 아니며, 명성을 추구하여 참된 자기를 잃으면 선비가 아니다.
을: 이것이 있기 때문에 저것이 있고, 이것이 일어나기 때문에 저것이 일어난다. 이 법(法)은 내가 만든 것도 아니고 다른 사람이 만든 것도 아니다.

- 1. 갑: 자신을 구속하는 일체의 것을 잊어버리고 자유롭게 살아야 한다.
2. 갑: 사욕(私欲)을 극복하고 예로 돌아가는 삶을 지향해야 한다.
3. 을: 바른 수행으로 만물이 서로 독립하여 존재함을 깨달아야 한다.
4. 을: 연기법에 대한 자각을 통해 변하지 않는 자아를 깨달아야 한다.
5. 갑과 을: 하늘이 부여한 순전한 본성을 따르는 삶을 살아가야 한다.

3. 다음 신문 칼럼에서 강조하는 내용으로 가장 적절한 것은?

○○ 신문 ○○○○년 ○○월 ○○일
칼럼
최근 자녀의 사진이나 동영상은 온라인에 게시하고 타인과 공유하는 뉴 미디어 세대의 육아 방식이 유행하고 있다. 이러한 육아 방식은 자녀의 성장 과정을 기록하고 육아 정보를 공유할 수 있다는 점에서 유익하다. 하지만 이로 인해 자녀의 사생활과 정보 자기 결정권이 침해되고 자녀가 사이버 범죄에 노출될 위험성이 증가하고 있다. 아동·청소년은 이러한 피해의 직접적 당사자가 될 수 있기 때문에 이들에게도 잊힐 권리가 보장되어야 한다. 즉, 아동·청소년도 본인이나 타인이 올린 자신의 개인 정보와 관련된 게시물을 자신의 의사만으로 삭제해 달라고 직접 요청할 수 있도록 해야 한다.

- 1. 잊힐 권리는 게시물 작성자에게 부여되어야 할 독점적 권리이다.
2. 아동·청소년은 개인 정보의 보호 대상이면서 주체가 되어야 한다.
3. 악의 없이 공유한 게시물이라면 개인의 권리를 내세워 삭제할 수 없다.
4. 자녀의 정보 자기 결정권은 부모의 동의를 통해 행사되어야 한다.
5. 공유 게시물의 삭제 여부는 정보의 유용성에 따라 결정되어야 한다.

4. 다음을 주장한 사상가의 입장에서 <문제 상황> 속 A에게 제시할 조언으로 적절한 것만을 <보기>에서 있는 대로 고른 것은? [3점]

도덕적 덕은 대상에 있어서의 중간이 아니라 우리와의 관계에서 성립하는 중용에 의존한다. 중용은 두 악덕, 즉 지나침에 따른 악덕과 모자람에 따른 악덕 사이의 중용이다.

<문제 상황>
인성교육 전문가인 A는 아동을 바른 품성을 지닌 사람으로 기르고자 한다. 이를 위해 A는 인성교육 프로그램을 어떤 방향과 내용으로 개발해야 할지 고민 중이다.

<보 기>
ㄱ. 아동이 인간의 고유한 본성을 실현할 수 있도록 개발하세요.
ㄴ. 아동이 습관화를 통해 도덕적 품성을 함양하도록 개발하세요.
ㄷ. 아동이 행복은 곧 옳고 그름에 관한 앎임을 알도록 개발하세요.
ㄹ. 아동이 어떠한 상황에서도 두려움의 감정을 갖지 않는 용기 있는 사람이 되도록 개발하세요.

- 1. ㄱ, ㄴ 2. ㄱ, ㄷ 3. ㄷ, ㄹ
4. ㄱ, ㄴ, ㄹ 5. ㄴ, ㄷ, ㄹ

5. 다음 토론의 핵심 쟁점으로 가장 적절한 것은?

갑: 과거 우생학은 국가의 특정한 목적을 위해 개인의 자유를 침해했기 때문에 금지되었습니다. 하지만 개인의 자유로운 선택을 존중하는 우생학은 허용되어야 합니다.
을: 동의합니다. 개인의 자유로운 선택을 전제한다면, 개인은 자신뿐 아니라 자녀에 대한 치료 목적의 소극적 우생학은 물론 자질 강화를 위한 적극적 우생학의 권리도 지닙니다.
갑: 물론 개인은 자신에 대해서는 그러한 권리 모두를 지닙니다. 하지만 자녀에 대한 소극적 우생학과 달리, 부모가 유전적 개입을 통해 자녀의 삶을 특정 방향으로 유도하려는 적극적 우생학은 자녀의 자율성을 침해하기에 금지되어야 합니다.
을: 그렇지 않습니다. 인간의 삶의 방향은 유전자, 환경, 노력 등의 복합적인 상호 작용으로 결정됩니다. 자녀에 대한 적극적 우생학이 자녀의 자율성을 침해하는 것은 아닙니다.

- 1. 유전적 개입으로 유전 질환을 치료하는 것을 허용해도 되는가?
2. 개인은 자기 자신에 대한 적극적 우생학의 권리를 지닐 수 있는가?
3. 자녀의 자율성을 침해하지 않는 유전적 개입을 허용해도 되는가?
4. 자녀의 능력 향상을 위해 부모가 자녀의 유전자에 개입해도 되는가?
5. 유전자는 개인의 삶의 방향을 결정하는 데 영향을 미칠 수 있는가?

## 2 (생활과 윤리)

## 사회탐구 영역

6. 갑, 을 사상가들의 입장으로 가장 적절한 것은? [3점]

갑: 사람이 죽으면 영혼이 육체로부터 분리되어 자유를 얻는다. 죽음이 다가올 때 죽기를 주저하는 사람은 분명 지혜를 사랑하는 자가 아니며, 육신을 사랑하는 자인 동시에 부나 명예를 사랑하는 자임에 틀림이 없다.  
 을: 우리가 존재하는 한 죽음은 우리와 함께 있지 않으며 죽음이 오면 우리는 존재하지 않는다. 죽음은 산 사람이거나 죽은 사람 모두와 아무런 상관이 없다. 지혜로운 사람에게는 죽음이 어떠한 악으로도 생각되지 않는다.

- ① 갑: 지혜로운 사람은 죽음을 두려워하면서도 의연히 받아들인다.
- ② 갑: 사람들이 추구하는 가치가 달라도 죽음을 대하는 태도는 같다.
- ③ 을: 죽음은 지혜로운 사람도 피할 수 없는 고통임을 깨달아야 한다.
- ④ 을: 감각할 수 없는 자신의 죽음 때문에 불안을 느낄 필요가 없다.
- ⑤ 갑과 을: 불멸에 대한 열망을 통해 죽음의 불안에서 벗어나야 한다.

7. 갑 사상가가 을 사상가에게 제기할 수 있는 비판으로 가장 적절한 것은?

갑: 기술은 그 기술을 실현시키는 것과는 독립해 있는 자립적인 존재로서 일종의 공허한 힘이다. 결국 기술은 그 자체로 선도 아니고 악도 아니다.  
 을: 기술은 은폐되어 존재하는 것을 탈은폐의 길로 이끄는 것이다. 우리가 기술을 중립적인 것으로 고찰할 때, 우리는 무방비 상태로 기술에 내맡겨져 종속되어진다.

- ① 인간의 개입 없이도 기술이 인간에게 해악을 끼칠 수 있음을 간과한다.
- ② 기술의 지배에서 벗어나도록 기술의 본질을 고찰해야 함을 간과한다.
- ③ 기술을 어떻게 이용할지에 대한 윤리적 성찰이 불필요함을 간과한다.
- ④ 기술은 인간이 설정한 목적을 달성하기 위한 것일 뿐임을 간과한다.
- ⑤ 기술은 사물의 참모습을 밖으로 드러내 주는 것임을 간과한다.

8. 다음 가상 편지에서 강조하는 내용으로 가장 적절한 것은?

○○ 국가 다문화 정책 담당자께  
 지난번에 의뢰해 주신 귀국의 다문화 정책의 추진 방향에 대한 답변을 드리고자 합니다. 귀국에서는 외국인과의 혼인 및 외국인 노동자의 이주가 증가하면서 이주민 문화와 기존 문화 간에 갈등이 발생하고 있습니다. 이러한 갈등을 해소하기 위해서는 다양한 문화를 주류 문화 속에 융합하여 하나의 문화를 형성하는 정책이 아니라, 다양한 문화가 조화를 이루며 평등하게 공존할 수 있는 정책을 추진해야 합니다. 비유하자면, 샐러드처럼 양상추, 당근, 오이 등이 각각 그 고유한 맛을 유지하면서도 다채로운 맛을 낼 수 있도록 해야 한다는 것입니다. 이러한 정책이 각 문화의 특수성을 존중하면서도 자유, 평등, 정의와 같은 보편적 가치를 실현하는 데 기여할 수 있습니다.

- ① 이주민 문화를 주류 문화에 편입시켜 사회적 결속력을 강화해야 한다.
- ② 보편 윤리를 실현하기 위해 각 문화의 특수성을 배제해야 한다.
- ③ 문화 간 갈등이 발생하지 않도록 동화주의 정책을 추진해야 한다.
- ④ 주류 문화의 우위를 전제로 비주류 문화의 고유성을 존중해야 한다.
- ⑤ 문화의 다양성을 인정함으로써 문화적 역동성을 증진해야 한다.

9. 갑, 을 사상가들의 입장으로 적절한 것만을 <보기>에서 있는 대로 고른 것은?

갑: 기본적인 자유의 체제는 모든 사람에게 평등하게 보장되어야 하고, 사회적·경제적 이익의 분배는 공정한 기회균등의 원칙과 차등의 원칙에 의해 규제되어야 한다.  
 을: 분배 정의에 있어서 소유 권리론은 역사적이다. 과거의 상황이나 사람의 과거 행위는 사물에 대한 차별적인 소유 권리나 응분의 자격을 낳는다.

<보 기>

- ㄱ. 갑: 최소 수혜자에게 이익이 되지 않는 한 소득은 평등하게 분배되어야 한다.
- ㄴ. 갑: 기본적 자유들이 상충하더라도 그 기본적 자유들은 서로 균등하게 보장되어야 한다.
- ㄷ. 을: 자신의 노동을 투여하지 않고 취득한 소유물에 대한 정당한 소유 권리는 성립할 수 있다.
- ㄹ. 갑과 을: 능력에 따른 분배는 정의 원칙에 어긋날 수 있다.

- ① ㄱ, ㄴ                      ② ㄴ, ㄷ                      ③ ㄷ, ㄹ
- ④ ㄱ, ㄴ, ㄹ                ⑤ ㄱ, ㄷ, ㄹ

10. (가)의 갑, 을, 병 사상가들의 입장을 (나) 그림으로 표현할 때, A~D에 해당하는 적절한 진술만을 <보기>에서 고른 것은? [3점]

(가)	<p>갑: 인간과 마찬가지로 다른 생명체도 목적론적 삶의 중심이다. 그들 각각은 고유의 방식으로 환경 상황에 반응하고 고유의 선을 추구한다.                  을: 인간은 인간에 대한 의무 외에 다른 의무는 갖지 않는다. 인간이 갖고 있는 다른 존재와 관련된 의무를 다른 존재에 대한 의무로 혼동해서는 안 된다.                  병: 인간이 육식을 위해 동물을 죽이는 관행은 동물의 이익을 침해한다. 우리에게서 이익 평등 고려 원칙에 따라 이런 관행을 막아야 할 도덕적 의무가 있다.</p>
(나)	<p>&lt;법 레&gt;                  A: 갑만의 입장                  B: 을만의 입장                  C: 갑과 병만의 공통 입장                  D: 을과 병만의 공통 입장</p>

<보 기>

- ㄱ. A: 인간은 생명체를 해치지 않을 절대적 의무를 실천해야 한다.
- ㄴ. B: 종(種)이 다른 개체를 서로 다르게 대우하는 것이 정당화될 수 있다.
- ㄷ. C: 인간에 대한 의무의 근거가 동물에 대한 의무를 정당화할 수 있다.
- ㄹ. D: 인간 아닌 감각 없는 개체 중 도덕적 지위를 지닌 존재는 없다.

- ① ㄱ, ㄴ                      ② ㄱ, ㄷ                      ③ ㄴ, ㄷ                      ④ ㄴ, ㄹ                      ⑤ ㄷ, ㄹ

11. 갑, 을 사상가들의 입장으로 가장 적절한 것은?

갑: 어진 사람은 천하의 이익과 해로움을 따져서 일을 처리했다. 지금의 대신들이 음악을 즐기느라 나라일을 돌보지 않는다면, 나라가 위태로워질 것이다. 음악이 즐겁기는 하지만, 백성의 이익과 부합하지 않기에 음악을 즐기는 것은 잘못이다.  
 을: 성왕(聖王)은 음악을 즐겼다. 더욱이 그것을 통해 백성의 마음을 감동시켜 본성을 교화하였다. 음악을 활용하여 백성이 좋아하고 싫어하는 감정을 예(禮)에 따라 절제하도록 했던 것이다.

- ① 갑: 백성 모두가 차별 없이 음악을 늘 즐기도록 국가가 힘써야 한다.
- ② 갑: 백성을 잘 다스리기 위해 관원은 예와 악(樂)을 함께 닦아야 한다.
- ③ 을: 음악으로 백성이 서로 조화를 이루며 살 수 있게 해야 한다.
- ④ 을: 백성이 예법에 구애되지 않고 음악을 향유할 수 있도록 해야 한다.
- ⑤ 갑과 을: 음악의 즐거움을 활용하여 백성의 마음을 바르게 해야 한다.

12. 갑, 을 사상가들의 입장으로 적절한 것만을 <보기>에서 있는 대로 고른 것은? [3점]

갑: 자연 상태에서 개인은 재산권뿐만 아니라, 타인이 자연법을 위반한 것을 판단하고 처벌하는 권력을 가진다. 이 처벌권을 공동체에 양도하는 곳에서만 정치 사회가 존재한다.  
 을: 자연 상태에서, 즉 전쟁 상태에서 벗어나고자 개인은 만물에 대한 권리를 포기한다. 정의는 유효한 계약을 지키는 것이며, 계약의 유효성은 국가 수립과 함께 시작된다.

<보 기>

ㄱ. 갑: 자연 상태에서 분쟁 발생 시 모든 당사자는 재판관이 된다.  
 ㄴ. 갑: 정부에 신탁된 권력은 시민에 의해서 철회될 수 있다.  
 ㄷ. 을: 개인은 자연 상태에서의 불의를 피하려고 계약을 맺는다.  
 ㄹ. 갑과 을: 시민은 주권자로서 동등한 자유와 권리를 지닌다.

- ① ㄱ, ㄴ      ② ㄱ, ㄷ      ③ ㄷ, ㄹ
- ④ ㄱ, ㄴ, ㄹ      ⑤ ㄴ, ㄷ, ㄹ

13. 갑, 을 사상가들의 입장으로 적절한 것만을 <보기>에서 고른 것은? [3점]

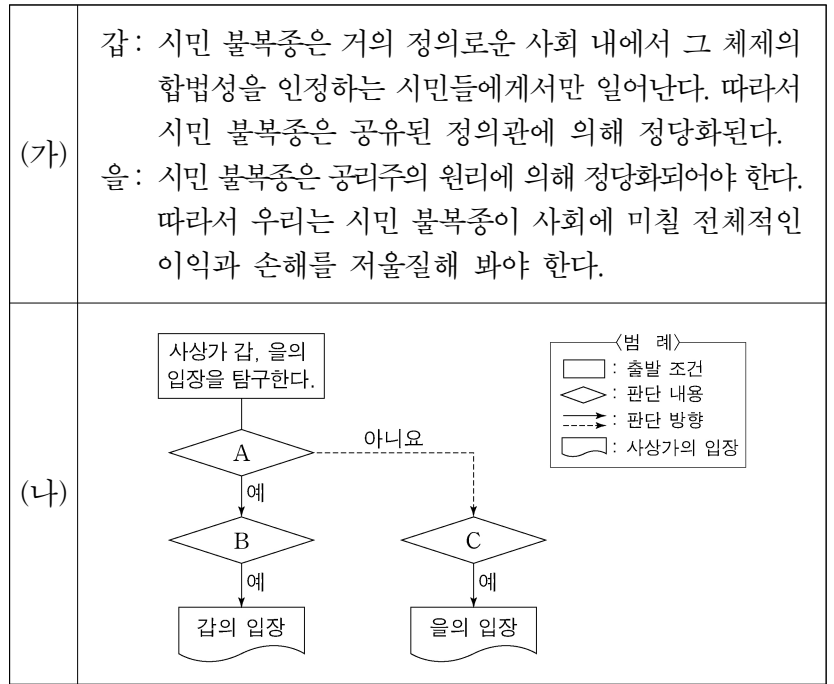
갑: 본래 이기적인 인간과 마찬가지로 국가도 권력의 극대화를 추구한다. 권력을 얻기 위한 투쟁이 국제 정치의 본질이다. 힘을 통해 힘을 견제하는 세력 균형이 전쟁을 억지한다.  
 을: 인간의 이성언어 어떠한 전쟁도 있어서는 안 된다고 명령한다. 영원한 평화를 위해서는 모든 국가가 공화제를 향해 노력해야만 하며, 국가들의 평화 연맹이 필요하다.

<보 기>

ㄱ. 갑: 경쟁 국가의 행동의 경향성을 예측하는 것은 가능하다.  
 ㄴ. 갑: 국가 간 동맹 없이는 국가 간 세력 균형은 불가능하다.  
 ㄷ. 을: 평화 연맹의 수립 과정에서 국가 간 합병은 배제된다.  
 ㄹ. 갑과 을: 전쟁은 국제 평화를 실현하기 위한 최후의 정치적 행위로서 정당화된다.

- ① ㄱ, ㄴ      ② ㄱ, ㄷ      ③ ㄴ, ㄷ      ④ ㄴ, ㄹ      ⑤ ㄷ, ㄹ

14. (가)의 갑, 을 사상가들의 입장을 (나) 그림으로 탐구하고자 할 때, A~C에 들어갈 적절한 질문만을 <보기>에서 고른 것은? [3점]




<보 기>

- ㄱ. A: 시민 불복종은 법에 대한 존중심을 감소시킬 수 있는가?
- ㄴ. B: 시민 불복종이 정당한 법에 대한 위반을 수반할 수 있는가?
- ㄷ. B: 심각한 부정의가 존재하는 민주 체제에서는 시민 불복종이 가능한가?
- ㄹ. C: 다수의 견해를 진정으로 반영한 법에 대한 시민 불복종은 불가능한가?

- ① ㄱ, ㄴ      ② ㄱ, ㄷ      ③ ㄴ, ㄷ      ④ ㄴ, ㄹ      ⑤ ㄷ, ㄹ

15. 다음 가상 대담의 사상가가 지지할 입장으로 가장 적절한 것은?



- ① 현대 사회의 소비자는 경제적 합리성을 최우선으로 고려하여 소비한다.
- ② 현대인은 타인과의 차이를 드러내려는 욕구를 충족하기 위해 소비한다.
- ③ 현대 사회에서 경제적 상위 계층만이 사회적 위세를 표현하고자 한다.
- ④ 현대인은 사물의 기능을 중시하는 소비를 통해 만족을 얻고자 한다.
- ⑤ 현대인은 사회적 시선을 의식하지 않고 자신의 선호에 따라 소비한다.

# 4 (생활과 윤리)

# 사회탐구 영역


16. 다음을 주장한 사상가의 입장으로 적절하지 않은 것은?

목민관은 검약한 생활을 통해 청렴함을 함양해야 하고, 청렴함을 바탕으로 백성을 사랑해야 한다. 만일 목민관이 되었다고 의복과 말을 새로 장만하여 부임지로 가거나 부임지에서도 함부로 행동하고 절제하지 못한다면, 사치가 심해지고 빛이 들어가면서 탐욕스러워질 것이다. 그렇다고 아끼기만 하고 어려운 친척에게 두루 베풀지 않으면 멀어지게 될 것이다. 그러니 자신의 녹봉을 아껴 주변의 곤궁함을 보살피는 데 소홀하지 않아야 한다.

- ① 공직자는 애민 정신을 바탕으로 국민에게 진심으로 봉사해야 한다.
- ② 공직자는 곤궁한 친척을 도우려는 어진 마음조차 가져서는 안 된다.
- ③ 공직자는 자신의 체면을 지키려는 과도한 소비를 자제해야 한다.
- ④ 공직자는 공무 수행을 위해 책정된 공금을 과다 지출해서는 안 된다.
- ⑤ 공직자는 청렴하기 위해 검소하고 절약하는 태도를 가져야 한다.

17. 그림의 강연자의 입장으로 가장 적절한 것은?

사랑은 자유의 소산이지 결코 지배의 소산은 아닙니다. 사랑이 지배의 관계로 타락하지 않기 위해서는 존경이 필요합니다. 존경은 상대방에 대한 두려움이나 외경이 아닙니다. 어원적으로도 존경은 어떤 사람을 있는 그대로 보고 그의 독특한 개성을 아는 능력이라고 합니다. 사람들은 사랑할 때, 상대방이 자신에게 이바지할 것을 기대하지만 그것은 사랑하는 사람을 존경하는 것은 아닙니다. 만일 여러분이 다른 사람을 사랑하여 상대방에게 일체감을 느낀다면, '있는 그대로의 그 혹은 그녀'와 일체가 되려는 것이어야 합니다. 사랑하는 사람에 대한 존경은 자유를 바탕으로 해서 성립될 수 있습니다.



- ① 사랑은 일체감을 느끼는 상대방으로부터 도움을 받기 위한 것이다.
- ② 사랑은 미성숙한 상대방을 변화시키려는 마음에 근거해야 한다.
- ③ 사랑은 상대방에 대한 존경을 바탕으로 서로에게 복종하는 것이다.
- ④ 사랑은 상대방의 고유성을 존중하는 방식으로 표현되어야 한다.
- ⑤ 사랑은 상대방에 대한 외경을 통해 드러내는 존경의 감정이다.

18. 갑, 을 사상가들의 입장으로 적절한 것만을 <보기>에서 있는 대로 고른 것은? [3점]

갑: 원조의 목적이 충족되고, 모든 만민이 자유주의적 정부나 적정 수준의 정부로 작동하는 상황에 이르게 되면 상이한 만민 간의 평균적 부의 차이를 다시 좁혀야 할 이유는 없다.  
 을: 절대 빈곤에 빠져 있는 사람들을 돕지 않는 것은 그들을 죽게 내버려 두는 것과 다름이 없다. 절대 빈곤으로 인해 고통받는 사람을 돕는 것은 공리의 원리에 따른 도덕적 의무이다.

<보 기>

- ㄱ. 갑: 공적 정의권이 규제하지 않는 사회는 원조 대상이 될 수 없다.
- ㄴ. 갑: 원조는 원조 대상이 정치적 자율성을 가질 수 있도록 이루어져야 한다.
- ㄷ. 을: 원조의 의무는 절대 빈곤에 상당하는 도덕적으로 중요한 다른 일을 희생할 것을 원조 주체에게 요구할 수 있다.
- ㄹ. 갑과 을: 특정 빈곤국에 대한 원조를 중단해야 하는 경우가 있다.

- ① ㄱ, ㄴ                      ② ㄱ, ㄷ                      ③ ㄴ, ㄹ
- ④ ㄱ, ㄷ, ㄹ                ⑤ ㄴ, ㄷ, ㄹ

19. (가)의 갑, 을, 병 사상가들의 입장에서 서로에게 제기할 수 있는 비판을 (나) 그림으로 표현할 때, A~F에 해당하는 내용으로 가장 적절한 것은? [3점]

(가)	<p>갑: 법은 각자의 자유 중 최소한의 몫을 모은 것으로 일반 의사를 대표한다. 생명의 포기는 그 최소한의 몫에 포함되지 않는다. 사형은 한 시민에 대한 국가의 전쟁이다.</p> <p>을: 법은 일반 의지의 행위에 속하고, 의지의 보편성과 대상의 보편성을 결합하고 있다. 법을 위반한 살인범은 자기 보존을 목적으로 한 사회 계약을 파기한 자이다.</p> <p>병: 입법권은 국민의 합일된 의지에만 귀속한다. 보편적으로 합일된 의지만이 법칙 수립적일 수 있기 때문이다. 따라서 형벌의 법칙은 하나의 정언 명령이다.</p>
(나)	<div style="text-align: center;"> </div> <p style="text-align: right;">&lt;법 레&gt;          → : 비판의 방향          A~F : 비판의 내용</p> <p style="text-align: right;">&lt;예 시&gt;  </p>

- ① A, F: 사형은 강렬한 인상을 줄 수 없는 비효과적 형벌임을 간과한다.
- ② B: 생명권 양도 여부가 사형제의 정당성을 판단하는 근거가 될 수 있음을 간과한다.
- ③ C: 살인범은 더 이상 도덕적 인격으로 간주될 수 없음을 간과한다.
- ④ D: 모든 형벌은 공공의 이익을 위해서 집행되어야 함을 간과한다.
- ⑤ E: 형벌의 목적은 범죄자에게 고통을 주는 데 있지 않음을 간과한다.

20. (가)의 입장에 비해 (나)의 입장이 갖는 상대적 특징을 그림의 ㉠~㉣ 중에서 고른 것은? [3점]

(가) 통일은 남한의 기술과 북한의 자원을 결합하여 경제 성장의 동력을 확보할 수 있기 때문에 필요하다. 그러나 통일을 해야 하는 보다 중요한 이유는, 통일이 군사적 위협을 해소하여 한반도 평화를 실현하고, 사회 복지 예산을 확충하여 사회적 불평등을 완화하고 사회 안전망을 강화할 수 있다는 점이다.

(나) 통일은 군사적 긴장을 해소하여 평화를 실현하고 분단 비용의 해소를 통해 사회 안전망의 토대를 마련할 수 있기 때문에 필요하다. 그러나 통일을 해야 하는 보다 중요한 이유는, 통일이 남북 경제권을 통합하여 경제 성장은 물론 동북아 경제 공동체 형성의 견인차 역할을 할 수 있다는 점이다.

- X: 통일을 통한 경제 성장의 중요성을 강조하는 정도
- Y: 통일을 통한 한반도 평화 실현의 중요성을 강조하는 정도
- Z: 통일을 통한 사회 안전망 확대의 중요성을 강조하는 정도

- ① ㉠                      ② ㉡                      ③ ㉢                      ④ ㉣                      ⑤ ㉣

\* 확인 사항  
 ○ 답안지의 해당란에 필요한 내용을 정확히 기입(표기)했는지 확인 하시오.

2023학년도 대학수학능력시험

사회탐구 영역 정답표  
( 생활과 윤리 ) 과목

문항 번호	정 답	배 점	문항 번호	정 답	배 점	문항 번호	정 답	배 점	문항 번호	정 답	배 점
1	③	2	6	④	3	11	③	2	16	②	2
2	①	3	7	④	2	12	①	3	17	④	2
3	②	2	8	⑤	2	13	②	3	18	③	3
4	①	3	9	⑤	2	14	③	3	19	④	3
5	④	2	10	⑤	3	15	②	2	20	⑤	3

제 4 교시

사회탐구 영역 (윤리와 사상)

성명

수험 번호

제 [ ] 선택

윤리와 사상

1. 다음 가상 편지를 쓴 고대 동양 사상가가 강조하는 삶의 태도로 가장 적절한 것은?

사랑스러운 제자 ○○님께

지난 번 편지에서 질문한 인간다움의 본질인 인(仁)을 실천하는 구체적인 방법에 대해 답변을 드리고자 합니다. 그것은 자신이 원하지 않는 일을 남에게 시키지 않는 서(恕)를 실천하는 것입니다. 즉 자신의 진실한 마음을 토대로 타인의 마음을 헤아려 보는 방법과 자신이 이루고자 하면 타인도 이루게 해 주는 방법이 그것입니다.

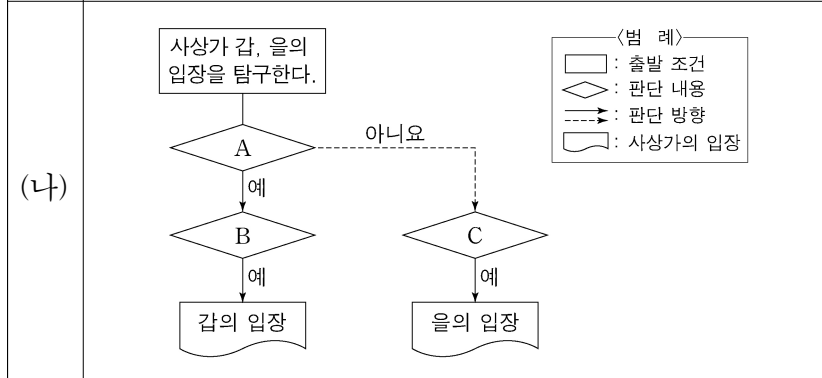
- ① 악한 본성을 변화시켜서 사회 공동체의 조화를 추구해야 한다.
- ② 모든 분별적 인식에서 벗어나 만물을 차별 없이 응대해야 한다.
- ③ 겸허와 부쟁(不爭)의 덕을 지니고 무위자연의 삶을 지향해야 한다.
- ④ 사성제(四聖諦)를 깨달아 열반에 도달하기 위해 노력해야 한다.
- ⑤ 자신의 사사로운 욕심(私欲)을 극복하여 예(禮)를 회복해야 한다.

2. (가)의 고대 서양 사상가 갑, 을의 입장을 (나) 그림으로 탐구하고자 할 때, A~C에 들어갈 옳은 질문만을 <보기>에서 고른 것은? [3점]

(가)

갑: 쾌락에 탐닉하여 쾌락에 굴복하는 것이 가장 큰 무지이다. 어느 누구도 나쁘다고 생각하는 것을 자발적으로 행하지 않는다. 덕은 일종의 삶이다.

을: 부나 군중으로부터의 명예를 소유함에 의해서도, 한없는 욕구로부터 생기는 다른 어떤 것에 의해서도, '몸의 고통과 마음의 불안'은 끝나지 않는다.



- <보 기>
- ㄱ. A: 덕은 그 자체가 목적으로서 본래적 가치를 지니는가?
  - ㄴ. B: 정의로운 사람은 행복하지만 부의로운 사람은 불행한가?
  - ㄷ. C: 자연적인 욕구의 충족이 쾌락의 증대를 보장하는가?
  - ㄹ. C: 이성은 운명이 주는 고통을 기꺼이 감내하게 하는가?

- ① ㄱ, ㄴ    ② ㄱ, ㄷ    ③ ㄴ, ㄷ    ④ ㄴ, ㄹ    ⑤ ㄷ, ㄹ

3. 중세 서양 사상가 갑, 근대 서양 사상가 을의 입장으로 옳은 것은?

갑: 세상 모든 것은 영원법에 의해 지배되는데, 인간은 다른 피조물보다 신의 섭리에 더 뛰어난 방식으로 순종한다. 이성적 피조물이 영원법에 참여하는 것이 자연법이다.

을: 실체가 존재하는 이유는 오직 실체의 본성에서 나오지만, 삼각형이 존재하는 이유는 그것의 본성이 아니라 자연 질서에서 나온다. 따라서 양태는 실체가 없다면 존재할 수 없다.

- ① 갑: 실정법이 자연법에 위배되어도 다수의 이익을 위하여 정당하다.
- ② 갑: 이성이 선으로 인식한 자기 보존의 성향을 따르는 행위는 옳다.
- ③ 을: 하나의 실체는 다른 실체에서 필연적으로 산출될 수밖에 없다.
- ④ 을: 존재하기 위해 다른 것에 전혀 의존하지 않는 것은 없다.
- ⑤ 갑과 을: 세상의 모든 존재는 신이 계획한 목적을 위하여 움직인다.

4. 고대 동양 사상가 갑, 을의 입장으로 옳은 것만을 <보기>에서 고른 것은? [3점]

갑: 도(道)는 두루 통(通)하여 만물과 하나를 이룬다. 따라서 흠어짐은 곧 이룸이며 이룸은 곧 어그러짐이다. 진인(真人)은 만물이 통하여 하나임을 알아 그 자연스런 쓰임에 맡겨 둔다.

을: 도는 낱고 덕(德)은 기르니, 만물이 나타나서 형세[勢]로써 완성된다. 따라서 도를 높이고 덕을 귀하게 여김은 명령하지 않아도 늘 스스로 그러하다[自然].

<보 기>

- ㄱ. 갑: 타고난 본성을 극복하지 못하면 물아일체에 도달할 수 없다.
- ㄴ. 을: 제물(齊物)을 통하여 정신의 절대적 자유에 도달한다.
- ㄷ. 을: 하늘과 땅은 어질지 않으며 성인(聖人)도 어질지 않다.
- ㄹ. 갑과 을: 도는 만물을 생성하는 근원이면서 만물에 내재한다.

- ① ㄱ, ㄴ    ② ㄱ, ㄷ    ③ ㄴ, ㄷ    ④ ㄴ, ㄹ    ⑤ ㄷ, ㄹ

5. 근대 서양 사상가 갑, 을의 입장으로 옳은 것은? [3점]

갑: '나는 생각한다. 그러므로 나는 존재한다.'라는 이 진리는 명석판명한 것이다. 나는 이것을 내가 찾고 있던 철학의 제1원리로 거리낌 없이 받아들일 수 있다고 판단했다.

을: 이성은 정념의 노예이다. 도덕성이 오직 이성의 영역을 통해서만 발견된다고 우기는 것은 헛된 일이다. 그러므로 도덕적 구별은 이성의 산물이 아니다.

- ① 갑: 더 이상의 증명을 필요로 하지 않는 자명한 진리는 없다.
- ② 갑: 방법적 회의는 사유하는 '나'라는 존재의 확실성에서 출발한다.
- ③ 을: 유용성은 도덕감의 근원으로 타인과 관련해서만 고려된다.
- ④ 을: 이성은 도덕적 구별의 원천이 아니지만 정념을 좌우해야 한다.
- ⑤ 갑과 을: 인간의 이성은 추론적 사유와 진위 판단 능력을 지닌다.

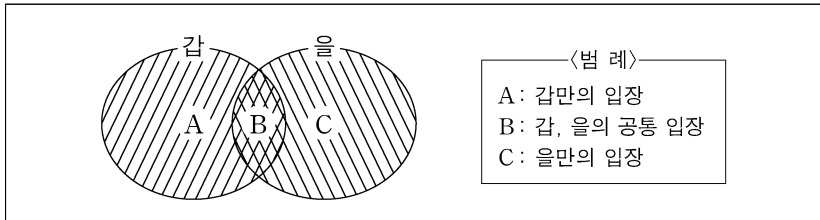
## 2 (윤리와 사상)

## 사회탐구 영역

[6~7] 갑, 을은 한국 유교 사상가들이다. 물음에 답하시오.

갑: 이(理)의 본연의 본체[體]는 감정이나 의지[情意]도 없고 조작도 없다. 이의 지극히 신묘한 작용[用]은 발(發)하여 이르지 아니함이 없다.  
 을: 이는 무형하고 기(氣)는 유형하므로 이는 통하고 기는 국한된다. 이는 무위(無爲)하고 기는 유위(有爲)하므로 기가 발하면 이가 탄다.

6. 갑, 을의 입장을 그림으로 표현할 때, A~C에 해당하는 적절한 진술만을 <보기>에서 고른 것은? [3점]



<보기>  
 ㄱ. A: 이와 기 중에서 주재성을 지니면서 발할 수 있는 것이 있다.  
 ㄴ. B: 칠정 중에서 선함과 사단 사이에 도덕적 우열을 가릴 수 있다.  
 ㄷ. B: 이는 본래 하나의 태극(太極)이지만 만물도 각각 동일한 하나의 태극을 지니고 있다.  
 ㄹ. C: 주된 배(所主)가 이에 있는가, 기에 있는가에 따라 사단과 칠정을 구별할 수 있다.

- ① ㄱ, ㄴ    ② ㄱ, ㄷ    ③ ㄴ, ㄷ    ④ ㄴ, ㄹ    ⑤ ㄷ, ㄹ

7. 다음을 주장한 한국 유교 사상가가 갑, 을 모두에게 제기할 수 있는 비판으로 가장 적절한 것은?


어린 아이가 우물로 기어 들어가는 것을 보고 측은해 하면서도 가서 구하지 않는다면 그 측은해 하는 마음만으로는 인(仁)이라 할 수 없다. 욕을 하거나 발로 차면서 밥을 줄 때, 이를 수오(羞惡)하면서도 거절하지 않는다면 그 수오하는 마음만으로는 의(義)라 할 수 없다.

- ① 모든 인간은 측은지심과 수오지심을 가지고 태어남을 간과한다.  
 ② 시비지심을 일상생활에서 실천해야 지(智)가 형성됨을 간과한다.  
 ③ 인간의 선천적인 본성은 하늘이 부여한 명령(天命)임을 간과한다.  
 ④ 인간과 동물의 본성은 영지의 기호라는 점에서 동일함을 간과한다.  
 ⑤ 선을 지향하는 본성을 통해 자유 의지가 형성되어야 함을 간과한다.

8. 다음은 현대 사회사상가 갑, 을의 가상 대화이다. 갑, 을의 입장으로 가장 적절한 것은? [3점]

법은 시민들의 자유를 억압하지 않고 오히려 지켜 줍니다. 법이 모든 시민을 똑같이 구속한다면 시민들을 타인들의 자의적 의지로부터 보호할 수 있습니다. 법의 지배는 시민들을 자의적 의지에 예속되지 않도록 합니다.

아닙니다. 법은 언제나 일종의 사술입니다. 설령 자의적 독재의 사술로부터 나를 보호해주는 것이 법이라 하더라도, 이 사실은 변하지 않습니다. 자유의 경계선은 국가는 사람마다 다르지만, 그 경계선이 침범되어서는 안 된다는 것이 자유의 핵심입니다.



- ① 갑: 자유는 누군가에게 간섭받지 않는 경우에만 성립한다.  
 ② 갑: 비지배의 자유는 비자의적 지배가 부재할 경우에도 성립한다.  
 ③ 을: 자유의 경계선이 침범되지 않도록 ‘~을 향한 자유’가 실현되어야 한다.  
 ④ 을: 민주주의 체제에서 정의로운 제도도 자유를 제한할 수 있다.  
 ⑤ 갑과 을: 공동체가 외부의 압제에서 벗어나면 개인의 자유도 보장된다.

9. 갑, 을은 근대 서양 사상가들이다. 을의 입장에서 갑의 입장에 대해 제기할 수 있는 비판으로 가장 적절한 것은?

갑: 쾌락의 추구하고 고통의 회피는 입법자가 살펴보아야 할 목적이다. 그러므로 쾌락의 가치를 이해하는 것이 입법자의 의무이다. 쾌락과 고통은 입법자가 지니고 작업해야 하는 도구이다.  
 을: 어떤 종류의 쾌락이 다른 것보다 더 바람직하고 가치 있다는 사실을 인정한다고 해서 공리주의 원리와 어긋나는 것은 결코 아니다. 만족해 하는 돼지보다 불만족스러워하는 인간이 되는 것이 더 낫다.

- ① 이해 당사자들의 행복을 공정하게 고려해야 함을 간과한다.  
 ② 유용성이 행위의 도덕적 가치를 판단하는 기준임을 간과한다.  
 ③ 보편적 도덕 원리에 근거한 입법의 원칙을 세워야 함을 간과한다.  
 ④ 쾌락을 평가하는 기준이 양으로만 한정될 수 없음을 간과한다.  
 ⑤ 도덕적 평가의 근거는 규칙이 아니라 행위의 결과임을 간과한다.

10. 근대 서양 사상가 갑, 을의 입장으로 옳은 것은?

갑: 사회계약은 시민들 사이에 평등을 수립함으로써 그들을 동일한 계약 조건하에 놓이게 하며 동일한 권리를 향유하게 한다. 이 계약의 특성에 의해 일반 의지의 정당한 모든 행위는 모든 시민에게 평등하게 의무와 권리를 부여한다.  
 을: 사람들은 사회에 들어갈 때 자연 상태에서 가졌던 평등, 자유 및 집행권을 입법부가 처리할 수 있도록 사회의 수중에 양도한다. 그것은 오직 그 자신, 그의 자유 및 재산을 더욱 잘 보존하려는 의도에서 행하는 것이다.

- ① 갑: 주권은 일반 의지에 의해 성립하며 정부를 통해 대표된다.  
 ② 갑: 일반 의지가 강요하는 복종은 시민의 자유와 양립할 수 없다.  
 ③ 을: 국가의 기본이 되는 최초의 실정법은 입법권을 확립하는 것이다.  
 ④ 을: 자연 상태에서 재산권 침해에 대한 보복은 자연법에 의해 불가하다.  
 ⑤ 갑과 을: 개인은 사회계약을 통하지 않고서는 자유나 권리를 가질 수 없다.

11. 고대 서양 사상이자 갑, 중세 서양 사상이자 을의 입장으로 적절하지 않은 것은? [3점]

갑: 우주의 본성을 따라 너에게 일어나는 모든 일을 수동적으로 인내하라. 또한 너의 본성이 네 자신에게 행하라고 명령하는 것은 능동적으로 행하라.  
 을: 신의 나라와 지상의 나라가 있는 것은 영적으로 사는 사람들과 육체를 따라 사는 사람들이 있기 때문이다. 어떤 사람은 신을 따르고, 어떤 사람은 사람을 따른다.

- ① 갑: 자연의 질서에 부합하지 않는 일은 인간에게 일어나지 않는다.
- ② 갑: 사건 자체는 바꿀 수 없지만 사건에 대한 생각은 바꿀 수 있다.
- ③ 을: 악이 선보다 먼저 실재하지 않았다면 선은 없었을 것이다.
- ④ 을: 인류의 역사는 신이 주는 선과 인간이 만든 악의 투쟁이다.
- ⑤ 갑과 을: 세상 만물을 존재하게 하는 궁극적인 원인이 있다.

12. 고대 서양 사상이자 갑, 을의 입장으로 옳은 것은?

갑: 선(善) 자체는 인식의 원인으로 인식되는 것들에 진리를 제공하고 인식하는 자에게 그 힘을 제공한다. 통치자는 선 자체를 본보기로 삼고 나라를 다스려야 한다.  
 을: 모든 선에 공통되는 하나의 선 자체란 있을 수 없다. 건축가가 선 자체를 안다고 자신의 기술에 도움을 얻을 수 있는 것은 아니다. 현실 세계에서 실현 가능한 선이 중요하다.

- ① 갑: 선 자체는 인식의 원인이므로 인식의 대상이 될 수는 없다.
- ② 갑: 이성이 파악하는 대상과 감각이 파악하는 대상은 동일하다.
- ③ 을: 선은 인간이 지향하는 가치이자 사물이 갖는 가치가 될 수 있다.
- ④ 을: 모든 선한 것들을 선하게 만드는 근거는 선 자체이다.
- ⑤ 갑과 을: 선 자체는 감각으로 지각되지 않는 세계에 존재한다.

13. 그림은 서술형 평가 문제와 학생 답안이다. 학생 답안의 ㉠~㉣ 중 옳지 않은 것은? [3점]

서술형 평가

㉠ 문제: 동양 불교 사상이자 갑, 을의 입장을 비교하여 서술하시오.

갑: 여러 가지 인연으로 생긴 법(法)을 공(空)이라 하며, 가명(假名)이라고도 하며, 중도(中道)라고도 한다. 어떤 한 가지 법도 인연으로부터 생기지 않는 것이 없으니 모든 법이 공 아닌 것이 없다.  
 을: 오직 마음만이 존재할 뿐[唯識] 그 대상은 실재하지 않는다[無境]. 세속인은 허망한 분별의 잠에 빠져서 실재하지 않는 대상을 보면서 잠에서 깨어나지 않는 한, 그것이 실재하지 않음을 여실하게 알지 못한다.

㉡ 학생 답안

갑, 을의 입장을 비교해 보면, 갑은 ㉠ 모든 사물은 독자적인 고유한 성질[自性]을 가진다고 보고, ㉡ 해탈하기 위해서는 있음[有]이나 없음[無]이라는 두 극단에 치우친 견해에서 벗어나 중도의 진리를 바르게 관찰해야 한다고 본다. 그런데 을은 ㉢ 모든 현상은 마음을 떠나서는 존재하지 않으며 오로지 마음의 작용을 통해서만 존재한다고 보고, ㉣ 해탈하기 위해서는 자기중심으로 세상을 바라보는 그릇된 마음에서 벗어나, 모든 진리를 통찰할 수 있는 지혜를 얻어야 한다고 본다. 한편 갑, 을은 모두 ㉤ 모든 현상은 다양한 원인[因]과 조건[緣]의 화합에 의해 발생한다고 본다.

- ① ㉠
- ② ㉡
- ③ ㉢
- ④ ㉣
- ⑤ ㉤

14. 다음을 주장한 근대 서양 사상의 입장을 <보기>에서 고른 것은?

의지의 자율과 양립할 수 있는 행위는 허용되지만, 그렇지 못한 행위는 허용되지 않는다. 의지의 준칙들이 자율의 법칙들과 필연적으로 조화를 이룰 때, 그 의지는 신성하고 절대적으로 선한 의지이다. 절대적으로 선하지는 않은 의지가 자율의 원리에 의존하는 것은 구속성이다. 따라서 이 구속성은 신성한 존재와 관련될 수 없다. 이 구속성에서 비롯한 행위의 객관적 필연성을 의무라 부른다.

—<보 기>—

ㄱ. 선의지를 함유하지 않은 도덕적 의무가 성립하는 경우가 있다.  
 ㄴ. 보편화 가능한 준칙에서 인간의 존엄성이 부정되는 경우는 없다.  
 ㄷ. 도덕적 의무는 의지를 지니는 모든 존재에게 부과되어야 한다.  
 ㄹ. 도덕 법칙의 내적 강제에서 생긴 준칙은 자율성에 어긋나지 않는다.

- ① ㄱ, ㄴ
- ② ㄱ, ㄷ
- ③ ㄴ, ㄷ
- ④ ㄴ, ㄹ
- ⑤ ㄷ, ㄹ

15. (가)의 현대 사회사상이자 갑과 을, 사회사상 병의 입장에서 서로에게 제기할 수 있는 비판을 (나) 그림으로 표현할 때, A~F에 해당하는 내용으로 가장 적절한 것은? [3점]

(가) 갑: 국가는 부분적으로 조세 정책을 통하거나 이자율을 정하는 것 또는 그 밖의 다른 방법에 의해서도 소비 성향에 대해 지도적인 영향력을 행사할 수 있어야 한다.  
 을: 경제 활동에서 경쟁은 최대한 효율적으로 작동할 수 있어야 하므로 계획과 경쟁은 '경쟁에 반하는 계획'이 아니라 '경쟁을 위한 계획'이라는 형태로만 결합될 수 있다.  
 병: 우리는 자본주의적 계획이나 모든 형태의 전체주의적 계획에 반대한다. 그 이유는 이 두 계획이 생산의 공적 통제와 그 결과의 공정한 분배를 배제하기 때문이다.

(나)

- ① A: 공익을 목적으로 하더라도 투자의 사회화는 거부되어야 함을 간과한다.
- ② B, E: 경쟁의 원활한 작동을 위해 필요한 조건이 창출될 수 없는 경우에도 정부의 규제는 부당함을 간과한다.
- ③ C: 국가는 사회주의적 계획화를 통해 완전 고용에 힘써야 함을 간과한다.
- ④ D: 시장이 통제에서 벗어나면 생산 수단의 국유화가 필요함을 간과한다.
- ⑤ F: 사적 이윤보다 공공의 이익을 추구하기 위해 정부 기능을 확대해야 함을 간과한다.



# 4 (윤리와 사상)

# 사회탐구 영역

16. 중국 불교 사상가 갑, 한국 불교 사상가 을의 입장으로 옳은 것은?

갑: 자성(自性)에는 그림도 어리석음도 어지러움도 없으니 생각  
 마다 반야로 관조하여 법상(法相)을 떠나야 한다. 스스로  
 자성을 깨쳐 돈오돈수(頓悟頓修)하니 점차(漸次)가 없다.  
 을: 자성을 깨달은 뒤에도 닦아서 무위(無爲)에 이르러야 궁극적  
 경지라고 할 수 있다. 깨달은 뒤에 '소를 기르는 수행[牧牛行]'을  
 하는 것도 이런 이유이다.

- ① 갑: 마음 밖의 부처를 단박에 직관하는 것이 돈오이다.
- ② 갑: 깨닫지 못하는 사람은 불성(佛性)이 형성되지 않은 사람이다.
- ③ 을: 선정[定]과 지혜[慧]를 닦을 때 선후의 구분이 필수적이다.
- ④ 을: 오랫동안 누적된 습기(習氣)는 돈오하더라도 바로 제거되지 않는다.
- ⑤ 갑과 을: 깨달음의 완성에 도달하기 위한 수행 과정에서 경전의 가르침은 불필요하다.

17. 현대 서양 사상가 갑, 을의 입장으로 옳은 것은? [3점]

갑: 현존재의 참된 모습은 그의 실존에 있다. 실존하는 존재자를  
 가리키는 '현존재'라는 이 명칭은 책상, 집, 나무와 같이  
 어떤 무엇을 표현하고 있는 것이 아니라 '지금 여기에 있는  
 존재'를 표현하고 있다.  
 을: 도덕적 선과 목적은 어떤 것을 해결해야 할 때에만 존재  
 한다. 악은 실제로 존재하는 특정한 악이므로, 교정해야  
 하는 그 결함과 곤란함을 토대로 삼아 상황의 선을 발견  
 하고 계획하고 획득해야 한다.

- ① 갑: 존재의 의미에 대해 물을 수 있는 특별한 존재자는 인간이다.
- ② 갑: 죽음에 대한 불안을 통해 현존재는 보편적 본질을 완성한다.
- ③ 을: 실험을 통해 검증된 가설은 상황이 변해도 항상 유효하다.
- ④ 을: 악을 개선하는 지식은 절대적인 목적을 위한 도구가 된다.
- ⑤ 갑과 을: 이성 중심의 객관적인 합리성의 전통을 계승해야 한다.

18. 중국 유교 사상가 갑, 을의 입장으로 옳은 것만을 <보기>에서 고른 것은? [3점]

갑: 치지(致知)의 치(致)는 최대의 확충함이고, 지(知)는 지식과  
 같다. 따라서 치지는 나의 지식을 최대의 확충하여 그  
 지식이 도달하지 않은 곳이 없도록 함이다.  
 을: 치지는 다른 유학자들이 말하는 것처럼 지식을 확충한다는  
 의미가 아니라, 내 마음의 양지(良知)를 사물마다 온전하게  
 실현하는 것이다.

<보 기>

ㄱ. 갑: 의념[意]이 향하는 대상[物]을 바로잡는 것이 격물이다.  
 ㄴ. 을: 양지는 분리되어 있는 앎[知]과 실천[行]을 합일에 이르게  
 하는 능력이다.  
 ㄷ. 을: 선을 좋아하고 악을 미워하는 감정인 본심(本心)을 따라야  
 한다.  
 ㄹ. 갑과 을: 격물은 마음 안의 이(理)의 보존을 지향한다.

- ① ㄱ, ㄴ    ② ㄱ, ㄷ    ③ ㄴ, ㄷ    ④ ㄴ, ㄹ    ⑤ ㄷ, ㄹ

19. (가)의 근대 한국 사상가 갑, 을의 입장에서 서로에게 제기할 수 있는 비판을 (나) 그림으로 표현할 때 A, B에 해당하는 내용으로 가장 적절한 것은?

(가)	<p>갑: 서양 물건을 뿌리 뽑기 위해서는 올바른 도(道)를 밝혀 백성을 교화하고 사단(四端)과 오상(五常)을 넓혀 나가야 한다. 우리 것이 흥성하면 저들 것이 사라지고 이쪽 것이 밝혀지면 저들은 달아날 것이다.</p> <p>을: 동양은 형이상에 밝아서 그 도(道)가 천하에 홀로 존귀하고, 서양은 형이하에 밝아서 그 기(器)는 천하에 대적할 자가 없다. 진실로 우리의 도를 일으킬 수 있다면 서양의 기를 행하는 것은 손바닥을 뒤집듯 쉽다.</p>
(나)	<div style="text-align: center;"> </div> <div style="margin-top: 10px;"> <p>&lt;범례&gt;              → : 비판의 방향              A, B : 비판의 내용</p> <p>&lt;예시&gt;                A는 갑이 을에게 제기할 수 있는 비판임.</p> </div>

- ① A: 나라가 혼란할수록 유교의 인륜을 고수해야 함을 간과한다.
- ② A: 살기 좋은 후천(後天) 세계가 현세에 반드시 도래함을 간과한다.
- ③ A: 모든 인간은 평등하므로 신분을 차별해서는 안 됨을 간과한다.
- ④ B: 부국강병을 실현하려면 서양의 기를 수용해야 함을 간과한다.
- ⑤ B: 국제 정세를 파악하여 우리의 도를 변화시켜야 함을 간과한다.

20. 근대 사회사상가 갑, 현대 사회사상가 을의 입장으로 옳은 것은?

갑: 국가는 비참한 전쟁 상태에서 벗어나고 싶어 하는 인간이 상호 신의계약을 체결하여 세운 하나의 인격이다. 이 국가는 모든 인간의 인격을 대표하는 '대표자'로서의 권리를 부여받는다.  
 을: 인민의 역할은 다름 아닌 정부를 탄생시키는 것이다. '인민'과 '통치'라는 용어의 의미가 무엇이건 간에, 민주주의는 인민이 실제로 지배하는 것을 의미하지 않으며 또한 의미할 수도 없다.

- ① 갑: 대표자는 계약의 주체에게서 권한을 양도받은 대리인이다.
- ② 갑: 국가는 주권자와 시민들 간의 계약 체결로 인해 설립된다.
- ③ 을: 민주주의는 수단이 아니라 목적으로서 추구할 이념이다.
- ④ 을: 시민이 지배하는 정부를 위해 시민의 승인은 반드시 필요하다.
- ⑤ 갑과 을: 국가의 대표자는 시민들의 정치적 의사를 따라야 한다.

\* 확인 사항  
 ○ 답안지의 해당란에 필요한 내용을 정확히 기입(표기)했는지 확인 하시오.

2023학년도 대학수학능력시험

사회탐구 영역 정답표  
( 윤리와 사상 ) 과목

문항 번호	정 답	배 점	문항 번호	정 답	배 점	문항 번호	정 답	배 점	문항 번호	정 답	배 점
1	⑤	2	6	②	3	11	③	3	16	④	2
2	①	3	7	②	2	12	③	2	17	①	3
3	②	2	8	④	3	13	①	3	18	⑤	3
4	⑤	3	9	④	2	14	④	2	19	④	2
5	⑤	3	10	③	2	15	③	3	20	①	2

제 4 교시

사회탐구 영역 (한국지리)

성명  수험 번호  -   제 [ ] 선택

1. (가), (나)는 조선 시대에 제작된 지리지의 일부이다. 이에 대한 설명으로 옳은 것만을 <보기>에서 고른 것은? (단, (가), (나)는 각각 『세종실록지리지』, 『택리지』 중 하나임.)

(가) ㉠ 경주(慶州)부  
신라의 옛 도읍이다. ... (중략) ... 박혁거세가 나라를 창건하고 도읍을 세워서 이름을 서야벌(徐耶伐)이라 하였다. 호(戶) 수는 1천 5백 52호, 인구가 5천 8백 94명이며, ... (중략) ... 간전(墾田)은 1만 9천 7백 33결(結)이다.

(나) ㉡ 상주(尙州)는 조령 밑에 있는 큰 도회지다. ㉢ 산이 웅장하고 들이 넓다. 북쪽으로는 조령과 가까워 충청도, 경기도와 통하고, 동쪽으로는 낙동강에 인접해 김해, 동래와 통한다.

<보 기>

ㄱ. (나)는 (가)보다 제작된 시기가 이른다.  
 ㄴ. (가)는 국가, (나)는 개인 주도로 제작하였다.  
 ㄷ. ㉢은 가거지(可居地)의 조건 중 인심(人心)에 해당한다.  
 ㄹ. ㉠과 ㉡은 경상도라는 지명의 유래가 된 지역이다.


- ① ㄱ, ㄴ    ② ㄱ, ㄷ    ③ ㄴ, ㄷ    ④ ㄴ, ㄹ    ⑤ ㄷ, ㄹ

2. 다음 자료는 국가지질공원에 대한 지역별 소개 내용의 일부이다. 해당 지역의 ㉠~㉤에 대한 설명으로 옳지 않은 것은? [3점]

지역	소개 내용
제주도	만장굴은 점성이 낮은 용암이 흐르면서 생긴 ㉠ 용암동굴이며, 세계적으로 규모가 크고 보존 상태가 양호하다.
울릉도·독도	나리 분지는 ㉡ 칼데라이며, 분지 내에는 다시 화산이 분화하여 만들어진 알봉이 있다.
단양	여천리 카르스트 지형은 우묵한 ㉢ 돌리네가 밀집한 지역으로, ㉣ 붉은색 토양이 분포한다.
경북 동해안	성류굴의 내부에는 ㉤ 석순, 석주, 종유석과 같은 동굴 생성물이 있다.

- ① ㉠은 용암의 냉각 속도 차이에 의해 형성되었다.  
 ② ㉡은 주로 기반암의 차별 침식에 의해 형성되었다.  
 ③ ㉢은 배수가 양호하여 주로 밭으로 이용된다.  
 ④ ㉣은 기반암이 용식된 후 남은 철분 등이 산화되어 형성되었다.  
 ⑤ ㉤은 물에 녹아 있던 탄산칼슘이 침전되어 형성되었다.

3. 다음 자료의 (가), (나) 암석의 종류와 형성 시기를 표의 A~C에서 고른 것은?



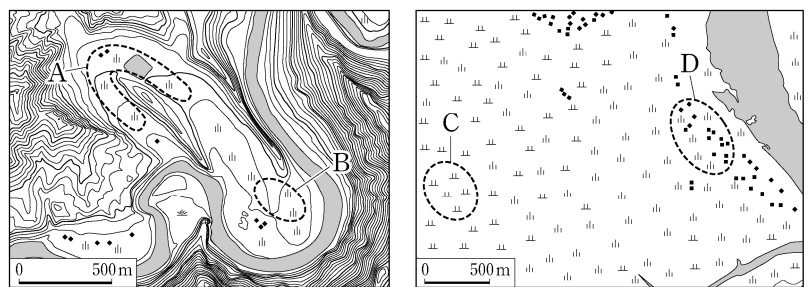
종류 \ 형성 시기	고생대	중생대	신생대	(가)	(나)
	석회암	A			① A    B
화강암		B		② A    C	
현무암			C	③ B    A	
				④ C    A	
				⑤ C    B	

4. 다음 글의 (가)에 대한 (나)의 상대적 특성으로 옳은 것은? (단, (가), (나)는 각각 겨울과 여름 중 하나임.)

우리나라는 더위와 추위에 대비하여 대청마루와 온돌 같은 전통 가옥 시설이 발달하였다. 대청마루는 바람을 잘 통하게 하여 (가) 을 시원하게 지낼 수 있도록 설치되었다. 온돌은 아궁이의 열을 방으로 전달하여 (나) 을 따뜻하게 지낼 수 있도록 설치되었다. 대청마루는 중부와 남부 지역에 발달한 한편, 온돌은 대부분의 지역에 발달하였다.

- ① 평균 상대 습도가 높다.  
 ② 정오의 태양 고도가 높다.  
 ③ 한파의 발생 일수가 많다.  
 ④ 대류성 강수가 자주 발생한다.  
 ⑤ 열대 저기압의 통과 횟수가 많다.

5. 지도의 A~D에 대한 설명으로 옳은 것만을 <보기>에서 고른 것은?



<보 기>

ㄱ. A는 과거에 하천이 흘렀던 구하도이다.  
 ㄴ. B의 퇴적층에서는 둥근 자갈이나 모래 등이 발견된다.  
 ㄷ. C의 퇴적물은 주로 최종 빙기에 퇴적되었다.  
 ㄹ. C는 D보다 퇴적물의 평균 입자 크기가 크다.

- ① ㄱ, ㄴ    ② ㄱ, ㄷ    ③ ㄴ, ㄷ    ④ ㄴ, ㄹ    ⑤ ㄷ, ㄹ

한국지리

## 2 (한국지리)

## 사회탐구 영역

6. 다음 글의 ㉠~㉣에 대한 설명으로 옳은 것만을 <보기>에서 고른 것은?

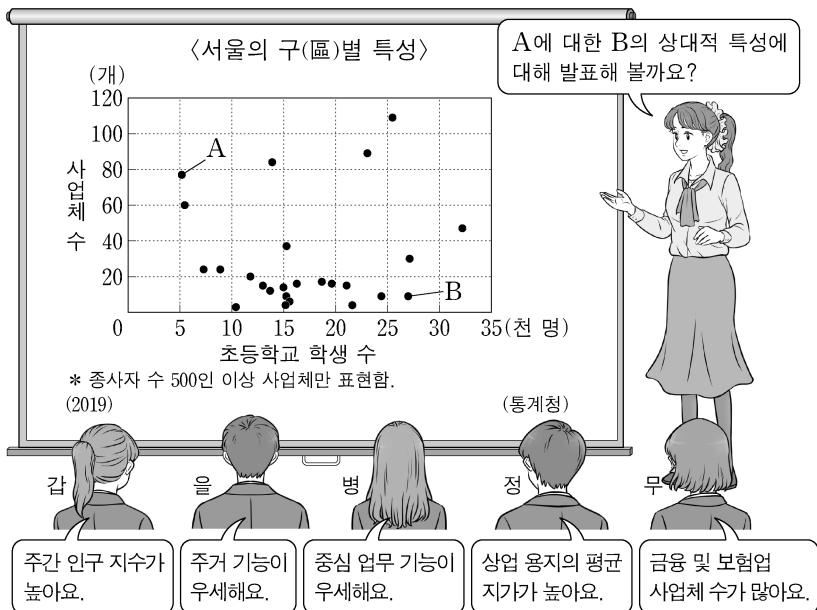
지구 온난화에 따른 해수면 상승과 무분별한 해안 개발로 ㉠ 사빈과 ㉡ 해안 사구가 크게 훼손되고 있다. 해안에 설치한 콘크리트 옹벽은 사빈과 해안 사구의 퇴적물 순환을 방해하고 해안 침식을 더욱 가속화시키기도 한다. 최근에는 해안을 보호하기 위해 ㉢ 모래 포집기, ㉣ 그로인 등 구조물을 설치하기도 한다.

<보 기>

- ㄱ. ㉠은 파랑 에너지가 집중되는 곳(串)에 잘 발달한다.  
 ㄴ. ㉡의 지하수는 바닷물보다 염분 농도가 높다.  
 ㄷ. ㉢은 모래의 퇴적을 유도하여 해안 사구의 침식을 방지한다.  
 ㄹ. ㉣은 파랑이나 연안류 등에 의한 사빈의 침식을 막기 위해 설치한다.

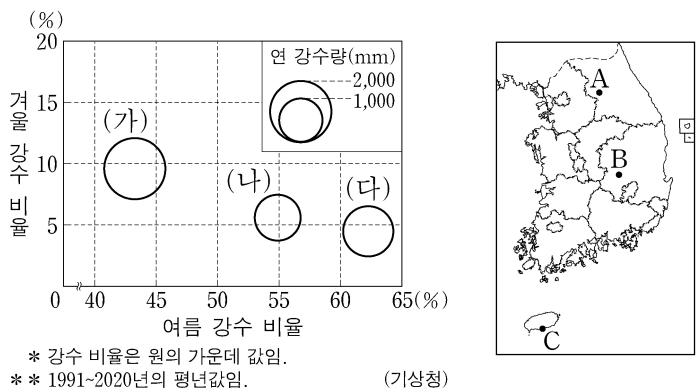
- ① ㄱ, ㄴ    ② ㄱ, ㄷ    ③ ㄴ, ㄷ    ④ ㄴ, ㄹ    ⑤ ㄷ, ㄹ

7. 다음은 한국지리 수업 장면의 일부이다. 교사의 질문에 옳게 답한 학생을 고른 것은?



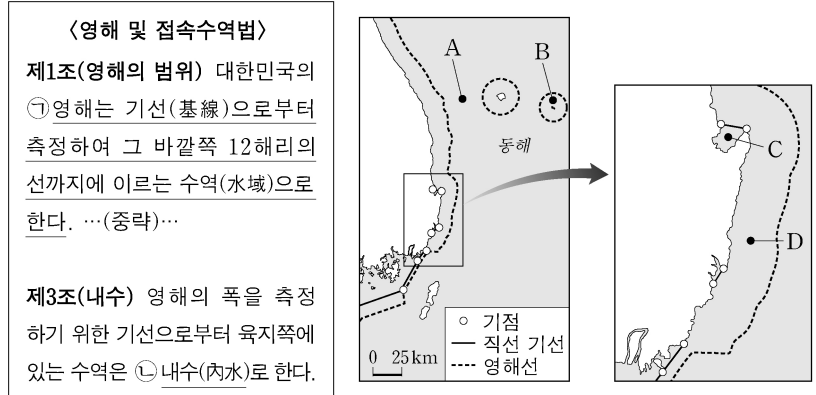
- ① 갑    ② 을    ③ 병    ④ 정    ⑤ 무

8. 그래프는 지도에 표시된 세 지역의 기후 자료이다. (가)~(다)에 해당하는 지역을 지도의 A~C에서 고른 것은? [3점]



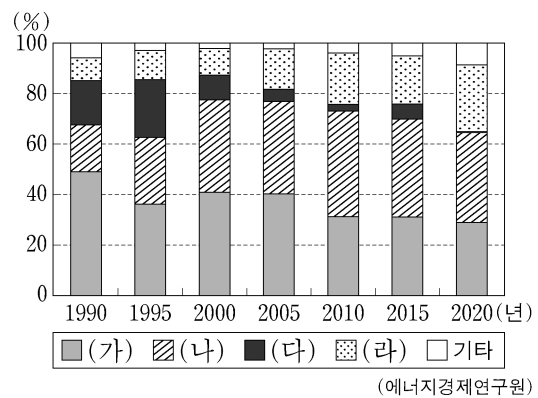
- ① (가) A    (나) B    (다) C    ② (가) A    (나) C    (다) B  
 ③ (가) B    (나) C    (다) A    ④ (가) C    (나) A    (다) B  
 ⑤ (가) C    (나) B    (다) A

9. 다음 자료는 우리나라 영해에 관한 것이다. 이에 대한 설명으로 옳은 것은? [3점]



- ① ㉠은 우리나라 모든 수역에 적용된다.  
 ② ㉡에 해당되는 곳은 A이다.  
 ③ B는 우리나라의 주권이 미치는 수역이다.  
 ④ D는 우리나라의 배타적 경제 수역이다.  
 ⑤ C와 D에서는 일본과 공동으로 어업 자원을 관리한다.

10. 그래프는 (가)~(라) 에너지원별 발전량 비율의 변화를 나타낸 것이다. 이에 대한 설명으로 옳은 것은? (단, (가)~(라)는 각각 석유, 석탄, 원자력, 천연가스 중 하나임.)



- ① 2020년에 원자력 발전량은 석탄 화력 발전량보다 많다.  
 ② 총발전량에서 석유가 차지하는 비율은 1990년보다 2020년이 높다.  
 ③ (가)는 (다)보다 발전 시 대기 오염 물질 배출량이 많다.  
 ④ (가)는 (라)보다 우리나라에서 전력 생산에 이용된 시기가 이른다.  
 ⑤ (나)는 (다)보다 수송용으로 이용되는 비율이 높다.

11. 표는 (가)~(라) 지역에 입지한 주요 시설의 현황을 나타낸 것이다. (가)~(라)에 해당하는 지역으로 옳은 것은?

지역 \ 시설	(가)	(나)	(다)	(라)
항만	×	×	×	○
지하철역	×	×	○	○
국제 공항	×	○	○	○
고속 철도역	○	○	○	○

\* '○'은 시설이 입지함을, '×'는 시설이 입지하지 않음을 의미함.

- (가) (나) (다) (라)  
 ① 익산    청주    대구    부산  
 ② 익산    청주    부산    대구  
 ③ 청주    대구    익산    부산  
 ④ 청주    익산    대구    부산  
 ⑤ 청주    익산    부산    대구

12. 다음 글의 ㉠~㉣에 대한 설명으로 옳은 것만을 <보기>에서 고른 것은? [3점]

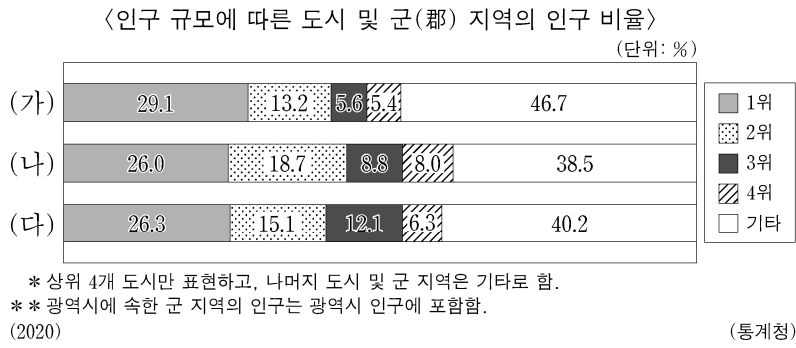
- ㉠ 소비자 서비스업은 소비자가 일상생활을 영위하는 데 필요한 재화 또는 서비스를 제공한다. 이와 같은 서비스업은 소비자의 이동 거리를 최소화하고 동종 업체 간 경쟁을 감소시킬 수 있는 곳에 주로 입지한다.
- ㉡ 생산자 서비스업은 기업이 재화나 서비스를 생산하고 유통하는 과정에 필요한 서비스를 제공한다. 이와 같은 서비스업은 주요 고객인 기업과의 접근성이 좋은 곳에 주로 입지한다. 최근 생산자 서비스업이 성장하게 된 주요 원인은 ㉢ 다양한 전문 서비스에 대한 기업의 수요가 증가하였기 때문이다.

<보 기>

ㄱ. ㉠의 주요 고객은 개인이다.  
 ㄴ. ㉡으로 인해 관련 업무를 외부 업체에 맡기는 현상이 증가한다.  
 ㄷ. ㉠은 ㉡보다 대도시의 도심에서 주로 발달한다.  
 ㄹ. ㉡은 ㉠보다 총사업체 수가 많다.

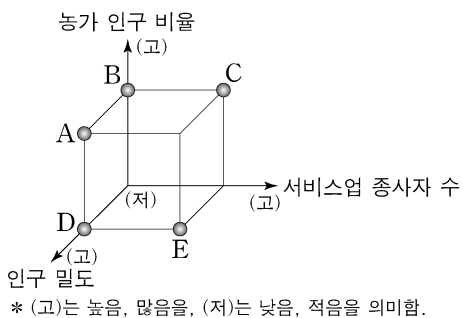
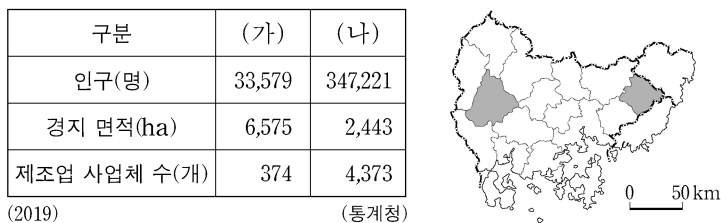
- ① ㄱ, ㄴ    ② ㄱ, ㄷ    ③ ㄴ, ㄷ    ④ ㄴ, ㄹ    ⑤ ㄷ, ㄹ

13. 그래프에 대한 설명으로 옳은 것은? (단, (가)~(다)는 각각 영남권, 충청권, 호남권 중 하나임.) [3점]



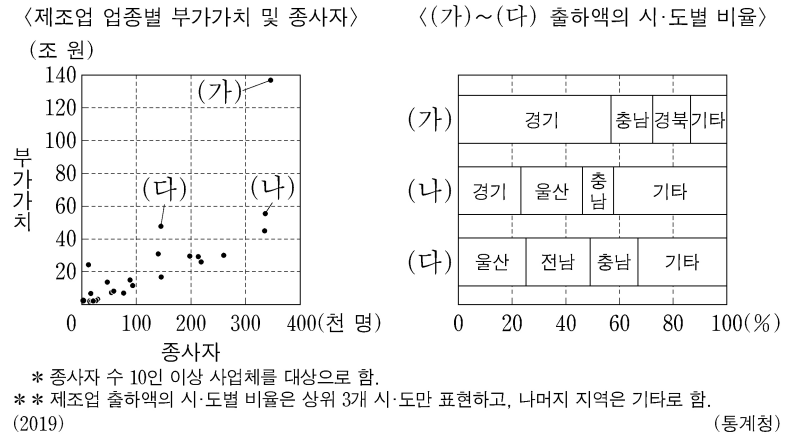
- ① (가)의 2위 도시는 광역시이다.  
 ② (가)는 (나)보다 총인구가 많다.  
 ③ (가)는 (다)보다 지역 내 총생산이 많다.  
 ④ (나)의 2위 도시는 (다)의 1위 도시보다 인구가 많다.  
 ⑤ (나)는 충청권, (다)는 영남권이다.

14. 표는 지도에 표시된 두 지역의 특성을 나타낸 것이다. (가)에 대한 (나)의 상대적 특성을 그림의 A~E에서 고른 것은? [3점]



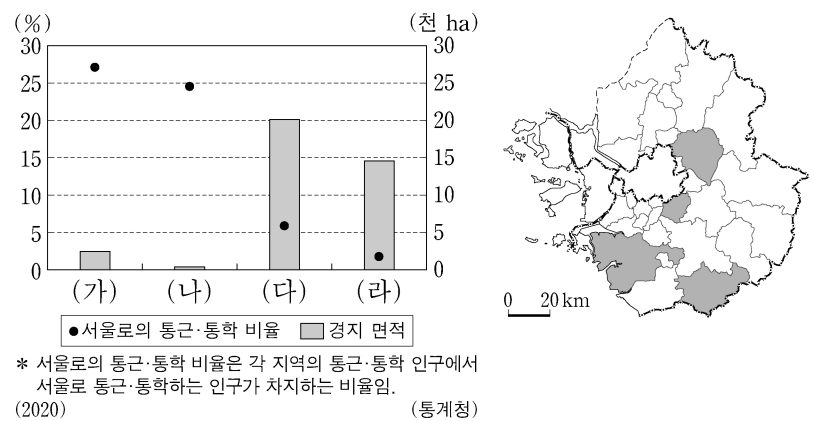
- ① A  
 ② B  
 ③ C  
 ④ D  
 ⑤ E

15. 그래프에 대한 설명으로 옳은 것은? (단, (가)~(다)는 각각 자동차 및 트레일러, 전자부품·컴퓨터·영상·음향 및 통신장비, 화학물질 및 화학제품 제조업 중 하나임.) [3점]



- ① 종사자 수는 화학물질 및 화학제품 제조업이 자동차 및 트레일러 제조업보다 많다.  
 ② 종사자당 부가가치는 자동차 및 트레일러 제조업이 전자부품·컴퓨터·영상·음향 및 통신장비 제조업보다 크다.  
 ③ (가)는 원료를 해외에서 수입하는 적환지 지향형 제조업이다.  
 ④ (다)는 한 가지 원료로 여러 제품을 생산하는 집적 지향형 제조업이다.  
 ⑤ (가)는 (나)보다 최종 완제품의 무게가 무겁고 부피가 크다.

16. 그래프는 지도에 표시된 네 지역의 서울로의 통근·통학 비율과 경지 면적을 나타낸 것이다. (가)~(라)에 대한 설명으로 옳은 것만을 <보기>에서 고른 것은? [3점]



<보 기>

ㄱ. (가)에는 수도권 1기 신도시가 위치한다.  
 ㄴ. (나)는 (가)보다 상주인구가 많다.  
 ㄷ. (다)는 (나)보다 제조업 종사자 수가 많다.  
 ㄹ. (라)는 (다)보다 지역 내 주택 유형에서 아파트가 차지하는 비율이 높다.

- ① ㄱ, ㄴ    ② ㄱ, ㄷ    ③ ㄴ, ㄷ    ④ ㄴ, ㄹ    ⑤ ㄷ, ㄹ



2023학년도 대학수학능력시험

사회탐구 영역 정답표  
( 한국지리 ) 과목

문항 번호	정 답	배 점	문항 번호	정 답	배 점	문항 번호	정 답	배 점	문항 번호	정 답	배 점
1	④	2	6	⑤	2	11	①	2	16	③	3
2	②	3	7	②	2	12	①	3	17	②	3
3	⑤	2	8	⑤	3	13	④	3	18	④	3
4	③	2	9	③	3	14	⑤	3	19	④	2
5	①	2	10	④	2	15	④	3	20	⑤	2

제 4 교시

사회탐구 영역 (세계지리)

성명

수험 번호


제 [ ] 선택

1. 다음 자료의 (가), (나)에 들어갈 내용으로 가장 적절한 것은?

<세계화 시대의 지역화 전략>

○ (가)의 사례  
포르투갈 도시 포르투(Porto)를 상징하는 독특한 파란색은 이 지역의 유명한 도자기 타일인 '아줄레주'의 색에서 착안한 것이다. 이 색을 활용한 'Porto.'를 도안하여 도시를 상징하는 대표적인 디자인으로 사용하고 있다.

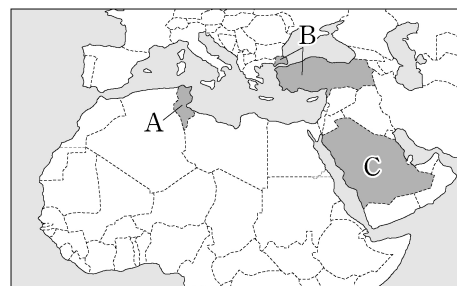
○ (나)의 사례  
유럽 연합(EU)은 특정 마을, 도시 또는 지역 내에서 생산·제조·가공된 농수산물 및 식품임을 표시하여 보호하는 제도를 시행하고 있다. 세계적으로 유명한 이탈리아 캄파냐 지방의 '모차렐라 디 부팔라 캄파냐 (Mozzarella di Bufala Campana)' 치즈는 이 제도의 적용을 받고 있다.



- |               |             |
|---------------|-------------|
| (가)           | (나)         |
| ① 다국적 기업의 현지화 | 지리적 표시제     |
| ② 다국적 기업의 현지화 | 지역 브랜드화     |
| ③ 지리적 표시제     | 다국적 기업의 현지화 |
| ④ 지역 브랜드화     | 다국적 기업의 현지화 |
| ⑤ 지역 브랜드화     | 지리적 표시제     |

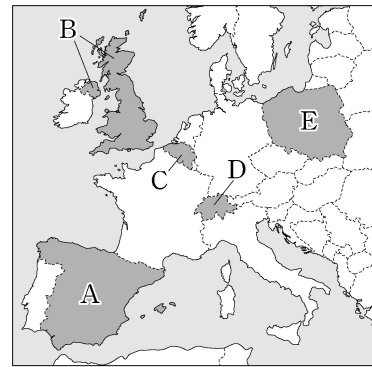
2. 다음 자료는 세 국가의 주화에 대한 설명이다. (가)~(다)에 해당하는 국가를 지도의 A~C에서 고른 것은? [3점]

(가)	(나)	(다)
		
주화에 유럽과 아시아를 연결하는 다리가 새겨져 있다. 주화 속 다리는 이 국가의 이스탄불 보스포루스 해협에 건설되었다.	주화에 신성한 두 모스크의 수호자라는 뜻의 문구가 새겨져 있다. 문구 속 두 모스크는 이 국가의 메카와 메디나에 하나씩 있다.	주화에 코르크참나무가 새겨져 있다. 이 나무는 수목 농업의 대표적인 경엽수로 지중해에 접한 이 국가의 북부 지역에서 볼 수 있다.



- |   |     |     |     |
|---|-----|-----|-----|
|   | (가) | (나) | (다) |
| ① | A   | C   | B   |
| ② | B   | A   | C   |
| ③ | B   | C   | A   |
| ④ | C   | A   | B   |
| ⑤ | C   | B   | A   |

3. 지도의 A~E 국가에 대한 설명으로 옳은 것만을 <보기>에서 고른 것은?

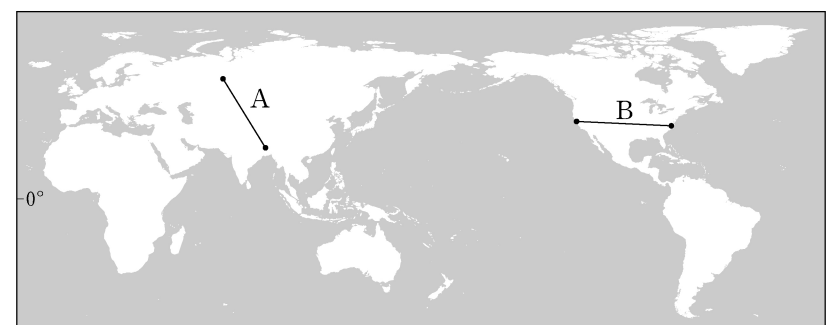
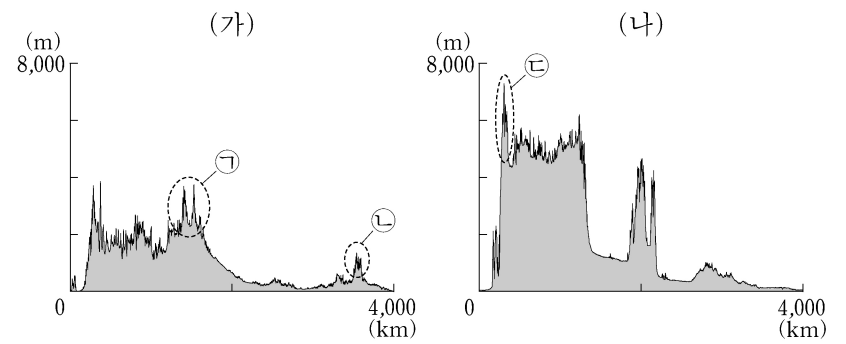


<보 기>

ㄱ. A의 카탈루냐 지역은 고유한 언어와 문화를 가지고 있다.  
 ㄴ. B의 파다니아 지역에서는 분리 독립 움직임이 있다.  
 ㄷ. C는 복수의 공용어를 사용하는 국가이다.  
 ㄹ. D와 E는 유럽 연합(EU) 가입국이다.

- ① ㄱ, ㄴ    ② ㄱ, ㄷ    ③ ㄴ, ㄷ    ④ ㄴ, ㄹ    ⑤ ㄷ, ㄹ

4. 그림은 지도에 표시된 A, B 두 구간의 지형 단면을 나타낸 것이다. 이에 대한 설명으로 옳은 것만을 <보기>에서 고른 것은? (단, (가), (나)는 각각 A, B 중 하나이며, ㉠~㉣은 각각 로키산맥, 애플래치아산맥, 히말라야산맥의 일부 중 하나임.) [3점]



<보 기>

ㄱ. ㉣은 환태평양 조산대에 속한다.  
 ㄴ. ㉢은 대륙판과 해양판이 수렴하여 형성되었다.  
 ㄷ. ㉣은 ㉠보다 형성 시기가 이른다.  
 ㄹ. (가)는 B의 단면을 나타낸 것이다.

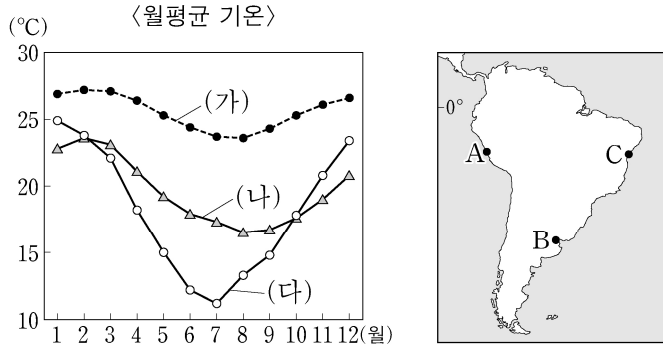
- ① ㄱ, ㄴ    ② ㄱ, ㄷ    ③ ㄴ, ㄷ    ④ ㄴ, ㄹ    ⑤ ㄷ, ㄹ



## 2 (세계지리)

## 사회탐구 영역

5. 그래프의 (가)~(다)에 해당하는 지역을 지도의 A~C에서 고른 것은? [3점]



- |   |     |     |     |   |     |     |     |
|---|-----|-----|-----|---|-----|-----|-----|
|   | (가) | (나) | (다) |   | (가) | (나) | (다) |
| ① | A   | B   | C   | ② | A   | C   | B   |
| ③ | B   | A   | C   | ④ | C   | A   | B   |
| ⑤ | C   | B   | A   |   |     |     |     |

6. 다음 글의 (가)~(다)에 대한 설명으로 옳은 것만을 <보기>에서 고른 것은? (단, (가)~(다)는 각각 돌리네, 석회동굴, 탑 카르스트 중 하나임.)

세계 유산인 할롱 베이는 베트남 북동쪽에 위치한 만이다. 이곳은 기반암이 용식을 받고 남은 봉우리인 (가)이 발달한 지역에 바닷물이 들어오면서 천여 개의 섬이 형성되어 장관을 이룬다. 일부 섬에서는 기반암이 지하수에 의해 용식되어 만들어진 구불구불한 형태의 내부 공간인 (나)이 바다와 연결되어 있어서, 관광객들이 보트를 타고 관람하는 색다른 경험을 할 수 있다. 또한, 몇몇 섬에서는 기반암의 용식으로 형성된 와지인 (다)을 볼 수 있다.

<보 기>

- ㄱ. (가)~(다)는 건조한 기후 환경보다 습윤한 기후 환경에서 잘 발달한다.  
 ㄴ. (가)의 기반암은 주로 석회암으로 이루어져 있다.  
 ㄷ. (나)가 함몰된 지형을 칼데라라고 한다.  
 ㄹ. (다)가 두 개 이상 연결되어 확장된 지형은 카렌이다.

- ① ㄱ, ㄴ    ② ㄱ, ㄷ    ③ ㄴ, ㄷ    ④ ㄴ, ㄹ    ⑤ ㄷ, ㄹ

7. 다음은 두 지리 교사가 답사 중에 나눈 영상 통화 내용의 일부이다. 밑줄 친 ㉠~㉣에 대한 설명으로 옳은 것만을 <보기>에서 고른 것은? [3점]



<보 기>

- ㄱ. ㉠은 여러 개의 선상지가 연결되어 형성된다.  
 ㄴ. ㉡은 주로 바람의 침식 작용에 의해 형성된다.  
 ㄷ. ㉢ 주변에는 메사와 뷰트가 흔히 나타난다.  
 ㄹ. ㉣은 후빙기 해수면 상승으로 형성되었다.

- ① ㄱ, ㄴ    ② ㄱ, ㄷ    ③ ㄴ, ㄷ    ④ ㄴ, ㄹ    ⑤ ㄷ, ㄹ

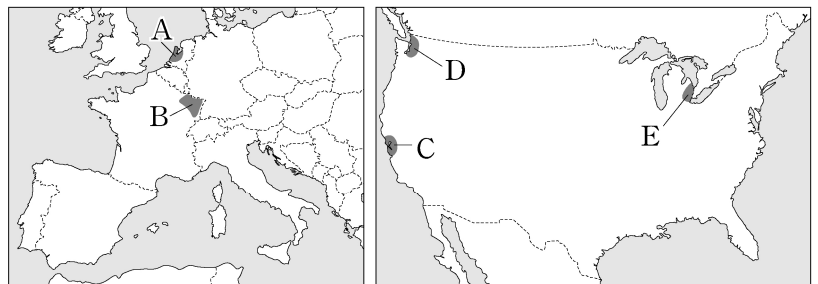
8. 다음은 환경 다큐멘터리 대본의 일부이다. (가), (나)에 해당하는 용어로 옳은 것은?

환경 문제는 전 지구 규모로 나타나고 있는데 그 대표적인 사례로는 지구 온난화가 있습니다. 국제 사회는 지구 온난화의 원인이 되는 온실 가스를 감축하기 위해 함께 노력하고 있습니다. 이 노력의 일환으로 1990년대에는 국제 연합(UN) 기후 변화 협약을 채택하였고, 온실가스 배출권 거래제를 도입한 (가)를 채택하였습니다. 또한, 선진국에 온실가스 감축 의무가 있었던 (가)와 달리, 2015년에 채택된 (나)은 선진국과 개발 도상국 모두 온실가스 감축 의무에 동참하도록 하고 있습니다.

(가)                      (나)

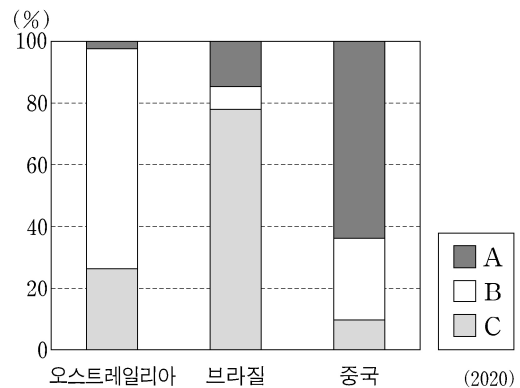
- ① 교토 의정서            제네바 협약  
 ② 교토 의정서            파리 협정  
 ③ 교토 의정서            람사르 협약  
 ④ 몬트리올 의정서        제네바 협약  
 ⑤ 몬트리올 의정서        파리 협정

9. 지도의 A~E 지역에 대한 설명으로 옳은 것은? [3점]



- ① A는 로렌을 중심으로 제철 산업이 발달하였다.  
 ② B에는 첨단 산업 지구인 케임브리지 사이언스 파크가 있다.  
 ③ C에는 실리콘 벨리를 중심으로 하는 첨단 산업 지역이 있다.  
 ④ D는 디트로이트를 중심으로 자동차 산업이 발달하였다.  
 ⑤ E는 휴스턴을 중심으로 석유 화학 산업이 발달하였다.

10. 그래프는 세 국가의 가축 사육 두수 비율을 나타낸 것이다. 이에 대한 설명으로 옳은 것만을 <보기>에서 고른 것은? (단, A~C는 각각 돼지, 소, 양 중 하나임.)



\* 각 국가의 돼지, 소, 양 사육 두수 합을 100%로 하여 나타낸 것임.

<보 기>

- ㄱ. 중국은 돼지 사육 두수가 소 사육 두수보다 많다.  
 ㄴ. C는 소에 해당한다.  
 ㄷ. A는 B보다 유목에 적합하다.  
 ㄹ. A~C 중 전 세계 사육 두수는 B가 가장 많다.

- ① ㄱ, ㄴ    ② ㄱ, ㄷ    ③ ㄴ, ㄷ    ④ ㄴ, ㄹ    ⑤ ㄷ, ㄹ

11. 다음은 세계지리 온라인 수업 장면의 일부이다. 교사의 질문에 옳게 대답한 학생을 고른 것은?

교사: 지도의 A~E 지역에 대해 설명해 볼까요?

- 갑: A에서는 타이가라고 불리는 침엽수림대를 볼 수 있어요.
- 을: B에서는 최근에 빙하가 후퇴하면서 빙력토 평원이 넓게 나타났어요.
- 병: C에서는 여름철 우기에 물이 고여 플라야호가 형성돼요.
- 정: D에서는 주민들이 지표면으로부터 전달되는 습기와 열기를 차단하기 위해 주로 고상 가옥에 살아요.
- 무: E에서는 열대 몬순의 영향으로 주로 카카오, 고무나무 등의 플랜테이션을 하고 있어요.

- ① 갑    ② 을    ③ 병    ④ 정    ⑤ 무

12. 다음 자료의 (가) 국가에 대한 설명으로 옳은 것은? [3점]

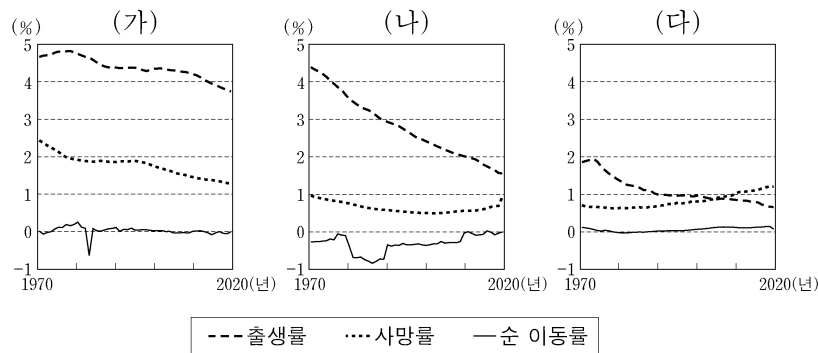
지역 탐방

동남아시아의 화교 거주 지역을 가다!

화교는 다른 국가에 사는 (가) 계 주민으로 전 세계 여러 지역에 진출해 있다. 이들 중 상당수는 동남아시아에 거주하는데, 동남아시아 화교들은 광둥, 푸젠 지방 출신이 많다. 화교는 해외에서 주로 특정 지역에 모여 자국 문화를 유지하고 있는데, 동남아시아 곳곳에서도 이러한 모습을 볼 수 있다.

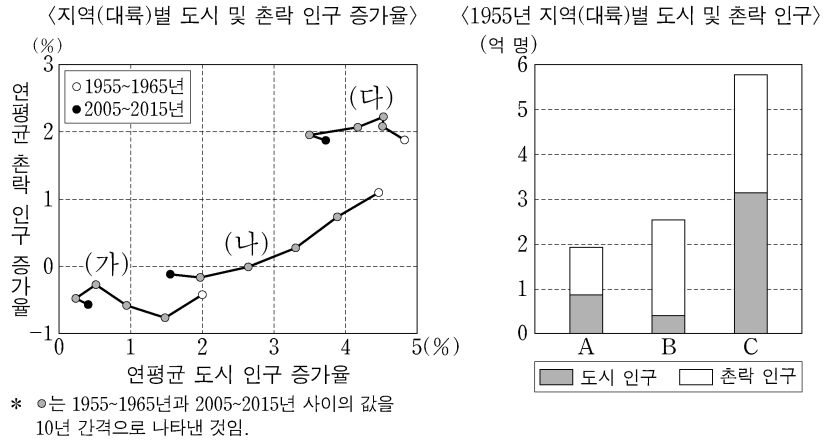
- ① 백호주의의 인종 차별적 정책이 폐지되었다.  
 ② 북부 지역에는 원주민인 마오리족이 거주한다.  
 ③ 대표적인 전통 요리로 쌀로 만든 나시고렝이 있다.  
 ④ 한족을 비롯하여 여러 소수 민족으로 구성되어 있다.  
 ⑤ 힌두교도인 타밀족과 불교도인 신탄리족 간의 갈등이 나타난다.

13. 그래프는 세 국가의 인구 특성을 나타낸 것이다. 이에 대한 설명으로 옳지 않은 것은? (단, (가)~(다)는 각각 나이지리아, 멕시코, 일본 중 하나임.) [3점]



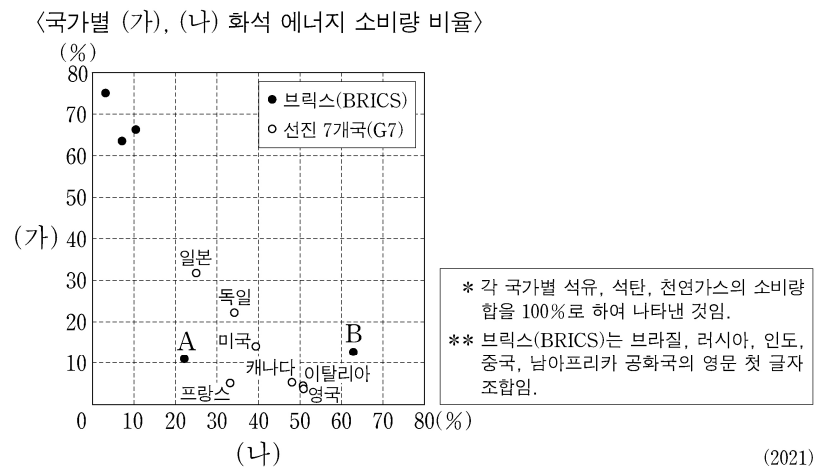
- ① 2020년 일본은 인구가 감소하였다.  
 ② 1970년 인구의 자연 증가율은 나이지리아가 멕시코보다 높다.  
 ③ (나)는 2020년 인구가 1970년 인구보다 많다.  
 ④ (가)~(다) 중 2020년 인구가 가장 많은 국가는 (가)이다.  
 ⑤ 2020년 중위 연령은 (다) > (나) > (가) 순으로 높다.

14. 다음 자료에 대한 설명으로 옳은 것은? (단, (가)~(다)와 A~C는 각각 라틴 아메리카, 아프리카, 유럽 중 하나임.)



- ① 2015년 도시화율이 가장 낮은 지역은 (가)이다.  
 ② 1955년 도시 인구는 (다)가 (나)보다 많다.  
 ③ 1955년 대비 2015년 C의 촌락 인구는 감소하였다.  
 ④ 2015년 촌락 인구는 A가 B보다 많다.  
 ⑤ 1955~2015년 인구 증가율은 C > A > B 순으로 높다.

15. 그래프에 대한 설명으로 옳은 것만을 <보기>에서 있는 대로 고른 것은? (단, (가), (나)는 각각 석유, 석탄, 천연가스 중 하나임.) [3점]



<보 기>

ㄱ. 프랑스는 석유 소비량이 천연가스 소비량보다 많다.  
 ㄴ. (가)의 세계 최대 수출국은 브릭스(BRICS) 국가 중 하나이다.  
 ㄷ. (나)는 (가)보다 세계 1차 에너지 소비량에서 차지하는 비율이 높다.  
 ㄹ. A는 B보다 국가 내 1차 에너지 소비량에서 수력이 차지하는 비율이 높다.

- ① ㄱ, ㄷ                      ② ㄱ, ㄹ                      ③ ㄴ, ㄷ  
 ④ ㄱ, ㄴ, ㄹ                  ⑤ ㄴ, ㄷ, ㄹ

# 4 (세계지리)

# 사회탐구 영역

16. 다음은 세계지리 수업 장면의 일부이다. 교사의 질문에 대한 학생의 대답으로 옳은 것은?

자료는 ○○○ 국제 축구 대회 조 편성 일부를 나타낸 것입니다. 이 국가들의 지리적 특징에 대해 발표해 볼까요?

C 조	D 조	E 조	F 조
아르헨티나	프랑스	에스파냐	벨기에
사우디아라비아	덴마크	독일	캐나다
멕시코	튀니지	일본	모로코
폴란드	오스트레일리아	코스타리카	크로아티아

- ① 갑: C 조의 국가는 모두 바다와 접하지 않은 내륙국이에요.
- ② 을: D 조의 국가는 모두 수도가 북반구에 위치하고 있어요.
- ③ 병: E 조에는 국제 연합(UN) 본부가 위치한 국가가 있어요.
- ④ 정: F 조에서 국토 면적이 가장 넓은 국가는 캐나다예요.
- ⑤ 무: C~F 조에는 조마다 아프리카에 위치한 국가가 있어요.

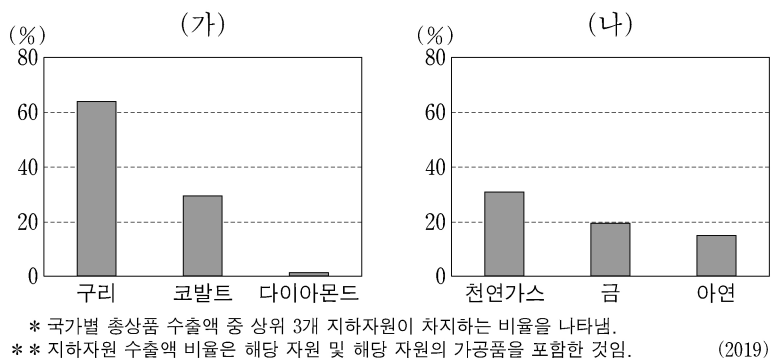
17. 다음 자료의 (가)~(라) 종교에 대한 설명으로 옳은 것은? (단, (가)~(라)는 각각 불교, 이슬람교, 크리스티교, 힌두교 중 하나임.)

<주한 인도 대사관의 ○○○○년 공식 휴무일 중 일부>      <인도의 종교별 신자 수>

날짜	설명
▽월 ▽일	(가) 신도들이 구원자라고 믿는 이가 십자가에 못 박힌 고난을 기억하는 날이다. 이날의 이틀 뒤 일요일은 이 종교의 또 다른 기념일인 부활절이다.
□월 □일	(나) 금식 기간인 라마단이 끝나는 날이며, 신도들은 기도과 함께 서로 음식과 선물을 교환하며 큰 축제를 진행한다.
△월 △일	(다) 창시자의 출생을 기념하는 날이다. 이날을 맞이하여 신도들은 그의 출생, 깨달음, 열반을 기리는 축제를 개최한다.
◇월 ◇일	밤새도록 곳곳에 등불을 켜고, 여러 신들에게 기도하여 빛의 축제라고 불리는 날이다. 홀리, 두세라와 함께 (라)의 3대 축제로 손꼽힌다.

- ① (가)의 기원지는 인도이다.
- ② (나)의 대표적 종교 경관은 불상과 불탑이다.
- ③ (다)는 민족 종교이다.
- ④ 예루살렘에는 (가)와 (나)의 성지가 있다.
- ⑤ 전 세계 신자 수는 (라)가 (나)보다 많다.

18. 그래프는 두 국가의 주요 지하자원 수출액 비율을 나타낸 것이다. (가), (나)에 해당하는 국가를 지도의 A~C에서 고른 것은? [3점]

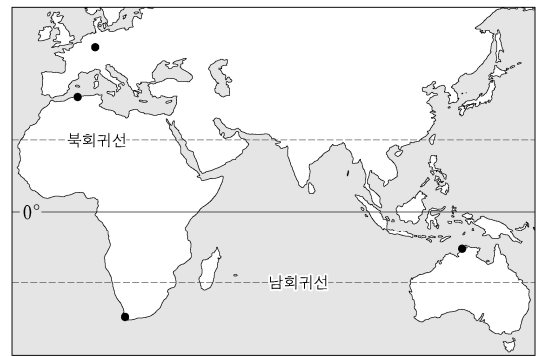


	(가)	(나)
①	A	B
②	A	C
③	B	A
④	B	C
⑤	C	A

19. 표는 지도에 표시된 네 지역의 기후 특성을 나타낸 것이다. A~D 지역에 대한 설명으로 옳은 것만을 <보기>에서 있는 대로 고른 것은? (단, (가), (나) 시기는 각각 1월, 7월 중 하나임.)

지역	(가) 시기 강수량 차이 (mm)	(나) 시기 평균 기온 차이 (°C)
A	29.1	-13.5
B	-37.5	12.6
C	-35.3	-5.0
D	43.7	5.9

\* 강수량 차이=해당 지역 강수량 - 네 지역 강수량의 합 / 4  
\*\* 평균 기온 차이=해당 지역 평균 기온 - 네 지역 평균 기온의 합 / 4



<보 기>

ㄱ. B의 최한월 평균 기온은 18°C 이상이다.  
 ㄴ. 기온의 연교차는 A가 B보다 크다.  
 ㄷ. (가) 시기 낮 길이는 D가 A보다 길다.  
 ㄹ. (나) 시기 강수량은 A~D 중 B가 가장 많다.

- ① ㄱ, ㄴ                      ② ㄴ, ㄷ                      ③ ㄷ, ㄹ
- ④ ㄱ, ㄴ, ㄹ                ⑤ ㄱ, ㄷ, ㄹ

20. 다음 글은 동남아시아에 위치한 세 국가에 대한 설명이다. (가)~(다) 국가에 대한 설명으로 옳은 것만을 <보기>에서 있는 대로 고른 것은? [3점]

(가) 은/는 (나), (다) 등 여러 국가와 국경을 접하고 있는 동남아시아 국가이다. 이 국가의 대표적인 축제로는 송프란 축제가 있으며, 국민 대부분이 불교를 믿는다.  
 (나) 은/는 중국, 인도 등 여러 국가와 국경을 접하고 있다. 국민 대부분이 불교를 믿으며, 이슬람교를 믿는 소수 민족과 갈등이 있다.  
 (다) 은/는 좁은 해협을 사이로 마주하고 있는 섬나라와 다리로 연결되어 있어 자동차로 왕래가 가능하다. 이 국가는 다양한 종교를 가진 사람들이 공존하고 있고, 이 중 이슬람교를 믿는 사람이 가장 많다.

<보 기>

ㄱ. (가)의 대표적인 문화 유산으로 앙코르와트 사원이 있다.  
 ㄴ. (다)는 인도네시아와 국경을 접하고 있다.  
 ㄷ. 메콩강은 (나)와 (다)를 지난다.

- ① ㄴ                      ② ㄷ                      ③ ㄱ, ㄴ                      ④ ㄱ, ㄷ                      ⑤ ㄴ, ㄷ

\* 확인 사항  
 ○ 답안지의 해당란에 필요한 내용을 정확히 기입(표기)했는지 확인 하시오.

2023학년도 대학수학능력시험

사회탐구 영역 정답표  
( 세계지리 ) 과목

문항 번호	정 답	배 점	문항 번호	정 답	배 점	문항 번호	정 답	배 점	문항 번호	정 답	배 점
1	⑤	2	6	①	2	11	①	2	16	④	2
2	③	3	7	④	3	12	④	3	17	④	2
3	②	2	8	②	2	13	②	3	18	③	3
4	⑤	3	9	③	3	14	③	2	19	④	2
5	④	3	10	①	2	15	②	3	20	①	3

제 4 교시

사회탐구 영역 (동아시아사)

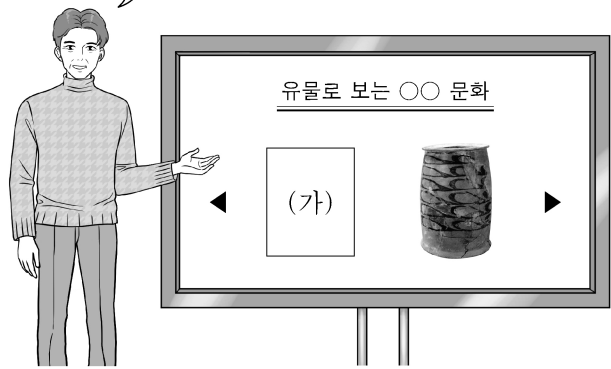
성명

수험 번호

제 [ ] 선택

1. (가)에 들어갈 유물로 가장 적절한 것은?

이것은 신석기 시대 라오허강 유역에서 발달한 ○○ 문화의 대표적인 유물입니다. 이 지역에서는 다양한 형태의 옥기와 기하학적 무늬의 토기가 많이 출토되었습니다.



2. (가), (나) 시기 사이에 있었던 사실로 옳은 것은?

(가) 큰아들인 부소가 말하기를 “유생들이 모두 공자의 가르침을 외우고 본받는데 이제 폐하께서 책을 불태우시고 그들을 모두 수도 셴양[咸陽]에 파묻어 죽이시니, 신은 백성들이 불안해 할까 두렵습니다.”라고 하자 황제가 노하여 부소를 북쪽 변경으로 쫓아내어 몽염과 함께 만리장성을 축조하게 하였다.

(나) 동중서가 말하였다. “폐하께서 훌륭한 선비를 얻지 못한 까닭은 평소에 선비들을 격려하지 않았기 때문입니다. 평소 선비를 육성하지 않으면서 뛰어난 이를 찾는 것은 말이 되지 않습니다. 좋은 스승을 모셔 선비를 한데 모아 가르치는 것보다 더 중요한 것이 없을 것입니다.” 이에 황제가 동중서의 건의를 받아들여 장안에 태학을 처음으로 설립하였다.

- ① 왕망이 신을 건국하였다.
- ② 왜의 노국왕이 금인을 받았다.
- ③ 고구려가 낙랑군을 축출하였다.
- ④ 신기관 관리가 제사를 주관하였다.
- ⑤ 위만이 준왕을 몰아내고 왕위에 올랐다.

3. 다음 글이 작성된 시기에 동아시아에서 볼 수 있는 모습으로 가장 적절한 것은?

개성 4년 6월 7일  
바람이 불기에 돛을 올리고 나아갔다. 오후 무렵에 적산의 동쪽 해변에 정박하였다. 적산에 절이 있는데, 그 이름은 적산 법화원이다. 이는 장보고가 처음 세운 절이다. ... (중략) ... 지금은 신라의 통역관 등이 이곳의 일을 전적으로 맡아서 처리하고 있다.

개성 4년 6월 27일  
청해진 대사 장보고가 보낸 무역선 2척이 단산포에 도착했다고 한다.

- 『입당구법순례행기』 -

- ① 만동묘를 참배하는 양반
- ② 천주실의를 저술하는 선교사
- ③ 현장이 번역한 불경을 읽는 승려
- ④ 아리타에서 자기를 빚고 있는 장인
- ⑤ 테라코야에서 읽기와 셈하기를 배우는 학생

4. 다음 자료에 나타난 전쟁 중에 있었던 사실로 옳은 것은? [3점]

평양성에서 대승을 거두었다는 소식을 들은 후에, 임금은 그 원인을 분석하여 다음 전투에 대비하도록 지시하였다. 이에 비변사에서 다음과 같이 상주하였다. “척계광이 지은 『기효신서』라는 책에 적을 막는 방법이 자세하게 기재되어 있으니 모두 그대로 본받아야 합니다. 다만 그 책의 내용과 무기의 명칭에 알기 어려운 데가 있습니다. 이여송 제독이 귀국하기 전에 총명한 사람을 보내, 다방면으로 질문하게 하여 완전히 익히게 하면 될 것입니다.”

- ① 강홍립이 사르후 전투에 출전하였다.
- ② 청을 정벌하자는 북벌론이 대두되었다.
- ③ 조선이 가도에 주둔하는 모문룡을 지원하였다.
- ④ 이자성이 이끄는 농민군이 수도를 점령하였다.
- ⑤ 일본이 조선 남부 4도의 할양 등을 요구하였다.

5. 밑줄 친 ‘황제’에 대한 설명으로 옳은 것은? [3점]

황제는 세 번째 항해를 떠난 사절로 하여금 플라카[滿刺加]의 우두머리에게 귀한 예물을 하사하고, 그를 국왕으로 봉하는 비를 세우도록 하였다. 이에 정식으로 조공·책봉 관계가 맺어졌다. 그 후 주변의 강국 아유타야[暹羅]는 중국을 두려워하여 플라카를 침략하거나 소란을 피우지 못하였다. 플라카 국왕은 감사의 뜻을 표하기 위해 정화와 함께 가족을 데리고 중국의 수도로 와서 특산물을 바쳤다. 황제는 그에게 선박을 하사하고 돌아가서 나라를 지키도록 하였다.

- ① 천호제를 기반으로 호라즘을 멸망시켰다.
- ② 자금성을 건설하고 베이징으로 수도를 옮겼다.
- ③ 장거정을 등용하여 몽골과의 강화를 시도하였다.
- ④ 흉노를 견제하기 위하여 장건을 서역에 파견하였다.
- ⑤ 소가씨를 제거한 후 당의 율령 체제 도입을 추진하였다.

동아시아사

## 2 (동아시아사)

## 사회탐구 영역

6. 밑줄 친 '조약'에 대한 설명으로 옳은 것은? [3점]

수년 전 오랑캐가 난징으로 천왕(天王)을 찾아왔습니다. 그들이 말하기를 “우리는 만여 명의 군사로 북쪽의 수도까지 쳐들어가서 황제를 굴복시키고 조약을 맺었다. 난징 주변의 영토를 떼어 주면 천왕을 도와줄 것이지만, 거절하면 천왕은 오래가지 못할 것이다.”라고 협박하였습니다. 노중당(老中堂)\*께서 이미 난징을 함락하여 천왕 세력을 진압하셨으니, 이제부터라도 오랑캐에 대한 방비에 힘을 쏟으셔야 할 것입니다. 저는 천왕 홍씨를 따랐던 지난날을 후회하며 진심을 담아 말씀을 올리는 바입니다.

\*노중당: 중국변에 대한 존칭

- ① 삼국 간섭이 일어나는 계기가 되었다.
- ② 크리스티교 선교의 자유를 인정하였다.
- ③ 외국 군대의 베이징 주둔을 허용하였다.
- ④ 공행 무역이 폐지되는 결과를 초래하였다.
- ⑤ 페리 제독의 무력시위가 원인이 되어 체결되었다.

7. (가) 인물에 대한 설명으로 옳은 것은?

동아시아사 인물 검색

(가)

(가)은/는 푸젠 출신으로 18세에 진사에 합격하였다. 효종이 치국의 도에 대해서 널리 여론을 물었을 때 그는 “천하를 잘 다스리기 위해서는 반드시 격물치지(格物致知)를 우선해야 합니다. 폐하께서 그 이치에 따라서 정치를 펼치신다면, 천하가 평안할 것입니다.”라고 하며 수양 방법으로 격물치지를 중시하였다. 그리고 이전까지 오경(五經)을 중시하던 풍조와 달리 사서(四書)를 중시하여 새로운 주석을 달아서 『대학장구』, 『중용장구』, 『논어집주』와 『맹자집주』를 저술하였다.

- ① 성리학을 집대성하였다.
- ② 고사기전을 집필하였다.
- ③ 사서오경왜훈을 저술하였다.
- ④ 주자감에서 유교 경전을 가르쳤다.
- ⑤ 시헌력을 제작하여 역법 개정을 주도하였다.

8. 밑줄 친 '명령'이 동아시아에 미친 영향으로 가장 적절한 것은? [3점]

중국 상인들이 탄 배가 제주도에 표착하였다. 이들은 제주 목사에게 다음과 같이 요청하였다. “타이완의 정씨 세력을 평정 하신 황제께서 인근 책봉 국가를 간절하게 생각하여 바다를 열어 통상을 허락한다는 명령을 수년 전에 내렸습니다. 이에 화물을 팔러 나왔는데 뜻밖에 풍랑을 만나 이곳까지 오게 되었습니다. 배에 싣고 있는 비단 등을 팔아 쌀과 담배 등을 구입하고 배를 수리할 수 있도록 은혜를 베풀어 주십시오.” 이에 제주 목사는 배를 수리하게 하고 한 달 만에 돌려보냈다.

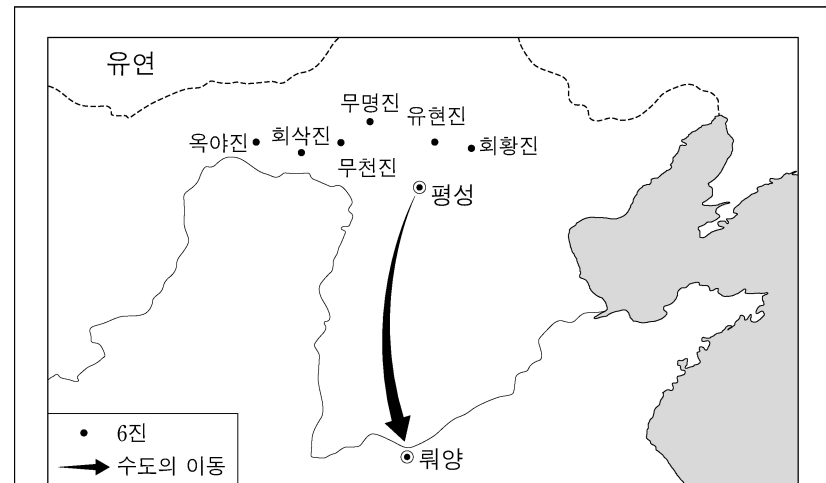
- ① 한국 - 단전에서 회취법을 개발하였다.
- ② 한국 - 삼포(三浦)에서 왜인과 교역하였다.
- ③ 중국 - 교초를 발행하여 전국에 유통하였다.
- ④ 중국 - 감함을 이용하여 일본과 교역하였다.
- ⑤ 일본 - 무역을 통제하기 위하여 신패를 발급하였다.

9. (가), (나) 국가에 대한 설명으로 옳은 것은? [3점]

유악이 눈물을 흘리며 말하기를 “우리 태후는 연로하시고 새로 즉위한 황제도 아직 나이가 어립니다. 상중에 군대를 보내는 것은 예의에 맞지 않으니 군대를 물려주십시오.”라고 하였다. 이에 바얀이 답하기를 “우리 황제가 즉위하시고 바로 너희와 수교하기 위해 사신을 보냈으나, 너희가 오랫동안 가두었으니 군대를 동원해 죄를 묻는 것이다.”라고 꾸짖었다. 결국 (가)의 어린 황제가 멀리 북쪽에 있는 (나) 황제의 궁궐을 향해 절을 한 뒤 항복하였고, 곧이어 바얀이 (가)의 수도 임안을 함락하였다.

- ① (가) - 백제에 불교를 전해 주었다.
- ② (가) - 야마타이국의 조공을 받았다.
- ③ (나) - 맹안·모극제를 실시하였다.
- ④ (나) - 일본 원정을 두 차례 단행하였다.
- ⑤ (나) - (가)와 전연의 맹약을 체결하였다.

10. 밑줄 친 '이 왕조'에 대한 설명으로 옳은 것은?



화북 지역을 통일한 이 왕조는 북방의 강성한 유목 민족인 유연을 방어하기 위하여 6진을 설치하였다. 그 뒤 호한 융합 정책의 일환으로 뤼양 천도가 이루어지자, 북방을 방어한다는 이유로 좋은 대우를 받았던 6진의 병사들은 조정의 관심에서 멀어졌다. 황제는 많은 죄인을 6진으로 유배 보냈고 이곳의 병사들은 자신들이 죄인과 동일시되는 것에 대해 커다란 불만을 갖게 되었다. 계속되는 홀대 속에서 가장 서쪽인 옥야진에서 반란이 시작되었고 나머지 진들 역시 이에 호응하여 반란에 참가하였다. 결국 이 반란은 이 왕조가 동·서 2개의 왕조로 분열되는 한 원인이 되었다.

- ① 송과 대립하였다.
- ② 연운 16주를 할양받았다.
- ③ 남북조의 분열을 종식시켰다.
- ④ 5대 10국의 혼란을 수습하였다.
- ⑤ 발해와 조공·책봉 관계를 맺었다.

11. 밑줄 친 ㉠ 시기의 동아시아 경제 상황으로 옳은 것은? [3점]

막부의 슈인장을 소지한 선박은 계절풍을 타고 동남아시아 각지를 오고 갔다. 시암, 참파 등지의 항구에 도착한 일본인 가운데 일부는 그곳에 남아 거주지를 만들었다. 상인 등으로 구성된 일본인 마을은 슈인장 무역과 함께 번성하였다. 그러나 동남아시아에서 귀항하던 선박에 크리스트교 선교사가 몰래 탄 사실이 적발된 이후 막부는 슈인장 발급 절차를 더욱 엄격하게 하였다. 결국 막부 개창 이래 ㉠ 30여 년간 시행한 슈인장 무역은 크리스트교 포교를 금지하고 해외 무역을 통제하는 해금 정책을 통해 중지부를 찍게 되었다.

- ① 네덜란드 상인이 데지마에 체류하였다.
- ② 매카트니 사절단이 황제를 방문하였다.
- ③ 연행사가 청의 수도 베이징에서 문물을 교류하였다.
- ④ 일본 상인이 포르투갈 상인과 중국산 생사를 거래하였다.
- ⑤ 에스파냐가 태평양을 횡단하는 갈레온 무역을 개시하였다.

12. (가), (나) 국가에 대한 설명으로 옳은 것은? [3점]

(가)의 황제는 흥경에서 국서를 보내 다음과 같이 말하였다. “저는 여러 번 사양하였으나 주위에서 계속 황위에 오르라 재촉하니 어쩔 수 없이 황제 즉위식을 거행하였습니다. 안타깝게도 양국 사이에 전쟁이 여러 해 이어지고 있습니다. 지금 거란(요)에 세 폐로 비단, 은 등을 주시는 것처럼 저에게도 주신다면 더 이상 다른 것을 요구하지 않겠습니다.” 이에 (나)은/는 이 같은 요구를 받아들여 사신을 보내 책봉하고 인장을 하사하였고, (가)은/는 (나)의 신하가 될 것을 약속하였다.

- ① (가) - 탕롱을 수도로 삼았다.
- ② (가) - 고려로부터 조공을 받았다.
- ③ (가) - 유목 민족의 침략으로 멸망하였다.
- ④ (나) - 문성 공주를 토번에 보냈다.
- ⑤ (나) - 쩐흥다오의 군대에 패배하였다.


13. 밑줄 친 ‘파병’이 이루어진 배경으로 가장 적절한 것은?

우리 나라가 군대를 보낸 것은 속방을 보호하는 선례에 따른 것이다. 단순히 속방의 남쪽 지방에서 일어난 변란을 진압하는데 목적이 있을 뿐이기 때문에 사태가 진정되면 군대는 곧 철수할 것이다. ... (중략) ... 귀국 일본의 파병 목적이 온전히 공사와 공관 그리고 상민 보호에만 있다면 그렇게 많은 병사가 필요하지 않다. 더욱이 우리와는 달리 속방의 요청 없이 파병하여 인민이 동요하고 있으니, 군대가 현재 도착한 곳에서 더 이상 진격하는 일은 삼가야 한다.

- ① 우창에서 신군이 봉기하였다.
- ② 루거우차오 사건이 일어났다.
- ③ 동학 농민군이 전주성을 장악하였다.
- ④ 러시아군이 뤼순에서 기습 공격을 받았다.
- ⑤ 을사조약 체결에 반발하여 의병이 일어났다.

14. (가) 막부 시기의 동아시아 상황에 대한 설명으로 옳지 않은 것은? [3점]

이 목판화는 메기가 지진을 일으킨다고 믿는 민간신앙을 보여주는 작품입니다. 지진으로 많은 피해를 입은 무사와 조난은 지진에 대한 공포와 분노를 해소하고자 메기를 공격하는 모습을 담은 우키요에를 앞다투어 구매하였습니다. 그러나 지진 피해로 인해 격앙된 감정이 당국에 대한 비판으로 이어질까 두려워, (가) 막부는 사전에 출판을 허가받지 않은 것을 구실 삼아 제작자를 구속하고 목판을 압수하였습니다.



- ① 한국 - 내상이 왜관에서 교역하였다.
- ② 한국 - 판소리와 탈춤 등이 성행하였다.
- ③ 중국 - 원강 석굴의 대불이 조성되기 시작하였다.
- ④ 중국 - 강남에서 휘저우 상인이 소금을 판매하였다.
- ⑤ 일본 - 가부키와 분라쿠 등의 공연이 유행하였다.

15. 밑줄 친 ‘서한’이 작성된 당시에 동아시아에서 볼 수 있는 모습으로 가장 적절한 것은?

두 나라 사이 협의에 의한 관세율과 일방적인 영사 재판권을 규정한 조약에는 개정 가능 기간이 조약을 체결한 지 171개월 후부터로 명시되어 있었다. 개정 가능 기간의 시작이 이듬해로 다가오자, 워싱턴 주재 대장성 관리는 본국 정부 고관 몇 명에게 다음과 같은 서한을 보냈다. “조속히 뛰어난 관리를 전권 대사로 파견해 수교 관계, 무역, 관세 현황을 조사하고 미리 조약 개정에 대비해야 한다. ... (중략) ... 특명을 부여받은 전권 대사를 파견하는 목적은 구미 열강의 신뢰를 얻는 일이며 우리 정부가 지향하는 조약 개정의 의도를 그들에게 전하는 일이다.”

- ① 한국 - 여학교 설립을 청원하는 찬양회 회원
- ② 중국 - 닝보에서 상행위를 하는 외국 상인
- ③ 일본 - 도쿄 대학에 다니고 있는 학생
- ④ 일본 - 중의원에서 연설하는 정부 대신
- ⑤ 베트남 - 아주 화친회 동참을 권유받는 반제국주의 운동가

# 4 (동아시아사)

# 사회탐구 영역

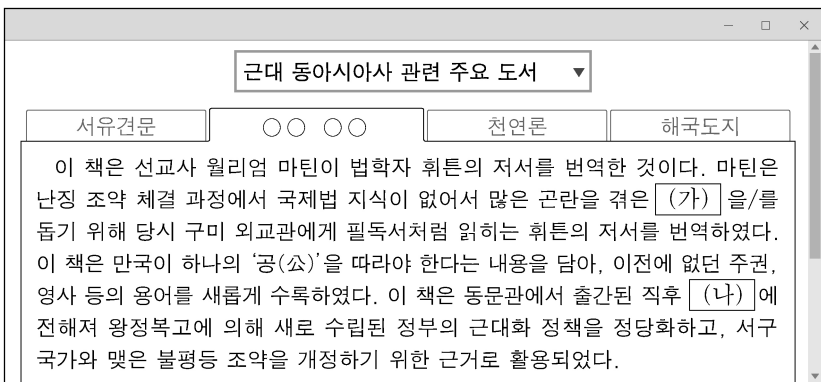
16. 밑줄 친 '지금' 이후 동아시아 상황으로 옳은 것은? [3점]

어제 민주진보당(이하 민진당)은 창당 20주년을 맞아 타이베이에서 기념행사를 거행하였다. 현 총통이자 전 민진당 주석인 천수이볜은 당내 원로 및 주요 인사들과 함께 참석하였다. 그는 축사에서 민진당이 20년 전과 같은 도덕과 용기를 바탕으로 부정부패 척결 등의 주요 현안을 신속히 해결해야 한다고 강조하였다. 그가 총통으로 선출되어 최초로 여야 정권 교체를 이룬 지 6년이 지난 지금, 민진당이 다시 도약할 수 있을지 귀추가 주목된다.

-○○일보-

- ① 한국 - 최초로 여야 간 평화적 정권 교체가 이루어졌다.
- ② 북한 - 외자 유치를 위한 합영법이 제정되었다.
- ③ 중국 - 류샤오치가 사회주의 경제 정책의 수정을 요구하였다.
- ④ 일본 - 민주당 정권이 출범하였다.
- ⑤ 베트남 - 파리 평화 협정에서 미군의 철수에 합의하였다.

17. (가), (나) 국가에 대한 설명으로 옳은 것만을 <보기>에서 고른 것은?



< 보 기 >

ㄱ. (가) - 흥정 헌법 대강을 제정하였다.  
 ㄴ. (가) - 워싱턴 회의로 해군 군비가 제한되었다.  
 ㄷ. (나) - 애치슨이 발표한 방위선 안에 포함되었다.  
 ㄹ. (나) - 베르사유 조약에 대한 조인을 거부하였다.

- ① ㄱ, ㄴ    ② ㄱ, ㄷ    ③ ㄴ, ㄷ    ④ ㄴ, ㄹ    ⑤ ㄷ, ㄹ

18. 다음 자료를 활용한 탐구 주제로 가장 적절한 것은?



- ① 55년 체제 성립의 배경
- ② 냉전의 완화와 국교 수립
- ③ 6월 민주 항쟁의 과정과 결과
- ④ 일본 거품 경제 붕괴와 장기 불황
- ⑤ 도이머이 정책의 실시와 주요 내용

19. (가), (나) 시기 사이에 동아시아에서 있었던 사실로 옳은 것은? [3점]

(가) 베트남의 통일을 위해 2년 내 총선거 실시가 결정되었지만, 미국의 지원을 받은 응오딘지엠은 이듬해 바오다이를 축출하기 위해 공화제와 군주제 중에서 하나를 선택하는 국민투표를 실시하였다. 그 결과 약 98%라는 압도적인 지지를 얻어 공화제가 결정되었다. 응오딘지엠은 3일 뒤 공화국 수립을 선포하였다.

(나) 북베트남의 군함이 미국 구축함을 향해 어뢰를 발사하였다는 미국 정부의 발표가 있는 후, 미국 의회는 베트남 전쟁 참전을 지지하는 결의안을 채택하였다. 이에 베트남과 이웃한 중국 내에서 미국이 중국마저 공격할지 모른다는 위기감이 고조되었다. 이 같은 위기감 속에 마오쩌둥은 당내 반대파를 축출하고 자신의 권력 기반을 공고히 하고자 문화 대혁명을 시작하였다.

- ① 극동 국제 군사 재판이 개최되었다.
- ② 일본에서 경찰 예비대가 창설되었다.
- ③ 베트남 사회주의 공화국이 수립되었다.
- ④ 남베트남 민족 해방 전선이 결성되었다.
- ⑤ 북한에서 주석제를 명시한 사회주의 헌법이 제정되었다.

20. (가), (나) 군대에 대한 설명으로 옳은 것은?

○ 대장 김원봉에 이어 주요 간부의 발표가 이어졌다. “성립 후 2년간 우리는 3·1 운동 20주년 기념식을 비롯하여 각종 선전 공작을 진행하였을 뿐만 아니라 결사대를 조직하여 선봉에 서기도 하였다. 현재 우리 (가) 이/가 결성된 한커우(우한)를 비롯하여 곳곳의 적 점령지에 산재한 조선인들이 우리에게 가담하기 위해 속속 탈출을 감행하고 있다.”

○ 미국 전략 정보국(OSS) 책임자 도노반이 “오늘부터 아메리카 합중국과 대한민국 임시 정부의 상호 협력하에 적에 항거하는 비밀공작이 시작된다.”라고 선언하였다. ... (중략) ... 임시 정부가 창설한 (나) 에서 뽑힌 대원들의 국내 잠입 준비는 완료되었고, 명령만 내리면 언제든지 출동할 수 있도록 대원들에게 특별 대기령이 내려졌다.

- ① (가) - 의열단 결성에 영향을 주었다.
- ② (가) - 국민 혁명군의 복벌에 참여하였다.
- ③ (나) - 태평양 전쟁 발발을 계기로 창설되었다.
- ④ (나) - 북만주에서 한중 연합 작전을 전개하였다.
- ⑤ (가)와 (나) - 중국 국민당 정부의 지원을 받았다.

\* 확인 사항

○ 답안지의 해당란에 필요한 내용을 정확히 기입(표기)했는지 확인 하시오.



2023학년도 대학수학능력시험

사회탐구 영역 정답표  
( 동아시아사 ) 과목

문항 번호	정 답	배 점	문항 번호	정 답	배 점	문항 번호	정 답	배 점	문항 번호	정 답	배 점
1	①	2	6	②	3	11	④	3	16	④	3
2	⑤	2	7	①	2	12	③	3	17	②	2
3	③	2	8	⑤	3	13	③	2	18	②	2
4	⑤	3	9	④	3	14	③	3	19	④	3
5	②	3	10	①	2	15	②	2	20	⑤	2

제 4 교시

사회탐구 영역(세계사)


성명

수험 번호

제 [ ] 선택

1. (가) 문명에 대한 설명으로 옳은 것은? [3점]

이 점토판은 히타이트의 왕 하투실리스 3세가 (가)의 신왕국 시대 파라오인 람세스 2세와 체결한 평화 조약의 내용을 담고 있습니다. 이 조약은 가장 오래된 평화 조약으로 알려져 있으며, 기원전 13세기경 지중해 동부의 패권을 다투었던 두 왕국의 관계 개선을 알려 주는 자료입니다. 이스탄불 고고학 박물관에 소장 중이며 평화의 중요성을 알리기 위해 복제품이 유엔 본부에 전시되어 있습니다.



- ① 파르테논 신전을 건립하였다.
- ② 함무라비 법전을 편찬하였다.
- ③ 태양력과 10진법을 사용하였다.
- ④ 크레타섬을 중심으로 발전하였다.
- ⑤ 하라파와 모헨조다로를 건설하였다.

2. (가) 왕조에서 있었던 사실로 옳은 것은? [3점]

사효가 무공현의 우물에서 “안한공이 황제가 되리라.”라는 부명\*이 적혀 있는 흰색 돌이 발견되었다고 상주하였다. 안한공은 황후 왕씨의 아버지였다. 당시 태후는 “이는 천하를 미혹하는 것이니 따를 수 없다.”라고 반대하였지만, 재상 왕순이 “일이 이렇게 된 이상 막으려 한들 막을 수 없습니다.”라고 하자 단념하였다. 얼마 후 안한공은 황제에 즉위하여 새 왕조를 개창하였다. 그러나 오래지 않아 이 왕조는 호족의 반발로 붕괴되었고, 뒤이어 (가)이 재건되어 위양을 도움으로 장기간 이어졌다.

\* 부명(符命): 제왕이 될 만한 사람에게 내리는 하늘의 징조나 명령

- ① 광수경이 수시력을 제작하였다.
- ② 공영달이 오경정의를 편찬하였다.
- ③ 도연명이 귀거래사를 창작하였다.
- ④ 채윤(륜)이 제지술을 개량하였다.
- ⑤ 장택단이 청명상하도를 완성하였다.

3. (가) 막부에 대한 설명으로 옳은 것은?

쇼군이 ‘가키쓰의 변’으로 피살된 후 (가)의 권위는 점차 실추되었다. 대규모 반란이 빈번해지면서 다이묘에 대한 통제도 약화되었다. 이후 호소카와 가쓰모토와 야마나 모치토요의 대립이 고조되었고 대란이 발발하였다. 교토는 주요 전장이 되어 큰 피해를 입었다. 이를 계기로 (가)의 정치적 영향력이 위축되었고 다이묘들이 패권을 다투는 상황이 한 세기가량 이어졌다.

- ① 헤이조쿄로 천도하였다.
- ② 원의 침입을 막아내었다.
- ③ 감합 무역을 전개하였다.
- ④ 다이카 개신을 추진하였다.
- ⑤ 메이지 유신을 단행하였다.

4. 밑줄 친 ‘그’의 재위 시기에 있었던 사실로 옳은 것은?

잉글랜드의 왕인 그는 의회를 해산하여 시민의 권리와 자유를 무너뜨렸을 뿐만 아니라 왕당파를 앞세워 시민을 억압하는 전쟁을 일으켰다. 이로 인해 요크, 에지힐, 네이즈비 등지에서 선량한 시민들이 다치고 사망하였으며, 공익·자유·정의 그리고 평화가 침해되었다. 전쟁에서 발생한 살인, 약탈, 방화 등을 비롯한 여러 실정(失政)이 명백한 유죄에 해당하므로 본 법정은 그에게 참수형을 선고한다.

- ① 명예혁명이 일어났다.
- ② 권리 청원이 제출되었다.
- ③ 차티스트 운동이 전개되었다.
- ④ 크롬웰이 호국경에 취임하였다.
- ⑤ 심사법과 인신 보호법이 제정되었다.

5. (가) 왕조에 대한 설명으로 옳은 것은? [3점]

(가)이가 비잔티움 제국과 동맹을 맺자, 칼리프 우마르는 먼저 아르무크 전투에서 비잔티움 제국의 군대를 궤멸시킨 후 병력을 총동원하여 메소포타미아로 보냈다. 이에 (가)은/는 까디시야 전투에서 코끼리 부대의 이점을 최대한 살려 반격하였으나, 결국 패전하였다. 이듬해 2개월에 걸친 공방전 끝에 수도 크테시폰이 함락되었으며, 샤한샤 야즈데게르드 3세는 동쪽으로 도주하였으나 후에 암살당하였다.

- ① 우르두어가 널리 사용되었다.
- ② 조로아스터교를 국교로 삼았다.
- ③ 이스마일 1세에 의해 건국되었다.
- ④ 투르·푸아티에 전투에서 패배하였다.
- ⑤ 키루스 2세가 원통에 칙령을 새겨 반포하였다.

## 2 (세계사)

## 사회탐구 영역

6. 밑줄 친 '이곳'에 대한 설명으로 옳은 것은?

**역사 속 수도 탐구 : ○○ 왕조 시기**



이곳의 도성 구조는 전통적인 수도의 구획과는 다른 모습을 보였다. 황제가 거주하는 궁성이 북쪽의 평지에 위치하던 이전의 형태와 달리 이례적으로 남쪽의 산 아래에 자리한 것이다. 이는 여진족에게 수도를 빼앗기고 남쪽으로 이주한 처지에서 외적 방어에 유리한 수도를 조성해야 했던 절박한 상황과 관련되어 있다. 이러한 배경에서 고종은 지리적 협소함과 불편함을 제기하는 사대부들의 반대에도 불구하고 이곳에 수도를 두었다.

〈○○ 왕조 시기 도성도〉


- ① 요의 지배 영역이었다.
- ② 해외 무역의 거점이었다.
- ③ 선비족 왕조의 새로운 수도였다.
- ④ 대운하 영제거의 북쪽 기점이었다.
- ⑤ 비단길(사막길)의 중간 기착지였다.

7. (가) 인물에 대한 설명으로 옳은 것은?

**〈갈레리우스 관용령〉**

우리 로마인들은 법규가 모두의 관습에 부합하고 공익을 위한 것이 되도록 노력해 왔다. 특히 자기 조상의 종교를 저버린 크리스티교도들도 올바른 생각으로 돌아오게 하는 것이 우리의 목표였다. …(중략)… 디오클레티아누스의 칙령이 선포된 이후, 크리스티교도 중 일부는 두려움에 굴복하였고, 또 일부는 위협을 감수하였다. 그럼에도 여전히 많은 크리스티교도가 이렇지도 저렇지도 못하고 있는 것이 현실이다. 따라서 우리는 늘 모든 사람에게 관대하게 대해 왔듯이, 그들에게 관용을 베푸는 것이 합당하다고 판단하였다.

이 관용령이 내려진 2년 후에 서방 황제 (가) 와/과 동방 황제 리키니우스는 크리스티교도는 물론 다른 사람에게도 종교의 자유를 인정하는 칙령을 내렸어요.



- ① 악티움 해전에서 승리하였다.
- ② 제1차 삼두 정치를 주도하였다.
- ③ 콘스탄티노폴리스로 천도하였다.
- ④ 크리스티교를 국교로 선포하였다.
- ⑤ 유스티니아누스 법전을 편찬하였다.

8. (가) 왕조에 대한 설명으로 옳은 것은? [3점]

이것은 '민중사보탑송'의 탁본입니다. 민중사는 고구려와의 전쟁에서 사망한 자들을 추모하기 위해 세워진 사원입니다. 이곳의 보탑에 새겨져 있던 '민중사보탑송'에는 (가)에 반란을 일으켰던 사사명이 황제에게 투항한 후 조정에 충성한다는 내용이 담겨 있습니다. 왼쪽의 글귀는 이를 잘 보여 주고 있습니다. 이후 사사명은 다시 (가)을/를 배반하였고 얼마 후 최후를 맞이하였습니다.

이 복된 땅을 받든다...  
어사대부 사사명은 충효를 다하고



- ① 육유를 반포하였다.
- ② 돌궐 세력을 제압하였다.
- ③ 구품중정제를 폐지하였다.
- ④ 왕안석의 신법을 시행하였다.
- ⑤ 흥건적의 난으로 쇠퇴하였다.

9. 다음 자료에 나타난 전쟁에 대한 탐구 활동으로 가장 적절한 것은? [3점]

이슬람력 588년 샤반월 22일, 술탄의 사절단이 평화 협정을 체결하기 위해 잉글랜드왕의 처소를 방문하였다. 병원 기사단과 성전 기사단 및 모든 프랑크인 지휘관들이 평화 협정에 동의하였다. 다음날 아침, 왕의 사절단은 술탄의 처소로 가서 정해진 원칙에 따라 협정을 체결하였다. 술탄은 이로써 예루살렘 순례길이 열렸음을 공표하였다. 하지만 그는 진정으로 협정을 원하는 것은 아니었다. 이슬람 군대가 지쳐서 프랑크인들과 벌여 온 싸움을 계속하는 것에 불복하려는 조짐이 있었기에, 전략상 협정 체결이 필요하다고 생각하였다.

- ① 파르티아의 멸망 요인을 분석한다.
- ② 농촌에서 콜로나투스가 확산된 원인을 파악한다.
- ③ 영국에서 노르만 왕조가 성립된 이유를 찾아본다.
- ④ 베르됭 조약과 메르센 조약의 체결 과정을 알아본다.
- ⑤ 지중해 지역의 원거리 무역과 상업 발전의 배경을 조사한다.

10. 밑줄 친 '이 왕조'에 대한 설명으로 옳은 것은?

동진의 구법승 법현은 장안을 출발해 중앙아시아를 거쳐 이 왕조의 땅을 밟게 되었다. 그는 여행기에서, "이 왕조는 곳곳에 무료 요양소와 치료소를 설치하고 활발한 빈민 구제 활동을 펼쳤다. 뿐만 아니라 학문이 크게 발달하였고 사람들도 매우 친절하였다."라고 격찬하였다. 그는 탁실라·푸르샤푸라(페샤와르)·부다가야 등 불교 성지를 순례하였고, 3년 동안 수도 파탈리푸트라에서 대중부(大衆部) 율장(律藏)을 필사하고 연구하는 일에 전념하다가 실론을 거쳐 무역선을 타고 귀국하였다.

- ① 쿠티브 미나르가 건설되었다.
- ② 간다라 미술 양식이 등장하였다.
- ③ 아소카왕이 산치 대탑을 조성하였다.
- ④ 에프탈의 침략으로 세력이 약화되었다.
- ⑤ 힌두교도들이 마라타 동맹을 결성하였다.

11. (가) 인물에 대한 설명으로 옳은 것은?

트라야누스 황제는 페르시아만에 도착하였다. 그리고 인도를 향해 출항하는 배를 바라보면서 이렇게 말하였다. “(가)은/는 페르시아 제국을 정복하고 인더스강까지 진출하였으니 얼마나 행운아인가! 나도 젊었다라면 분명히 인도에 갔을 텐데…….” 그러나 그는 자신이 (가)보다 더 멀리까지 원정하였노라고 선언하고 원로원에도 그렇게 알릴 셈이었다. 비록 그가 정복하였던 영토도 제대로 보전될 수 없었지만 말이다.

- 카시우스 디오, 『로마사』 -

- ① 이베리아반도를 정복하였다.
- ② 탈라스 전투에서 패배하였다.
- ③ 이소스 전투에서 승리하였다.
- ④ 펠로폰네소스 동맹을 주도하였다.
- ⑤ 카르타고를 비롯한 여러 도시를 건설하였다.

12. 밑줄 친 ㉠ 시기에 볼 수 있는 모습으로 가장 적절한 것은? [3점]

이달 초 파리의 임시 정부는 21세 이상의 남성에게 선거권을 부여하는 조치를 단행하였습니다. 저는 그 직후에 동료들과 임시 정부를 찾아 여성에게도 선거권을 부여하라고 청원하였지만 아무런 답을 듣지 못하고 있습니다. 우리 나라는 지난달 두 번째 공화정을 맞이하였음에도 불구하고 여전히 두 개의 자유, 평등, 우애가 존재하고 있습니다.

맞습니다. 그런데 우리 임시 정부뿐만 아니라 여러 신문도 여성 선거권에 침묵하고 있습니다. ㉠ 지난 18년간 여성의 자립과 권리 획득을 위해 들었던 저의 노력은 현재 침묵의 공모에 부딪혔습니다. 이제 우리가 창간한 「여성의 목소리(La Voix des Femmes)」를 통해 여성의 선거권을 지속적으로 요구하고 여성도 의회에 진출할 수 있도록 투쟁해야 합니다.



- ① 메테르니히의 연설을 경청하는 관료
- ② 데카브리스트의 봉기를 진압하는 군인
- ③ 국왕 제임스 1세에게 항의하는 의회 의원
- ④ 독립 선언문을 발표하는 북아메리카 식민지 대표
- ⑤ 단두대에서 처형되는 프랑스 국왕을 바라보는 농민

13. 다음 선언이 발표된 시기를 연표에서 옳게 고른 것은? [3점]

아제르바이잔, 아르메니아, 카자흐스탄, 키르기스스탄, 몰도바, 러시아 등은 국가 주권의 평등, 내정 불간섭, 분쟁의 평화적 해결, 소수 민족의 권리를 포함한 인권과 자유에 대한 존중, 영토 보전 등의 원칙 위에서 연합 창설에 관한 협정을 준수하며 다음과 같이 선언한다.

- 세계의 안전을 보장하기 위해 핵무기에 대한 일원적인 관리를 지속한다.
- 연합 회원국의 동의 아래 본 연합의 목적과 원칙을 인정하는 국가의 가입을 허용한다.

	(가)	(나)	(다)	(라)	(마)	
대서양 현장 발표	트루먼 독트린 발표	쿠바 미사일 위기 발생	닉슨 독트린 발표	고르바초프 집권 시작	세계 무역 기구 출범	

- ① (가)      ② (나)      ③ (다)      ④ (라)      ⑤ (마)

14. (가) 인물에 대한 설명으로 옳은 것은?



- ① 몽골 제국의 재건을 내세웠다.
- ② 이집트의 맘루크 왕조를 멸망시켰다.
- ③ 신성 로마 제국의 수도 빈을 공격하였다.
- ④ 아바스 왕조로부터 술탄의 지위를 인정받았다.
- ⑤ 바그다드를 점령하고 홀라구 울루스를 세웠다.

15. (가), (나) 국가에 대한 설명으로 옳은 것은? [3점]

미술로 보는 세계사

이 그림은 칼레 인근 그라블린에서 벌어진 전투를 그린 것이다. 교황과 왕실의 깃발을 단 (가) 함대의 일부가 (나) 함대의 기습 공격으로 침몰하고 있는 모습이 보인다. 당시 (가)의 가톨릭 강요 정책에 저항하였던 네덜란드는 (나)와/과 연합 함대를 형성하였다. 여왕이 발탁한 드레이크도 이 기습 공격의 성공에 일조하였다.

- ① (가) - 피사로를 앞세워 식민지를 개척하였다.
- ② (가) - 바스쿠 다 가마의 인도 항로 개척을 지원하였다.
- ③ (나) - 오스트리아로부터 슐레지엔을 확보하였다.
- ④ (나) - 프랑스의 지원 아래 요크타운 전투에서 승리하였다.
- ⑤ (가)와 (나) - 폴란드를 분할 점령하였다.

# 4 (세계사)

# 사회탐구 영역

16. (가) 국가에 대한 설명으로 옳은 것은?

(가) 은/는 중앙아프리카 지역에서 대서양과 인도양에 이르는 식민 제국 건설 계획을 수립하였다. 만약 이 계획이 실현될 경우 벨기에는 콩고 지역을 상실할 위기에 봉착할 수 있었다. 하지만 국제 정세의 변화로 (가) 이/가 차지하고 있던 동아프리카의 루안다-우룬디, 케냐 이남의 탕가니카, 그리고 모잠비크 북부의 키웅가 삼각 지대 등이 벨기에, 영국 등에게 사실상 넘겨지면서, 그 계획은 무산되었다. 이는 결과적으로 영국의 아프리카 지배에도 '새로운 길'을 열어 주었다. 카이로와 케이프타운을 연결하는 과정에서 '누락되었던 고리'를 확보하게 된 영국은 이로써 아프리카의 남북을 관통하는 철도를 완성할 수 있게 되었다.

- ① 제1차 세계 대전 중 제정이 무너졌다.
- ② 마카오를 식민지로 삼아 교역 거점으로 만들었다.
- ③ 아도와 전투에서 메넬리크 2세의 군대에 패배하였다.
- ④ 무함마드 알리에게 이집트에 대한 통치권을 위임하였다.
- ⑤ 베르사유 조약에 따라 자르 유역의 탄광 지대를 넘겨받았다.

17. 밑줄 친 ㉠ 시기에 있었던 사실로 옳은 것은? [3점]

○○ TIMES ○○○○년 ○○월 ○○일

**이탈리아를 우리 품으로!**

우리는 이탈리아가 자유의 역사에서 영광스러운 장을 쓴 지 1세기도 채 되지 않았다는 점을 잊곤 합니다. 저는 이탈리아 국민들이 말하는 '리소르지멘토'\*를 이야기하고 있는 것입니다. 이탈리아는 그 위대한 시기에 통일되었고 이탈리아 국민들은 개인의 자유를 성취하였습니다.

어제 이탈리아는 항복을 선언하였습니다. 이탈리아 국민들은 이제 영광스럽게 성취했던 자유를 재현하고 회복해 나갈 것입니다. 비록 독일은 여전히 유럽 전역에서 우리들을 위협하고 있지만 붉은 군대의 희생 속에 전황이 바뀌고 있습니다.

㉠ 지난 2년 동안 독일을 저지하기 위해 겪었던 소련의 희생을 이제부터는 독일이 치러야 할 것입니다.

\* 리소르지멘토(Risorgimento): '부흥'이라는 뜻의 이탈리아어로 이탈리아의 통일과 독립운동을 지칭함.

- ① 독일이 오스트리아를 합병하였다.
- ② 노르망디 상륙 작전이 전개되었다.
- ③ 미드웨이 해전에서 일본이 패배하였다.
- ④ 독일과 소련이 불가침 조약을 체결하였다.
- ⑤ 영국과 프랑스가 독일에 선전 포고를 하였다.

18. (가), (나) 국가에 대한 설명으로 옳은 것은?

미국, 영국, (가) 은/는 서베를린과 서부 지역 사이의 교통, 통신을 제한한 우리 (나) 의 조치가 서베를린 주민에 대한 물자 공급을 가로 막는다고 항의합니다. 그러나 우리는 세 국가가 자신들의 관할 지역에만 새로운 통화를 도입한 것에 대응하여 주민의 경제를 보호하기 위한 긴급 조치를 취한 것입니다. 서베를린과 서부 지역에서만 별도로 진행된 통화 개혁으로 인해서 베를린은 물론 우리의 관할 지역인 동부 전체는 서부 지역에서 가치를 잃은 통화가 대거 유입될 위협에 직면하였습니다.

- ① (가) - 바르샤바 조약 기구[WTO]를 창설하였다.
- ② (가) - 대공황을 극복하고자 프랑 블록을 형성하였다.
- ③ (나) - 빌리 브란트를 중심으로 동방 정책을 추진하였다.
- ④ (나) - 유럽의 경제 재건을 위한 마셜 계획을 마련하였다.
- ⑤ (가)와 (나) - 카이로 회담에서 제2차 세계 대전 이후의 국제 관계를 논의하였다.

19. (가)에 들어갈 내용으로 가장 적절한 것은? [3점]

여러분은 어느 영국 장교의 주요 행적을 시간순(①~⑤)으로 보고 있습니다. 이를 통해 제국주의 열강의 침략과 외교 정책을 잘 이해할 수 있습니다.

① 크림 전쟁에 참전하여 세바스토폴 전투 중 한쪽 눈에 부상을 입음.

② 세포이 항쟁 발생 직후 인도로 파견되어 2년간 진압에 전공을 세워 진급함. 그리고 애로호 사건으로 촉발된 전쟁이 진행 중인 중국에 파견 명령을 받음.

③ (가)

④ 내전 중인 미국에서 남부 지지자들과 우호적인 관계를 유지하며 남부 연합군 총사령관을 만남.

⑤ 이집트에서 아라비 파샤의 항쟁을 진압한 후 마흐디 운동이 일어난 수단으로 파견 명령을 받음.

- ① 5·4 운동에 참여한 시위대를 목격함.
- ② 신축조약의 체결에 따라 주둔군으로 배치됨.
- ③ 위안스카이의 임시 대총통 취임식에 초대를 받음.
- ④ 광서제의 신임으로 개혁을 추진하는 량치차오를 만남.
- ⑤ 프랑스와의 연합군으로 참전하여 베이징 조약 체결에 참가함.

20. (가), (나) 국가 사이의 관계에 대한 설명으로 옳은 것은?

○○○○년 ○○월 ○○일 포트사이드에서

오후에 주민들로부터 (가) 이/가 흑해와 발트해에 주둔 중인 주력 함대를 동아시아의 전장으로 출진시킬 것이라는 소식을 들었다. (가) 의 팽창을 경계하는 영국이 과연 이 함대가 수에즈 운하를 통과하도록 허락할 것인지 귀추가 주목된다.

〈포트사이드항에서 바라본 오로라호〉

○○○○년 △△월 △△일 홍콩에서

이곳은 (가) 와/과 전쟁 중인 (나) (으)로 보내는 군수 물자를 선적하느라 분주하다. 이번 전쟁이 점차 치열해지고 있음을 느낀다. 타이완으로 출발하게 될 우리의 아르테미시아호에도 쌀을 비롯한 화물이 가득 실리고 있다. 타이완은 10년 전쯤에 (나) 의 지배에 들어간 곳이다.

- ① 삼국 간섭으로 대립하였다.
- ② 추축국 동맹을 결성하였다.
- ③ 네르친스크 조약을 체결하였다.
- ④ 필리핀 지배를 두고 전쟁을 벌였다.
- ⑤ 반동 회의에서 평화 10원칙에 합의하였다.

**\* 확인 사항**

○ 답안지의 해당란에 필요한 내용을 정확히 기입(표기)했는지 확인 하시오.

2023학년도 대학수학능력시험

사회탐구 영역 정답표  
( 세계사 ) 과목

문항 번호	정 답	배 점	문항 번호	정 답	배 점	문항 번호	정 답	배 점	문항 번호	정 답	배 점
1	③	3	6	②	2	11	③	2	16	①	2
2	④	3	7	③	2	12	①	3	17	③	3
3	③	2	8	②	3	13	⑤	3	18	②	2
4	②	2	9	⑤	3	14	①	2	19	⑤	3
5	②	3	10	④	2	15	①	3	20	①	2

제 4 교시

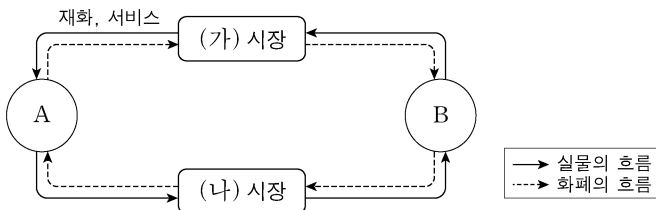
사회탐구 영역(경제)

성명

수험 번호

제 [ ] 선택

1. 그림은 민간 경제의 순환을 나타낸다. 이에 대한 설명으로 옳은 것은? (단, A, B는 각각 가게, 기업 중 하나임.) [3점]



- ① A는 생산의 주체이다.
- ② B는 이윤 극대화를 추구한다.
- ③ (가) 시장에서 A는 공급자이다.
- ④ (나) 시장은 생산물 시장이다.
- ⑤ (나) 시장에서 B는 임금과 이자를 받는다.

2. 그림에 대한 설명으로 옳은 것은? (단, A, B는 각각 계획 경제 체제, 시장 경제 체제 중 하나임.)

〈형성 평가지〉

**경제 체제의 특징 서술하기** 이름 : ○○○

○문항 : A와 구별되는 B의 특징을 2가지 서술하시오.  
(서술 내용 1개당 옳으면 1점, 틀리면 0점)

답란	채점 결과
가격 기구의 기능을 중요시한다. (가)	2점

- ① A에서는 희소성에 의한 경제 문제가 발생하지 않는다.
- ② B에서는 개별 경제 주체의 자유로운 의사 결정이 보장된다.
- ③ A에서는 B와 달리 자원 배분의 효율성이 강조된다.
- ④ A와 B에서는 모두 사유 재산권이 보장된다.
- ⑤ (가)에는 '생산물의 종류와 수량을 정부가 결정한다.'가 들어갈 수 있다.

3. 표는 갑국의 2020년, 2021년 경상 수지를 항목별로 나타낸다. 이에 대한 분석으로 옳은 것은? [3점]

(단위: 억 달러)

구분	2020년	2021년
상품 수지	40	-30
서비스 수지	-5	10
(가)	20	10
이전 소득 수지	10	-5

- ① (가)에는 해외 지식 재산권 사용료가 포함된다.
- ② 2020년 갑국 거주 국민의 해외 기업 주식 투자액이 포함되는 항목은 흑자이다.
- ③ 2021년 경상 수지는 갑국의 통화량 증가 요인이다.
- ④ 2021년 상품 수출액은 2020년보다 적다.
- ⑤ 해외 기부금이 포함되는 항목은 2020년과 달리 2021년에 적자이다.

4. 그림은 갑의 8월, 9월 모든 수입과 지출을 나타낸다. 이에 대한 설명으로 옳은 것은? (단, 제시된 자료 외에 다른 요소는 고려하지 않음.)

8월		9월	
수입	450만 원	수입	700만 원
월급	400만 원	월급	400만 원
주식 배당금	50만 원	명절 상여금	275만 원
지출	300만 원	복권 당첨금	25만 원
생활용품비	50만 원	지출	400만 원
식비	150만 원	생활용품비	90만 원
여행 경비	50만 원	식비	210만 원
대출 이자	50만 원	재산세	50만 원
		대출 이자	50만 원

- ① 8월의 재산 소득은 50만 원이다.
- ② 9월의 이전 소득은 25만 원이다.
- ③ 9월의 근로 소득은 700만 원이다.
- ④ 비소비 지출은 8월과 9월이 같다.
- ⑤ 비경상 소득은 8월이 9월의 2배이다.

5. 밑줄 친 ㉠~㉣ 가치의 당해 연도 GDP 포함 여부에 대한 판단으로 옳은 것은? [3점]



- |       |     |     |     |
|-------|-----|-----|-----|
| ㉠     | ㉡   | ㉢   | ㉣   |
| ① 포함  | 포함  | 미포함 | 미포함 |
| ② 포함  | 미포함 | 미포함 | 포함  |
| ③ 미포함 | 포함  | 포함  | 포함  |
| ④ 미포함 | 포함  | 포함  | 미포함 |
| ⑤ 미포함 | 미포함 | 포함  | 포함  |

## 2 (경제)

## 사회탐구 영역

6. 다음 자료에 대한 분석 및 추론으로 옳은 것은?

갑은 상품 A~C 중 하나를 기회비용과 편익만을 고려하여 합리적으로 선택하려고 한다.

- 상품 A: X재와 Y재 각 1개
- 상품 B: X재와 Z재 각 1개
- 상품 C: Y재와 Z재 각 1개

표는 X재~Z재 1개 선택에 대한 갑의 편익과 각 재화의 가격을 나타낸다. 단, 각 상품 선택에 따른 편익과 가격은 상품을 구성하는 해당 재화의 편익과 가격의 합이다.

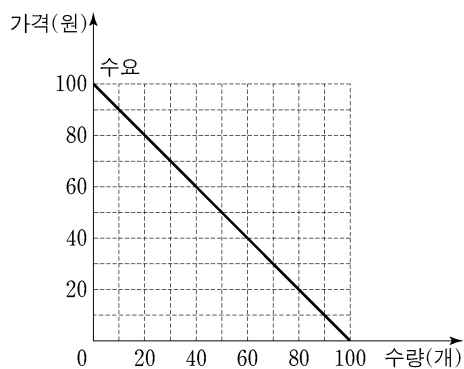
구분	편익(원)	가격(원)
X재	10,000	㉠ 7,000
Y재	15,000	8,000
Z재	12,000	6,000

- ① 각 상품 선택의 명시적 비용은 모두 같다.
- ② 상품 B 선택의 순편익이 가장 크다.
- ③ 상품 A 선택의 암묵적 비용은 상품 C 선택의 암묵적 비용과 같다.
- ④ 상품 C 선택의 기회비용은 상품 B 선택의 기회비용보다 크다.
- ⑤ ㉠이 '6,000'으로 변동해도 갑의 선택에는 변함이 없다.

7. 다음 자료에 대한 옳은 분석 및 추론만을 <보기>에서 고른 것은? [3점]

<자료 1>은 X재 시장의 수요를 나타내고, <자료 2>는 X재 1개에 대한 최소 요구 금액별 공급자 수를 나타낸다.

<자료 1>



<자료 2>

최소 요구 금액(원)	30	50	70	90
공급자 수(명)	20	20	10	20

\* X재 시장의 공급자 수는 70명이고, 각 공급자는 X재를 1개만 공급함.

<보 기>

- ㄱ. 균형 가격은 50원이다.
- ㄴ. 균형에서 판매 수입은 2,400원이다.
- ㄷ. 생산자에게 X재 1개당 10원의 세금을 부과하면 균형 거래량은 감소한다.
- ㄹ. 소비자에게 X재 1개당 20원의 보조금을 지급하면 균형 가격은 10원 상승한다.

- ① ㄱ, ㄴ    ② ㄱ, ㄷ    ③ ㄴ, ㄷ    ④ ㄴ, ㄹ    ⑤ ㄷ, ㄹ

8. 다음 자료에 대한 분석으로 옳은 것은?

갑국 정부는 시장 균형에서 거래되고 있는 X재 시장에 실효성 있는 가격 규제 정책 (가) 또는 (나)의 시행을 고려하고 있다. 표는 (가) 또는 (나)를 시행할 경우의 시장 상황을 나타낸다. 단, 수요와 공급 곡선은 모두 직선이다.

정책	규제 가격(달러)	시장 거래량(개)	초과 수요량(개)
(가)	2	2	6
(나)	5	2	-3

\* 초과 수요량 = 수요량 - 공급량

- ① 균형 가격은 4달러이다.
- ② 균형 거래량은 3개이다.
- ③ (가)는 공급자의 이익 보호를 목적으로 한다.
- ④ (나)를 시행할 경우 공급량은 2개 증가한다.
- ⑤ (가)를 시행할 경우의 수요량은 (나)를 시행할 경우의 공급량보다 적다.

9. 다음 자료에 대한 분석 및 추론으로 옳은 것은?

A 기업은 노동과 자본만을 이용하여 X재를 생산한다. 표는 생산 방법 (가)~(다)에 따른 X재 1개당 생산 요소의 투입량을 나타낸다. 단, A 기업은 X재 1개당 생산 비용을 최소화하는 생산 방법을 선택한다.

생산 방법	X재 1개당 생산 요소의 투입량
(가)	노동 2단위와 자본 6단위
(나)	노동 3단위와 자본 3단위
(다)	노동 6단위와 자본 2단위

- ① 노동 1단위 가격과 자본 1단위 가격이 같다면 (다)를 선택한다.
- ② 노동 1단위 가격이 자본 1단위 가격의 2배라면 (가)를 선택한다.
- ③ 노동 1단위 가격과 자본 1단위 가격이 1만 원으로 같다면, 총생산 비용으로 120만 원이 투입될 때 20개가 생산된다.
- ④ 자본 1단위 가격이 노동 1단위 가격의 2배라면, 총생산 비용에서 노동에 투입된 비용이 차지하는 비율은 2/3이다.
- ⑤ (나)를 선택했다면 노동 1단위 가격은 자본 1단위 가격의 3배보다 크다.

10. 다음 자료에 대한 분석 및 추론으로 옳은 것은? [3점]

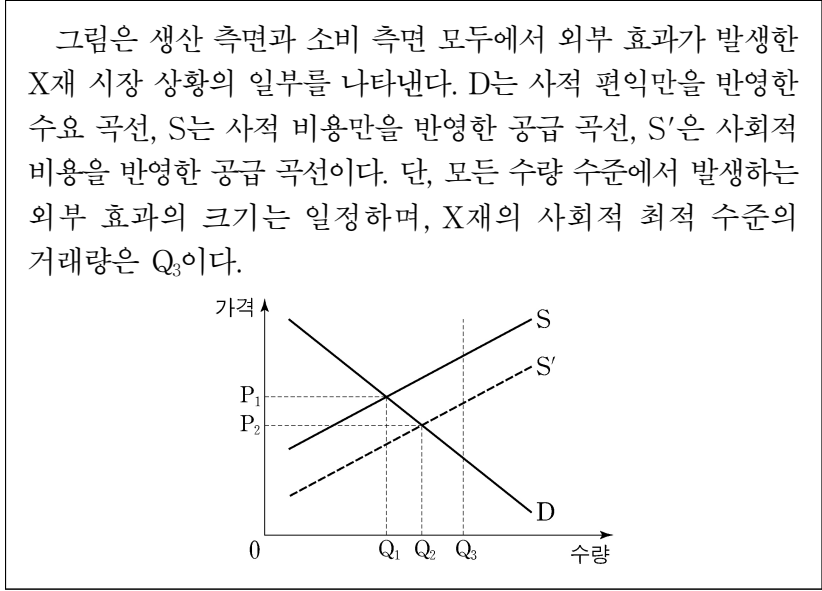
A 기업은 X재 시장에서 유일한 공급자이고 이윤을 극대화하는 수준에서 생산량을 결정한다. 표는 X재 생산량에 따른 총수입과 총비용을 나타낸다. 단, A 기업은 X재를 1개씩 6개까지 생산할 수 있고, 생산된 X재는 모두 판매된다.

생산량(개)	1	2	3	4	5	6
총수입(원)	140	240	300	320	300	240
총비용(원)	10	30	60	100	150	210

- ① 생산량이 3개에서 4개로 늘어날 때 시장 가격은 20원 상승한다.
- ② 이윤을 극대화하는 생산량은 5개이다.
- ③ 가격이 120원일 때 이윤이 극대화된다.
- ④ 이윤이 극대화될 때 소비자 잉여는 120원이다.
- ⑤ 60원에서 가격 상한이 시행된다면 소비자 잉여와 이윤의 합은 증가한다.



11. 다음 자료에 대한 설명으로 옳은 것은? [3점]



- ① 시장 판매 수입은  $P_2Q_2$ 이다.
- ② 생산 측면에서 부정적 외부 효과가 발생하였다.
- ③ X재 소비의 사회적 편익이 사적 편익보다 크다.
- ④ 생산자에게 X재 1단위당  $P_1P_2$ 만큼의 보조금을 지급하면 사회적 최적 수준의 거래량이 달성된다.
- ⑤ X재 시장의 사례로 '환경에 유해한 플라스틱의 소비 및 생산 문제'를 들 수 있다.

12. 다음 자료에 대한 분석 및 추론으로 옳은 것은?

X재와 Y재만을 생산하여 소비하는 갑국과 을국은 비교 우위를 갖는 재화에만 특화하여 양국 모두 이익이 발생하는 범위 내에서 교역한다. 갑국은 Y재 생산, 을국은 X재 생산에 비교 우위를 가지며, 양국의 교역에 따른 소비량은 표와 같다. 단, 교역은 거래 비용 없이 양국 간에만 이루어지고, X재와 Y재의 생산 가능 곡선은 직선이며 생산된 재화는 모두 소비된다.

구분	X재 소비량(개)	Y재 소비량(개)
갑국	5	20
을국	15	10

- ① 갑국은 Y재에 특화하여 25개를 생산한다.
- ② 양국 간 X재와 Y재의 교환 비율은 2:1이다.
- ③ 갑국의 X재 최대 생산 가능량은 15개보다 적다.
- ④ 을국의 Y재 1개 생산의 기회비용은 X재 1/2개보다 작다.
- ⑤ 을국의 X재 1개 소비의 기회비용이 교역 전의 4배라면, 을국의 Y재 최대 생산 가능량은 15개이다.

13. 표는 금융 상품의 일반적인 특징에 대한 질문과 학생의 답변을 나타낸다. 모두 옳게 답변한 학생은?

(예: ○, 아니요: ×)

질문	학생의 답변				
	갑	을	병	정	무
요구불 예금은 예금자 보호 제도의 적용을 받는가?	○	×	○	○	×
주식은 이자 소득을 기대할 수 있는가?	×	○	○	×	○
채권은 시세 차익을 기대할 수 있는가?	○	○	×	×	×
펀드는 직접 투자 상품에 해당하는가?	×	×	○	×	○

- ① 갑      ② 을      ③ 병      ④ 정      ⑤ 무

14. 다음 자료에 대한 옳은 분석 및 추론만을 <보기>에서 고른 것은? [3점]

갑은 t 시점에 투자 방법 (가)~(다) 중 하나를 선택하여 원화 1,000만 원을 1년간 투자하려고 한다. 단, 세금이나 수수료 등 거래 비용은 없다.

(가): 달러화 매입  
 (나): 달러화로 환전하여 미국 주식 S를 매입  
 (다): t+1년 시점에 원/달러 환율이 10% 이상 상승 또는 하락하면 원금의 90%만을 돌려주고, 그렇지 않다면 원금과 연 15%의 이자를 지급하는 원화 펀드 매입

<보 기>

ㄱ. t+1년 시점에 원/달러 환율이 12% 하락한다면, (가)에 따른 원화 표시 자산은 (다)보다 작다.  
 ㄴ. t+1년 시점에 원/달러 환율이 10% 하락한다면, (가)에 따른 달러화 표시 자산은 (다)보다 크다.  
 ㄷ. t+1년 시점에 원/달러 환율이 10% 하락하고 주식 S의 가격이 10% 상승한다면, (나)에 따른 원화 표시 수익률은 음(-)의 값이다.  
 ㄹ. t+1년 시점에 원/달러 환율이 8% 상승하고 주식 S의 가격이 7% 상승한다면, 갑이 (다)를 선택할 때 원화 표시 자산이 극대화된다.

- ① ㄱ, ㄴ    ② ㄱ, ㄷ    ③ ㄴ, ㄷ    ④ ㄴ, ㄹ    ⑤ ㄷ, ㄹ

15. 다음 자료에 대한 분석으로 옳은 것은?

그림은 국제 가격 10달러에 X재를 수입하고 있는 갑국의 시장 상황을 나타낸다. 갑국 정부는 국내 X재 생산자를 보호하기 위해 정책 (가)~(다) 중 하나를 시행하려고 한다. 단, 국제 가격은 정책 시행 후에도 변하지 않는다.

(가): 수입되는 X재 1개당 관세 20달러 부과  
 (나): X재 수입량이 국내 생산량의 50%를 넘지 않도록 제한  
 (다): (가)와 (나)를 모두 시행

- ① (가)의 경우 관세 수입은 1,200달러이다.
- ② (나)의 경우 수입량은 15개이다.
- ③ (다)의 경우 국내 가격은 30달러이다.
- ④ (나)의 경우 국내 생산량은 (가)보다 많다.
- ⑤ (다)의 경우 국내 소비량은 (나)보다 적다.

16. 다음 자료에 대한 분석으로 옳은 것은? [3점]

표는 갑국 전체를 A~C 지역으로 구분하여 조사한 고용 관련 자료를 나타낸다. 갑국의 15세 이상 인구는 1,000만 명이며, A 지역의 15세 이상 인구는 B 지역과 C 지역의 15세 이상 인구를 합한 수보다 200만 명 적고, B 지역의 15세 이상 인구는 C 지역의 15세 이상 인구보다 100만 명 많다.

구분	비경제 활동 인구(만 명)	실업률(%)
A 지역	150	20
B 지역	100	40
C 지역	50	25

\* 각 지역별 실업률 등 고용 지표는 해당 지역의 고용 관련 인구를 기준으로 산출함.

- ① 전체 실업률은 40%보다 높다.
- ② 전체 경제 활동 참가율은 75%이다.
- ③ A 지역의 실업자 수가 가장 많다.
- ④ C 지역의 취업자 수는 B 지역보다 많다.
- ⑤ 고용률이 갑국 전체보다 높은 지역은 C 지역뿐이다.

17. 표는 갑국의 연도별 GDP 디플레이터를 나타낸다. 이에 대한 분석 및 추론으로 옳은 것은? (단, 물가 수준은 GDP 디플레이터로 측정함.)

구분	2018년	2019년	2020년	2021년
GDP 디플레이터	90	100	150	120

- ① 2018년도 실질 GDP는 명목 GDP보다 작다.
- ② 2019년의 물가 수준은 기준 연도와 같다.
- ③ 2020년 대비 2021년의 물가 상승률은 -30%이다.
- ④ 2018년과 2019년의 실질 GDP가 같다면 명목 GDP는 2019년이 2018년보다 작다.
- ⑤ 모든 연도의 명목 GDP가 같다면 갑국의 경제 규모는 지속적으로 증가한다.

18. 그림에 대한 설명으로 옳은 것은? (단, (가), (나)는 각각 총수요, 총공급 중 하나이며, 총수요 곡선은 우하향하고 총공급 곡선은 우상향함.) [3점]

나뉜 준 변동 요인 카드를 모두 정확히 구분해서 붙였네요.

○ 학습 활동: 총수요, 총공급 변동 요인 구분하기

(가)의 변동 요인

- ㉠ 원자재 가격 상승
- ㉡ 생산 기술 향상

(나)의 변동 요인

- ㉢ 순수출 감소
- ㉣ 투자 지출 증가
- ㉤ 소비 지출 감소

- ① (가)는 총수요, (나)는 총공급이다.
- ② ㉠은 (가)의 증가 요인이다.
- ③ ㉡은 비용 인상 인플레이션의 발생 요인이다.
- ④ ㉢은 디플레이션의 발생 요인이다.
- ⑤ ㉣과 ㉤은 모두 실질 GDP의 감소 요인이다.

19. 다음 자료에 대한 분석으로 옳은 것은?

<자료 1>은 원화를 사용하는 갑국의 외환 시장에서 A 기간과 B 기간에 수요와 공급이 모두 변동하여 나타난 결과이고, <자료 2>는 <자료 1>에 나타난 결과의 요인을 기간별로 분석한 것이다. 단, 갑국의 외환 시장은 수요와 공급 법칙을 따르고, 각 기간에 수요와 공급의 변동 요인은 각각 하나이다.

<자료 1>

<자료 2>

구분	수요 변동 요인	공급 변동 요인
A 기간	(가)	(나)
B 기간	갑국 국민의 미국 여행 감소	(다)

- ① A 기간의 환율 변화는 갑국으로 여행 오는 미국인의 여행 경비 부담을 증가시키는 요인이다.
- ② B 기간의 환율 변화는 갑국 기업의 달러 표시 외채 상환 부담을 증가시키는 요인이다.
- ③ (가)에는 '갑국 기업의 미국산 상품 수입 증가'가 들어갈 수 있다.
- ④ (나)에는 '미국인의 갑국 채권 구입 증가'가 들어갈 수 있다.
- ⑤ (다)에는 '갑국 상품의 대미 수출 감소'가 들어갈 수 있다.

20. 다음 자료에 대한 분석으로 옳은 것은? [3점]

표는 갑국~병국의 GDP를 측정하기 위한 생산 측면과 지출 측면의 경제 활동을 나타낸다. 갑국은 X재만을, 을국은 Y재만을, 병국은 Z재만을 생산한다. 갑국에서 생산된 X재 중 일부는 국내에서 판매되고 나머지는 을국과 병국에 수출되어 Y재와 Z재의 유일한 원료로 전량 사용된다. 교역에 따른 거래 비용은 없으며, 교역은 갑국과 을국, 갑국과 병국 간에만 이루어진다.

(단위: 억 달러)

구분		갑국	을국	병국
생산 측면	생산액	1,000	2,000	2,100
	부가 가치	1,000	1,500	㉠
지출 측면	소비 지출	600	650	700
	투자 지출	400	500	600
	정부 지출	200	250	400
	순수출			

- ① ㉠은 2,000이다.
- ② 갑국에서 생산된 X재의 20%는 국내에서 판매된다.
- ③ 을국의 Y재 수출액은 500억 달러이다.
- ④ 을국에서 GDP 대비 X재 수입액의 비율은 25%이다.
- ⑤ 병국의 Z재 수출액은 100억 달러이다.

\* 확인 사항  
○ 답안지의 해당란에 필요한 내용을 정확히 기입(표기)했는지 확인 하시오.

2023학년도 대학수학능력시험

사회탐구 영역 정답표  
( 경제 ) 과목

문항 번호	정 답	배 점	문항 번호	정 답	배 점	문항 번호	정 답	배 점	문항 번호	정 답	배 점
1	②	3	6	⑤	2	11	③	3	16	⑤	3
2	②	2	7	④	3	12	③	2	17	②	2
3	⑤	3	8	①	2	13	①	2	18	⑤	3
4	①	2	9	③	2	14	②	3	19	③	2
5	④	3	10	⑤	3	15	④	2	20	②	3

제 4 교시

사회탐구 영역 (정치와 법)

성명

수험 번호

제 [ ] 선택

1. 정치를 바라보는 갑, 을의 관점에 대한 설명으로 옳은 것은?



○○고등학교 학생회가 학교 축제 운영을 둘러싼 갈등을 해결하는 합리적 방안 모색을 위해 토론회를 개최하는 활동을 정치라고 볼 수 있을까요?

교사

정치라고 볼 수 없습니다. 정치란 국가 수준에서 나타나는 특유의 현상으로 국가의 권력적 행위를 의미하기 때문입니다.



갑

정치라고 볼 수 있습니다. 정치는 모든 사회 집단에서 갈등을 조정하고 해결해 나가는 활동이기 때문입니다.



을

- ① 갑의 관점은 국가의 의사 결정 활동과 국가 이외 사회 집단의 의사 결정 활동을 모두 정치라고 본다.
- ② 을의 관점은 사회 집단 내에서 권력이 형성·분배되는 과정을 정치라고 보지 않는다.
- ③ 갑의 관점과 달리 을의 관점은 국가의 공권력 행사를 통한 사회 질서 유지와 갈등 해결 과정을 정치라고 본다.
- ④ 을의 관점에 비해 갑의 관점은 한정된 자원 배분과 관련된 갈등 해결 과정에 참여하는 정치 주체가 더 다양하다고 본다.
- ⑤ 갑의 관점과 을의 관점 모두 정부가 소상공인 지원을 위해 긴급하게 예산을 편성하여 집행하는 활동을 정치라고 본다.

2. 정치 참여 집단 A~C에 대한 설명으로 옳은 것은? (단, A~C는 각각 정당, 이익 집단, 시민 단체 중 하나임.) [3점]

공익 추구를 목적으로 결성된 A는 시민의 다양한 요구를 수렴하여 정책을 제안함으로써 B의 공약 수립에 영향을 줄 수 있다. B는 공직 선거에서 시민의 선택을 받아 공약을 정책으로 실현하고자 하며, C는 자신의 특수 이익을 추구하는 과정에서 공익과 충돌하는 공약을 B에게 요구하기도 한다.

- ① A는 정권 획득을 위해 정책적 대안을 제시한다.
- ② B는 정치 과정에서 정책 집행의 주체인 국가 기관이다.
- ③ A와 달리 B는 사회적 쟁점에 대한 여론을 형성한다.
- ④ B와 달리 C는 자신의 활동에 대해 정치적 책임을 진다.
- ⑤ A와 C 모두 정부 정책에 대한 감시와 비판의 기능을 수행한다.

3. 법치주의를 바라보는 관점 A, B에 대한 설명으로 옳은 것은?

A는 국가 권력 작용의 근거가 되는 법률이 합법적 절차에 따라 제정되었다면 그 내용과 관계없이 정당하다고 본다. 반면 B는 법률이 절차적 합법성을 갖추어야 할 뿐만 아니라 실질적 정의에도 부합해야 한다고 본다.

- ① A는 합법적 절차를 거쳐 제정된 법률일지라도 시민의 권리를 침해할 수 있다는 점을 간과한다.
- ② B는 법률이 헌법적 가치에 부합하는지 여부를 심사하는 제도를 인정하지 않는다.
- ③ A와 달리 B는 국가 기관의 구성과 운영이 의회가 미리 제정한 법률에 근거해야 한다고 본다.
- ④ B와 달리 A는 국가 권력으로부터 시민의 기본권을 보장하는 것을 목적으로 한다.
- ⑤ A와 B 모두 행정 작용과 달리 입법 작용과 사법 작용은 법률에 근거를 두어야 한다고 본다.

4. 우리나라 헌법의 기본 원리 A, B에 대한 설명으로 가장 적절한 것은? [3점]

우리 헌법은 침략적 전쟁을 부인하며 국제법을 존중한다고 규정하고 있는데 이는 A를 구현하기 위한 것이다. 우리나라가 가입한 '경제적·사회적 및 문화적 권리에 관한 국제 규약'은 당사국으로 하여금 모든 사람이 적당한 생활 수준을 누릴 권리를 인정하도록 하고 있다. 이 협약이 국내법과 같은 효력을 갖는 것은 헌법상 국제법 존중주의에 부합할 뿐만 아니라 국민의 인간다운 생활을 할 권리 보장을 위해 국가의 적극적 역할을 강조하는 B의 실현에 필요한 국내법 체계를 보완하는 데에도 기여한다.

- ① A를 실현하기 위해 법률로써 재외 국민의 선거권을 보장하고 있다.
- ② A에 따르면 대통령이 국회 비준을 거쳐 체결한 조약은 국내법과 같은 효력을 가진다.
- ③ B는 적정한 소득 분배를 목적으로 하는 국가의 경제 규제와 조정을 인정하지 않는다.
- ④ B를 실현하기 위해 사회 보장·사회 복지의 증진에 노력할 의무를 국가에 부여하고 있다.
- ⑤ B와 달리 A는 전통 문화의 계승·발전과 민족 문화의 창달을 위한 국가의 의무를 강조한다.

5. A, B에 대한 옳은 설명만을 <보기>에서 있는 대로 고른 것은?

'긴급성은 법을 모른다.'는 법언처럼, 현재의 위난에 처한 사람의 법익 보호를 위해 타인의 법익을 희생시킬 수밖에 없는 긴급 상황에서 부득이하게 타인에게 손해를 입히는 행위는 A에 해당한다. 한편 '법은 불법에 양보할 필요가 없다.'는 법언에 따라 현재의 부당한 침해 행위로부터 법익을 보호하기 위해 필요한 행위는 법질서를 수호하기 위한 것으로서 B에 해당한다. A와 B 모두 법질서 전체의 관점에서 정당화되어 처벌되지 않는 사유이지만, B는 위법한 침해를 전제로 하고 있다는 점에서 위난이 위법할 것을 요구하지 않는 A와 구별된다.

<보 기>

- ㄱ. 'A로 인정되는 타인의 행위'로부터 자신을 보호하기 위한 행위는 구성 요건에 해당하더라도 B가 인정되지 않는다.
- ㄴ. B와 달리 A는 타인의 법익을 보호하기 위한 경우에도 인정된다.
- ㄷ. A와 B 모두 형식적 의미의 형법에 규정되어 있다.
- ㄹ. A 또는 B의 인정 범위를 확대하는 유추 해석으로 피고인에 대한 처벌 범위를 축소하는 것은 죄형 법정주의에 위배되어 허용되지 않는다.

- ① ㄱ, ㄴ                      ② ㄱ, ㄷ                      ③ ㄴ, ㄹ
- ④ ㄱ, ㄷ, ㄹ                ⑤ ㄴ, ㄷ, ㄹ

## 2 (정치와 법)

## 사회탐구 영역

6. 다음 자료에 대한 설명으로 옳은 것은? (단, A, B는 각각 지방 의회, 지방 자치 단체의 장 중 하나임.)

교사: 우리나라 지방 자치 단체의 기관 A, B에 대해 설명해 보세요.  
 갑: A는 지방 자치 단체의 사무에 관한 감사·조사권이 있습니다.  
 을: B는 지역구 의원과 비례 대표 의원으로 구성됩니다.  
 병: A와 달리 B는 지방 자치 단체의 집행 기관으로서 법령의 범위 내에서 조례를 집행할 수 있습니다.  
 교사: 두 사람의 설명은 옳고, 나머지 한 사람의 설명은 옳지 않습니다.

- ① A는 지방 자치 단체를 대표하고 지방 행정 사무를 총괄한다.
- ② B는 지방 자치 단체의 예산을 심의하고 확정한다.
- ③ B는 지방 자치 단체의 사무에 관한 규칙을 제정할 수 있다.
- ④ B와 달리 A를 견제할 수 있는 수단으로 주민 소환 제도가 있다.
- ⑤ A와 B 모두 중앙 정부와 수평적 권력 분립 관계에 있다.

7. 다음 사례에 대한 법적 판단으로 옳은 것은? [3점]

갑 소유 건물을 임차하여 식당을 운영하는 을이 에어컨 실외기 교체를 위해, 갑은 설치 업체 사장 병과 공사 계약을 체결하였다. 병의 직원 정이 공사 중 실외기를 떨어뜨려 갑의 자동차를 파손하였다. 한편 을의 종업원 A는 B가 주문한 음식과 상한 유제품을 포장하여 배달하였고, 이를 먹고 배탈이 난 B가 을의 식당에서 항의하던 중 낡은 천장이 무너지며 을과 B가 다쳤다. 주문한 식사의 지연으로 화가 난 손님 C(17세)는 시비 끝에 A를 폭행하였고, 다친 A가 정신적 충격을 입었다. C의 법정 대리인은 D이다.

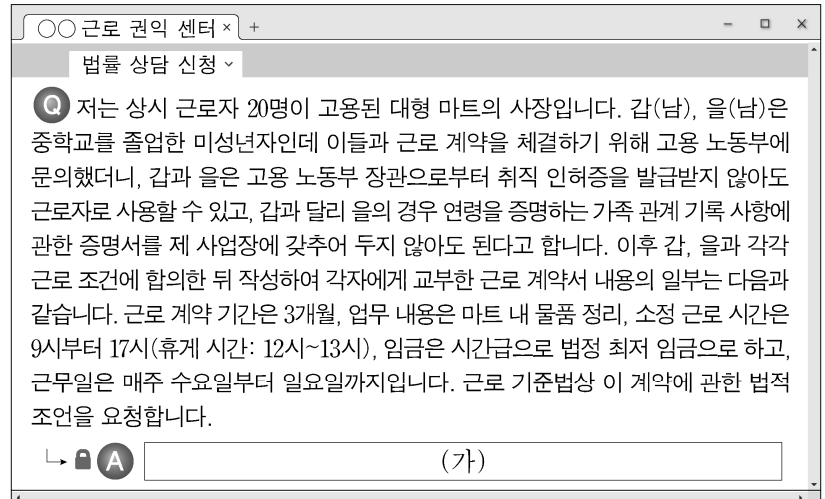
- ① 을은 B에게 채무 불이행 책임을 지고, 병은 갑과 을에게 채무 불이행 책임을 진다.
- ② 을이 공작물 점유자로서 특수 불법 행위 책임을 지지 않으면 갑은 B뿐만 아니라 을에게도 공작물 소유자로서 특수 불법 행위 책임을 진다.
- ③ 병이 정에 대한 선임 및 감독에 상당한 주의를 다하였더라도 병은 갑에게 사용자로서 특수 불법 행위 책임을 진다.
- ④ C가 A에 대하여 재산상의 손해를 배상하였다면 A는 C에게 정신적 손해에 대한 위자료는 청구할 수 없다.
- ⑤ C에게 책임 능력이 인정되더라도 D에게 법정 감독 의무 위반이 있으면 D는 A에게 특수 불법 행위 책임을 진다.

8. 다음 자료에 대한 법적 판단으로 옳은 것은?

○○죄로 기소된 갑은 기한을 넘겨 국민 참여 재판 의사 확인서를 제출하였으나, △△ 지방 법원 합의부는 갑의 사건을 국민 참여 재판으로 진행하기로 결정하였고 이에 불복한 검사가 상소하였다. A는 이유가 없다며 이를 기각하였고 검사가 상소하였으나 B는 이를 기각하였다. 한편 을은 □□죄로 징역 2년의 형을 선고받고 항소하였으나 기각되자 상고하였다. 을은 ◇◇법 조항이 자신의 사건을 합의부 심판 대상에서 제외하여 국민 참여 재판을 받지 못하였다고 상고심 계속 중 해당 조항의 위헌 여부를 결정하는 심판을 제청해 줄 것을 B에 신청하였다. B가 이를 기각하자 을은 C에 헌법 소원 심판을 청구하였고, C는 해당 조항이 헌법에 위반되지 않는다고 판단하였다.

- ① A는 검사의 항소를 기각하였고 이에 불복한 검사는 상고하였다.
- ② B는 갑과 을의 사건 모두 국민 참여 재판 대상이라고 판단하였다.
- ③ A와 달리 B는 대통령 선거의 효력을 다투는 선거 소송을 관할한다.
- ④ 명령이나 규칙이 법률에 위반되는지 여부가 재판의 전제가 된 경우 A는 직권으로 이에 대한 심사를 C에 신청할 수 있다.
- ⑤ 을은 C에 위헌 심사형 헌법 소원 심판을 청구하기 전에 B에 위헌 법률 심판을 제청하였다.

9. (가)에 들어갈 수 있는 내용으로 옳은 것은?



- ① 갑과 주휴일에 대해 합의했다라도 주휴일을 서면으로 명시해 주어야 합니다.
- ② 갑이 일요일에 근로 계약 내용대로 근무할 경우 갑에게 통상 임금의 50%를 가산하여 지급해야 합니다.
- ③ 을의 근로 시간을 매 근무일 2시간씩 연장하는 것은 을과의 합의가 있어도 근로 기준법에 위배됩니다.
- ④ 갑과 을에게 적용되는 법정 근로 시간은 동일합니다.
- ⑤ 갑과 을 각각에 대한 친권자 또는 후견인의 동의서를 사업장에 갖추어 두어야 합니다.

10. 다음 자료에 대한 분석 및 추론으로 옳은 것은? [3점]

갑국의 시기별 정부 형태는 전형적인 대통령제 또는 전형적인 의원 내각제 중 어느 하나에 해당한다.  $t \sim t+3$ 시기 중 정부 형태는 1회 변경되었고,  $t$ 시기의 정부 형태는 직전 시기의 정부 형태와 동일하며, 각 시기의 정부 형태는 해당 시기 내에서 동일하다. 행정부 수반의 소속 정당은  $t+1$ 시기를 제외한 나머지 시기에서 모두 원내 제1당이다. 갑국 의회의  $t$ 시기 정당별 의석수는 A 당 160석, B 당 120석, C 당 20석이며, 표는 시기별 각 정당의 직전 시기 대비 의석수 증감률을 나타낸다.

구분	A 당	B 당	C 당
$t+1$ 시기	-40%	+50%	+20%
$t+2$ 시기	+25%	-20%	+50%
$t+3$ 시기	-15%	+25%	-50%

\*  $t \sim t+3$ 시기에 총의석수는 300석으로 동일하고, 각 시기 내의 정당별 의회 의석수, 행정부 수반의 당적 변화는 없음.

- ①  $t+1$ 시기에 과반 의석을 차지한 다수당의 내각 불신임 결의로 국정 불안이 초래될 수 있다.
- ②  $t$ 시기에 내각의 존립이 의회의 신임에 의존한다면,  $t+2$ 시기 의회는 여대야소 상황이므로 행정부 수반이 제출한 법률안이 의회에서 통과될 가능성이 높다.
- ③  $t+3$ 시기에 국가 원수와 행정부 수반이 동일인이라면,  $t$ 시기에 의회 의원이 각료를 겸직할 수 없다.
- ④  $t+2$ 시기에 내각이 의회 해산권을 가진다면,  $t+3$ 시기 행정부 수반과 달리  $t$ 시기 행정부 수반은 법률안 거부권을 가진다.
- ⑤  $t+1$ 시기와  $t+3$ 시기에 정부 형태가 서로 같다면,  $t+2$ 시기와 달리  $t$ 시기에 행정부 수반의 임기가 엄격하게 보장된다.

#### 11. 다음 사례에 대한 법적 판단으로 옳은 것은? [3점]

갑(17세)은 법정 대리인 을의 동의 없이 전자 대리점 사장 병(35세)과 ㉠ 고가의 노트북에 대한 구매 계약을 체결하였다. 병은 다음날 갑이 미성년자임을 알게 되었다. 노트북 구매로 인해 사용하던 태블릿 PC가 필요 없게 된 갑은 정(22세)에게 이를 판매하였고, 이 과정에서 정에게 을 명의의 동의서를 제시하였으며, 정은 다음날 동의서가 위조된 것을 알게 되었다.

- ① 갑과 정 의 계약 내용에 따른 권리와 의무는 을에게 있다.
- ② 병의 사기로 ㉠이 체결된 경우라면, 을은 사기를 이유로 ㉠을 취소할 수 없다.
- ③ 병과 달리 정은 갑에게 계약 체결의 의사 표시를 철회할 수 없다.
- ④ 병이 을에게 합의를 촉구하여야 을은 갑과 병의 계약을 승인할 수 있다.
- ⑤ 갑과 달리 을은 갑의 행위 능력 제한을 이유로 갑과 정 의 계약을 취소할 수 있다.

#### 12. 기본권 유형 A, B에 대한 설명으로 옳은 것은?

사적 영역에 대한 국가의 침해 배제함으로써 보장되는 A와 달리 B는 국가가 인간 존엄의 실현을 위해 필요한 사회적 조건을 형성함으로써 보장된다. 자본주의의 폐단을 시정하기 위해 생성·발전되어 온 B가 확대될수록 A가 축소되는 경향이 있다고 볼 여지도 있지만, 궁극적으로 A와 B는 인간의 존엄과 자유로운 인격 발현이라는 헌법 이념 아래에서 조화된다.

- ① A는 침해된 기본권을 구제하기 위한 수단적 권리이다.
- ② B는 실질적 평등의 실현을 위해 등장한 적극적 권리이다.
- ③ B에는 '외부로부터의 강제 없이 개인의 양심을 형성할 권리'가 포함된다.
- ④ A와 달리 B는 국가 기관의 형성과 국가의 정치적인 의사 결정 과정에 참여하는 권리이다.
- ⑤ A와 B 모두 과잉 금지 원칙을 준수하더라도 법률로써 제한할 수 없는 권리이다.

#### 13. (가), (나)에 대한 설명으로 옳은 것은?

형사 책임은 (가)의 성립 요건 중 하나인 구성 요건 해당성 판단에서 행위자에게 구성 요건 실현 행위에 대한 인식과 의사가 있을 것을 원칙으로 한다는 점에서 민사 책임과 구별될 수 있다. 갑이 지나가던 을과 부딪쳐 을의 휴대 전화를 파손한 상황을 가정해 보자. 갑이 일반인이 기울여야 할 주의(注意)를 게을리하였더라도 을의 휴대 전화를 파손하는 것에 대한 인식과 의사가 없었다면 갑의 행위는 인식과 의사를 구성 요건 요소로 하는 재물 손괴죄에 해당하지 않는다. 그러나 갑의 파손 행위로 인해 을에게 손해가 발생하는 등 일정한 요건을 갖추면 민법상 (나)이 성립되어 갑은 을에게 손해 배상 책임을 질 수 있다.

- ① (가)의 성립에 따른 형사 책임은 피해자에게 생긴 손해를 보전하는 것을 고유의 목적으로 한다.
- ② (나)에 따른 책임의 성립 여부는 고의에 의한 경우이든 과실에 의한 경우이든 차이가 없다.
- ③ (나)는 채무자의 책임 있는 사유로 인해 계약에 따른 의무를 이행하지 않은 상태를 의미한다.
- ④ (나)와 달리 (가)는 가해 행위가 법이 보호해야 할 가치 있는 이익을 위법하게 침해하는 행위로 인정되어야 성립된다.
- ⑤ 갑의 행위가 (가)로 성립한다는 판결이 확정되어야 을은 배상 명령 제도를 통해 (나)에 따른 손해 배상을 신청할 수 있다.

#### 14. 다음 사례에 대한 옳은 법적 판단만을 <보기>에서 있는 대로 고른 것은? [3점]

갑(42세)은 동창생 을(43세)에 대한 사기 혐의로 불구속 상태에서 공소 제기되었다. 공판 중 구속되어 재판을 받던 갑은 징역 10월에 집행 유예 2년을 선고받아 해당 판결이 확정되었다. 이후 을은 온라인 단체 채팅방에서 '갑이 사기죄로 처벌을 받았으니 조심하라.'는 글을 게시하였다. 이를 본 갑이 고소하여 을에 대한 수사가 개시되었다. 을은 '타인을 비방할 목적으로 정보 통신망을 통하여 공연히 사실을 드러내어 타인의 명예를 훼손하는 자'를 처벌하는 ○○법 조항 위반 혐의로 공소 제기되었다. 을은 법정에서 동창생들의 피해 예방을 위해 한 일이라고 진술하였고, 법원은 을의 주요한 동기와 목적이 공공의 이익을 위한 것으로서 을에게 갑을 비방할 목적이 없었다고 판단하였다.

#### <보 기>

- ㉠. 공판 단계에서 구속된 갑이 변호인을 선임할 수 없어 변호인이 없는 경우, 법원은 변호인을 선정해 주어야 한다.
- ㉡. 갑은 집행 유예 선고의 실효 또는 취소됨이 없이 2년을 경과하면 형 선고의 사실 자체가 없어지는 판결을 선고받았다.
- ㉢. 갑은 자신의 명예를 훼손한 을의 행위에 대하여 처벌을 구하는 의사 표시를 수사 기관에 하였다.
- ㉣. 법원은 을이 글을 게시한 행위가 ○○법 조항의 범죄 구성 요건에 해당하지만 공공의 이익을 위한 것으로서 사회 상규에 위배되지 않는다고 판단하였다.

- ① ㉠, ㉡                      ② ㉠, ㉢                      ③ ㉡, ㉣
- ④ ㉠, ㉢, ㉣                ⑤ ㉡, ㉢, ㉣

#### 15. 다음 자료에 대한 분석으로 옳은 것은? [3점]

[평가 문항] <사례>에 대한 법적 판단이 옳으면 '예', 틀리면 '아니오'를 쓰시오. (답란별로 채점하며 옳으면 1점, 틀리면 0점, 총점은 3점임.)

<사례> 갑(27세)과 을(28세)은 법률상 혼인하였고 적법한 절차를 거쳐 A를 친양자가 아닌 양자로 입양하였다. 갑과 을은 협의상 이혼하였고, A는 갑이 양육하기로 하였다. 병(27세)은 정(25세)과의 혼인 중 B를 출산하였고 정과 재판상 이혼한 뒤 B를 홀로 양육하였다. 이후 갑은 병과 혼인하였고 적법한 절차를 거쳐 B를 친양자로 입양하였다. 이후 갑과 병 사이에 C가 태어났고 갑과 병은 미성년자인 A, B, C와 함께 살고 있다.

<사례>에 대한 법적 판단		답란
(가)	B는 입양으로 인해 정과의 친자 관계가 종료된다.	아니오
갑과 을이 유언 없이 동시에 사망한다면 A는 갑의 상속인이 되고 을의 상속인이 되지 않는다.		아니오
채점 결과(점수)	(다)	

- ① (가)에 '갑과 을의 이혼은 가정 법원의 이혼 의사 확인을 받고, 이후에 이혼 숙려 기간을 거쳐야 성립한다.'가 들어가고 (나)에 '예'가 들어간다면, (다)에 '2점'이 들어간다.
- ② (가)에 '병과 정 의 이혼은 이혼 신고를 해야 효력이 발생한다.'가 들어가고 (나)에 '아니오'가 들어간다면, (다)에 '1점'이 들어간다.
- ③ (가)에 '병이 유언 없이 사망한다면 A, B, C는 모두 병의 상속인이 된다.'가 들어가고 (나)에 '예'가 들어간다면, (다)에 '3점'이 들어간다.
- ④ (다)에 '1점'이 들어간다면, (나)에 '예'가 들어갈 수 있다.
- ⑤ (다)에 '3점'이 들어가고 (가)에 '갑과 병의 혼인 중 갑이 일상 가사에 관해 제3자와 법률 행위를 한 때, 병은 이로 인한 채무에 대해 연대 책임이 있다.'가 들어간다면, (나)에는 '예'가 들어간다.

# 4 (정치와 법)

# 사회탐구 영역

16. 국제 관계를 바라보는 갑, 을의 관점에 대한 설명으로 옳은 것은?

국제 관계에서 국가는 자국의 이익을 극대화하려 하므로 국가 간 갈등의 해소와 이해의 조화가 매우 어렵습니다. 따라서 국제기구를 통한 제재의 실효성이 낮고 국제적 협력도 기대하기 힘듭니다.



갑

국제 관계에서는 국가 간 상충되는 이해의 조화가 가능하므로 다양한 행위 주체들이 보편적 가치에 기반하여 공동의 규칙을 수립하고 준수함으로써 국제 문제를 해결할 수 있습니다.



을

- ① 갑의 관점은 국가 간의 관계를 결정하는 중요한 요인으로 힘의 배분 양상을 강조한다.
- ② 갑의 관점은 모든 국가들의 상호 불가침 약속과 그 약속 위반 국가에 대한 국제 사회의 집단적 대응을 강조한다.
- ③ 을의 관점은 국제 문제의 해결 과정에서 초국가적 행위 주체의 역할을 간과한다.
- ④ 갑의 관점과 달리 을의 관점은 국가가 타국과의 경쟁 속에서 자국의 이익을 배타적으로 추구한다고 본다.
- ⑤ 을의 관점과 달리 갑의 관점은 국가들이 국제 규범을 통해 국제 사회의 무정부 상태를 극복할 수 있다고 본다.

17. 국제 연합의 주요 기관 A~C에 대한 설명으로 옳은 것은? [3점]

국제 연합 헌장에 따르면 A가 국제 사회의 분쟁 또는 사태와 관련하여 헌장에 부여된 임무를 수행하는 동안 B는 A의 요청이 없이는 어떤 권고도 하지 않아야 한다. 그러나 A가 논의를 진행 중인 사안에 대해서 모든 회원국으로 구성된 B가 독자적으로 권고를 한 사례가 있다. 이에 대해 사법 기관 C는 A가 주로 국제 평화와 안전에 관한 문제에 집중하는 반면 B는 인도주의적·사회적 측면까지 포함하는 폭넓은 고려를 한다는 점을 지적하며, B의 권고는 헌장과 모순되지 않는다고 판단했다. 한편 C는 15인의 재판관으로 구성되며 이들은 A 및 B에서 선출된다.

- ① B에서 절차 사항을 제외한 모든 사항은 상임 이사국의 동의 투표를 포함한 9개 이사국 이상의 찬성 투표로 결정한다.
- ② 국제 사회의 일반적 관행이 법적 확신을 얻은 국제 규범이라도 성문화가 되어야만 C의 재판 규범이 될 수 있다.
- ③ 국제 사회에서 발생한 법적 분쟁에 이해관계가 있더라도 개인은 C의 재판에서 소송의 당사자가 될 수 없다.
- ④ A와 달리 B는 국제 평화와 안보에 관한 일차적 책임을 지며 군사적 제재 조치를 결정할 수 있는 권한을 가진다.
- ⑤ B와 달리 A에서는 주권 평등의 원칙에 따라 표결 시 각 국가가 1표씩 투표권을 행사한다.

18. 민법의 기본 원칙 A, B에 대한 설명으로 옳은 것은?

개인의 자기 결정권을 근거로 하는 A는 거래상 법률관계의 형성을 국가의 개입 없이 당사자 간 자율적인 의사에 맡겨야 한다고 본다. 하지만 거래 관계에서 상대적으로 불평등한 지위에 놓인 개인을 보호해야 할 필요성이 제기됨에 따라 등장한 B는 국가의 적절한 개입을 통해 거래상 불균형을 시정해야 한다고 본다.

- ① A에 따르면 개인 간 자유로운 의사 표시의 합치에 의한 계약은 당사자를 구속한다.
- ② A는 국가가 사용자에게 근로자의 적정한 임금을 보장하도록 강제하는 근거가 된다.
- ③ B에 따르면 사회 질서에 반하는 내용의 법률 행위도 유효하다.
- ④ B는 경제적 약자에 대한 경제적 강자의 부당한 대우를 정당화 한다는 비판을 받는다.
- ⑤ A와 달리 B는 국가나 사회보다 개인의 자유를 우선시하는 사상에 기초한다.

19. 우리나라 헌법 기관 A~E에 대한 설명으로 옳은 것은? [3점]

우리 헌법에는 국가 기관 간 견제와 균형의 원리가 나타나고 있다. A가 B의 장(長), C의 장(長), D, 감사원장, 대법관을 임명할 때 E의 동의를 얻도록 하고, 국무 위원 임명 시 D의 제청을 요건으로 하며, A뿐 아니라 B의 장(長)과 E도 C의 구성에 관한 권한을 나누어 갖도록 규정한 것을 그 예로 들 수 있다.

- ① A에 대한 E의 견제 수단으로 '법률안 거부권'을 들 수 있다.
- ② B의 구성원은 D의 제청을 받아 A가 임명한다.
- ③ C에 대한 B의 견제 수단으로 '권한 쟁의 심판권'을 들 수 있다.
- ④ D에 대한 C의 견제 수단으로 '탄핵 심판권'을 들 수 있다.
- ⑤ A와 E 모두 국가 안위에 관한 중요 정책을 국민 투표에 부칠 수 있다.

20. 다음 자료에 대한 분석 및 추론으로 옳은 것은? [3점]

갑국 의회는 단순 다수제로 선출되는 지역구 의원 10인, 비례 대표 의원 10인으로 구성되며, 유권자는 지역구 의원 선출을 위해 후보자에 1표, 비례 대표 의원 선출을 위해 정당에 1표를 행사한다. 비례 대표 의석은 정당 투표 득표율에 비례 대표 총의석수를 곱하여 산출된 수의 정수(整數)만큼 각 정당의 의석으로 배분하고, 이후 잔여 의석은 소수점 이하의 수가 큰 순서대로 각 정당에 1석씩 배분한다. 표는 최근 갑국 의회 의원 선거 결과를 나타낸다.

(단위: 표, %)

구분	A당	B당	C당	D당	E당
선거구 1	120	150	25	45	65
선거구 2	100	125	45	65	40
선거구 3	85	75	50	20	15
선거구 4	65	45	70	35	25
선거구 5	150	80	45	65	20
선거구 6	65	95	30	25	45
선거구 7	100	80	65	30	20
선거구 8	60	75	35	15	45
선거구 9	110	65	30	45	35
선거구 10	90	105	25	75	10
정당 투표 득표율	31.6	22	15	12.4	19

\* 정당은 A~E당만 존재하고 무소속 후보자는 없으며, 투표율은 100%이고 무효표는 없음.

갑국은 다음과 같이 선거 제도 개편안을 검토 중이며 개편안 적용 시 C당과 D당은 합당하여 F당으로 창당한 후 선거에 참가한다. 개편안은 최근 의회 의원 선거 결과만을 근거로 판단하며, 지역구 의원 선거에서 C당, D당의 후보자에게 투표했던 유권자는 모두 F당의 후보자에게 투표하고 비례 대표 의원 선거에서 C당, D당에 투표했던 유권자는 모두 F당에 투표한다고 가정한다.

<1안>	현재의 총의석수를 기준으로 현행 비례 대표 의석 배분 방식에 따라 정당별 의석수를 먼저 할당한다. 각 정당별로 할당된 의석수에서 단순 다수제로 선출된 지역구 의원 의석수를 뺀 나머지 의석수를 비례 대표 의석으로 배정한다. 만일 어떤 정당의 지역구 의원 의석수가 할당된 의석수보다 더 많다면 초과 의석을 인정되 비례 대표 의석은 배분하지 않는다. 초과 의석으로 인해 갑국의 의회 의원 정수(定數)는 늘어날 수 있다.
<2안>	현재의 총의석수를 유지하면서, 선거구 1~선거구 10에서 득표순으로 2인의 지역구 의원을 선출한다. 각 정당은 선거구별 1명의 후보자를 공천한다.

- ① 현행에서 A 당과 B 당의 의석수 차이는 1석이다.
- ② <1안> 적용 시 B 당이 얻는 초과 의석수는 2석이다.
- ③ <1안> 적용 시 F 당은 현행에서 C 당과 D 당이 얻은 의석수의 합보다 1석을 더 얻게 된다.
- ④ <1안> 적용 시와 <2안> 적용 시 F 당의 총의석수는 동일하다.
- ⑤ <2안> 적용 시 A 당과 E 당의 의석수 차이는 <1안> 적용 시 A 당과 E 당의 의석수 차이의 4배이다.

\* 확인 사항  
○ 답안지의 해당란에 필요한 내용을 정확히 기입(표기)했는지 확인 하시오.

2023학년도 대학수학능력시험

사회탐구 영역 정답표  
( 정치와 법 ) 과목

문항 번호	정 답	배 점	문항 번호	정 답	배 점	문항 번호	정 답	배 점	문항 번호	정 답	배 점
1	⑤	2	6	③	2	11	③	3	16	①	2
2	⑤	3	7	②	3	12	②	2	17	③	3
3	①	2	8	③	2	13	②	2	18	①	2
4	④	3	9	①	2	14	②	3	19	④	3
5	②	2	10	④	3	15	③	3	20	⑤	3



제 4 교시

사회탐구 영역(사회·문화)

성명

수험 번호

제 [ ] 선택

1. 밑줄 친 ㉠~㉣과 같은 현상의 일반적인 특징에 대한 설명으로 옳은 것은?

우리 몸에 있는 대부분의 미생물은 면역계 유지에 필요하다. ㉠ 미생물은 적당한 습기와 충분한 먹이가 있는 환경을 선호하여 대장에 많이 서식한다. 대장 내 미생물 중 유익균은 식이 섬유에서 영양분을 얻고, 이를 분해할 때 면역 세포를 안정시키는 물질을 만든다. 그런데 식생활에서 가공 식품과 ㉡ 정제된 탄수화물 섭취 비중이 증가하고 유익균이 줄게 되면서 대장 내 미생물 분포가 달라졌다. 뇌와 장은 내분비계, 신경계 등을 통해 신호를 주고받는데, 미생물 분포 변화로 장내 면역 체계에 이상이 생기면 뇌 질환 발생 가능성이 높아진다. 뇌 질환자 상당수가 장 질환을 앓고 있으며, 일상에서 ㉢ 과도한 스트레스를 받으면 장에 탈이 나는 것을 볼 수 있다. 따라서 장 건강을 위해서는 채식 위주의 식단을 유지하고, ㉣ 장내 미생물을 무차별적으로 죽이는 항생제를 남용하지 않아야 한다.

- ① ㉠과 같은 현상은 ㉡과 같은 현상과 달리 인과 관계가 나타난다.
- ② ㉡과 같은 현상은 ㉢과 같은 현상과 달리 가치 함축적이다.
- ③ ㉢과 같은 현상은 ㉣과 같은 현상과 달리 개연성의 원리가 적용된다.
- ④ ㉣과 같은 현상은 ㉠과 같은 현상과 달리 보편성이 나타난다.
- ⑤ ㉠, ㉡과 같은 현상은 ㉢, ㉣과 같은 현상과 달리 존재 법칙의 지배를 받는다.

2. 다음 자료에 대한 설명 및 추론으로 옳은 것은? [3점]

갑은 직장인의 업무 과부하와 직무 스트레스 간의 관계를 파악하기 위해 연구를 진행하였다. 갑은 ○○기업 직원 전체를 대상으로 ㉠ 업무량, ㉡ 업무 이해도, 직무 스트레스를 각각 5점 척도 문항으로 측정한 후, 이 자료를 분석하여 업무 과부하가 직무 스트레스를 높인다는 결론을 얻었다. 한편, 을은 직장인의 직무 스트레스와 상사의 정서적 지원 간의 관계를 알아보기 위해 다음과 같이 연구를 수행하였다. 우선 을은 갑의 연구를 통해 직무 스트레스가 업무량과 업무 이해도로부터 영향을 받는다는 사실을 확인하고, 과도한 업무량에서 비롯된 업무 과부하를 ㉢ 양적 과부하로, 낮은 업무 이해도에서 비롯된 업무 과부하를 ㉣ 질적 과부하로 구분하였다. 다음으로 △△기업 고충 상담실의 도움을 받아 △△기업 직원 중 양적 과부하로 인해 직무 스트레스를 경험하고 있는 직원 40명을 무작위로 뽑아 A 집단에 배치하고, 질적 과부하로 인해 직무 스트레스를 경험하고 있는 직원 40명을 무작위로 뽑아 B 집단에 배치하였다. 이어 A 집단을 무작위로 20명씩 A<sub>1</sub>, A<sub>2</sub>로 나누고, 같은 방식으로 B 집단을 B<sub>1</sub>, B<sub>2</sub>로 나눈 뒤, A<sub>1</sub>과 B<sub>1</sub>에만 직속 상사가 일정 기간 동안 격려와 신뢰를 표현하도록 했다. 이러한 연구 절차에 따라 수집된 사전·사후 검사 자료를 분석한 결과, 상사의 정서적 지원은 B 집단이 겪는 유형의 직무 스트레스를 낮추는 데는 효과가 있었지만, A 집단이 겪는 유형의 직무 스트레스를 낮추지는 못하는 것으로 나타났다.

- ① 갑의 연구에서 표본은 ○○기업 직원 전체이고, 을의 연구에서 모집단은 △△기업 직원 전체이다.
- ② 을의 연구에서 ㉢은 ㉠의 조작적 정의에, ㉣은 ㉡의 조작적 정의에 해당한다.
- ③ 을의 연구에서 직속 상사가 일정 기간 동안 격려와 신뢰를 표현한 것은 실험 처치에 해당한다.
- ④ 을의 사후 검사 결과에 따르면, B<sub>1</sub>의 직무 스트레스 수치는 A<sub>1</sub>의 직무 스트레스 수치보다 낮을 것이다.
- ⑤ 을의 연구 결과는 업무 과부하가 직무 스트레스에 영향을 준다는 갑의 연구 결과를 반박한다.

3. 다음 글에서 사회·문화 현상을 바라보는 필자의 관점에 대한 설명으로 옳은 것은?

인구 증가는 사람들 간 접촉과 상호 작용을 증가시킨다. 이때 경쟁이 치열해지면, 그 치열한 경쟁이 갈등을 유발하고 사회 질서를 위협한다. 자원을 둘러싼 경쟁은 생존 가능한 자리를 찾으려는 개인들의 노력을 낳고 이는 업무 전문화로 이어진다. 전문화는 개인들로 하여금 상호 의존을 하도록 압박하고 상호 의무를 수용하려는 의지를 강화한다. 전문화로 인한 업무 분화는 무한 경쟁이 파괴할 수 있는 질서를 유지하는 데 필수적이다.

- ① 사회의 안정보다는 변동을 중시한다.
- ② 상황 정의에 기초한 개인 간 상호 작용을 중시한다.
- ③ 사회에는 어느 시점이나 구조적 모순이 내재되어 있다고 본다.
- ④ 사회 제도를 지배와 피지배 관계의 재생산을 위한 수단으로 본다.
- ⑤ 지배 집단의 이익을 대변하는 논리로 활용될 수 있다는 비판을 받는다.

4. (가), (나)에 나타난 문화 변동에 대한 설명으로 옳은 것은? [3점]

(가) 대중교통 요금 지불 시 현금만 이용하던 갑국은 을국이 개발한 전자 교통 카드 시스템을 배우고자 을국의 기술자들을 초빙하였다. 갑국은 이들을 통해 을국의 시스템을 도입하였다. 이후 갑국에서는 전자 교통 카드도 대중교통 요금 지불 수단으로 널리 사용되고 있다.  
(나) 병국이 정국을 지배하게 되면서 정국에서는 병국 언어 대신 정국 언어를 쓰자는 민족주의 운동이 일어났다. 이에 병국은 공권력을 동원하여 관공서는 물론 일상에서도 병국 언어만 쓰도록 강제하였고, 그 결과 정국에서 정국 사람들은 병국 언어만 쓰게 되었다.

- ① (가)에서는 직접 전파에 의한 문화 병진이 나타났다.
- ② (나)에서는 강제적 문화 접변에 따른 문화 융합이 나타났다.
- ③ (가)에서는 (나)에서와 달리 외재적 요인에 의한 문화 변동이 나타났다.
- ④ (나)에서는 (가)에서와 달리 사회 구성원이 새로운 문화를 공유하게 되었다.
- ⑤ (가)와 (나)에서는 모두 자문화의 정체성이 상실되었다.

5. 다음 자료에 대한 설명으로 옳은 것은?

제○○호 □□ 시립 도서관 소식지(○○월)

지난주 토요일 우리 도서관에서는 여러 분야의 외부 강사를 초빙하여 청소년 진로 직업 체험 캠프를 실시하였다.

<p>A 고등학교 학생 갑의 소감문</p> <p>환경 보호를 위해 같은 시민 단체에 함께 가입하여 활동하고 있는 같은 학교 친구들과 만나, 광고 회사 직원 병의 강의를 참여하였다. 평소 나의 관심 분야는 아니었지만 광고 영상을 직접 편집해 보니 생각보다 흥미로웠다.</p>	<p>B 고등학교 학생 정이의 소감문</p> <p>같은 테니스 동호회 회원인 을의 추천으로 캠프에 참여했다. 지역 드론 조종사 협회 회장을 맡고 있는 무의 강의를 들으며 드론을 작동해 보니 재미있었다. 이 분야에 관심이 생겨 관련 직업을 더 찾아봐야겠다고 생각했다.</p>
--	--

- ① 을이 속해 있는 비공식적 사회화 기관은 3개이다.
- ② 갑과 을이 함께 속해 있는 공식 조직은 1개이다.
- ③ 갑과 달리 병은 2차적 사회화 기관에 속해 있다.
- ④ 을과 정이 함께 속해 있는 비공식 조직이 나타나 있다.
- ⑤ 갑~무 중 병을 제외한 4명은 자발적 결사체에 속해 있다.

## 2 (사회·문화)

## 사회탐구 영역

6. 다음 자료의 (가)~(다)에 들어갈 내용으로 옳은 것은? [3점]

<자료 1>은 갑, 을의 연구 사례이고, <자료 2>는 갑이 사용한 자료 수집 방법 A와 을이 사용한 자료 수집 방법 B의 일반적인 특징을 연결하여 A, B의 공통점 및 차이점을 나타낸 것이다.

<자료 1>

- 갑은 도심 재생 사업이 지역 공동체 복원에 미치는 영향을 파악하기 위해 최근에 도심 재생 사업을 추진한 ○○ 지역의 도심 재생 사업 위원회가 지역 주민 300명을 대상으로 실시한 설문 조사 자료집을 분석하였다. 설문 조사에 사용된 질문지에는 도심 재생 사업 효과의 평가 및 주민 만족도, 사업 후 이웃 간 협력과 신뢰 정도 등을 묻는 문항이 포함되어 있다.
- 을은 토론 학습 방식이 문화권에 따라 차이가 있는지 파악하기 위해 한국과 미국에서 학급당 학생 수가 동일한 중학교 학급을 각각 1개씩 선정하였다. 그리고 각 교실에서 나타나는 학생 간 토론과 관련한 다양한 대화 상황을 직접 관찰하고 토론 학습이 어떻게 이루어지는지를 자세히 기록하였다.

<자료 2>



- ① (가) - 다수의 응답자를 대상으로 실시하는 데 적합하다.
- ② (가) - 기존 연구 동향이나 성과를 파악하는 데 적합하다.
- ③ (나) - 인과 관계 파악을 통한 법칙 발견에 유리하다.
- ④ (나) - 연구자와 연구 대상자 간 언어적 상호 작용이 필수적이다.
- ⑤ (다) - 인위적으로 통제된 상황에서 변수의 효과를 관찰하기 용이하다.

7. 다음 자료에 대한 설명으로 옳은 것은? (단, A~C는 각각 머튼의 아노미 이론, 차별 교제 이론, 낙인 이론 중 하나임.) [3점]

<일탈 행동 사례>

경제적으로 성공하기 위해 좋은 대학을 가고자 했던 갑은 집안 사정으로 고등학교를 중퇴하였다. 자신의 꿈을 이루기 어려워하자 좌절감에 빠진 갑은 학교를 중퇴한 친구들을 모아 일확천금을 노리며 온라인 불법 도박으로 청소년기를 보냈다. 성인이 된 갑은 중범죄를 저질러 교도소에 수감되었고, 출소 후 교도소 직업 훈련 과정에서 취득한 기술로 취업하려 했으나 범죄 이력 때문에 번번이 거절당했다. 이에 갑은 자신이 어차피 범죄자이고, 범죄라는 굴레에 얽매인 삶으로부터 벗어날 수 없다고 여겨 범죄 조직에 가담하였다.

물질적 성공에 대한 욕구가 컸던 을은 대학에서 좋은 학점을 얻기 위해 부정행 방법도 서슴지 않았다. 이렇게 대학을 졸업한 후, 한 회사에 취업한 을은 승진을 통해 더 많은 돈을 벌고자 했다. 그러나 업무 능력 부족을 이유로 매번 승진 인사에서 탈락하자, 을은 더 이상 이 회사에서는 승진 기회가 없음을 알고 체념하였다. 그러던 중 회사 기밀을 넘기면 거액을 주겠다는 경쟁 회사 측의 제의에 응해 회사 기밀을 훔쳤다.

<교사의 해설>

제시된 사례에서 청소년 시기 갑의 일탈 행동은 A를 통해 설명할 수 있습니다. 교도소 출소 후 갑의 일탈 행동은 C가 아니라 B를 통해 설명할 수 있습니다. 을의 취업 후 일탈 행동을 설명하는 데는 A, B, C 중 ㉠이 적합합니다.

- ① ㉠은 A이다.
- ② B는 일탈 행동을 학습하지 않은 사람은 일탈 행동을 할 수 없다고 본다.
- ③ C는 일탈 행동에 대한 대책으로 문화적 목표를 달성할 수 있는 제도화된 기회의 확대를 중시한다.
- ④ A는 B와 달리 타인과의 상호 작용이 일탈 행동에 미치는 영향에 주목한다.
- ⑤ A는 B, C와 달리 1차적 일탈에 대한 원인 규명보다 1차적 일탈이 2차적 일탈로 이어지는 과정에 주목한다.

8. 다음 글에서 개인과 사회의 관계를 바라보는 필자의 관점에 대한 옳은 설명만을 <보기>에서 고른 것은?

개인은 그 자신이 목적이며 다른 어떤 것도 그에게는 아무 의미가 없다. 다만 개인은 자신의 욕구 충족을 위해 타인을 필요로 한다. 타인도 같은 이유로 다른 이가 필요하다. 이처럼 이기적인 개인 간 상호 작용의 결과로 사회가 형성되지만, 개인의 욕구가 충족되지 않을 때 그 사회는 해체된다.

<보 기>

- ㄱ. 사회의 속성은 개인의 속성에 의해 결정된다고 본다.
- ㄴ. 사회 규범은 개인들이 옳다고 믿기에 존재한다고 본다.
- ㄷ. 사회가 개인의 외부에 존재하는 독립적인 실체라고 본다.
- ㄹ. 사회 규범의 구속력이 개인의 자율성보다 우선한다고 본다.

- ① ㄱ, ㄴ    ② ㄱ, ㄷ    ③ ㄴ, ㄷ    ④ ㄴ, ㄹ    ⑤ ㄷ, ㄹ

9. 빈곤의 유형 A, B에 대한 설명으로 옳은 것은? (단, A, B는 각각 절대적 빈곤, 상대적 빈곤 중 하나임.)

- 우리나라에서 1인 가구의 중위 소득은 월 약 194만 4천 원(2022년 기준)이고, 우리나라에서는 이 금액의 50%인 월 약 97만 2천 원을 기준으로 1인 가구의 A 여부를 판단한다.
- 세계은행은 세계에서 경제적으로 가장 낙후된 지역을 기준으로 생존에 필요한 최소한의 식량 구입비를 1인당 하루 2.15달러로 정하고 있다 (2022년 9월 기준). 이는 B를 판단하는 기준선으로 활용된다.

- ① A는 각자의 소득 수준이 다른 사람에 비해 충분하지 않다고 느끼는 상태를 의미한다.
- ② B는 사회 구성원의 소득 분포 상태를 고려하지 않는 개념이라는 평가를 받는다.
- ③ B를 판단하는 기준선은 A를 판단하는 기준선과 달리 시간과 장소에 관계없이 보편적으로 적용된다.
- ④ 저개발 국가에서는 A가, 선진국에서는 B가 나타나지 않는다.
- ⑤ 한 국가에서 A에 따른 빈곤율과 B에 따른 빈곤율을 더하면 전체 빈곤율이 된다.

10. 다음 자료에 대한 분석으로 옳은 것은? [3점]

표는 갑국의 t년 연령대별 남녀 임금을 조사하여 구성한 것이다.

연령대	여성 임금비	20대 기준 연령대별 상대적 평균 임금	
		남성	여성
10대	88	40	39
20대	90	100	100
30대	75	㉠	145
40대	61	200	㉡
50대	50	190	105
60대	47	114	60

$$* \text{여성 임금비} = \frac{\text{여성 평균 임금}}{\text{남성 평균 임금}} \times 100$$

\*\* 여성 임금비는 소수점 첫째 자리에서 반올림한 수치임.

\*\*\* 20대 기준 연령대별 상대적 평균 임금은 20대 남성(여성) 평균 임금을 100이라고 할 때 연령대별 남성(여성)의 상대적 평균 임금임.

- ① ㉠은 180보다 작고, ㉡은 130보다 크다.
- ② 평균 임금은 남성과 여성에서 모두 40대가 가장 높다.
- ③ 40대 여성 평균 임금은 40대 전체 평균 임금의 60%보다 작다.
- ④ 연령대별 남녀 평균 임금 차이는 20대부터 60대까지 지속적으로 증가한다.
- ⑤ 50대 남성 취업자 수가 50대 여성 취업자 수의 1.5배라면, 50대 여성 임금 총액은 50대 남성 임금 총액의 40%보다 크다.

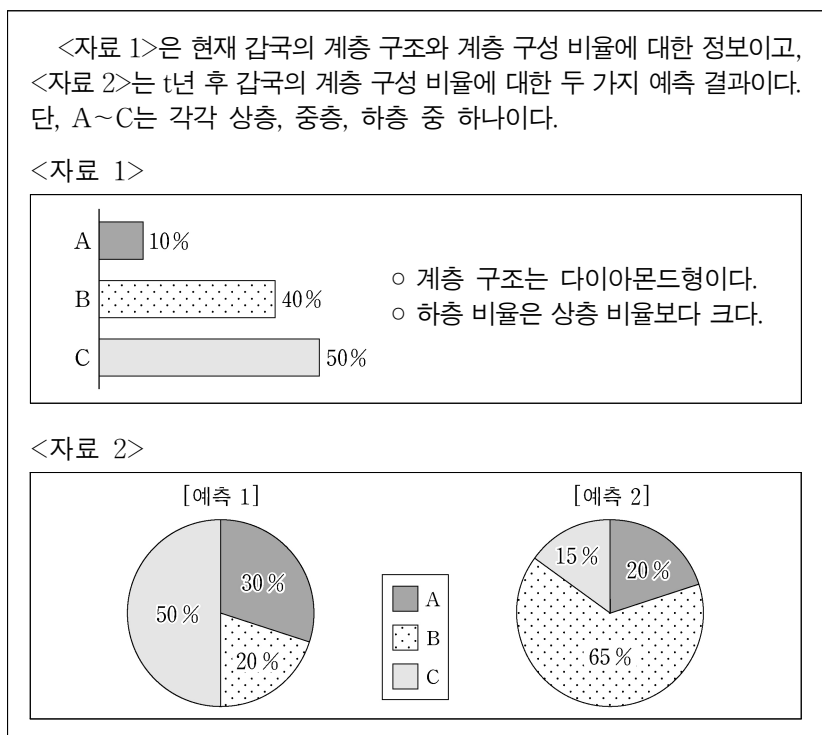
11. 다음은 문화 이해의 태도 A~C를 구분하는 질문에 대한 학생의 답변과 교사의 채점 결과이다. 이에 대한 설명으로 옳은 것은? (단, A~C는 각각 자문화 중심주의, 문화 상대주의, 문화 상대주의 중 하나임.) [3점]

질문	답변	
	갑	을
A는 B, C와 달리 특정 사회의 문화를 기준으로 자문화를 낮게 평가하는가?	예	예
C는 A, B와 달리 국수주의로 변질될 수 있다는 비판을 받는가?	예	아니오
(가)	㉠	아니오
(나)	㉡	예
점수	4점	2점

\* 교사는 질문별로 각각 채점하고, 각 질문당 옳은 답변을 쓴 경우는 1점, 틀린 답변을 쓴 경우는 0점을 부여함.

- ㉠이 '예'라면, (나)에는 'C는 B와 달리 문화 간 우열을 평가할 수 없다고 보는가?'가 들어갈 수 있다.
- ㉡이 '아니오'라면, (가)에는 'A는 C와 달리 타문화와의 마찰을 초래할 가능성이 큰가?'가 들어갈 수 없다.
- (가)가 'B는 A와 달리 문화의 다양성을 보존하는 데 기여하는가?'라면, ㉡은 '아니오'이다.
- (나)가 'B는 C와 달리 자기 문화의 가치만을 중시하는가?'라면, ㉠은 '아니오'이다.
- (가)가 'A는 B와 달리 자문화의 정체성을 상실할 수 있다는 비판을 받는가?'라면, (나)에는 'C는 A와 달리 타문화를 무비판적으로 수용할 가능성이 높은가?'가 들어갈 수 있다.

12. 다음 자료에 대한 분석으로 옳은 것은?



- [예측 1]대로 된 경우의 중층 비율은 현재의 중층 비율보다 크다.
- [예측 1]대로 된 경우의 상층 비율은 현재의 상층 비율의 2배이다.
- [예측 2]대로 된 경우의 계층 구조는 피라미드형이다.
- [예측 2]대로 된 경우의 하층 비율은 [예측 2]대로 된 경우의 중층 비율의 4배보다 크다.
- [예측 2]대로 된 경우의 중층 비율은 [예측 1]대로 된 경우의 상층 비율의 2배보다 크다.

13. 다음 글에서 파악할 수 있는 내용으로 가장 적절한 것은?

요즘 한글 자모를 모양이 비슷해 보이는 다른 자모로 바꾸어 표현하는 언어유희를 볼 수 있다. 'ㄷ'과 'ㄴ'을 합쳐 '며'를 만들어 '명작'을 '땡작'으로 표기하는 것이 그 예다. 온라인에서 이러한 신조어를 만들거나 사용하는 것이 젊은 세대 사이에서 하나의 놀이 문화로 자리 잡았고, 그들의 소통을 위한 매개로 활용되면서 서로 간의 친밀감을 높이고 있다. 하지만 신조어를 잘 모르는 대다수의 기성세대는 말의 의미를 이해하지 못해 혼란스러워 하기도 한다. 이로 인해 세대 간 소통 단절을 불러올 수 있다는 우려가 제기된다.

- 하위문화가 주류 문화를 대체한다.
- 세대 간 문화의 이질성이 약화된다.
- 대중 매체가 고급문화의 대중화를 견인한다.
- 특정 세대가 새로운 가치를 추구하며 주류 문화에 저항한다.
- 특정 하위문화가 해당 문화를 향유하는 구성원들의 유대감 형성에 기여한다.

14. A, B의 일반적인 특징에 대한 설명으로 옳은 것은? (단, A, B는 각각 관료제, 탈관료제 중 하나임.) [3점]

A에서 조직이 최고의 목적을 위한 최적의 수단을 취할 때, 개인은 그 목적을 향해 객관적으로, 정확하게, 영혼 없이 업무를 수행한다. 그 과정에서 개인은 조직이라는 기계의 작은 톱니가 되어 경직된 업무 시스템에 파묻히고 창의성과 자율성을 발휘하기 어려워진다. 이에 따라 조직이 환경 변화에 유연하게 대응하지 못하게 되고 결국 효율성이 떨어지는 문제가 나타나, 이를 개선하기 위해 B가 등장하였다.

- A는 B에 비해 과업 수행 절차의 예측 가능성이 높다.
- A는 B에 비해 업무 담당자에게 주어진 재량권이 크다.
- B는 A에 비해 연공서열에 따른 보상 체계를 중시한다.
- B는 A에 비해 업무 체계의 전문화와 세분화 정도가 높다.
- A는 상향식 의사 결정 방식이, B는 하향식 의사 결정 방식이 지배적이다.

15. 다음 자료에 대한 분석으로 옳은 것은? (단, A, B는 각각 공공 부조, 사회 보험 중 하나임.) [3점]


갑국의 사회 보장 제도는 우리나라의 사회 보장 제도와 동일하다. A는 보편적 복지의 성격이 강하고, B는 선별적 복지의 성격이 강하다. 표는 갑국의 시기별 (가), (나) 지역 인구 중 A, B 수급자 비율을 나타낸 것이다. 갑국은 (가), (나) 지역으로만 구성되며, 전체 인구는 t년에 비해 t+20년이 20% 많다.

(단위: %)

구분	t년			t+20년		
	(가) 지역	(나) 지역	전체	(가) 지역	(나) 지역	전체
A 수급자	46	36	40	46	52	50
B 수급자	30	20	24	30	42	38
A와 B 중복 수급자	15	10	12	6	18	14

- 상호 부조의 원리가 적용되는 제도의 수급자 수는 t+20년의 (가) 지역이 t년의 (가) 지역보다 20% 많다.
- 수혜자 비용 부담 원칙이 적용되는 제도의 수급자 수는 t+20년의 (가) 지역이 t년의 (나) 지역보다 많다.
- t년의 (가) 지역에서 정부 재정으로 비용을 전액 충당하는 것을 원칙으로 하는 제도에만 해당하는 수급자 수는 A와 B 중복 수급자 수의 2배이다.
- t+20년에 사전 예방적 성격보다 사후 처방적 성격이 강한 제도에만 해당하는 수급자 수는 (나) 지역이 (가) 지역의 2배이다.
- t+20년에 A와 B 중복 수급자 수는 (나) 지역이 (가) 지역의 3배이다.

16. 밑줄 친 ㉠~㉣에 대한 설명으로 옳은 것은?



배트 플립(bat flip)은 야구 경기에서 타자가 홈런을 친 후 ㉠야구 방망이를 던지는 동작으로 자신의 타격을 과시하거나 기쁨을 표현하는 것이다. ㉡배트 플립이 한국 야구에서는 일종의 볼거리로 여겨지지만, 미국 야구에서는 홈런 맞은 투수를 자극하는 행위로 간주되어 금지된다. 몇 년 전 미국 언론을 통해 한국의 다양한 배트 플립 영상이 소개되어 ㉢한국의 독특한 야구 문화가 화제가 되었다. ㉣미국 야구에 익숙한 사람이라면 한국의 배트 플립 문화가 놀랍고 신기할 수밖에 없었다. 그런데 요즘 미국에서도 배트 플립을 하는 선수가 늘어나면서 이에 대한 여러 반응이 나오고 있다. ㉤배트 플립을 부정적으로 보는 사람이 여전히 많지만, 자기 표현에 익숙한 젊은 세대 중 일부는 우호적인 반응을 보이기도 한다.

- ① ㉠은 비물질문화에 해당한다.
- ② ㉡에는 문화의 총체성이 부각되어 있다.
- ③ ㉢에서 '문화'는 넓은 의미로 사용되었다.
- ④ ㉣에는 문화의 변동성이 부각되어 있다.
- ⑤ ㉤은 문화 지체의 사례에 해당한다.

17. 다음 글에서 사회 변동의 방향을 보는 필자의 관점에 대한 옳은 설명만을 <보기>에서 고른 것은? [3점]

인간은 자신이 획득한 지식을 다른 사람에게 전달하고 후손에게 유산으로 물려준다. 한 세대에서 축적된 지식이 다음 세대로 이어지면서 기존 지식을 기초로 여러 갈래의 신생 분야가 등장한다. 이처럼 사회에서는 과거로부터 전해진 지식과 새로 탄생한 지식이 연속적으로 결합한다. 이러한 양상은 정치, 경제, 예술 등 사회 모든 분야에서 나타난다. 인류의 미약한 첫 발걸음부터 문명의 이상에 이르기까지 인간의 역사는 지식의 생산, 전달, 결합 과정을 통해 끊임없이 나아가며 확장한다.

<보 기>

ㄱ. 사회 변동을 동일한 과정의 주기적 반복으로 설명한다.  
 ㄴ. 계급주의를 정당화하는 수단이 될 수 있다는 비판을 받는다.  
 ㄷ. 사회 변동이 언제나 진보를 의미하는 것은 아니라고 본다.  
 ㄹ. 사회가 미분화된 상태에서 분화된 상태로 변동한다고 본다.

- ① ㄱ, ㄴ    ② ㄱ, ㄷ    ③ ㄴ, ㄷ    ④ ㄴ, ㄹ    ⑤ ㄷ, ㄹ

18. 밑줄 친 ㉠, ㉡에 대한 설명으로 가장 적절한 것은?

○ 1970년대부터 본격화된 도로 중심의 사회 기반 시설 구축과 개인 차량 증가로 인해 다양한 교통 문제가 발생하고 보행자를 위한 공간이 잠식되었다. 이에 시민들은 보행권 확보와 보행 환경 개선을 목표로 ㉠사회 운동을 전개하기 시작했다. 시민 단체들은 보행권 신장을 위한 걷기 대회 개최, 어린이 통학로 안전 상태 조사 등을 실시하였고, 그 노력의 결실로서 스쿨존이 법제화되고 보행자를 위한 조리가 제정되었다.

○ 대중 소비가 시작되던 20세기 초, 조잡한 제품들이 양산되어 피해를 입는 소비자가 많아지자 선진국을 중심으로 좋은 물건 고르는 방법을 안내하는 캠페인이 나타났다. 이러한 움직임은 이후 대중 소비가 본격화된 시기에 독점 기업의 횡포로부터 소비자를 보호하고 소비자 주권을 실현하기 위한 ㉡사회 운동으로 발전하였다. 세계적으로 대중 소비가 확산한 1960년대 이후 이 운동은 세계 여러 나라로 널리 퍼졌다.

- ① ㉠은 사회 구조 전체를 근본적으로 바꾸고자 하는 사회 운동이다.
- ② ㉡은 지배 집단이 기존 사회 질서를 유지하고자 하는 사회 운동이다.
- ③ ㉠은 ㉡과 달리 경제적 평등을 추구하는 사회 운동이다.
- ④ ㉡은 ㉠과 달리 산업화로 인한 문제에 대응하는 사회 운동이다.
- ⑤ ㉠과 ㉡은 시민의 권리 보장을 목표로 하는 사회 운동이다.

19. 다음 자료의 A~E에 대한 설명으로 옳은 것은? [3점]

A는 전쟁을 피해 홀로 이주해 온 어머니 B와 어린 시절 사고로 시각 장애인이 된 아버지 C 사이에서 태어났다. B는 여성이라는 이유로 취업이 힘들었고 C도 장애인이라는 이유로 차별을 받았다. 그런데 시각 장애인만 안마사가 될 수 있도록 한 제도가 도입되어 C는 안마사로 일하게 되었다. 같은 시기 안마사가 되고 싶어 했던 비장애인 D가 이 제도에 대해 국가 기관에 문제를 제기하면서 시각 장애인에 대한 사회적 관심이 높아졌다. 이를 지켜보던 A는 시각 장애인을 대변하는 법조인이 되어야겠다고 다짐했다. 이후 A는 법을 공부하려 갑국에 유학을 갔고 그곳에서 외국인이자 여성이라는 이유로 부당한 대우를 받게 되자, 난민 여성으로 차별받았던 B의 아픔을 이해하게 되었다. A는 유학 생활을 마치고 귀국하여 법률 회사에 입사하였다. 그리고 장애인 의무 고용 제도의 요건을 충족하여 입사한 E와 함께 사회적 소수자 인권 보호를 위한 법 개정을 위해 노력하고 있다.

- ① A는 B와 달리 한 개인이 여러 사회적 소수자 집단에 중첩되어 속할 수 있음을 보여 주는 사례이다.
- ② B는 C와 달리 후천적 요인으로 인해 차별을 받았다.
- ③ D는 E와 달리 주류 집단이 아니라는 이유로 차별을 받았다.
- ④ A와 D는 사회적 소수자에 대한 차별을 제도적으로 해결하고자 하였다.
- ⑤ C와 E는 사회적 소수자의 불리한 위치를 개선하기 위한 정책의 적용을 받았다.

20. 다음 자료에 대한 분석 및 추론으로 옳은 것은?

갑국에서 t년의 전체 인구 중 노년 인구 비율은 20%이고 t+50년의 전체 인구 중 유소년 인구 비율은 28%이다. t년 대비 t+50년에 전체 인구는 25% 증가하였고 유소년 인구는 12.5% 감소하였다. t년 대비 t+50년에 노년 부양비는 150% 증가하였다.

\* 유소년 부양비 =  $\frac{\text{유소년 인구}(0\sim 14\text{세 인구})}{\text{부양 인구}(15\sim 64\text{세 인구})} \times 100$

\*\* 노년 부양비 =  $\frac{\text{노년 인구}(65\text{세 이상 인구})}{\text{부양 인구}(15\sim 64\text{세 인구})} \times 100$

\*\*\* 피부양 인구 = 유소년 인구(0~14세 인구) + 노년 인구(65세 이상 인구)

- ① t년의 유소년 인구와 t+50년의 노년 인구는 동일하다.
- ② t년 대비 t+50년에 전체 인구 증가율은 피부양 인구 증가율보다 크다.
- ③ t년 대비 t+50년에 유소년 인구 감소율과 유소년 부양비 감소율은 동일하다.
- ④ t년보다 t+50년에 전체 인구에서 부양 인구가 차지하는 비율이 크다.
- ⑤ t년보다 t+50년에 부양 인구 감소로 인해 경제 성장 동력이 약화될 가능성이 높다.

\* 확인 사항

○ 답안지의 해당란에 필요한 내용을 정확히 기입(표기)했는지 확인 하시오.

2023학년도 대학수학능력시험

사회탐구 영역 정답표  
( 사회·문화 ) 과목

문항 번호	정 답	배 점	문항 번호	정 답	배 점	문항 번호	정 답	배 점	문항 번호	정 답	배 점
1	②	2	6	②	3	11	④	3	16	③	2
2	③	3	7	①	3	12	④	2	17	④	3
3	⑤	2	8	①	2	13	⑤	2	18	⑤	2
4	①	3	9	②	2	14	①	3	19	⑤	3
5	⑤	2	10	①	3	15	④	3	20	③	2