

제 4 교시

사회탐구 영역 (생활과 윤리)

성명	수험 번호	제 [] 선택
----	-------	----------

1. ㉠에 들어갈 진술로 가장 적절한 것은?

나는 윤리학이 “도덕 문제를 어떻게 해결할 것인가?”를 탐구하는 학문이라고 생각한다. 즉, 윤리학은 과학 기술의 발달과 사회·문화적 변화로 발생하는 실질적인 도덕 문제의 해결을 궁극적인 목적으로 삼아야 한다. 그런데 일부 윤리학자들은 윤리학에서 사용되고 있는 도덕적 언어의 의미를 명확하게 해명하는 일을 윤리학의 본질이라고 주장한다. 나는 이러한 주장이 ㉠고 생각한다.

- ① 윤리학의 학문적 성립 가능성에 대한 탐구를 간과한다
- ② 도덕 판단의 근거가 되는 규범 체계의 필요성을 강조한다
- ③ 현실의 도덕 문제에 윤리 이론을 응용해야 함을 간과한다
- ④ 도덕 현상에 대한 객관적 서술과 인과 관계의 설명을 강조한다
- ⑤ 도덕 추론의 논리적 분석이 윤리학의 핵심 과제임을 간과한다

2. 갑, 을 사상가들의 입장으로 가장 적절한 것은? [3점]

갑: 이름을 바로잡는 것[正名]이 정치의 시작이다. 이름이 제대로 서지 않으니 예악이 흥성하지 않고, 예악이 흥성하지 않으니 형벌이 제멋대로 된다.

을: 도(道)는 자연스러움을 본받는다. 인위적인 것을 강제해서는 안 된다. 내버려두면 백성들이 스스로 잘 살게 되고 세상도 잘 돌아간다.

- ① 갑: 인간이 제정한 규범에서 벗어나 무위(無爲)를 추구해야 한다.
- ② 갑: 내가 하기 싫은 일을 남에게 시키지 않는 서(恕)를 행해야 한다.
- ③ 을: 자신의 직분과 지위에 걸맞는 예법을 충실히 따라야 한다.
- ④ 을: 시비선악(是非善惡)을 구분하여 질서를 바로 세워야 한다.
- ⑤ 갑, 을: 인(仁)의 시작은 모든 사람에 대한 차별 없는 사랑이다.

3. 다음을 주장한 사상가의 입장으로 가장 적절한 것은? [3점]

거의 정의로운 사회에서 정의의 원칙들은 자유롭고 평등한 인간들 간의 자발적인 협동의 기본 조항으로서 공공적으로 인정된다. 그래서 시민 불복종에 참여하는 사람들은 다수의 정의감에 호소하여 자유로운 협동의 조건이 침해되었다는 것을 정당하게 알리고자 한다.

- ① 시민 불복종은 헌법의 근거가 되는 원칙에 의해 지도되어야 한다.
- ② 시민 불복종은 양심적 개인들의 종교적 신념에 근거할 수 있다.
- ③ 정의로운 시민에게 부정의한 법을 준수할 의무는 성립할 수 없다.
- ④ 시민 불복종은 합법적인 정치적 반대와 동시에 이루어져야만 한다.
- ⑤ 헌법에 규정된 방식으로 제정된 법은 시민 불복종의 대상이 아니다.

4. 갑, 을 사상가들의 입장으로 적절한 것만을 <보기>에서 고른 것은?

갑: 국제 정치의 본질은 권력 투쟁이다. 권력은 국제 정치에서 최상이라고 인정되는 가치이다. 정치적인 정책은 권력을 유지하거나 확장하거나 과시하기 위한 목적에서 추진된다.

을: 국제 사회의 평화는 국제 연맹을 통해서 달성될 수 있다. 국제 연맹은 모든 전쟁의 영원한 종식을 추구하고, 국가들의 자유를 보호하고 지속시키는 데에만 관여한다.

<보 기>

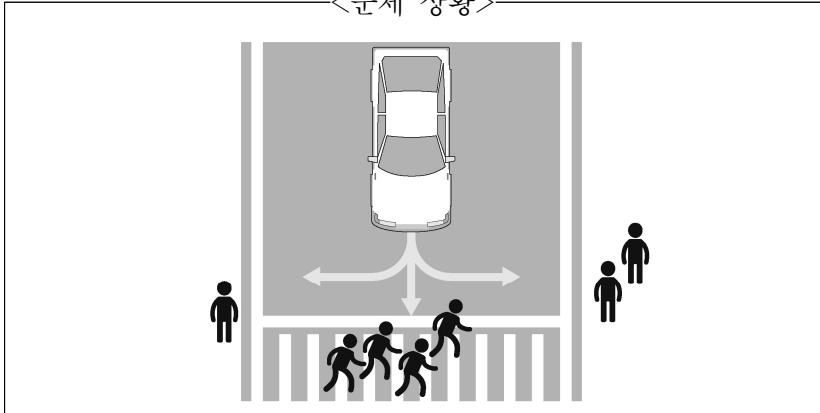
- ㄱ. 갑: 국가 간 힘의 균형으로 국력 경쟁이 종식될 수 있다.
- ㄴ. 을: 평화 조약은 어떠한 전쟁 상태도 종식시킬 수 없다.
- ㄷ. 을: 이방인이 갖는 환대의 권리는 조건부적으로 보장된다.
- ㄹ. 갑, 을: 국제 사회의 평화를 유지할 수 있는 방법이 존재한다.

- ① ㄱ, ㄴ ② ㄱ, ㄷ ③ ㄴ, ㄷ ④ ㄴ, ㄹ ⑤ ㄷ, ㄹ

5. 다음을 주장한 사상가의 입장에서 <문제 상황> 속 A에게 제시할 조언으로 가장 적절한 것은?

행위가 옳은지 그른지를 알기 위해서는 그 행위의 결과가 어떠한지를 알아야 한다. 유용성의 원리는 선택의 상황에서 개별 행위에 직접적으로 적용된다. 옳은 행위란 다른 어떤 가능한 행위보다 더 큰 유용성을 갖는 행위이다.

<문제 상황>



자율 주행 자동차를 설계하고 있는 엔지니어 A는 위 그림과 같이 자율 주행 자동차가 고속 주행 중 제동을 시도해도 보행자와의 충돌이 불가피한 경우, 어떻게 주행하도록 설계해야 할지 고민하고 있다.

- ① 그 자체로 선한 의지를 반영하여 주행하도록 설계하세요.
- ② 탑승자와 보행자의 고통의 총합을 최소화하도록 설계하세요.
- ③ 탑승자의 안전을 최우선으로 고려하여 주행하도록 설계하세요.
- ④ 보행자의 인격을 수단이 아닌 목적으로 대우하도록 설계하세요.
- ⑤ 사회적 관습에 내재한 선에 따라 상황에 대처하도록 설계하세요.

2 (생활과 윤리)

사회탐구 영역

6. 다음을 주장한 사상가의 입장으로 적절한 것만을 <보기>에서 고른 것은? [3점]

삶은 죽음과 함께 걷고 죽음은 삶에서 비롯하나니 누가 그 실마리를 알겠는가. 사람의 삶은 기(氣)가 모인 것이라서 모이면 삶이 되고 흩어지면 죽음이 된다네. 따라서 만물은 하나니라. 좋아하면 멋진 것이라 하고 싫어하면 역겨운 것이라 하지만, 역겨운 것이 멋진 것이 되고 멋진 것이 다시 역겨운 것이 되네. 따라서 삶과 죽음은 하나의 기로 통할 뿐이라고 말하는 것일세. 성인(聖人)은 하나를 귀하게 여긴다네.

<보 기>

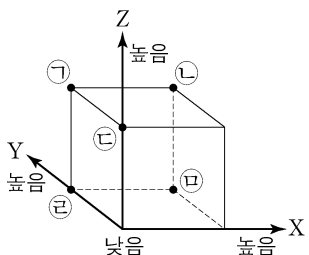
- ㄱ. 삶에 얽매이지도 말고 죽음을 걱정하지도 말아야 한다.
- ㄴ. 죽음을 의식하지 말고 인의예지(仁義禮智)를 행해야 한다.
- ㄷ. 삶과 죽음의 변화는 계절의 변화처럼 자연스러운 것이다.
- ㄹ. 죽음은 윤회의 일부이며 현생의 업보가 내생을 결정한다.

- ① ㄱ, ㄴ ② ㄱ, ㄷ ③ ㄴ, ㄷ ④ ㄴ, ㄹ ⑤ ㄷ, ㄹ

7. (가)의 입장에 비해 (나)의 입장이 갖는 상대적 특징을 그림의 ㉠~㉣ 중에서 고른 것은?

(가) 성욕은 인간의 기본적인 욕구이므로 개인은 감각적인 욕구 충족만을 위해서도 성적 관계를 맺을 수 있다. 성적 자유는 타인에게 해악을 주지 않는 범위에서 허용되며, 자발적 동의와 자율성이 존중되기만 하면 정당화된다.

(나) 부부만이 성적 관계에서 상호 인격 존중의 의무를 다할 수 있으며, 사회 안정과 책임 있는 성 문화 유지에 기여할 수 있다. 따라서 성행위는 부부간의 애정과 신뢰를 바탕으로 출산과 양육에 대한 책임을 질 수 있는 경우에 정당화된다.



- X: 성의 가치를 감각적 쾌락에서 찾는 정도
- Y: 성행위의 전제로서 사랑을 강조하는 정도
- Z: 사회적 관점에서 성행위에 수반될 책임을 강조하는 정도

- ① ㉠ ② ㉡ ③ ㉢ ④ ㉣ ⑤ ㉣

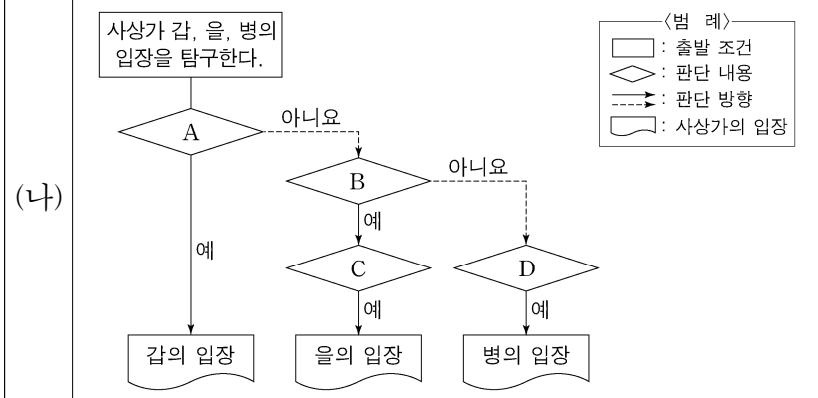
8. 다음을 주장한 사상가가 강조할 공직자의 자세로 적절하지 않은 것은?

청렴은 목민관의 근본적인 의무이며 모든 덕의 근원이다. 목민관이 욕심을 부려 백성의 정당한 수익을 빼앗다 보면 민생고가 심해진다. 재물에 청렴하면서도 치밀하지 못하거나, 재물을 나누어 주면서도 실효가 없는 것도 칭송할 만한 것이 못된다. 아울러 목민관이 집안을 바로잡아야 청탁과 뇌물이 들어오지 않는다.

- ① 애민 정신을 실천하기 위해 절용과 청렴의 자세를 견지해야 한다.
- ② 국민으로부터 신뢰를 받고 지지를 얻기 위해서는 청렴해야 한다.
- ③ 남품을 받을 때 생산자의 정당한 이익을 고려할 필요가 없다.
- ④ 작은 선물이라도 사욕이 숨겨져 있을 수 있으므로 경계해야 한다.
- ⑤ 국민에게 미치는 실효성을 따져 국가 재정을 엄격히 집행해야 한다.

9. (가)의 갑, 을, 병 사상가들의 입장을 (나) 그림으로 탐구하고자 할 때, A~D에 들어갈 적절한 질문만을 <보기>에서 있는 대로 고른 것은? [3점]

(가) 갑: 살인을 했거나, 그것을 명했거나, 그에 협력했던 살인자는 누구든 사형에 처해지지 않으면 안 된다. 살인의 경우 공적 정의 앞에서 최상의 균형자는 사형이다.
 을: 형벌의 남용은 결코 인간을 개선시키지 못한다. 사형을 대체한 종신 노역형은 가장 완강한 자의 마음을 억제 시키기에 충분한 엄격성을 지닌다.
 병: 사회 계약은 계약자의 생명 보존이 목적이므로, 타인의 희생으로 자기의 생명을 보존하려는 자는 타인을 위해 필요하다면 자신도 생명을 희생해야 한다.



<보 기>

- ㄱ. A: 정의의 기초가 되는 원리에 따라 형벌을 가해야 하는가?
- ㄴ. B: 사회 계약의 당사자가 사형제에 동의하는 것은 불합리한가?
- ㄷ. C: 형벌은 범죄가 공익에 반하는 정도에 비례해야 하는가?
- ㄹ. D: 계약자의 생명은 국가로부터 조건부적으로 보장되는가?

- ① ㄱ, ㄴ ② ㄱ, ㄹ ③ ㄴ, ㄷ
 ④ ㄱ, ㄷ, ㄹ ⑤ ㄴ, ㄷ, ㄹ

10. 갑, 을 사상가들의 입장으로 적절한 것만을 <보기>에서 고른 것은? [3점]

갑: 노동자들에게 그들이 소유 권리를 갖는 것들을 주지 않는 분배 행위는 정의롭지 못하다. 그런데 소유 권리는 과거의 상황이나 사람들의 과거 행위에 근거하기 때문에 분배적 정의는 역사적 원리에 따라야 한다.

을: 기본적 자유들은 서로 상충할 수 있기에 조정되어야 하지만, 가능한 한 가장 광범위하게 보장되어야 한다. 하지만 최소 수혜자에게 이익이 되고 직위와 직책의 기회가 공정하다면 재산 및 소득의 분배는 균등할 필요가 없다.

<보 기>

- ㄱ. 갑: 도덕적 공과(功過)에 따른 소유 권리의 불평등은 정의롭다.
- ㄴ. 을: 차등 원칙은 모든 성원을 고려한 상호 이익의 원칙이다.
- ㄷ. 을: 기본적 자유는 절대적이기에 각 개인에게 평등해야 한다.
- ㄹ. 갑, 을: 개인은 자신의 유리한 천부적 자산을 소유할 권한을 갖는다.

- ① ㄱ, ㄴ ② ㄱ, ㄷ ③ ㄴ, ㄷ ④ ㄴ, ㄹ ⑤ ㄷ, ㄹ

11. 다음을 주장한 사상가의 입장으로 적절한 것만을 <보기>에서 고른 것은?

배아에 대한 적극적인 유전적 간섭을 추구하는 자유주의적 우생학은 배아의 사물화를 초래한다. 이러한 유전적 간섭으로 프로그램 되어 태어난 사람은 스스로를 자기 삶의 유일한 저자이자 다른 사람들과 평등한 주체로서 인식하지 못할 것이다. 특히 인간 몸의 자연 발생성은 개개인이 자유롭고 평등한 도덕 주체가 되기 위한 근본적인 조건이지만 우생학적 접근은 바로 그런 조건을 뒤흔들고 말 것이다. 다만, 유전적 간섭은 치료라는 규제 이념에 인도될 때에만 허용될 수 있을 것이다.

<보 기>
 ㄱ. 유전적 간섭이 도덕적으로 정당화되는 경우가 존재한다.
 ㄴ. 자유주의적 우생학은 인간의 미래를 위해 권장되어야 한다.
 ㄷ. 인간의 유전적 자연성은 평등한 도덕 주체가 되기 위한 전제이다.
 ㄹ. 부모는 적극적인 유전적 간섭으로 자녀의 삶에 참여해야 한다.

- ① ㄱ, ㄴ ② ㄱ, ㄷ ③ ㄴ, ㄷ ④ ㄴ, ㄹ ⑤ ㄷ, ㄹ

12. 다음을 주장한 사상가가 부정의 대답을 할 질문으로 가장 적절한 것은? [3점]

인간은 기술 문명의 힘으로 자신을 포함한 모든 것을 위협에 빠뜨리게 되었다. 이성과 결탁한 권력은 그 자체로 책임을 동반한다. 이것은 예전부터 인간 상호 간에는 자명한 일이었다. 인간의 책임이 종전의 범위를 넘어서서 생물계의 상태와 인간 종족의 미래의 생존까지 포괄하게 된 것은 권력의 확장과 연관되어 있다.

- ① 인간이 져야 할 책임은 자신이 가진 권력에 비례하는가?
 ② 과학 기술의 비의도적 결과는 책임의 대상에서 제외되는가?
 ③ 경험하지 못한 미래의 위협으로부터 책임을 도출해야 하는가?
 ④ 권리를 주장하는 존재 외에도 현세대가 책임져야 할 대상이 있는가?
 ⑤ 책임질 수 있는 능력으로부터 책임을 져야 하는 당위가 도출되는가?

13. 다음 신문 칼럼에서 강조하는 내용으로 적절하지 않은 것은?

○○ 신문 ○○○○년 ○○월 ○○일
칼럼
 인터넷을 활용한 뉴 미디어의 발달로 우리는 정보의 소비뿐 아니라 유통과 생산에도 적극 참여하고 있다. 그 과정에서 우리는 사이버 공간에서 자신의 정체성을 숨길 수 있다는 막연한 생각을 갖고 허위 정보 내지 유해 정보를 생산하거나 전달하기도 한다. 이러한 정보의 홍수로 인해 사회 곳곳에서 선의의 피해자가 발생하고 있다. 잘못된 정보의 희생자가 되지 않으려면 우리 스스로 정보를 비판적으로 수용하는 지혜가 필요하다. 무엇보다도 사이버 공간에서 실명을 숨겨도 IP 추적과 같은 방법으로 실제 사용자가 밝혀질 수 있음을 기억해야 한다. 따라서 사이버 공간에서도 우리는 책임 있는 존재로 활동해야 한다.

- ① 현실 세계에서처럼 사이버 공간에서도 윤리가 필요하다.
 ② 우리는 정보의 소비뿐 아니라 정보의 유통에서도 주체이다.
 ③ 표현의 자유를 위해 사이버 공간의 익명성을 강화해야 한다.
 ④ 거짓 정보의 생산자는 그로 인한 피해에 대해 책임져야 한다.
 ⑤ 정보의 올바른 이용을 위해 미디어 리터러시를 함양해야 한다.

14. (가)의 갑, 을, 병 사상가들의 입장을 (나) 그림으로 표현할 때, A~D에 해당하는 적절한 진술만을 <보기>에서 있는 대로 고른 것은? [3점]

(가)	<p>갑: 목적론적 삶의 중심으로서 유기체는 외적 활동뿐 아니라 내적 기능도 모두 목표 지향적이고, 생물의 기능을 성공적으로 수행하는 지속적인 경향을 지닌다.</p> <p>을: 인간의 도덕적 소질을 약화시키지 않도록 동물에 대한 잔인한 폭력은 삼가야 하며, 동물이 감당할 수 있는 한도 내에서 무리하지 않도록 동물을 부려야 한다.</p> <p>병: 삶의 주체는 결코 마치 다른 것들을 위한 자원인 것처럼 대우받아서 안 된다. 특히 다른 존재의 이익을 위해서 의도적으로 해를 입어서는 안 된다.</p>
(나)	<p><범례> A: 갑만의 입장 B: 을만의 입장 C: 갑과 을만의 공통 입장 D: 갑과 병만의 공통 입장</p>

<보 기>
 ㄱ. A: 어떤 개체가 생명을 지녀야만 도덕적 지위를 지닐 수 있다.
 ㄴ. B: 동물은 인간의 가치 평가에서 독립적인 가치를 지닐 수 없다.
 ㄷ. C: 채고 감수 능력은 어떤 개체가 도덕적 지위를 갖는지 판단할 때 고려해야 할 조건이 아니다.
 ㄹ. D: 인간에 대한 인간의 의무로 환원되지 않는 의무가 있다.

- ① ㄱ, ㄴ ② ㄱ, ㄷ ③ ㄷ, ㄹ
 ④ ㄱ, ㄴ, ㄹ ⑤ ㄴ, ㄷ, ㄹ

15. 그림은 서술형 평가 문제와 학생 답안이다. 학생 답안의 ㉠~㉣ 중 옳지 않은 것은? [3점]

서술형 평가

Ⓞ 문제: 국가와 시민의 관계에 대한 갑, 을 사상가들의 입장을 비교하여 서술하시오.

갑: 자연 상태에서는 모든 인간을 떨게 만드는 공통의 힘이 없기 때문에 인간은 만인의 만인에 대한 전쟁 상태에 놓이게 된다. 인간은 이 비참함에서 벗어나기 위해 국가 속에서 스스로를 구속한다.

을: 모든 인간은 자기 신체와 소유물에 대한 지배권을 갖지만 자연 상태에서는 이 권리의 향유가 불확실하다. 이에 따라 인간은 공동체를 결성하고 공통의 재판관을 지상에 설정함으로써 국가 상태에 들어가게 된다.

Ⓞ 학생 답안

국가와 시민의 관계에 대한 갑, 을의 입장을 비교해 보면, 갑은 ㉠ 인간이 두려워해야 할 공통의 권력이 없는 자연 상태의 혼란에서 벗어나기 위해 국가를 수립하게 된다고 보고, ㉡ 국가는 공공의 평화와 안전을 위해서 절대적인 권력을 행사할 수 있다고 주장한다. 반면에 을은 ㉢ 인간이 자연 상태에서 공동체를 구성하고자 하는 정치적 본성으로 인해 자연스럽게 국가 상태로 들어가게 된다고 보고, ㉣ 국가는 공동선을 실현하기 위해 위임받은 권력을 자의적으로 행사해서는 안 된다고 주장한다. 한편 갑, 을은 모두 ㉤ 국가에 대한 시민의 의무는 시민 자신의 생명권을 국가가 보호해 준다는 조건 아래에서 계속될 수 있다고 본다.

- ① ㉠ ② ㉡ ③ ㉢ ④ ㉣ ⑤ ㉤

4 (생활과 윤리)

사회탐구 영역

16. 다음을 주장한 사상가의 입장으로 적절하지 않은 것은?

집은 인간이 사는 체험 공간의 구체적인 중심이며, 이런 중심을 창조해야 하는 과제는 거주함으로써 실현된다. 거주한다는 것은 특정한 자리에 속하여 뿌리를 내리고 그곳을 집으로 삼는다는 뜻이다. 특히 거주는 분리된 안전하고 편안한 영역, 즉 인간이 위협적인 외부 세계로부터 도피할 수 있는 집이라는 개인 공간을 갖고 있음을 뜻한다. 인간의 참다운 삶을 위한 거주는 인간이 자신의 존재를 쏟아부어 온전히 노력해야만 얻을 수 있고 실현할 수 있다.

- ① 인간은 인간다운 삶을 살기 위해 편안함의 영역을 필요로 한다.
- ② 거주는 주어지는 것이 아니라 각별한 노력을 통해 이루어진다.
- ③ 집은 인간이 거주하는 공간이며 개인이 활동하는 세계의 중심이다.
- ④ 거주 공간의 소유는 참다운 인간의 삶을 위한 필요충분조건이다.
- ⑤ 인간은 거주를 통해 외부의 위협에서 벗어나 안정을 얻을 수 있다.

17. 다음을 주장한 사상가의 입장으로 적절하지 않은 것은?

인간이 성스러움을 아는 것은 그것이 속된 것과는 전혀 다른 어떤 것으로서 스스로를 현현(顯現)하고 보여 주기 때문이다. 성스러움이 드러나는 것을 성현(聖顯)이라 한다. 종교적 인간에게 자연은 결코 단순한 자연이 아니며, 항상 종교적 의미로 충만해 있다. 왜냐하면 우주는 신의 창조물이고, 세계는 신의 손으로 완성된 것이어서 성스러움으로 가득 차 있기 때문이다. 성스러운 돌, 성스러운 나무는 돌이나 나무로서 숭배되는 것이 아니라 성현이기 때문에 숭배된다.

- ① 세계는 성스러움이 드러나는 대상일 뿐 아니라 성(聖) 그 자체이다.
- ② 성스러움과 세속은 분리되어 있거나 단절되어 있는 것이 아니다.
- ③ 종교적 인간은 세속적 대상에서도 성스러움을 체험할 수 있다.
- ④ 종교적 인간에게 돌이나 나무는 단순한 자연물이 아니다.
- ⑤ 신은 자연을 통해 성스러움을 다양한 양태로 드러낸다.

18. 다음은 어느 동양 사상가의 가상 편지이다. ㉠에 들어갈 진술로 가장 적절한 것은? [3점]

○○ 선생에게
당신은 간사하고 사악한 음악으로 천하가 혼란에 빠질 수 있기 때문에 선왕(先王)이 제정한 음악으로 백성을 이끌어 주어야 함을 강조했습니다. 그리하여 음악을 즐기게 하면서도 사람의 악한 본성을 변화시켜 마음과 행동을 올바르게 해야 한다고 말했습니다. 하지만 내 생각은 다릅니다. 천하의 혼란이 생긴 이유는 모두가 자신을 사랑하면서도 아울러 서로 사랑하지[兼愛] 않아 자신과 남을 차별하기 때문입니다. 비록 악기 소리가 즐겁지 않은 것은 아니지만, 임금과 대신들이 백성에게 악기를 만들게 하고 연주를 일삼게 한다면 어떻게 되겠습니까? 분명 백성에게 많은 세금을 거두게 될 것이고, 백성은 먹고 입을 재물을 구하기가 어려워질 것입니다. 따라서 내가 볼 때 당신의 견해는 ㉠ 고 생각합니다. ... (후략).

- ① 음악과 예의의 조화를 통해 혼란을 바로잡을 수 있음을 간과한다
- ② 인간의 본성을 교화하여 화합하는 데 음악이 필요함을 간과한다
- ③ 사회적인 부작용을 일으키는 음악이 존재할 수 있음을 간과한다
- ④ 음악이 이상적 공동체를 구현하는 데 수단이 될 수 있음을 간과한다
- ⑤ 위정자가 선왕의 음악을 장려하는 것이 백성에게 무익함을 간과한다

19. (가)의 갑, 을, 병 사상가들의 입장에서 서로에게 제기할 수 있는 비판을 (나) 그림으로 표현할 때, A~F에 해당하는 내용으로 가장 적절한 것은? [3점]

(가)	<p>갑: 우리가 하는 원조의 역할은 고통받는 사회가 만민들의 사회의 완전한 성원이 되도록 돕는 것이다. 그리고 그들이 미래의 경로를 정할 수 있도록 하는 것이다.</p> <p>을: 우리의 풍요로움을 우리 사회의 시민에게만 나누어 주는 것은 잘못이다. 이익 평등 고려의 원칙에 따라 혜택을 가장 크게 낼 수 있는 곳에 사용해야 한다.</p> <p>병: 우리는 최소 국가 안에서 삶을 선택하고 목표를 실현할 수 있다. 이 과정에서 우리는 같은 존엄성을 지닌 다른 개인들의 자발적인 협동의 도움을 받는다.</p>
(나)	<div style="text-align: center;"> </div> <p>〈범례〉 → : 비판의 방향 A~F : 비판의 내용</p> <p>〈예시〉 A는 갑이 을에게 제기할 수 있는 비판임.</p>

- ① A: 원조의 중단 지점을 두는 것은 원조 목적에 위배됨을 간과한다.
- ② B: 원조 대상을 선정할 때 상대적 빈곤은 고려할 필요가 없음을 간과한다.
- ③ C, E: 자신의 이웃을 먼저 돕는 것이 정당한 경우가 있음을 간과한다.
- ④ D: 자선을 행하지 않는 것이 비난의 대상이 될 수 없음을 간과한다.
- ⑤ F: 원조 대상국이 자국의 부정을 교정하도록 도와야 함을 간과한다.

20. 다음 토론의 핵심 쟁점으로 가장 적절한 것은?

갑: 현재의 분단 상황은 정전 상태로, 전쟁이 발생할 수 있는 불안정한 상태입니다. 따라서 이 상황이 끝나지 않는 한 한반도 평화와 지속 가능한 발전은 보장하기 어렵습니다.

을: 맞습니다. 그래서 종전 선언이 필요합니다. 종전 선언은 남북한이 상호 적대 정책을 전환하는 신호탄이 될 것이며, 남북 교류의 물꼬를 트고 한반도 평화를 이끌어낼 것입니다.

갑: 종전 선언으로 남북 교류가 확대될 수 있지만 북한의 대남 적대 정책은 유지될 것입니다. 따라서 종전 선언은 북한의 핵 폐기에 대한 반대급부로서 추진되어야 합니다.

을: 종전 선언이 북한만을 위한 시혜는 아니므로 상호주의의 대상은 아닙니다. 오히려 종전 선언이 정전 상태를 명분으로 핵을 개발한다는 북한의 입장을 변화시킬 수 있습니다.

- ① 북한은 현재 대남 적대 정책을 취하고 있는가?
- ② 분단은 한반도의 지속 가능한 발전을 저해하는가?
- ③ 종전 선언을 통해 남북 교류가 활성화될 수 있는가?
- ④ 종전 선언은 상호주의 관점에서 이루어져야 하는가?
- ⑤ 현재의 한반도 상황은 전쟁이 종식되지 않은 상태인가?

* 확인 사항
○ 답안지의 해당란에 필요한 내용을 정확히 기입(표기)했는지 확인 하시오.

2022학년도 대학수학능력시험

사회탐구 영역 정답표
(생활과 윤리) 과목

문항 번호	정 답	배 점	문항 번호	정 답	배 점	문항 번호	정 답	배 점	문항 번호	정 답	배 점
1	③	2	6	②	3	11	②	2	16	④	2
2	②	3	7	①	2	12	②	3	17	①	2
3	①	3	8	③	2	13	③	2	18	⑤	3
4	⑤	2	9	⑤	3	14	⑤	3	19	⑤	3
5	②	2	10	④	3	15	③	3	20	④	2

제 4 교시

사회탐구 영역 (윤리와 사상)

성명

수험 번호

제 [] 선택

윤리와 사상

1. 다음 가상 편지를 쓴 고대 동양 사상가가 강조하는 삶의 태도로 가장 적절한 것은?

우리 학생들에게

학생 여러분, 호연지기(浩然之氣)를 잘 길러 나가야 합니다. 호연지기란 지극히 크고 강한 기개인데, 울긋불긋 기른다면 하늘과 땅 사이를 가득 채우게 되지요. 그 기개의 됴됨이는 의(義)와 도(道)가 없으면 위축되고 맙니다. 그러니 호연기기를 함양하려면 의와 도에 맞는 일을 실천해야 합니다. 부귀를 누려도 마음이 동요되지 않고, 빈천(貧賤)에 시달려도 의지가 변함이 없으며, 위세와 무력 앞에서도 지조를 굽히지 않는 사람, 여러분 모두 그런 사람이 되리라 믿습니다. 힘내세요 여러분.

- ① 교육을 통해 자신의 선천적 본성을 변화시켜야[化性起僞] 한다.
- ② 깨달음에 이르기 위해 계(戒), 정(定), 혜(慧)를 습관화해야 한다.
- ③ 어떤 것에도 얽매이지 않는 절대적 경지[逍遙]에 도달해야 한다.
- ④ 도리에 어긋나지 않는 옳은 행위를 꾸준히 실천해야[集義] 한다.
- ⑤ 친소(親疏)의 차별 없이 모든 사람을 동등하게 사랑해야[兼愛] 한다.

2. 다음은 근대 서양 사상가 갑, 을의 가상 대화이다. 갑, 을의 입장으로 가장 적절한 것은? [3점]

공감 원리는 우리의 모든 소감들로 하여금 강한 승인과 불승인을 불러일으킬 수 있을 정도로 우리 소감을 안으로 아주 깊게 들어오고 또 매우 강력한 영향력을 행사합니다.

공감 원리는 쾌락을 증가시킨다는 이유가 아니라 우리가 승인하려는 성향을 가진다는 이유만으로 어떤 행동을 승인합니다. 반면, 나의 공리 원리는 강도, 지속성 등에 의해 계산되는 쾌락을 증가시키는 경향에 근거하여 승인합니다.



- ① 갑: 선악 구별은 행위에 적용될 뿐 성품에 적용될 수 없다.
- ② 갑: 이성(理性)은 정념(情念)이 기초하고 있는 믿음의 진위를 가려낼 수 있다.
- ③ 을: 쾌락은 행위의 목적일 뿐 행위의 원인이 될 수 없다.
- ④ 을: 쾌락의 증가는 선이지만 고통의 감소는 선이 아니다.
- ⑤ 갑, 을: 공감 원리는 행위의 옳고 그름을 판단하는 보편적 원리이다.

3. 고대 서양 사상가 갑, 근대 서양 사상가 을의 입장으로 옳은 것은?

갑: 쾌락은 행복한 삶의 시작이자 끝으로, 육체의 고통과 마음의 불안이 없는 상태이다. 삶이 즐거우려면 우리의 정신에서 신과 죽음에 대한 잘못된 믿음들을 몰아내야 한다.

을: 행복은 고통의 부재이며, 불행은 쾌락의 결핍이다. 최대 행복 원리는 사람들이 가능한 한 고통이 없고 양적으로나 질적으로 최대한의 쾌락을 누리는 것을 목적으로 한다.

- ① 갑: 즐거운 삶을 위해 이성적인 숙고가 요구되는 것은 아니다.
- ② 갑: 신은 악행을 저지른 사람에게 그에 합당한 징벌을 내린다.
- ③ 을: 고상한 쾌락을 얻기 위해서는 감각 이외의 능력도 필요하다.
- ④ 을: 행복을 바라는 인간의 본성은 도덕 원리의 근거가 될 수 없다.
- ⑤ 갑, 을: 사회 전체의 쾌락을 증진시키는 행위만이 도덕적 가치가 있다.

4. 고대 동양 사상가 갑, 을의 입장으로 가장 적절한 것은?

갑: 열반이란 탐욕(貪), 성냄(瞋), 어리석음(癡)이 멀어져 모든 번뇌가 영원히 멸한 것이다. 열반을 얻는 도(道)가 곧 팔정도(八正道)이니 닦고 익히며 또 닦고 익혀야 한다.

을: 지인(至人)은 천지 본연의 모습을 따르고 자연의 변화에 순응하여 무한의 세계에 노니는[遊] 자이다. 그러므로 세상 일을 따라 허둥지둥하지 않는다.

- ① 갑: 만물이 불변함을 깨닫지 못한 데서 고통이 발생한다.
- ② 갑: 열반에 이르러도 무명(無明)에서 비롯된 고통은 사라지지 않는다.
- ③ 을: 도는 만물의 근원일 뿐 만물에 내재하지 않는다.
- ④ 을: 만물은 본성의 차이로 말미암아 서로 우열이 있다.
- ⑤ 갑, 을: 자기중심적 집착에서 벗어나려는 수양이 필요하다.

5. 다음을 주장한 한국 유교 사상가의 입장으로 옳은 것은? [3점]

인간이 하늘로부터 부여받은 것은 영명(靈明)뿐이다. 사랑할 수 있고 의로울 수 있으며 예의 바를 수 있고 지혜로울 수 있는 능력이라면 인간이 타고난 것이다. 하지만 하늘이 인의예지(仁義禮智)라는 네 가지 알맹이를 인간의 본성 속에 부여했다고 말한다면, 그것은 진실이 아니다. 인의예지라는 명칭은 반드시 일을 행한[行事] 이후에 성립한다.

- ① 사덕(四德)은 하늘이 인간에게만 부여한 도덕 법칙이다.
- ② 자주지권(自主之權)은 스스로 선(善)을 실천해야 생기는 권능이다.
- ③ 사덕은 선을 좋아하고 악을 부끄러워하는 영지(靈知)의 기호이다.
- ④ 인간은 선한 기호의 본성과 악한 기호의 본성을 함께 타고난다.
- ⑤ 사비지심(是非之心)은 모든 인간이 태어날 때부터 갖는 선한 마음이다.

2 (윤리와 사상)

사회탐구 영역

6. 한국 불교 사상가 갑, 을의 입장으로 옳은 것은?

갑: 도(道)에 들어가는 방법은 많지만 요약해서 말하면 돈오(頓悟)와 점수(漸修)뿐이다. 돈오돈수(頓悟頓修)를 할 수 있는 사람이 있지만 이 사람도 과거 여러 생애에 걸쳐 돈오한 이후에 점수했기 때문에 그리할 수 있는 것이다.
 을: 수행 방법이 많지만 처음 수행에 들어갈 때에는 일심(一心)의 진여문(眞如門)에 의하여 지행(止行)을 닦고 생멸문(生滅門)에 의하여 관행(觀行)을 일으킨다. 둘을 함께 운용하면 모든 실천 수행이 여기에 갖추어지게 된다.

- ① 갑: 자신의 불성을 단번에 깨달은 후에도 점진적 수행이 필요하다.
- ② 갑: 정(定)을 닦고 혜(慧)를 나중에 닦아야 습기(習氣)가 사라진다.
- ③ 을: 일심에서 보면 진여(眞如)와 생멸(生滅)은 그 근본이 다르다.
- ④ 을: 중생과 부처의 마음이 본래 다르지만 누구나 부처가 될 수 있다.
- ⑤ 갑, 을: 마음 밖의 진리를 찾아 깨우치고 자비를 베풀어야 한다.

7. 고대 동양 사상가 갑, 을 모두가 부정의 대답을 할 질문으로 가장 적절한 것은?

갑: 무엇을 하고자 하는 사람[爲者]은 실패하고, 움켜잡는 사람은 잃는다. 그런 까닭에 성인(聖人)은 아무것도 함이 없으므로 [無爲] 실패함이 없고, 움켜잡음이 없으니 잃음이 없다.
 을: 그릇은 용기장이의 작위[僞]로 생기는 것이지 그 사람의 본성에서 생기는 것이 아니다. 예의(禮義)는 성인의 작위로 생기는 것이지 그 사람의 본성에서 생기는 것이 아니다.

- ① 인격 수양을 위해 후천적 노력이 필요한가?
- ② 하늘[天]이 부여한 도덕적 본성에 따라 살아가야 하는가?
- ③ 사람의 귀천과 상하를 구분하여 나라를 다스려야 하는가?
- ④ 성인은 예의를 제정하여 사회 혼란을 바로잡을 수 있는 사람인가?
- ⑤ 이상적인 통치는 백성의 무지(無知)와 무욕(無欲)을 지향하는가?

8. 근대 서양 사상가 갑, 을의 입장으로 옳은 것은? [3점]

갑: 아리스토텔레스 논리학에 따라 제시된 논증은, 세계를 인간의 사유에 예측시키고, 인간의 사유를 언어에 예측시킬 뿐이다. 그릇된 논증은 우상을 보호하는 방책에 불과하다.
 을: 모든 것이 의심스럽다 할지라도 이 모든 것을 의심스럽다고 생각하고 있는 자아는 필연적으로 존재해야 한다. 이것이 바로 내가 제시하고자 하는 철학의 제1원리이다.

- ① 갑: 자연에 대한 지식은 인간의 삶을 개선하는 데 필수적이다.
- ② 갑: 우상 타파를 위해 채택해야 할 학문의 방법은 연역법이다.
- ③ 을: 철학의 제1원리로부터 지식을 추론하려 해서는 안 된다.
- ④ 을: 더 이상 의심할 수 없는 자명한 진리는 존재하지 않는다.
- ⑤ 갑, 을: 진리 탐구를 위해 전통적인 권위를 의심할 필요는 없다.

9. 다음을 주장한 고대 서양 사상가의 입장으로 옳은 것만을 <보기>에서 있는 대로 고른 것은? [3점]

피리 연주자 같은 기술자의 좋음은 그가 행하는 기능에 있다. 손, 발, 눈 같은 자연적 기관들의 좋음도, 동식물 같은 자연적 존재들의 좋음도 각각의 기능에 있다. 한 사물이 자신의 기능을 잘 수행하도록 해 주는 탁월성을 갖추는 것, 그리고 실제로 잘 수행하는 것이 그 사물의 목적이다. 각 기술적 행위나 자연적 기관들에 목적이 있듯, 인간이든 국가든 각각의 존재에는 고유한 목적이 깃들어 있다.

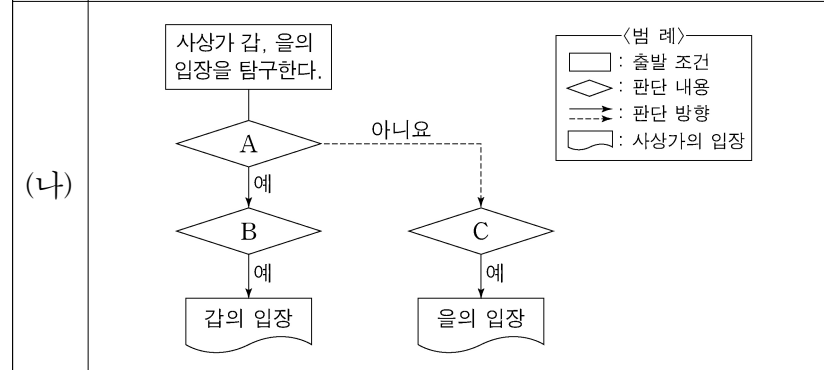
<보 기>

- ㄱ. 좋은 삶은 개인과 국가의 궁극적인 목적이다.
- ㄴ. 행복은 영혼의 탁월한 품성 상태라고 정의된다.
- ㄷ. 좋음은 항상 그 자체를 위해 선택될 뿐 다른 것을 위해 선택되지 않는다.
- ㄹ. 사물의 좋음과 목적을 알려면 그 사물의 고유한 기능을 알아야 한다.

- ① ㄱ, ㄷ ② ㄱ, ㄹ ③ ㄴ, ㄷ
- ④ ㄱ, ㄴ, ㄹ ⑤ ㄴ, ㄷ, ㄹ

10. (가)의 중국 유교 사상가 갑, 을의 입장을 (나) 그림으로 탐구하고자 할 때, A~C에 들어갈 옳은 질문만을 <보기>에서 있는 대로 고른 것은? [3점]

(가) 갑: 마음은 몸을 주재하는 것으로서 그 본체가 되는 것이 성(性)이고 그 작용이 되는 것이 정(情)이다. 마음은 성과 정을 통괄한다.
 을: 마음에는 모든 이치[理]가 갖추어져 있어서 만사(萬事)가 여기에서 나온다. 마음 밖에 이치는 없고, 마음 밖에 사(事)는 없다.



<보 기>

- ㄱ. A: 마음의 바르지 못함을 바로잡는 일이 격물(格物)인가?
- ㄴ. B: 인간 모두가 지닌 천리로서의 본성[本然之性]은 선한가?
- ㄷ. B: 마음 밖에도 있고 마음 속에도 있는 이(理)를 궁구해야 하는가?
- ㄹ. C: 치지(致知)를 위해서는 사욕(私欲)을 반드시 제거해야 하는가?

- ① ㄱ, ㄴ ② ㄱ, ㄷ ③ ㄴ, ㄹ
- ④ ㄱ, ㄷ, ㄹ ⑤ ㄴ, ㄷ, ㄹ

11. 중세 서양 사상가 갑, 을의 입장으로 옳은 것은? [3점]

갑: 신은 모든 선한 것의 이데아이자, 인간의 최고선이라는 것을 부인할 수 없다. 그렇다면 이로부터 다음과 같은 말이 따라 나온다. 즉, 최고선을 추구하는 것이 좋은 삶이기 때문에, 좋은 삶은 온 마음과 온 영혼과 온 정신으로 신을 사랑하는 것 이외의 다른 것이 아니다.
 을: 신의 본질을 직관하는 것이 인간의 최종 목적인 궁극적 행복이다. 자연적 욕구가 안식에 도달하기 전까지 그 사람은 최종 목적에 아직 도달한 것이 아니다. 최종 목적을 위해서는 자연적 욕구를 잠재우는 신의 본질을 인식해야 하며, 그 외의 지적 인식만으로는 충분하지 않다.

- ① 갑: 도덕적 선과 악이 발생하는 원인은 신에게 있다.
- ② 갑: 신에 대한 사랑이 없는 지혜는 결코 진정한 덕이 될 수 없다.
- ③ 을: 철학적 사고와 신에 대한 믿음은 서로 모순된다.
- ④ 을: 신이 존재한다는 사실을 아는 것이 인간의 최종 목적이다.
- ⑤ 갑, 을: 지성적 덕과 품성적 덕의 결합으로 지복(至福)이 완성된다.

12. 갑, 을은 한국 유교 사상가들이다. 갑이 을에게 제기할 수 있는 비판으로 가장 적절한 것은? [3점]

갑: 정(情)에는 희(喜), 노(怒), 애(哀), 구(懼), 애(愛), 오(惡), 욕(欲) 일곱 가지가 있을 뿐이다. 사단이란 선(善)한 정의 다른 이름에 불과하니, 칠정을 말하면 사단은 그 안에 들어 있다.
 을: 칠정과 기(氣)와의 관계는 사단과 이(理)와의 관계와 같다. 칠정과 사단이 발현하는 데 각각 혈맥이 있고 그 이름에는 각각 가리키는 바가 있으므로 기와 이로 분류하여 소속시킬 수 있다.

- ① 사단과 칠정의 발생 근원이 각각 따로 있음을 간과한다.
- ② 사단과 칠정은 모두 성(性)이 발현한 정(情)임을 간과한다.
- ③ 사단은 순선하지만 칠정은 악으로 흐를 수 있음을 간과한다.
- ④ 이와 기는 개념적으로 서로 구분될 수 없는 관계임을 간과한다.
- ⑤ 이는 스스로 작용할 수 없으며 기만 스스로 작용함을 간과한다.

13. 다음을 주장한 고대 서양 사상가의 입장으로 옳지 않은 것은?

국가는 철학자, 즉 지혜를 사랑하는 자가 다스려야만 한다. 그것이 아니라면 현재 국가를 다스리는 자, 즉 최고 권력자가 진실하게 그리고 충분하게 지혜를 사랑하지 않으면 안 된다. 인간에게 나쁜 것들을 중식시키고자 한다면, 이와 같이 정치 권력과 지혜에 대한 사랑은 한데 합쳐져야만 한다.

- ① 각 계층이 각자 해야 할 일에 충실한 것이 정의이다.
- ② 정의로운 국가에서는 사유 재산이 허용되는 계층이 있다.
- ③ 이상 국가를 구성하는 세 계층 모두에게 공통된 덕이 있다.
- ④ 국가 전체의 좋음은 인식할 수 있는 사람은 존재할 수 없다.
- ⑤ 절제의 덕을 갖추지 못한 사람은 이상 국가의 통치자가 될 수 없다.

14. (가)의 사회사상가 갑, 을의 입장을 (나) 그림으로 표현할 때, A~C에 해당하는 내용으로 옳은 것은? [3점]

(가)	<p>갑: 인간이 국가 속에서의 구속을 스스로 부과하는 원인과 목적은 자기 보존과 그로 인한 만족된 삶을 위해 전쟁 상태로부터 벗어나려는 데 있다.</p> <p>을: 인간은 모든 분쟁의 옳고 그름을 가려 판단할 권위를 가진 입법부를 지상에 설정함으로써, 자연 상태에서 벗어나 국가의 상태로 들어가게 된다.</p>
(나)	

- ① A: 사회 계약의 주체가 국가의 주권을 갖는 것은 아니다.
- ② A: 개인의 권리를 보장하기 위해 국가 권력은 분할되어야 한다.
- ③ B: 국가 성립의 유일한 목적은 개인들의 생명권 보장이다.
- ④ C: 입법부가 지닌 권력은 제한될 수 있어도 철회될 수는 없다.
- ⑤ C: 사회 계약 이후에는 개인이 아닌 국가만이 처벌권을 지닌다.

15. 근대 한국 사상가 갑, 을의 입장으로 옳은 것만을 <보기>에서 고른 것은?

갑: 의복·식용(食用)·기용(器用)에 양물(洋物)이 하나라도 있으면 모두 찾아내어 궁궐의 뜰에 모아 태워 버려야 한다. 그리고 지극히 올바른 우리의 도(道)를 밝혀 백성을 교화시키고 인애와 윤리를 넓혀 나가야 한다.
 을: 오랑캐 땅에서도 효제충신의 도는 해와 별처럼 빛나서 버릴 수 없는 것이다. 바꿀 수 없는 도와 바꿀 수 있는 기(器)는 서로 떨어지지 않으므로 우리의 도를 잘 시행한다면 서양의 기를 행하는 것도 매우 쉬울 것이다.

—<보 기>—

ㄱ. 갑: 화친의 이익을 도모하지 말고 충효의 도의를 지켜야 한다.
 ㄴ. 을: 서양의 정치 체제를 수용하고 외국과 화합해야 한다.
 ㄷ. 갑, 을: 서양의 종교와 도덕으로 유학 정신을 대체해서는 안 된다.
 ㄹ. 갑, 을: 만민 평등을 실현하기 위해 신분 질서를 폐지해야 한다.

- ① ㄱ, ㄴ ② ㄱ, ㄷ ③ ㄴ, ㄷ ④ ㄴ, ㄹ ⑤ ㄷ, ㄹ

4 (윤리와 사상)

사회탐구 영역

16. 다음을 주장한 근대 서양 사상가의 입장으로 옳은 것은? [3점]

내 위의 별이 빛나는 하늘과 내 안의 도덕 법칙, 나는 이 둘을 마치 어둠 속에 감춰져 있는 것처럼 찾거나 추측하지 않는다. 나는 이 둘을 눈앞에서 보고 나의 존재 의식과 직접 연결시킨다. 도덕 법칙은 나의 인격성에서 출발하고, 참된 무한성을 갖는, 그러나 지성에 의해서만 감지되는 세계, 즉 예지계 속에서 나를 나타낸다. 예지계와 나의 연결은 결코 우연적이 아니라 보편적이고 필연적임을 나는 인식한다.

- ① 보편적 도덕 법칙만이 명령의 형식으로 표현될 수 있다.
- ② 신과 인간 모두에게 도덕 법칙이 의무로 부과될 수 있다.
- ③ 의무로부터 비롯된 모든 행위는 의무에 맞는 행위에 속한다.
- ④ 개인의 주관적 행위 규칙은 보편적 도덕 법칙이 될 수 없다.
- ⑤ 인간은 자연법칙의 지배하에 있지 않으며 도덕 법칙에만 지배받는다.

17. 근대 서양 사상가 갑, 현대 서양 사상가 을의 입장으로 옳은 것은? [3점]

갑: 인간의 정신은 어떤 것을 의지하도록 이미 어떤 원인에 의해 결정되고, 이 원인 역시 다른 원인에 의해 결정되며, 이렇게 무한히 진행된다. 신, 즉 자연만이 자기 원인이다.
 을: 결정론으로 자신의 자유를 숨기려는 자는 비겁한 자이며, 자신의 실존이 우연한 것이 아니라 필연적이었다고 증명하려는 자는 불순하다. 인간은 자유롭도록 선고받았다.

- ① 갑: 모든 일의 결과에 반드시 원인이 존재하는 것은 아니다.
- ② 갑: 신은 모든 것의 내재적 원인이 아니라 초월적 원인이다.
- ③ 을: 실존이 자신의 본질에 앞서는 유일한 존재는 인간이다.
- ④ 을: 인간에게 자신의 선택에 따른 책임까지 요구해서는 안 된다.
- ⑤ 갑, 을: 인간은 필연성에서 벗어나 행위할 수 있는 자유 의지가 있다.

18. 현대 사회사상가 갑, 을의 입장으로 적절한 것만을 <보기>에서 고른 것은?

갑: 지배 없는 상태로서의 자유와 간섭 없는 상태로서의 자유가 충돌할 때, 전자를 후자보다 우선해야 한다. 그것이 공화국의 핵심이다. 공화국의 공공선은 지배 없는 상태로서의 자유를 추구하는 시민들에게 좋은 것을 의미한다.
 을: 자유라는 것은 한 사람 또는 일군의 사람이 다른 사람의 간섭 없이 스스로 할 수 있는 일을 할 수 있도록 방임되어야 할 영역은 무엇인가에 관한 물음과 관련된다. 이것은 통제나 간섭의 근원을 묻는 적극적 의미의 자유와 구분된다.

<보 기>

ㄱ. 갑: 비지배의 자유를 실현하는 데 법치가 필요한 것은 아니다.
 ㄴ. 갑: 자유는 천부의 자연권이 아니라 시민이 만들어 가는 것이다.
 ㄷ. 을: 선한 의도를 가진 간섭도 소극적 자유를 침해할 수 있다.
 ㄹ. 갑, 을: 국가의 모든 간섭이 사라져야 시민의 자유가 보장된다.

- ① ㄱ, ㄴ ② ㄱ, ㄷ ③ ㄴ, ㄷ ④ ㄴ, ㄹ ⑤ ㄷ, ㄹ

19. (가)의 사회사상가 갑, 을, 병의 입장에서 서로에게 제기할 수 있는 비판을 (나) 그림으로 표현할 때, A~F에 해당하는 내용으로 가장 적절한 것은?

(가)	<p>갑: 경쟁은 우리의 행위들이 서로 조정될 수 있는 유일한 방법이다. 계획이 불가피하다는 주장은 근거가 없으며, 우리를 노예의 길로 안내할 뿐이다.</p> <p>을: 경쟁에 내맡기면 최선의 사회가 도래할 것이라는 믿음은 지나친 낙관이다. 이것은 유효 수요의 부족으로 인한 경기 침체를 고려하지 않은 것이다.</p> <p>병: 경쟁 대신 연합이 필요하다. 각자의 자유로운 발전이 모두의 자유로운 발전의 조건이 되는 연합체가 들어서는 공산 사회에서는 계급 대립이 존재하지 않는다.</p>
(나)	<div style="display: flex; justify-content: space-around; margin-top: 10px;"> <div style="border: 1px solid black; padding: 5px; font-size: small;"> <범례> →: 비판의 방향 A~F: 비판의 내용 </div> <div style="border: 1px solid black; padding: 5px; font-size: small;"> <예시> (갑) → (을) A는 갑이 을에게 제기할 수 있는 비판임. </div> </div>

- ① A: 시장에서 개인의 경제 활동의 자유는 인정되어야 함을 간과한다.
- ② B: 빈부 격차 완화를 위한 복지 정책을 축소해야 함을 간과한다.
- ③ C: 시장의 역할만으로는 실업 해소에 한계가 있음을 간과한다.
- ④ D, F: 자본주의에서도 인간의 자유 실현이 가능함을 간과한다.
- ⑤ E: 사회주의 계획 경제로 인해 인간은 노예로 전락함을 간과한다.

20. 고대 서양 사상가 갑, 사회사상가 을의 입장으로 가장 적절한 것은?

갑: 우리 아테네의 통치 체제는 이웃의 제도들을 모방하지 않았다. 우리가 다른 누구를 흉내 낸 것이 아니라, 오히려 다른 이웃에게 모범이 되었다. 우리의 정치 체제는 민주주의라고 불리는데, 권력이 전체 인민의 손에 있기 때문이다.
 을: 시민들이 정치적 문제들과 관련된 심의를 할 때, 그들은 의견을 교환하고 자신의 지지 근거들을 논의한다. 여기서 필요한 공적 이성인 기본적 정의에 관련된 시민들의 숙고와 심의를 특징짓는 능력이다.

- ① 갑: 시민은 주권자이지만 공직을 직접 담당할 권한은 없다.
- ② 갑: 시민의 재산 규모에 비례하여 정치적 발언 기회를 부여해야 한다.
- ③ 을: 심의 과정에서 개인의 정치적 의견은 언제든지 변할 수 있다.
- ④ 을: 의사 결정의 정당성은 심의의 절차보다 결론의 내용에 달려 있다.
- ⑤ 갑, 을: 정치 참여 권한이 모든 시민에게 동등하게 보장되는 것은 아니다.

* 확인 사항
 ○ 답안지의 해당란에 필요한 내용을 정확히 기입(표기)했는지 확인 하시오.

2022학년도 대학수학능력시험

사회탐구 영역 정답표
(윤리와 사상) 과목

문항 번호	정 답	배 점	문항 번호	정 답	배 점	문항 번호	정 답	배 점	문항 번호	정 답	배 점
1	④	2	6	①	2	11	②	3	16	③	3
2	②	3	7	②	2	12	⑤	3	17	③	3
3	③	2	8	①	3	13	④	2	18	③	2
4	⑤	2	9	②	3	14	①	3	19	④	2
5	⑤	3	10	⑤	3	15	②	2	20	③	2

제 4 교시

사회탐구 영역 (한국지리)

성명

수험 번호

제 [] 선택

1. 다음은 한국지리 온라인 수업 장면의 일부이다. 답글의 내용이 옳은 학생을 고른 것은?

한국지리 온라인 수업

○ (가)는 동해에 위치한 섬으로 동도와 서도 및 89개의 부속 도서로 이루어져 있다.

○ (나)는 제주도 모슬포항에서 남쪽으로 약 11km 떨어진 섬으로 국토 최남단 표지석이 있다.

○ (다)는 최고 지점이 해수면 4.6m 아래에 잠긴 수중 암초로 2003년에 우리나라의 종합 해양 과학 기지가 건설되었다.

○ (라)는 124° 39' 37"E, 37° 57' 30"N에 위치한 섬이며 주요 관광지로 해안 경관이 뛰어난 두무진이 있다.

자료의 (가)~(라)에 대하여 답글을 달아 보세요.

갑: (나)는 (가)~(라) 중 가장 저위도에 위치해요.

을: (다)는 천연 보호 구역으로 지정되어 있어요.

병: (라)는 (가)보다 우리나라 표준 경선과의 최단 거리가 가까워요.

정: (가)와 (나)는 영해 설정에 통상 기선을 적용해요.

무: (가)와 (라) 간의 직선 거리보다 (나)와 (다) 간의 직선 거리보다 가까워요.

- ① 갑 ② 을 ③ 병 ④ 정 ⑤ 무

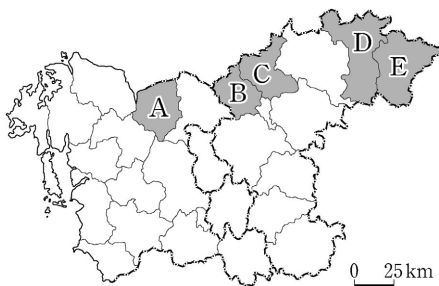
2. 다음은 우리나라 국토 종합 (개발) 계획 자료의 일부이다. ㉠, ㉡에 대한 설명으로 옳은 것은?

구분	주요 추진 과제
㉠ 제○차 계획	<ul style="list-style-type: none"> 고도 경제 성장을 위한 기반 시설 조성 수도권과 남동 임해 공업 지구 중심의 개발 수출 주도형 공업화 추진
㉡ 제□차 계획	<ul style="list-style-type: none"> 세계적 국토 경쟁력 강화 자연 친화적이고 안전한 국토 공간 조성 광역 경제권을 형성하여 지역별 특화 발전 추진

- ① ㉠ 시행 시기에 고속 철도(KTX)가 개통되었다.
 ② ㉡ 시행 시기에 개발 제한 구역이 처음 지정되었다.
 ③ ㉠은 ㉡보다 시행 시기가 이른다.
 ④ ㉡ 시행 시기는 ㉠ 시행 시기보다 수도권 인구 집중률이 낮다.
 ⑤ ㉠은 균형 개발, ㉡은 성장 거점 개발 방식을 추구한다.


3. 다음 글에서 설명하는 지역을 지도의 A~E에서 고른 것은? [3점]

이 지역은 수도권 과밀화 해소와 지역 균형 발전의 일환으로 수도권 으로부터 공업이 이전하면서 제조업이 꾸준히 성장하고 있으며, 전자 및 자동차 관련 산업들이 집적되어 있다. 2008년에 수도권과 전철로 연결되었으며, 오래된 역사를 지닌 온천을 활용하여 지역 마케팅을 시행하고 있다.



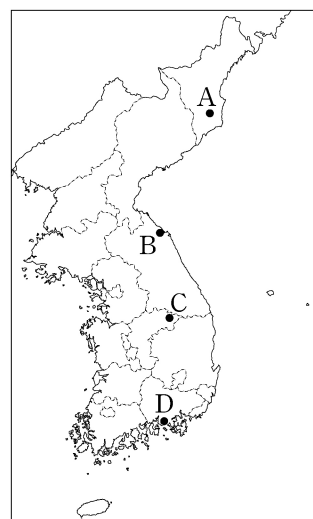
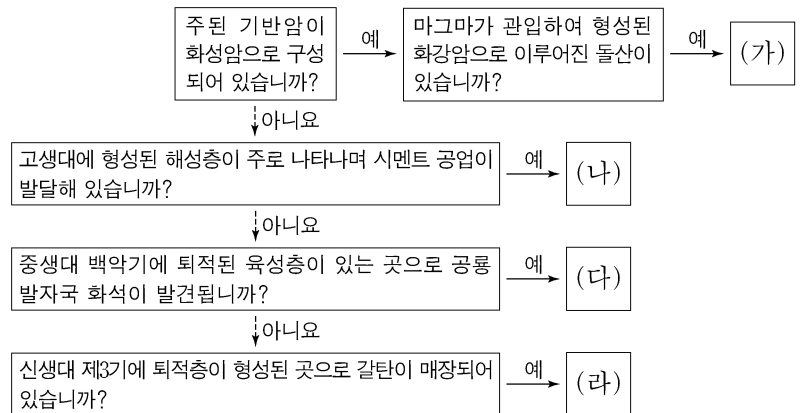
- ① A
 ② B
 ③ C
 ④ D
 ⑤ E

4. 그림은 (가), (나) 자연재해가 발생했을 때의 위성 영상을 나타낸 것이다. 이에 대한 설명으로 옳은 것은? (단, (가), (나)는 각각 대설, 태풍 중 하나임.)



- ① 제주의 최근 10년 동안 총피해액은 (나)가 (가)보다 많다.
 ② (가)는 저위도의 열대 해상에서 주로 발원한다.
 ③ (가)는 (나)보다 우리나라의 연 강수량에 미치는 영향이 크다.
 ④ (나)는 (가)보다 겨울철 발생 빈도가 높다.
 ⑤ (가)는 해일 피해, (나)는 빙판길 교통 장애를 유발한다.

5. 그림의 (가)~(라)에 해당하는 지역을 지도의 A~D에서 고른 것은? [3점]



- | | (가) | (나) | (다) | (라) |
|---|-----|-----|-----|-----|
| ① | A | C | B | D |
| ② | A | D | C | B |
| ③ | B | A | C | D |
| ④ | B | C | D | A |
| ⑤ | C | B | D | A |

2 (한국지리)

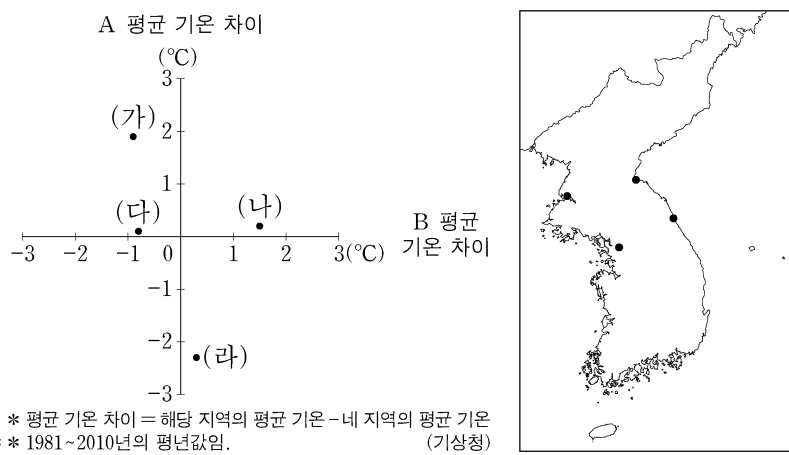
사회탐구 영역

6. 다음은 천연기념물 소개 자료의 일부이다. ㉠~㉣에 대한 설명으로 옳은 것은? [3점]

- 제260호 ‘평창의 백룡 동굴’은 지하수의 용식 작용으로 형성된 ㉠ 석회 동굴로 중유석, 석순, 석주 등의 동굴 생성물을 관찰할 수 있으며...
- 제440호 ‘정선 백복령 카르스트 지대’에서는 석회암이 빗물이나 지하수에 녹아 형성된 우묵한 모양의 ㉡ 돌리네가 나타나며...
- 제443호 ‘제주 중문·대포 해안 주상 절리대’는 화산 활동과 관련하여 용암이 형성한 ㉢ 다각형의 수직 절리로서... 이후 파랑의 침식 작용을 받아 기둥 모양이 잘 드러나며...
- 제444호 ‘제주 선흘리 ㉣ 거문오름’은 한라산 기슭에 분포하는 화산체로... 용암류가 지형 경사를 따라 해안까지 도달하면서 다수의 용암 동굴을 형성하였으며...

- ① ㉠의 주변 지역은 밭농사보다 논농사에 유리하다.
- ② ㉡이 분포하는 지역에서는 현무암 풍화토가 나타난다.
- ③ ㉢은 용암이 냉각되는 과정에서 수축되면서 형성되었다.
- ④ ㉣에는 분화구가 함몰되어 형성된 칼데라가 나타난다.
- ⑤ ㉠과 ㉣은 대체로 투수성이 낮아 지표수가 잘 형성된다.

7. 그래프는 지도에 표시된 네 지역의 A, B 평균 기온 차이를 나타낸 것이다. 이에 대한 설명으로 옳은 것만을 <보기>에서 있는 대로 고른 것은? (단, A, B는 각각 겨울, 여름 중 하나임.) [3점]

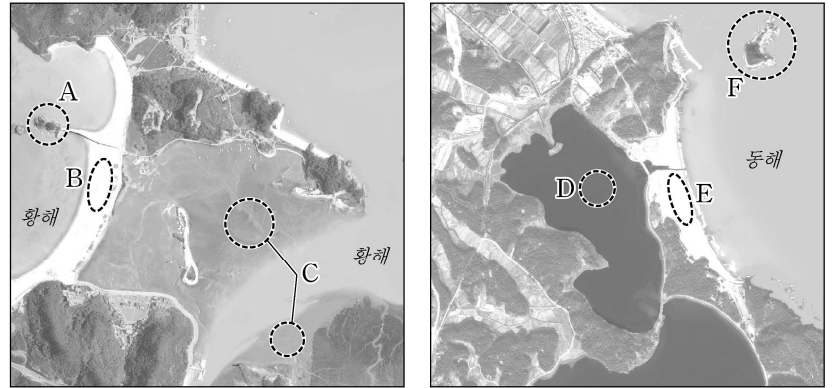


<보 기>

- ㄱ. (가)는 (가)~(라) 중 가장 동쪽에 위치한다.
- ㄴ. (나)와 (라) 간의 연 강수량 차이는 (가)와 (나) 간의 연 강수량 차이보다 크다.
- ㄷ. (다)와 (라) 간의 겨울 평균 기온 차이는 (가)와 (나) 간의 겨울 평균 기온 차이보다 크다.
- ㄹ. 기온의 연교차는 (라) > (가) > (나) > (다) 순으로 크다.

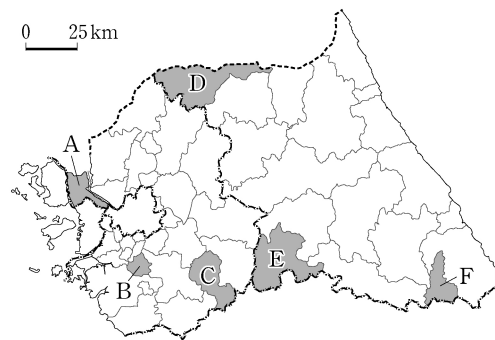
- ① ㄱ, ㄴ ② ㄴ, ㄹ ③ ㄷ, ㄹ
- ④ ㄱ, ㄴ, ㄷ ⑤ ㄱ, ㄷ, ㄹ

8. 그림의 A~F에 대한 설명으로 옳은 것은?



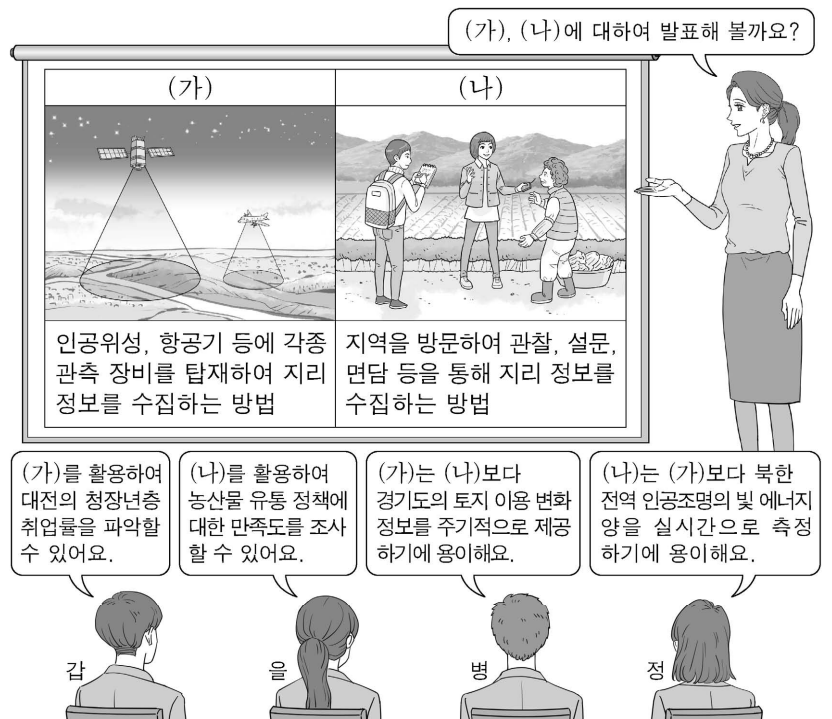
- ① D 호수는 후빙기 해수면 상승 이전에 형성되었다.
- ② B는 C보다 퇴적 물질의 평균 입자 크기가 크다.
- ③ E는 C보다 오염 물질의 정화 기능이 크다.
- ④ A와 F는 육계도이다.
- ⑤ C와 D는 파랑의 작용으로 규모가 확대된다.

9. 지도의 A~F 지역에 대한 설명으로 옳은 것은?



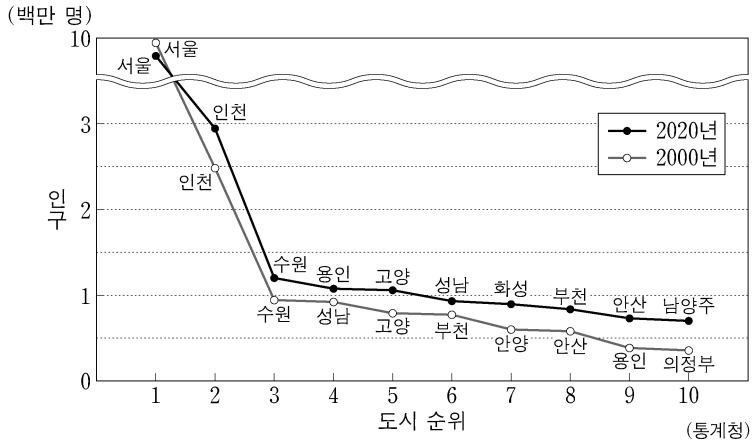
- ① A와 D에는 용암 대지가 발달해 있다.
- ② A와 E에는 기업도시가 조성되어 있다.
- ③ B와 E에는 도청이 위치해 있다.
- ④ B와 F에서는 겨울철 눈을 주제로 한 지역 축제가 개최된다.
- ⑤ C와 D에서는 지리적 표시제에 등록된 쌀이 생산된다.

10. 다음은 지리 정보 수집 방법을 주제로 한 수업 장면이다. 교사의 질문에 옳은 대답을 한 학생만을 고른 것은?



- ① 갑, 을 ② 갑, 병 ③ 을, 병 ④ 을, 정 ⑤ 병, 정

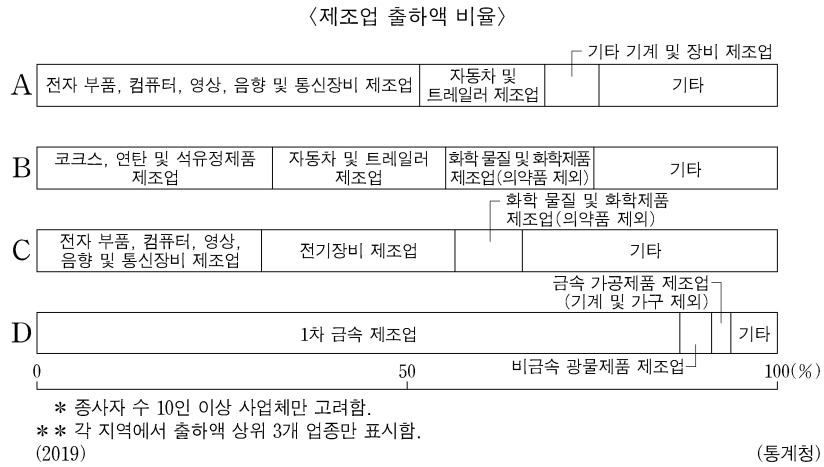
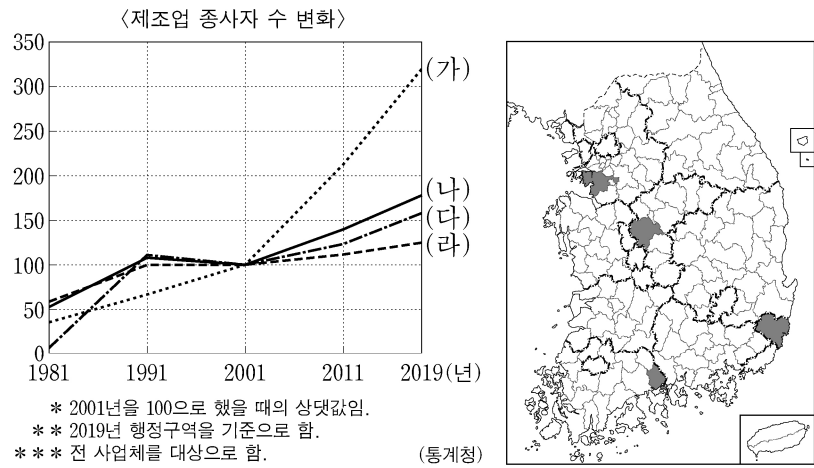
11. 그래프는 인구 규모에 따른 수도권 도시 순위 변화에 관한 것이다. 이에 대한 설명으로 옳은 것만을 <보기>에서 고른 것은? [3점]



<보 기>
 가. 2000년 4~7위 도시에는 모두 수도권 1기 신도시가 있다.
 나. 2000년 대비 2020년 인구 증가율은 용인이 인천보다 높다.
 다. 2000년 대비 2020년에 새롭게 10위 안에 진입한 도시는 모두 서울과 행정 구역이 접해 있다.
 리. 수도권 내 서울의 인구 집중률은 2020년이 2000년보다 높다.

- ① 가, 나 ② 가, 다 ③ 나, 다 ④ 나, 리 ⑤ 다, 리

12. (가)~(라) 지역을 그래프의 A~D에서 고른 것은? (단, (가)~(라)와 A~D는 각각 지도에 표시된 네 지역 중 하나임.)



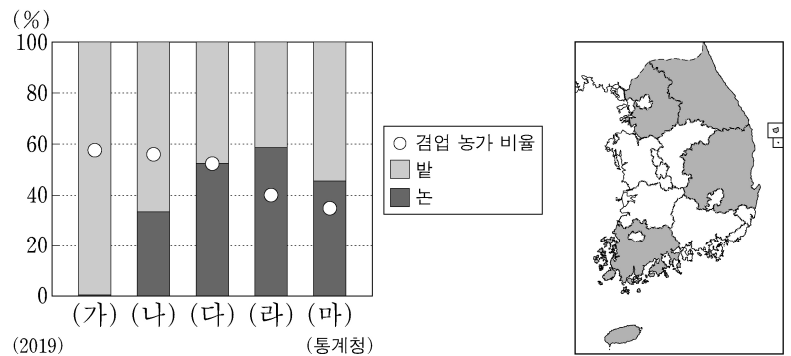
- (가) (나) (다) (라) (가) (나) (다) (라)
 ① A B D C ② A C D B
 ③ A D C B ④ D B A C
 ⑤ D C A B

13. 다음 자료는 답사 계획서의 일부이다. 답사 일정에 해당하는 지역을 지도의 A~E에서 고른 것은? (단, 일정별 답사 지역은 서로 다른 지역임.) [3점]

답사 일정	답사 내용
1일 차	• 혁신도시 방문 • 남강 유등 축제 개최 지역 탐방
2일 차	• 세계 문화유산에 등재된 전통 마을 탐방 • 신라 문화를 이해할 수 있는 역사 유적 지구 탐방
3일 차	• 조선 시대 영남의 관문인 조령 탐방 • 폐탄광을 활용하여 조성된 석탄 박물관 방문

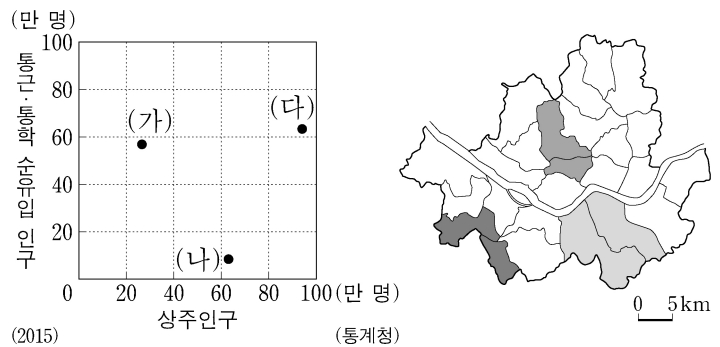
- | | 1일 차 | 2일 차 | 3일 차 | 1일 차 | 2일 차 | 3일 차 | |
|---|------|------|------|------|------|------|---|
| ① | B | A | C | ② | D | C | A |
| ③ | D | E | A | ④ | E | C | B |
| ⑤ | E | D | B | | | | |

14. 그래프는 지도에 표시된 다섯 지역의 논·밭 비율 및 겸업 농가 비율을 나타낸 것이다. (가)~(마) 지역에 대한 설명으로 옳은 것은?



- ① (가)는 (나)보다 겸업 농가가 많다.
 ② (가)는 (마)보다 농가 인구가 많다.
 ③ (나)는 (라)보다 경지율이 높다.
 ④ (다)는 (나)보다 경지 면적 중 논지 채소 재배 면적 비율이 높다.
 ⑤ (마)는 (라)보다 과실 생산량이 많다.

15. 그래프는 지도에 표시된 세 지역군의 인구 특성을 나타낸 것이다. (가)~(다) 지역군에 대한 설명으로 옳은 것은? [3점]

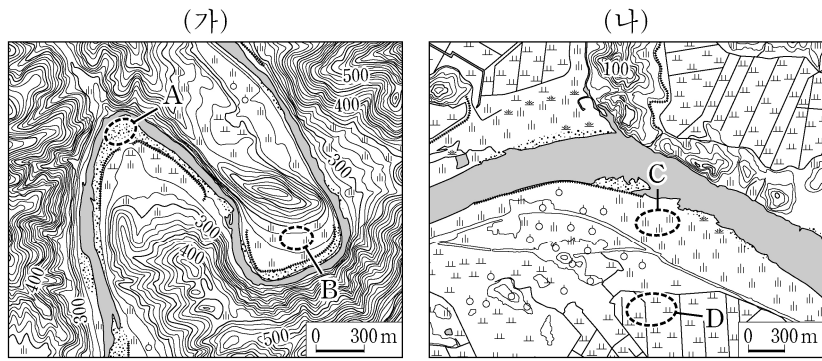


- ① (가)는 (나)보다 제조업 종사자 수가 많다.
 ② (가)는 (다)보다 용도 지역 중 상업 지역의 비율이 높다.
 ③ (나)는 (가)보다 생산자 서비스업 사업체 수가 많다.
 ④ (나)는 (다)보다 금융 기관 수가 많다.
 ⑤ (다)는 (가)보다 주간 인구 지수가 높다.

4 (한국지리)

사회탐구 영역

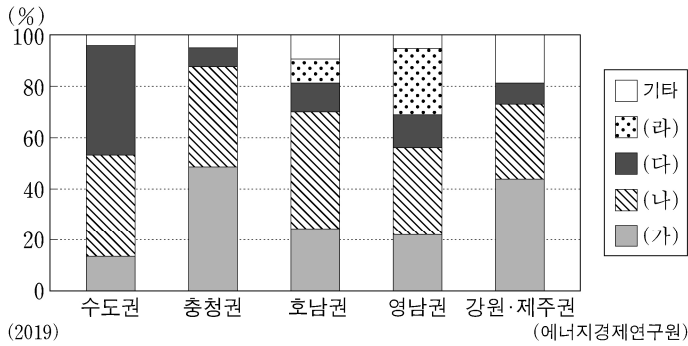
16. (가), (나) 지역에 대한 설명으로 옳은 것만을 <보기>에서 있는 대로 고른 것은? (단, (가), (나)의 하천은 동일한 하계망에 속함.)



<보 기>
 가. (가)의 하천은 (나)의 하천보다 하상의 평균 해발 고도가 높다.
 나. A의 퇴적물은 주로 최종 빙기 때 퇴적되었다.
 다. C는 D보다 퇴적 물질의 평균 입자 크기가 크다.
 리. D는 B보다 홍수 시 범람에 의한 침수 가능성이 높다.

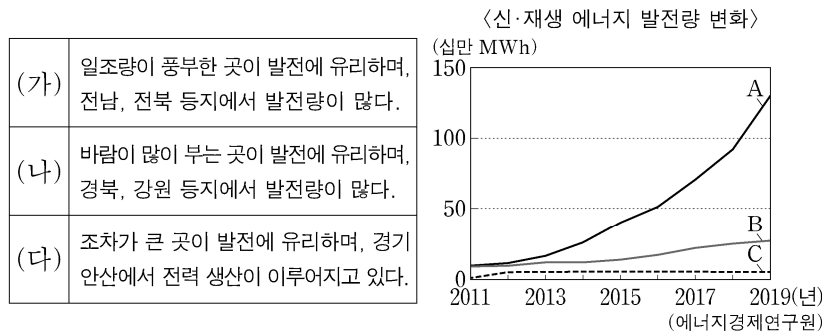
- ① 가, 나 ② 나, 다 ③ 다, 리
- ④ 가, 나, 리 ⑤ 가, 다, 리

17. 그래프는 권역별 1차 에너지원의 공급 비율을 나타낸 것이다. (가)~(라)에 대한 설명으로 옳은 것은? (단, (가)~(라)는 각각 석유, 석탄, 원자력, 천연가스 중 하나임.) [3점]



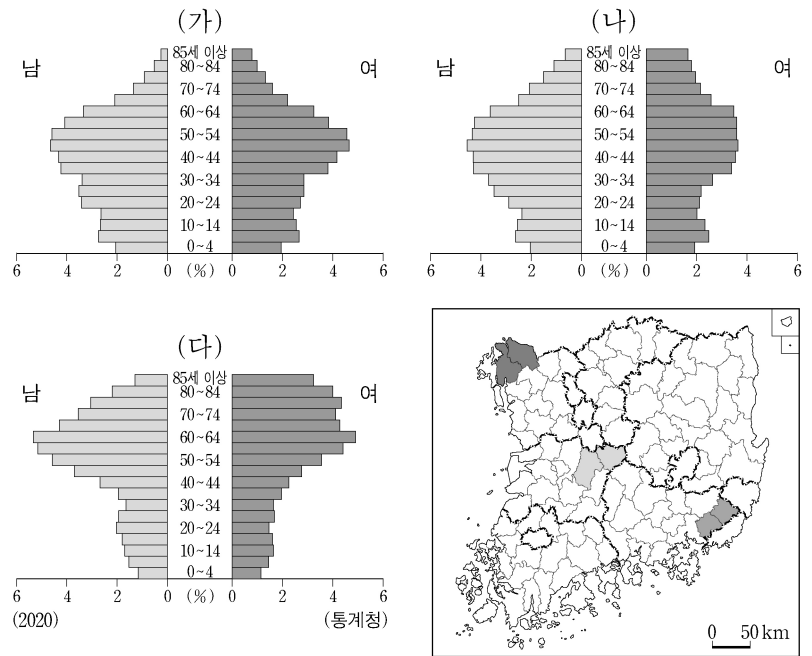
- ① (가)는 전량 해외에서 수입한다.
- ② (가)는 (다)보다 상용화된 시기가 높다.
- ③ (다)는 (나)보다 우리나라 총발전량에서 차지하는 비율이 높다.
- ④ (라)는 (가)보다 우리나라 1차 에너지 소비량에서 차지하는 비율이 높다.
- ⑤ (나)와 (라)는 화력 발전의 연료로 이용된다.

18. 다음 글의 (가)~(다)에 해당하는 신·재생 에너지를 그래프의 A~C에서 고른 것은? (단, (가)~(다)는 각각 조력, 태양광, 풍력 중의 하나임.) [3점]



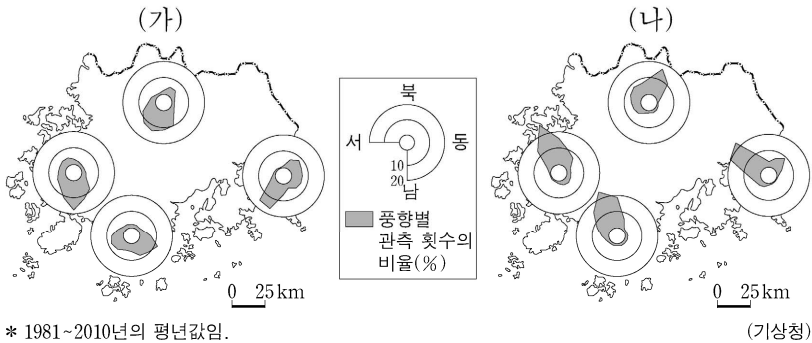
- | | | | | | | | |
|---|-----|-----|-----|---|-----|-----|-----|
| | (가) | (나) | (다) | | (가) | (나) | (다) |
| ① | A | B | C | ② | A | C | B |
| ③ | B | A | C | ④ | B | C | A |
| ⑤ | C | B | A | | | | |

19. 그래프는 지도에 표시된 세 지역군의 인구 구조를 나타낸 것이다. (가)~(다) 지역군에 대한 설명으로 옳은 것은? [3점]



- ① (가)는 (가)~(다) 중 중위 연령이 가장 높다.
- ② (나)는 (가)~(다) 중 총인구가 가장 많다.
- ③ (가)는 (나)보다 총부양비가 높다.
- ④ (나)는 (다)보다 성비가 높다.
- ⑤ (다)는 (가)보다 2차 산업 종사자 비율이 높다.

20. 다음 자료는 네 지역의 풍향을 나타낸 것이다. (가), (나)에 대한 설명으로 옳은 것만을 <보기>에서 고른 것은? (단, (가), (나)는 각각 1월, 7월 중 하나임.)



<보 기>
 가. (가) 기후 특성에 대비하기 위해 관북 지방에서는 전통 가옥에 정주간을 설치하였다.
 나. (나) 기후 특성에 대비하기 위해 남부 지방에서는 전통 가옥에 대청마루를 설치하였다.
 다. (가)는 (나)보다 낮의 길이가 길다.
 리. (나)는 (가)보다 시베리아 기단의 영향을 많이 받는다.

- ① 가, 나 ② 가, 다 ③ 나, 다 ④ 나, 리 ⑤ 다, 리
- * 확인 사항
 ○ 답안지의 해당란에 필요한 내용을 정확히 기입(표기)했는지 확인 하시오.

2022학년도 대학수학능력시험

사회탐구 영역 정답표
(한국지리) 과목

문항 번호	정 답	배 점	문항 번호	정 답	배 점	문항 번호	정 답	배 점	문항 번호	정 답	배 점
1	④	2	6	③	3	11	①	3	16	⑤	2
2	③	2	7	④	3	12	②	2	17	③	3
3	①	3	8	②	2	13	②	3	18	①	3
4	①	2	9	⑤	2	14	⑤	2	19	④	3
5	④	3	10	③	2	15	②	3	20	⑤	2

제 4 교시

사회탐구 영역(세계지리)

성명

수험 번호


제 [] 선택

1. (가), (나) 지도에 대한 설명으로 옳은 것만을 <보기>에서 고른 것은?

(가)



(나)



<보 기>

- ㄱ. (가)는 중국 중심의 세계관이 반영되어 있다.
- ㄴ. (나)에는 경·위선이 표현되어 있다.
- ㄷ. (가)와 (나)는 모두 동양에서 처음 제작되었다.
- ㄹ. (가)와 (나)에는 모두 아메리카 대륙이 표현되어 있다.

- ① ㄱ, ㄴ ② ㄱ, ㄷ ③ ㄴ, ㄷ ④ ㄴ, ㄹ ⑤ ㄷ, ㄹ

2. 다음 자료는 여행 상품 정보의 일부이다. (가), (나) 여행지를 지도의 A~D에서 고른 것은?

≡ 전체 메뉴 여행 기획 여행 여행 OO투어 마이 메뉴 예약 내역 홈

[(가)] 블루라군+화산과 간헐천

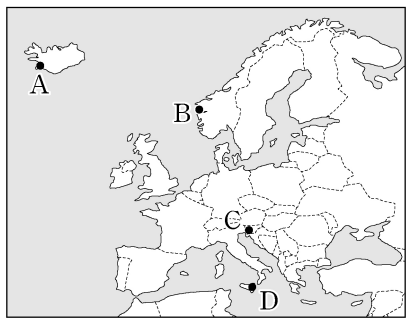
운천욕을 즐기며 오로라 현상을 감상할 수 있는 '블루라군'은 이 지역의 대표적 관광지이다. 또한, 주변 지역에서는 최근까지 분출이 있었던 화산과 땅속에서 솟구쳐 오르는 간헐천 등 다양한 화산 지형을 볼 수 있다.

#오로라 #운천욕 #화산 ★★★★★ 바로 예약하기

[(나)] 포스토이나 동굴+카르스트 지형

유럽의 유명한 석회 동굴 중 하나로 손꼽히는 '포스토이나 동굴'은 이 지역의 대표적 관광지이다. 동굴 내부에는 오랜 시간에 걸쳐 형성된 다양한 형태의 종유석과 석순이 있다. 그 규모는 관광용 기차를 타고 관람할 수 있을 만큼 크다.

#카르스트 지형 #석회 동굴 ★★★★★ 바로 예약하기



- | | | |
|---|-----|-----|
| | (가) | (나) |
| ① | A | B |
| ② | A | C |
| ③ | B | C |
| ④ | D | A |
| ⑤ | D | B |

3. 표는 지도에 표시된 네 국가의 주요 수출품을 나타낸 것이다. (가)~(라) 국가에 대한 설명으로 옳은 것은? [3점]

(단위: %)

국가	(가)		(나)		(다)		(라)	
	수출품	비율	수출품	비율	수출품	비율	수출품	비율
1위	원유	76.5	구리	26.5	차	19.1	대두(콩)	11.6
2위	천연가스	10.1	구리 제품	19.2	화훼류	10.0	원유	10.7
3위	선박(해체용)	4.2	수산물	3.9	석유 제품	7.6	철광석	10.1

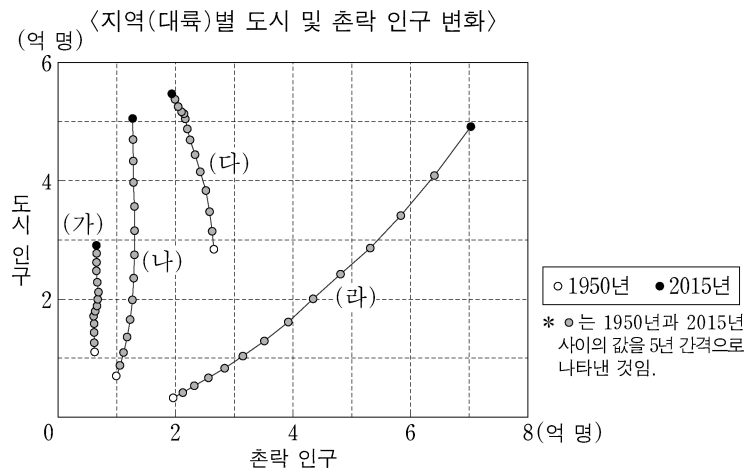
*국가별 수출액 기준 상위 3대 품목만 표시함.

(2019)



- ① (나)는 아프리카에 위치한다.
- ② (다)는 세계에서 카카오 생산량이 가장 많다.
- ③ (나)는 (가)보다 인구가 많다.
- ④ (다)는 (라)보다 석유 생산량이 많다.
- ⑤ (가)~(라) 중 소 사육 두수는 (라)가 가장 많다.

4. 그래프의 (가)~(라) 지역(대륙)에 대한 설명으로 옳은 것은? (단, (가)~(라)는 각각 라틴 아메리카, 아프리카, 앵글로아메리카, 유럽 중 하나임.) [3점]

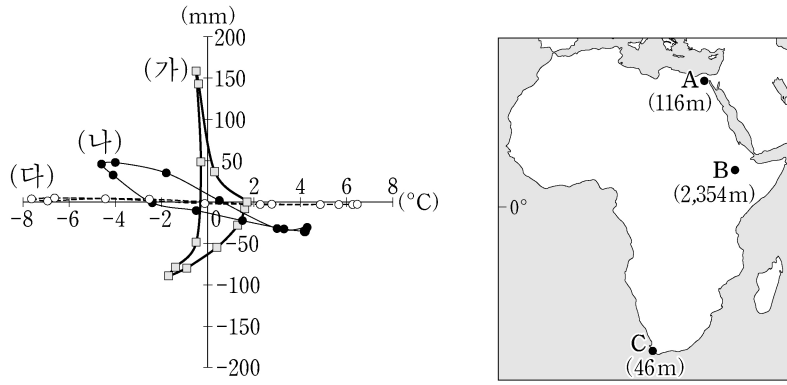


- ① (가)는 (나)보다 국가의 수가 많다.
- ② (라)는 (다)보다 1950년 전체 인구가 많다.
- ③ (가)~(라) 중 2015년 도시화율은 (다)가 가장 높다.
- ④ 1950~2015년 라틴 아메리카의 촌락 인구는 감소하였다.
- ⑤ 1950~2015년 도시 인구 증가율은 아프리카가 라틴 아메리카보다 높다.

2 (세계지리)

사회탐구 영역

5. 그래프의 (가)~(다)에 해당하는 지역을 지도의 A~C에서 고른 것은?



* 가로축은 월 기온 편차(월평균 기온 - 연평균 기온)를 나타냄. * 괄호 안의 숫자는 해발 고도임.
** 세로축은 월 강수량 편차(월 강수량 - 연 강수량/12)를 나타냄.

- | | | | | | | | |
|---|-----|-----|-----|---|-----|-----|-----|
| | (가) | (나) | (다) | | (가) | (나) | (다) |
| ① | A | B | C | ② | A | C | B |
| ③ | B | A | C | ④ | B | C | A |
| ⑤ | C | B | A | | | | |

6. 다음 글은 지도에 표시된 세 국가에 대한 것이다. (가)~(다) 국가에 대한 설명으로 옳은 것은? [3점]

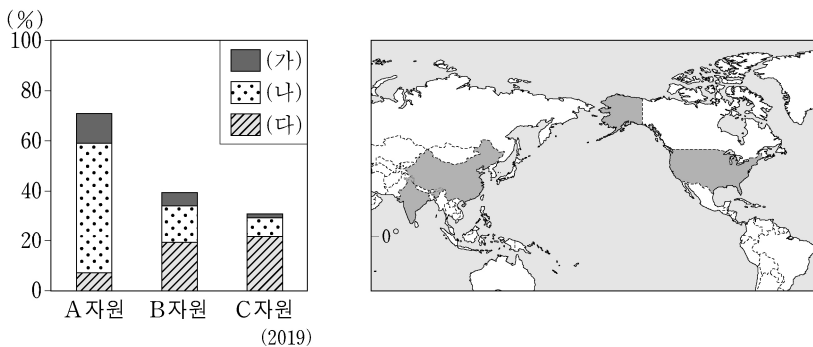
(가) 은/는 국가 내에서 이슬람교 신자 수가 가장 많으며, 수도는 쿠알라룸푸르이다. 문화와 종교의 다양성을 존중하여 여러 종교 관련 공휴일이 있다.

(나) 은/는 국가 내에서 불교 신자 수가 가장 많으며, 수도는 네피도이다. 라카인주에 거주하는 소수 민족인 로힝야족은 주로 이슬람교를 믿는다.

(다) 은/는 국가 내에서 크리스티교 신자 수가 가장 많으며, 수도는 마닐라이다. 남부 민다나오섬 등에 거주하는 모로족은 이슬람교를 믿는다.

- ① (가)는 동남아시아에서 이슬람교 신자 수가 가장 많다.
- ② (나)의 여성 전통 의복으로는 아오자이가 있다.
- ③ (다)의 전통 음식으로는 볶음밥을 의미하는 나시코렝이 있다.
- ④ (가)와 (나)는 모두 타이와 국경을 접하고 있다.
- ⑤ (가)~(다)의 수도 중 적도와의 최단 거리는 (나)의 수도가 가장 짧다.

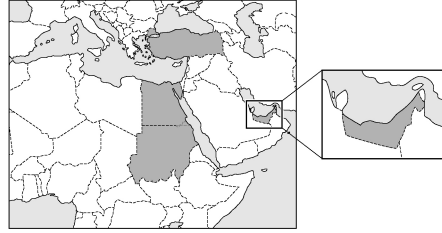
7. 그래프는 주요 화석 에너지 자원 A~C의 세계 소비량에서 (가)~(다) 국가가 차지하는 비율을 나타낸 것이다. 이에 대한 설명으로 옳은 것은? (단, (가)~(다)는 각각 지도에 표시된 세 국가 중 하나임.) [3점]



- ① A는 산업용보다 수송용으로 소비되는 비율이 높다.
- ② A~C 중 상용화된 시기는 B가 가장 이른다.
- ③ 세계 에너지 자원 소비에서 차지하는 비율은 B > A > C 순이다.
- ④ (가)는 C의 최대 수출국이다.
- ⑤ (가)는 아메리카 대륙에, (나)와 (다)는 아시아 대륙에 위치한다.

8. 다음 자료는 세계지리 퀴즈의 일부이다. A 국가에 대한 설명으로 옳은 것은?

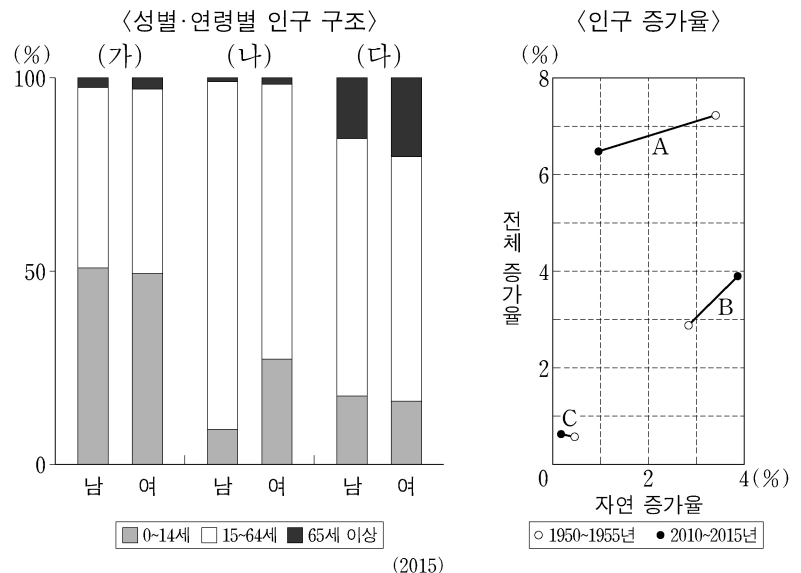
- * 다음 글에서 설명하는 (가)~(다) 국가를 지도에서 찾아 하나씩 지운 후 남은 국가 A를 쓰시오. (단, (가)~(다)와 A는 각각 지도에 표시된 국가 중 하나임.)
- (가) 지중해와 홍해를 연결하는 수에즈 운하가 위치한 국가로 피라미드와 �핑크스 등 고대 문명 유적을 바탕으로 관광 산업이 발달하였다.
- (나) 다르푸르 지역을 중심으로 아랍계 유목민과 아프리카계 정착 농민 사이의 종교 및 민족 갈등이 나타나 수많은 난민이 발생하였다.
- (다) 술탄 아흐메트 사원(블루모스크), 파묵칼레 등 문화 유적과 자연 경관을 활용한 관광 산업이 발달하였으며 최근에는 자동차와 가전제품 등의 제조업 육성에 힘쓰고 있다.



정답 :
(가)~(다) 국가를 지우고 남은 국가는 (이)다.

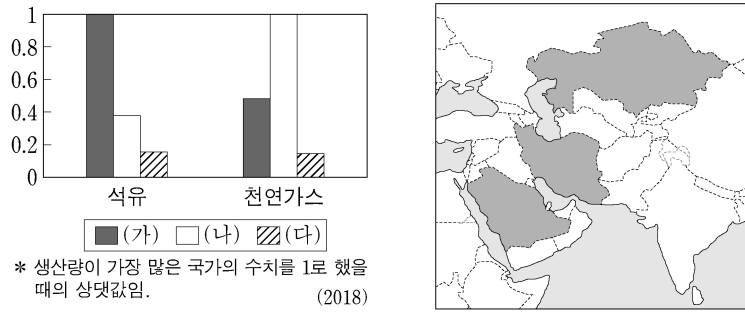
- ① 흑해 연안에 위치한다.
- ② 사헬 지대에 위치한다.
- ③ 국가 내에서 크리스티교 신자의 비율이 가장 높다.
- ④ 지중해성 기후를 이용하여 오렌지를 대규모로 재배한다.
- ⑤ 아부다비와 두바이를 중심으로 금융 및 관광 산업이 발달하였다.

9. 그래프는 세 국가의 인구 특성을 나타낸 것이다. 이에 대한 설명으로 옳은 것은? (단, (가)~(다)와 A~C는 각각 니제르, 벨기에, 카타르 중 하나임.)



- ① 2010~2015년 (가)는 사망자 수가 출생자 수보다 많다.
- ② 2010~2015년 (다)는 유출 인구가 유입 인구보다 많다.
- ③ 1950~1955년 (가)는 (나)보다 인구의 자연 증가율이 높다.
- ④ 2015년 중위 연령은 A가 C보다 높다.
- ⑤ 2015년 총부양비는 A~C 중 B가 가장 높다.

10. 그래프는 지도에 표시된 세 국가의 석유 및 천연가스 생산량을 나타낸 것이다. (가)~(다) 국가에 대한 설명으로 옳은 것은? [3점]



- ① (나)에는 이슬람교의 성지인 메카가 위치한다.
- ② (다)는 걸프 협력 회의 회원국이다.
- ③ (가)는 (다)보다 총수출액이 많다.
- ④ (나)는 (가)보다 1인당 국내 총생산이 많다.
- ⑤ (가)~(다) 중 1차 산업 종사자 비율은 (가)가 가장 높다.

11. 다음은 두 지역 지형 경관을 소개하는 다큐멘터리 대본의 일부이다. 밑줄 친 ㉠~㉣에 대한 설명으로 옳은 것만을 <보기>에서 고른 것은? [3점]

뉴질랜드 남섬을 가다!

첫 번째 촬영 지역 남서부 해안 지역에서는 사운드로 불리는 ㉠ 피오르를 볼 수 있습니다. 남알프스산맥의 최고봉인 쿡산 정상부에는 ㉡ 호른이 있고, 산맥의 동쪽에는 ㉢ 빙하 녹은 물이 모인 호수들이 있습니다.

미국 서부 지역을 가다!

두 번째 촬영 지역 모뉴먼트밸리에서는 건조한 평원에 우뚝 선 ㉣ 메사와 뷰트의 모습을 볼 수 있습니다. 데스밸리에 가면 산지와 평지가 만나는 곳에 ㉤ 선상지가 있고, 저지대에는 ㉥ 플라야가 있습니다.

<보 기>

㉠. ㉠은 빙식곡이 해수면 상승으로 침수되어 형성되었다.

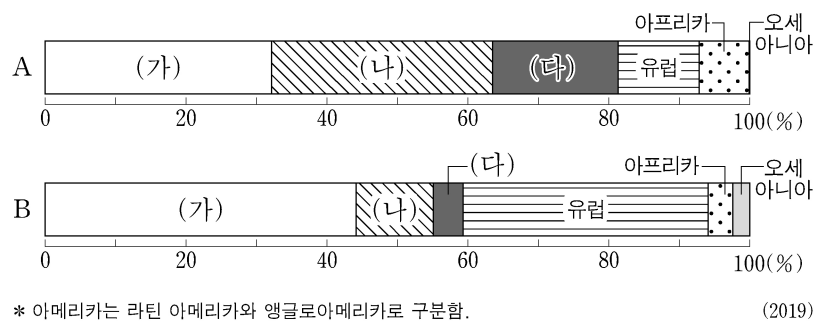
㉡. ㉡은 경암층과 연암층이 차별적인 풍화와 침식을 받아 형성되었다.

㉢. ㉢ 주변에는 바하다, ㉣ 주변에는 에스커가 잘 발달해 있다.

㉤. ㉤은 ㉥에 형성된 호수보다 염도가 높다.

- ① ㉠, ㉡ ② ㉠, ㉢ ③ ㉡, ㉤ ④ ㉡, ㉤ ⑤ ㉢, ㉤

12. 그래프는 식량 작물 A, B의 지역(대륙)별 생산량 비율을 나타낸 것이다. 이에 대한 설명으로 옳은 것은? (단, A, B는 각각 밀, 옥수수 중 하나임.)



- ① B는 A보다 세계 총생산량이 많다.
- ② B는 A보다 바이오 에탄올의 원료로 사용되는 비율이 높다.
- ③ A의 원산지는 (가)에 위치한다.
- ④ A의 생산량이 가장 많은 국가는 (나)에 위치한다.
- ⑤ B의 수출량이 가장 많은 국가는 (다)에 위치한다.

13. 다음은 세계지리 수업 장면의 일부이다. 교사의 질문에 옳게 대답한 학생만을 고른 것은? [3점]

<아프리카의 해발 고도 분포>

다음 자료를 보고 (가)~(라)에 발달한 대지형 관련 내용을 발표해 볼까요?

갑 을 병 정

(가)에는 그레이트디바이딩 산맥이 발달해 있어요.

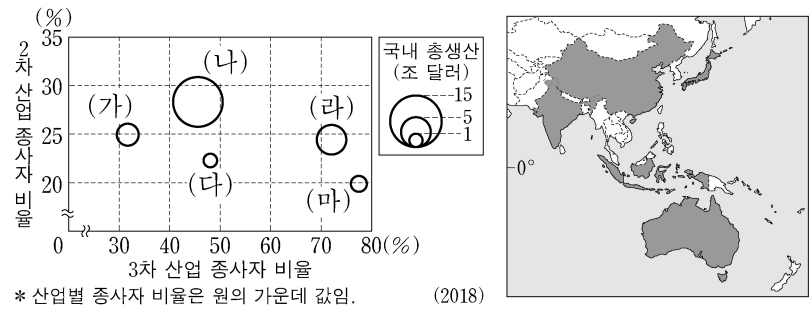
(나)에는 신생대 조산 운동으로 형성된 산지가 발달해 있어요.

(라)에는 아프리카의 대표적 석탄 생산지가 있어요.

(다)는 (나)보다 화산 활동의 발생 빈도가 높아요.

- ① 갑, 을 ② 갑, 병 ③ 을, 병 ④ 을, 정 ⑤ 병, 정

14. 그래프는 지도에 표시된 다섯 국가의 산업 구조 및 국내 총생산을 나타낸 것이다. (가)~(마) 국가에 대한 설명으로 옳은 것은?



- ① (가)는 동남아시아 국가 연합 회원국이다.
- ② (나)는 몬순 아시아에서 2차 산업 생산액이 가장 많다.
- ③ (다)는 대관정 분지에서 기업적 농목업이 행해진다.
- ④ (라)는 벵갈루루, 하이데라바드 등에 첨단 산업이 발달하였다.
- ⑤ (마)에는 최상위 세계 도시가 위치한다.

15. 다음 글은 (가)~(다) 국가에 대한 것이다. 이에 대한 설명으로 옳은 것은? (단, (가)~(다)는 각각 지도에 표시된 세 국가 중 하나임.)

(가) 원주민 비율이 높고, 세계적인 리튬 매장지로 알려진 우유니 소금 사막이 있다. 행정 수도인 ㉠은/는 안데스산맥의 고산 지대에 자리 잡고 있다.

(나) 원자재와 중간재를 수입해 조립 가공하여 다시 수출하는 마킬라도라가 발달하였다. 수도인 ㉡은/는 과거 아스테카 문명이 번성했던 곳에 세워진 도시이다.

(다) 유럽계 비율이 높고, 안데스산맥 동쪽의 파타고니아 고원에는 지형적 요인으로 인해 사막이 발달해 있다. 수도인 ㉢은/는 탱고의 발상지로 유명한 대서양 연안의 항구 도시이다.

- ① (나)에서는 중주 도시화 현상이 나타난다.
- ② (다)에서는 주로 포르투갈어를 사용한다.
- ③ (가)는 (다)보다 국토 면적이 넓다.
- ④ ㉢은 북반구에 위치한다.
- ⑤ ㉠은 ㉡보다 인구가 많다.

4 (세계지리)

사회탐구 영역

16. 다음은 세계지리 온라인 수업 장면의 일부이다. 교사의 질문에 옳게 대답한 학생을 고른 것은? [3점]

[세계지리 학습방]

교사: 지도의 A~E 지역에 대해 설명해 볼까요?

갑: A에는 침엽수림인 타이이가 넓게 나타납니다.

을: B는 연중 수백 미터 두께의 얼음으로 덮여 있습니다.

병: C에서는 커피, 목화 등이 주로 재배됩니다.

정: C는 D보다 기온의 연교차가 큼니다.

무: D는 E보다 최한월 강수량이 많습니다.

- ① 갑 ② 을 ③ 병 ④ 정 ⑤ 무

17. 표의 (가)~(다) 도시에 대한 설명으로 옳은 것은? [3점]

도시	수리적 위치	특징
(가)	51°30'N, 0°05'W	도심은 세계적인 금융 중심지로 관련 기업들이 집중되어 있다. 템스강 주변에 웨스트민스터 사원과 빅 벤 등 건축물이 있고, 첼시에는 신주거지가 형성되어 있다.
(나)	40°43'N, 74°00'W	세계적인 정치, 경제, 문화의 중심지로 잘 알려져 있다. 격자형 도로망을 갖춘 맨해튼 지역은 국제 연합(UN) 본부, 월스트리트, 브로드웨이를 중심으로 고층 건물이 밀집해 있다.
(다)	48°51'N, 2°21'E	도심에는 상업 기능이 발달한 상점리제가 오래 전에 형성되었고, 에펠 탑과 루브르 박물관도 위치하고 있다. 도시의 서쪽 외곽에는 새롭게 건설된 업무 단지인 라데팡스가 위치한다.

- ① (가)는 앵글로아메리카에 위치한다.
 ② (나)에는 유럽 연합(EU) 본부가 있다.
 ③ (다)에는 파벨라라 불리는 불량 주택 지구가 있다.
 ④ (나)는 (다)보다 도시 발달의 역사가 짧다.
 ⑤ (가)~(다) 모두 해당 국가의 수도이다.

18. 지도의 A~D 지역에 대한 설명으로 옳은 것만을 <보기>에서 고른 것은?

<보 기>

ㄱ. A에는 소피아 앙티폴리스가 있다.
 ㄴ. B는 풍부한 철광석을 바탕으로 제철 공업이 발달했던 지역이다.
 ㄷ. C는 선벨트에 해당한다.
 ㄹ. D의 대표적인 도시로는 유전을 기반으로 석유 화학 공업이 발달한 휴스턴이 있다.

- ① ㄱ, ㄴ ② ㄱ, ㄷ ③ ㄴ, ㄷ ④ ㄴ, ㄹ ⑤ ㄷ, ㄹ

19. 표는 지도에 표시된 네 지역의 낮 길이와 월 강수량을 나타낸 것이다. A~D 지역에 대한 설명으로 옳은 것만을 <보기>에서 있는 대로 고른 것은? (단, (가), (나) 시기는 각각 1월, 7월 중 하나임.)

지역	(가) 시기 낮 길이	(나) 시기 월 강수량
A	10시간 11분	0.7mm
B	13시간 51분	139.3mm
C	16시간 26분	15.1mm
D	11시간 17분	210.8mm

* 낮 길이는 1981-2010년 해당 월의 평균값을 나타냄.

<보 기>

ㄱ. A는 B보다 (나) 시기에 정오의 태양 고도가 높다.
 ㄴ. C는 D보다 최한월 평균 기온이 낮다.
 ㄷ. D는 B보다 (가), (나) 시기 간 강수량 차이가 크다.
 ㄹ. A~D 중 C가 (나) 시기에 아열대 고압대의 영향을 가장 많이 받는다.

- ① ㄱ, ㄴ ② ㄴ, ㄷ ③ ㄴ, ㄹ
 ④ ㄱ, ㄴ, ㄷ ⑤ ㄱ, ㄷ, ㄹ

20. 다음은 세계지리 수행 평가 자료의 일부이다. 이에 대한 설명으로 옳은 것만을 <보기>에서 고른 것은? [3점]

<환경 문제 대응을 위한 국제 협약/협정>

명칭	(가)
주요 내용	<ul style="list-style-type: none"> 1994년 6월 17일, 프랑스 파리에서 채택되었음. A 을/를 건조, 반건조 등의 지역에서 다양한 요인으로 발생하는 토지 황폐화로 정의함. A 을/를 막고자 지속 가능한 개발을 위한 종합적 토지 개발 계획을 수립하며, 토지 황폐화의 방지 및 경감 그리고 복구를 위해 노력함.
명칭	(나)
주요 내용	<ul style="list-style-type: none"> 2015년 12월 12일, 프랑스 파리에서 채택되었음. B 의 위험에 대한 전 지구적 대응을 강화하는 것이 목표임. B 의 위험을 줄이기 위해서 산업화 전 수준 대비 지구 평균 기온 상승을 2°C보다 현저히 낮은 수준으로 유지하도록 노력함.

<보 기>

ㄱ. (가)는 사막화 방지 협약이다.
 ㄴ. (나)는 유해 폐기물의 국가 간 이동을 처음으로 제한하였다.
 ㄷ. A의 사례 지역으로는 아랄해 일대가 있다.
 ㄹ. B는 오존층 파괴이다.

- ① ㄱ, ㄴ ② ㄱ, ㄷ ③ ㄴ, ㄷ ④ ㄴ, ㄹ ⑤ ㄷ, ㄹ

* 확인 사항

○ 답안지의 해당란에 필요한 내용을 정확히 기입(표기)했는지 확인 하시오.

2022학년도 대학수학능력시험

사회탐구 영역 정답표
(세계지리) 과목

문항 번호	정 답	배 점	문항 번호	정 답	배 점	문항 번호	정 답	배 점	문항 번호	정 답	배 점
1	①	2	6	④	3	11	①	3	16	④	3
2	②	2	7	③	3	12	④	2	17	④	3
3	⑤	3	8	⑤	2	13	⑤	3	18	③	2
4	⑤	3	9	⑤	2	14	②	2	19	④	2
5	④	2	10	③	3	15	①	2	20	②	3

제 4 교시

사회탐구 영역 (동아시아사)


성명 수험 번호 - 제 [] 선택

1. (가)에 들어갈 문화유산으로 적절한 것은?

○○○ 시대 문화유산 카드

(가)

- 명칭: △△△△
- 출토 지역: 중국 허난성 은허
- 제작 시기: 기원전 12세기 전후(상 후기)
- 재질과 용도
 - 청동으로 만든 솥(정)
 - 제사 지내는 의식에 사용됨.



2. 밑줄 친 '황제'에 대한 설명으로 옳은 것은? [3점]

국조가 창업되어 중원의 혼란을 진정시키고 남조와 더불어 천하를 양분한 지 수십 년이 되었다. 하지만 동양왕(東陽王)은 전래의 유풍을 지키며 새로운 법식을 따르려 하지 않았다. 풍속을 바꾸는 일, 뽕양으로 도성을 읍기는 것, 관제를 고치는 일 등에 이르러서는 입을 닫고 아무 말도 하지 않았다. 모두 흡족히 여기지 않았기 때문이다. 황제 역시 이를 알기에 다그치지 않고 다만 도리를 들어 깨우치려 하였다.

- ① 고조선을 멸망시켰다.
- ② 다이카 개신을 단행하였다.
- ③ 평성에서 한 고조를 포위하였다.
- ④ 호족(북방 민족)과 한족의 융합을 시도하였다.
- ⑤ 왜의 노국왕에게 금 도장(금인)을 하사하였다.

3. 다음 율령을 실시한 국가의 통치 체제에 대한 설명으로 옳은 것은?

○ 무릇 장병의 명부는 2통을 만든다. 근무하는 처소를 기록하고 아울러 빈부의 재산 상태를 3등급으로 나누어 등재한다. 1통은 국(國)에 두고, 1통은 매년 병부성에 보낸다.

○ 국(國)의 박사는 해당 국과 이웃 국에서 취하여 쓴다. 그러나 옛것을 살펴서 새로운 것을 알 수 있는 사람은 매우 드물다. 만약 이웃 국에 채용할 사람이 없으면 식부성에 보고하라.

- ① 중앙 관제로 2관 8성을 두었다.
- ② 군사 제도로 부병제를 운용하였다.
- ③ 관리 감찰을 위해 중정대를 설치하였다.
- ④ 중앙 교육 기관으로 성균관을 설립하였다.
- ⑤ 인재 선발을 위해 독서삼품과를 실시하였다.

4. (가)에 들어갈 내용으로 가장 적절한 것은? [3점]

<이민성의 ○○○○년 사행 기록>

9월: 베이징

(가)

5월: 가도

도독을 만나서 새 임금의 책봉에 대한 도움을 요청함.

6월: 등주

이곳의 지방 장관이 몇 달 전 폐위된 임금의 생존 여부와 궁궐 화재 사건의 경위를 물어봄.

4월: 한성

새 임금의 책봉을 요청하기 위해서 서장관의 직책으로 베이징을 향해 출발함.

- ① 조선에서 정묘호란이 발발하였다는 전갈을 받음.
- ② 호라즘을 정복하기 위해 출정하는 군대를 목격함.
- ③ 일본에서 센고쿠 시대가 전개되고 있다는 소식을 들음.
- ④ 대월의 전홍다오 군대와 전쟁을 하고 돌아온 병사를 만남.
- ⑤ 후금과 명의 군대가 변경에서 대치하고 있다는 정보를 접함.

2 (동아시아사)

사회탐구 영역

5. 밑줄 친 '우리 나라'에 대한 탐구 활동으로 가장 적절한 것은?

내년에 책봉사가 옵니다. 정사와 부사는 나하에 도착한 후 속소인 천사관에서 왕궁 등을 오가며 책봉을 비롯한 각종 의례와 연회에 참석합니다. 만약 사절에 번고가 있어 책봉을 받지 못한다면, 도자기와 생사 등을 들여와 일본이나 동남아시아에 되파는 우리 나라에 그보다 더한 우환은 없습니다. 그들이 이동할 때 불의의 사고가 발생하지 않도록 경호를 엄중히 해 주시기 바랍니다.

- ① 기유약조의 내용을 분석한다.
- ② 신패를 발급한 목적을 알아본다.
- ③ 갈레온 무역의 중심지를 탐색한다.
- ④ 슈인장 무역이 중단된 배경을 조사한다.
- ⑤ 명의 해금 정책이 동아시아에 끼친 영향을 파악한다.

6. (가) 인물에 대한 설명으로 옳은 것은? [3점]

남송 순희 연간에 (가)이/가 『대학』, 『중용』을 비롯한 경전에 새로운 주석을 가하였다. 이후 그것이 천하에 유포되었고, 명에서는 그의 경전 해석과 학설이 관학으로 채택되었다. 그의 주석서가 일본에 전래된 초기에는 과거 주석과의 차이점을 분별하지 못하였다. 얼마 후 도후쿠사의 선종 승려 기요 호슈가 처음으로 이 책들을 강론하고 일본어로 읽는 방법을 제시하였다.


- ① 사서오경왜훈을 저술하였다.
- ② 심즉리와 지행합일을 주장하였다.
- ③ 격물치지와 거경궁리를 강조하였다.
- ④ 에도 막부의 제도와 의례를 정비하였다.
- ⑤ 공자, 맹자 시대 유학으로의 복귀를 추구하였다.

7. 밑줄 친 '전쟁'에 대한 설명으로 옳은 것은?

슬프도다! 우리 타이완 사람은 이제 더 이상 대청국(大清國)의 신민일 수가 없구나! 우리 대청국의 황제는 어찌하여 타이완 사람을 버리는가! 도적 같은 신하가 있기 때문이다. 대학사 이홍장이로다, 형부 상서 손욱문이로다, 이부 시랑 서용의로다. 저들은 우리 타이완 사람과 무슨 원수가 졌는가? 저들은 전쟁에 져서 왜인(倭人)에게 수억 냥이나 되는 돈을 주고도 모자라, 왜 애꿎은 타이완 사람을 내던져 자신의 허물을 덮으려 하는가?

- ① 운요호 사건을 구실로 일어났다.
- ② 베이징 조약이 체결되는 계기가 되었다.
- ③ 에도 막부가 무너지는 결과를 초래하였다.
- ④ 변법자강 운동이 일어나는 데 영향을 끼쳤다.
- ⑤ 상하이 등 5개 항구를 개항하는 배경이 되었다.

8. 밑줄 친 '명령'이 내려진 이후 동아시아에서 볼 수 있는 모습으로 가장 적절한 것은? [3점]



- ① 삼포(3포) 왜란을 진압하는 조선의 장수
- ② 고려 상인의 물품을 검사하는 시박사 관원
- ③ 반청 세력을 진압하고 천계령을 해제하는 황제
- ④ 강남 지역에서 소금을 유통시키는 휘저우 상인
- ⑤ 제주도에 표착한 하멜을 한성으로 호송하는 병사

9. (가) 인물에 대한 설명으로 옳은 것만을 <보기>에서 고른 것은? [3점]

유물을 통해 본 동아시아사

이 화상석은 연(燕) 태자의 부탁을 받은 형가 함양궁에서 (가)을/를 암살하려는 장면을 묘사하고 있다. 이 암살 기도가 실패한 이후 (가)은/는 연을 공격하고, 이어 초와 제를 멸망시킴으로써 마침내 중국을 최초로 통일하였다.

▲ 산둥성 무씨 사당에 있는 화상석(후한 시대 제작)

<보 기>

- ㄱ. 남비엣을 멸망시켰다.
- ㄴ. 분서갱유를 단행하였다.
- ㄷ. 화폐와 문자를 통일하였다.
- ㄹ. 상앙을 등용해 개혁을 실시하였다.

- ① ㄱ, ㄴ ② ㄱ, ㄷ ③ ㄴ, ㄷ ④ ㄴ, ㄹ ⑤ ㄷ, ㄹ

10. 다음 자료를 활용한 탐구 활동으로 가장 적절한 것은?

○ 신들은 애국의 마음을 억누르지 못해 나라를 구할 방도를 강구해 보았습니다. 오로지 천하의 공의(公議)를 떨치는 길 밖에 없습니다. 천하의 공의를 떨치기 위해서는 민선 의원을 설립해야만 합니다.

○ 우리 당의 목적은 오직 인민의 권리를 보전하고 주장하여 자주, 자유, 독립을 누리도록 하는 데 있다. 이것이 곧 천황과 인민의 사이를 혼연일치시킴으로써 국가를 유지하고 창성케 하는 길이기 때문이다.

- ① 임칙서가 아편을 단속한 배경을 조사한다.
- ② 산킨코타이 제도가 시행된 목적을 살펴본다.
- ③ 대일본 제국 헌법이 제정된 경과를 탐색한다.
- ④ 베이징에 공사관이 설치되는 계기를 찾아본다.
- ⑤ 대원군이 통상 수교 거부 정책을 시행한 이유를 알아본다.

11. 밑줄 친 '황제'에 대한 설명으로 옳은 것은? [3점]

대월(베트남)을 침공해 점령한 해에 중국 최대의 유서(類書)*가 탄생하였다. 이에 황제는 크게 기뻐하여 직접 서문을 쓰고 책의 이름을 붙였다. 이 책의 편찬은 몇 년 전에 황제가 경(經), 사(史), 자(子), 집(集)에서 천문, 의학, 점복, 기예 등에 이르기까지 각종 분야를 망라한 유서를 펴내라고 명령한 데서 비롯되었다. 그 원본은 황궁이 있는 난징의 문연각에 보관되었다가, 이후 자금성이 완성되자 그곳으로 옮겨졌다.

* 유서: 여러 책들을 내용이나 항목별로 분류 편찬한 책

- ① 매카트니 사절단을 접견하였다.
- ② 임진왜란 때 조선에 병력을 파견하였다.
- ③ 타이완의 정씨(정성공) 세력을 진압하였다.
- ④ 대도를 점령하여 원을 북방 초원으로 축출하였다.
- ⑤ 정화의 함대를 파견하여 조공 체제를 확대하였다.

12. (가)에 들어갈 내용으로 가장 적절한 것은?

수행 평가 계획서

• 주제: ○○~△△세기 동아시아 각국의 □□ 문화

• 목표: 이 시기 상품 화폐 경제의 발달과 문화 소비층의 확대 등으로 동아시아 각국에서 발전한 □□ 문화의 특징을 이해한다.

• 탐구 과제

1모둠: 한국 - 춘향전, 흥길동전 등 한글 소설의 보급

2모둠: 중국 - (가)

3모둠: 일본 - 음악, 무용, 연기가 합쳐진 가부키의 대중화

- ① 채색 목판화로 제작한 우키요에의 발달
- ② 서양 문물의 수용으로 인한 난학의 발달
- ③ 소리꾼과 고수가 공연하는 판소리의 유행
- ④ 양반층의 위선을 풍자한 탈춤 공연의 확산
- ⑤ 노래, 춤, 무술 등으로 이루어진 경극의 성행

13. 밑줄 친 '50여 년간' 시기에 동아시아에서 볼 수 있는 모습으로 가장 적절한 것은?

교토에서는 무인년 겨울에 라쿠오로 연호를 바꾸었다. 남쪽 요시노에서는 본래대로 엔겐을 연호로 사용했기 때문에 이후 각지에는 두 개의 연호가 제멋대로 뒤섞여 사용되었다. 중국에서는 이런 일이 많았지만 우리 나라에서는 그런 적이 없었다.

-『신황정통기』-

이것은 아시카가 다카우지와 고다이오 천황이 대립하면서 나타난 전대미문의 사태를 개탄하는 글입니다. 이런 상황은 50여 년간 지속되다가 3대 쇼군 시기에 이르러서야 종식되었습니다.

- ① 몽골에 포로로 잡힌 명의 황제
- ② 초량 왜관에 거주하는 일본 상인
- ③ 감합 무역을 감독하는 막부 관리
- ④ 주변 국가의 연안을 노략질하는 왜구
- ⑤ 몽골군과 교전하는 가마쿠라 막부의 무사

14. 밑줄 친 '이번 요구'의 내용으로 옳은 것은?

지금 세계가 유럽의 전쟁에 정신을 빼앗긴 틈을 타, 일본은 중국에 대한 관리를 확대하려 기도하고 있다. 산둥에 있는 독일 이권의 양도를 비롯한 이번 요구가 인정된다면, 중국의 주권이 극도로 침해되어 중국은 실질적으로 일본의 관리하에 들어가 버릴 것이다.

- ① 만주국을 승인하라.
- ② 라오동반도를 할양하라.
- ③ 베이징에 군대 주둔을 허용하라.
- ④ 루거우차오 사건의 진상을 규명하라.
- ⑤ 뤼순·다렌의 조차 기간을 연장하라.

15. (가), (나) 조약에 대한 설명으로 옳은 것만을 <보기>에서 고른 것은? [3점]

(가) 제5조 다낭, 바랏, 팡옌의 세 항구를 개항하여 프랑스인들이 자유롭게 상업 활동을 할 수 있도록 한다.

(나) 제2조 시모다 항구는 조약 조인 후 즉시 개항하고, 하코다테는 내년 3월부터 개항하는 것으로 한다.

<보 기>

ㄱ. (가) - 일부 영토의 할양을 규정하였다.

ㄴ. (가) - 크리스토프 박해를 구실로 일어난 전쟁의 결과 체결되었다.

ㄷ. (나) - 영사 재판권 조항을 포함하고 있다.

ㄹ. (나) - 협의에 의한 관세 부과 항목을 두었다.

- ① ㄱ, ㄴ ② ㄱ, ㄷ ③ ㄴ, ㄷ ④ ㄴ, ㄹ ⑤ ㄷ, ㄹ

4 (동아시아사)

사회탐구 영역

16. (가) 국가에 대한 설명으로 옳은 것은? [3점]

국가 체제를 정비한 그는 서하를 복속한 후 화북으로 향했다. 이에 (가) 은/는 위소왕의 딸 기국공주를 보내고 아울러 금, 비단, 말 3천 필 등을 바치며 강화를 맺었다. 그러나 얼마 후 (가) 이/가 남쪽의 카이펑으로 천도하자, 그는 전면적인 공격을 개시하여 중도(연경)를 함락하였다.

- ① 발해를 멸망시켰다.
- ② 맹안·모극제를 시행하였다.
- ③ 당에게 화번공주를 요구하였다.
- ④ 두 차례의 일본 원정을 단행하였다.
- ⑤ 거란(요)과 전연의 맹약을 체결하였다.

17. 밑줄 친 '개혁'에 대한 설명으로 옳은 것은? [3점]

각국과 통상한 이래 화선(火船)이 날로 늘고 있는데 운행이 매우 신속합니다. 그리하여 중국 안팎의 강과 바다를 막론하고 이익이 모두 양인(洋人)에게 장악된 상태입니다. 신은 중국번 등과 더불어 수년 이래 개혁을 주창해 왔습니다. 윤선초상국의 설치를 허가하여 주십시오. 이로써 선박을 구매하고 제조하여 양인이 독점하는 이익을 회수해야 합니다.

- ① 갑오개혁의 영향을 받았다.
- ② 과거제의 폐지를 실현하였다.
- ③ 중체서용을 기치로 내세웠다.
- ④ 공화정 수립을 목표로 하였다.
- ⑤ 대한국 국제의 반포로 이어졌다.

18. (가), (나) 협정에 대한 설명으로 옳은 것만을 <보기>에서 고른 것은?


<p>(가)</p> <p>제1조 북위 17도선을 경계로 베트남 민주 공화국 군대는 그 이북으로, 프랑스군은 그 이남으로 이동한다.</p>	<p>(나)</p> <p>제5조 협정 조인 후 60일 이내에 미국은 남베트남에서 군대 및 군사 장비 일체를 모두 철수한다.</p>
--	--

<보 기>

ㄱ. (가) - 톤킨만 사건 이후 조인되었다.
 ㄴ. (가) - 통일을 위한 총선거 실시에 합의하였다.
 ㄷ. (나) - 닉슨 독트린의 영향으로 체결되었다.
 ㄹ. (나) - 남베트남 민족 해방 전선이 결성되는 배경이 되었다.

- ① ㄱ, ㄴ ② ㄱ, ㄷ ③ ㄴ, ㄷ ④ ㄴ, ㄹ ⑤ ㄷ, ㄹ

19. (가), (나) 회의에 대한 설명으로 옳은 것만을 <보기>에서 고른 것은? [3점]

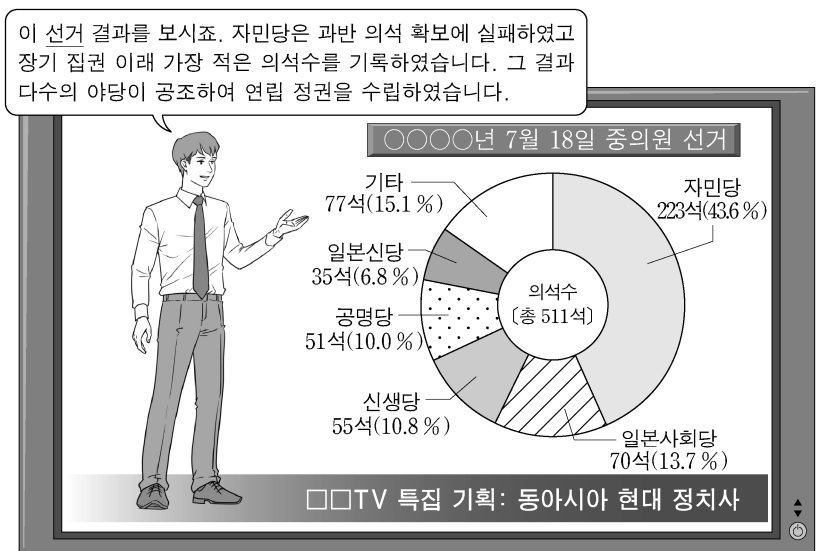


<보 기>

ㄱ. (가) - 베르사유 조약 체결 이후 개최되었다.
 ㄴ. (가) - 중국에서 5·4 운동이 일어나는 데 영향을 끼쳤다.
 ㄷ. (나) - 한국과 중국의 참여를 배제하였다.
 ㄹ. (나) - 신헌법(평화 헌법)이 제정되는 결과를 초래하였다.

- ① ㄱ, ㄴ ② ㄱ, ㄷ ③ ㄴ, ㄷ ④ ㄴ, ㄹ ⑤ ㄷ, ㄹ

20. 밑줄 친 '선거' 이후에 있었던 동아시아의 정치 상황으로 옳은 것은?



- ① 한국 - 6월 민주 항쟁으로 대통령 직선제 개헌이 실시되었다.
- ② 중국 - 민주화를 요구하는 톈안먼 사건이 발생하였다.
- ③ 일본 - 미·일 안보 조약 개정에 반대하는 안보 투쟁이 진행되었다.
- ④ 타이완 - 최초의 여야 정권 교체가 이루어졌다.
- ⑤ 베트남 - 도이머이 정책이 추진되기 시작하였다.

* 확인 사항

○ 답안지의 해당란에 필요한 내용을 정확히 기입(표기)했는지 확인 하시오.

2022학년도 대학수학능력시험

사회탐구 영역 정답표
(동아시아사) 과목

문항 번호	정 답	배 점	문항 번호	정 답	배 점	문항 번호	정 답	배 점	문항 번호	정 답	배 점
1	②	2	6	③	3	11	⑤	3	16	②	3
2	④	3	7	④	2	12	⑤	2	17	③	3
3	①	2	8	④	3	13	④	2	18	③	2
4	⑤	3	9	③	3	14	⑤	2	19	②	3
5	⑤	2	10	③	2	15	①	3	20	④	2

제 4 교시

사회탐구 영역(세계사)


성명 수험 번호 - 제 [] 선택

1. (가) 문명에 대한 설명으로 옳은 것은? [3점]



- ① 길가메시 서사시를 남겼다.
- ② 피라미드와 �핑크스를 세웠다.
- ③ 크레타섬을 중심으로 발전하였다.
- ④ 갑골에 점복의 내용을 기록하였다.
- ⑤ 하라파와 모헨조다로를 건설하였다.

2. (가) 인물에 대한 설명으로 옳은 것은?



그림은 18세기 프랑스에서 제작된 것으로 고대 지중해 세계에서 벌어진 해전을 묘사하고 있다. 우측에는 안토니우스의 함대가 있었다. 그의 함대는 클레오파트라 등이 합류한 연합군이었다. 좌측에는 (가)의 함대가 있었다. 그의 함대는 잘 훈련된 군사들로 구성되었으며, 아그리파라는 뛰어난 전략가의 지휘 아래 봉쇄 작전을 펼쳐 안토니우스의 함대를 격파하였다. (가)은/는 이 해전에서 승리한 이후에 원로원으로부터 아우구스투스라는 칭호를 부여받았다.

- ① 호민관 제도를 만들었다.
- ② 스스로 프린켑스라 불렀다.
- ③ 니케아 공의회를 소집하였다.
- ④ 제국을 4분할하여 통치하였다.
- ⑤ 카르타고와의 전쟁에서 활약하였다.

3. (가) 왕조에서 있었던 사실로 옳은 것은?

(가)의 제2대 황제가 말하기를 “선제(先帝)께서는 수도 셴양의 조정이 좁다고 여겨 아방궁을 짓도록 하셨다. 그러나 궁실이 완성되기 전에 세상을 떠나시는 바람에 공사를 그만두고 여산에 흙을 덮어 봉분을 만들었다. 지금 여산의 공사가 모두 끝났는데도 아방궁 건립을 마무리하지 않고 그냥 두는 것은, 선제께서 잘못된 일을 벌이셨다고 말하는 것이 된다.”라고 하였다. 이에 따라 그동안 중단되었던 아방궁 공사가 재개되었다.

- ① 육유가 반포되었다.
- ② 군기처가 설치되었다.
- ③ 고구려 원정이 추진되었다.
- ④ 장건이 서역에 파견되었다.
- ⑤ 진승·오광의 난이 일어났다.

4. 밑줄 친 '이 세력'에 대한 탐구 활동으로 가장 적절한 것은?

[3점]

황제는 정복 활동을 통해 데칸고원 이남까지 영토를 확장하여 제국의 영광을 드높였다. 그러나 그는 선대 황제가 폐지하였던 지즈야를 부활시키는 등 이슬람 제일주의를 지향하였고, 이에 각지에서 반란이 일어났다. 특히 카스트제의 신분 차별에 반대하였던 이 세력은 고빈드 싱의 지도 아래 펀자브 지방에서 저항을 끈질기게 이어갔다.

- ① 탄지마트의 주요 내용을 분석한다.
- ② 마흐디 운동의 전개 과정을 찾아본다.
- ③ 플라시 전투의 발생 원인을 조사한다.
- ④ 나나크의 사상이 끼친 영향을 파악한다.
- ⑤ 에프탈의 침입이 가져온 결과를 알아본다.

5. 밑줄 친 '개혁'이 추진된 배경으로 가장 적절한 것은?



- ① 황소의 난이 일어났다.
- ② 왕망이 신을 건국하였다.
- ③ 전국 7웅이 패권을 다투었다.
- ④ 북위가 화북 지방을 차지하였다.
- ⑤ 거란(요), 서하의 군사적 압박에 시달렸다.


세계사

2 (세계사)

사회탐구 영역

6. (가) 시대에 있었던 사실로 옳은 것은?

우리는 메타버스라는 가상 공간 속에서 도다이사를 답사하고 있습니다. 이 대불전 안으로 들어가면 헤이조쿄를 수도로 삼았던 (가) 시대의 문화 유산인 거대한 본존불을 만나볼 수 있습니다.



- ① 고사기가 편찬되었다.
- ② 무가제법도가 반포되었다.
- ③ 이와쿠라 사절단이 파견되었다.
- ④ 송으로부터 동전이 대량으로 수입되었다.
- ⑤ 쇼토쿠 태자가 불교 진흥책을 시행하였다.

7. (가), (나) 국가 사이의 관계에 대한 설명으로 옳은 것은? [3점]

샤를 4세의 사망 이후 왕위 계승이 불분명해진 상황 속에서 (가)의 에드워드 3세는 (나)의 왕위 계승권을 주장하였다. 자신의 모친이 샤를 4세의 누이라는 점을 근거로 삼았다. 그러나 여성은 왕위 계승권이 없으며, 따라서 그녀의 아들 역시 왕위 계승권을 요구할 수 없다는 결정에 따라 그의 주장은 받아들여지지 않았다. 이후 양국 사이의 관계는 악화되었고 결국 전쟁이 발발하였다. 초기에는 (가)이 우세하였으나 잔 다르크 등의 활약으로 (나)이 전세를 역전시킬 수 있었다.

- ① 메르센 조약을 통해 영토를 분할하였다.
- ② 미국의 중재로 포츠머스 조약을 체결하였다.
- ③ 플랑드르에 대한 지배권을 둘러싸고 대립하였다.
- ④ 방공 협정을 체결하여 추축국 동맹을 결성하였다.
- ⑤ 지중해 해상권을 두고 레판토 해전에서 격돌하였다.

8. (가) 왕조의 문화에 대한 설명으로 옳은 것은? [3점]

이 유물은 페사와르 인근의 유적지에서 출토된 사리 용기로 덮개 부분에 불상이 장식되어 있습니다. 이것은 (가)의 카니슈카왕이 봉헌한 것으로 알려져 있는데, 그는 불경을 모으고 사원을 건립하는 등 불교를 장려하였습니다. 이러한 노력에 힘입어 (가)에서는 중생의 구제를 중시하는 불교가 발달하였습니다.



- ① 대승 불교 사원인 보로부두르가 축조되었다.
- ② 궁전 형태의 묘당인 타지마할이 조성되었다.
- ③ 샤쿤탈라 등 산스크리트 문학이 성행하였다.
- ④ 고행을 통한 해탈을 주장하는 자이나교가 등장하였다.
- ⑤ 헬레니즘 문화의 영향을 받은 미술 양식이 발달하였다.

9. 밑줄 친 '우리 왕조'에 대한 설명으로 옳은 것은?

짐은 새로운 수도에 자리 잡은 후 백성에게 유익한 일을 우선적으로 처리하였다. 특히 시간을 계산하고 절기를 분별하는 체계를 세우는 일에 전력을 기울였다. 그러던 중 아담 샬이 교정한 달력을 살펴보았는데, 일식·월식을 비롯한 모든 천문 현상이 그의 계산에 정확히 들어맞았다. 이에 짐은 하늘이 우리 왕조의 번영을 위해 그를 보내 주었다고 생각하여, 그에게 역법을 개정하여 시현력을 만들고 황실 천문대에서 천문 기기를 제작하는 일을 맡겼다. 그는 여러 해 동안 이 직무를 충실하게 수행하는 한편, 수도에 설립된 성당에서 가톨릭의 전례에 따라 예배도 올렸다.

- ① 남송을 멸망시켰다.
- ② 주원장이 건국하였다.
- ③ 9품중정제를 시행하였다.
- ④ 티베트 등 번부를 간접 지배하였다.
- ⑤ 양염의 건의로 양세법을 실시하였다.

10. (가) 국가에 대한 설명으로 옳은 것은? [3점]

알렉산드로스 제국이 분열된 후, 제국의 동방 영토를 차지한 셀레우코스 왕조가 점차 쇠퇴하였고, 이러한 상황에서 아르사케스 1세가 (가)을/를 세웠다. 이후 (가)은/는 서쪽 방면으로는 셀레우코스 왕조, 동쪽 방면으로는 박트리아와 경쟁하였다. 그리고 오로데스 2세 치세에는 카이사르, 폼페이우스와 권력을 분점하던 크라수스의 군대를 격퇴하였다. 한편 전성기에는 메소포타미아 지역에서 인더스강 유역까지 장악하였고, 로마 제국과 중국, 인도를 연결하는 중계 무역으로 번영하였다.

- ① 페르세폴리스를 건설하였다.
- ② 이란 계통의 민족에 의해 세워졌다.
- ③ 군관구제와 둔전병제를 실시하였다.
- ④ 이슬람 세력의 침입으로 멸망하였다.
- ⑤ 수도 니네베에 왕립 도서관을 건립하였다.

11. (가) 왕조에 대한 설명으로 옳은 것은? [3점]

(가)의 야지드 1세가 아버지의 뒤를 이어 칼리프에 즉위하자, 합의를 통해 칼리프를 선출해 온 관행에 어긋난다는 비판이 일어났다. 이러한 상황에서 알리의 차남 후세인은 충성 서약을 거부하고 메카에 머물렀으며, 쿠파에 있는 알리의 추종자들은 서한을 보내 그에 대한 지지를 표명하였다. 이에 후세인이 자신의 측근과 함께 쿠파로 향하자, 야지드 1세는 군대를 파견하여 유프라테스강 근처 카르발라에서 후세인을 살해하였다.

- ① 이스파한을 수도로 삼았다.
- ② 데브시르메 제도를 운용하였다.
- ③ 사산 왕조 페르시아를 멸망시켰다.
- ④ 당과의 탈라스 전투에서 승리하였다.
- ⑤ 이베리아반도까지 영토를 확장하였다.

12. (가), (나) 국가 사이의 관계에 대한 설명으로 옳은 것은?

세계사 신문

특집 제국주의 열강의 아프리카 분할

북서 아프리카의 탕헤르에서 충돌 위기에 직면하였던 (가)와 (나)의 갈등은 미국 시어도어 루스벨트 대통령의 중재로 일단 봉합되었다. 하지만 또 한차례 대치 상황이 발생하면서 양국의 대표단은 일련의 회담을 진행하여 합의안을 도출하였다. 이로써 (가)은/는 토고와 카메룬의 대부분 지역에 대한 주요 권익을 확고히 하였으며, (나)은/는 콩고강 유역의 일부 지역 이외에도 서아프리카에 있는 자국령을 통해 사하라 사막 일대에 대한 안정적인 지배권을 행사할 수 있게 되었다. 이후 아프리카에서 양국 간의 긴장 관계는 완화될 것으로 예상된다.

- ① 전략 무기 제한 협정[SALT]을 체결하였다.
- ② 알타 회담에서 대일전 참여 문제를 논의하였다.
- ③ 팽창 정책을 추진하여 파쇼다 사건을 일으켰다.
- ④ 알자스·로렌 지방의 지배권을 둘러싸고 갈등을 빚었다.
- ⑤ 대서양 헌장을 통해 전후 평화 수립 원칙을 천명하였다.

13. (가) 국왕에 대한 설명으로 옳은 것은? [3점]

(가)은/는 대외적으로는 가톨릭의 수호자를 자처하던 펠리페 2세와의 대결에서 무적함대를 막아냄으로써 왕국의 국제적 위상을 드높였지.

또한 대내적으로는 통일법 제정을 통해 종교 문제를 해결하고자 하였어. 그리고 자신의 권위를 강화하기 위해 화려한 화장과 복장을 통한 신비화 전략을 취하기도 했어.

- ① 콜베르를 등용하였다.
- ② 낭트 칙령을 반포하였다.
- ③ 동인도 회사를 설립하였다.
- ④ 대륙 봉쇄령을 발표하였다.
- ⑤ 상수시 궁전을 건립하였다.

14. 밑줄 친 '우리 나라'에 대한 설명으로 옳은 것은?

친애하는 외무 장관에게

현재 우리 나라에 거주하고 있는 슬라브인들이 과거 술탄의 군대에게 당한 것과 같은 압제와 핍박을 더 이상 겪지 않도록 해야 합니다. 그들이 차별받지 않으며 평화롭게 살아갈 수 있게 된다면, 우리 나라의 내부 분쟁과 갈등은 일거에 소멸될 것입니다. ... (중략) ... 아울러 나는 다양한 민족에게 자치권을 광범위하게 보장하고, 최근에 합병된 보스니아 등지에 대해서도 포용 정책을 적극적으로 펼칠 것입니다. 이는 차르의 간섭을 차단할 수 있음은 물론, 과거 헝가리와의 통합으로 새로운 제국을 수립하는 과정에서 소외되었던 슬라브인들을 효과적으로 통치할 수 있는 최선의 방책이 될 것입니다.

프란츠 대공

- ① 오스만 제국과 동맹 관계를 맺었다.
- ② 상트페테르부르크를 수도로 삼았다.
- ③ 빌헬름 1세의 황제 즉위를 통해 수립되었다.
- ④ 마치니의 주도하에 통일 운동을 전개하였다.
- ⑤ 사보이(사부아) 지역을 프랑스에 할양하였다.

15. (가) 국가에 대한 설명으로 옳은 것은?

<세계사 수업 활동지>

3학년 ○반 ○○○

○ 주제: (가), 전쟁의 참상을 기억하다.

○ 학습 내용

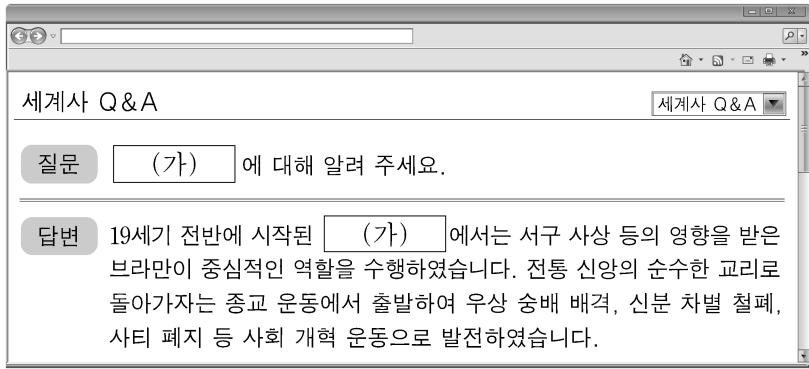
독일은 (가)을/를 공격함으로써 제2차 세계 대전으로 이어졌고, 아우슈비츠 수용소에서 홀로코스트를 자행하였다.

발트해

브란트 총리는 독일의 과거사를 시죄하는 의미에서 바르샤바에 있는 전쟁 피해자를 추모하는 기념물 앞에 무릎 꿇었다.

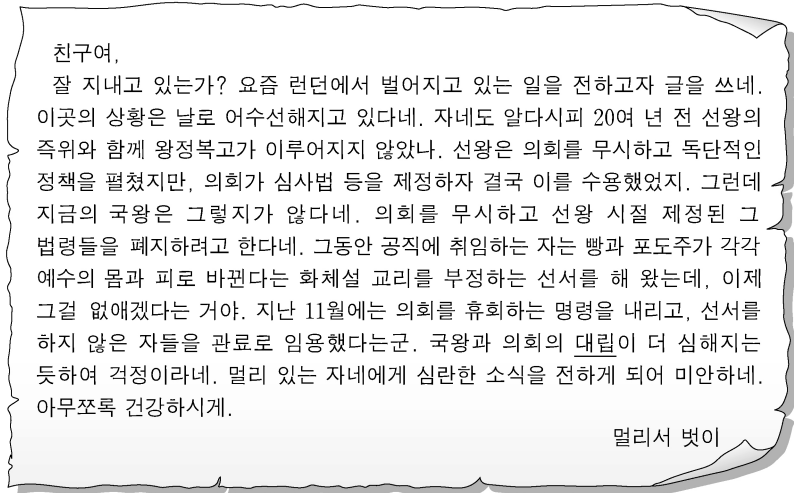
- ① 제1차 비동맹 회의를 개최하였다.
- ② 독립 국가 연합[CIS]에 가입하였다.
- ③ 하벨이 벨벳 혁명을 통해 민주 정부를 수립하였다.
- ④ 바웬사가 이끄는 자유 노조가 총선에서 승리하였다.
- ⑤ 카슈미르 지방을 둘러싸고 영토 분쟁이 발생하였다.

16. (가) 운동에 대한 설명으로 옳은 것은? [3점]



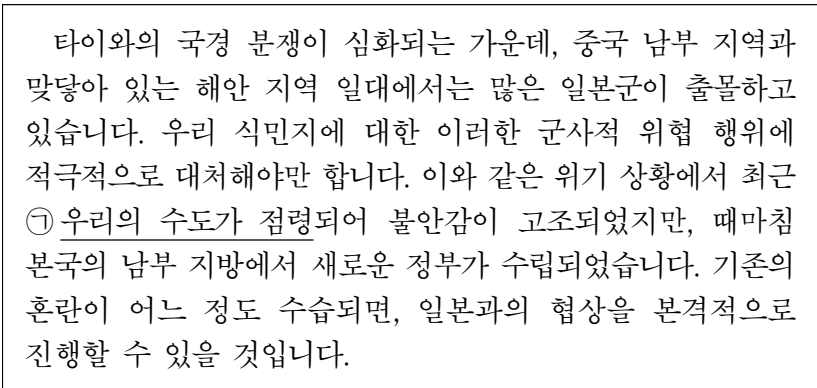
- ① 람 모한 로이가 주도하였다.
- ② 데카브리스트의 봉기로 이어졌다.
- ③ 프랑스의 식민 지배에 맞서 전개되었다.
- ④ 마라타 동맹이 결성되는 배경이 되었다.
- ⑤ 청년 튀르크당이 조직되는 결과를 초래하였다.

17. 밑줄 친 '대립'의 영향으로 가장 적절한 것은?



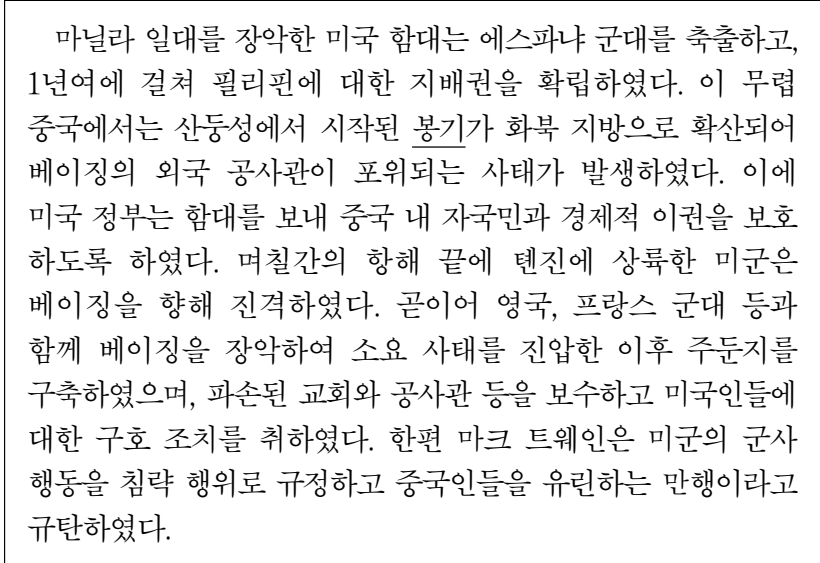
- ① 스튜어트 왕조가 개창되었다.
- ② 크롬웰이 호국경에 취임하였다.
- ③ 헨리 8세가 수장법을 발표하였다.
- ④ 찰스 1세가 권리 청원을 승인하였다.
- ⑤ 메리와 윌리엄이 공동 왕으로 추대되었다.

18. 밑줄 친 ㉠ 기간 동안에 볼 수 있는 모습으로 가장 적절한 것은? [3점]



- ① 포츠담 회담에 참석하는 미국 대통령
- ② 독일에 맞서 선전 포고를 하는 영국 총리
- ③ 영국에서 저항 운동을 벌이는 드골의 참모
- ④ 오스트리아와의 합병을 발표하는 독일 총통
- ⑤ 덴마크에 대한 침공을 개시하는 독일군 장교

19. 밑줄 친 '봉기'에 대한 설명으로 옳은 것은?



- ① 애로호 사건을 빌미로 촉발되었다.
- ② 중화민국이 수립되는 결과를 가져왔다.
- ③ 러시아가 연해주를 차지하는 계기가 되었다.
- ④ 백련교 계통의 단체를 중심으로 전개되었다.
- ⑤ 중국변 등이 이끄는 향용에 의해 진압되었다.

20. (가) 기구에 대한 설명으로 옳은 것은? [3점]



그림은 영국의 (가) 탈퇴를 의미하는 브렉시트 문제를 소재로 한 것이다. 브렉시트는 2016년 영국 국민 투표에서 51.9%의 찬성으로 결정되었다. 이는 회원국 간 관세를 철폐하고 단일 통화인 '유로'를 사용하는 등 지역 통합을 지향하던 (가)에 충격을 주었다.

- ① 마셜 계획을 수립하였다.
- ② 반등에서 평화 10원칙을 채택하였다.
- ③ 마스트리흐트 조약 체결로 출범하였다.
- ④ 상호 원조 강화를 위해 코메콘을 두었다.
- ⑤ 5개 상임 이사국에 거부권을 부여하였다.

* 확인 사항
○ 답안지의 해당란에 필요한 내용을 정확히 기입(표기)했는지 확인 하시오.

2022학년도 대학수학능력시험

사회탐구 영역 정답표
(세계사) 과목

문항 번호	정 답	배 점	문항 번호	정 답	배 점	문항 번호	정 답	배 점	문항 번호	정 답	배 점
1	②	3	6	①	2	11	⑤	3	16	①	3
2	②	2	7	③	3	12	④	2	17	⑤	2
3	⑤	2	8	⑤	3	13	③	3	18	③	3
4	④	3	9	④	2	14	①	2	19	④	2
5	⑤	2	10	②	3	15	④	2	20	③	3

제 4 교시

사회탐구 영역(경제)

성명

수험 번호

제 [] 선택

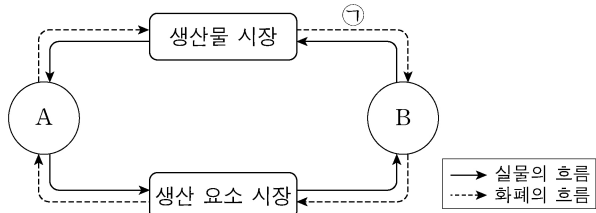
1. 그림은 경제 뉴스이다. A, B에 대한 설명으로 옳은 것은? (단, A, B는 각각 계획 경제 체제와 시장 경제 체제 중 하나이다.) [3점]



A를 채택하고 있는 갑국에서는 경제 체제의 특성상 민간 경제 주체의 자율성이 제한되어 경제적 효율성이 낮아지는 문제점이 나타나고 있습니다. 이를 해결하기 위해 A보다 자원 배분의 효율성이 높은 B로 전환하자는 주장이 제기되고 있습니다.

- ① A에서는 정부의 결정과 통제에 의한 경제 문제 해결을 강조한다.
- ② B에서는 원칙적으로 생산 수단의 사적 소유가 인정되지 않는다.
- ③ A에서는 B와 달리 '보이지 않는 손'에 의한 경제 문제 해결을 강조한다.
- ④ B에서는 A에 비해 경제 문제 해결 과정에서 형평성을 중시한다.
- ⑤ A와 B에서는 모두 자원의 희소성으로 인한 경제 문제가 발생하지 않는다.

2. 그림은 민간 경제의 순환을 나타낸다. 이에 대한 설명으로 옳은 것은? (단, A, B는 각각 가계와 기업 중 하나이다.)



- ① A는 생산물 시장의 공급자이다.
- ② B는 생산 요소 시장의 수요자이다.
- ③ A는 B와 달리 이윤 극대화를 추구한다.
- ④ B는 A와 달리 정부에 조세를 납부한다.
- ⑤ 임금, 지대, 이자는 ①에 해당한다.

3. 그림은 교사의 수업 장면이다. (가)에 들어갈 내용으로 가장 적절한 것은? [3점]

시장 실패의 사례에 대해 알아보까요?

◎ 시장 실패의 사례: (가)

공해상의 무분별한 어획이 심각한 문제를 낳고 있다. 누구나 마음껏 물고기를 잡을 수 있는 공해상에서 아무런 규제 없이 어업 활동이 전개되어 어린 물고기까지 모두 잡는 상황이 되었다. 이러한 상황이 지속되면 조만간 어족 자원이 고갈되어 더 이상 어업을 할 수 없는 상황에 이르게 될 것이다.

- ① 역선택
- ② 외부 경제
- ③ 도덕적 해이
- ④ 공유지의 비극
- ⑤ 독과점의 폐해

4. 다음 자료에 나타난 X재 시장에 대한 옳은 설명만을 <보기>에서 고른 것은?

표는 생산 측면에서만 외부 효과가 발생하고 있는 X재의 시장 상황을 나타낸다. 단, X재는 수요와 공급 법칙을 따른다.

사적 비용만 반영한 경우		사회적 비용을 반영한 경우	
균형 가격	균형 거래량	균형 가격	균형 거래량
1,100원	600개	1,200원	550개

<보 기>

- ㄱ. 외부 경제가 발생하고 있다.
- ㄴ. 사회적 최적 수준보다 많이 생산되고 있다.
- ㄷ. 생산에 따른 사적 비용보다 사회적 비용이 크다.
- ㄹ. 생산자에게 생산에 대한 보조금을 지급하여 외부 효과를 개선할 수 있다.

- ① ㄱ, ㄴ ② ㄱ, ㄷ ③ ㄴ, ㄷ ④ ㄴ, ㄹ ⑤ ㄷ, ㄹ

5. 그림은 해외여행 정보 안내의 일부이다. 밑줄 친 ㉠에 대한 분석 및 추론으로 옳은 것은?

☐ 여행사 <해외여행 정보 안내>

최근 외환 시장의 ㉠ 환율 변동으로 인해 해외여행 경비 부담이 변화하였으니 여행지를 결정하실 때 이러한 점을 고려하시기 바랍니다. 유로화를 사용하는 국가로의 여행 경비 부담은 감소하였으므로 유럽 여행을 추천합니다. 반면 미국과 중국 여행을 희망하는 여행객들은 달러화와 위안화를 사용할 경우 여행 경비 부담이 증가하였으니 참고하시기 바랍니다.

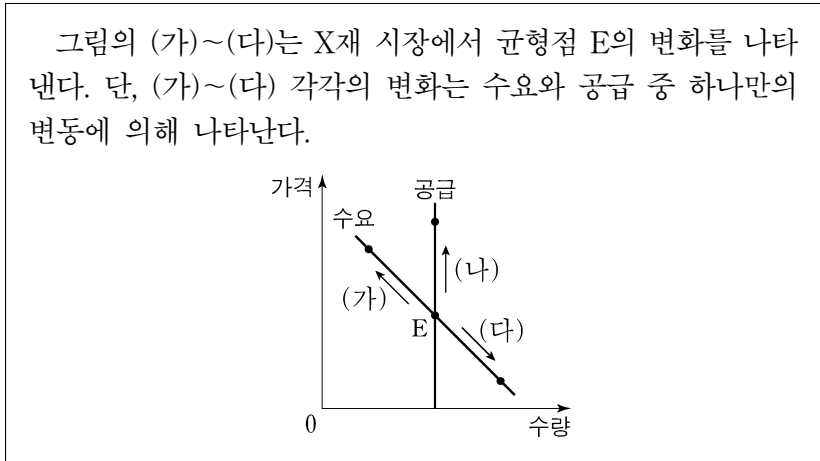
* 유의 사항: 본 안내는 원화를 해당 여행지의 통화로 환전하는 경우를 전제로 하였습니다.

- ① 원/유로 환율은 상승하였다.
- ② 위안화 대비 원화의 가치는 하락하였다.
- ③ 우리나라 기업의 달러화 표시 외채 상황 부담을 감소시키는 요인이다.
- ④ 미국에서 유학 중인 자녀를 둔 우리나라 학부모의 학비 부담을 감소시키는 요인이다.
- ⑤ 중국산 원자재를 수입하여 위안화로 결제하는 우리나라 기업의 비용 부담을 감소시키는 요인이다.

2 (경제)


사회탐구 영역

6. 다음 자료에 대한 설명으로 옳은 것은?



- ① X재와 서로 대체 관계에 있는 재화의 가격 상승은 (가)의 요인이다.
- ② X재와 서로 보완 관계에 있는 재화의 가격 하락은 (나)의 요인이다.
- ③ X재 소비자 선호도의 증가는 (다)의 요인이다.
- ④ X재 수요자 수의 변화는 (가), (다)의 요인이다.
- ⑤ (나)는 (가)와 달리 공급의 변동으로 인해 나타난다.

7. 그림은 갑국의 경제 안정화 정책에 대한 화상 토론 장면이다. 밑줄 친 ㉠~㉢에 대한 설명으로 옳은 것은? (단, 총수요 곡선은 우하향하고 총공급 곡선은 우상향한다.) [3점]



- ① ㉠은 수요 견인 인플레이션의 요인이다.
- ② ㉡은 총수요를 증가시키는 요인이다.
- ③ ㉢은 경기 과열의 정도를 완화시키는 요인이다.
- ④ ㉣은 긴축 통화 정책의 수단에 해당한다.
- ⑤ ㉢은 ㉡과 달리 실질 GDP를 증가시키는 요인이다.

8. 다음 자료에 대한 분석으로 옳은 것은? [3점]

표는 갑국의 연도별 명목 GDP와 실업률을 나타낸다. 갑국에서는 실업률이 전년에 비해 1%p 상승(하락)할 때마다 경제 성장률이 전년에 비해 2%p 하락(상승)한다. 갑국의 t년 경제 성장률은 0%이다. 단, 물가 수준은 GDP 디플레이터로 측정하며, 기준 연도는 t년이다.

구분	t년	t+1년	t+2년	t+3년
명목 GDP(억 달러)	100	110	120	140
실업률(%)	3	2	3	4

* %p는 %의 차를 측정하는 단위이다. 예를 들어, 실업률이 3%에서 4%로 바뀌면 실업률이 1%p 상승한 것이다.

- ① t+1년에 스태그플레이션이 발생하였다.
- ② t+2년 실질 GDP는 명목 GDP보다 크다.
- ③ t+3년 경제 성장률은 t년에 비해 높다.
- ④ t년 이후 실질 GDP는 지속적으로 감소하였다.
- ⑤ t년 이후 물가 수준은 지속적으로 상승하였다.

9. 다음 자료에 대한 설명으로 옳은 것은?

그림은 2020년 갑국의 경상 수지 수취액과 지급액을 나타낸 표의 일부로, A~C는 각각 상품 수지, 서비스 수지, 본원 소득 수지 중 하나이다. 경상 수지 각 항목의 수취액 대비 지급액의 비는 동일하며, 2020년 갑국은 경상 수지 항목 중 상품 수지의 흑자액이 가장 크고 본원 소득 수지의 흑자액이 가장 작다.

구분	수취액 (억 달러)	지급액 (억 달러)
경상 수지	100	㉠
이전 소득 수지	20	10
A		
B		
C		

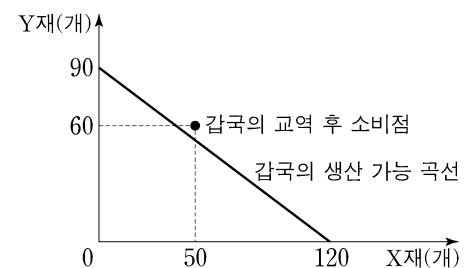
$$* \frac{B \text{의 수취액}}{A \text{의 수취액}} = 4, \frac{C \text{의 수취액}}{A \text{의 수취액}} = 3$$

- ① ㉠은 90이다.
- ② A는 상품 수지이다.
- ③ B의 수취액은 10억 달러이다.
- ④ C에는 외국인 노동자가 자국으로 송금한 임금이 포함된다.
- ⑤ A~C 중 해외 지식 재산권 사용료를 포함하는 항목은 15억 달러 흑자이다.

10. 다음 자료에 대한 옳은 분석 및 추론만을 <보기>에서 고른 것은? [3점]

X재와 Y재만을 생산하여 소비하고 있던 갑국과 을국은 비교 우위를 가지는 재화만을 생산하여 양국 모두 이익이 발생하는 범위 안에서 교역하였다. 표는 양국의 X재 및 Y재 생산과 관련한 자료를, 그림은 갑국의 생산 가능 곡선과 교역 후 소비점을 나타낸다. 단, 교역은 거래 비용 없이 갑국과 을국 간에만 이루어지고, 양국은 노동만을 생산 요소로 하여 생산 가능 곡선상에서 생산한다. 또한 생산된 재화는 전량 소비되며, 을국의 생산 가능 곡선은 직선이다.

구분	갑국	을국
X재 1개 생산의 기회비용	㉠	Y재 1/2개
보유한 노동 시간	360시간	360시간



<보 기>

- ㄱ. ㉠은 Y재 3/4개이다.
- ㄴ. 갑국은 X재 70개를 수출하고 Y재 60개를 수입하였다.
- ㄷ. 을국의 X재 최대 생산 가능량이 120개라면, Y재 1개 생산에 필요한 노동 시간은 6시간이다.
- ㄹ. X재 1개와 Y재 1개를 교환하는 조건이더라도 양국 모두 교역에 참여하였을 것이다.

- ① ㄱ, ㄴ ② ㄱ, ㄷ ③ ㄴ, ㄷ ④ ㄴ, ㄹ ⑤ ㄷ, ㄹ

11. 다음 자료에 대한 옳은 설명만을 <보기>에서 고른 것은? [3점]

갑은 ○○학원의 인기 영어 회화 강좌를 듣기 위해 학원을 ㉠ 직접 방문 수강하는 것과 ㉡ 온라인 수강하는 것 중 하나를 합리적으로 선택한다. 표는 갑의 수강 방법에 따른 편익과 수강료를 나타낸다. 단, 제시된 자료 외에 다른 조건은 고려하지 않는다.

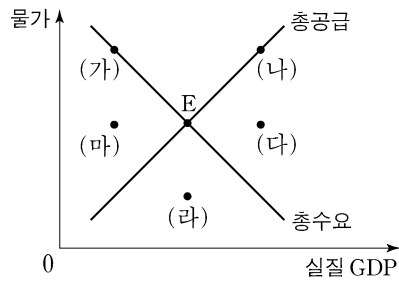
구분	편익(만 원)	수강료(만 원)
직접 방문 수강	38	25
온라인 수강	36	(가)

<보 기>

ㄱ. ㉠을 선택한 경우 기회비용은 38만 원보다 크다.
 ㄴ. ㉠을 선택한 경우 명시적 비용은 암묵적 비용보다 크다.
 ㄷ. ㉡을 선택한 경우 명시적 비용에서 암묵적 비용을 뺀 값은 10만 원보다 크다.
 ㄹ. (가)가 23보다 작은 경우 ㉡을 선택한다.

- ① ㄱ, ㄴ ② ㄱ, ㄷ ③ ㄴ, ㄷ ④ ㄴ, ㄹ ⑤ ㄷ, ㄹ

12. 그림은 갑국의 국민 경제 균형점들을 나타낸다. 균형점 E의 이동에 대한 설명으로 옳은 것은?



- ① 민간 소비가 감소하는 것은 (가)로 이동하는 요인이다.
 ② 생산 기술이 향상하는 것은 (나)로 이동하는 요인이다.
 ③ 민간 투자가 증가하고 수입 원자재 가격이 하락하는 것은 (다)로 이동하는 요인이다.
 ④ 정부 지출이 증가하고 노동 생산성이 상승하는 것은 (라)로 이동하는 요인이다.
 ⑤ 정부가 소득세를 인하하고 노동 인구가 감소하는 것은 (마)로 이동하는 요인이다.

13. 그림은 투자 상품 설명서의 일부이다. A, B의 일반적인 특징에 대한 설명으로 옳은 것은? (단, A, B는 각각 주식과 채권 중 하나이다.) [3점]

△△ 투자 상품 설명서

○ 투자 대상: 국가나 회사 등에서 발행한 채무 증서인 A와 회사가 경영 자금의 조달을 위해 발행한 투자자의 지분을 표시해 주는 증서인 B에 투자

○ 투자 전략: 철저한 분석과 가치 평가에 따라 포트폴리오 구성

- ① A는 이자 수익을 기대할 수 있다.
 ② B는 만기가 있으며 원금이 보장된다.
 ③ A는 B와 달리 시세 차익을 기대할 수 있다.
 ④ B는 A와 달리 채권자로서의 지위를 부여한다.
 ⑤ A와 B는 모두 발행 주체의 부채를 증가시킨다.

14. 다음 자료에 대한 옳은 분석 및 추론만을 <보기>에서 고른 것은? [3점]

표는 갑의 투자 계획을 나타낸다. 단, t시점의 원/달러 환율은 1달러당 1,000원이고, 각 시점에서의 모든 거래는 그 시점에서 동시에 이루어지며, 세금이나 수수료 등 거래 비용은 없다.

구분	투자 계획
t시점	국내 금융 기관 을에게서 원화 2,000만 원을 연 10%의 이자율로 빌리고 이를 전액 달러화로 환전하여 해외 주식 A와 B에 절반씩 투자한다.
t시점에서 1년이 지난 시점	A와 B를 모두 매도하고 이를 전액 원화로 환전하여 을에게 원리금을 갚는다.

* 원리금 = 원금 + 이자
 ** A와 B는 배당 수익이 발생하지 않음.
 *** A와 B를 매도하여 원화로 환전한 금액이 을에게 같아야 할 원리금보다 크면(작으면) 그 차이만큼 이익(손실)이 발생함.

<보 기>

ㄱ. 갑이 을에게 갚아야 할 원리금은 2,400만 원이다.
 ㄴ. A의 가격이 30% 상승하고 B의 가격과 환율은 변화가 없다면, 100만 원의 이익이 발생한다.
 ㄷ. A의 가격이 20% 상승하고 B의 가격이 5% 하락하였는데 환율은 변화가 없다면, 50만 원의 손실이 발생한다.
 ㄹ. A와 B의 가격이 모두 10% 하락하고 환율은 30% 상승하면, 100만 원의 이익이 발생한다.

- ① ㄱ, ㄴ ② ㄱ, ㄷ ③ ㄴ, ㄷ ④ ㄴ, ㄹ ⑤ ㄷ, ㄹ

15. 다음 자료에 대한 옳은 분석 및 추론만을 <보기>에서 고른 것은?

X재 시장에는 각각 5명의 소비자와 생산자가 있다.

○ 소비자 D1~D5는 각각 X재를 1개만 구매하려고 하고, 각 소비자의 X재 1개당 최대 지불 용의 금액은 표와 같다.

소비자	D1	D2	D3	D4	D5
최대 지불 용의 금액(원)	20	30	40	50	60

○ 생산자 S1~S5는 각각 X재를 1개만 판매하려고 하고, 각 생산자의 X재 1개당 최소 요구 금액은 표와 같다.

생산자	S1	S2	S3	S4	S5
최소 요구 금액(원)	10	20	30	40	50

<보 기>

ㄱ. 가격이 20원이면 수요량이 공급량보다 2개 많다.
 ㄴ. 균형에서 총잉여는 90원이다.
 ㄷ. 소비자에게 1개당 10원의 보조금을 지급하더라도 균형 가격은 변함이 없다.
 ㄹ. 생산자에게 1개당 10원의 판매세를 부과하더라도 균형 거래량은 변함이 없다.

- ① ㄱ, ㄴ ② ㄱ, ㄷ ③ ㄴ, ㄷ ④ ㄴ, ㄹ ⑤ ㄷ, ㄹ

4 (경제)

사회탐구 영역

16. 다음 자료에 대한 옳은 분석만을 <보기>에서 고른 것은?

생산자 A와 B는 시장에서 1개당 50원에 거래되는 X재를 생산하고 있다. 표는 각 생산자의 X재 생산량에 따른 총비용을 나타낸다. 단, 생산된 X재는 모두 판매된다.

X재 생산량(개)		1	2	3	4	5	6
총비용 (원)	A	20	50	90	150	220	300
	B	30	65	105	150	210	300

* 평균 비용 = 총비용 / 생산량

<보 기>

ㄱ. A의 평균 비용은 모든 생산량에서 같다.
 ㄴ. A가 얻을 수 있는 가장 큰 이윤은 60원이다.
 ㄷ. B가 생산량을 1개씩 증가시킬 때마다 추가적으로 발생하는 비용은 일정하다.
 ㄹ. 이윤이 극대화되는 생산량은 B가 A보다 크다.

- ① ㄱ, ㄴ ② ㄱ, ㄷ ③ ㄴ, ㄷ ④ ㄴ, ㄹ ⑤ ㄷ, ㄹ

17. 표는 갑국의 연도별 고용 관련 자료를 나타낸다. 이에 대한 분석으로 옳은 것은? (단, 갑국의 경제 활동 인구는 변함이 없다.) [3점]

구분	2018년	2019년	2020년
실업률(%)	15	10	15
실업자 수(만 명)	12	㉠	12
15세 이상 인구(만 명)	85	100	100

- ① ㉠은 10이다.
 ② 2018년 취업자 수는 73만 명이다.
 ③ 2019년 고용률은 72%이다.
 ④ 2020년 비경제 활동 인구는 전년에 비해 증가했다.
 ⑤ 2019년과 2020년 취업자 수는 모두 전년에 비해 증가했다.

18. 다음 자료에 대한 분석으로 옳은 것은?

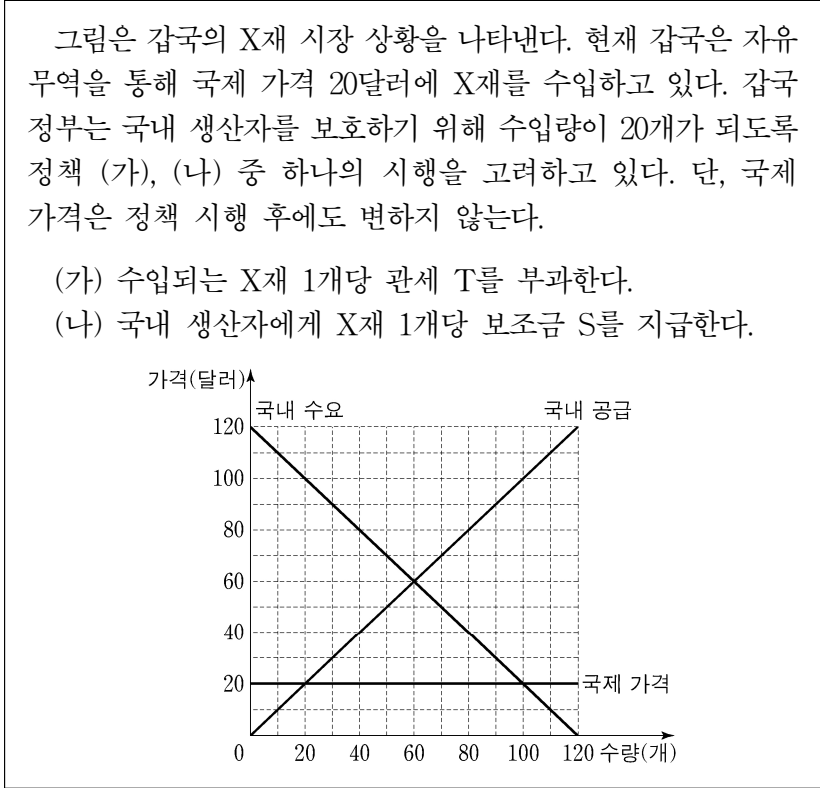
갑국은 X재만을, 을국은 Y재만을 생산한다. X재는 양국에서 모두 최종재로만 소비된다. Y재는 일부가 X재 생산의 중간재로 사용되며 이를 제외한 나머지는 모두 양국에서 최종재로 소비된다. 표는 2020년 갑국과 을국의 생산량과 최종재로 소비된 X재, Y재의 양을 나타낸다. 단, 2020년 Y재는 40억 개가 X재 생산의 중간재로 사용되었다.

구분		갑국	을국
생산량(억 개)		240	㉠
최종재로 소비된 양(억 개)	X재	100	㉡
	Y재	80	120

* X재와 Y재는 생산된 해에 모두 소진되며, 거래 비용은 없음.
 ** 교역은 양국 간에만 이루어지며, 양국은 동일한 화폐를 사용하고 X재와 Y재의 가격은 각각 1달러임.

- ① ㉠은 200이다.
 ② ㉡은 100이다.
 ③ 2020년 갑국이 수입한 Y재는 100억 개이다.
 ④ 2020년 갑국의 명목 GDP는 240억 달러이다.
 ⑤ 2020년 을국의 순수출은 -20억 달러이다.

19. 다음 자료에 대한 분석으로 옳은 것은?



- ① T는 10달러이다.
 ② S는 20달러이다.
 ③ (가)의 경우 국내 생산량은 50개이다.
 ④ (가)의 경우 관세 수입은 1,000달러이다.
 ⑤ (나)의 경우 정부가 지출하는 보조금 총액은 5,400달러이다.

20. 다음 자료에 대한 분석으로 옳은 것은? (단, X재는 수요와 공급 법칙을 따르며, 수요와 공급 곡선은 모두 직선이다.) [3점]

갑국 정부는 X재 시장의 활성화를 위해, 소비자와 생산자에게 보조금을 지급하는 정책을 단계별로 시행하였다. 1단계 정책의 결과 균형 거래량은 2개이고 생산자 잉여는 2달러이다.

○ ㉠ 1단계 정책: X재 소비자에게 1개당 2달러의 보조금 지급
 ○ ㉡ 2단계 정책: X재 생산자에게 1개당 (가)의 보조금 지급

표는 단계별 정책 시행 후 X재 시장의 가격별 초과 수요량을 나타낸 자료의 일부이다.

가격(달러)		2	3	4	5
초과 수요량(개)	1단계 정책 결과	4	2	0	-2
	2단계 정책 결과	2	0	-2	-4

* 초과 수요량 = 수요량 - 공급량

- ① (가)는 2달러이다.
 ② ㉠ 이전 균형 가격은 5달러이다.
 ③ ㉠ 이전 생산자 잉여는 1달러이다.
 ④ ㉡의 결과 균형 거래량은 4개이다.
 ⑤ ㉠과 ㉡에서 정부가 지급한 보조금의 합은 8달러이다.

* 확인 사항

○ 답안지의 해당란에 필요한 내용을 정확히 기입(표기)했는지 확인 하시오.

2022학년도 대학수학능력시험

사회탐구 영역 정답표
(경제) 과목

문항 번호	정 답	배 점	문항 번호	정 답	배 점	문항 번호	정 답	배 점	문항 번호	정 답	배 점
1	①	3	6	②	2	11	④	3	16	④	2
2	②	2	7	②	3	12	③	2	17	③	3
3	④	3	8	⑤	3	13	①	3	18	⑤	2
4	③	2	9	⑤	2	14	③	3	19	③	2
5	②	2	10	②	3	15	④	2	20	①	3

제 4 교시

사회탐구 영역 (정치와 법)

성명

수험 번호

제 [] 선택

1. 정치를 바라보는 관점 A, B에 대한 설명으로 옳은 것은?

A는 정치권력의 획득과 유지 및 행사 과정에서 공동체의 목표를 추구하고 정책을 결정하며 사회 질서를 확립해 나가는 국가의 고유한 활동만을 정치라고 보았다. 그러나 시민 사회의 발전과 더불어 정치 행위자가 다양해졌고, 이러한 시대의 변화를 반영하여 정치가 국가 차원에서만 나타나는 것이 아니라 국가 이외의 사회 집단에서도 나타나는 현상이라는 인식이 확산되었다. 이에 따라 국가라는 한정된 영역을 넘어 공동의 의사를 실현하기 위해 개인이나 집단 간의 다양한 이해관계를 합리적으로 조정하고 해결해 나가는 과정을 정치라고 보는 B가 등장하였다.

- ① A는 층간 소음 갈등을 해결하기 위해 아파트 주민 회의에서 자치 규약을 만드는 과정을 정치라고 본다.
- ② B는 국회가 국정 운영 전반에 대한 감사를 실시하는 것을 정치라고 보지 않는다.
- ③ A는 B에 비해 다원화된 현대 사회의 정치 현상을 설명하기에 적합하다.
- ④ B는 A와 달리 다른 사회 집단과 구분되는 국가만의 특수성이 존재한다고 본다.
- ⑤ A, B는 모두 물리적 강제력을 독점한 통치 기구가 희소한 자원을 배분하는 과정을 정치라고 본다.

2. 우리나라 헌법의 기본 원리 A, B에 대한 설명으로 옳은 것은?

교사: 우리나라 헌법의 기본 원리 A의 실현 방안에 대해 각자 2개씩 발표해 볼까요?
 갑: 복수 정당제를 기반으로 정당 활동의 자유를 보장하고, 언론·출판에 대한 허가나 검열을 금지하고 있습니다.
 을: 공정한 재판을 위해 사법권의 독립을 보장하고, 적정한 소득 분배 정책을 실시하고 있습니다.
 교사: 한 학생은 2개 모두 적절한 대답을 하였는데, 다른 학생은 우리나라 헌법의 기본 원리 A, B의 실현 방안을 각각 1개씩 대답했네요.

- ① A는 국가가 국민의 자율적인 문화 활동을 보장하고 문화 풍토를 조성해야 한다는 원리이다.
- ② B는 근대 입헌주의 헌법에서부터 강조되었다.
- ③ B가 구체화되는 헌법 조항으로 '국가는 사회보장·사회복지의 증진에 노력할 의무를 진다.'를 들 수 있다.
- ④ A는 B와 달리 시장의 지배와 경제력의 남용 방지를 위한 국가의 경제 정책을 통해 실현된다.
- ⑤ B는 A와 달리 개인의 자유를 최대한 보장하고 국가의 간섭을 최소화해야 한다는 원리이다.

3. 다음 자료는 서술형 평가 문항 및 답안에 대한 채점 결과이다. 이에 대한 설명으로 옳은 것은? (단, A와 B는 각각 형식적 법치주의와 실질적 법치주의 중 하나이다.) [3점]

[문항] A와 구별되는 B의 특징을 3가지만 쓰시오. [옳은 서술 하나당 1점씩, 총 3점] [답안] ○ 법률에 근거한 합법적 독재가 가능하다. ○ 법률을 통해 국가 권력을 제한하고자 한다. ○ (가)	
채점 결과	2점

- ① A는 법률의 제정 과정에서 형식과 절차만을 강조한다.
- ② A는 통치의 형식적 합법성과 함께 실질적 정당성도 강조한다.
- ③ B는 통치자를 제외한 모든 사람이 법에 구속되어야 한다고 본다.
- ④ B는 A와 달리 위헌 법률 심사제의 필요성을 강조한다.
- ⑤ (가)에 '국민의 자유와 권리를 제한할 때 법적 근거를 강조한다.'가 들어갈 수 있다.

4. 다음 사례에서 갑~병이 공통적으로 침해받은 기본권에 대한 설명으로 옳은 것은?

- □□위원회 소속 위원으로 공직자였던 갑은 법원, 검찰, 경찰 공무원 등 다른 공직자와는 달리, □□위원회법 규정으로 인해 퇴직 후 일정 기간 공직 선거법상의 선거에 출마할 수 없었다.
- 자신의 자전거로 출근하다 교통사고를 당한 근로자 을은 회사가 제공하는 통근 버스로 출근하다 다친 다른 근로자와는 달리, 산업 재해 보상 보험법상 업무상 재해에 해당하지 않음을 이유로 요양 급여를 받지 못하였다.
- 대한민국 국적을 가지고 있는 영유아 중에서 재외 국민인 영유아를 보육료·양육 수당의 지원 대상에서 제외된 정부 지침 등으로 인해 국내에서 재외 국민인 영유아를 양육하는 병은 자녀의 보육료·양육 수당을 지원받지 못하였다.

- ① 합리적 이유 없이 차별을 받지 않을 권리이다.
- ② 다른 기본권을 보장하기 위한 수단적 권리이다.
- ③ 국가의 간섭이나 침해받지 않을 방어적 권리이다.
- ④ 국가의 정치 과정에 참여할 수 있는 능동적 권리이다.
- ⑤ 인간다운 생활의 보장을 국가에 요구할 수 있는 권리이다.

5. 표는 질문을 통해 우리나라 국가 기관 A~D를 구분한 것이다. 이에 대한 설명으로 옳은 것은? (단, A~D는 각각 국회 의장, 대통령, 국무총리, 감사원장 중 하나이다.) [3점]

(○: 예, ×: 아니오)

구분	A	B	C	D
탄핵 소추의 대상인가?	×	○	○	○
헌법 개정안을 발의할 수 있는가?	×	×	○	×
법률안을 직권 상정할 수 있는가?	○	×	×	×
국무 위원 해임을 건의할 수 있는가?	×	○	×	×

- ① A, C는 모두 법률안 재의 요구권을 갖는다.
- ② B는 C가 참석한 국무 회의에서 의장이 된다.
- ③ D는 B와 달리 국민으로부터 민주적 정당성을 직접 부여받는다.
- ④ B, D는 모두 국회의 동의를 얻어 C가 임명한다.
- ⑤ A, C는 B, D와 달리 국가 긴급권을 행사할 수 있다.

정치와 법

2 (정치와 법)

사회탐구 영역

6. 다음 자료에 대한 설명으로 옳은 것은? (단, (가)와 (나)는 각각 전형적인 대통령제와 의원 내각제 중 하나이다.) [3점]

의원 정부제에는 (가)와 (나)의 특성이 모두 나타난다. 의원 정부제는 (가)와 달리 행정부 수반과 내각이 의회의 신임에 의존하고, (나)와 달리 국민이 직접 선출한 국가 원수가 실질적이고 강력한 권한을 갖는다. 하지만 국가 원수 소속 정당이 아닌 다른 정당이 의회에서 과반수 의석을 차지하면, 국가 원수는 여당에 속한 인물을 행정부 수반으로 임명하지 못해 위상이 약화될 수밖에 없다. 표는 의원 정부제를 채택하고 있는 갑국에서 각 시기의 정당별 의회 의석률과 국가 원수 소속 정당을 나타낸다.

시기	정당별 의회 의석률(%)				국가 원수 소속 정당
	A 당	B 당	C 당	D 당	
t	55	30	13	2	A 당
t+1	35	53	8	4	A 당

- (가)에서는 행정부가 법률안을 제출할 수 있다.
 - (나)에서는 행정부가 의회 해산권을 통해 의회를 견제할 수 있다.
 - (가)에서는 (나)와 달리 의회 의원이 각료를 겸직할 수 있다.
 - t시기와 t+1시기 모두 갑국에서는 국가 원수 소속 정당과 행정부 수반 소속 정당이 동일할 것이다.
 - t시기에는 t+1시기에 비해 갑국 행정부의 강력한 정책 추진이 어려울 것이다.
7. 다음 자료에 대한 설명으로 옳은 것은? (단, A와 B는 우리나라 지방 자치 단체의 기관이다.)

<지방 자치법, 이렇게 달라집니다>

- ㉠ 주민 조례 발안 제도 개선
 - 조례안에 대한 심사·의결권을 가진 A에 주민이 조례의 제정과 개정·폐지를 직접 청구할 수 있도록 함.
- ㉡ 규칙 제정과 개정·폐지 의견 제출권 신설
 - 지방 자치 단체를 대표하고 그 사무를 총괄하는 B에 일정 조건을 갖춘 주민이 주민의 권리·의무와 직접 관련되는 사항에 한하여 규칙의 제정과 개정·폐지에 관한 의견을 제출할 수 있도록 함.

- ㉠은 ㉡과 달리 주민 자치를 강화하여 국민 주권주의를 실현하는 데 기여한다.
 - A는 조례안을 주민 투표에 부쳐 주민의 의견을 수렴해야 한다.
 - A와 B 간에 수직적 권력 분립이 나타난다.
 - A는 B가 편성한 지방 자치 단체의 예산안을 심의·의결한다.
 - B는 A의 장(長)과 달리 주민 소환의 대상이 될 수 없다.
8. 다음 자료에 대한 설명으로 옳은 것은? [3점]

- 법률이 헌법에 위반되는지 여부가 재판의 전제가 된 경우에 법원은 A에 (가)을/를 제청하여 그 심판에 의하여 재판한다.
- 공권력의 행사 또는 불행사로 인하여 헌법상 보장된 기본권을 침해 받은 자는 법원의 재판을 제외하고는 A에 (나)을/를 청구할 수 있다. 다만, 다른 법률에 구제 절차가 있는 경우에는 그 절차를 모두 거친 후에 청구할 수 있다.

- 재판 당사자의 (가) 제청 신청을 법원이 기각할 수 없다.
- 재판 당사자의 제청 신청이 없더라도 법원은 A에 (가)를 제청할 수 있다.
- (나)의 청구를 통해 법원은 국회의 자의적인 입법을 견제할 수 있다.
- (나)의 청구인은 A의 결정에 불복할 경우 대법원에 재항고할 수 있다.
- A의 장(長)은 국무총리의 동의를 얻어 대통령이 임명한다.

9. A~D에 대한 설명으로 옳은 것은? (단, A~D는 각각 정당, 이익 집단, 시민 단체, 언론 중 하나이다.) [3점]

역사적으로 A는 정치적 총원 기능을 수행하며 대의 민주주의의 한 축을 담당했지만, 사회가 다원화되면서 A만으로는 다양한 이해관계를 정치 과정에 모두 반영하기 어려워졌다. 이에 시민은 자신들의 특수한 이익을 실현하고자 B를 조직하기도 하고, 공익 추구를 목표로 자발적으로 조직한 단체인 C에 가입하여 활동하며 정치 과정에 영향력을 행사하기도 한다. 또한 시민은 다양한 매체를 통해 사회 현상에 대한 보도와 해설로 정보를 제공하는 D를 자신의 정치적 견해를 밝히는 통로로도 활용하며 정치 과정에 능동적으로 참여한다.

- A는 B와 달리 정치적 중립을 추구한다.
 - B는 특수 이익을 실현하기 위해 A를 통해 정치 과정에 영향력을 행사하기도 한다.
 - C는 A와 달리 정치적 책임을 진다.
 - C는 B, D와 달리 사회 구성원의 정치에 대한 관심과 이해를 높이는 역할을 한다.
 - D는 A, C와 달리 여론을 형성하여 의회와 행정부를 매개하는 역할을 한다.
10. 밑줄 친 ㉠~㉣에 대한 옳은 설명만을 <보기>에서 고른 것은?

교사: 동물 보호를 위해 정치 과정에 직접 참여하여 활동한 경험을 발표해 보세요.

국회 의원 선거에서 동물 복지에 대한 정책을 주요 공약으로 내세운 ㉠ 후보자에게 투표했어요.

국민 참여 입법 센터 홈페이지를 방문하여 동물 학대에 대한 처벌을 강화하는 ㉡법 개정안에 대한 의견을 온라인으로 제출했어요.

동물 보호 단체에 가입하여 ㉢ 회원들과 함께 거리 홍보 활동을 했어요. 그 후에 국회 전자 청원 시스템에 ㉣법 개정 청원서를 작성했고, 10만 명 이상의 동의를 얻어 청원이 제출된 것을 확인했어요.

<보 기>

㉠. ㉠은 ㉡과 달리 대의제의 한계를 보완할 수 있는 방법이다.
 ㉡. ㉡은 ㉢에 비해 정치 참여에서 시·공간적 제약을 완화할 수 있는 방법이다.
 ㉢. ㉢은 ㉣과 달리 정치적 효능감 향상에 기여할 수 있는 방법이다.
 ㉣. ㉣은 ㉠과 달리 집단적 정치 참여 방법이다.

① ㉠, ㉡ ② ㉠, ㉢ ③ ㉡, ㉣ ④ ㉡, ㉣ ⑤ ㉢, ㉣

11. 밑줄 친 ㉠~㉣에 대한 법적 판단으로 옳은 것은?

갑과 을은 혼인 신고를 하였고, 그 사이에서 A가 태어났다. 다음 해 ㉠갑과 을은 협의 이혼하면서, 합의하에 ㉡을이 A를 양육하기로 결정하였다. 이후 을은 병과 혼인 신고를 하고, ㉢ 병은 A를 친양자 아닌 양자로 입양하였다.

- ㉠에 의하여 A는 혼인 외의 출생자가 된다.
- ㉠은 갑과 을 간에 민법상의 재판상 이혼 사유가 있는 경우에도 가능하다.
- ㉡에 따라 갑은 가정 법원에 청구해야 A에 대한 면접 교섭권을 가진다.
- ㉢에 의하여 갑과 A 사이의 친자 관계는 종료된다.
- ㉢에 의하여 A는 태어난 때부터 을과 병의 친생자와 같은 지위를 가진다.

12. 민법의 기본 원칙 (가), (나)에 대한 설명으로 가장 적절한 것은? [3점]

□(가)은/는 개인이 국가나 타인의 간섭을 받지 않고 자기의 의사에 따라 법률관계를 형성하는 원칙을 말한다. 이는 법률 행위의 주된 모습인 계약을 통해 발현되므로 계약 자유의 원칙이라고도 한다. 계약의 자유는 당사자 간 힘의 균형과 자유로운 경쟁을 전제로 하고 있지만 사회적·경제적으로 불평등한 관계로 인해 경제적 강자가 경제적 약자를 지배하는 수단으로 악용되기도 한다. 이러한 문제점을 해결하기 위해 □(가)은/는 □(나) (으)로 수정·보완되고 있다.

- ① (가)는 공작물의 설치 하자로 인해 타인에게 손해를 가한 경우 점유자가 지는 특수 불법 행위 책임에 적용된다.
- ② (가)에 따르면 손해를 발생시킨 위법한 행위라도 가해자에게 고의나 과실이 인정되는 경우에만 책임을 진다.
- ③ (나)에 따르면 계약 내용이 사회 질서에 위반하거나 현저히 공정성을 잃은 경우 법적 효력이 발생하지 않는다.
- ④ (나)에 따르면 개인은 자신이 소유하는 재산을 공공의 이익에 부합하도록 사용·수익 또는 처분하여야 한다.
- ⑤ (가), (나)는 모두 근대 자본주의 발달 과정에서 발생하는 경제적 불평등과 같은 사회 문제를 해결하기 위해 등장하였다.

[13~14] 다음 자료를 보고 물음에 답하시오.

갑(24세)과 을(14세)은 술에 만취한 병이 난동을 부리자 이를 제압하였고, 이 과정에서 병은 전치 12주의 상해를 입었다. 수사 과정에서 검사는 갑에 대해 구속 영장을 청구하였고, 판사는 ㉠ 구속 영장을 발부하였다. 검사는 갑, 을 모두 범죄의 혐의가 객관적으로 인정된다고 판단하여 갑은 ㉡ 기소 하였으나 재판 사정을 참작하여 을은 불기소 처분을 하였다. 법원은 “병을 제압하는 과정에서 행하여진 피고인의 행위는 동기나 당시 상황으로 보아 사회 통념상 허용될 수 있는 정도의 상당성이 있어 사회 상규에 위배되지 않는다.”라며 ㉢ 무죄를 선고하였다. 이후 검사가 항소하였다. 항소심 법원은 갑에게 징역 1년을 선고하였고, ㉣ 그 판결은 확정되었다.

13. 밑줄 친 ㉠~㉣에 대한 법적 판단으로 옳은 것은? [3점]

- ① ㉠에 앞서 판사는 검사가 제출한 서면만을 통해서 구속 여부를 판단하는 것이 원칙이다.
- ② ㉡ 이후 갑의 범죄 사실 입증 책임은 판사에게 있다.
- ③ ㉢에 의해 개시된 재판에서 갑과 검사는 소송의 당사자가 된다.
- ④ ㉣으로 인해 갑에게 형사 보상 청구권이 인정된다.
- ⑤ ㉣으로 인해 갑은 병에게 범죄 피해자 구조금을 지급해야 한다.

14. 위 사례에 대한 법적 판단으로 옳은 것은?

- ① 재판 중 법률이 개정되어 형벌이 무거워진 경우에 갑은 개정된 법률의 적용을 받는다.
- ② 검사는 을의 행위가 구성 요건에는 해당하나 을이 형사 미성년자임을 이유로 불기소 처분을 하였다.
- ③ 을은 불기소 처분을 받았기 때문에 민사상 손해 배상 책임을 지지 않는다.
- ④ 1심 법원은 갑의 행위가 구성 요건에는 해당하나 자구 행위임을 이유로 무죄라고 판단하였다.
- ⑤ 2심 법원은 갑에게 교도소 내에 가두어 정역에 복무하게 하는 형벌을 부과하였다.

15. 밑줄 친 ㉠~㉣에 대한 옳은 법적 판단만을 <보기>에서 고른 것은? [3점]

갑(17세)은 서점에서 자신의 법정 대리인 을의 동의 없이 용돈으로 ㉠ 참고서를 구입했다. 며칠 후 갑은 백화점에서 고가의 한정판 ㉡ 가방을 구입했다. 또한 대학 학비를 마련하기 위하여 방학 때 분식집에서 아르바이트를 하기로 하고, 분식집 사장 ㉢ 근로 계약을 체결하였다. 한편 을은 ㉣ 불법 도박 용도의 자금을 빌려주는 계약을 그 용도를 알면서도 친구와 체결하였다.

<보 기>

- ㉠. ㉠은 일단 유효하나 을에 의해 취소될 수 있다.
- ㉡. 갑이 동의를 위조함으로써 을의 동의가 있는 것으로 믿게 하여 ㉡을 하였다면 을은 해당 계약을 취소할 수 없다.
- ㉢. 갑이 ㉢에 따른 임금을 청구하려면 을의 동의가 필요하다.
- ㉣. ㉣의 법적 효력은 발생하지 않는다.

- ① ㉠, ㉡ ② ㉠, ㉢ ③ ㉡, ㉢ ④ ㉡, ㉣ ⑤ ㉢, ㉣

16. 다음 자료에 대한 분석 및 추론으로 옳은 것은?

갑국 의회는 단순 다수제로 선출되는 지역구 의원 6인과 비례 대표 의원 9인으로 구성되며, 유권자는 지역구 의원 선출을 위해 후보자에 1표, 비례 대표 의원 선출을 위해 정당에 1표를 행사한다. 비례 대표 의석은 정당 투표 득표율에 비례 대표 총의석수를 곱하여 산출된 수의 정수(整數)만큼 각 정당의 의석으로 배분하고, 이후 잔여 의석은 소수점 이하의 수가 큰 순서대로 각 정당에 1석씩 배분한다. 표는 최근 갑국 의회 의원 선거 결과를 나타낸다.

(단위: 표, %)

구분	A 당	B 당	C 당	D 당	E 당
선거구 1	50	60	50	10	30
선거구 2	140	10	10	10	30
선거구 3	60	30	20	70	20
선거구 4	40	20	100	20	20
선거구 5	20	60	50	40	30
선거구 6	20	10	150	10	10
정당 투표 득표율	20	40	5	20	15

*정당은 A~E 당만 존재하고 무소속 후보자는 없으며, 투표율은 100%이고 무효표는 없음.

갑국은 현재의 의원 정수(定數)를 유지하면서 다음과 같이 선거 제도 개편안을 검토하고 있다. 개편안의 경우 최근 의회 의원 선거 결과만을 근거로 판단한다.

지역구 의원 선거	선거구 1-2, 3-4, 5-6을 통합하여 선거구를 3개로 축소하고, 각 선거구에서 득표순으로 2인의 대표를 선출한다. 정당이 후보자를 공천할 때, 지역구 의원 선거에서 선거구별로 2인이 당선 가능한 경우 2인을, 그렇지 않은 경우 1인을 공천한다.
비례 대표 의원 선거	정당 투표 득표율에 전체 의석수를 곱하여 산출된 수의 정수만큼 각 정당의 의석으로 배분하고, 이후 잔여 의석은 소수점 이하의 수가 큰 순서대로 각 정당에 1석씩 배분하여 전체 의석수를 할당한다. 정당별로 할당된 의석수에서 지역구 의석수를 뺀 나머지 의석수를 정당별 비례 대표 의석으로 배정하되, 어떤 정당의 지역구 의석수가 할당된 의석수보다 더 많다면 초과 의석은 인정하나 비례 대표 의석은 배분하지 않는다. 초과 의석으로 인해 의원 정수는 늘어날 수 있다.

- ① 현행에서 A 당은 총의석률이 정당 투표 득표율보다 더 높다.
- ② 현행에서 D 당은 지역구 의석수가 비례 대표 의석수보다 더 많다.
- ③ 개편안 적용 시 C 당의 총의석수는 최소 2석, 최대 3석이다.
- ④ 개편안 적용 시 지역구 의원 선거에서 B 당이 최대 의석수를 확보하면 B 당은 초과 의석을 얻게 된다.
- ⑤ A 당의 경우 현행보다 개편안을 적용하는 것이 유리하고, E 당의 경우 선거 제도 개편에 따른 유불리는 없다.

4 (정치와 법)

사회탐구 영역

17. 다음 자료에 대한 설명으로 옳은 것은? (단, A~C는 모두 국제 연합의 주요 기관이다.) [3점]

국제 형사 재판소는 1998년 120개국의 찬성으로 채택되고, 2002년 발효된 ① ‘국제 형사 재판소에 관한 로마 규정’에 근거하여 집단 살해죄, 인도에 반한 죄 등을 저지른 개인을 형사 처벌하기 위해 설립되었다. 국제 형사 재판소는 국제 연합의 산하 기관이 아니기 때문에 국제 연합의 주요 사법 기관인 A와는 구분된다. 국제 연합에서 평화와 안전의 유지에 관한 일차적 책임을 부여받은 기관인 B는 국제 형사 재판소에 관련 상황을 회부할 수 있다. 현재 국제 연합의 모든 회원국으로 구성된 의결 기관인 C는 갑국의 대규모 인권 침해 상황을 B가 국제 형사 재판소에 회부하도록 권고하는 결의안 채택을 추진하고 있다.

- ① ①과 같은 국제법의 법원(法源)은 국가 간의 합의로 국가와 국제기구 간에는 체결할 수 없다.
- ② A에 제소된 사건의 당사자에는 국가와 개인이 모두 포함된다.
- ③ A는 판결에 불복하는 당사국을 직접 제재할 수 있다.
- ④ C는 주권 평등의 원칙이 반영된 표결 방식을 채택하고 있다.
- ⑤ B는 C에서 선출되고 임기가 2년인 15개 이사국으로 구성된다.

18. (가)~(라)에 대한 옳은 법적 판단만을 <보기>에서 고른 것은?

(가) 갑(35세)은 자신의 주택을 을에게 매도하는 계약을 체결하였다. 그런데 지진으로 인해 해당 주택이 파손되어 갑은 계약을 이행할 수 없게 되었다.
 (나) 갑(19세)은 을이 운영하는 음식점에서 자전거로 배달 아르바이트를 하고 있었다. 어느 날 갑은 공원에서 자신의 자전거를 타며 동호회 활동을 하던 중 회원 병을 실수로 다치게 하였다.
 (다) 갑(7세)은 법정 감독 의무자인 을과 함께 전시장에 갔다가 천장에 설치된 커다란 조명이 떨어지자 이를 피하기 위해 옆에 전시되어 있던 병 소유의 작품을 파손했다.
 (라) 갑(28세)은 을이 운영하는 컴퓨터 수리점에서 아르바이트를 하고 있었다. 어느 날 갑은 병의 노트북을 수리하던 중 해킹 프로그램을 몰래 설치하여 병에게 손해를 입혔다.

<보 기>

- ㄱ. (가)에서 갑은 주택 파손에 대한 고의 또는 과실이 없기 때문에 을에 대하여 손해 배상 책임을 지지 않는다.
- ㄴ. (나)에서 갑의 병에 대한 일반 불법 행위 책임이 성립하고, 을의 병에 대한 특수 불법 행위 책임도 성립한다.
- ㄷ. (다)에서 갑의 파손 행위가 긴급 피난에 해당하는 경우, 을의 병에 대한 특수 불법 행위 책임이 성립하지 않는다.
- ㄹ. (라)에서 갑의 병에 대한 채무 불이행 책임이 성립하고, 을의 병에 대한 일반 불법 행위 책임은 성립하지 않는다.

- ① ㄱ, ㄴ ② ㄱ, ㄷ ③ ㄴ, ㄷ ④ ㄴ, ㄹ ⑤ ㄷ, ㄹ

19. 국제 관계를 바라보는 갑, 을의 관점에 대한 설명으로 옳은 것은?

갑: 국가들은 협력에서 파생된 이익이 상대방에게 더 많이 돌아가 자신의 안보를 위협하지 않을까 우려하기 때문에 국제 사회에서는 국가 간 협력이 일어나기 어렵다.
 을: 국가들은 국제 사회에 존재하는 제도와 규범을 통해 상대 국가가 어떻게 행동할 것인지 예측할 수 있으며, 이를 바탕으로 공동의 이익을 위한 국가 간 협력이 일어난다.

- ① 갑의 관점은 개별 국가의 이익과 국제 사회 전체의 이익이 조화를 이룬다고 본다.
- ② 갑의 관점은 특정 국가의 침략 행위에 모든 국가들이 공동으로 대응함으로써 국제 평화가 실현될 수 있다고 본다.
- ③ 을의 관점은 국가 간 힘의 균형을 통한 안보 추구하고 전쟁 억제가 가능하다고 본다.
- ④ 을의 관점은 국제 사회의 문제 해결에 있어 국제기구가 중요한 역할을 한다고 본다.
- ⑤ 갑, 을의 관점은 모두 국가가 도덕적 규범에 따라 외교 정책을 수립한다고 본다.

20. 다음 사례에 대한 옳은 법적 판단만을 <보기>에서 있는 대로 고른 것은? [3점]

다음은 갑, 을, 병이 각각 대형 마트인 ○○마트 사장 정과 체결한 근로 계약의 공통된 내용 중 일부이다. 단, 근로 계약 체결 시 연장 근로에 대해 어떠한 합의도 없었다.

1. 근로 계약 기간: 2021년 7월 1일부터 2021년 8월 31일까지
2. 근무 장소: ○○마트
3. 업무의 내용: ○○마트 내 상품 정리
4. 소정 근로 시간: 9시~18시(휴게 시간: 12시~13시)
5. 근무일 / 휴일: 매주 월요일~금요일 근무, 주휴일 매주 토, 일요일
6. 임금
 - 시간급: 시간당 9,500원
 - 임금 지급일: 매월 25일
 - 지급 방법: 근로자에게 직접 지급(), 근로자 명의 예금 통장에 입금(✓)

* 2021년 법정 최저 임금은 시간당 8,720원임.
 ** 갑, 을, 병은 모두 중학교를 졸업하였음.

표는 각 질문으로 갑, 을, 병을 구분한 후, '예', '아니오' 중 같은 답변에 해당하는 사람끼리 묶은 것이다.

[질문1] 민법상 미성년자에 해당합니까?	갑 을 병
[질문2] 취직 인허증이 필요합니까?	갑 을 병
[질문3] 근로 시간이 원칙적으로 1일 7시간, 1주 35시간을 초과하지 못합니까?	갑 을 병

<보 기>

- ㄱ. 을의 근로 계약에는 근로 기준법을 위반한 내용이 포함되어 있다.
- ㄴ. 갑뿐만 아니라 을의 근로 계약도 친권자나 후견인이 대리할 수 없다.
- ㄷ. 근로 기준법상 갑과 정이 연장 근로에 합의하더라도 1일에 1시간, 1주에 5시간을 초과할 수 없다.
- ㄹ. 병이 부모의 동의 없이 정과 근로 계약을 체결했다면 병은 이를 취소할 수 있다.

- ① ㄱ, ㄴ ② ㄱ, ㄷ ③ ㄷ, ㄹ
- ④ ㄱ, ㄴ, ㄹ ⑤ ㄴ, ㄷ, ㄹ

* 확인 사항

○ 답안지의 해당란에 필요한 내용을 정확히 기입(표기)했는지 확인 하시오.

2022학년도 대학수학능력시험

사회탐구 영역 정답표
(정치와 법) 과목

문항 번호	정 답	배 점	문항 번호	정 답	배 점	문항 번호	정 답	배 점	문항 번호	정 답	배 점
1	⑤	2	6	②	3	11	②	2	16	③	2
2	③	2	7	④	2	12	③	3	17	④	3
3	②	3	8	②	3	13	③	3	18	②	2
4	①	2	9	②	3	14	⑤	2	19	④	2
5	④	3	10	④	2	15	④	3	20	①	3

제 4 교시

사회탐구 영역(사회·문화)

성명

수험 번호

제 [] 선택

1. 밑줄 친 ㉠~㉣과 같은 현상의 일반적인 특징에 대한 설명으로 옳은 것은?

비가 오지 않는 지역으로 유명한 ㉠아라비아반도 남부 지역에 열대성 저기압이 상륙해 하루 만에 300mm가 넘는 비를 뿌렸다. 세계 기상 기구(WMO)는 이처럼 ㉡유례없는 강수량이 집중되는 현상은 앞으로 더 빈번해질 것이라고 경고했다. 문제는 지구 온난화로 인한 이상 기후 현상을 대비할 수 있는 국가 차원의 ㉢기상 데이터와 예보 시스템을 보유하지 못한 나라들이 너무 많다는 것이다. 이러한 나라들은 ㉣강수 패턴과 농업이 가능한 계절의 변화 때문에 앞으로 식량 안보 위기에 처할 것이다.

- ① ㉠과 같은 현상은 ㉡과 같은 현상에 비해 특수성이 강하다.
- ② ㉡과 같은 현상은 ㉢과 같은 현상과 달리 보편성이 나타난다.
- ③ ㉢과 같은 현상은 ㉣과 같은 현상과 달리 가치 함축적이다.
- ④ ㉣과 같은 현상은 ㉠과 같은 현상과 달리 인과 관계가 분명하다.
- ⑤ ㉠, ㉢과 같은 현상은 필연성의 원리가, ㉡, ㉣과 같은 현상은 개연성의 원리가 적용된다.

2. 일탈 이론 A, B에 대한 설명으로 옳은 것은? (단, A, B는 각각 낙인 이론, 차별 교제 이론 중 하나이다.) [3점]

〈수행 평가〉

※ 문제: 청소년 범죄에 대한 형사 처벌을 강화하자는 주장에 대해 일탈 이론 A, B에 근거하여 의견을 서술하십시오.

A	B
어렸을 때에는 누구나 잘못을 할 수 있습니다. 청소년기에 형사 처벌을 받으면 주변 사람들로 부터 따가운 시선을 받게 될 것입니다. 그로 인해 범죄자로서의 부정적 자아 정체성을 갖게 되어 다시 범죄를 저지를 가능성이 높습니다. 그러므로 반대합니다.	어린 나이에 일탈 행동을 일삼는 또래와 어울리면 범죄를 저지를 수 있습니다. 이로 인해 청소년기에 형사 처벌을 받아 교정 시설로 가게 되면, 그곳에서 만난 사람들로 부터 범죄에 대한 우호적 태도를 강화하여 다시 범죄를 저지를 가능성이 높습니다. 그러므로 반대합니다.

- ① A는 일탈이 행위의 속성에 의해서가 아니라 그에 대한 사회적 반응에 의해 규정된다고 본다.
- ② B는 일탈 행동의 원인을 차별적인 제재에서 찾는다.
- ③ A는 B와 달리 타인과의 상호 작용을 통해 일탈 행동이 학습된다고 본다.
- ④ B는 A와 달리 2차적 일탈 행동의 발생 과정에 초점을 맞춘다.
- ⑤ A는 정상 집단과의 교류 촉진을, B는 일탈 행동에 대한 신중한 규정을 일탈 행동에 대한 대책으로 강조한다.

3. 표는 사회·문화 현상을 바라보는 관점 A~C를 구분한 것이다. 이에 대한 옳은 설명만을 <보기>에서 고른 것은? (단, A~C는 각각 기능론, 갈등론, 상징적 상호 작용론 중 하나이다.)

구분	A	B	C
(가)	예	아니요	아니요
기득권층의 이익을 대변하는 논리로 사용된다는 비판을 받는가?	아니요	아니요	예
사회·문화 현상을 사회 구조적 측면에서 설명하는가?	아니요	예	예

— <보 기> —

ㄱ. A는 B와 달리 집단 간 갈등을 사회 변동의 원동력으로 본다.
 ㄴ. B는 C와 달리 사회 각 부분의 통합과 균형을 강조한다.
 ㄷ. C는 A와 달리 다양한 사회 제도들의 상호 의존 관계에 주목한다.
 ㄹ. (가)에는 '인간이 상황 정의에 기초하여 행동한다고 보는가?'가 들어갈 수 있다.

- ① ㄱ, ㄴ ② ㄱ, ㄷ ③ ㄴ, ㄷ ④ ㄴ, ㄹ ⑤ ㄷ, ㄹ

4. 다음 자료에 대한 설명으로 옳은 것은? [3점]

연구자 갑은 ㉠“학업 성취도에 자기 통제력이 정(+)의 영향을 미칠 것이다.”라는 가설을 검증하기 위해 아동 90명을 대상으로 연구하였다. 갑은 아동에게 “초콜릿 1개를 받고 바로 먹어도 되지만 15분 동안 먹지 않고 기다리면 1개를 더 먹을 수 있다.”는 조건에서 자신의 ㉡기다림 행동 정도(바로 먹음, 기다리다 중간에 먹음, 끝까지 기다림)를 예측하여 기입하게 하였다. 해당 아동의 ㉢학업 성적을 구하여 통계 분석한 결과, ‘끝까지 기다림’ 집단이 나머지 집단보다 학업 성적이 높았다.

연구자 을은 갑의 가설을 재검증하기 위해 아동 900명을 대상으로 아동의 기다림 행동 정도와 학업 성적을 갑의 연구와 동일하게 수집하였다. 추가적으로 아동에 대한 가정의 경제적 배경을 조사하여 연구 대상자를 ㉣두 집단으로 구분한 후 자료를 분석하였다. 갑의 가설과 자신이 추가한 가설을 모두 검증하기 위해 분석한 결과, 기다림 행동 정도에 따른 학업 성적의 차이는 통계적으로 유의미하지 않았고, ㉤가정의 경제적 배경에 따른 학업 성적의 차이는 통계적으로 유의미한 것으로 나타났다.

- ① 갑은 실험법, 을은 질문지법을 사용하였다.
- ② ㉠은 갑, 을의 연구 모두에서 수용되었다.
- ③ ㉡은 갑, 을의 연구 모두에서 독립 변수의 조작적 정의이다.
- ④ ㉢은 갑의 연구에서, ㉣은 을의 연구에서 종속 변수이다.
- ⑤ ㉤은 을의 연구에서 실험 집단과 통제 집단을 구분하기 위한 과정이다.

2 (사회·문화)

사회탐구 영역

5. (가)와 달리 (나)에만 부각되는 문화의 속성에 대한 진술로 옳은 것은? [3점]

(가) 사람의 몸과 정신이 연결되어 있다는 믿음을 가졌던 전통 사회에서는 질병의 원인을 누군가의 원한이나 주술이라고 생각했기 때문에 아픈 사람을 굿으로 치료하려고 하였다. 반면, 질병의 원인을 과학에 근거하여 바이러스나 세균에서 찾는 오늘날에는 누구나 아픈 경우에 병원에 가서 치료하려고 한다.

(나) 판소리는 북장단에 맞춰 소리, 아니리, 발림을 섞은 전통 민속악이다. 최근에 판소리는 소리꾼의 소리에 베이스, 드럼, 댄스를 더해 남녀 노소가 쉽게 즐기는 퓨전 음악으로 재탄생했다. 판소리의 이야기가 갖는 서사성은 유지하면서도 중독성 강한 리듬과 흥겨운 춤이 더해져 판소리와 랩의 경계를 넘나드는 새로운 장르로 발전하고 있다.

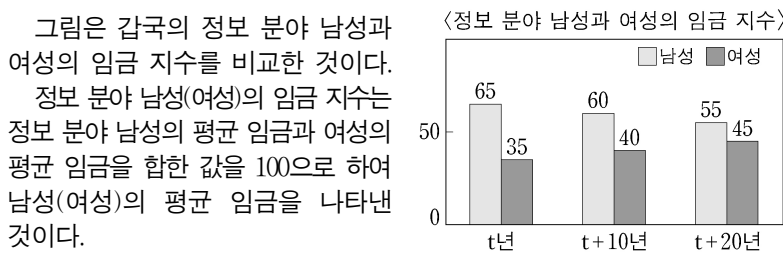
- ① 문화는 상징을 통해 후천적으로 학습된다.
- ② 문화는 세대를 전승하며 더욱 풍부해진다.
- ③ 문화는 유기적으로 연결된 총체로서 존재한다.
- ④ 문화는 시간이 흐르면서 그 형태나 내용이 변화된다.
- ⑤ 문화는 구성원들의 사고와 행동에 동질성을 갖게 한다.

6. 밑줄 친 ㉠~㉣에 대한 설명으로 옳은 것은?

급진적 ㉠ 이상주의자였던 아버지의 영향으로 사회 개혁에 관심이 컸던 갑은 경제적 이유로 소설가의 꿈을 접고 회사원이 된다. ㉡ 납품 업체가 제공하는 고품과 향응을 매번 거절한 그는 '혼자만 깨끗한 척한다.'며 ㉢ 빈정대는 동료와 갈등을 빚는다. 그는 고민 끝에 회사를 그만두고 신춘문예를 통해 ㉣ 소설가로 등단한다. 하지만 순수 문학의 힘에 한계를 느낀 그는 영화계에 입문하여, ㉤ 시나리오 작가와 조연출을 거쳐 늦은 나이에 영화감독으로 데뷔한다. ㉥ 분단의 아픔, 도시화와 산업화의 그늘, 소시민의 삶을 다룬 작품들로 평단의 호평과 권위주의 정권의 감시를 동시에 받은 그는 리얼리즘 계열 영화의 거장으로 존경받고 있다.

- ① ㉠은 갑의 아버지가 획득한 성취 지위이다.
- ② ㉡은 회사원으로서 갑의 역할 행동이다.
- ③ ㉢은 갑이 경험한 역할 갈등이다.
- ④ ㉣은 ㉤이 되기 위한 갑의 예기 사회화이다.
- ⑤ ㉥은 영화감독으로서 갑의 역할 행동에 따른 보상이다.

7. 다음 자료에 대한 옳은 분석만을 <보기>에서 고른 것은? [3점]



<보 기>

- ㄱ. t년, t+10년, t+20년 모두에서 정보 분야 남성의 평균 임금이 정보 분야 여성의 평균 임금보다 많다.
- ㄴ. t년 대비 t+10년에 정보 분야 남성의 임금 지수와 정보 분야 여성의 임금 지수 간 격차는 10% 감소하였다.
- ㄷ. 정보 분야 여성의 임금 지수의 경우, t년 대비 t+10년의 증가율은 t+10년 대비 t+20년의 증가율보다 크다.
- ㄹ. t년 대비 t+20년에 정보 분야 남성의 임금 지수 감소율과 정보 분야 여성의 임금 지수 증가율 크기는 동일하다.

- ① ㄱ, ㄴ ② ㄱ, ㄷ ③ ㄴ, ㄷ ④ ㄴ, ㄹ ⑤ ㄷ, ㄹ

8. 자료 수집 방법 A~C의 일반적인 특징에 대한 설명으로 옳은 것은? (단, A~C는 각각 문헌 연구법, 질문지법, 면접법 중 하나이다.) [3점]

연구자의 수행 내용	사용한 자료 수집 방법
<ul style="list-style-type: none"> ○ 연구 대상자의 협조를 얻기 위해 연구 대상자와 친밀한 관계를 형성하였다. ○ 연구 대상자의 언어적 응답뿐만 아니라 표정 등의 비언어적 단서에도 주목하였다. 	A
<ul style="list-style-type: none"> ○ 동일한 연구 문제를 다룬 연구가 있는지 확인하였다. ○ 연구자 자신의 주장을 지지할 수 있는 기존 연구를 검토하였다. 	B
<ul style="list-style-type: none"> ○ 하나의 문항에서 하나의 내용만 묻고 있는지 점검하였다. ○ 수집한 양적 자료 중에서 무응답이나 불성실한 응답이 있는지 확인하였다. 	C

- ① A는 B에 비해 자료 수집 과정에서 시·공간적 제약이 작다.
- ② B는 C와 달리 연구 대상자와의 언어적 상호 작용이 필수적이다.
- ③ C는 A에 비해 연구자의 주관적 가치가 개입될 가능성이 낮다.
- ④ A는 B, C와 달리 수집된 자료의 통계 처리가 가능하다.
- ⑤ C는 A, B에 비해 대규모 집단을 대상으로 자료를 수집하기에 불리하다.

9. 빈곤 유형 A, B에 대한 설명으로 옳은 것은? (단, A, B는 각각 절대적 빈곤, 상대적 빈곤 중 하나이다.)

A는 인간으로서 신체적인 능력을 유지하기 위해 필요한 최소한의 필수품을 획득하기에는 소득이 불충분한 상태를 의미한다. 그러나 이것은 사회 구성원 다수가 누리는 인간으로서의 욕구를 고려하지 못하는 한계가 있다. 이에 사회 구성원의 전반적인 생활 수준을 고려한 B가 도입되었다.

- ① A는 B와 달리 상대적 박탈감을 유발한다.
- ② B는 A와 달리 중위 소득이 높은 국가에서는 나타나지 않는다.
- ③ A에 따른 빈곤율과 B에 따른 빈곤율을 더하면 전체 빈곤율이 된다.
- ④ 우리나라에서는 B와 달리 A를 파악할 때, 사회 구성원의 소득 분포 상태를 고려한다.
- ⑤ 우리나라에서는 A, B에 해당하는 가구를 선정할 때, 모두 객관화된 기준을 적용한다.

10. 하위문화의 사례 (가), (나)에 대한 설명으로 옳은 것은?

(가) 한국의 아이돌 가수에 열광하여 K-팝을 즐기던 갑국의 많은 청소년이 한국 문화를 일상에서도 즐기고 있다. 이들은 한국어를 사용하며 한국 드라마도 시청하고 한국 음식을 직접 요리하는 등 한국 문화를 자신들만의 문화 코드로 공유하면서 남들과 구별되는 삶을 추구하고 있다.

(나) 자본주의 소비문화에 저항하면서 생태 거주지를 만들어 사는 이들이 있다. 이들은 친환경적으로 농작물을 길러 자족 생활을 하며, 폐기물을 양산하는 공산품을 소비하지 않고 쓰레기를 만들지 않는 삶을 실천한다. 이러한 삶의 방식은 현대인의 소비문화에 성찰적 질문을 던지고 있다.

- ① (가)에서는 하위문화가 주류 문화로 대체되는 양상이 나타난다.
- ② (나)에서는 세대 문화와 지역 문화의 양상이 함께 나타난다.
- ③ (가)에서는 (나)와 달리 하위문화가 문화 다양성에 기여하는 양상이 나타난다.
- ④ (나)에서는 (가)와 달리 해당 문화를 향유하는 구성원들이 기존 질서나 가치를 거부하는 양상이 나타난다.
- ⑤ (가), (나) 모두에서는 물질 문화의 변동 속도를 비물질 문화의 변동 속도가 따라가지 못하는 양상이 나타난다.

11. 다음 자료에 대한 옳은 설명만을 <보기>에서 고른 것은? (단, A, B는 각각 산업 사회, 정보 사회 중 하나이다.)

개인들은 A에 비해 B에서 취향의 자유를 더 많이 누린다. B의 개인들은 자신의 독특한 욕구를 A에 비해 훨씬 더 다양한 방식으로 실현한다.

* 0에서 멀수록 그 비중이나 정도가 높거나 큼.

- <보 기>
- ㄱ. A는 B에 비해 물리적 거리가 사회적 관계 형성을 제약하는 정도가 크다.
 - ㄴ. B는 A에 비해 쌍방향 매체의 정보 전달 비중이 낮다.
 - ㄷ. (가)에는 '의사 결정의 분권화 정도'가, (나)에는 '비대면 접촉의 비중'이 들어갈 수 있다.
 - ㄹ. (가)에는 '정보 생산자와 소비자 간 구분의 명확성 정도'가, (나)에는 '가정과 일터의 분리 정도'가 들어갈 수 있다.

- ① ㄱ, ㄴ ② ㄱ, ㄷ ③ ㄴ, ㄷ ④ ㄴ, ㄹ ⑤ ㄷ, ㄹ

12. 개인과 사회의 관계를 바라보는 필자의 관점에 대한 옳은 설명만을 <보기>에서 고른 것은?

분업의 원인이 경제적 효용을 추구하는 인간의 선택이라고 주장하는 이들이 있다. 그러나 분업이라는 제도를 통해 얻게 되는 개인의 효용은 제도가 형성된 다음에야 비로소 존재하므로 제도 형성의 원인이 될 수 없다. 분업은 인구 규모와 인구 밀도의 증대에서 기인한다. 인구 증가와 집중으로 인해 경쟁이 격화되면 개인의 생존은 위협받게 된다. 분업은 사회 구성원 간 상호 의존성을 강화해 개인에게 가해지는 생존 압력을 평화적으로 해결하여 무질서와 사회 해체를 방지하는 사회 진화의 산물이다.

- <보 기>
- ㄱ. 사회는 개인에 외재하며 독자적으로 작동한다고 본다.
 - ㄴ. 사회의 구속력이 개인의 자유 의지보다 우위에 있다고 본다.
 - ㄷ. 사회는 개인의 이익을 실현해 주는 수단에 불과하다고 본다.
 - ㄹ. 사회는 개인의 행위 지향과 그에 따른 결과를 통해서만 발전할 수 있다고 본다.

- ① ㄱ, ㄴ ② ㄱ, ㄷ ③ ㄴ, ㄷ ④ ㄴ, ㄹ ⑤ ㄷ, ㄹ

13. 사회 변동 이론 (가), (나)에 대한 설명으로 옳은 것은? (단, (가), (나)는 각각 진화론, 순환론 중 하나이다.) [3점]

(가) 문명은 인간처럼 생애 주기가 있어서 발생과 성장 단계를 거쳐 쇠락하고 몰락하는 일련의 과정을 겪게 된다. 문명의 생애 주기에서 나타나는 몰락 징후로는 전쟁과 변란, 가치 갈등 등이 있다.
(나) 사회는 항상 미분화 상태에서 분화된 상태로, 단순한 단계에서 복잡한 단계로 변동한다. 사회는 살아 있는 유기체처럼 구조적으로든 기능적으로든 늘 분화되면서 그 복잡성이 증대된다.

- ① (가)는 모든 사회가 같은 방향으로 변동한다고 본다.
- ② (나)는 사회가 주기적으로 동일한 과정을 반복하며 변동한다고 본다.
- ③ (가)는 (나)와 달리 사회 변동에 작용하는 인간의 자율성을 강조한다.
- ④ (나)는 (가)와 달리 서구 중심적인 사고라는 비판을 받는다.
- ⑤ (가)는 단기적인 사회 변동을, (나)는 장기적인 사회 변동을 설명하는 데 유용하다.

14. 다음 자료에 대한 설명으로 옳은 것은? [3점]

[학습 자료]
문화 이해 태도 A~C는 각각 문화 상대주의, 문화 상대주의, 자문화 중심주의 중 하나이다. "문화를 평가의 대상으로 보는가?"라는 질문으로 A, B는 C와 구분되고, "자문화의 정체성을 상실할 우려가 있는가?"라는 질문으로 B, C는 A와 구분된다.

소몰이 축제 소개

800년의 전통을 이어온, 일명 '거리의 투우'라고 불리는 이 축제에서는 날카로운 뿔을 가진 거구의 황소와 빨간 스카프를 두른 수천 명의 사람들이 함께 달리는 모습을 볼 수 있습니다. ... (중략) ...

- ↳ 갑: 역시 우리 나라 소몰이 축제는 세계인이 봐야 할 최고의 문화예요. 역사가 짧은 다른 나라에서는 감히 흉내도 못 낼걸요.
- ↳ 을: 맞아요. 매년 외국 여행 때 이 축제를 경험했는데 웅장한 규모와 분위기가 진짜 최고예요. 반면 우리 나라 축제는 정말 부끄러워요.
- ↳ 병: 하지만 황소가 처참하게 죽잖아요. 이게 무슨 축제입니까? 동물의 생명을 보호하기 위해서는 폐지해야 해요.

- ① 갑의 문화 이해 태도는 A에 해당한다.
- ② 을의 문화 이해 태도는 B에 해당한다.
- ③ 병의 문화 이해 태도는 C에 해당한다.
- ④ B는 A, C와 달리 국수주의로 나아갈 수 있다는 비판을 받는다.
- ⑤ C는 해당 사회의 맥락에서 문화를 존중하고, A, B는 인류 보편 가치를 기준으로 문화를 평가한다.

15. 다음 자료에 대한 분석으로 옳은 것은? (단, 갑국의 사회 보장 제도는 우리나라의 사회 보장 제도와 동일하다.) [3점]

<자료 1> 갑국의 사회 보장 제도

- (가) 소득 수준이 일정 수준 이하인 노인에게 기초 연금을 지급하여 안정적인 소득 기반을 제공함으로써 노인의 생활 안정을 지원하고 복지를 증진함을 목적으로 하는 제도
- (나) 고령이나 노인성 질병 등의 사유로 일상생활을 혼자서 수행하기 어려운 노인 등에게 장기 요양 급여를 제공하여 노후의 건강 증진 및 생활 안정 도모를 목적으로 하는 제도

<자료 2> 갑국의 지역별 65세 이상 인구 중 (가), (나) 수급자 비율 (단위: %)

구분	A 지역	B 지역	C 지역	전체
(가) 수급자	45	㉠	60	60
(나) 수급자	㉡	19	19	20
(가)와 (나) 중복 수급자	6	10	4	6

* 갑국은 A~C 지역으로만 구성되며, 65세 이상 인구는 B 지역이 A 지역의 3배임.

- ① ㉠은 65, ㉡은 23이다.
- ② 금전적 지원을 원칙으로 하는 제도의 수급자 비율은 C 지역이 B 지역보다 높다.
- ③ 강제 가입 원칙이 적용되는 제도의 수급자 수는 B 지역이 A 지역의 3배이다.
- ④ 사전 예방적 성격이 강한 제도의 A 지역 수급자 수는 사후 처방적 성격이 강한 제도의 C 지역 수급자 수보다 많다.
- ⑤ 선별적 복지 성격이 강한 제도의 수급자 비율은 B 지역이, 보편적 복지 성격이 강한 제도의 수급자 비율은 C 지역이 가장 높다.

4 (사회 · 문화)

사회탐구 영역

16. 다음 자료는 갑국과 을국의 세대 간 계층 이동 현황을 나타낸 것이다. 이에 대한 분석으로 옳은 것은? (단, 계층은 상층, 중층, 하층으로만 구분된다.) [3점]

〈갑국〉			〈을국〉					
구분	부모 세대			구분	부모 세대			
	상층	중층	하층		상층	중층	하층	
자녀 세대	상층				자녀 세대	상층		
	중층					중층		
	하층					하층		

* ■의 면적은 해당 계층에 속한 사람 수를 나타낸 것이며, 각 ■의 면적은 동일함.


- 갑국에서는 세대 간 상승 이동이 세대 간 하강 이동보다 많다.
- 을국에서는 세대 간 이동이 계층 대물림보다 많다.
- 부모 세대의 경우, 을국의 계층 구조가 갑국에 비해 사회 통합에 유리하다.
- 자녀 세대의 경우, 갑국의 계층 구조는 모래시계형이고 을국의 계층 구조는 피라미드형이다.
- 갑국에서는 개방적 계층 구조가, 을국에서는 폐쇄적 계층 구조가 나타난다.

17. A~C국에 나타난 문화 변동에 대한 설명으로 옳은 것은?

A국은 전쟁에 필요한 군량을 보관하기 위해 조리한 음식을 뜨거운 물로 살균한 유리병에 넣은 병조림을 만들었다. 전쟁 중에 B국은 A국의 병조림에서 아이디어를 얻어 철제 통조림을 개발하였다. 한편 B국에서 유학하고 돌아온 C국의 한 발명가가 철제 통조림 뚜껑을 안전하게 분리하는 따개를 개발하였다. 훗날 C국의 기업이 통조림 뚜껑을 쉽게 열 수 있는 원터치 캔을 개발하고 A국과 B국 현지 공장에서 상품을 생산하여 판매하였다. 이후, 세 나라 모두 원터치 캔을 일상적으로 사용하였다.

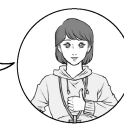
- A국에서는 직접 전파에 의한 문화 변동이 나타났다.
- B국에서는 강제적 문화 접변이 나타났다.
- C국에서는 간접 전파에 의한 문화 변동이 나타났다.
- A국에서는 B, C국과 달리 내재적 요인에 의한 문화 변동이 나타났다.
- A, B국에서는 C국과 달리 자극 전파가 나타났다.

18. 그림에서 갑~병이 속해 있는 사회 집단 및 사회 조직에 대한 진술로 옳은 것은? [3점]




사회자

이번 온라인 게임 대회에 참가하신 분들 모두 환영합니다. 본인 소개를 부탁드립니다.




갑

저는 투자 회사에서 펀드 매니저로 일하고 있습니다. 회사 내 게임 동아리에서 함께 활동하는 을의 권유로 참가하게 되었습니다.



을

저는 갑과 같은 회사에 다닙니다. 갑은 자산 운용팀에서, 저는 홍보팀에서 근무합니다.



병

저는 같은 고향 출신 모임인 향우회에서 함께 활동하는 을의 제안을 받아 이번 대회에 참가하게 되었습니다.

- 갑은 공동 사회와 이익 사회 모두에 속해 있다.
- 을은 공식 조직과 비공식 조직 모두에 속해 있다.
- 병은 1차 집단과 비공식 조직 모두에 속해 있다.
- 갑은 을과 달리 자발적 결사체에 속해 있다.
- 을은 갑, 병과 달리 2차 집단에 속해 있다.

19. 다음 자료는 교사의 질문에 대한 학생 갑, 을의 답변과 교사의 채점 결과이다. ㉠~㉣에 해당하는 답변으로 옳은 것은?

○ 교사: A는 신체·문화적 특성이 다르다는 이유로 주류 집단으로부터 불평등한 처우를 받으며, 자신이 차별받는 집단에 속해 있다는 의식을 지닌 사람들을 의미하는 개념입니다. A의 특징에 대한 질문에 답변해 보세요.

질문	답변	
	갑	을
A는 해당 집단 구성원의 수로 결정되는가?	예	아니요
특정 집단이 A에 해당하는지 여부는 시대와 장소에 따라 달라지는가?	㉠	㉡
A는 주류 집단에 비해 사회적 희소 자원을 획득하는 데 불리한 위치에 있는가?	아니요	예
A를 위한 적극적 우대 정책은 주류 집단에 대한 역차별이라는 비판을 받기도 하는가?	예	㉣
점수	2점	2점

* 교사는 질문별로 각각 채점하고 옳은 답변은 1점, 틀린 답변은 0점을 부여함.

- | | | | |
|---|-----|-----|-----|
| | ㉠ | ㉡ | ㉣ |
| ① | 예 | 예 | 아니요 |
| ② | 예 | 아니요 | 예 |
| ③ | 예 | 아니요 | 아니요 |
| ④ | 아니요 | 예 | 예 |
| ⑤ | 아니요 | 아니요 | 아니요 |

20. 다음 자료에 대한 분석으로 옳은 것은?

갑국에서 t+100년에 전체 인구 중 유소년 인구(0세~14세 인구)가 차지하는 비율은 t년에 전체 인구 중 유소년 인구가 차지하는 비율의 1/2이고, t년에 전체 인구 중 노인 인구(65세 이상 인구)가 차지하는 비율의 2배이다. 단, t년과 t+100년의 부양 인구(15세~64세 인구)는 동일하다. 표는 갑국의 연도별 총부양비를 나타낸 것이다.

구분	t년	t+100년
총부양비	100	150

* 노령화 지수 = (노인 인구 / 유소년 인구) × 100
 ** 유소년 부양비 = (유소년 인구 / 부양 인구) × 100
 *** 노년 부양비 = (노인 인구 / 부양 인구) × 100
 **** 총부양비 = [(유소년 인구 + 노인 인구) / 부양 인구] × 100

- t년 대비 t+100년에 전체 인구는 50% 증가하였다.
- t년 대비 t+100년에 유소년 부양비는 50% 감소하였다.
- t+100년 노령화 지수는 t년 노령화 지수의 8배이다.
- t+100년 노년 부양비는 t년 노년 부양비의 4배이다.
- t년의 유소년 인구와 t+100년의 노인 인구는 동일하다.

* 확인 사항
 ○ 답안지의 해당란에 필요한 내용을 정확히 기입(표기)했는지 확인 하시오.

2022학년도 대학수학능력시험

사회탐구 영역 정답표
(사회·문화) 과목

문항 번호	정 답	배 점	문항 번호	정 답	배 점	문항 번호	정 답	배 점	문항 번호	정 답	배 점
1	③	2	6	②	2	11	②	2	16	④	3
2	①	3	7	②	3	12	①	2	17	①	2
3	⑤	2	8	③	3	13	④	3	18	②	3
4	③	3	9	⑤	2	14	④	3	19	③	2
5	②	3	10	④	2	15	②	3	20	③	2